

义务教育课程标准实验教科书

地理地图册

DILI

DITUCE





八年级 上册

人民教育出版社地理室 合编
星球地图出版社地理室

星球地图出版社

主 编 窦益山 周瑞祥
 责任编辑 李亚平
 编 辑 王世晓 张九玉
 审 校 柳红军 高小玲 田 蔚 吴茂乔
 审 订 杜志平

图 例

★	中国首都	———	省、自治区、直辖市界		河流、湖泊
◎	省级行政中心	———	特别行政区界		时令河、时令湖
○	其他居民点	——— 建筑中	铁路		水渠、水库
———	洲界	———	高速公路		沼泽地
———	国界	———	主要公路	▲ 8848	山峰、高程(米)
———	未定国界	———	航海线	▲	火山
———	地区界	———	海岸线	+	机场
———	军事分界线、停火线	———	运河	☉	珊瑚礁
				⚓	港口

义务教育课程标准实验教科书

地理地图册

八年级 上册

人民教育出版社地理室 合编
 星球地图出版社地理室

星球地图出版社出版

新华书店发行

北京市大天乐印刷有限责任公司印刷

开本787×1092 1/16 印张3

2002年7月第1版 2003年7月北京第2次印刷

ISBN 7-80104-674-9/G·275(课)

JS(2002)01-084 定价: 4.17元

著作权所有·侵权必究

社址: 北京市北三环中路69号 邮编: 100088 电话: 62055928



目 录

第一章 从世界看中国.....1

第一节 辽阔的疆域.....1

第二节 众多的人口.....7

第三节 多民族的大家庭.....9

第二章 中国的自然环境.....11

第一节 地势和地形.....11

第二节 气候多样 季风显著.....14

第三节 河流和湖泊.....19

第三章 中国的自然资源.....25

第一节 自然资源总量丰富 人均不足.....25

第二节 土地资源.....27

第三节 水资源.....29

第四章 中国的经济发展.....31

第一节 逐步完善的交通运输网.....31

第二节 因地制宜发展农业.....35

第三节 工业的分布与发展.....39

附图：世界地形.....43—封三

国土辽阔

根据地图，你能用哪些方法说明我国疆域辽阔？



帕米尔高原风光

世界部分国家领土面积比较





中国的“北极村”——漠河镇

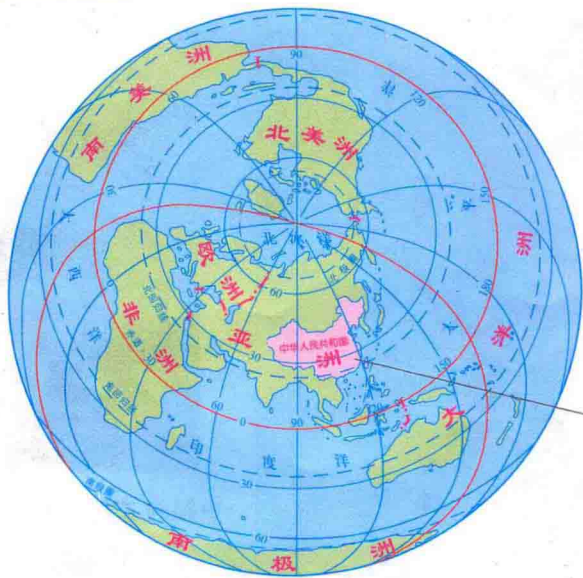


乌苏里江之春



南海中的岛屿

位置优越



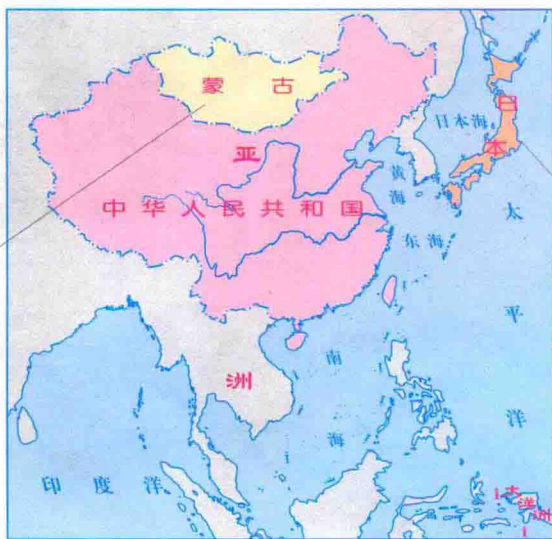
说说中国地理位置的优越性。

中国位于东半球、北半球；亚洲东部，太平洋的西岸。

认识中国的海陆位置



内陆国



临海国



岛国

认识中国的纬度位置



俄罗斯大部分位于北温带和北寒带



中国大部分位于北温带，南部少数地区位于热带



巴西大部分位于热带



34个省级行政区



湖南省



桂阳县



东城乡

4 2 4 4 0 0

湖南省桂阳县东城乡中心小学

张力 同学 收

河南省永城市芒山镇 王新奇

4 7 6 6 0 0

- ◎ 省级行政中心
- 地级市行政中心
- ◎ 县级(县级市)行政中心
- 乡(镇)行政中心
- 村庄

说说你家乡的三级行政区划。



河南省



永城市



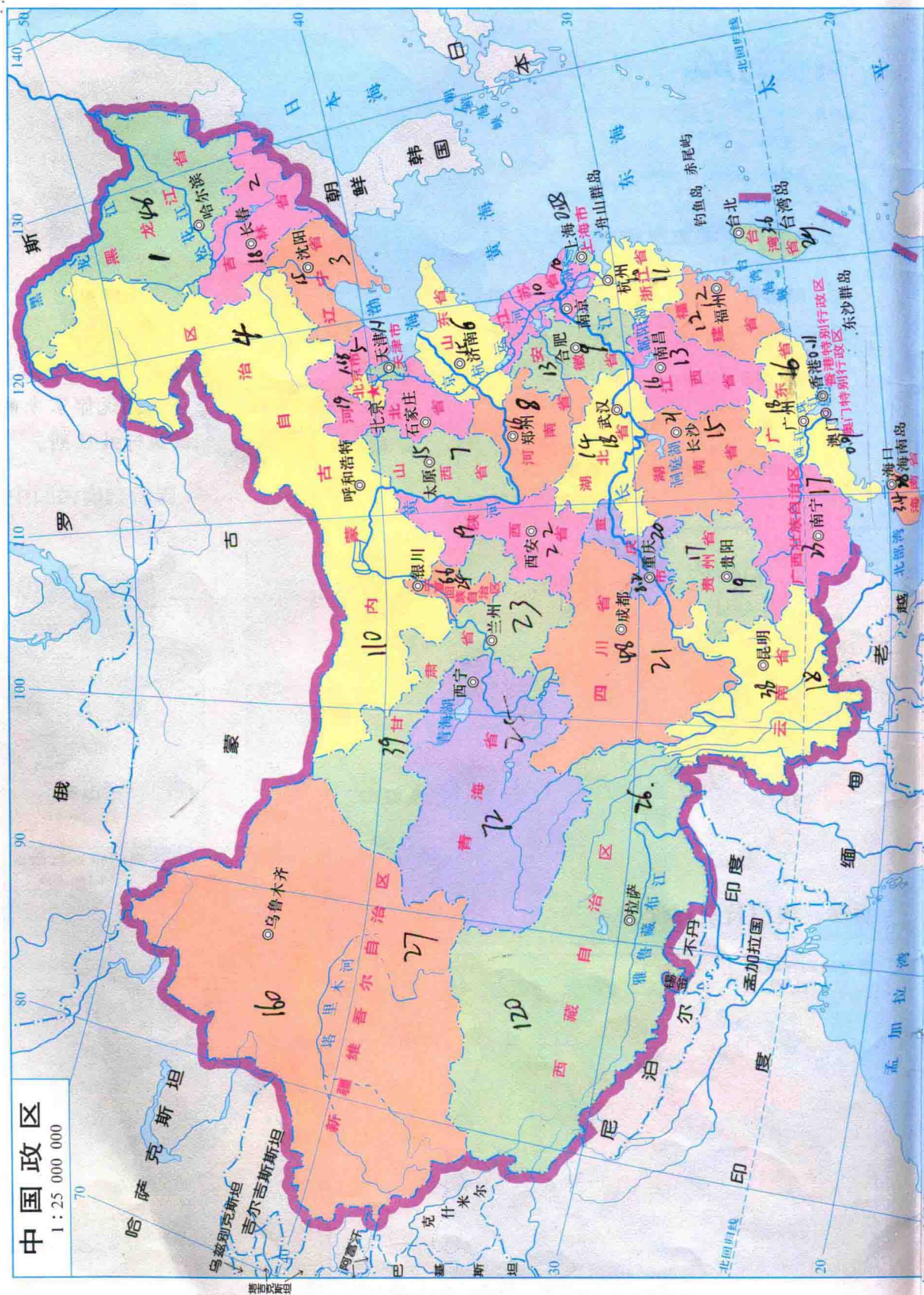
芒山镇


香港、澳门特别行政区



第一章 从世界看中国

第一节 辽阔的疆域

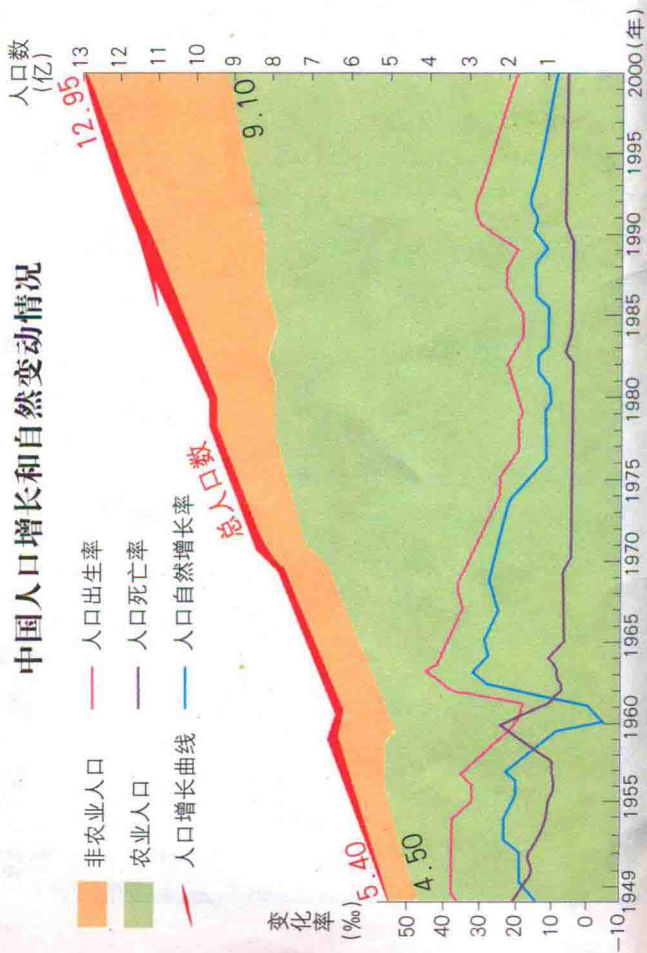
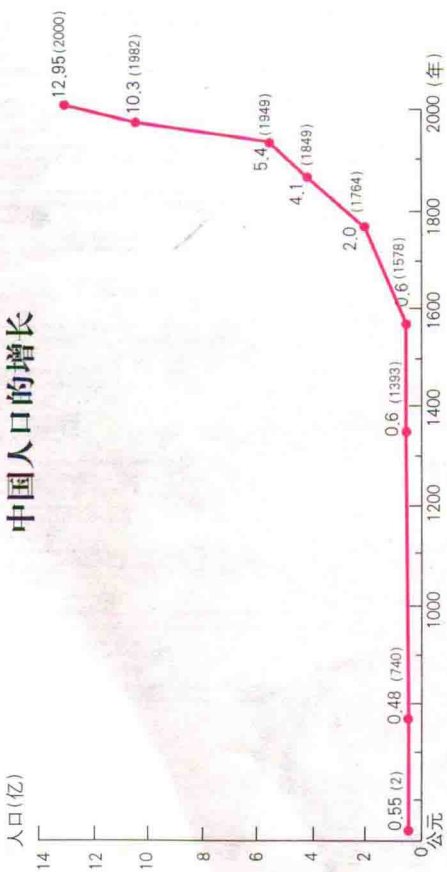





中国34个省级行政区的面积和人口数(2002年中国统计年鉴)

(台湾省人口含福建省的金门、马祖等岛屿)

世界上人口最多的国家



计划生育



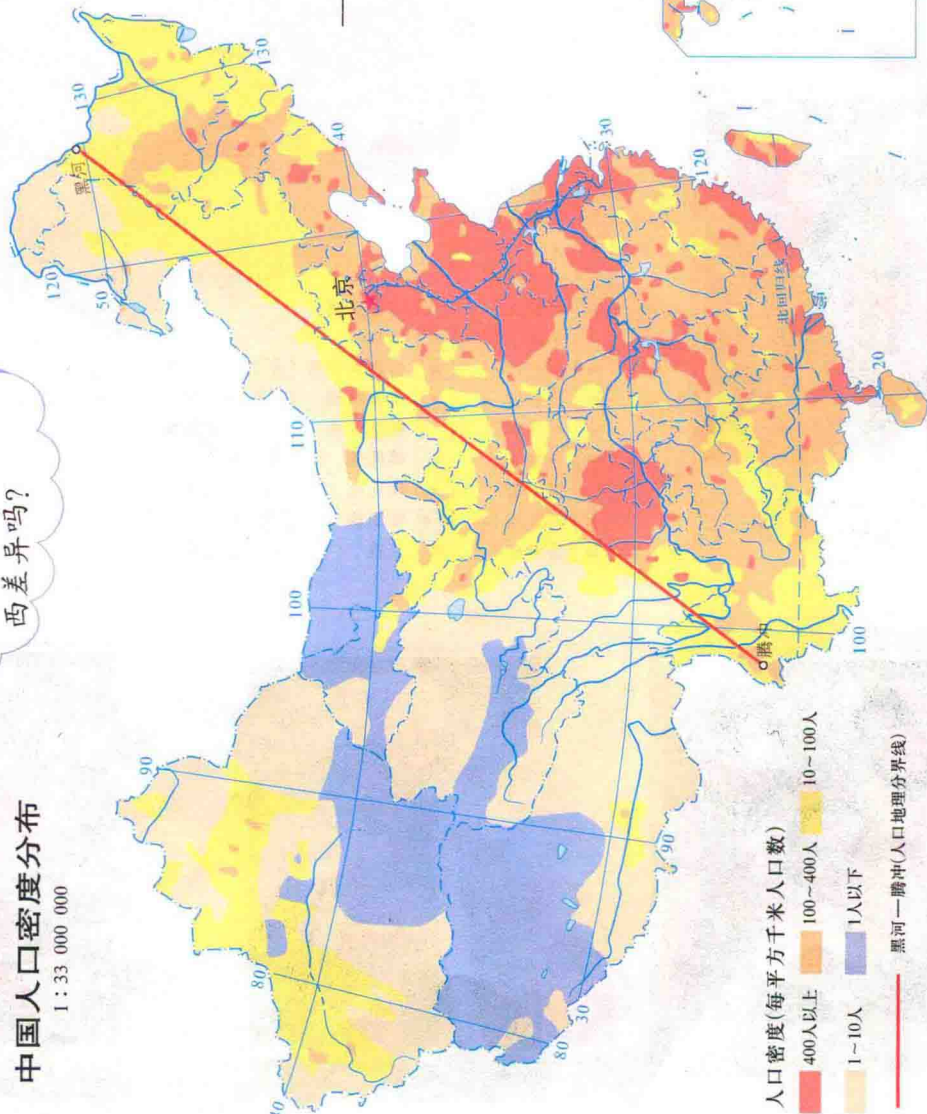


人口东多西少

你能说说我国人口分布的东西差异吗?

中国人口密度分布

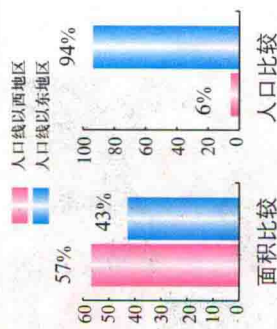
1:33 000 000



中国与世界部分国家人口数量的比较 (2000年)



黑河—腾冲一线以东,以西人口和面积的比较



民族的分布




汉族




壮族



满族



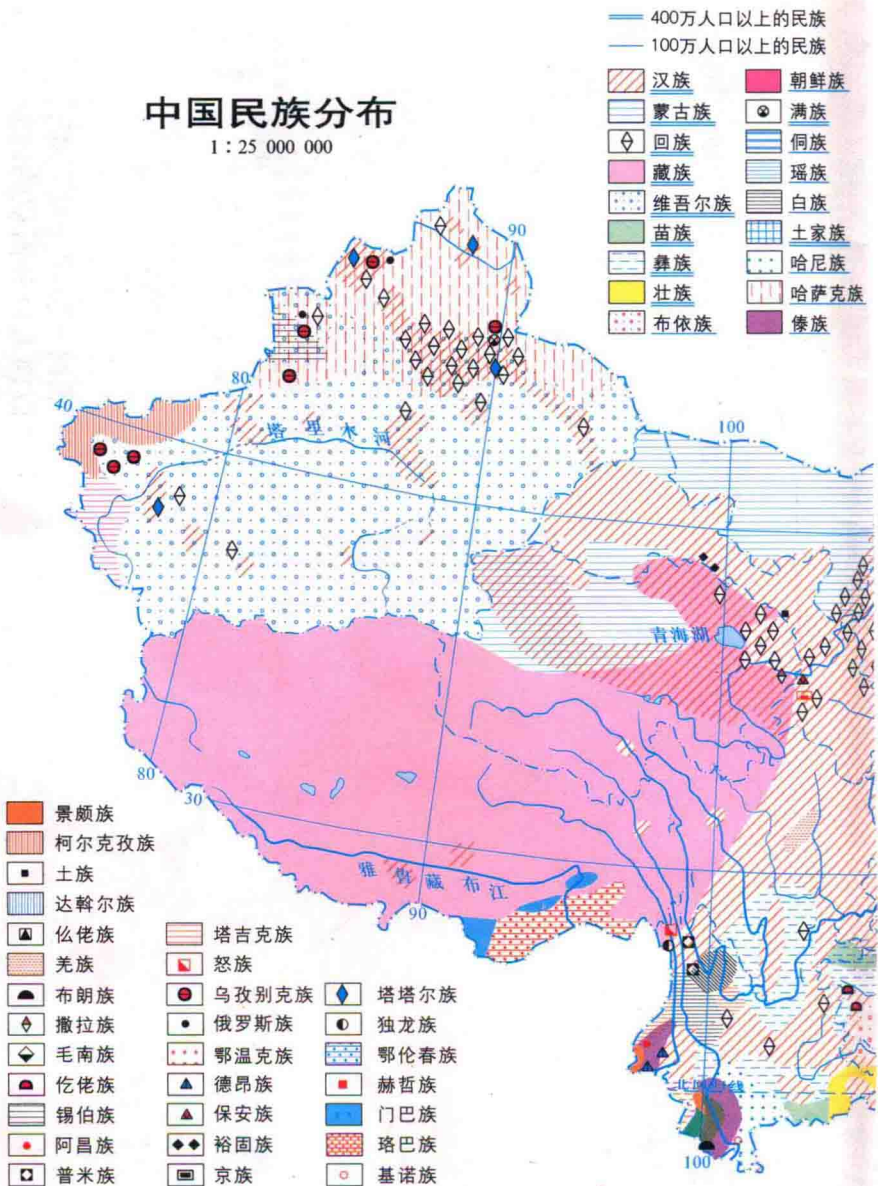
回族



彝族

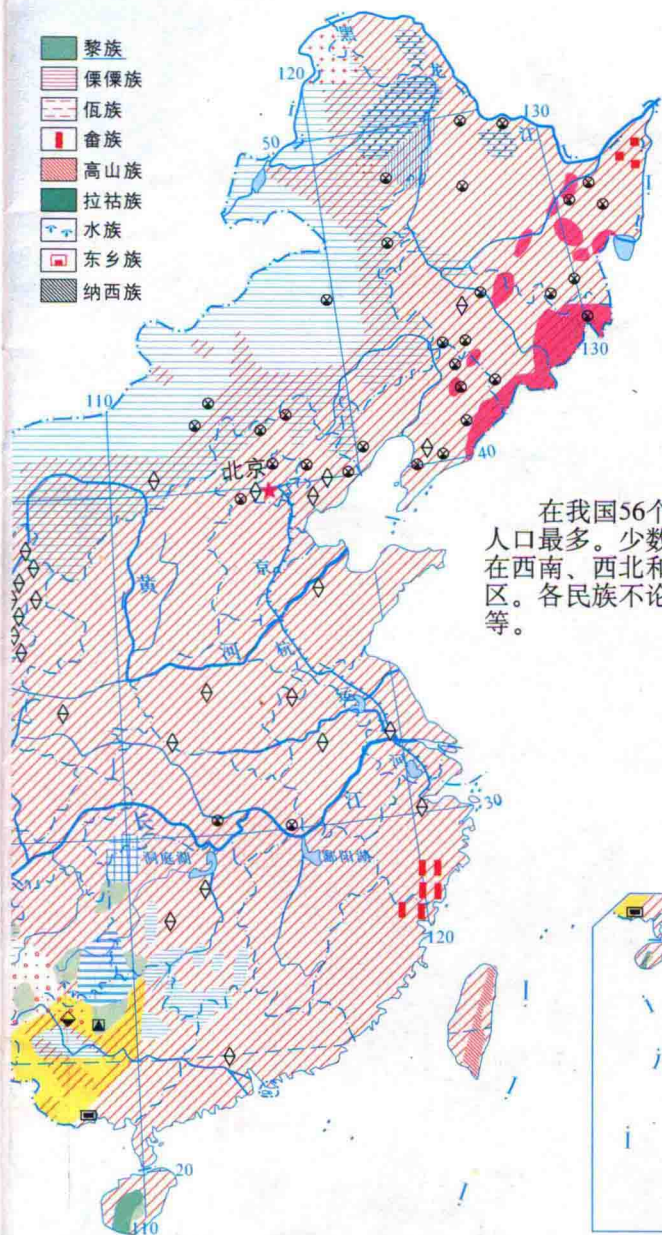
中国民族分布

1 : 25 000 000






- 黎族
- 傈僳族
- 佤族
- 畲族
- 高山族
- 拉祜族
- 水族
- 东乡族
- 纳西族




在我国56个民族中，汉族人口最多。少数民族主要分布在西南、西北和东北等边疆地区。各民族不论大小，一律平等。



藏族



维吾尔族



南海诸岛



蒙古族

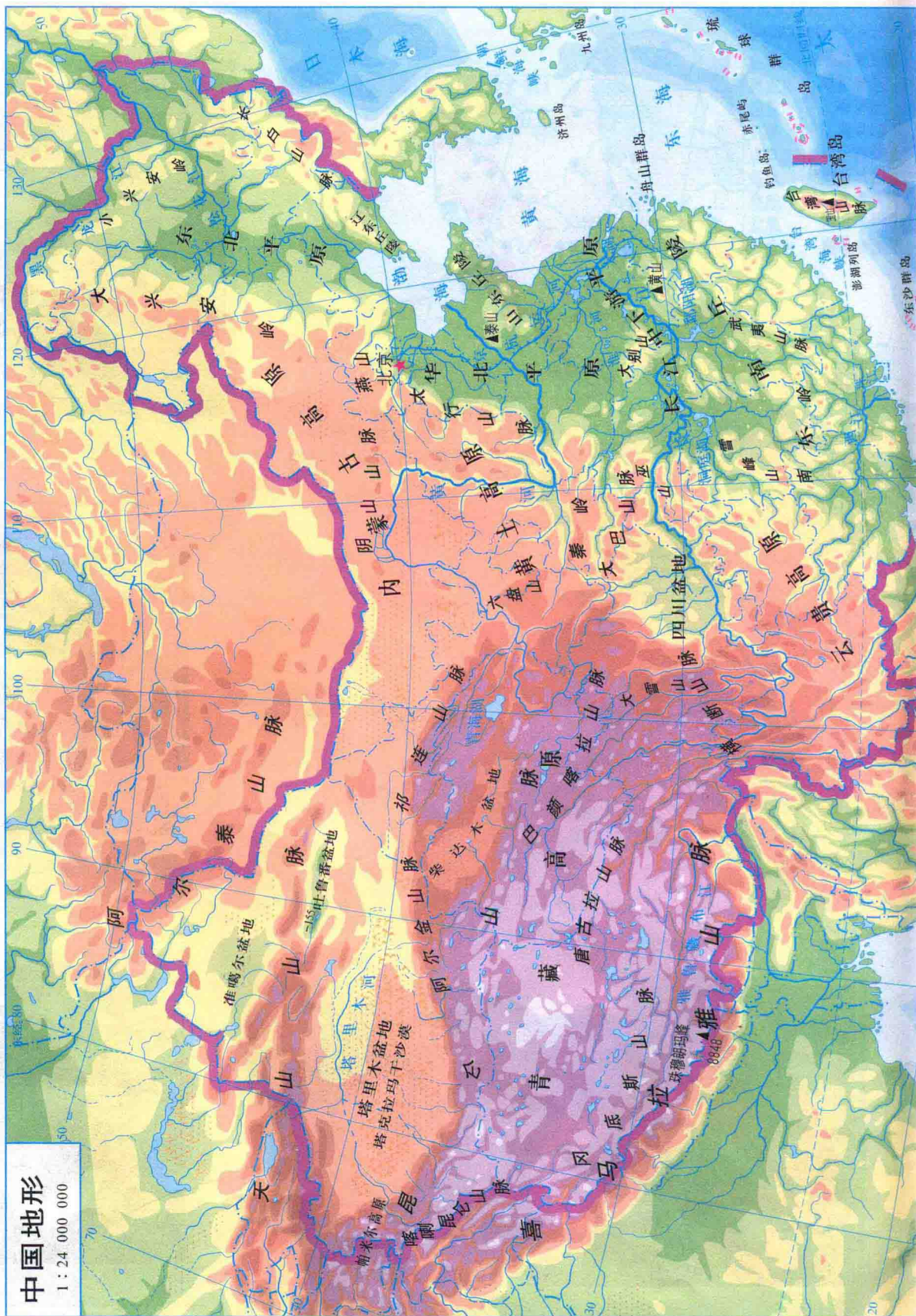


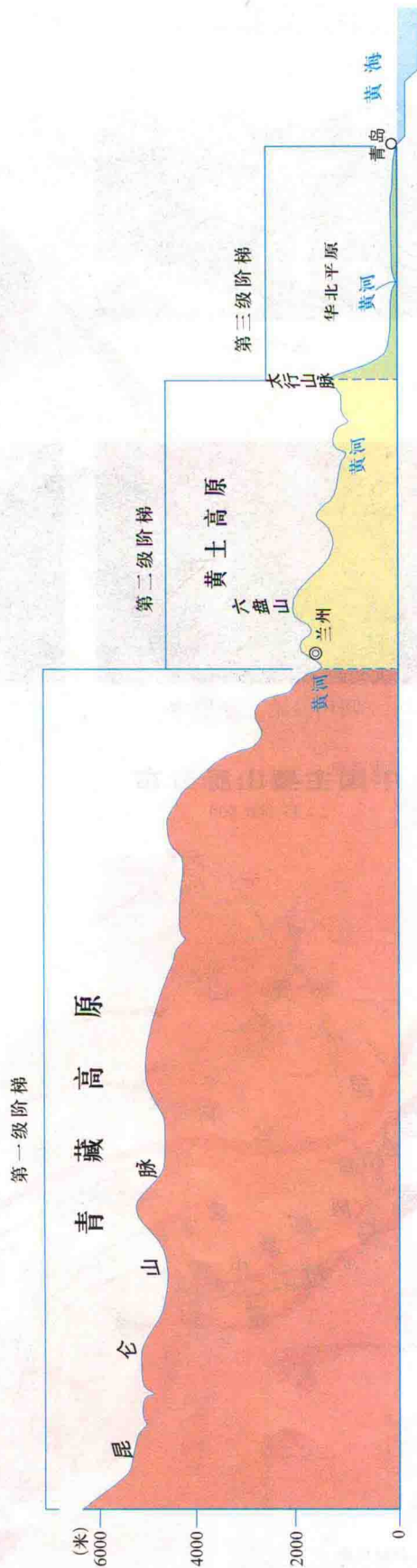
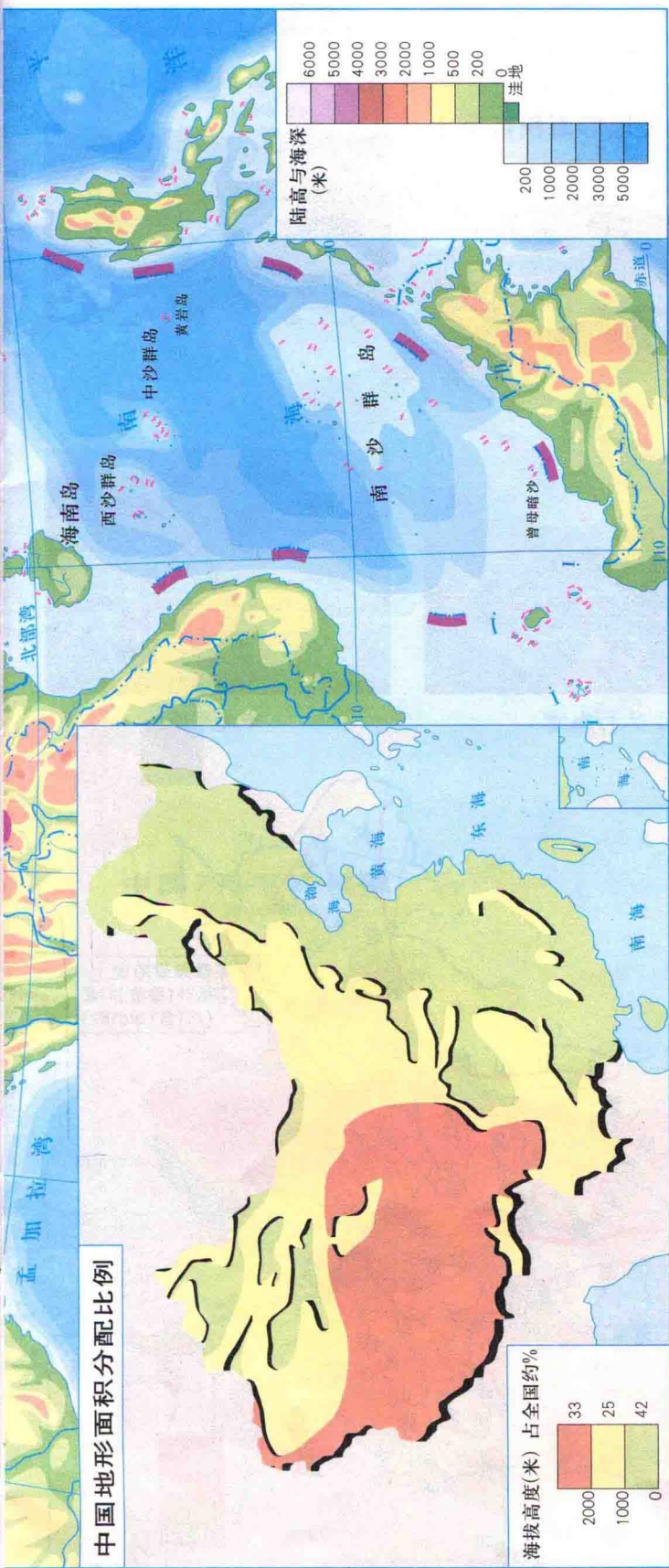
土家族



苗族

地势呈阶梯状分布





沿36°N附近的地形剖面

地形复杂多样




东南丘陵

我国各类地形面积百分比



青藏高原



四川盆地卫星像片



太行山地



华北平原

中国主要山脉分布

1 : 35 000 000

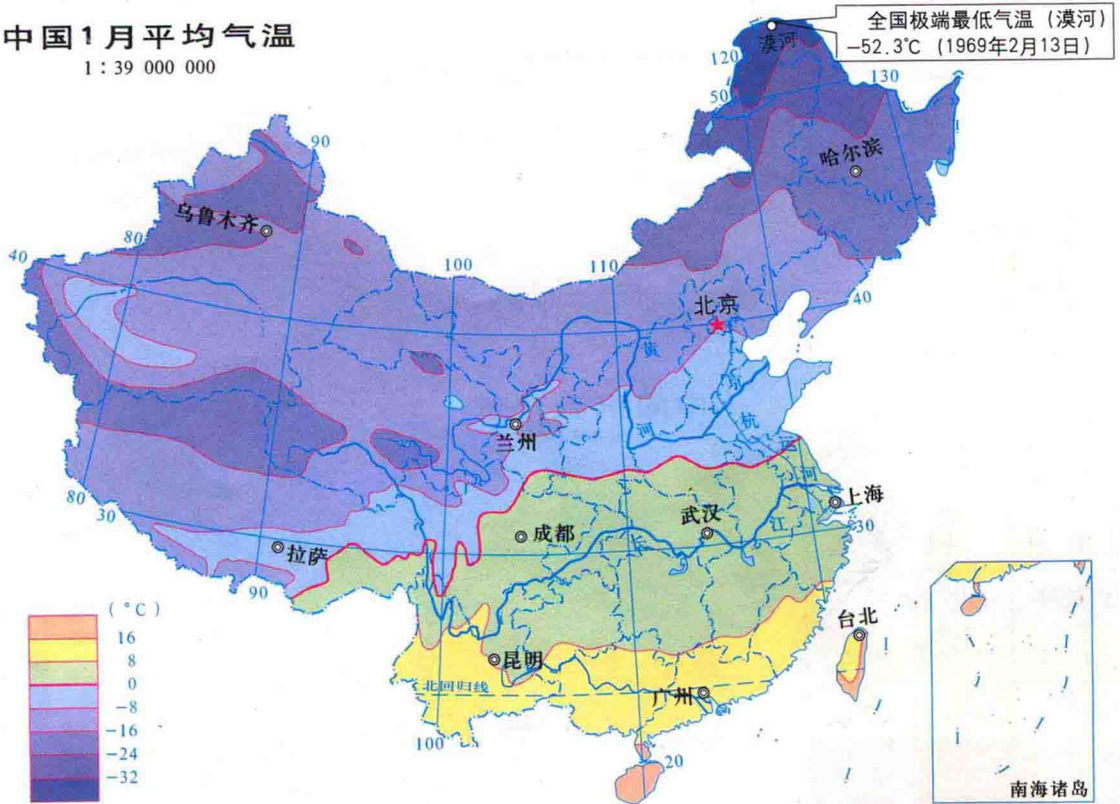




南北气温的差异

中国1月平均气温

1 : 39 000 000



中国7月平均气温

1 : 39 000 000

