



风车文化

聪明宝宝

益智600题

全面开发孩子的大脑潜能

编写/风车文化

智力篇



广东省出版集团
新世纪出版社




聪明宝宝

益智600题

编写/风车文化 插图/贝贝熊工作室

智力篇



广州

广东省出版集团

新世纪出版社

● 图书在版编目 (CIP) 数据

聪明宝宝益智600题·智力篇 / 风车文化编.
—广州: 新世纪出版社, 2014.1
ISBN 978-7-5405-7993-7
I. ①聪… II. ①风… III. ①智力游戏—学前教育—教学参考资料
IV. ①G613.7
中国版本图书馆CIP数据核字 (2013) 第265587号

编写: 风车文化
插图: 贝贝熊工作室
责任编辑: 翟晓侃 林桥基

聪明宝宝

益智600题

智力篇

CONGMING BAOBAO YIZHI 600 TI

出版发行: 新世纪出版社
印刷: 深圳市福圣印刷有限公司
经销: 全国各地新华书店
开本: 880mm × 1230mm 1/20
印张: 4
版次: 2014年1月第1版
印次: 2014年1月第1次印刷
字数: 50千
定价: 13.80元
服务热线: 020-38312206
幼狮网址: yosbook.com




● 著作权所有, 本书图文未经同意不得转载。如发现书页装订错误或污损, 请寄至承印公司调换。




1 动物们正在赛跑。谁跑得最快，谁跑得最慢？请分别用红笔和蓝笔圈出来。



2 下图中藏着五个数字，把它们都找出来吧。




3 左边这幅图是由右边哪四幅小图拼成的？请把多余的一幅圈出来。



4 算一算，这些小动物一共有多少条腿？




5 蘑菇和花朵，哪种数量较多？






6

小狗比小羊大，小牛比小狗大。
哪个动物最大？请圈出来。



7

下面三只昆虫中，哪两只的翅膀数量相同？



8

兔妈妈让小兔们照样子将物品按大、中、小的顺序摆放好。哪只小兔摆错了？请把它圈出来。



9 下面三个人的表情应该用什么词语来描述？
请用线连一连。



生气

惊讶

哭泣

失望

高兴

10 声母“w”在哪里？
请圈出来。

wo

jiu

zhen

cha

wei


11 谁的身体较长？



12 哪种颜色的飞机飞得最快？



13 左边的图案由哪些基本图形组成？从右边找出多余的图形，并圈起来。







14 谁爬得最高？



15 数一数，下图中一共有多少条小鱼？



16 请仔细观察下面三幅图，然后按照故事发展的先后顺序标上序号。




17 把动物和对应的形容词连起来。

胖胖的


长长的

瘦小的






18 墙上有几个相框?




19 在下图中,谁跑在最前面,谁跑在最后面?



20 观察下面两组图,说一说:谁在上面,谁在下面,谁在中间?把在中间的动物圈出来。



21 请圈出蝙蝠看到的桌子是怎样的。



22 最高的那座大楼有几层?





23 小狐狸拿着几朵花?



24 树上有9个梨,如果摘了3个,还剩几个?



25 下面3艘轮船大小一样。圈出装货最重的那艘,并说说哪艘轮船的货物最轻。




26 哪个词语的拼音里有“x”?请圈出来。

西瓜

太阳

月亮


27 拼图缺了哪一块?请圈出来。





28

说一说：谁在栅栏里面，谁在栅栏外面？




29

右边物品与左边哪一个颜色块的颜色相同？请用线连起来。



30

先仔细看下图，然后遮住。说一说：图中共有几只动物在过马路？




31

说一说：池塘边共有几只鸡宝宝？并圈出最重的动物。






32 下图中，哪艘船离码头最近，哪艘船离码头最近？请分别用红笔和蓝笔圈出来。



33 问号处应该是什么数字？



34 请找出与圈中蝙蝠颜色相同的那一只。



35 仔细观察下面的汉字，哪两个字的部首是相同的？请帮小青蛙圈出来吧！




36 请圈出下图中的五角星和心形。





37


请数一数蘑菇上圆点的数量，然后按照1~5的顺序帮山羊找到通往菜地的路线。



38


照样子，在花朵上填上合适的数。

例：




39

找出圆圈中变色龙的影子。



40

仔细观察下图，数一数：水里有几只青蛙？岸上有几只？





41 小猴子去摘香蕉，沿途还要采7个蘑菇。它该走哪条路呢？请画出正确的路线。




42 请用一对反义词来形容下面两幅图。



43 哪只动物个头最小？




44 根据规律，问号处应该是什么颜色的蘑菇？





45 看看这些球的排列规律,说一说:问号处的球应该是什么颜色的?




46 找出合适的词形容老鼠衣服上的星星。


香喷喷

亮晶晶


毛茸茸




47 观察一下这组数的排序规律,在空白处写上合适的数。



48 小猪们正在认真地建造一座新房子呢!数一数:图中一共有几只小猪?




49 上图由哪些图形组成?请在下图中圈出来。






50

找出圆圈中扇子的另一半。



51

指出圆圈中袋鼠的影子。



52

下面三种动物们的叫声是怎样的,请用线连起来。

喔喔

哞哞

沙沙




嘎嘎

咕咕

喵喵

53


数一数:小火车上一共有几个小男孩?然后给数量相等的圆圈涂上红色。





54

下图中有5只小猫在钓鱼,还有1只小猫在捉蝴蝶。想一想:图中一共有几只小猫呢?



55

仔细观察下面一组图,哪一个和其他3个是不同类的?请圈出来。




56

哪两只小企鹅站错位置了?请圈出来。






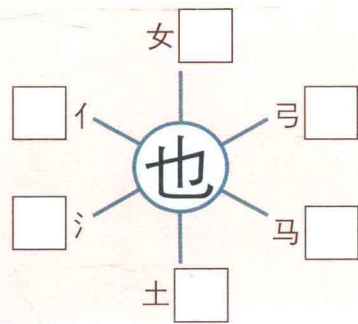
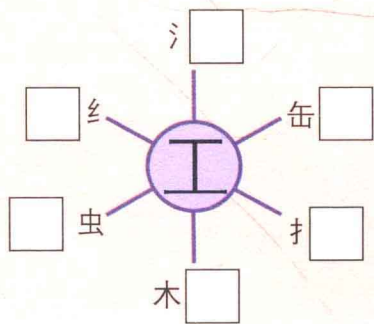
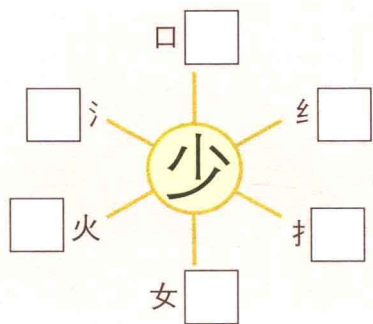
57 4只小猴正在玩捉迷藏的游戏呢。你来找一找,它们分别藏在哪儿了?



59 谁站在小猫的后面? 请指出来。



60 中间的字和它周围的笔画或字组合在一起,会变成什么新字? 请在□里写出来。



58 哪一幅图和圆圈中的图左右对称?

