

九年义务教育三、四年制初级中学

历史地图填充图册

世界历史 第二册

人民教育出版社历史室 编著



人民教育出版社

_____ 年级 _____ 班

姓名 _____

九年义务教育三、四年制初级中学
历史地图填充图册

世界历史 第二册

_____ 年级 _____ 班
姓名 _____

人民教育出版社

审 阅 朱明光 陈 其
责任编辑 芮 信
编 图 芮 信 许 斌

九年义务教育^{三年制}初级中学
 ^{四年制}

历史地图填充图册

世界历史第二册

人民教育出版社历史室 编著

*

人 民 教 育 出 版 社 出 版
(北京沙滩后街 55 号 邮编: 100009)

网址: <http://www.pep.com.cn>

吉林省新闻出版局印刷管理处重印

吉 林 省 新 华 书 店 发 行

长春市第五印刷有限公司印装

*

开本: 787 毫米×1092 毫米 1/16 印张: 2

2001 年 12 月第 1 版 2003 年 12 月吉林第 2 次印刷

印数: 1—46 800

ISBN 7-107-15274-2 定价: 1.87 元
G·8364 (课)

如发现印、装质量问题,影响阅读,请与书店联系调换。

编辑说明

一、《九年义务教育三、四年制初级中学历史地图填充图册》是根据人民教育出版社新修订的九年义务教育初级中学历史教科书编绘的。这套地图填充练习册是以教科书为基础的系列化用书，共分六册，包括中国历史四册，世界历史两册，供“六三”、“五四”两种学制的初级中学学校使用。

二、这套填充练习册以填充地图为主，还增加了配合地图填充的其他内容，以供学生练习填写。目的是帮助学生加深对课文内容的理解和记忆，增强学生从空间概念上把握历史事件和历史现象的能力。

三、敬请老师和同学们在使用时提出宝贵意见，以便再版时进一步完善。我们的通讯地址是：北京沙滩后街 55 号，邮政编码：100009。

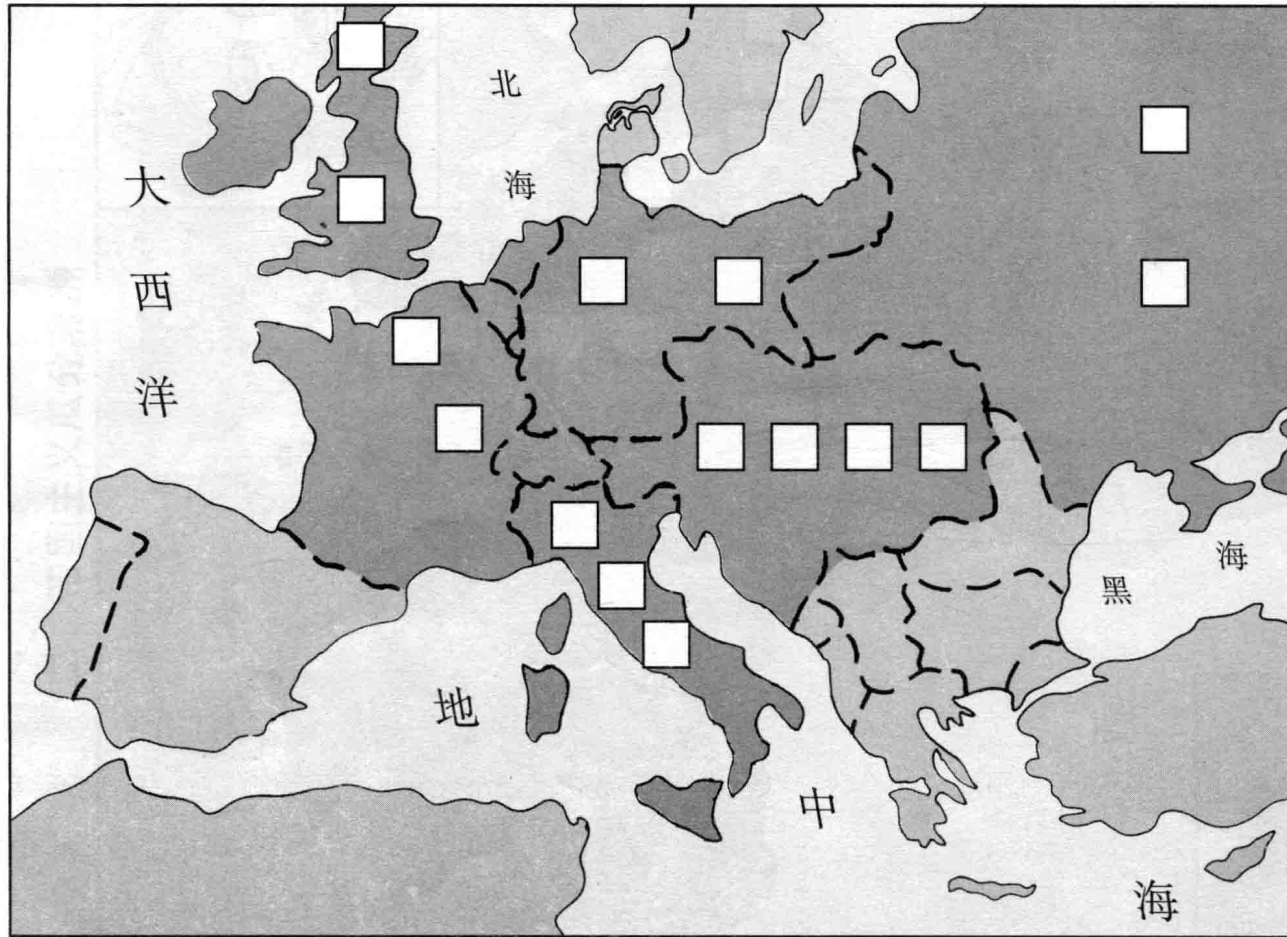
人民教育出版社历史室

2002. 3

目 录

1. 三国同盟和三国协约	1
2. 帝国主义瓜分非洲	3
3. 第一次世界大战前的巴尔干半岛	5
4. 第一次世界大战时的西线形势	7
5. 苏联各加盟共和国	9
6. 西班牙内战形势图	11
7. 第二次世界大战时的亚洲、太平洋地区	13
8. 1943~1945 年欧洲、北非战场形势	15
9. 第二次世界大战后形成的政治军事集团	17
10. 至 1986 年的欧洲共同体成员国	19
11. 二战后亚洲一些国家独立形势图	21
12. 非洲独立进程图	23
13. 20 世纪后半期亚洲经济的发展	25
14. 苏联的解体	27

一、三国同盟和三国协约

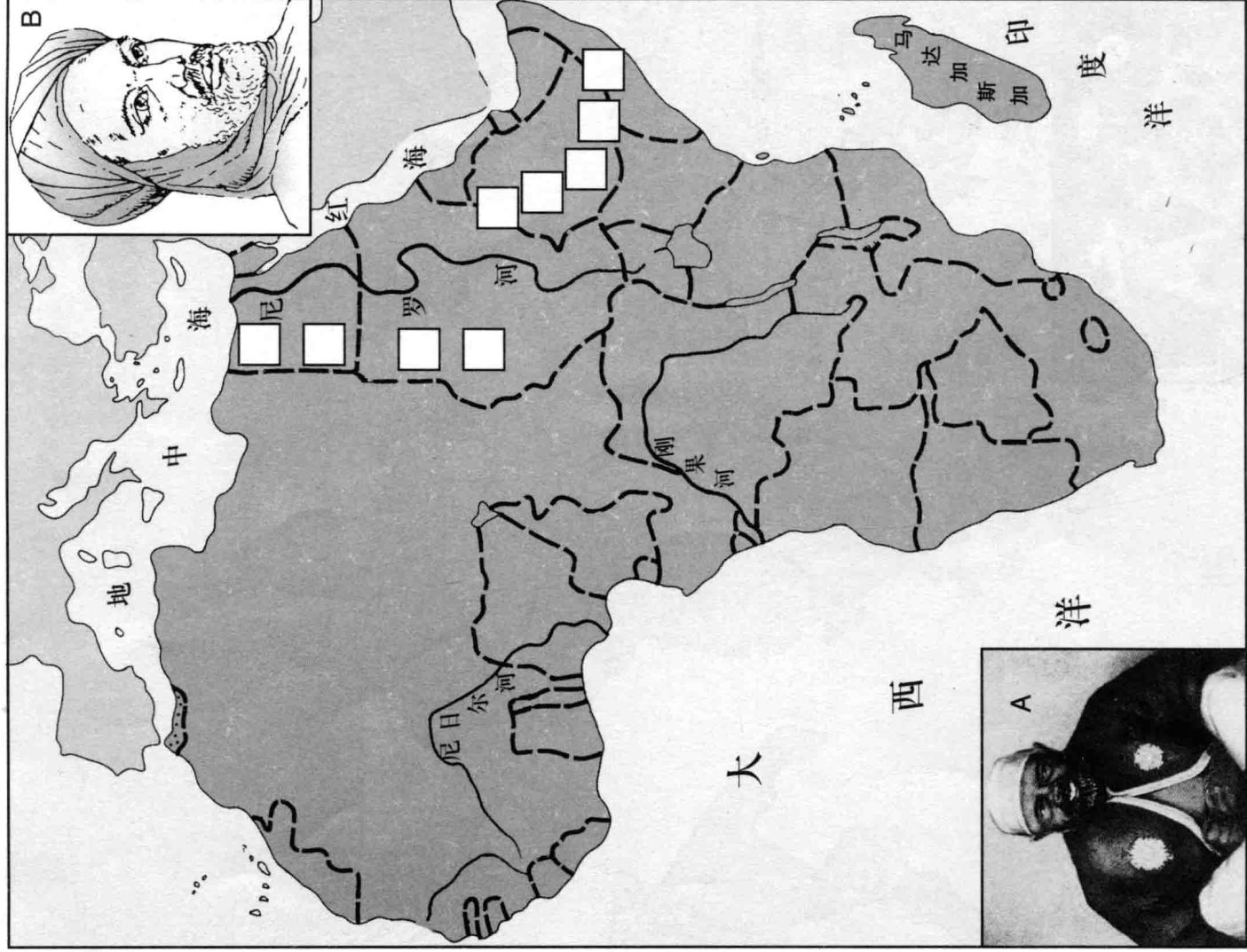


1. 请在图中方框内填入相应的国名。

2. 请用不同的颜色或条纹分别标出同盟国和协约国。

3. 三国同盟形成于____年；三国协约形成于____年至____年。

二、帝国主义瓜分非洲



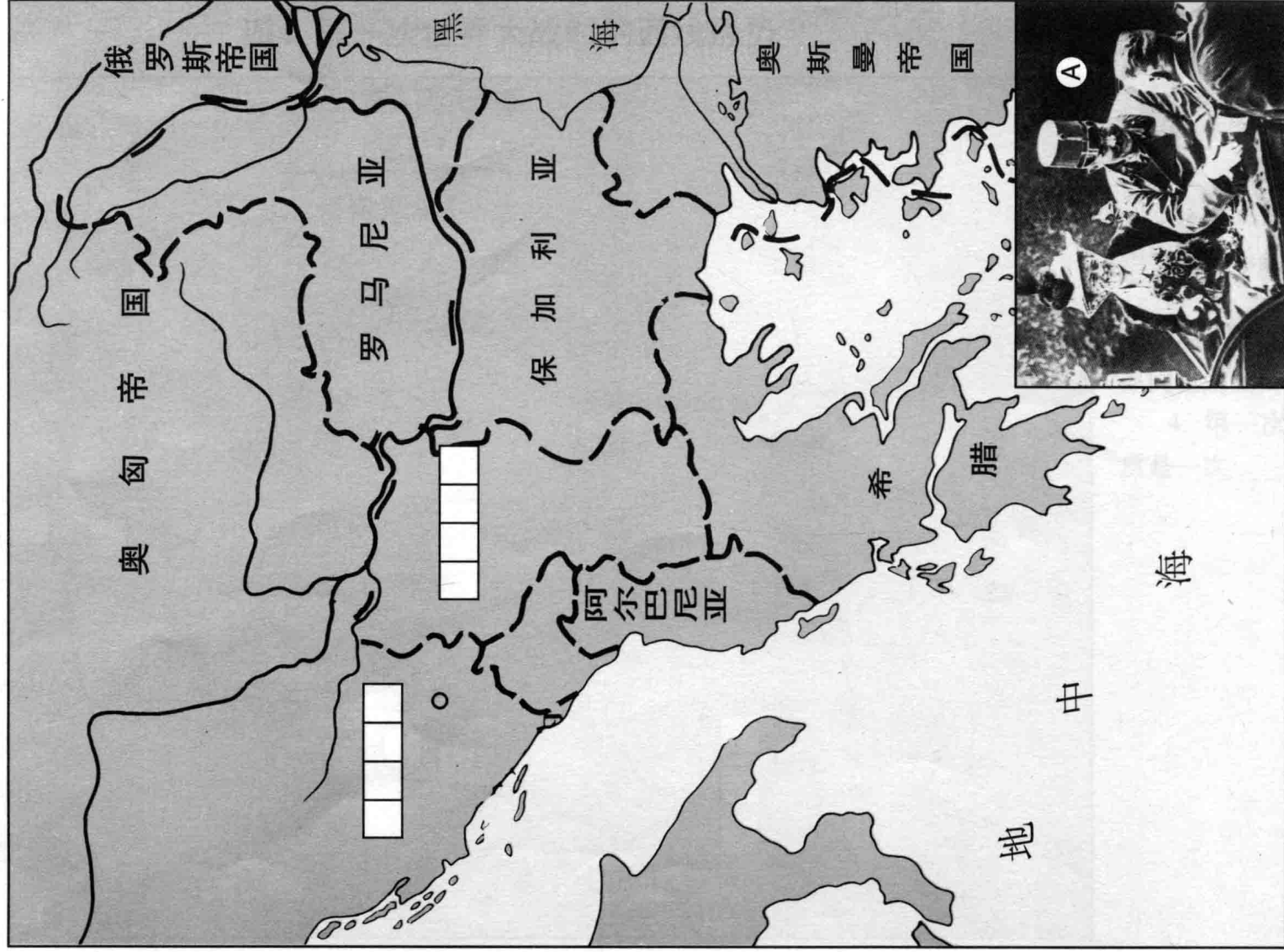
1. 请用不同的颜色或条纹分别标出英法占领的地区。

2. 图中 A、B 分别是_____、_____，他们分别在_____、_____领

导了抗击帝国主义侵略的斗争。

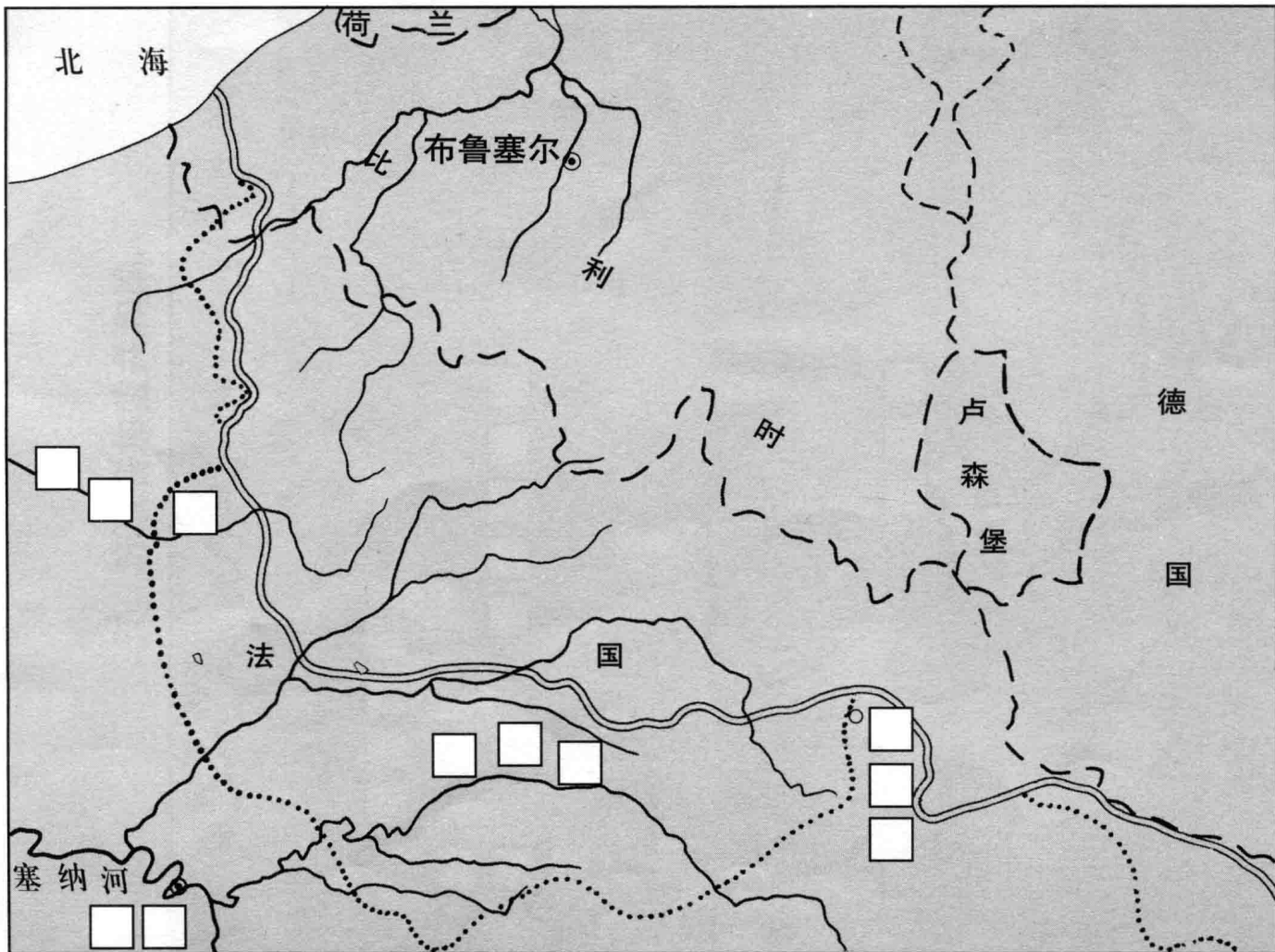
3. 请在图中方框内填入相应的地名。

三、第一次世界大战前的巴尔干半岛



1. 图中A是_____，他们于_____年_____月_____日被刺杀。
2. 请在图中方框内填入相应的国名和第一次世界大战导火线发生地的城市名。

四、第一次世界大战时的西线形势



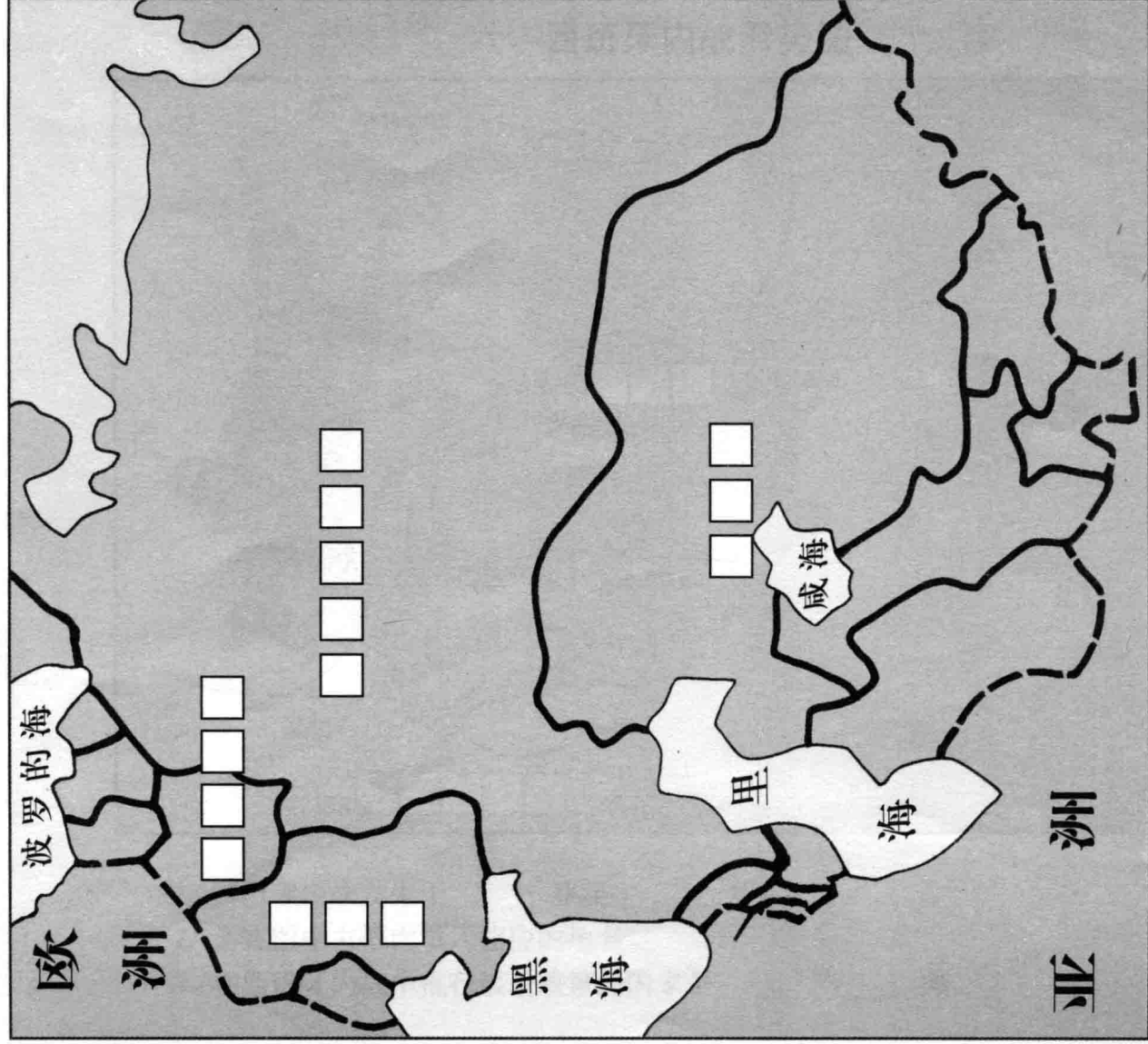
1. 第一次世界大战时，1916年西线的两次重大战役是_____、_____。

2. 请在图中方框内填入相应的地名、河流名称。

3. 第一次世界大战爆发后，加入协约国阵营作战的原同盟国成员国是_____。

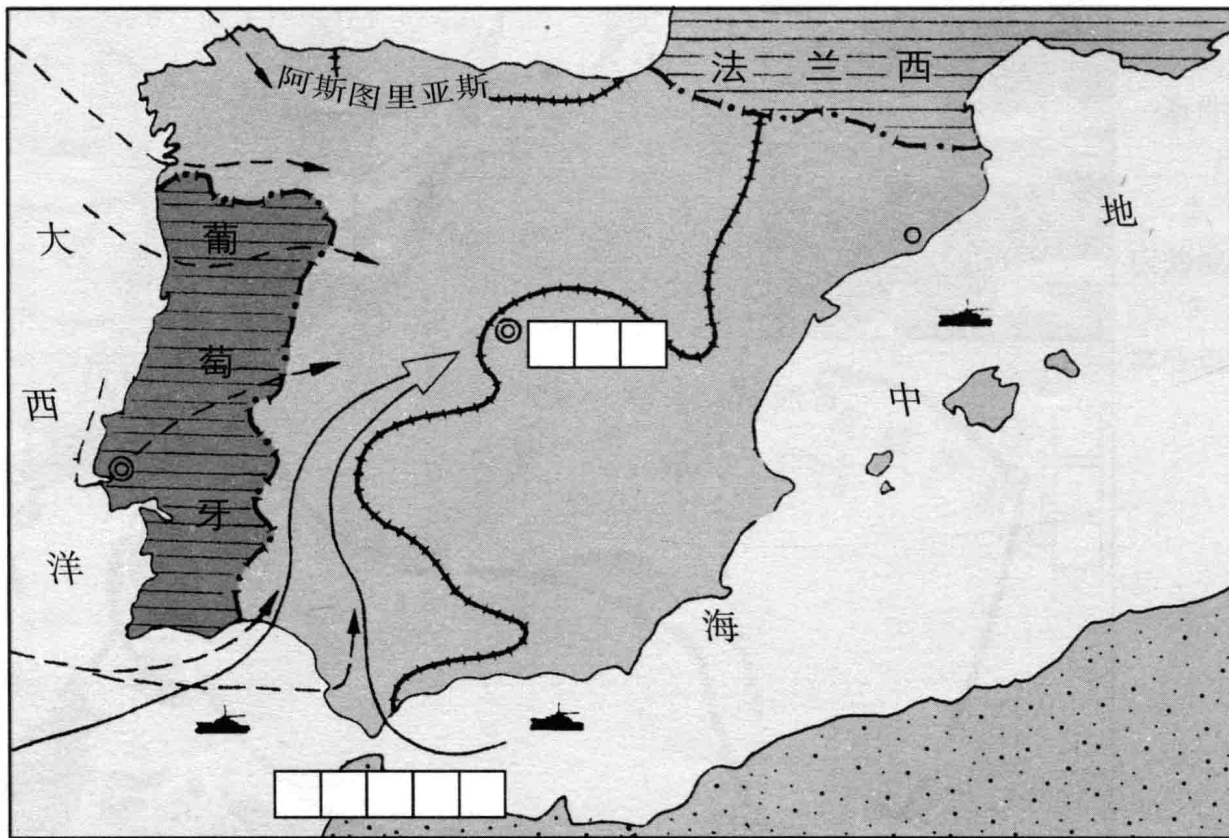
4. 第一次世界大战的性质是一次_____战争。

五、苏联各加盟共和国



1. 苏联于____年建立，于____年解体。
2. 最早加入苏联的有____、____、____和外高加索联邦。到1940年，苏联共有加盟共和国____个。
3. 请在图中方框内填入相应的国名。

六、西班牙内战形势图



1. 西班牙内战发生于____年至____年。
2. 请在图中方框内填入相应的地名。
3. 在西班牙内战中推行绥靖政策的国家是____、____等。

