

XINKECHENG

Yangguang

Zuoye

新课程

阳光作业

总主编 石 澍

编 写 黄冈特级高级教师

小学数学 · 一年级 上

全新概念 快乐学习

新课标
北师大版



东北师范大学出版社

新课程

● 新课标北师大版

总主编 石 润

本册主编 肖 红

阳光作业

小学数学·一年级(上)

学校 _____ 班级 _____ 姓名 _____

东北师范大学出版社
长 春

版权所有 翻印必究
举报电话(0431)5687025(总编办)

图书在版编目(CIP)数据

新课程阳光作业·小学一年级·数学·上·新课标北
师大版/石涧主编. 长春:东北师范大学出版社,2004.5
ISBN 7-5602-3609-X

I. 新... II. 石... III. 数学课—小学—习题
IV. G624

中国版本图书馆 CIP 数据核字(2004)第 008625 号

总策划:第三编辑室
责任编辑:孙晓平 封面设计:耕者设计室
责任校对:孙晓奇 责任印制:张文霞

总主编:石 涧
副主编:江海青 段晓敏 林海洋
本册主编:肖 红
编者:查章程 胡子坤 朱玉辉 段晓敏 刘正明
张克刚 任国权 郑 重 付晓明 孙丽娟
段秀春 刘 柏

东北师范大学出版社出版发行
长春市人民大街 5268 号(130024)
电话:0431-5695744 5688470
传真:0431-5695744 5695734
网址: <http://www.nenup.com>
电子函件: sdcbs@mail.jl.cn
东北师范大学出版社激光照排中心制版
延边新华印刷有限公司印装
吉林省延吉市河南街 30 号(133001)
2004 年 5 月第 1 版 2004 年 7 月第 3 次印刷
幅面尺寸:185mm×260mm 印张:5 字数:97 千
印数:30 001—35 000 册

定价:5.50 元



随着教育改革的深化,以巩固、复习为主的那种传统的、机械的课后作业,也将随着教材内容、教学方法的改变而为科学的、鲜活的作业所代替。《新课程阳光作业》正是这一方向上努力探索的成果。

■以最新教材为蓝本

《新课程阳光作业》分别为“新课标人教版”、“新课标北师大版”、“新课标华东师大版”这三种版本的新教材和“人教统编版”的教材配套编拟,凸显了新教材中知识、能力、素质三元合一的教学理念,在作业设置上编织了科学有效的知识网络,并充分吸纳了成熟的教辅经验和最新的教学研究成果,着力拓展学生的认知视野和思维空间,培养学生应用意识和自主学习的能力。

■“阳光作业”的突出特点

“阳光”是健康、清新、快乐、朝气的代名词,《新课程阳光作业》就是取其清新、快乐之意。因为它与传统的作业有很大的不同,它力求使学生在轻松愉快的学习氛围中获得知识。具体特点如下:

1. 重点突出,题量合理,难度适中,全方位地覆盖和反映知识点。
2. 题型新颖、鲜活、灵动,在同类书中,新题最多。这既是与时俱进的要求,更是新课标关于素质教育精髓的落实。这有利于培养学生的创新能力、分析问题和解决问题的能力。
3. 有一定比例的趣味题,以激发学生的学习兴趣,使之在快乐的学习氛围中,提高作业质量和学习成绩。

■编写体例科学合理

1. 本丛书与新教材完全同步,理科同步到课时,文科同步到课,参照教学大纲划定课时作业,充分体现教材的知识点和能力目标。
2. 栏目设计科学,实用性强。每课时(课)设三个栏目:基础作业、提高作业、热点考题,作业的设计强调科学梯度,既有基础题又有提高题,既有实用题又有热点题;此外又设单元测试、期中测试、期末测试,便于学生自测自检。
3. 答案单独装订,可随意抽取,内容详细全面,既有思路提示,又有解题过程,丝丝入扣,便于学生对照。


■作者队伍实力雄厚

本丛书主编石润是湖北省特级教师,湖北省教育厅教材审定委员会委员,长期从事教学、教育和研究工作,主编过多种高质量的教辅书。各学科的主编均为黄冈的特级、高级教师,他们都有长期的教学实践和丰富的经验积累。

为了保证本丛书的内在质量,我们特聘了吉林省重点中、小学部分最优秀的一线教师对本丛书逐册作了审读。

《新课程阳光作业》是东北师范大学出版社和黄冈的特级、高级教师强强联手、通力合作的结晶。我们有理由相信,《新课程阳光作业》的问世,一定会使学生的学习生活充满阳光。





一 生活中的数	1
快乐的家园	1
玩 具	2
小猫钓鱼	3
文 具	4
第一单元测试	5
二 比 较	7
动物乐园	7
高 矮	8
轻 重	9
第二单元测试	10
三 加减法 (一)	12
有几枝铅笔	12
有几辆车	13
摘果子	14
小猫吃鱼	15
猜数游戏	16
跳 绳	17
可爱的企鹅	18
分苹果	19
操场上	20

乘 车	21
整理与复习 (一)	22
第三单元测试	23
四 分 类	25
整理房间	25
整理书包	26
第四单元测试	27
期中测试	29
五 位置与顺序	31
前 后	31
上 下	32
左 右	33
教 室	34
第五单元测试	35
六 认识物体	37
物体分类	37
你说我摆	38
第六单元测试	39
七 加减法 (二)	41
捆小棒	41
搭积木	42
有几瓶牛奶	43
有几棵树	44
买铅笔	45
飞行表演	46
美丽的田园	47
整理与复习 (二)	48
第七单元测试	49

八 认识钟表	51
小明的一天	51
小芳的上午	52
第八单元测试	53
九 统 计	55
最喜欢的水果	55
第九单元测试	56
十 总复习	58
总复习 (一)	58
总复习 (二)	59
总复习 (三)	60
总复习 (四)	61
期末测试	62
参考答案	65



生活中的数

快乐的家园

基础作业

1. 数一数，连一连。

1 2 3 4 5 6 7 8 9 10

2. 数一数，涂上颜色。

3. 看图圈数。

1	2	3	4	5
6	7	8	9	10

1	2	3	4	5
6	7	8	9	10

提高作业

4. 请你先数一数图中有几只白鸽，再圈数。

1	2
3	4
5	6
7	8
9	10

5. 找朋友。

6. 哪幅图中小鸡的只数与其他 3 幅图不一样？把这幅图找出来，画 。

热点考题

7. 先找规律，再接着画出第 3 个圆圈中的珠子。



玩 具

基础作业

1. 你来数一数，画一画，写一写。

			3
--	--	--	---

--	--	--	--

--	--	--	--

--	--	--	--

--	--	--	--

2. 你会看图圈数吗？

1	2	3	4	5

1	2	3	4	5

1	2	3	4	5

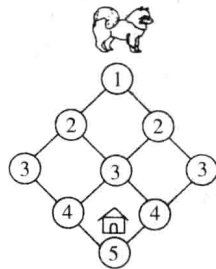
3. 照样子写数。

	1								
	2								
	3								
	4								
	5								

提高作业

4. 请你照样子把跟左边同样多的部分圈起来。

5. 小狗只有按 1 → 5 的顺序走才能回家。



(1) 小狗回家一共有 () 条路可走。

(2) 小狗回家走哪条路最近？把这条路涂上颜色。

热点考题

6. 怎样使两盆花的朵数同样多？



(1) () 边添上 () 朵，就和 () 边同样多，都是 () 朵。

(2) () 边拿掉 () 朵，就和 () 边同样多，都是 () 朵。

(3) () 边给 () 边 () 朵，两边的花同样多，都是 () 朵。



小猫钓鱼

基础作业

1. 数一数,再写数。

(1) 树上各有几只小鸟?




只



只

(2) 两堆鸡蛋中各有几只小鸡?




只




只

2. 想一想,填一填。

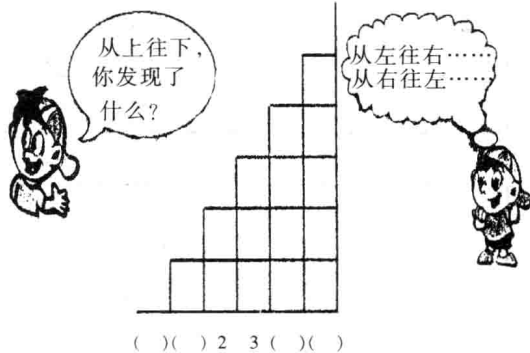


3. 看图写数。



提高作业

4. 数方格填数,你发现了什么?



() () 2 3 () ()

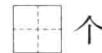
5. 数一数,写一写。你还发现了什么?



个

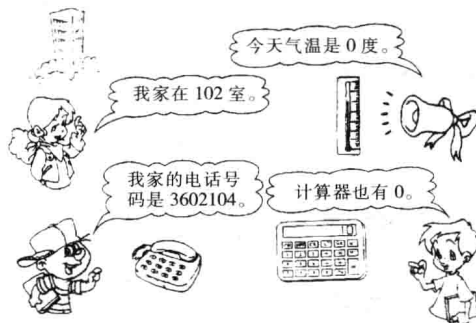


个



个


6. 想一想,0除了表示一个也没有以外,还能表示什么?与同伴说一说。



热点考题

7. 下面的3缸金鱼中有1缸是小明养的。想一想,小明养了几条金鱼?




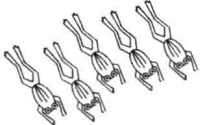


小明养了  条金鱼。













文具

基础作业

1. 数一数。先涂上颜色,再写出数。

	
	
7	

2. 排队等电梯。

(1) 一共有()个人在等电梯。



(2) 小红排第(), 小明排第()。

(3) 小狗排第()。

3. 我会按顺序填数。

(1)

	2	4		8	
--	---	---	--	---	--










(2)










		5		
--	--	---	--	--

(3)

	1	2		4	5		8		
--	---	---	--	---	---	--	---	--	--

4. 我能看数涂颜色。

		
		
		
5	6	7

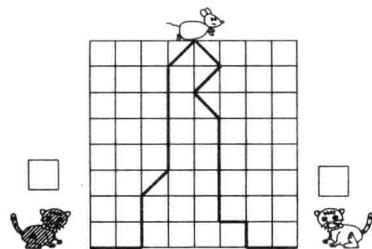
		
		
		
10	9	8

提高作业

5. 下面的三行数中,哪一行与其他的两行不一样?(画×)

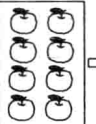
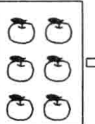

2	4	6	8	10	()
1	3	5	7	9	()
3	4	5	6	7	()

6. 如果两只小猫跑得一样快,哪只猫先吃到老鼠?(画√)



热点考题

7. 想一想, 里应该画几个苹果? 先画出苹果,再分别写出数。



<input type="checkbox"/>			
<input type="checkbox"/>	<input type="checkbox"/>	<input type="checkbox"/>	<input type="checkbox"/>



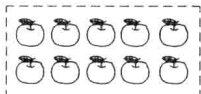
第一单元测试

(时间:60分 满分:100分)

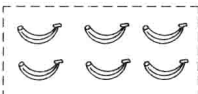
1. 我能看图写数。(共6分)



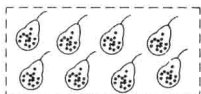
2. 你会找朋友吗?(共5分)




⑥



⑦



⑧



⑨






⑩



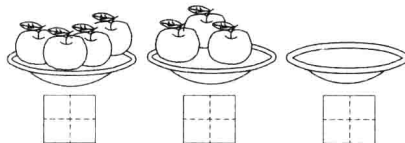
3. 我会看数涂色。(共6分)





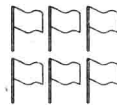

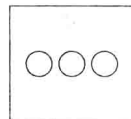
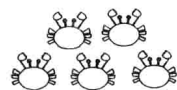

4. 请你按顺序填数。(共14分)



5. 数一数,每个盘子里有几个苹果?(共3分)



6. 先数一数,再画○。(共10分)




7. 请你把左边和右边同样多的用线连起来。(共6分)



8. 你能看图填空吗? (共 12 分)

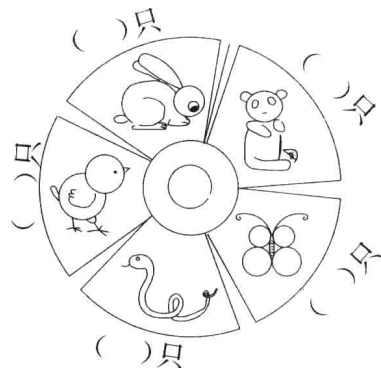
- (1) 一共有 () 名运动员。
- (2) () 号运动员排第一, () 号运动员排第 8。
- (3) 在 2 号运动员和 9 号运动员之间有 () 名运动员。

9. 数一数, 填一填。(共 9 分)




() 个	() 个	() 个

10. 想一想, 下面这些动物各有几只脚?
(共 5 分)




11. 看图填数。(共 8 分)



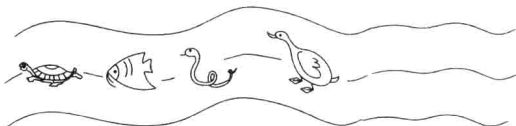
房子	() 栋	树	() 棵
花	() 朵	蜗牛	() 只
小鸟	() 只	小鸡	() 只
鸭子	() 只	小草	() 棵

12. 数一数。(共 6 分)



有 () 双鞋 有 () 只鞋

13. 动物运动会。(共 10 分)



- (1) 第 6 名 第 () 名
 第 () 名 第 () 名
- (2) 想一想, 一共有 () 种动物参加了运动会。



二 比 较

动物乐园


基础作业

1. 哪个多? 多的画 , 少的画 。

(1)



(2)

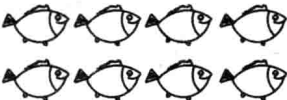



2. 你来比一比, 填一填。

(1)


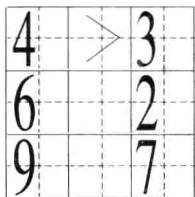


9 ○ 9

(2)  8 ○ 10

 10 ○ 8

3. 请你来比较大小, 填 $>$, $<$ 或 $=$ 。



4. 比一比, 填一填。

(1) $\triangle \triangle \triangle \triangle \triangle$

$\circ \circ \circ \circ \circ \circ \circ \circ$

_____ 比 _____ 多。

_____ 比 _____ 少。

$>$ $<$

(2) $\star \star \star \star \star \star \star \star$

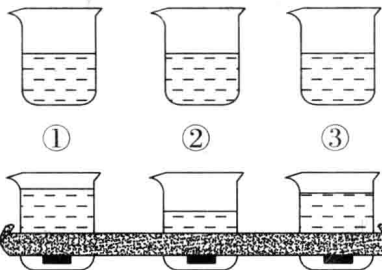
_____ 比 _____ 多。

_____ 比 _____ 少。

$<$ $>$

提高作业

5. 在三个相同的水杯中分别放入一块石头。想一想, 几号杯里的石头最大? 几号杯里的石头最小?




() 号杯里的石头最大。

() 号杯里的石头最少。

热点考题

6. 哪个水壶装的水最多? 最多的在 里画 \checkmark , 最少的在 里画 \circ 。





高 矮

基础作业

1. 比一比，画一画。


(1) 哪个动物高，高的画 ，矮的画 。




(2) 哪个小朋友高？高的画 ，矮的画 。



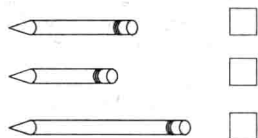
(3) 哪种动物最高？最高的画 ，最矮的画 。



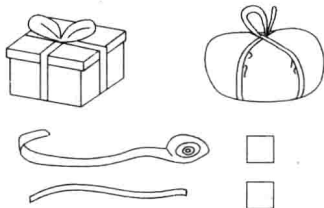
(4) 哪件衣服长？长的画 ，短的画 。



(5) 哪枝铅笔最长？最长的画 ，最短的画 。




2. 用哪根绳捆大盒子最合适？（画 ）

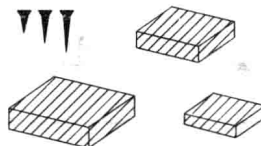


提高作业

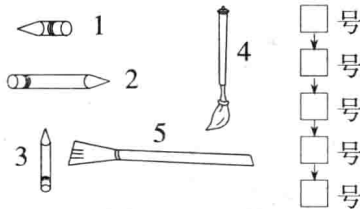
3. 哪个小朋友的个子最高？最高的画 ，最矮的画 。



4. 用哪枚钉子钉木板最合适？（连线）




5. 把下面的笔从长到短排起来。



提高作业

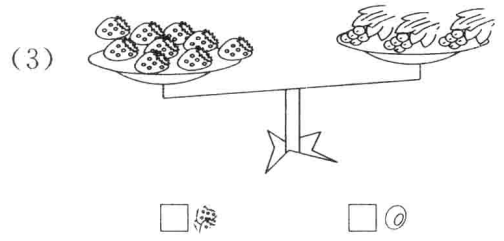

6. 两个小朋友放风筝，谁的风筝放得高。（画 ）



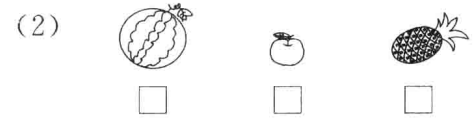
轻 重

基础作业

1. 比一比, 哪个重? 重的画 , 轻的画 .

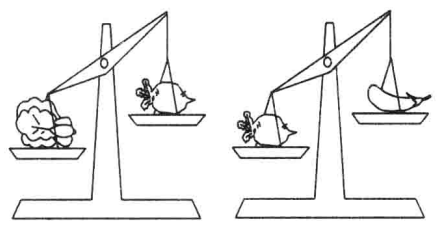


2. 比一比, 哪个最重? 最重的画 , 最轻的画 .



提高作业

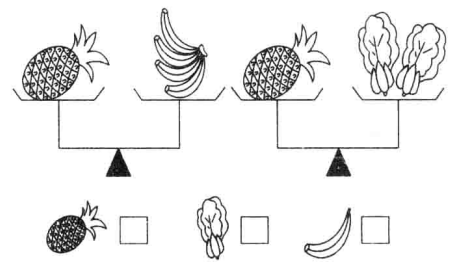
3. 想一想, 哪个最重? 最重的画 , 最轻的画 .



4. 哪壶水多? 多的画 , 少的画 .




5. 想一想, 哪个最重? 最重的画 , 最轻的画 .



热点考题

6. 谁提的东西最重? 最重的画 , 最轻的画 .



第二单元测试

(时间:60分 满分:100分)

1. 请你来比一比,填一填。(共16分)


(1) 哪种船大? 大的画 , 小的画 。



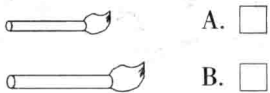
(2) 哪束气球多? 多的画 , 少的画 。



(3) 哪座塔高? 高的画 , 矮的画 。

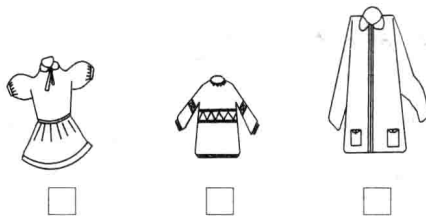


(4) 哪枝毛笔长? 长的画 , 短的画 。

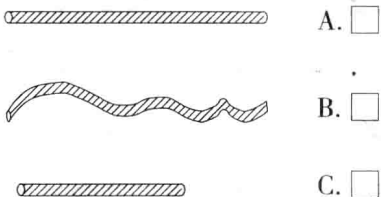


2. 比一比,填一填。(共16分)


(1) 哪件衣服最大? 最大的画 , 最小的画 。



(2) 哪根绳子最长? 最长的画 , 最短的画 。



(3) 哪种动物最重? 最重的画 , 最轻的画 。



(4) 哪个人最高? 最高的画 , 最矮

的画 。



3. 填 > , < 或 = 。(共9分)

9 ○ 10 8 ○ 8 7 ○ 6
5 ○ 4 1 ○ 10 9 ○ 6
3 ○ 7 5 ○ 5 4 ○ 8

4. 比一比,填一填。(共8分)

(1) ○○○○○○○○○○○

△△△△

_____ 比 _____ 多;

_____ 比 _____ 少。

> <

(2) ○○○○○○

△△△△△△△△


_____ 比 _____ 少;

_____ 比 _____ 多。


< >

5. 想一想,哪个重? 重的画 , 轻的画

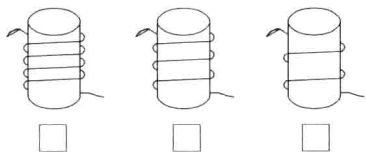
□。(共6分)




6. 哪个最重? 最重的画☑, 最轻的画○。(共7分)



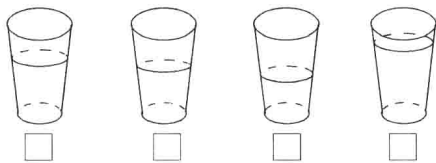
7. 哪根绳子最长? 最长的画☑, 最短的画○。(共7分)



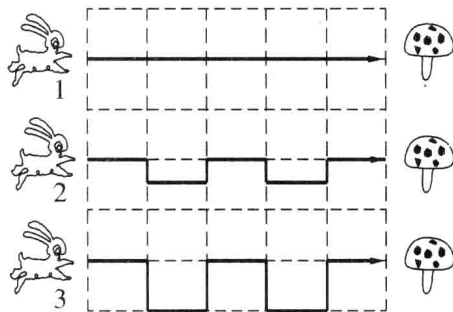
8. 想一想, 哪种比高矮的方法正确, 正确的画☑, 错误的画☒。(共6分)



9. 每只杯子里放入一块同样的糖, 糖全部化了。猜一猜, 哪杯水最甜? 最甜的画☑, 最不甜的画○。(共6分)



10. 三只小白兔采蘑菇时跑得一样快。(共9分)



()号小白兔最先采到蘑菇;
()号小白兔最后采到蘑菇。

11. 百米赛跑。(共10分)

猫和狗正准备进行百米赛跑。在起跑线上狗对猫说:“我跑得快, 让你先跑10米, 我也能够追得上你。”果然, 狗和猫都同时到达终点。到达终点后猫对狗说:“我先跑的, 跑的路多。”狗说:“我跑得快, 我跑的路多。”究竟谁说的对呢? 对的画☑, 错的画☒。



猫说得对	狗说得对



三 加减法 (一)



有几枝铅笔

基础作业

1. 请你来说一说,算一算。

(1)



$$\square + \square = \square$$

(2)

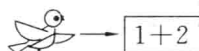


$$\square + \square = \square$$

2. 计算。

1+3=	2+3=	1+1=
2+2=	3+2=	2+1=
3+1=	1+2=	5+0=

3. 小鸟回家。(连线)



提高作业

4. 数一数,填一填。



\square 条 \rightarrow \square 条 \rightarrow \square 条

后一瓶比前一瓶多 \square 条。

5. 找规律,接着画。

(1)



(2) $\square \bigcirc \square \bigcirc \square$ _____



6. 把 5 朵花插到 2 只花瓶里,应该怎样插?

	1			
	4			

热点考题

7. 根据下图,你能写出几道加法算式?

