

■ 《扬州地理》编写组

# 揚 州地理

YANG ZHOU DI LI

The background of the cover is a traditional Chinese ink wash painting. It depicts a vast landscape with rolling green mountains in the distance, a wide body of water in the middle ground, and several islands or peninsulas. In the foreground, there are various architectural structures, including a large pavilion with a multi-tiered roof, a smaller pavilion, and a pagoda. There are also willow trees and other vegetation. The style is characteristic of traditional Chinese landscape art, with fine lines and a muted color palette.

广陵书社

■ 《扬州地理》编写组



# 扬州地理

广陵书社

## 图书在版编目(CIP)数据

扬州地理 /《扬州地理》编写组编. — 扬州:广陵书社, 2006.3

ISBN 7-80694-160-6

I.扬... II.扬... III.地理—扬州市 IV.K925.33

中国版本图书馆 CIP 数据核字(2006)第 011889 号

- |      |   |
|------|---|
| 书 名  | 扬州地理  |
| 编 者  | 《扬州地理》编写组   |
| 出版发行 | 广陵书社<br>扬州市文昌西路扬州中国雕版印刷博物馆附二楼<br>邮编 225012<br><a href="http://www.yzglpub.com">http://www.yzglpub.com</a> E-mail <a href="mailto:glss@yztoday.com">glss@yztoday.com</a> |
| 印 刷  | 扬州江扬印务有限公司  |
| 开 本  | 850 × 1168 毫米 1/32  |
| 印 张  | 2.5   |
| 版 次  | 2006 年 3 月第 1 版第 1 次印刷  |
| 标准书号 | ISBN 7-80694-160-6/G·1  |
| 定 价  | 6.50 元  |

凡广陵书社版图书印装错误均可与出版社联系调换

把揚州建設成為古代  
文化與現代文明交相  
輝映的名城

江澤民

二〇〇四年十月  
廿日于揚州



## 《扬州地理》编委会

主 任：余如进

副主任：锁敦信 李孟星 王玉军

委 员：(按姓氏笔画顺序排列)

王家祥 朱其山 刘 俊 张 明 邵正祥

杨林山 范梅青 胡明根 倪 凌 韩文龙

辜伟节

主 编：辜伟节

副主编：朱雪梅

编 者：(按姓氏笔画顺序排列)

马 骏 刘广其 朱雪梅 张忆育 陈桂珍

陆 群 武万友 夏存年 谢 军 蒋 锋

廖 建

# 目 录

第一章 苏中古域 人杰地灵 .....	1
第二章 平原水乡 气候宜人 .....	8
第三章 人文荟萃 经济繁荣 .....	21
第四章 绿杨城郭 宜居城市 .....	37
第五章 可爱的邗江 .....	44
第六章 可爱的仪征 .....	50
第七章 可爱的江都 .....	56
第八章 可爱的高邮 .....	62
第九章 可爱的宝应 .....	68
后记 .....	73

豪华自古让维扬，一水横江即异乡

——明·王世贞

## 第一章 苏中古城 人杰地灵

江苏省的中部有一片美丽的土地，那里坐落着我们可爱的家园——扬州市。家乡得天独厚的自然条件，孕育了富饶的鱼米之乡；博大厚重的历史积淀，滋润着广袤的苏中大地。在这片充满生机的土地上，扬州人民创造的灿烂文化，绵延不绝，代代相传。

### 地理位置优越 历史悠久

扬州市位于江苏省中部，长江下游的北岸，江淮平原的南部。现辖区处在北纬  $32^{\circ}15'$ ~北纬  $33^{\circ}25'$ 、东经  $119^{\circ}01'$ ~ $119^{\circ}54'$  之间，全市总面积 6638 平方千米。我们的家乡濒江近海，浩浩长江从南部边境流过，京杭大运河纵贯南北，沟通白马湖、宝应湖、高邮湖和邵伯湖，并向南汇入长江，处于江苏省南北及东西水陆交通的汇集地带，地理位置十分优越。



图 1.1 扬州市在江苏省的位置



## 地图识读

读图 1.1,说出与扬州市相邻的行政区名称。

扬州市东与 \_\_\_\_\_ 市交界,东北与 \_\_\_\_\_ 市相接,西北与 \_\_\_\_\_ 市相邻,西南与 \_\_\_\_\_ 市毗连,西与安徽省的天长市接壤,南临长江,与 \_\_\_\_\_ 市隔江相望。

扬州市历史悠久,有文字记载的可追溯到近 2500 年前。早在 7000 年前,这里的土地上就有人类居住,高邮市附近龙虬庄出土的炭化稻谷和生产工具、生活用具证明,江淮地区和长江、黄河流域一样,同为中华民族文化的发源地。

春秋初期,现在的扬州市区附近称邗。公元前 486 年,吴王夫差在今蜀冈一带建筑邗城,开凿邗沟,连接了长江和淮河。公元前 319 年,楚国在邗城旧址上建广陵城。在秦、汉、三国、两晋、南北朝时期,扬州或为郡国都城,或为军事重地,曾有“广陵”、“江都”、“吴州”等称号。公元 589 年,隋文帝改吴州为扬州,专指本地。隋炀帝时在邗沟的基础上开通了大运河,连接黄河、淮河、长江,使扬州成为“南北舟车之会”的交通枢纽,为唐代扬州的鼎盛奠定了基础。清代扬州居交通要冲,富盐渔之利,扼南北漕运和盐运之咽喉,商业经济极其繁荣。19 世纪中期以后,由于运河淤塞,近代交通方式的兴起以及战乱等原



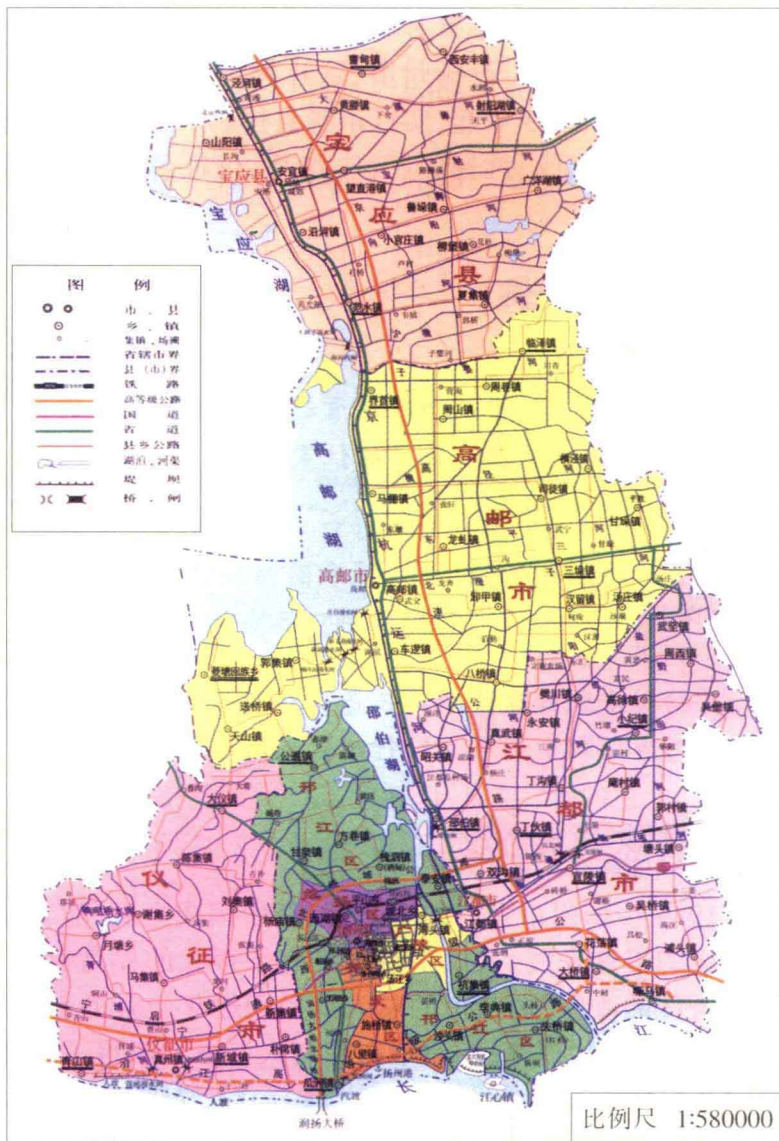


图 1.2 扬州市行政区划图

因,扬州经济日渐萧条,民不聊生。

新中国成立后,设扬州市,这片热土重又生机勃勃,焕发青春。从1983年起,实行市管县体制,目前扬州市管辖广陵区、邗江区、维扬区三区,江都、仪征、高邮三个县级市和宝应一县。



### 地图识读

读图 1.2, 找出扬州市所管辖的县级行政区的名称, 并说出家乡所在行政区的位置。



### 问题探究

扬州市的行政区划历来是这样的吗? 查阅资料, 看看扬州市从新中国成立后行政区划有过哪些变动?

### 人口稠密 民族众多

1949年扬州市人口约262万。新中国成立后,随着经济文化的迅速发展,人民生活水平有了很大的提高,加上医疗条件的改善,扬州市的总人口呈现逐年上升的趋势。20世纪70年代以来,扬州市在控制人口方面取得了显著的效果,人口自然增长率逐年下降;同时,人口素质也大为提高,2002年每万人中大专以上学历文化程度有383.1人,比1990年增长2.7倍。

表 1.1 扬州市主要年份总人口和人口自然增长率

年 份(年)	1960	1970	1980	1990	2000	2003
总人口(万人)	291.3	356.4	406.0	436.5	450.6	460.0
自然 增长率(‰)	-26.21	25.10	7.29	8.22	2.07	1.13



## 动手动脑

1、根据表 1.1 中所给的数据,按照规定的图例绘制扬州市总人口和人口自然增长率变化折线图。

2、根据你画的图分析,扬州市哪个时期人口增长最迅速?哪个时期人口增长缓慢?可能的原因是什么?

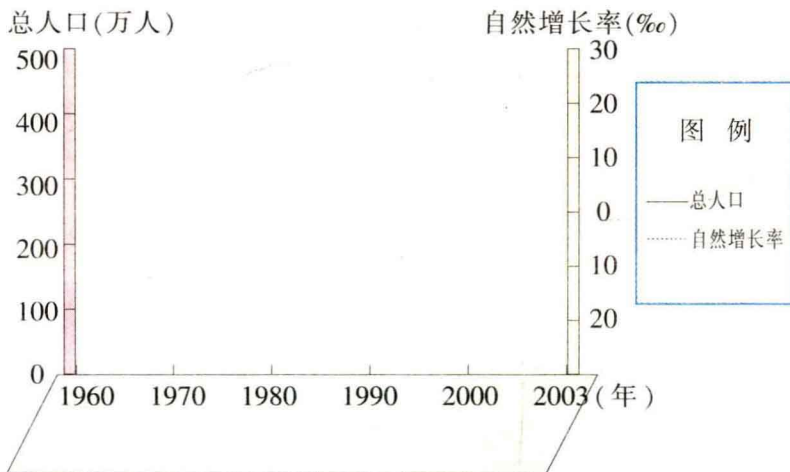


图 1.3 扬州市总人口和人口自然增长率变化图

随着生活条件的改善,医疗卫生事业的进步,扬州市的死亡率呈逐步下降的趋势,老龄人口不断增多。加上人口出生率不断下降,至2002年底,全市60岁以上老人占总人口数的14.76%,65岁以上老人达到了10.45%,扬州市已经步入老龄化社会。

扬州市土地总面积6634平方千米,2004年总人口约454万人,面积和人口均占全省6%,人口密度达每平方千米684人,为全国平均人口密度的五倍多,是一个地狭人稠的地区。由于自然条件和经济发展水平的差异,扬州市南部和北部的人口密度大于中部,市区人口最为稠密。

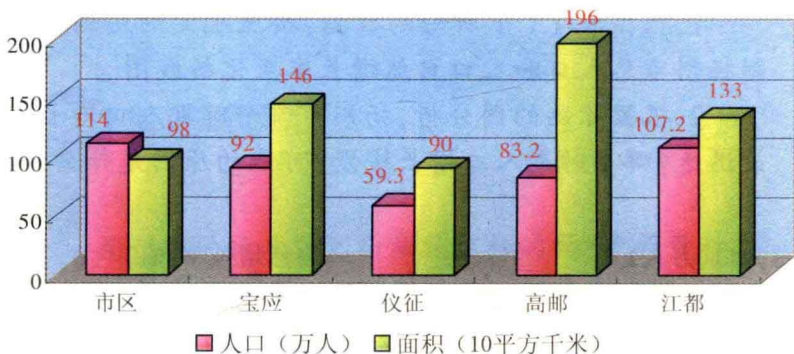


图 1.4 2004 年扬州市各县(市、区)人口、面积统计



### 读图思考

读图 1.4, 分析判断:

- (1) 你所在县(市、区)的人口和面积在全市分别排在第几位? 人口位居第 \_\_\_\_\_ 位, 面积位居第 \_\_\_\_\_ 位。

(2)比较各县(市、区)人口和面积数量,估计全市人口密度最大的县(市、区)是 \_\_\_\_\_,人口密度最小的县(市、区)是 \_\_\_\_\_。

扬州市总人口中汉族人口占 99%以上,少数民族有近 2 万人,约占总人口的 0.43%,包括回族、蒙古族、土家族、苗族、满族、侗族等 49 个少数民族。少数民族人口分布相对集中于城市及周围地区,其中回族人口最多,占少数民族人口总数的 65%。高邮菱塘回族乡是江苏省唯一的少数民族乡,是历史上阿拉伯、波斯人后裔的聚居地。菱塘乡的新景清真寺建于清道光二十四年(1844 年),是华东地区最大的清真寺。扬州市各民族之间团结融洽,友好相处,共同为扬州建设贡献力量。



图 1.5 菱塘回族乡清真寺

## 现场调查

你所在的班级有少数民族的同学吗?你能谈谈自己民族的风俗习惯?

红桃水暖春偏好，绿稻香含秋最清

——清·卢见曾

## 第二章 平原水乡 气候宜人

扬州市地形平坦，气候温暖湿润，河湖众多。优越的自然条件特别有利于农业的生产，自古以来，这里便是著名的鱼米之乡。

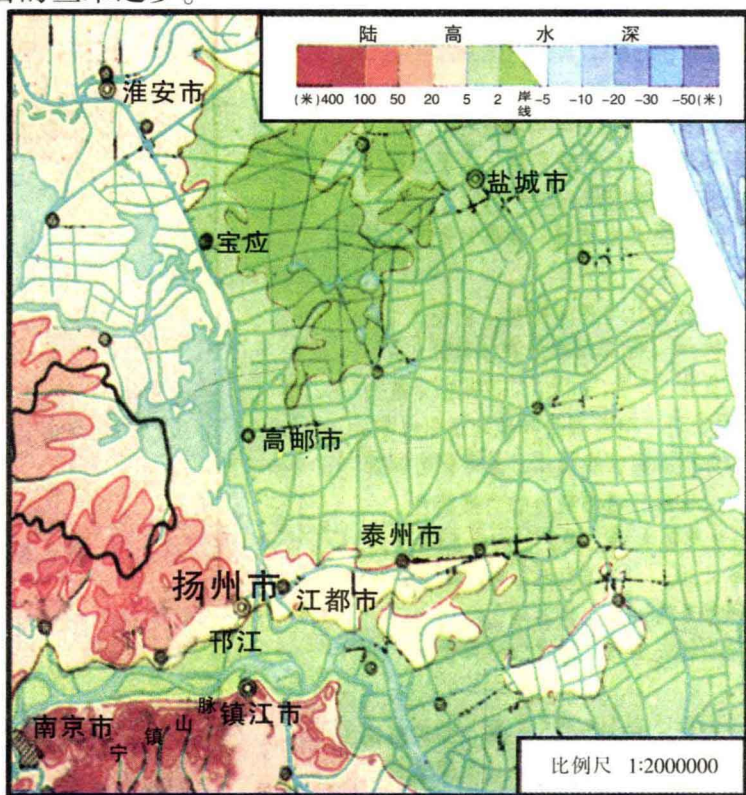


图 2.1 扬州市及邻近地区地形图



## 地图识读

在图 2.1 上标出学校所在的大致位置，并说出其所在的地形区名称和地形特征。

## 平原为主的地形

扬州市地形以平原为主，仅在西南部有一小部分坡度和缓、岗顶宽平的丘陵。平原以新通扬运河为界，北部属江淮平原，南部属长江三角洲。

江淮平原在扬州市境内以里运河为界，分为东西两部分，西部为运西湖区平原，东部为里下河平原。扬州市境内的长江三角洲又以宁通公路为界，分为以北的高沙土平原和以南的沿江平原。

扬州市地势西高东低，自西向东倾斜。地形特征表现为地势低平、河湖众多，是著名的水乡。



## 问题探究

扬州市的地形、地势特征与我们的生产和生活有什么关系？特别是对农业生产有哪些有利和不利的影响？试举例说明。



### 资料链接

扬州市的平原属于典型的冲积平原。一万年前，这里还是一片浅水海湾，后经陆地河流带来的泥沙长期堆积和地壳缓慢隆升而逐渐形成陆地，一些残留在地面上的洼地则积水成湖。

扬州市西南部的丘陵是在距今十万年前因地壳抬升降起而成，蜿蜒起伏于仪征市和邗江区的北部。这些丘陵的海拔多在20~40米之间，其中仪征大铜山海拔149米，为全市最高点。许多丘陵覆盖着黄土，所以被称为“黄土岗地”，如市区北郊著名的蜀冈风景区就是一片丘陵岗地。

### 季风显著的气候



### 现场调查

你知道扬州市有哪些描述天气与气候的谚语？比一比，看谁说得多。

---

---

扬州市地处我国大陆的中东部，距海洋较近，是典型的亚热带季风气候区。季风显著、四季分明、冬冷夏热、雨





图 2.2 瘦西湖春景



图 2.3 瘦西湖夏景

热同期是扬州市气候的主要特点。

(一)季风显著:扬州市的风向随季节有明显的变化,冬季盛行来自北方干冷的偏北风;夏季盛行从海洋吹来的湿热的东南风或南风;在过渡季节中,春季多东南风,秋季多东北风。




图 2.4 瘦西湖秋景

(二)四季分明:扬州市处于中纬度,具有春暖、夏热、秋晴、冬冷的四季特点。

按候(五天为一候)平均气温大于  $22^{\circ}\text{C}$  为夏季,小于  $10^{\circ}\text{C}$  为冬季,  $10^{\circ}\text{C}\sim 22^{\circ}\text{C}$  之间为春、秋季的标准划分,扬州市的冬季长达四个多月,夏季也较长,为三个多月,春、秋季较短,各约为两个月。



图 2.5 瘦西湖冬景