

- 着眼前后联系
- 加强系统整理
- 分类开放拓展
- 实现全面提高

配国标苏教版

ZOUJINZONGFUXI

走进总复习

小学数学

一年级下册

基础性

开放性

灵活性

综合性



江苏教育出版社
JIANGSU EDUCATION PUBLISHING HOUSE

前 言

目 录

随着当前课程改革的不断深入,教学思想、教学内容与教学方法均发生了深刻的变化。为了适应教育改革发展发展的崭新要求,对学生进行扎实的启蒙训练,切实减轻学生过重的课业负担,把学生从茫茫的题海中解放出来,我们组织了一批教学一线的优秀教师精心编写了这套新颖、实用的丛书。

这套丛书与市场上同类书籍相比,具有以下几方面的显著特点。

一、依照课标,立足双基训练。

本丛书紧紧根据国家教育部颁发的《基础教育课程标准》,全面梳理教学内容,单元复习题目力求体现教学重点,并通过典型训练拉动前后知识的联系,培养学生应用知识、解决实际问题的能力。综合复习题目参照整册教材,统筹安排各知识点,力求融会贯通,形成整体。丛书题目具有很强的系统性、灵活性。

二、循序渐进,注重拓展创新。

题目的编写由易到难,循序渐进。既有基础题,又有能力题;既有标准化的客观题,又有体现学生个性化的主观题。所有题目既紧扣教材,又不照搬教材;既博采众长,又力求创新;既重视思维的由因索果,又体现打破常规的逆向思维训练。

三、覆盖面广,适合各类学生。

本丛书内容覆盖各研教材中所有的知识点和能力训练点,同时强化了对知识、技能的整合,题目难易适中,不出偏题、怪题,但也有一定数量的提高题,以满足不同层次学生的需要。

我们相信,这套丛书一定会成为教师教学的得力助手,学生复习的知心朋友,家长家教的好帮手。

一年级数学下学期总复习(一)	1
一年级数学下学期总复习(二)	5
一年级数学下学期总复习(三)	9
一年级数学下学期总复习(四)	13
一年级数学下学期总复习(五)	17
一年级数学下学期总复习(六)	21
一年级数学下学期总复习(七)	25
一年级数学下学期总复习(八)	29
一年级数学下学期总复习(九)	33
一年级数学下学期总复习(十)	37
一年级数学下学期总复习(十一)	41
一年级数学下学期总复习(十二)	45

书 名	走进总复习·小学教学一年级下册			
总体评价	优	良	中	差
具 体 意 见				

本书编写组
2005年10月

一年级数学下学期总复习(一)

(配合第一、二单元)

班级 _____ 姓名 _____ 学号 _____ 得分 _____

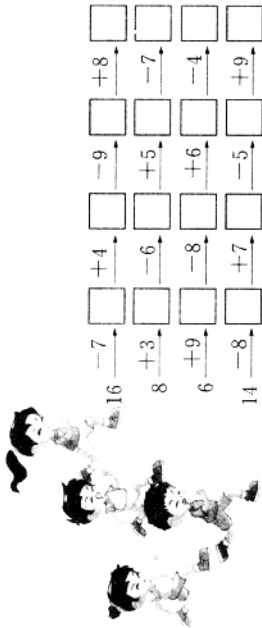
kàn shù suàn de duì

一、看谁算得对。(10分)

- $15-7=$ $16-8=$ $11-7=$ $15-5=$
 $13-8=$ $15-9=$ $14-8=$ $17-9=$
 $16-9=$ $14-5=$ $16-7=$ $14-9=$
 $14-6=$ $18-9=$ $11-9=$ $13-8=$
 $12-4=$ $7+6=$ $13-5=$ $12-7=$

bǐ yì bǐ kàn shuí xiān pǎo dào zhōng diǎn

二、比一比,看谁先跑到终点。(8分)



zài li tián shàng huò

三、在○里填上“>”“<”或“=”。(6分)

- $12-4 \bigcirc 8$ $13-8 \bigcirc 4$ $8+7 \bigcirc 14$
 $14-6 \bigcirc 6$ $4+9 \bigcirc 14$ $15-6 \bigcirc 8$
 $6+9 \bigcirc 16$ $15-9 \bigcirc 9$ $11-6 \bigcirc 5$

$17-8 \bigcirc 7$ $13-7 \bigcirc 7$ $8+8 \bigcirc 18$

四、在□里填数。(8分)

$12-8=$ $13-9=$ $14-7=$
 $\left. \begin{array}{l} \square - \square \\ \square - \square \end{array} \right\} 15-8=$ $\left. \begin{array}{l} \square - \square \\ \square - \square \end{array} \right\}$

zhào yàng zì zhǎo péng you

五、照样子找朋友。(8分)

$7+9$	$19-10-4$	$\textcircled{6}$	5
$14-7$	$17-8+4$	$\textcircled{13}$	13
$5+8$	$15-8+9$	$\textcircled{1}$	1
$14-9$	$12-9+1$	$\textcircled{7}$	7
$12-8$	$13-4-2$	$\textcircled{16}$	16

tián biǎo

六、填表。(6分)

原有	12个	15个	13个
卖出	8个	6个	5个
还剩	()个	()个	()个
爸爸买了			
妈妈买了	7个	9个	8个
一共买了	8个	5个	8个
	()个	()个	()个

七、涂不同的颜色。(8分)


4. 买的苹果和梨一共是13个。



苹果最多有()个;
最少有()个。



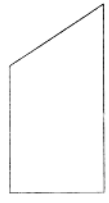
九、数一数,填一填。(10分)




正方形有()个,长方形有()个,平行四边形有()个。
三角形有()个,圆有()个。

十、根据要求画一画。(8分)

1. 给下面的图形分别画上一条线,使图①变成两个三角形,图②变成一个长方形和一个三角形。



2. 在方格纸上画一个正方形和一个平行四边形。



★ 智慧七巧板。(10分)

从前往后数小林是第6个人,从后往前数小林也是第6个人。这个队伍共有()人。

得教大子的涂上红色,
得教小子的涂上绿色。



八、解决实际问题。(28分)

1. $\square \bigcirc \square = \square$
 $\square \bigcirc \square = \square$

2. 学校图书馆里有15本《数学故事》。

借书处
已经借走了8本。
 还有多少本?
 $\square \bigcirc \square = \square$

3. 鸡有6只,鸭有8只,鸡有14只。

- (1) 母鸡有5只,公鸡有多少只? $\square \bigcirc \square = \square$
 (2) 鹅和鸭一共有多少只? $\square \bigcirc \square = \square$

一年级数学下学期总复习(二)

(配合第三单元)

班级 _____ 姓名 _____ 学号 _____ 得分 _____

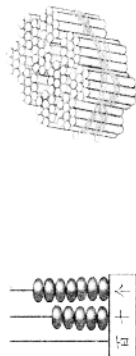
àn yāo qiú xiě shù

一、按要求写数。(8分)

1. 按规律填数。



2. 看图写数。



()

()

tián kòng

二、填空。(24分)

1. 一个数从右边数起,第三位是()位,个位在第()位,()位在个位和百位的中间。
2. 84 里面有()个十和()个一,10 个十是()。6 个十和 9 个一合起来是(),再添上 1 是()个十。7 个十是(),再添上()个十是 100。
3. 50 比()大 1,比()小 1。

4. 一个数的个位上是 5,它比 60 大比 70 小,这个数是()。
5. 妈妈的岁数比 65 大,比 70 小,而且是双数,妈妈可能是()岁。
6. 一个加数是最小的一位数,另一个加数是最大的两位数,它们的和是()。
7. 被减数是 80,减数是 20,差是()。
8. 从大到小一个地数,59 前面的一个数是(),59 后面的一个数是()。
9. 把 65、47、70、36、63、95、22、61 按从大到小的顺序排列。

cāi yī cāi tián yī tián

三、猜一猜,填一填。(8分)

你能找规律填数吗?

1									10
	12							19	
		23		25	26		28		
			34			37			
		43					48		
			53					58	
				64		67			
		73			75	76		78	
			82						89
									100

你能根据上面的百数表,填出下面各个空格里的数吗?试一试。



zài li tián shàng hé shì de huò
四、在○里填上合适的“>”“<”或“=”。(12分)

78○49 20+30○32 50+3○50-30
38○83 90-80○70 60-30○38-8

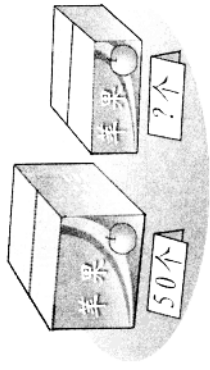
yòng yǐ nèi cā yí gè shù shuō yí jù huà
五、用100以内的一个数说一句话。(3分)

jiě jué shí jì wèn tí
六、解决实际问题。(21分)

1. mā ma yuē le 30 tiáo yú, xiǎo māo yuē de yú bǐ mā ma shǎo de duō.
(1) 你认为小猫可能钓了多少条鱼?(在合适的答案下面画“√”)

28条	40条	8条
-----	-----	----

(2) mā ma hé xiǎo māo yì qǐ yuē le duō shǎo tiáo?
妈妈和小猫一共钓了多少条?




3.
hé
(1) 左边的盒子里有50个苹果,右边盒子里大约有多少个?(在合适的答案下面画“√”)

50个	20个	5个
-----	-----	----

(2) 右边盒子里再增加多少个苹果,就和左边一样多?

kàn shuí suàn de duì
七、看谁算得对。(24分)

7+3= 30+50= 8+40=
89-9= 40+40= 60-60=
5+50= 90-40= 100-30=
63-60= 80-20= 76-6= 77-70= 63-3= 97-90+50=
18-9= 3+80= 80-80= 30+30+9= 9+7+40= 38-8-30= 20+80-40=



zhì huì qī qiǎo bǎn
★ 智慧七巧板。(10分)

zài jì shù qì shàng yòng 5 kē suàn zū biǎo shì
在计数器上,用5颗算珠能表示()个100以内的不同的数。其中最大的数是(),最小的数是(),它们的和是()。

一年级数学下学期总复习(三)

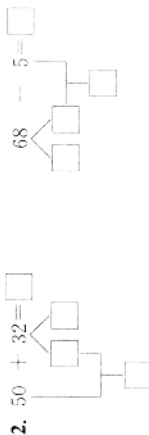
(配合第四单元)

班级 _____ 姓名 _____ 学号 _____ 得分 _____

tián kòng

一、填空。(26分)

1. 58的“5”在()位上,表示5个()。“8”在()位上,表示()个()。



3. 美术组比合唱组多15人,也就是()比()少15人,还可以说()和()相差()人。
4. 强强有邮票46张,红红有40张,红红比强强少()张。强强给红红()张后,两人的邮票就一样多了。
5. 5连续加5,每次得到的和分别是:10、15、()、()、()、()……
6. 最大的两位数与最小的两位数的差是()。最大的两位数与最小的一位数的和是()。
7. 在○里填上“>”“<”或“=”。
- $15 + 7 \bigcirc 7 + 15$ $42 + 30 \bigcirc 42 + 3$ $31 + 50 \bigcirc 71$
- $13 + 7 \bigcirc 13 - 7$ $64 - 20 \bigcirc 82 - 40$ $38 \bigcirc 98 - 70$
8. 把85、21、57、36、100、7、43、65按从大到小的顺序排列:

gū yī gū zài nǐ rèn wéi zhèng què de dá àn xià miàn huà “√”。(6分)

二、估一估,在你认为正确的答案下面画“√”。(6分)

- $66 + 20$ $5 + 43$ $67 - 20$
- (八十多) (九十多) (六十多)
- (九十多) (四十多) (四十多)

- $58 - 3$ $40 + 36$ $66 - 4$
- (五十多) (七十多) (二十多)
- (二十多) (四十多) (六十多)

tián biǎo

三、填表。(20分)

1.

	58	34	60	75	80
	40	3	30	10	20
和					
差					

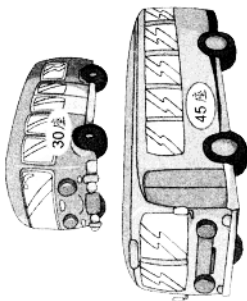
2.

原有	36个	28根	()个
卖出	30个	()根	30个
剩下	()个	10根	20个

jiě jué shí jì wèn tí

四、解决实际问题。(24分)

1. 一个旅游团一共有80个人,他们要到桂林游玩,每人坐一个座位,用下面的两辆车够不够?



2. 饲养场有鸡、鸭、鹅,数如下表。

鸡	鸭	鹅
38 只	20 只	30 只

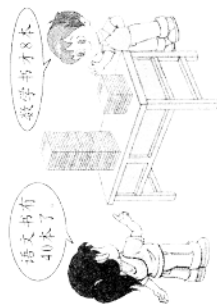
(1) 鸡比鸭多多少只?

(2) 再买来多少只鸭后,鸭的只数和鹅同样多?

(3) 鸡、鸭、鹅一共有多少只?

3. 商店里的书包卖出了 30 个,还剩 55 个,商店里原来有多少个书包?

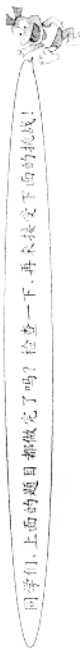
4. 一(1)班有 48 名同学,给每人发一本语文书,一本数学书。语文书与数学书各差多少本?



五、看谁算得对。(24 分)

kàn shuí suàn de duì

- | | | |
|-----------------|------------------|------------------|
| $41 + 30 =$ | $96 - 60 =$ | $92 - 40 =$ |
| $30 + 56 =$ | $85 - 70 =$ | $99 - 80 =$ |
| $88 - 40 =$ | $5 + 43 =$ | $68 - 7 =$ |
| $69 - 6 =$ | $47 - 30 =$ | $80 - 80 =$ |
| $46 - 20 =$ | $34 + 2 =$ | $30 + 57 =$ |
| $40 + 32 =$ | $4 + 65 =$ | $7 + 53 =$ |
| $72 + 6 - 20 =$ | $46 - 5 + 30 =$ | $100 - 70 + 6 =$ |
| $38 + 8 - 5 =$ | $97 - 70 - 20 =$ | $35 + 4 + 40 =$ |



zhì huì āi qiǎo bǎn

★ 智慧七巧板。(10 分)

1. 妈妈买回 25 块巧克力,明明第一天吃 3 块,以后每天都和第一天吃得同样多,到第四天后巧克力比买回来时少了()块。

2. 看算式,动脑筋,写出□、△、○各表示多少。

$$\square + \triangle = 35$$

$$\circ + \square = 23$$

$$\triangle - 20 = 5$$











$$\square = (\quad) \quad \triangle = (\quad) \quad \circ = (\quad)$$

一年级数学下学期总复习(四)

(配合第五单元)

班级 _____ 姓名 _____ 学号 _____ 得分 _____

一、填空。(20分)

- 人民币的单位有()、()、()。
- ()个  可以换1个  的硬币。1张  可以换()张 。
- 2张2元、2张2角、1张5角合起来是()元()角。
- 小明有15个1角的硬币,他买练习本用去8角钱,还剩()钱。
-  ()元
  ()元
  ()元
  ()角
  ()角
  ()分
- 从右边起,第三位是()位,十位是第()位。
- 比19大1的数是(),比100小1的数是()。60比()大1,比()小1。
- 58是由()个十和()个一组成的。8个十和9个一组成的数是()。

二、连一连。(4分)

- | | |
|-------|-----|
| 10分 | 6角 |
| 2元 | 1元 |
| 1元-4角 | 20角 |
| 10角 | 1角 |

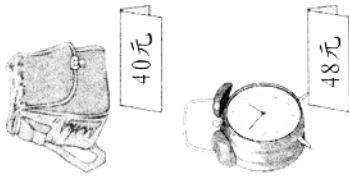
- zài li tián shàng " $>$ " " $<$ " 或 " $=$ ". (8分)
- 36-20 \bigcirc 56-2 4+75 \bigcirc 75+4
- 38+30 \bigcirc 38+3 3+63 \bigcirc 63-3

四、用竖式计算。(18分)

- 54+3 23+46 76-65
- 44+55 55-44 22+67

五、解决实际问题。(30分)

1. (1) 小军要买这两样东西,一共要付多少元?



(2) 买一个闹钟比买一个书包贵多少元?

2. 王大爷家原来有鸡 38 只, 卖出一一些后还剩 18 只。卖出了多少只?

3. 小强巴写了 24 个字, 还有 13 个字没有写。小强一共要写多少个字?

4.

	45 元		15 元		28 元		40 元		10 元
---	------	---	------	---	------	---	------	---	------

(1) 40 元钱买一个熊猫玩具和一个布娃娃, 够不够?

(2) 买一本字典和一个书包, 大约要带几十元?

(3) 买上面两件不同的物品, 最多要用多少钱?

kàn shuí suàn de duì

六、看谁算得对。(20 分)

$7 + 83 =$

$36 + 8 =$

$5 + 67 =$

$45 - 9 =$

$80 - 6 =$

$55 - 7 =$

$24 + 40 =$

$83 + 6 =$

$49 + 5 =$

$4 + 87 =$

$32 - 30 =$

$62 - 7 =$

$9 + 38 =$

$49 - 40 =$

$94 - 30 + 8 =$

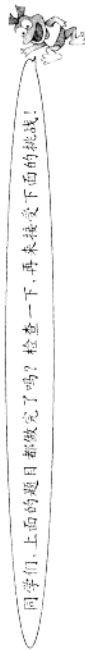
$28 + 4 - 7 =$

$68 + 9 - 50 =$

$53 - 4 - 6 =$

$77 + 8 + 9 =$

$64 - 4 + 25 =$



zhì huì qī qiǎo bǎn

★ 智慧七巧板。(10 分)

1. 妈妈给小明和他的 3 个同学发糖, 每人一块水果糖、一块牛奶糖和一块巧克力糖, 妈妈一共发了多少块糖?

2. 小华要买一本 8 元钱的书, 他带了 1 张 5 元、4 张 2 元纸币和 10 个 1 元硬币。你认为小华会怎样付钱? 比一比谁的方法最多。

一年级数学下学期总复习(五)

(配合第六单元)

班级 _____ 姓名 _____ 学号 _____ 得分 _____

一、填空。(12分)

- 79的相邻数是()和()。
- 比67大1的数是(),小1的数是()。
- 16比54少(),72比30多()。
- 一个数,个位上是最大的一位数,十位上的数比个位上的数少2,这个数是()。
- 找规律填数:5 10 15 () () ()
7 14 21 () () ()
- 请你从18、36、47、65四个数中选出三个数,写出两道加法算式和两道减法算式。

二、把下列算式按得数的大小排列起来。(5分)

17 + 25 43 - 16 28 + 30 54 - 19 63 - 40

三、在得数比40小的算式后面画“√”。(6分)

54 - 18 42 + 18 84 - 46
52 - 24 47 + 15 38 + 33

四、用竖式计算。(15分)

45 + 32

69 - 55

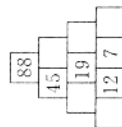
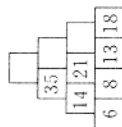
70 - 36

37 + 28

88 - 49

64 - 55

五、在空格里填上合适的数。(8分)




六、解决实际问题。(30分)

1.

我买一个玩具娃娃和一辆小汽车。

我买一只玩具熊和一盒积木。



每人各应付多少元?

应付: =
应付: =
应付: =

2. 一本书有56页,看了一些后,还剩29页,已经看了多少页?

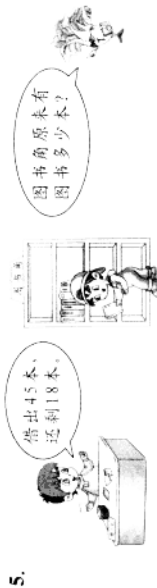
3.



(1) 爷爷比孙女大多少岁?

(2) 孙女和爷爷一共多少岁?

4. 一辆公共汽车上坐满了50人,第一站下去18人,现在车上还有多少人?



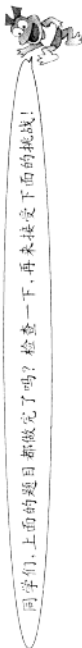
5.

6. 幼儿园有24个红皮球,还有8个花皮球。
(1) 再买多少个花皮球就和红皮球同样多?

(2) 你还能提出一个问题进行解答吗?

kàn shuí suàn de duì
七、看谁算得对。(24分)

$41 - 3 =$	$18 + 7 =$	$5 + 44 =$
$92 - 8 =$	$7 + 56 =$	$62 - 2 =$
$36 + 4 =$	$34 - 8 =$	$50 - 9 =$
$75 - 7 =$	$83 - 40 =$	$78 + 3 =$
$16 + 70 =$	$5 + 95 =$	$48 - 4 =$
$95 - 6 =$	$52 - 4 =$	$58 - 20 =$
$61 - 7 - 50 =$	$34 - 8 + 9 =$	$36 + 30 - 9 =$
$50 - 6 + 8 =$	$92 - 40 - 8 =$	$45 + 9 + 7 =$



zhì huì qī qiǎo bǎn
★ 智慧七巧板。(10分)

小明要画5组图案,已经画了3组,请你找出规律帮他画出后面的两组,并回答下面的问题。



(1) (2) (3) (4) (5)

5组图案一共有()个图形,其中△有()个,☆有()个。

一年级数学下学期总复习(六)

(配合第七、八单元)

班级 _____ 姓名 _____ 学号 _____ 得分 _____

tián kòng

一、填空。(23分)

1. 找规律填一填。

		86	84			
--	--	----	----	--	--	--

	25		35			65
--	----	--	----	--	--	----

2. 38里面有()个一和()个十。10个十是()。
- ()个一和8个()合起来是87。100里面有()个一。
3. 写出5个十位比个位上的数大的数:()、()、()、()、()。
4. 30、31、32、33、34、35、36、37、38、39、40……照样子接着圈一圈,圈出的数都是()数,没有圈的数是()数。
5. 80比()少1,比()多1。
6. 在○里填“>”“<”或“=”。

$$25 + 15 \bigcirc 25 + 51$$

$$72 - 34 \bigcirc 72 - 43$$

$$23 + 32 \bigcirc 32 + 23$$

$$67 - 50 \bigcirc 67 - 5$$

$$7. 1 \text{ 角} = () \text{ 分}$$

$$50 \text{ 角} = () \text{ 元}$$

$$60 \text{ 分} = () \text{ 角}$$

$$() \text{ 分} = 1 \text{ 元}$$


$$2 \text{ 元} 3 \text{ 角} = () \text{ 角}$$

$$4 \text{ 角} + 6 \text{ 角} = () \text{ 元}$$

8. 小华和小芳的邮票同样多,小华给小芳4张邮票后,()的邮票多一些,多()张。

xiān yòng jì lù gè zhǒng tú xíng bìng jìn xíng tǒng jì zài gēn jù tǒng jì de jié guǒ huí dá wèn tí

二、先用“√”记录各种图形,并进行统计,再根据统计的结果回答问题。(8分)



图形	数量(个)
△	
○	
□	
◇	

()的个数最多,()的个数最少。()和()的个数同样多,□比○()个。(填“多”或“少”几个)

zài li tián shù

三、在□里填数。(8分)

$$22 - 8 = \begin{cases} 34 - 20 \\ 25 - \square \\ \square - 4 \end{cases}$$

$$34 + 15 = \begin{cases} 26 + 23 \\ 30 + \square \\ \square + 21 \end{cases}$$

$$45 + 17 = \begin{cases} \square + 30 \\ \square - 30 \end{cases}$$

$$56 - 38 = \begin{cases} 8 + \square \\ \square - 8 \end{cases}$$

yòng shù shì jì suàn。(12分)
四、用竖式计算。(12分)

$43 + 25$

$68 - 34$

$86 - 56$

$37 + 47$

$29 + 34$

$34 - 19$

jiě jué shí jì wèn tí。(25分)
五、解决实际问题。(25分)

1. 图书室有一些故事书,借出54本,还有9本。图书室原来有多少本故事书?

2. 每只书包35元钱,每个文具盒16元钱。买一只书包和一个文具盒共要多
少元钱?

3. 一(1)班有男生26人,女生20人,男生比女生多多少人?

4. 小红、小芳、小军三人进行拍球比赛。

我拍了20下。



小红

我拍的比小红多一些。



小芳

我和小红拍得同样多。



小军

(1) 小芳拍了多少下? (在合适的答案下画“√”)(2分)

18	24	46
----	----	----

(2) 小红和小军一共拍了多少下? (4分)

(3) 小军再拍多少下就和小芳拍得同样多? (4分)

kàn shuí suàn de duì
六、看谁算得对。(24分)

$75 - 5 =$

$32 + 16 =$

$12 - 5 =$

$80 - 20 =$

$4 + 27 =$

$36 - 20 =$

$23 + 25 =$

$6 + 3 =$

$24 + 9 =$

$34 + 60 =$

$46 - 30 =$

$65 - 7 - 9 =$

$25 + 25 =$

$47 - 9 =$

$24 - 16 =$

$73 - 8 =$

$40 + 60 =$

$45 + 6 + 9 =$

$36 - 6 =$

$76 - 70 =$

$5 + 6 + 40 =$

$41 - 5 =$

$42 + 28 =$

$8 + 70 + 9 =$

同学们,上面的题目都做完了吗?检查一下,再来接受下面的挑战!



zhì huì qī qiǎo bǎn
★ 智慧七巧板。(10分)

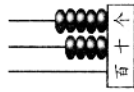
小明和爷爷一同上楼,小明走得快,爷爷走得慢。小明到了3楼时,爷爷到了2楼。当小明到了5楼时,爷爷到了几楼?

一年级数学下学期总复习(七)

班级 _____ 姓名 _____ 学号 _____ 得分 _____

一、请你填一填。(19分)



1. 看图填空。



()个十和()个一合起来是()。

2. 一个数它的个位、十位上都是0,百位上是1,这个数是()。

3. 29的相邻数是(),这3个数的和是()。

4. 小红用()张  可以换1张 。小冬用()张

 可以换1张 。()分=1元。

5. 爷爷今年的岁数比70大,比74小,但他的岁数是双数,爷爷今年()岁。

6. 用6、0、2、7中的两个数字组成最大的两位数是(),组成最小的两位数是(),它们相差()。

7. 在○里填上“>”“<”或“=”。

$20 + 18 \bigcirc 20 + 19$ $24 - 4 \bigcirc 50 - 20$ $24 + 17 \bigcirc 71 - 42$

$69 - 6 \bigcirc 69 - 9$ $32 - 3 \bigcirc 23 - 2$ $5 \text{角} 4 \text{分} \bigcirc 3 \text{元} 2 \text{角}$

二、先口算下面各题,然后统计出加、减算式各有几道。

(28分)

$62 + 30 =$ $12 - 4 =$ $42 + 40 =$

$70 - 7 =$ $33 + 16 =$ $20 - 1 =$

$90 - 40 =$ $88 - 9 =$ $73 - 6 =$

$29 + 4 =$ $18 + 7 =$ $53 - 3 =$

$73 - 50 =$ $24 + 34 =$ $8 + 7 =$

$100 - 90 =$ $65 - 25 =$ $21 - 6 =$

$26 + 50 =$ $33 + 7 =$ $55 - 7 =$

$23 + 5 =$ $22 - 3 =$ $31 - 11 =$

算式	加法	减法
数量	()道	()道

()算式多,()算式少。

三、下面的说法对吗? (对的画“√”,错的画“×”)(3分)

1. 这个长方形可以剪成两个完全一样的三角形。 ()

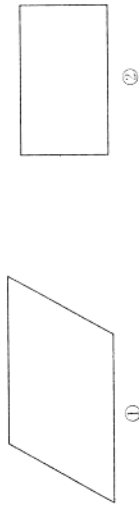
2. 小明从计数器的个位取下一颗珠子加到十位上后,发现计数器上表示的是45,那么计数器上原来表示的数是36。 ()

3. 小冬折了45个纸飞机,比小华的多得多,小华可能折了40个纸飞机。 ()

四、在□里填上合适的数。(12分)

$$42 - 14 = \begin{cases} \square + 8 \\ \square - 8 \\ \square - 10 \end{cases} \quad 27 + 16 = \begin{cases} 73 - \square \\ \square + 15 \\ \square - \square \end{cases}$$

zài xià miàn tú xíng shàng gè tiān yí tiáo xiàn bǎ tú biàn chéng liǎng gè píng xíng sī biān xíng bǎ tú biàn chéng yí gè sì biān xíng hé yí gè sān jiǎo xíng.
 五、在下面图形上各添一条线,把图①变成两个平行四边形,把图②变成一个四边形和一个三角形。(8分)



jiě jué shí jì wèn tí
 六、解决实际问题。(30分)

I.



36元



5元



?元



?元




10元

(1) 书包的价钱比篮球贵一些,它的价钱是多少?(在你认为对的下面画“√”)

30元	40元	50元
-----	-----	-----

(2) 球拍比篮球便宜多少钱?

(3) 买3把玩具枪的钱正好可以买一个布娃娃,一个布娃娃多少钱?

(4) 妈妈带了8张,买一个篮球和一个书包,够不够?

2. 学校合唱小组有女生45人,男生28人。男生比女生少多少人?

3. 树上有一群小鸟,飞走了36只,还剩19只,树上原来有多少只小鸟?

4. 明明带70元上街买东西,用了一些钱后还剩30元。明明一共用了多少钱?



同学们,上面的题目都做完了吗?检查一下,再未接受下面的挑战!

zhì huì qī qiǎo bǎn
 智慧七巧板。(10分)

★

1. 小冬与小明的邮票张数同样多,如果小冬给小冬15张邮票后,()的邮票多,多()张。

2. 12个小朋友排一队,小明是其中一个,小明的后面有4人,他的前面有()人。

一年级数学下学期总复习(八)

班级 _____ 姓名 _____ 学号 _____ 得分 _____

qǐng nǐ tián yì tián

一、请你填一填。(25分)

1. 找规律填数。(4分)

		80	75		60		40
	33	36	42		54		63

2. 最小的三位数是(),最大的两位数是(),它们相差()。

3. 在29、38、59、99、61、32这些数中,()最接近30,最接近60的数是()。()比38多得多。

4. 1元=()角 ()分=1元

3元4角=()角 60分=()角

5. 50比()多1,比()少1。

6. 数位顺序表从右边起第三位是()位,个位在第()位,第二位是()位。

qǐng nǐ xuǎn yì xuǎn bǎ zhèng què dá àn de xù hào xiě zài lǐ

二、请你选 一选。把 正 确 答 案 的 序 号 写 在 () 里。(6分)

1. $7 + \square < 27$, \square 里最大填()。

① 19 ② 20 ③ 21

2. 奶奶的岁数是双数,比70大,比78小,且十位比个位大1,奶奶的岁数是()。

① 74 ② 72 ③ 76

3. 篮球的价钱接近40元,篮球可能是()。

① 20元 ② 38元 ③ 60元

zài lǐ tián shàng " > " " < " 或 " = "。(6分)

32角 \bigcirc 3元2角

$45 + 32 \bigcirc 54 + 23$

$28 + 23 \bigcirc 50$

$61 - 25 \bigcirc 61 - 52$

$80 - 39 \bigcirc 40$

$18 + 29 \bigcirc 29 + 18$

zài () 里画 什 么 图 形? huà xiàn lián qi lai zài wán chéng xià miàn de tǒng jì

四、在()里画 什 么 图 形? 画 线 连 起 来,再 完 成 下 面 的 统 计。(9分)

$\bigcirc \triangle \bigcirc \triangle \bigcirc \triangle \triangle$ () \square
 $\square \bigcirc \square \bigcirc \square \bigcirc \square$ () \square
 $\triangle \square \triangle \square \square \triangle \square$ () \square
 $\bigcirc \triangle \square \bigcirc \triangle \square \triangle$ () \triangle

\square	\square	\bigcirc	\square	\triangle
()个	()个	()个	()个	()个

jiě jué shí jì wèn tí


五、解决实际问题。(30分)

1.



我有 18 辆。

我有 10 辆。



小明比小冬多多少辆?

要使两人汽车玩
其同样多,小明
要给小冬 10 辆。