

全日制十年制学校小学课本

数 学

SHUXUE

第 二 册



人民教育出版社

全日制十年制学校小学课本

(试 用 本)

数 学

第 二 册

中小学通用教材数学编写组编

*

人 民 教 育 出 版 社 出 版

山 东 人 民 教 育 出 版 社 重 印

山 东 省 教 育 科 学 院 发 行

山 东 新 华 印 刷 厂 印 刷

*

开本787×1092 1/32 印张3 字数30,000

1978年7月第1版 1981年8月山东第4次印刷

书号 K7012·057 定价 0.29 元

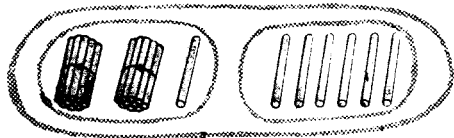
目 录

一	100 以内的加法和减法	1
1.	两位数加一位数、整十数	1
2.	两位数减一位数、整十数	9
3.	两位数加两位数	23
4.	两位数减两位数	30
5.	连加、连减和加减混合	37
6.	复习	45
二	市尺、市斤的认识	49
三	表内乘法和相应的除法(一)	55
1.	乘法的初步认识	55
2.	2—6 的乘法口诀	58
3.	除法的初步认识	75
4.	用 2—6 的乘法口诀求商	77
5.	复习	89
四	总复习	92

一 100 以内的加法和减法

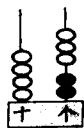
1. 两位数加一位数、整十数

例 1



$$\begin{array}{r}
 7 \\
 \overline{21 + 6 = 27} \\
 \begin{array}{ccc}
 \vdots & \vdots & \vdots \\
 \text{加数} & \text{加数} & \text{和}
 \end{array}
 \end{array}$$

例 2 老师 2 人、同学 43 人一起去看电影，老师和同学一共去了多少人？



$$\begin{array}{r}
 2 + 43 = 45(\text{人}) \\
 \hline
 5
 \end{array}$$

口答：一共去了 45 人

练习一

1.

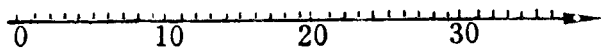


$$\square + \square = \square$$

$$\square + \square = \square$$

2. $3+4$ $6+2$ $14+3$ $90+8$
 $13+4$ $46+2$ $35+2$ $87+1$

3. 在图上表示 23 加 5, 再写出算式。



4. 一个加数是 71, 另一个加数是 8, 和是多少?

5. $5+3$ $2+7$ $12+4$ $36+1$
 $5+43$ $2+87$ $4+12$ $1+36$

6. $\boxed{24} \xrightarrow{+3} \square$ $\boxed{2} \xrightarrow{+73} \square$
 $\boxed{58} \xrightarrow{+1} \square$ $\boxed{6} \xrightarrow{+40} \square$
 $\boxed{30} \xrightarrow{+9} \square$ $\boxed{7} \xrightarrow{+51} \square$

7. 看谁口算得又对又快。

$13+6$ $4+50$ $7+31$ $30+5$
 $3+15$ $84+4$ $93+6$ $10+80$

8. 卡片上的每个数加 3, 各得多少?



2 加卡片上的每个数, 各得多少?

9. 一年级原来有 42 个同学, 又来了 3 个, 现在有多少个同学?

例 3



$$30 + 24 = 54$$

50

例 4 木工组第一天做了 35 张课桌, 第二天做了 40 张课桌, 两天共做了多少张?

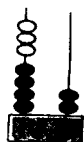
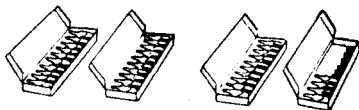
$$35 + 40 = 75(\text{张})$$

70

口答: 两天共做了 75 张。

练习二

1.



$$(\quad) + (\quad) = (\quad) \quad (\quad) + (\quad) = (\quad)$$

$$2. \quad 30 + 10 \quad 20 + 70 \quad 60 + 23 \quad 40 + 54$$

$$30 + 12 \quad 20 + 77 \quad 50 + 35 \quad 30 + 19$$

3. $28 + 30$ $21 + 60$ $27 + 50$ $36 + 40$

$50 + 43$ $18 + 80$ $89 + 10$ $24 + 70$

4. 一个加数是 40, 另一个加数是 55, 和是多少?

5. $31 + 5$ $57 + 20$ $3 + 46$ $10 + 87$

$31 + 50$ $57 + 2$ $30 + 46$ $1 + 87$

6. 把得数填在空格里。

加数	36	48	70	4	60	90	23	9
加数	2	50	29	81	15	7	40	20
和								

7. 看谁口算得又对又快。

$5 + 6$ $69 + 20$ $82 + 6$ $8 + 7$

$7 + 41$ $10 + 85$ $30 + 50$ $26 + 10$

$50 + 6$ $40 + 38$ $5 + 60$ $13 + 4$

8. $\boxed{37} \xrightarrow{+2} \square$

$\boxed{7} \xrightarrow{+9} \square$

$\boxed{50} \xrightarrow{+8} \square$

$\boxed{3} \xrightarrow{+46} \square$

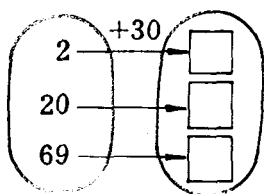
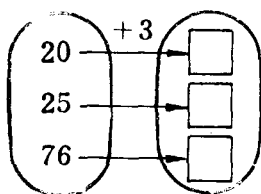
$\boxed{65} \xrightarrow{+20} \square$

$\boxed{9} \xrightarrow{+50} \square$

$\boxed{80} \xrightarrow{+19} \square$



$\boxed{4} \xrightarrow{+71} \square$

9.



10. $5+33$ $20+50$ $80-10$ $34+60$
 $13-8$ $17-9$ $90+8$ $87-7$
 $40+16$ $72+3$ $11-9$ $9+70$


11. 算出李村生产队养猪、养羊的总数。

	52头
	30头
一共	头

	40只
	36只
一共	只

12. 二班图书箱有书 70 本，借出 40 本，还剩多少本？
13. 一班评出 10 个三好学生，二班评出 12 个三好学生，两个班一共评出多少个？
14. 积肥小组第一周积了 18 筐肥，第二周积了 20 筐肥，.....？（口头提出问题，再算出来。）

例 5

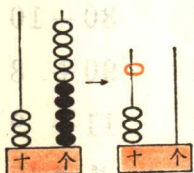


$$27 + 5 = 32$$

12

12

例 6




$$5 + 35 = 40$$

10

练习三

1.



$$(\quad) + (\quad) = (\quad)$$

2. $7 + 3$ $9 + 5$ $6 + 4$ $8 + 6$

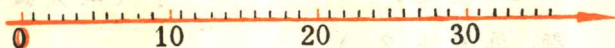
$27 + 3$ $39 + 5$ $6 + 54$ $8 + 46$

3. $15 + 5$ $9 + 62$ $75 + 7$ $59 + 9$

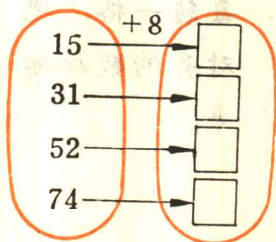
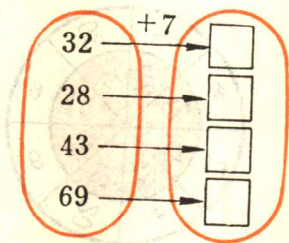
$23 + 8$ $2 + 48$ $4 + 89$ $6 + 35$

4. 一个加数是 67, 另一个加数是 9, 求和。

5. 在图上表示 25 加 6, 再写出算式。



6.



7.



8. 看谁口算得又对又快。

$57 + 8$

$6 + 54$

$2 + 95$

$7 + 62$

$43 + 6$

$74 + 9$

$8 + 77$

$87 + 3$

$65 + 5$

$9 + 31$

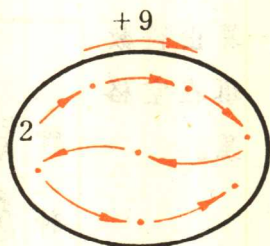
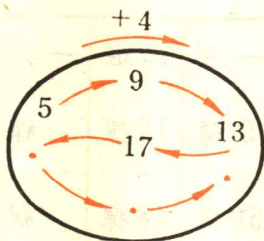
$52 + 2$

$8 + 24$

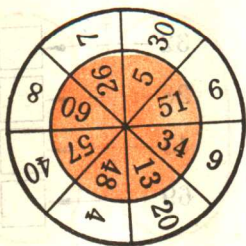
9. 8 连续加 8, 每次加得的和写在横线上。

8 16 _____

10.



11. 每转一格，把
对齐的数加起
来。



12. 听老师读题，很快口算出得数。

$57 + 8$

$6 + 56$

$25 + 70$

$9 + 62$

$43 + 6$

$71 + 9$

$7 + 80$

$83 + 7$

$80 - 60$

$68 + 5$

$15 - 9$

$40 + 32$

13. 从小明家到小红家，要走多少分钟？




14. 从小星家到春生家，要走多少分钟？



15. 算出得数
填在空格
里。

	一班	二班	一共
种 	9棵	12棵	棵
种 	50棵	48棵	棵

2. 两位数减一位数、整十数

例 1 少年之家买来  28 只, 用去 5 只, 还剩多少只?




$$\begin{array}{r} 28 \\ - 5 \\ \hline 23 \end{array} \begin{array}{l} \text{(只)} \\ \vdots \\ \text{被减数} \\ \text{减数} \\ \text{差} \end{array}$$

口答: 还剩 23 只。

练习四

1.



$$(\quad) - (\quad) = (\quad) \quad (\quad) - (\quad) = (\quad)$$

2. $6 - 2$ $8 - 4$ $7 - 3$ $9 - 7$

3. $26 - 2$ $38 - 4$ $67 - 3$ $89 - 7$

3. $15 - 3$ $69 - 6$ $36 - 6$ $88 - 5$

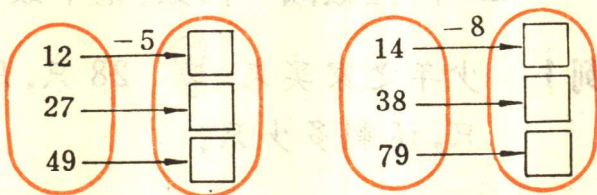
$27 - 2$ $78 - 5$ $49 - 8$ $93 - 3$

4. 在图上表示 29 减 7, 再写出算式。



5. 被减数是 57, 减数是 5, 求差。

6.



7.



8. 看谁算得又对又快。

$18 - 5$ $49 - 3$ $39 - 8$ $90 - 40$

$18 + 5$ $65 + 4$ $52 + 9$ $88 - 6$

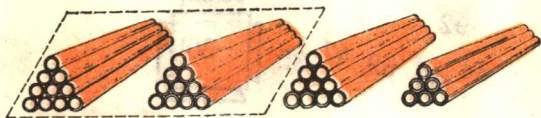
$18 + 50$ $47 - 7$ $28 + 30$ $60 - 60$

9. 算出得数
填在空格
里。

	原有	用去	还剩
	28 桶	4 桶	桶
	16 袋	5 袋	袋

10. 《雷锋叔叔的故事》有 37 页, 小军读了 6 页, 还有多少页没读?

例 2

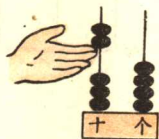


$$36 - 20 = 16$$

10

练习五

1.



$$(\quad) - (\quad) = (\quad)$$

2. $30 - 10$ $50 - 20$ $70 - 40$ $80 - 80$
 $38 - 10$ $57 - 20$ $76 - 40$ $89 - 80$
3. $58 - 20$ $81 - 70$ $47 - 30$ $34 - 30$
 $29 - 10$ $78 - 60$ $65 - 40$ $92 - 50$

4. 被减数是 56, 减数是 50, 差是多少?

5. 把得数填在空格里。

被减数	48	64	75	37	86	58	99
减数	3	40	20	30	50	8	70
差							

6.



7. 把差填
在空格
里。

71 - →


10	20	30	40	50	60	70

8. 看谁口算得又对又快。

$78 - 40$ $80 - 60$ $34 - 4$ $49 - 6$

$69 - 5$ $57 - 50$ $98 - 80$ $27 + 9$

$86 + 3$ $36 + 20$ $30 + 53$ $65 - 60$

9. 王老师领到 32 元，给学校买足球用去 30 元，还剩多少元？
10. 田师傅要做 84 个 ，已经做了 60 个，还要做多少个？
11. 第一生产队评模范社员 25 人，第二生产队评模范社员 30 人，两队一共评多少人？
12. 红星生产队要种豆 63 亩，已经种了 40 亩，
.....？（口头提出问题，再算出来。）

例 3



$$30 - 6 = 24$$

$$\begin{array}{l} 20 \quad 10 \\ \quad \quad \uparrow \\ \quad \quad 4 \end{array}$$

例 4

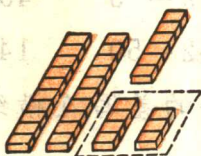


$$23 - 8 = 15$$

$$\begin{array}{l} 10 \quad 13 \\ \quad \quad \uparrow \\ \quad \quad 5 \end{array}$$

练习六

1.



$$(\quad) - (\quad) = (\quad)$$

2. $10 - 4$ $10 - 7$ $12 - 5$ $16 - 9$

$20 - 4$ $50 - 7$ $32 - 5$ $46 - 9$

3. $24 - 6$ $40 - 9$ $54 - 7$ $31 - 2$

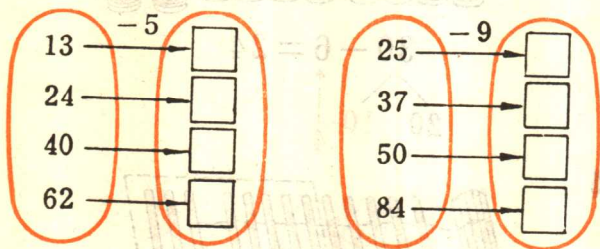
$73 - 8$ $81 - 4$ $60 - 3$ $94 - 5$

4. 被减数是 83, 减数是 6, 求差。

5. 在图上表示 31 减 8, 再写出算式。



6.



7.



8. 看谁口算得又对又快。

$70 - 6$ $51 - 2$ $90 - 4$ $26 - 9$

$36 - 8$ $80 - 3$ $79 - 5$ $45 - 7$

$38 - 6$ $46 + 8$ $62 - 50$ $14 + 70$

9. 70 连续减 7, 每次减得的差写在横线上。

70 63

10.

