




儿童数学游戏

ER TONG SHU XUE YOU XI

少年儿童出版社

答案





马	兔	羊
羊	马	兔
兔	羊	马

2	9	4
7	5	3
6	1	8

$$7+4=11$$

$$11+1=12$$



儿童数学游戏(低)

倪水清 邹明耀编 庄俊豪画

少年儿童出版社出版

(上海延安西路1538号)

总发行所上海发行所发行 上海市印刷二厂印刷

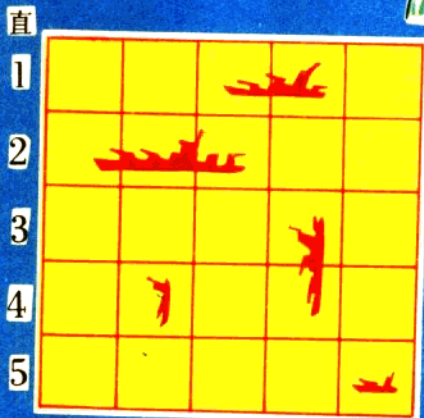
开本 787×1092 1/40 印张 1/2

1981年12月第1版 1981年12月第1次印刷

印数: 1-310,000


统一书号: R10024·3840 定价: 0.14元

海战游戏



横 1 2 3 4 5

- 材料：①方格图（见图）
 ②战舰各5艘（两种不同颜色）
 ③战舰规格：
 巡洋舰1艘（占三个小方格）
 驱逐舰2艘（占二个小方格）
 炮舰2艘（占一个小方格）
 游戏人数：3人（2人游戏，1人作裁判。3人可轮换）。



横 1 2 3 4 5

规则：①甲乙双方各把舰只任意放在自己的方格图内，不让对方知道。

②游戏开始，由甲、乙两方轮流炮击一次（呼喊炮击对方的位置，如：横三直五）。如某一方军舰被击，必须报告被击中的是什么舰，另一方可连续炮击一次。

③当某方舰只全部被击中，则另一方获胜。


④裁判进行监督。

数数看，
这里有几个圆？





请想一想，
这里有几个三角
形？







在五角星中，
有几个大三角形？
几个小三角形？




在正方形中，
有几个大三角形？
几个小三角形？



请你看一看，
数一数，在左面图
形中，有几个正方
形？





找一找，
这张图中有几
对形状相同的
图形？

想想看，有几只青蛙
从岸上跳到池塘里？







小猴、小兔、小熊比赛射击。数一数
它们各射中几环？谁的成绩最好？




把这几个图形对折，
使两半图形完全一样。
想一想，怎样折？







你能用上面4个三角形（橘黄色），拼成下面的图形吗？



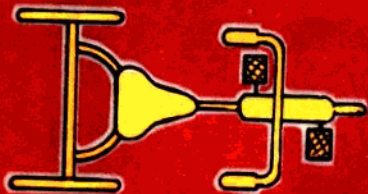



用左面的图形，
拼成下面的正方形，
最少用几个(同样大
小)，才能拼得起来？










数一数，这堆积木有几块？





这些是什么东西？请你说说看。



小明用飞机给22块农田洒农药，既不能漏洒，飞行路线也不能重复。符合上面要求的路线有6条。你能找出来吗？（答案在封底）



这五个图形中，都有一个黑点，从黑点画起，你能一笔把这些图形画成吗？
(答案在封底)



这间小房子朝哪个方向？你如果移动一根火柴，就可使房子的方向改变，想一想，移动哪一根火柴？
(答案在封底)



红红、黄黄、蓝蓝三个小朋友排队，可以排成6种不同的队形。请你帮他们排一排。