

经广东省中小学教材审查委员会审查批准

广州市初中地理乡土教材

广州地理

广州市教育局教学研究室 编

广东省地图出版社

粤教材准 E200025



责任编辑：王建军
封面设计：罗盘工作室·邹战文
内文设计：邹战文 六德理实

广州地理

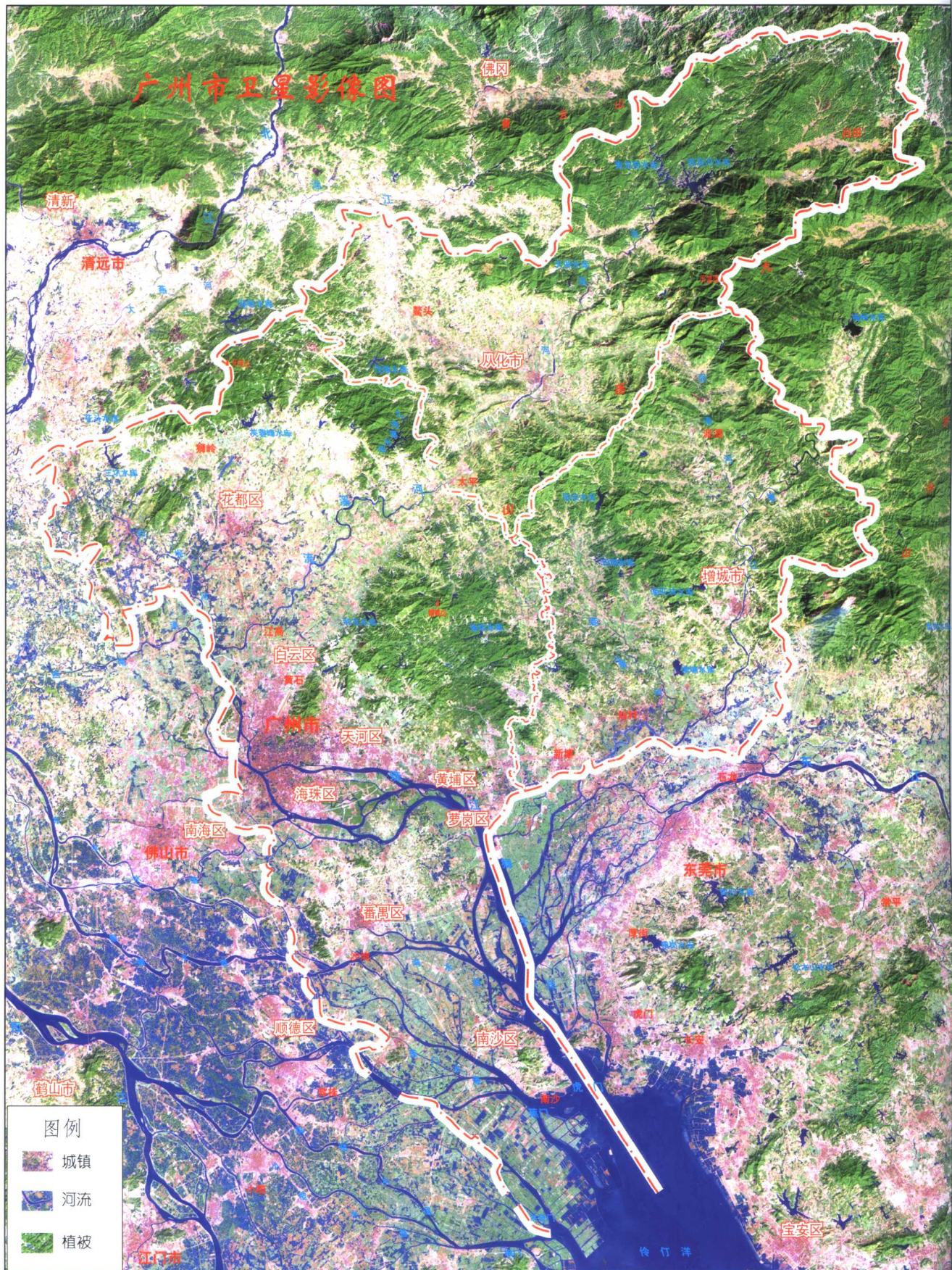
编制：广州市教育局教学研究室
出版：广东省地图出版社
社址：环市东路468号
发行：广州市新华书店
印刷：佛山市浩文彩色印刷有限公司
开本：787x1092 1/16
印张：3.5
版次：2003年4月第1版 2005年8月第4次印刷
书号：ISBN 7-80522-847-7/K·1061
定价：5.50元

ISBN 7-80522-847-7



9 787805 228471 >





说 明

全日制义务教育《地理课程标准》(实验稿)提出:要“努力创设一种以区域地理和乡土地理作为学习载体的地理课程”;把“乡土地理”作为“地理课程”四大部分内容之一,并规定“乡土地理是必学内容”;同时,“乡土地理教材的编写应纳入地方课程开发的计划中,并切实加以落实”。

根据国家新一轮课程改革要求,依据全日制义务教育《地理课程标准》(实验稿)中的指导思想和要求,对乡土教材《广州地理》进行第五次改编,供广州市初中二年级学生全年使用。


乡土地理教学提倡把乡土地理作为综合性学习的载体。学生可以通过收集身边的资料,运用掌握的地理知识和技能,进行以环境与发展问题为中心的探究性实践活动。

本书由李实主编,参加编写的还有许少星、潘玉贞,全书由李实统稿,麦曦、郑粤飞审订。地图由广东省地图出版社编绘,广州市人民政府新闻处、名城办、市统计局、市规划局、市工业经济信息中心、大洋网等提供了资料,广州市中学地理教研会初中中心组老师也提供了资料和宝贵意见,书中图片由薛龄葵、邹卫、王华、邹战文等提供,在此一并致谢。

广州市教育局教学研究室

目 录

| | |
|---------------------|----|
| 广州——祖国的南大门 | 2 |
| 第一课 云山珠水 地理变迁 | 5 |
| 第二课 人口千万 超大城市 | 12 |
| 第三课 经济中心 活力之都 | 18 |
| 第四课 交通枢纽 四通八达 | 26 |
| 第五课 花园城市 绿色家园 | 32 |
| 第六课 岭南风情 名城魅力 | 39 |
| 广州市各区(县级市)地图 | 48 |



广州——祖国的南大门

广州，一座被称为羊城、穗城、花城的城市，素有祖国南大门之称。一座环境生态化，乡村城市化，城市信息化，经济国际化的现代化城市——广州正在崛起。广州今天是华南的区域中心城市，明天将发展成为国际性区域中心城市。我们认识广州、了解广州就从这里开始。

广州在全国和广东省的地理位置



学习活动 广州在哪里？广州有多大？

■ 请你根据三幅图，说说广州的地理位置及其特点。

■ 你可以运用已学过的地理知识，从地形、气候、河流等自然地理因素方面说说广州地理位置的优越性。

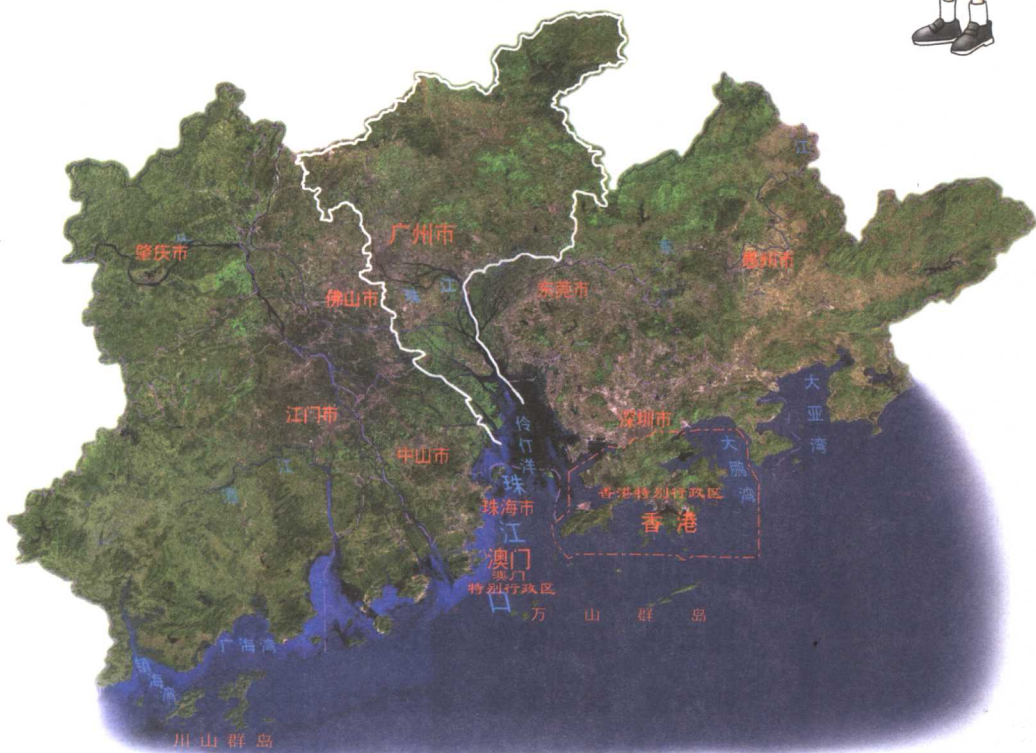
● 广州市卫星影像

广州市在珠江三角洲的地理位置

你会看卫星影像图吗？

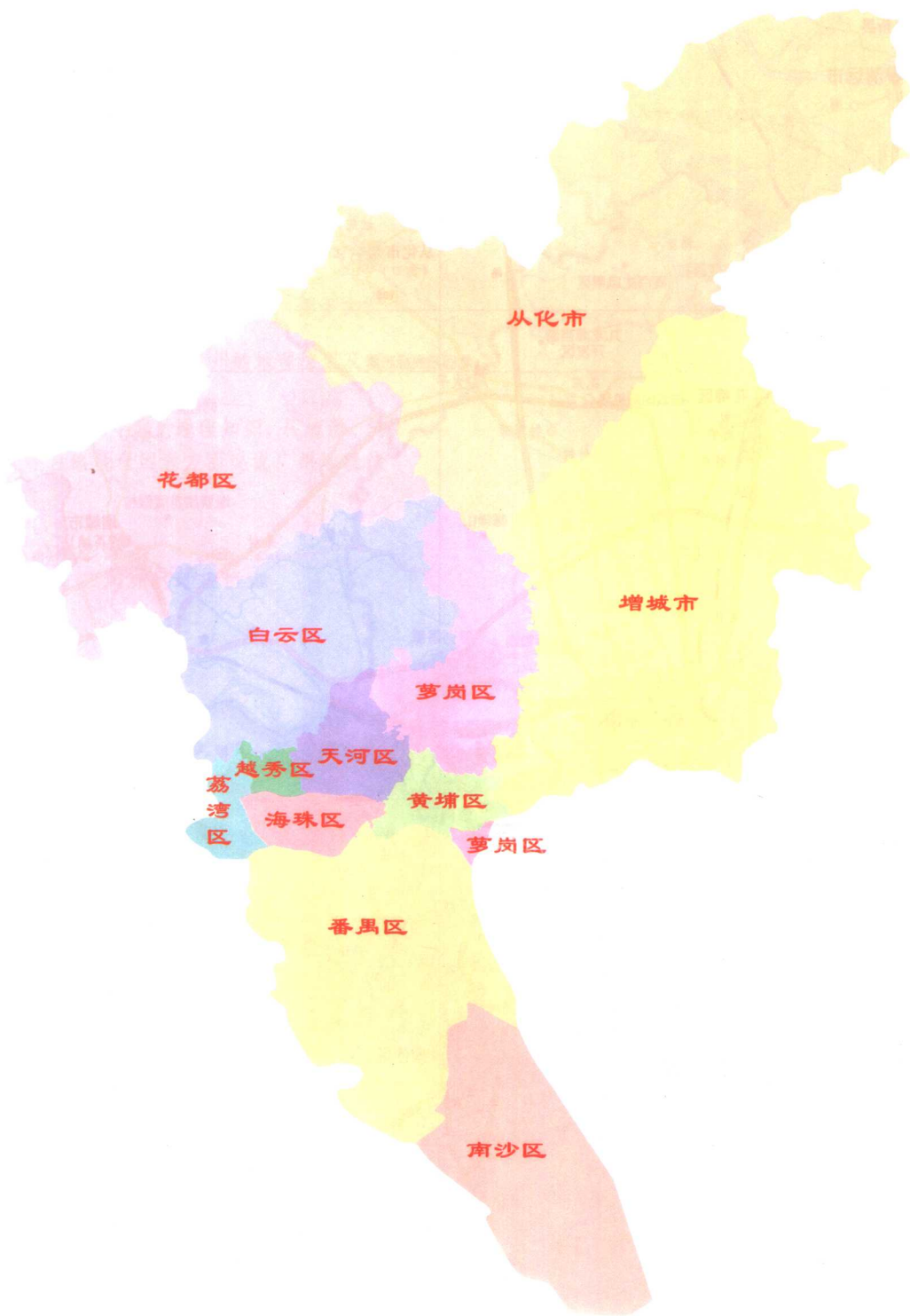


2





- 读《调整后广州市行政区划图》，说说广州市的行政区划。
- 广州市辖十个区是哪几个？两个县级市是叫什么？
- 算一算，番禺、花都撤市设区后，广州市区范围增加到多少？占全市面积的比例是多少？



第一课

云山珠水 地理变迁

广州是“山水城市”！广州的特色在于“云山珠水”、在于从九连山麓到南海之滨的“山城田海”，从“云山珠水”到“山城田海”的地理变迁，是多么巨大的变化！

你想知道“云山珠水”的山水城市起源吗？

广州人为什么把渡江叫“过海”？

你能找到广州地区海陆变迁的证据吗？

你会利用图文材料和历史档案，说明广州（家乡）主要地理事物的变迁及原因吗？

你一定很想了解广州的“山城田海”的“大山大海”格局吧！

寻找古代地理变迁

广州历史上就是典型的“山水城市”，“云山珠水”是广州最有代表性的自然景观。广州地处南亚热带季风气候地区，我们的先人懂得选择背靠北部山地，面向浩瀚南海这块好地方来建城。“背山”，可以阻挡凛冽北风；“面水”，可以渔舟其间，通四海贸易。由于地势较高，城池不受洪水、风暴潮等自然灾害的侵袭，这使广州拥有“云山珠水”这个得天独厚的自然地理优势。

信息窗 —— 广州海陆的变迁

古时候的广州，是一片浅海地区，经过数百万年的变迁，逐渐形成成为陆地。现在海珠区七星岗还有一处海浪侵蚀留下的遗址。这是五六千年前海浪拍击冲蚀而成的，说明这里曾经是惊涛拍岸的海边。如今海岸向南推移了约100千米，这是广州地区海陆变迁历经沧桑的证据。



学习活动

查阅以前的乡土地图和资料，你能找到广州（家乡）海陆变迁的证据吗？

如果你能到实地考察，请亲自拍两张照片回来（其中一张要有自己在一旁，以资佐证）。

闻名世界的古海岸遗址——七星岗海蚀遗迹

七星岗海蚀遗迹的主体是一块数米高的沙岩。数千年前，正是全球气候温暖的时期，南海海面之高，一直可以延伸到今天的海珠区，这块石头正好位于海岸地带，由于受海浪长期冲击、旋卷和回流的侵蚀，逐渐形成了地质概念上的海蚀崖、海蚀洞和海蚀平台。如今，随着海岸线南移一百多千米，它已成为广州沧桑变化的印证，也成为海平面随气候冷暖而升降的有力证据。

印证了广州古海岸线变迁历史！

想当年，广州惊涛骇浪！



七星岗海蚀遗迹

我发现了！



秦代以前芳村一带曾是一片古海！

海珠区七星岗古海岸遗址。

番禺区莲花山地区古海蚀地貌。

新塘石巷有蚀洞遗址，证明是古代海岸所在。

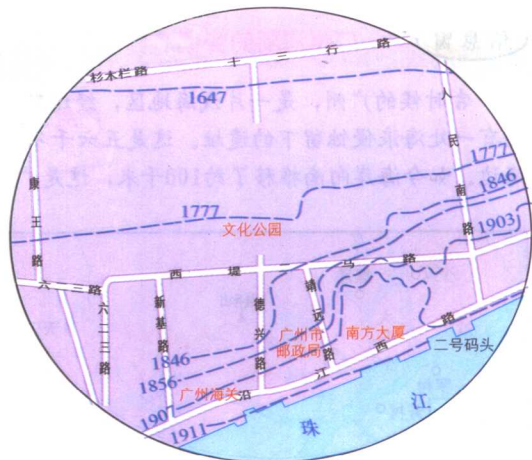
在你们家乡能找到证据吗？



信息窗

——广州珠江岸线的变迁

据考证，珠江在秦汉以前，江面宽阔，现在的城区大部分原是珠江河床。秦代，如今的光孝寺、中山四路已是江边。清代，北岸在十三行——新河浦一线，南岸移至南华路，河宽缩至500米。1907年，江岸到达今南方大厦西堤。直到今天珠江河面市区段宽仅有180米，最窄处在西濠口，宽约120米。这都说明珠江水面在古代曾经比较宽阔，所以有“小海”之称。现在广州人还习惯把渡江叫“过海”，一些地名和建筑物也带上“海”字，比如“靖海路”、“镇海楼”等。



明末—清初珠江河岸变迁示意图

学习活动

■ 找一找广州（自己的家乡）还有哪些地名和建筑物也带上“海”字的？说说你是怎样去“考证”的？

远在七八千年前，广州只是一个小渔村。自然山水与人文聚落相拥相生，在云山珠水孕育下繁衍发展，经历了从渔村到都会、港城、现代都市的变迁。广州最早建城是秦代（公元前214年），称为“番禺城”，西汉扩建成“越城”，还是当时全国十大都会之一。两千多年来，广州城址就在这古城旧址上逐步扩大发展。

信息窗 ——广州城址的变迁

广州最早建城应是秦代（公元前214年），称为“番禺城”，西汉扩建成“越城”。唐宋时，广州是中国南方最大的商业、手工业和外贸中心，是世界著名的商港。后经多次扩展，城市规模逐渐扩大。明代，广州成为中国最大对外通商口岸，广州城垣又一次扩大。清代南扩至珠江边，至今西关。至此，广州旧城区基本格局初步形成。明清时广州已初具大城市的规模了。

广东省城图（1890年）一用近代西洋测绘原理绘制的广州古城图。

请你进入越秀区档案局网址 <http://dangan.yuexiu.gov.cn> 浏览这幅广州古城图



广州城址历史变迁图

这是国家图书馆保存的最早的(1890年)广州古城图



学习活动

1. 仔细观察这幅百年前的广州地图！看看清代广州的城建规模、功能布局、地理风貌、军政要地等。

■ 古城图中清晰地显示广州城范围，它大约有90% 在今天的哪个辖区范围？这说明了什么？

■ 你发现古城图中绘制的珠江河道和今天的珠江河道有什么不同？这说明了什么？

■ 在古城图上标示的古迹、遗址，请将广州古城旧貌与现在的广州实际范围相对照，细说广州城变迁之处。

2. 从北京路路名的变迁，你想到了什么？“千年古道”的发现，又说明了什么？



信息窗

北京路原来叫“永清门”，辛亥革命后改名为“永汉路”，后又易名“汉民路”。广州解放后恢复原名“永汉路”。“文革”期间易名“北京路”并沿用至今。2002年9月在北京路改造中发现了不同朝代十一层路面的街道遗址，这“千年古道”的发现，证明了北京路千年以来就是广州市中心的一条大街。

■ 见证今日广州巨变

解放后50年，广州加速向现代化都市发展。广州的建成区1991年为187.4平方千米，1993年扩大到206.6平方千米，1996年达到261.8平方千米，1997年则为267平方千米，2001年广州建成区面积超过350平方千米。

改革开放以来，广州经济的发展令人瞩目，广州已成为中国最富活力的中心城市之一，广州城市建设也走上了高速发展的快车道。广州在过去几年城市建设过程当中迅速地改变了城市环境，广州这座古老的城市焕发出迷人的光彩，全世界更加关注像广州这样1000多万人口的大城市发展。

学习活动

■ 我们都来说说广州（家乡）在“一年一小变”、“三年一中变”中城乡面貌的变化。（每人都收集有关自然景观、城市景观、园林绿化、交通环境等图片和资料，让大家共同分享）

羊城上下话变迁！
人们赞语说：

街区绿了！
楼房高了！
交通畅了！
广州美起来了！



广州大了！
广州美了！
云山艳了！
珠水秀了！
广州的天蓝了！



■ 山城田海大广州 —— 城市发展格局

广州北依白云山，南临珠江。

“云山珠水”是广州两千多年发展长盛不衰的地理基底，它也提供了富有岭南特色的舒适的城市生活环境。但由于白云山和珠江的限制，城市只能沿珠江向东延伸。这就适应不了社会经济的快速增长与建设“大广州”的城市化要求。

根据自然地理特征，广州市自北向南形成了山、城、田、海四个层次的区域（地域类型）。因此，按照“适宜创业发展、适宜居住生活的山水型生态城市”的目标，要将广州由过去传统的“云山珠水”的“小山小水”自然格局跃升为具有“山、城、田、海”特色的“大山大海”格局。

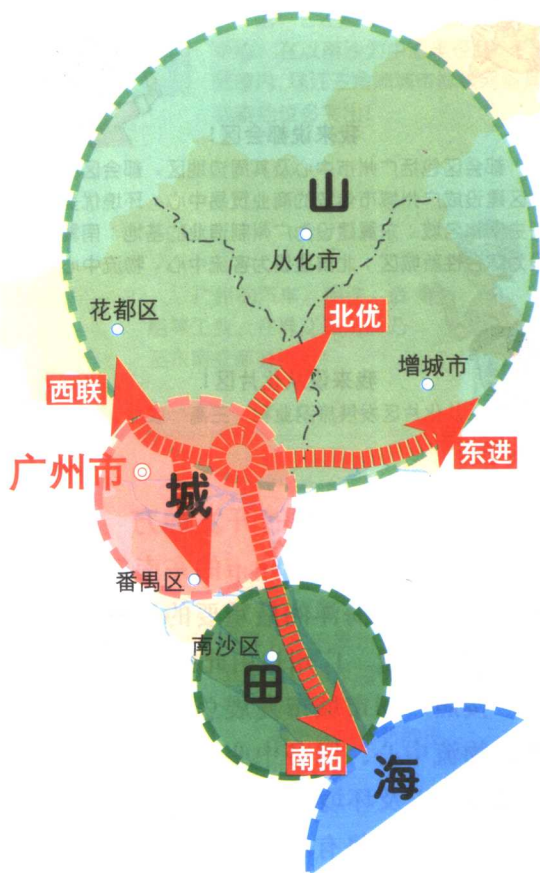


“山、城、田、海”特色是什么？

我知道！就是——青山、名城、良田、碧海。



我更清楚！就是——北部是山林地区；中部是平原城市化地区；东南部是农田水网地区；还有珠江口外海域地区！



广州山城田海大格局示意图

学习活动

请你通过上网或到图书馆、档案馆查阅和收集有关资料，编写一期专题墙报或手抄报。

- 以“从‘云山珠水’到‘山城田海’的地理变迁”为题，展现广州的地理变迁。
- 以“山水中的城市，城市中的山水”为题，描述未来广州的模样。

——区域发展方向

为了合理规划利用城市土地，未来广州将区域划分为五个片区，即都会区、花都片区、从化片区、增城片区和南沙片区。

广州片区划分示意图



学习活动

■ 请同学们讨论：广州市的五个片区的发展方向为什么各有不同？它们各有什么优势和条件？



我来说花都片区！

花都片区高新技术产业及服务业。



我来说都会区！

都会区包括广州市中心及其周边地区。都会区的旧城区建设成广州城市传统的商业贸易中心、环境优美的历史文化名城；东翼建设为广州制造业的基地；南翼建设为综合性新城区；北翼建设为客流中心、物流中心。



我来说南沙片区！

南沙片区主要发展深水港、临港产业和高科技工业、资金密集型对外加工业，协调发展商业、旅游业和转口贸易业。



我来说从化片区！

从化片区发展旅游业和“三高”农业。



我来说增城片区！

增城片区北部主要发展外向型加工业，南部主要发展“三高”农业和生态旅游。

——广州目前最好的开发地方

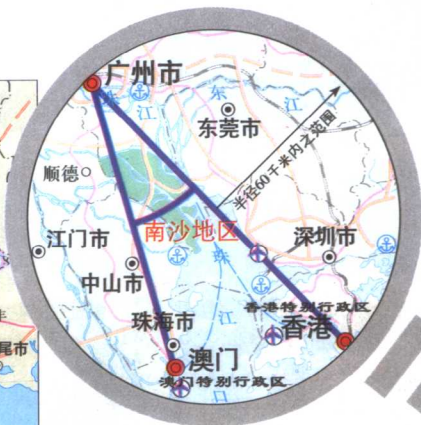
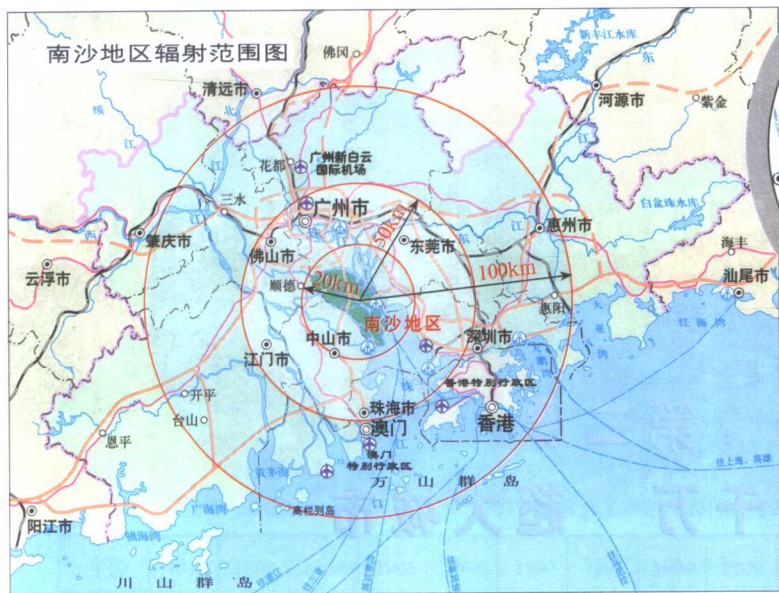
南沙地区位于广州市的东南部，地处珠江出海口，是广州面向海洋的前沿，它既是珠江通向海洋的最重要的通道，又是联结珠江口两岸城市群的重要通道，地理位置非常优越。广州也由此真正变成一个滨海城市。

按照广州市城市发展总体规划，南沙将发展成为珠江三角洲地区的交通枢纽、物流中心、服务中心，临港产业、重化产业和资讯科技产业为一体的现代化产业基地，以及环境优美、基础配套设施完善齐全的现代化滨海城市。

南沙开发将有利于优化城市空间布局；有利于形成广州未来发展新的经济增长点；有利于加强粤、港、澳的相互联系与合作，共同发展经济，全面提升珠江三角洲区域的国际竞争力。

学习活动

- 1、找出珠江三角洲的地理几何中心在哪里？这是什么地方？
- 2、南沙地区为什么是广州目前最好的开发地方？开发南沙将有什么意义？
- 3、请说说南沙地区发展石化、钢铁、造船等临港工业有什么有利条件？



看!这不就是南沙地区!南沙地区恰好位于由广州-香港-澳门在空间上形成的“A”字型结构支撑位置。区位优势多明显!

哦!它还是珠江三角洲的地理几何中心,在以南沙为中心半径100千米的范围内,珠江三角洲城市群被网络其中,战略地位多突出!

宽广的陆域及濒临珠江出海口、临港、临海的区位优势 and 良好岸线资源条件多好啊!



笔记本

这一课我学会了一一

广州的汽车、钢铁、造船等工业,在珠江三角洲乃至东南亚都有优势!



我知道:广州本田汽车、广钢集团、广船集团、广州重型机器厂将纷纷落户南沙!

好一块广州新的投资热土!

发展性学习活动

以“考察家乡的地理变迁”为主题内容,开展以下适合当地的一些活动。

- 考察活动:从“云山珠水”到“山城田海”的地理变迁。
- 探究:“云山珠水”的山水城市起源。
- 探究:广州城址历史变迁。
- ★ 两千年来,广州城址中心一直不变的社会、经济和地理因素的分析。

去考察!
去探究!
——看家乡变化





第二课

人口千万 超大城市

今天广州已成为我国第五个人口超过千万的超大城市。勤奋上进的广州人创造着巨大的社会财富，创造着广州今天的繁荣，同时和世界其他大城市一样，也出现了不同程度的人口问题……

你会查阅、收集家乡人口多年的统计数据、资料吗？

你会绘制各种人口统计图表吗？

你会利用图文材料和历史档案，说明家乡人口的变化及原因吗？

你了解流动人口对广州城市发展所作的贡献和带来的城市问题吗？

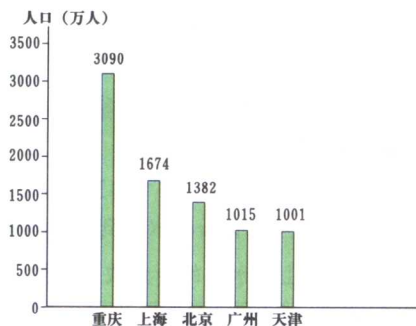
■ 广州人口的发展

广州是我国历史悠久、人口众多的大城市。1843年广州人口为70万人，1932年为112万人，仅次于上海、北京、天津为中国第四大城市。1948年人口增至141万人，1949年为142.76万人。105年间翻了一番。据2000年第五次人口普查统计：广州常住人口已达994万人，其中，户籍人口700多万，另有290多万流动人口。到2001年底，广州人口达1015万，成为人口达千万规模的超大城市。

信息窗 广州人口跨入超大城市行列

广州常住人口在2001年底达 1015 万人，成为中国继重庆、上海、北京和天津之后第五个千万人口规模的城市。

这表明广州市人口规模正在向超大城市迈进。广州市总人口大幅度增加，是市实施改革开放政策，社会经济快速发展，吸引了大量的外来人口来穗务工经商的结果，显示出广州中心城市地位和作用。



五大城市人口数（2001年）

信息窗 人口普查

人口普查是各国政府各个时期获取人口资料、掌握国情国力的一种最基本的调查方法。我国是世界上进行人口统计最早的国家之一，同时也是在世界历史悠久的国家中，惟一有长期不间断人口资料记录的国家。新中国成立后，先后于1953、1964、1982、1990、2000年进行了五次全国人口普查，为推动我国的现代化建设和经济发展发挥了重要作用。

材料一：广州市五次人口普查统计数据

| 项目 | 第一次 | 第二次 | 第三次 | 第四次 | 第五次 |
|---------|------|------|------|------|------|
| 年份 | 1953 | 1964 | 1982 | 1990 | 2000 |
| 总人口(万人) | 285 | 388 | 519 | 630 | 994 |
| 总户数(万户) | 71 | 88 | 121 | 154 | 237 |

你会看下面两份表格中的材料吗？

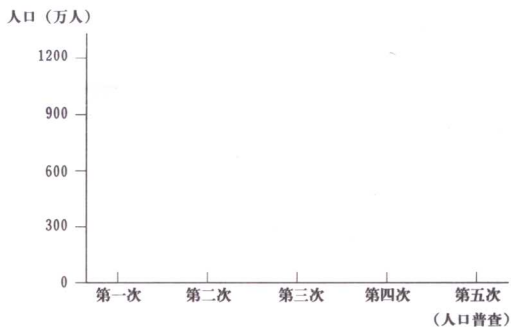
材料二：广州市人口统计数据(1992—)

| 年份 | 1992 | 1993 | 1994 | 1995 | 1996 | 1997 | 1998 | 1999 | 2000 | 2001 | 2002 | 2003 | 2004 | 2005 |
|----------|-------|-------|-------|-------|-------|-------|-------|-------|-------|-------|------|------|------|------|
| 常住人口(万人) | 758 | 794 | 764 | 781 | 827 | 836 | 849 | 867 | 994 | 1033 | | | | |
| 户籍人口(万人) | 612 | 624 | 637 | 647 | 656 | 666 | 674 | 685 | 701 | 713 | | | | |
| 流动人口(万人) | 146 | 170 | 127 | 134 | 171 | 170 | 175 | 182 | 293 | 320 | | | | |
| 出生率‰ | 13.11 | 13.35 | 12.47 | 11.82 | 12.03 | 11.37 | 10.8 | 10.86 | 9.97 | 9.10 | | | | |
| 自然增长率‰ | 7.58 | 7.75 | 7.18 | 6.25 | 6.32 | 5.97 | 5.36 | 5.61 | 4.58 | 3.94 | | | | |
| 净迁入人数(人) | 43707 | 51305 | 81432 | 53981 | 57599 | 56761 | 46442 | 58340 | 70305 | 93169 | | | | |

学习活动

1、说说“材料一”、“材料二”是些什么数据？然后尝试根据这些数据完成下列要求。

- ◆ 你会把“材料一”中数据画成为柱状统计图吗？
- ◆ 用哪组数据能较好地反映广州人口增长的情况呢？



你来说说：总人口、户籍人口是怎样变化的？

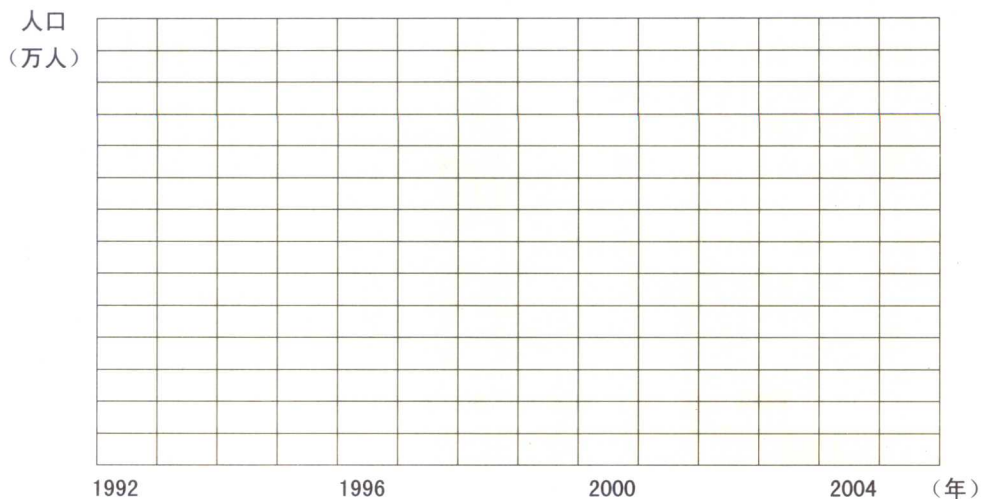


你也来说说：人口出生率、自然增长率又是怎样变化的？



大家都来说说：这两种变化有什么不同？这又说明什么问题呢？

◆ 首先在“材料二”中填上广州市人口最新统计数据，然后选取材料二的其中一些数据，绘成统计图，并作简要述评。



■ 广州的人口分布

由于广州经济的快速增长，城市化迅速发展，大批农业人口转向新的行业、成为新的城市人口，增加了市区人口密集程度。越秀、荔湾、东山等区人口密度比较高；天河区人口增长最快；海珠区人口增长也很快，但面积大，人口密度相对较小。

随着城市整体规划的实施，人口密度变化较大，老城区人口向周边转移。越秀区、荔湾区人口密度持续下降，其他区（县级市）随着人口规模的变化，人口密度也相应变化。总的来说，市中心区人口稠密度有所降低，全市人口分布逐步趋向合理。

材料三：广州市第四、第五次人口普查主要数据

| 地区 | 第四次人口普查(1990年) | | | 第五次人口普查(2000年) | | |
|-----|----------------|-------|-------|----------------|-------|--------|
| | 总人口 | 人口密度 | 增长率 | 总人口 | 人口密度 | 增长率 |
| 全市 | 630 | 847 | 2.44 | 994 | 1337 | 57.83 |
| 东山区 | 55 | 31694 | 3.07 | 56 | 32341 | 2.04 |
| 荔湾区 | 55 | 46999 | 0.23 | 48 | 40240 | -14.38 |
| 越秀区 | 44 | 49586 | -1.32 | 34 | 38362 | -22.64 |
| 海珠区 | 78 | 8592 | 3.63 | 124 | 13687 | 59.30 |
| 天河区 | 43 | 3045 | 8.18 | 111 | 10243 | 157.89 |
| 芳村区 | 17 | 3939 | 3.51 | 32 | 7600 | 92.94 |
| 白云区 | 83 | 824 | 3.84 | 175 | 1677 | 111.14 |
| 黄埔区 | 19 | 1572 | 4.80 | 39 | 3200 | 103.19 |
| 番禺区 | 79 | 598 | 2.00 | 163 | 1242 | 107.68 |
| 花都区 | 51 | 532 | 2.15 | 71 | 742 | 39.58 |
| 增城市 | 65 | 371 | 1.60 | 90 | 517 | 39.38 |
| 从化市 | 42 | 214 | 1.50 | 52 | 262 | 22.24 |

注1、各指标单位：

总人口：万人；

人口密度：人/平方千米；

增长率：‰

注2、1990年增长率是与1982年的比较数据；2000年增长率是与1990年的比较数据