



# 暑假作业

(全日制六年制小学)

三年级\_\_\_\_\_班 姓名\_\_\_\_\_

一、下面是党的十二大提到的部分数字，请你写出来。

(1) 据一九八一年底统计，全国有党员 三千九百六十五万七千二百一十二人，其中预备党员 一百零四万三千八百三十一人。

① \_\_\_\_\_ ② \_\_\_\_\_

(2) 我国经济建设总的奋斗目标是，……力争使全国工农业的年总产值翻两番，即由一九八〇年的 七千一百亿元 增加到二〇〇〇年的 二万八千亿元 左右。

① \_\_\_\_\_ ② \_\_\_\_\_

(3) 到本世纪末，必须力争把我国人口控制在 十二亿 以内。

二、计算。

$$56824 + 7684 =$$

$$27939 + 18095 =$$

$$168010 - 89960 =$$

$$201410 - 7520 =$$

$$136 \times 74 =$$

$$837 \times 58 =$$

$$8.7 \times 9 =$$

$$56.78 \times 2 =$$

三、应用题。

(1) 前进食品商店运来红果87斤，运来的柿子是红果的16倍，运来柿子多少斤？

(2) 学校原有煤1200斤，又运来3汽车，每车装煤5000斤，现在学校共有煤多少斤？

四、想一想，填写下面的数。

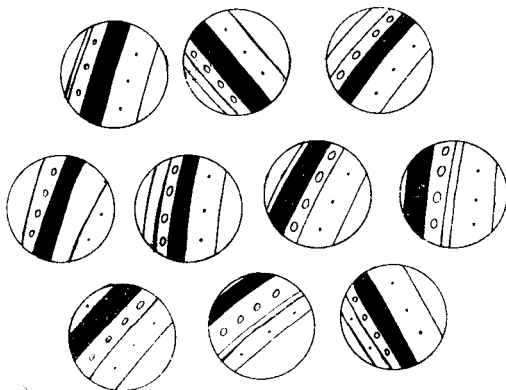
(1) 把0、0、4、4、0、4这六个数字组成两个六位数。一个六位数0都不读，这个数是 \_\_\_\_\_。

另一个六位数有两个0要读出来，这个数是 \_\_\_\_\_。

(2) 三个0、四个1组成的最小七位数是 \_\_\_\_\_。

试试你的观察能力

你能在一分钟内，找出哪两只球是一样的？





一、写下面的字，注意字的结构部位，不要写得太宽太长。

轰	晕	逞	豪	魄	凛	冽


二、带感情地朗读《黄继光》一课，并用几句话写出下面图的意思。



读绕口令

看谁读得又快又好  
 小龙和小勇学游泳，  
 小龙学会了游泳，  
 小勇还没学会游泳。  
 小龙教小勇游泳，  
 小勇决心学会游泳。  
 小龙和小勇一起游泳，  
 小勇也学会了游泳。

在下面图中带点的格里，涂上同样的颜色，看看是什么动物。



三、写出属于下面三类的词语。

qín  
 家禽：\_\_\_\_\_

树木：\_\_\_\_\_

家用电器：\_\_\_\_\_

### 一、计算。

$353920 + 179580 \quad 50005 - 1907 \quad 3842 \times 97 \quad 8.35 \div 5$

$3.04 \times 7 \quad 9.32 + 0.68 \quad 14.08 \div 8 \quad 8.25 - 0.24$

### 二、写出下面各数。

(1) 4800000000公里 = 亿公里

(2) 5080000吨 = 万吨

(3) 1234567890  $\approx$  万

(4) 9876543210  $\approx$  亿

### 三、写写算算。

(1) 有一个七位数，各位上的数字都是8。要使它变成各位上的数字都是7的八位数，要加上多少？

(2) 有一个五位数25763，在2的前面添上数字“1”以后，原来的数比它少多少？

## 数学儿歌

#### 1. 卖菜

老翁卖菜挑进城，  
萝卜、白菜共百斤。  
萝卜每斤价半角，  
一斤白菜收3分。  
卖完点钱三元五，  
萝卜、白菜各几斤？

#### 2. 分钱

三人野游到郊外，  
早餐甲买5个菜，  
午餐4菜归乙买，  
平吃平摊理应该。  
9个菜价是一样，  
丙在心中算起来。  
他出九角就离去，  
甲、乙二人怎分开？



在( )里填上算式中的图形所代表的数。

例： $\square \times \triangle = 57$        $\square = 3$        $\triangle = ( \quad )$

因为  $\square = 3$       那么  $3 \times \triangle = 57$

$\triangle = 57 \div 3 = 19$       所以  $\triangle = 19$

(1)  $\triangle + \bigcirc = 16$        $\bigcirc = \triangle + \triangle + \triangle$        $\triangle = ( \quad )$

(2)  $\triangle + \triangle + 4 = \triangle + 7$        $\triangle = ( \quad )$

(3)  $\bigcirc + \bigcirc = \triangle + \triangle + \triangle$        $\bigcirc = 9$        $\triangle = ( \quad )$





写大仿一张

一、读一读，按顺序写出小写字母。

A B C D E F G H I

J K L M N O P Q R

S T U V W X Y Z



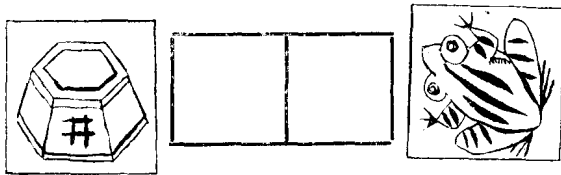
二、在下面的括号里，填上合适的量词。

一( )山      一( )河  
 一( )西瓜    一( )苹果  
 一( )布       一( )信  
 一( )花       一( )树  
 一( )队伍    一( )房屋

四、比一比，再组成词语写下来。

瞄( )      砰( )  
 描( )      评( )  
 痛( )      胞( )  
 疼( )      泡( )  
 踊( )      稍( )  
 涌( )      消( )  
 诊( )      载( )  
 珍( )      戴( )

三、下面每个图代表一个字，请你填上两个字，组成一句成语。



五、照例子给下面的句子加个词语，让句子表达得更具体。

例：雨下个不停。

倾盆大雨下个不停。

(1) 花开得那么鲜艳。

( )花开得那么鲜艳。

(2) 老前辈的作风值得我们学习。

老前辈( )的作风值得我们学习。

(3) 我们听老师讲故事。

我们( )听老师讲故事。

### 一、口算。

$4673 + 5327$

$10000 - 5555$

$4875 + 125$

$1234 + 4321$

$3456 - 856$

$3800 + 200$

$5400 + 600$

$280 + 120 - 100$

$500 + 500 - 500$

$67 + 44 + 33 + 55$

$1840 - 800 - 40$

$45 + (155 + 178)$

$300 - 296 - 4$

$185 - 0 - 175$

$1275 - (167 + 275)$

### 二、计算，并用珠算验算。

$36287 + 8130$

$2100120 - 908089$

$805028 + 400304 + 800095$

### 三、在( )里填上适当的数。

$$\begin{array}{r} 3( )5( ) \\ + ( )5( )9 \\ \hline 11027 \end{array} \quad \begin{array}{r} ( )5( )2( ) \\ + 4( )6( )9 \\ \hline 123010 \end{array}$$

### 四、列式计算。

(1) 214增加到360，增加了多少？

(2) 比96少34的数是多少？

### 五、应用题。

(1) 小华买了10支铅笔，小明买了6支铅笔。小华比小明多付1角2分钱。1支铅笔多少钱？小华和小明各付了多少钱？

(2) 供销社运来酱油850瓶，第一天卖出270瓶，第二天卖出135瓶，第三天卖出的瓶数和前两天同样多。第三天卖出多少瓶？供销社还有酱油多少瓶？

### 按规律填数

下面各题的数字是按一定规律排列出来的。请你找出它们的规律，确定一个适合的数填在后面的横线上。

例：10、8、11、9、12、10。

排列规律是：

10、8、11、9、12、10、13。

(1) 2、4、6、8、10、12、\_\_。

(2) 5、9、10、14、15、19、20、\_\_。

(3) 2、4、\_\_、16、32、64、\_\_。





一、搭配下面的词语。

研究	飞行	冰凉的	江水
激烈	温和	凛冽的	雨水
安全	药物	滚滚的	寒风
性情	战斗	泥土的	清香

二、朗读《保卫黄河》这篇课文，并把它背诵、默写下来。

保 卫 黄 河

Handwriting practice lines for the text '保卫黄河'.

三、读拼音写汉字

wèi le zǎo rì

shí xiǎn dì liù

gè wǔ nián jì

huà, wǒ men yīng

dāng kè kǔ xué xí。

看看下面图中有几个人的模样?



一、计算。

$$\begin{array}{r} 840028 \\ 63875 \\ 6285 \\ + 7532 \\ \hline \end{array}$$

$$\begin{array}{r} 83232 \\ 8925 \\ 1935 \\ + 20878 \\ \hline \end{array}$$

$$\begin{array}{r} 774 \\ 306549 \\ 3456 \\ + 14830 \\ \hline \end{array}$$

$$\begin{array}{r} 1536 \\ 786 \\ 9543 \\ + 2947 \\ \hline \end{array}$$

请你准备一个算盘，在算盘上拨好

123456789以后，每次都往上加这个数。当你加到九次的时候，算盘上出现了什么数？再加九次呢？13个8547连加等于多少？7个15873连加等于多少？

二、在( )里填上适当的数。

$$\begin{array}{r} ( )4( )3( ) \\ + ( )526 \\ \hline 612( )4 \end{array}$$

$$\begin{array}{r} 3( )8( )2 \\ - ( )577( ) \\ \hline 5083 \end{array}$$

$$\begin{array}{r} ( )( )( ) \\ - ( )( )( ) \\ \hline 1 \end{array}$$

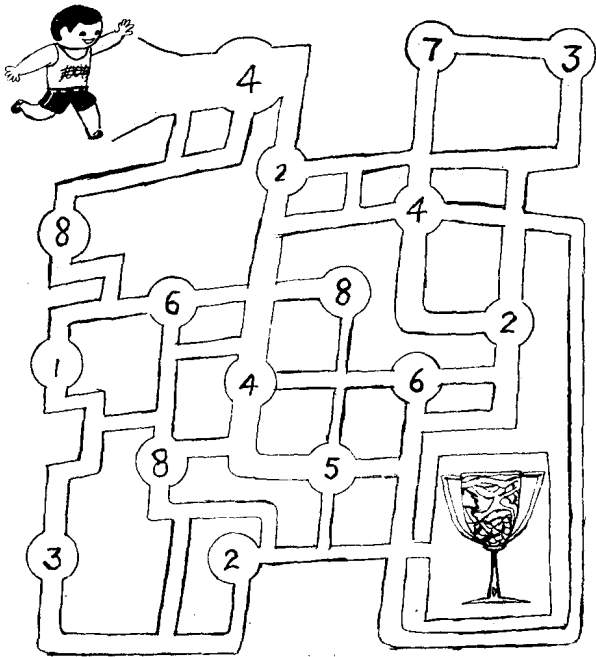
“砖有多重”答案：2公斤。

“牌子的下落”答案：  
第73号牌子落到小勤手里。因为，小勤得到的都是牌号除以4余1的牌子。

云相凶筋



从箭头走起，到达银杯处，所经数字的和必须是48，而又必须走过4个双数和4个单数。你能在十分钟内完成吗？







一、写出带有下面部首的字。

纟 \_\_\_\_\_

宀 \_\_\_\_\_

石 \_\_\_\_\_

厂 \_\_\_\_\_

二、下面每组词中，有一个词是不属于同一类的，请用线把它标出来。

(1) 菠菜 萝卜 辣椒 蔬菜

(2) 妈妈 亲人 哥哥 爸爸

(3) 苹果 葡萄 桔子 水果

(4) 运动 跑步 体操 跳高

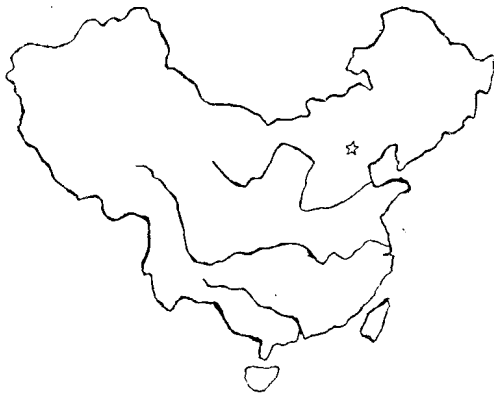
(5) 书桌 衣柜 家具 椅子

四、用下面的词语造句。

一面……一面…… \_\_\_\_\_

不但……还…… \_\_\_\_\_

三、在我国地图上，用红笔标明首都和三条大江的名称，以及济南和青岛的位置。



写大仿一张

五、读下面的儿歌，给带点的字注音。

跳 皮 筋

橡皮筋，脚上绕，

绕在脚上跳呀跳。

象小雁，象小鸟，

先跳低来后跳高。

跳过山，跳过海，

跳到祖国台湾岛。

见亲人，小同胞，

同跳皮筋同欢笑。

### 一、口算。

$$344 + 97 + 156 + 25 + 203$$

$$3684 + 674 + 6326 + 316$$

$$596 + 999 - 396$$

$$137 + 65 + 43$$

$$316 + (198 + 184)$$

$$7251 - 2009$$

$$1512 - 503$$

$$864 - 275 - 25$$

$$4052 - 1099$$

$$2672 - 1264 - 336$$

$$849 + 297$$

### 二、应用题。

(1) 某煤矿三个季度就完成了全年产煤2745万吨的任务。平均每个季度产煤多少万吨?平均每个月完成多少万吨?

(2) 从一九一九年五月四日到一九八三年五月四日,是多少年?

### 三、在○里填上适当的运算符号,在( )里填上适当的数。

$$(1) 378 + 397 = 378 + 400 \bigcirc ( \quad ) = ( \quad )$$

$$(2) 465 - 298 = 465 - 300 \bigcirc ( \quad ) = ( \quad )$$

$$(3) 867 - 354 - 246 = 867 - (354 \bigcirc 246) = ( \quad )$$

$$(4) 1007 + 8798 = 1007 + 8800 \bigcirc ( \quad ) = ( \quad )$$

$$(5) 2745 - 708 = 2745 - 700 \bigcirc 8 = ( \quad )$$

$$\begin{aligned} & 1 + 3 + 5 + 7 + 9 + 11 + 13 + 15 + 17 + 19 \\ &= (1 + 19) + (3 + 17) + (5 + 15) + (7 + 13) + (9 + 11) \\ &= 20 + 20 + 20 + 20 + 20 \\ &= 100 \end{aligned}$$

根据上面的计算方法,请你计算:

$$1 + 2 + 3 + 4 + \dots + 100 = ?$$

**算得快**




### 几名登山队员?

以下是一名登山队员接受记者采访时的对话:

记者:“你们有多少人成功地爬上最后那座高山?”

登山队员:“你自己算吧。两人在一人之前,一人在两人中间,我走得比他们快,回头一看,一人在两人之前。”



一、在下面空格里填上字，使它和左边或右边的字组成词。

没	
	设

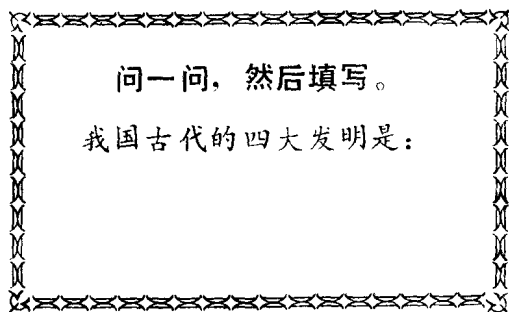
财	
	才

	睛
睛	

	防
仿	

良	
	浪

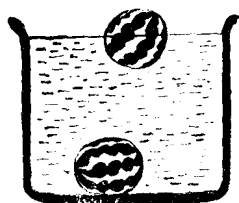
	求
救	



二、用下面的词造句。

试验：\_\_\_\_\_

证明：\_\_\_\_\_



这两个西瓜  
哪个生？哪  
个熟？

三、背诵下面的古诗。

惜 时①

三春花事好，②

为学须及早；③

花开有落时，

人生④容易老。

【注释】①惜时——珍惜时间。

②三春——春天。古时候，把春天的三个月按次序分别称为孟春、仲春、季春，合称三春。  
花事好——花儿盛开的情景是非常美好的。

③为学——求学。须——必须，应当。  
及早——赶早、趁早。

④人生——人的一生。

这首诗告诉我们：春天是鲜花盛开的时节，可是春天一过，花就要衰落了；人也一样，人的一生是很容易衰老的。如果我们小的时候不抓紧学习，长大了、衰老了，就学不好了。我们一定要趁青春年少、精力旺盛的时候刻苦学习。

### 一、列式计算。

- (1) 什么数加上60050, 得100200?
- (2) 甲数是786320, 比乙数少2958, 乙数是多少?
- (3) 579乘以39与421乘以39的和是多少?

### 二、应用题。

- (1) 一辆载重汽车每小时走26公里, 从甲地到乙地共用了7小时。甲乙两地相距多少公里?
- (2) 甲数除以乙数商得8。已知甲数比商多992, 问甲乙两数各是多少?

### 三、珠算。

在算盘上任意拨一个两位数(如87), 加上它的反序数(78), 然后将所得的和( $87 + 78 = 165$ )再加上和的反序数(561)……照这样进行, 若干次以后就会使它们的和成为一个对称数 $165 + 561 = 726$ ,  $726 + 627 = 1353$ ,  $1353 + 531 = 4884$ , 4884就是一个对称数。

请你拨几个数试一试。再拨上一个任意的三位数和四位数, 看看它们的对称数是多少?



### 四、计算。

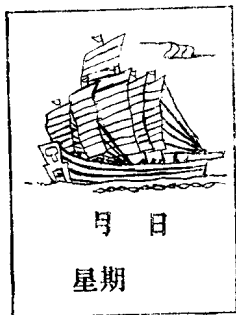
$$25 \div 5 \times 25 \div 5$$

$$25 \times 5 \div 5 \times 5$$

$$24300 \div 6 - 325 \times 11$$

$$54 \times 63 - 3168 \div 9$$





你知道吗？

### 地球是球体

四百多年前，航海家麦哲伦率领的一支船队，从西班牙出发，向西航行，经过三年时间，环绕地球一周，又回到了原来的地点。

这有力地证明了我们人类居住的大地，是一个球体。从这以后，才有了“地球”这个名字。

### 三、选词填空。

一、在下面的( )里，填上恰当的比喻词。

1. 党的十二大召开的喜讯，象( )一般吹遍全国。

2. 老师象( )一样，关怀着我们的成长。

3. 小英的脸红得象( )似的。

4. 战士们象( )一样，冲向敌人阵地。

自豪 骄傲

小勇( )地说：“我长大了要当一名飞行员。”

我们取得了成绩也不应当( )。

旺盛 茂盛

张老师精力真( )，一连讲了两节课也不疲倦。

爸爸培育的这盆花，长得真( )。

希望 愿望

我真想当一名排球运动员，我把这个( )告诉了爸爸、妈妈。

看了动画片《丁丁战猴王》，真( )再看一遍。

二、下面的字各写两遍，注意字的笔画。

酷	释	厲	狄	舐	裹

40页字谜答案：斗。

42页谜语答案：冰。

一、列竖式计算。

(1)  $374264 - 80904$

(2)  $5437 + 98764$

(3)  $92736 + 15375$





(4)  $111010 - 9999$

二、应用题。


(1) 动物中的高空飞行冠军是天鹅，它能飞到 9000 米的高空。珠穆朗玛峰高 8848 米，天鹅飞的高度比珠穆朗玛峰还高多少？

(2) 两个小队植树，第一小队植树 2450 棵，第二小队植的是第一小队的 2 倍。两个小队共植树多少棵？

三、看图列式计算。



哪个插头插在插座上电视机才会亮呢？





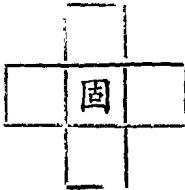
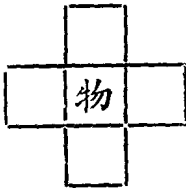
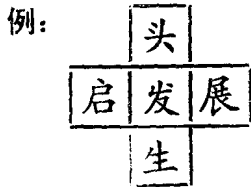


一、写出下列词的近义词。

请求 ( )	著名 ( )
可能 ( )	细心 ( )
光辉 ( )	资助 ( )
机警 ( )	兴奋 ( )

写大仿一张

二、在上、下、左、右填上字，使它们和中间的字都能组成词。




五岳

我国有五大名山，总起来叫“五岳”。五岳各有不少名胜，是有名的游览胜地。这五岳是：

东岳泰山	南岳衡山
西岳华山	北岳恒山
中岳嵩山	

下面图中，哪个小朋友高？



三、把下面排乱的句子，整理成一篇通顺的文章。

孙刚做好了五道，还有一道没有做出来。

上课时，老师让大家做六道数学题。杨明说：“你抄我的吧。”

孙刚认真地看了看书，想了想，就做出来了。

孙刚说：“不，我自己做。”

### 一、写得数。

(1) 根据  $384 + 287 = 671$ ，直接写出下面三道题的得数。

$$671 - 384$$

$$671 - 287$$

$$287 + 384$$

(2) 根据  $168010 - 89960 = 78050$ ，直接写出下面两道题的得数。

$$168010 - 78050$$

$$89960 + 78050$$

### 二、计算。

$$8450 - 94 \times 32$$

$$2010 - 103 \times 16$$

$$3248 + 152 + 105 \times 20$$

$$(875 + 425) \times 30$$

$$2004 \times (1005 - 908)$$

$$172 \times (504 \div 9)$$

### 三、应用题。

(1) 某工厂第二季度生产机床1385台，比第一季度少生产347台。第一季度生产多少台？两个季度一共生产多少台？

(2) 某学校9月份烧煤1.65吨，比10月份多烧0.48吨。10月份烧煤多少吨？

### 四、填空题。

加数	238		672	942	
加数		546	828		736
和	427	832		1543	853

### 锯大树

赵军是个机灵的孩子，可是他有个很大的毛病就是粗心，每次考试总得不了100分。

有一天吃过晚饭，爷爷把他叫到身边，给他出了道题：“一棵大树要锯成五截，锯一截需要12分钟，一共要多少分钟？”



赵军很快就说：“需要1小时，爷爷你说对吗？”

爷爷说：“不对！”

小朋友，你想想赵军错在哪里呢？

一、读下面的句子，找出错误，把正确的句子写出来。

1. 我们要爱护时间。

2. 他报名参加作文比赛，态度非常固执。

3. 春天公园里盛开着。

4. 我的数学作业都做了，只有一道题没做。

二、想一想，问一问，然后回答。

你出生的地方属于哪个省？哪个市(县)？省会在哪里？

你家附近的菜店，一年四季主要出售哪些蔬菜？其中哪些是本地生产的？哪些是外地运来的？

三、用下面的词语造句。

全神贯注：\_\_\_\_\_

征服：\_\_\_\_\_



月 日  
星期

四、带感情地朗读《你们想错了》一课，并抄写方志敏说的话。