



35810042

一测基础知识重点过关 **A卷**
二测综合与应用创新能力 **B卷**
挑战自我 尝试接触各类考试
压轴题与奥数题

单元双测


总主编 严 军
主 编 张 燕

同步达标活页试卷

含期中、期末专题复习与测试卷

九年级历史 **下**

本丛书特在“春雨教育网”
(www.cyjy.com)开设24小时名师
“解疑释难”讨论版，以全天候、人
性化的全面助学服务，关注各地中
小学生学习、复习、考试每一天。



中国少年儿童出版社

撰稿 朱艳秋 赵丽华 韩丽华 李亚书
董迪 刘秋 张燕

品牌为王 创新领先



编写说明

试卷和考试总是和学生形影相随。好的试卷不仅可以帮助学生巩固所学知识,对每课、每单元的考点与重、难、疑点成竹在胸,而且还可激发出浓郁的学习兴趣,并使学生获得挑战高分、志在必得的可贵信心。作为文教图书出版名社的中国少年儿童出版社与湖北黄冈、江苏启东、北京海淀的60余位名校一线特级教师联袂推出的《单元双测同步达标活页试卷》就是为实现这一目的而献给全国广大中小学生的又一精品助学、助考力作。

1. 与各年级单元(章)教学同步。A卷重在测试基础知识与重点过关,B卷着重测试综合能力与应用创新能力,系统测试卷旨在帮助学生专项突破,期中、期末试卷则全面仿真,可供城乡各类学校统一使用。不少综合创新题均分别逼近小升初、中考或高考压轴题与奥数题水平,引导学生挑战自我、夺取满分。

2. 所编选的题目充分体现《教学大纲》《课程标准》《考试说明》对学生素质能力发展的要求,直观体现各学科命题改革的趋势,展示教育发达地区教改的前沿性成果。

3. 每卷给出测试时间、各题分值,答案另附,便于各学校各班级统一使用,也可供家长检测或学生自测时使用。

4. 本丛书和吉林教育出版社驰名全国的名牌教辅《随堂金四导》配套使用,且特在“春雨教育网”(www.cyjy.com)开辟“名师在线”解疑释难互动讨论版,并将对在使用本书过程中发现差错的学生给予特别的奖励。

来函请寄:南京市鼓楼邮局172信箱马老师(210008)。咨询热线:025-68801800 68801900。

购书热线:025-68801777 68801778。欢迎集体订购,来电、来函,即寄资料。

正版特点 ① 内文17~32页为蓝色纸,其余为白纸。② 举报盗版,一经查实,即予重奖800-7188-168(反盗版热线)

哇!
只要7.80元



国标人教版

义务教育课程标准实验教科书最新配套试卷

单元双测同步达标活页试卷

九年级历史(下)

出版发行:中国少年儿童新闻出版总社
中国少年儿童出版社

出版人:海飞
执行出版人:赵恒峰

总主编:严军 主编:张燕
责任编辑:陈效师 美术编辑:周建明
责任校对:马婷 责任印务:栾永生

地址:北京市东四十二条21号 邮政编码:100708
电话:010-62006940 传真:010-62006941
E-mail:dakaiming@sina.com

印刷:莱州市电光印刷有限公司 经销:新华书店

开本:787×1092 1/8 印张:48

2006年1月第1版第2次印刷

字数:1200千字 印数:20000册

ISBN 7-5007-7235-1/G·5563 定价:62.40元(共8册)

图书若有印装问题,请随时向印务部退换

版权所有,侵权必究

ISBN 7-5007-7235-1



9 787500 772354

0 1 >

义务教育课程标准实验教科书最新配套试卷
九年级历史 (下)



第一单元

..... 基础知识和重点过关



时间: 45 分钟 满分: 100 分

题序	一	二	三	四	五	总分	结分人	核分人
得分								

一、单项选择题(每小题 2 分,共 30 分)

- 俄国“二月革命”爆发于()
 - 1917 年 2 月
 - 1917 年 3 月
 - 1918 年 2 月
 - 1918 年 3 月
- 推翻沙皇专制统治的俄国革命是()
 - 雾月革命
 - 十月革命
 - 十一月革命
 - 二月革命
- 俄国十月革命的领导人是()
 - 列宁
 - 斯大林
 - 拿破仑
 - 林肯
- 彼得格勒武装起义的总指挥部是()
 - 红场
 - 莫斯科
 - 斯莫尔尼宫
 - 冬宫
- 世界上第一个工人士兵苏维埃政府是()
 - 革命委员会
 - 巴黎公社
 - 人民委员会
 - 工兵代表苏维埃
- 人类历史上第一个获得胜利的社会主义革命是()
 - 巴黎公社
 - 俄国十月社会主义革命
 - 美国南北战争
 - 法国大革命
- 苏俄粉碎了外国武装干涉和国内反革命叛乱的时间是()
 - 1917 年
 - 1918 年
 - 1920 年
 - 1921 年
- 1918 年 3 月,苏维埃俄国首都从彼得格勒迁往()
 - 莫斯科
 - 斯大林格勒
 - 雅克萨
 - 基辅
- 1922 年,苏联成立时的全称是()
 - 苏维埃共和国联盟
 - 苏维埃社会主义联盟

① 写清校名、年级、班级、姓名(或准考证号)

② 监考人不读题、不讲题

③ 用铅笔,不能用铅笔或圆珠笔,字迹清楚,卷面整洁

姓名

班级

学校



- C. 苏维埃联盟
D. 苏维埃社会主义共和国联盟
10. 苏联成立时,有几个加盟共和国()
A. 3个 B. 4个 C. 5个 D. 15个
11. 1921年,苏联开始实行的政策是()
A. 战时共产主义政策
B. 新经济政策
C. 第一个五年计划
D. 农业集体化
12. 苏联由传统的农业国变成强盛的工业国是在()
A. 1917年 B. 1922年
C. 1928年 D. 1937年
13. 标志着苏联高度集中的经济政治体制形成的事件是()
A. 战时共产主义政策的实施
B. 第一、二两个五年计划的完成
C. 苏联1936年新宪法的制定
D. 新经济政策的实施
14. 被称为“斯大林模式”的体制的含义是()
A. 大清洗运动
B. 高度集中的政治经济体制
C. 高度集权的军事体制
D. 社会主义工业化
15. 苏维埃政权在全国范围内建立起来是在()
A. 1917年3月 B. 1918年3月
C. 1917年11月 D. 1920年

二、选择填空题(每空2分,共12分)

16. 俄国二月革命后,建立了_____,与革命中建立的_____同时存在。_____掌握着主要权力。
A. 布尔什维克党
B. 资产阶级临时政府
C. 工兵代表苏维埃政府
17. “斯大林模式”是在苏联外有_____包围,国内_____、_____相对落后的情况下形成的。
A. 帝国主义 B. 反革命叛乱
C. 经济 D. 文化
E. 军事



三、识图题(共 24 分)

18. 读图,回答下列问题。



(1)这是一艘普通的舰只,但在俄国乃至世界历史上都非比寻常。你知道它的名字吗?(4分)

(2)以它发出的炮声信号,彼得格勒的工人、士兵向资产阶级临时政府的反动巢穴展开了进攻,那是哪里呢?是在什么时间呢?(4分)

19. 读图,回答下列问题。



(1)这是什么标志?(2分)

(2)它成立于何时?最终共有几个加盟共和国?(4分)

(3)它成立之初,有几个加盟共和国?分别是哪些?(10分)

四、列举题(共 24 分)

20. 列举俄国十月革命胜利后,苏维埃政府采取的措施。(10分)

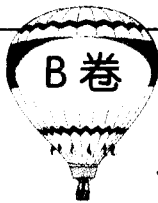
21. 列举苏联在 20 世纪二三十年代社会主义建设中取得的重大成就。(6分)

22. 列举“斯大林模式”存在的严重弊端。(8分)

五、问答题(共 10 分)

23. 俄国十月革命的胜利有什么重大历史意义?(10分)





第一单元

.....综合能力和应用创新能力.....



时间: 45 分钟 满分: 100 分

题序	一	二	三	四	五	总分	评分人	核分人
得分								

一、单项选择题(每小题 2 分,共 28 分)

- 俄国二月革命后,国内存在两个政权,它们是()

①沙皇专制统治 ②资产阶级临时政府 ③工兵代表苏维埃 ④革命委员会

A. ①② B. ②③ C. ③④ D. ①④
- 在世界上第一个工人士兵苏维埃政府中被选为主席的是()

A. 马克思 B. 鲍狄埃 C. 列宁 D. 斯大林
- 下列事件发生在 1920 年的是()

A. 二月革命
B. 十月革命
C. 苏俄首都从彼得格勒迁到莫斯科
D. 苏俄取得了国内战争的胜利
- 俄国二月革命的最主要意义是()

A. 推翻了沙皇专制统治
B. 建立了资产阶级临时政府
C. 退出第一次世界大战
D. 建立了世界上第一个工农苏维埃政权
- 俄国十月革命就其斗争形式而言,基本特征是()

A. 暴力基础上的和平夺权 B. 和平夺权
C. 暴力夺权 D. 从农村到城市夺取政权
- 苏维埃俄国在国内战争时期实行的经济政策是()

A. 新经济政策 B. 战时共产主义政策
C. 社会主义工业化 D. 农业集体化
- 苏俄实行新经济政策的前提条件是()

①苏俄进入和平建设时期 ②国民经济已明显恢复
③国家掌握了经济命脉 ④有巩固的工农联盟

A. ①② B. ①③ C. ③④ D. ①④
- 俄国十月革命能够胜利的最主要原因是()

A. 布尔什维克党的正确领导

① 写清校名、年级、班级、姓名(或准考证号)

② 监考人不读题、不讲题

③ 用钢笔,不能用铅笔或圆珠笔,字迹清楚,卷面整洁

姓名

班级

学校

- B. 俄国工人阶级的战斗力强
 C. 沙皇专制统治被推翻
 D. 第一次世界大战对俄国的影响
9. 规定没收地主和寺院的土地,分配给农民耕种的法令是()
 A. 《四月提纲》 B. 《权利法案》
 C. 《土地法令》 D. 《法典》
10. 下列情形不可能发生在1922年初的苏俄的是()
 A. 外国资本家波波夫办了一个小企业
 B. 农民基洛夫到市场卖土豆
 C. 安娜到市场上买生活用品
 D. 农民基洛夫家中没有剩余的粮食
11. 苏联扩大后的加盟共和国的数量是()
 A. 12个 B. 13个 C. 15个 D. 20个
12. 社会主义制度在苏联建立的标志是()
 A. 俄国十月社会主义革命的胜利
 B. 世界上第一个工兵苏维埃政权的建立
 C. 苏维埃社会主义共和国联盟的成立
 D. 1936年苏联新宪法的制定
13. 苏联第一、二个五年计划的主要任务是()
 A. 实现社会主义工业化
 B. 重点发展重工业
 C. 实现农业集体化
 D. 恢复和发展国民经济
14. 请按时间先后顺序排列下列事件()
 ①二月革命 ②苏俄迁都 ③十月革命 ④列宁逝世
 ⑤由农业国变为强盛的工业国
 A. ①②③④⑤ B. ①③②④⑤
 C. ③①④②⑤ D. ③①④⑤②

二、改错题(以下每句中都有一处错误,请在错处下面画一横线,并将正确答案写在下面横线上,每小题2分,共16分)

15. 俄国二月革命后,国内存在的政权中掌握主要权力的是工兵代表苏维埃。

16. 十月革命后,苏维埃政府同英国、法国议和,退出第一次世界大战。

17. 彼得格勒起义的总指挥部是冬宫。

18. 1921年,苏俄粉碎了外国的武装干涉和国内的反革命叛乱。

19. 俄国十月革命的胜利沉重打击了帝国主义和封建主义的统治。



20. 苏联的工业总产值居欧洲第一位、世界第二位,是在 1940 年。

21. “斯大林模式”即高度集中的经济政治军事体制。

22. 苏联人民在列宁领导下,实现了社会主义工业化。

三、材料分析题(共 24 分)

23. 阅读材料

材料一 一切食品,个人消费品和家用物品均由国家和合作社组织供应,……在全国各地实行了谷物和饲料的余粮收集制……

材料二 废除余粮收集制,实行粮食税,纳税后剩余的粮食归农民支配。废除实物配给制,实行货币工资制……

请回答:

(1)材料一是什么政策?是在什么背景下实施的?(4分)

(2)材料二是什么政策?是在什么时间开始实施的?(4分)

(3)材料一与材料二有什么不同之处?(6分)

24. 阅读表格


1913~1937 年苏联工业总产值及重要工业产品在欧洲和世界所占的地位

	1913 年	1928 年	1932 年		1937 年	
	世界	世界	世界	欧洲	世界	欧洲
工业生产总产值	5	5	3	2	2	1
机械制造业	4	4	2	1	2	1
石油	2	3	2	1	2	1

请回答:

(1)观察表格中 1913~1928 年(俄国)苏联工业产值及工业产量有什么特点?你能简单叙述一下原因吗?(6分)

(2)表格中 1928~1937 年苏联在欧洲和世界的地位有什么变化? 其原因是什么?
(4 分)



四、列举题(8 分)

25. 列举苏联成立时四个加盟共和国的名称。(8 分)

五、问答题(共 24 分)

26. 俄国十月革命爆发于哪一年? 请你简单分析一下爆发的原因。(10 分)

27. 请你简单叙述苏联建设社会主义的历程。(要求:一定要实事求是地总结其成就与失误)(14 分)



A卷

第二单元

..... 基础知识和重点过关



时间: 45分钟 满分: 100分

题序	一	二	三	四	五	总分	结分人	核分人
得分								

一、单项选择题(每小题2分,共30分)

- 巴黎和会开始的时间是()
 - 1917年10月
 - 1919年1月
 - 1919年6月
 - 1920年1月
- 协约国与德国签订的条约是()
 - 《土地法令》
 - 《九国公约》
 - 《凡尔赛和约》
 - 《凡尔赛条约》
- 1920年,一个国际性机构建立起来,它是()
 - 国际联盟
 - 联合国
 - 共产国际
 - 巴黎公社
- 确立了帝国主义在东亚、太平洋地区统治秩序的会议是()
 - 华盛顿会议
 - 巴黎和会
 - 大陆会议
 - 三级会议
- 在华盛顿会议上起主要作用的国家是()

①美国 ②英国 ③法国 ④日本 ⑤德国

 - ①②③
 - ②③④
 - ①②⑤
 - ①②④
- 资本主义世界基本上处于相对稳定时期是在()
 - 1918年~1920年
 - 1919年~1922年
 - 1924年~1929年
 - 1929年~1933年
- 美国新政的中心措施是()
 - 兴建公共工程
 - 国家对工业的调整
 - 调整农业政策
 - 整顿银行
- 1929年爆发的经济危机开始于()
 - 美国
 - 英国
 - 德国
 - 日本
- 美国为对付经济危机,宣布实行新政的总统是()
 - 林肯
 - 华盛顿
 - 胡佛
 - 罗斯福
- 在经济危机爆发期间,整个资本主义世界失业工人数量超过()
 - 三百万
 - 三千万
 - 四千万
 - 五千万

① 写清校名、年级、班级、姓名(或准考证号)
② 监考人不读题、不讲题
③ 用钢笔,不能用铅笔或圆珠笔,字迹清楚,卷面整洁

姓名

班级

学校

密

封

线


11. 希特勒组织的法西斯组织是()
 A. 纳粹党 B. 民族社会党
 C. 社会党 D. 工人党
12. 德国法西斯政权掀起了对什么人迫害的狂潮()
 A. 日耳曼人 B. 雅利安人
 C. 犹太人 D. 苏美尔人
13. 日本法西斯势力的支持者和集中地是()
 A. 垄断资产阶级 B. 军部
 C. 政府 D. 议会
14. 德国法西斯逮捕和迫害大批共产党人和进步人士,是利用了什么事件()
 A. 啤酒馆暴动 B. 国会纵火案
 C. 七七事变 D. 《凡尔赛和约》
15. 面对经济危机,下列哪一个国家采取的态度不同于其他国家()
 A. 日本 B. 德国 C. 意大利 D. 美国

二、选择填空题(每空 2 分,共 14 分)

16. 1919~1920 年,协约国分别同德国的盟国 _____、_____、_____ 保加利亚签订了一系列和约。
 A. 塞尔维亚 B. 土耳其 C. 奥地利 D. 匈牙利
 E. 比利时 F. 意大利
17. 第二次世界大战的欧洲策源地形成于 _____,亚洲策源地形成于 _____。
 A. 意大利 B. 德国 C. 日本 D. 美国
18. 巴黎和会的参加国有 _____ 个,参加华盛顿会议的国家有 _____ 个。
 A. 8 个 B. 9 个 C. 29 个 D. 27 个

三、识图题(共 20 分)

19. 读图,回答下列问题。



(1)这是一幅英国失业者街头求职的照片。你能说说他身上广告牌的内容吗？
(4分)

(2)这反映了当时英国社会的什么情况？对此你有什么看法呢？(4分)

20. 读图，回答下列问题。



(1)图片上中间的人物是谁？他曾建立过什么组织？(6分)

(2)他写的一部反映其主张的书籍名称是什么？他给人类带来了什么灾难？
(6分)

四、列举题(共22分)


21. 列举巴黎和会三巨头。(6分)

22. 列举 1929~1933 年资本主义经济危机的主要特点。(6 分)

23. 列举《凡尔赛和约》的主要内容。(10 分)

五、问答题(14 分)

24. 简述罗斯福新政的目的、中心措施及作用。(14 分)



第二单元

.....综合能力和应用创新能力.....



时间：45分钟 满分：100分

题序	一	二	三	四	五	总分	结分人	核分人
得分								

① 写清校名、年级、班级、姓名（或准考证号）

② 监考人不读题、不讲题

③ 用钢笔、不能用铅笔或圆珠笔，字迹清楚，卷面整洁

姓名

班级

学校

一、单项选择题（每小题2分，共30分）

1. 引发了中国五四运动的条约是()
 - A. 《辛丑条约》
 - B. 《凡尔赛和约》
 - C. 《四国条约》
 - D. 《九国公约》
2. 操纵巴黎和会的三巨头是()
 - ① 美国总统威尔逊
 - ② 法国总理克里孟梭
 - ③ 英国首相劳合·乔治
 - ④ 美国总统罗斯福
 - A. ①②③
 - B. ①②④
 - C. ②③④
 - D. ①③④
3. 1922年华盛顿会议上涉及中国问题的条约是()
 - A. 《凡尔赛和约》
 - B. 《四国条约》
 - C. 《九国公约》
 - D. 《五国条约》
4. 巴黎和会上英、法、美三国争夺的焦点是()
 - A. 争夺德国的海外殖民地
 - B. 争夺殖民地和世界霸权
 - C. 争夺对国联的操纵权
 - D. 争夺处理德国的军事问题
5. 国际联盟的实质是()
 - A. 维护世界和平的组织
 - B. 美国称霸世界的工具
 - C. 国际间经济文化交流的组织
 - D. 帝国主义列强维护战后资本主义世界秩序的工具
6. 20世纪二三十年代资本主义世界经济危机发生的根本原因是()
 - A. 生产处于无政府状态
 - B. 资本家为了追求利润，盲目扩大生产
 - C. 人民的消费能力不够
 - D. 生产的社会化和生产资料私人占有之间的矛盾
7. 最早建立法西斯专政的国家是()
 - A. 日本
 - B. 意大利
 - C. 德国
 - D. 美国

8. 下列事件与 1929~1933 年资本主义世界经济危机无关的是()
- A. 意大利法西斯专政的建立
B. 罗斯福新政的实施
C. 德国法西斯专政的建立
D. 日本法西斯专政的建立
9. 第二次世界大战的欧洲策源地形成于()
- A. 日本 B. 意大利 C. 德国 D. 法国
10. 在德国建立法西斯专政的人物是()
- A. 希特勒 B. 墨索里尼 C. 东条英机 D. 佛朗哥
11. 标志着亚洲战争策源地形成的事件是()
- A. 日本发动侵略中国的“九一八”事变
B. 日本发动全面侵华战争
C. 轴心国集团的形成
D. 日本军部法西斯专政的建立
12. 德国法西斯掀起迫害犹太人狂潮的根本原因是()
- A. 犹太人没有祖国保护,对他们可为所欲为
B. 犹太人多才多艺
C. 宗教狂热,为侵略制造借口
D. 欧洲长久的反犹传统
13. 被称为资本主义国家经济“晴雨表”的是()
- A. 人民的消费水平 B. 股市
C. 就业工人数量 D. 国民生产总值
14. “影响整个资本主义世界”说明了经济危机的什么特点()
- A. 破坏性特别大 B. 持续时间比较长
C. 失业人数特别多 D. 波及范围特别广
15. 新政取得了显著成效,表现在()
- ①人民生活得到改善
②美国经济缓慢恢复
③资本主义制度具有无与伦比的优越性
④美国联邦政府的权力明显增强
- A. ①②③④ B. ①②③
C. ①②④ D. ②③④

二、改错题(以下每句中都有一处错误,请在错处下面画一横线,并将正确答案写在下面横线上,每小题 2 分,共 14 分)

16. 巴黎和会召开于 1921 年 6 月。

17. 《凡尔赛和约》规定,德国在中国山东的全部权益由英国继承。

18. 华盛顿会议上起主要作用的是英、法、日三国。

19. 严重的经济危机,必然引发社会危机。

20. 历史上的“水晶之夜”是指 1938 年 11 月 7 日晚。

21. 轴心国集团是指“柏林——伦敦——东京轴心”。

22. 现代法西斯专政,是大资本家对内实行的极端专制的恐怖统治。

三、材料分析题(共 16 分)

23. 阅读材料

叹交换手段难逃贸易长流冰封;看工业企业尽成枯枝残叶;农场主的产品找不到市场;千万个家庭的多年积蓄毁于一旦。

请回答:

(1)这段话是谁说的?描述了当时社会的什么现象?(6分)

(2)面对这种现象,此人实行了什么政策?该政策的中心措施是什么?(6分)

(3)你从此人身上学到了什么?(4分)

四、列举题(共 20 分)

24. 列举 20 世纪二三十年年代建立法西斯专政的国家。(8分)