


青年地理自学丛书



初中结业会考升学考试
地理综合训练题选萃



祖庆选 主编

高等教育出版社

青年地理自学丛书

初中结业会考升学考试

地理综合训练题选萃

祖庆选 主编

王兴兰 杜庆芝 周 玉 编写

吉林出版社

(京)新登字046号

内 容 简 介

本书是根据初中《中国地理》(上、下册)、《世界地理》(上、下册)的内容编写的单元复习测试题和升学考试模拟题。全书特点是注重知识练习和技能训练。本书可作为初中地理复习与应试的小题库,内容系统,重点突出,结构新颖。

本书可供初中学生和教师使用,也可供青年地理爱好者复习和自测地理知识。

初中结业会考升学考试

地理综合训练题选萃

祖庆选 主编

王兴兰 杜庆芝 周 玉 编写

责任编辑 吴向东 陶国庆

高等教育出版社出版

(北京西郊白石桥路46号)

北京昌平环球科技印刷厂印刷

新华书店总店科技发行所发行 全国各地新华书店经销

*

开本: 787×1092 1/32 印张: 2.5 字数: 56千字

1991年7月第一版 1992年7月第四次印刷

印数: 22501—53500

ISBN 7-5029-0705-X/K·0007

定价: 1.20元

前 言

1989年11月8日国家教委发出文件《关于在中小学地理等学科教学中加强思想政治教育和国情教育的意见》。文件中指出“从1990年起，初二年级要安排历史、地理两科的结业会考或初中升学考试要加考历史和地理，两科可合为一张试卷，各占50%。采取何种方式由各省决定”。

为贯彻文件精神，并向全国广大初中师生提供辅导、考试参考资料，我们编写了《初中结业会考升学考试地理综合训练题选萃》。

该书根据初中《中国地理》（上册）、（下册）、《世界地理》（上册）、（下册）的内容，安排了单元复习测试题和升学考试模拟试题两大部分内容。本书注重知识练习和技能训练，内容系统，突出重点，结构新颖，是初中地理复习与应试的小题库，相信它会对初中地理复习考试有所帮助。但限于编者水平有限，不足和错漏之处，恳请广大读者批评指正！

本书的编写参考和引用了有关书刊的内容和全国部分省、市高中入学考试地理试题，谨此致以衷心的感谢！

编 者

1990年9月

目 录

前言

第一部分 中国地理	(1)
第一单元 复习测试题〔中国地理(上)〕.....	(1)
第二单元 复习测试题〔中国地理(下)〕.....	(6)
第二部分 世界地理	(15)
第一单元 复习测试题〔世界地理(上)〕.....	(15)
第二单元 复习测试题〔世界地理(下)〕.....	(23)
第三部分 综合测试题	(32)
升学考试模拟测试题(一).....	(32)
升学考试模拟测试题(二).....	(36)
升学考试模拟测试题(三).....	(41)
升学考试模拟测试题(四).....	(45)
升学考试模拟测试题(五).....	(49)
升学考试模拟测试题(六).....	(53)
升学考试模拟测试题(七).....	(57)
附：部分试题参考答案	(69)

第一部分 中国地理

第一单元 复习测试题〔中国地理（上）〕

一、填充题（共20分，每空格1分）

1. 地球并非正圆球，而是一个_____稍扁、_____略鼓的不十分规则的球体。
2. 赤道的纬度是_____度，北极的纬度是北纬_____度。
3. 我们伟大的祖国位于_____洲的东部，_____洋的西岸。
4. “北京时间”是采用北京所在的_____区的区时，该时区的中央经线是东经_____度。
5. 北回归线是地球上五带中_____带和_____带的分界线。
6. 我国领土辽阔广大，总面积约_____平方公里，最南端在_____。
7. 我国少数民族主要居住在西北、_____、东北等地；侨胞分布在世界各地，原籍以广东、_____两省最多。
8. 我国地势_____高_____低，大致呈阶梯状分布。
9. 影响我国气候有两方面的地理因素，一是_____，二是_____。
10. 首都北京，是全国的_____中心和_____中心。

二、是非题（共20分，每小题2分）

以下各题中，你认为正确的在题后括号内画“√”，错

误的画“×”。

1. 0° 经线以东为东半球，以西为西半球。()
2. 当“北京时间”是正午12时，乌鲁木齐所在的区时是上午10时。()
3. 地球上除了寒带，都能见到太阳直射头顶的景象。()
4. 太行山以东是华北平原，以西是黄土高原。()
5. 我国的降水量，夏季比冬季多，东南沿海比西北内陆多。()
6. 黄河的长度比珠江长，因此水量也比珠江多。()
7. 大豆是东北平原著名的农产品、冬小麦是东北平原最主要的粮食作物。()
8. 大兴安岭是全国最大的木材生产基地，鞍钢是全国最重要的钢铁工业基地。()
9. 京广铁路沿线的天津和青岛是著名的纺织工业中心。()
10. 黄河中下游地区煤炭资源丰富，河北省素有“煤海”之称。()

三、选择题 (共20分，每小题2分)

以下各题中均有四个选项，其中只有一个是正确的，请把正确选项的字母填入题后横线上。

1. 中纬度是指纬度_____。
A. $0^{\circ}-30^{\circ}$ ； B. $23.5^{\circ}-66.5^{\circ}$ ； C. $30^{\circ}-60^{\circ}$ ；
D. $60^{\circ}-90^{\circ}$
2. 图上1厘米代表实地距离300公里的数字比例尺是_____。

A. 1:300; B. 1:30000000; C. 1:300000; D. 1:3000

3. 以下海和海峡中, 为我国内海的是_____。

A. 黄海; B. 东海和台湾海峡; C. 南海; D. 渤海和琼州海峡

4. 以下有关我国人口和民族的叙述中, 正确的是_____。

A. 人口多、分布均匀; B. 人口密度, 西部大, 东部少;
C. 各民族中回族人口最多, 主要分布在西北、西南、东北;
D. 少数民族有 50 多个, 分布地区占全国面积的 50—60%

5. 长江和黄河都流经我国的_____。

A. 青藏高原、黄土高原; B. 四川盆地、华北平原; C. 地势第一、第二和第三级阶梯; D. 青海省、甘肃省

6. 治黄的关键是_____。

A. 泥沙问题; B. 凌汛问题; C. 水量问题; D. 流速问题

7. 以下词语中, 描写天气的是_____。

A. 终年高温多雨; B. 阴转多云; C. 四季如春; D. 冬冷夏热

8. 我国古代建都历史最久的城市是_____。

A. 北京; B. 洛阳; C. 开封; D. 西安

9. 葛洲坝水电站位于长江的_____。

A. 上游; B. 中游; C. 下游; D. 长江三峡以西

10. 以下港口中, 濒临渤海的是_____。

A. 大连; B. 青岛; C. 秦皇岛; D. 连云港

四、读图题 (共40分, 每空格 1 分)

1. 阅读北半球经纬网图(图1.1), 回答: A点位于____经____度, ____纬____度。B点位于A点的____方向, C

点位于A点的_____方向，C点在B点的_____方向。

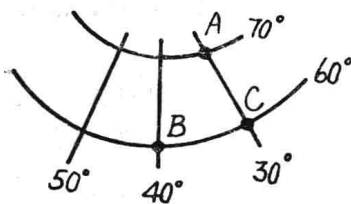


图 1.1

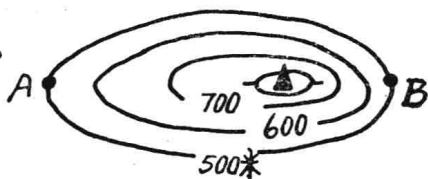


图 1.2

2. 读以下等高线图(图1.2)，回答：A点的海拔高度是_____米，B点与A点之间的相对高度是_____米。从A点往山顶爬的坡度比B点往山顶爬的坡度要_____，这从图中可看出，因为相比之下从A点往山顶的等高线_____，从B点往山顶的等高线_____。

3. 把我国政区填充图中(图1.3)字母所代表的地理名称填在以下所要求的空格内。省级行政区名称：

A _____、B _____、C _____、D _____。我国濒临海：E _____海、F _____海。河流：G _____、H _____。邻国：I _____、J _____。岛屿：K _____、L _____。山脉：M _____。比例尺：该图采用的比例尺，其表示方式为_____式。

4. 图1.4为我国从北到南四个城市的气温曲线和降水量柱状图，请读图回答：

从气温曲线看，夏季最热月平均气温都约在_____摄氏度以上，反映了我国夏季气温分布的特点是大多数地方普遍_____，南北气温相差_____；冬季最冷月，四地中月气温最冷达_____摄氏度，气温最暖达_____摄氏度，反映了我

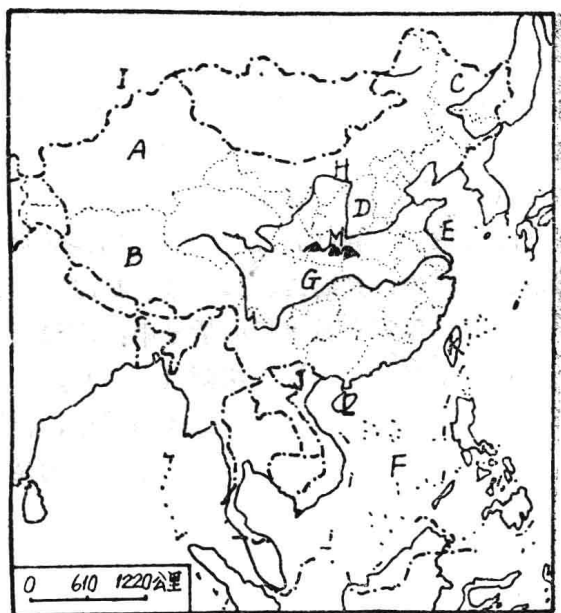


图 1.3

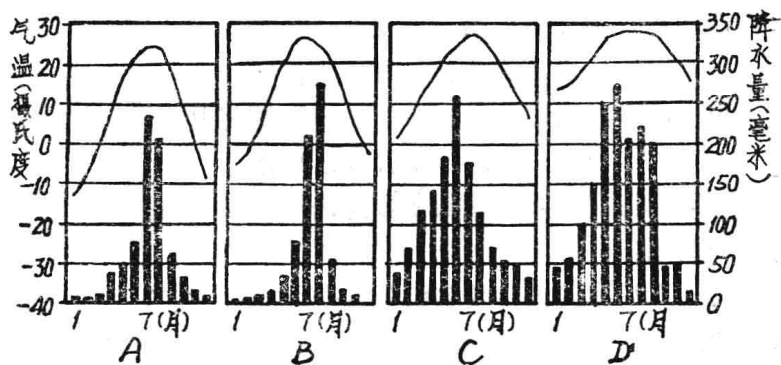


图 1.4

国冬季气温分布的特点是南北气温相差____，越往南气温越_____。

从降水量柱状图看，有两个月从南到北降水量都很丰富，这是_____月和_____月，总的说来，一年四个季节中，_____（季节）的降水量最集中。

观察（图1.4）中四图的气温变化和各月降水分配，结合我国雨带移动规律，判断A、B、C、D四图各代表以下哪一城市，并把字母写在城市后的括号中：广州（ ）、武汉（ ）、北京（ ）、沈阳（ ）。

根据我国温度带的地理分布，上述四城市，位于热带的是_____；位于暖温带的是_____，位于中温带的是_____。

第二单元 复习测试题〔中国地理（下）〕

一、选择题（30分）

- 关于台湾省的叙述，正确的是_____。
A. 位于台湾省南部的基隆是优良海港； B. 东海岸是重要的海盐产区； C. 居民以高山族为主； D. 是一个年轻的海岛，山地约占全岛面积的三分之二。
- 位于江南丘陵的名山有_____。
A. 恒山； B. 衡山； C. 黄山； D. 雁荡山。
- 我国藏族分布的主要省（区）是_____。
A. 西藏和青海； B. 新疆和青海； C. 四川和云南； D. 甘肃和西藏。
- 五岳和四大佛教名山各有一个的省（区）是_____。
A. 鲁； B. 皖； C. 晋； D. 豫。
- 主要产区在亚热带的水果和木本油料作物有_____。
A. 梨、桃、核桃； B. 荔枝、菠萝、油茶； C. 椰子、苔

果、油棕；D. 苹果、葡萄、花椒。

6. 下列几组开放城市，即属华北区又属黄河中下游地区的是_____。

A. 烟台和青岛；B. 连云港和上海；C. 秦皇岛和天津；
D. 裕溪口和石臼所。

7. 关于四川的叙述，正确的是_____。

A. 岷江河畔的攀枝花是我国的钢铁工业基地；B. 冬季温暖，一月等温线向南凸出；C. 四川盆地终年温暖，霜雪少见，雨量不多；D. 河流向盆地汇集，属向心状水系。

8. “湖广熟，天下足”的“湖广”指的是_____。

A. 湖北、湖南；B. 广东、广西；C. 湖北、广东；D. 湖南、广东。

9. 我国某地旅游条件较好，入冬后气候温暖如春，天涯海角、鹿回头等名胜尤其吸引游人。此地是_____。

A. 厦门；B. 三亚市；C. 湛江；D. 恒春。

10. 下列四地中，太阳能、水力资源和地热条件都比较丰富的是_____。

A. 西双版纳；B. 海南岛；C. 塔里木盆地；D. 西藏。

11. 目前在我国既有大煤田和大油田，森林资源又丰富的省是_____。

A. 山西；B. 河南；C. 黑龙江；D. 河北。

12. 我国兼跨两大洋水系和两类季风区，在地形上东西两部都具有明显区别的省（区）是_____。

A. 云南；B. 新疆；C. 贵州；D. 西藏。

13. 关于我国对外贸易的说法，正确的是_____。

A. 目前出口商品中农产品比重占一半以上；B. 目前出口商品以农副产品等初级产品为主；C. 进口商品以粮食、汽

车为主；D. 目前出口的大宗商品是石油、纺织品、服装等。

14. 贵州的铜仁主要产_____。

A. 铁；B. 铜；C. 汞；D. 铅、锌。

15. 下列煤矿按自南向北的排列顺序是_____。

A. 六盘水、兖州、开滦、霍林河；B. 徐州、淮南、兖州、开滦；C. 大同、阳泉、兖州、淮南；D. 淮南、兖州、准格尔、阳泉。

16. 大同的煤南运到上海，运费最低的路线是_____。

A. 大同—太原—焦作—洛阳—徐州—经京杭运河、长江到上海；B. 大同—北京—秦皇岛—经海运到上海；C. 大同—太原—焦作—洛阳—枝城—经长江水运到上海；D. 大同—北京—经京沪线到上海。

17. 既是我国的省会，又是水陆交通枢纽的城市是_____。

A. 兰州；B. 厦门；C. 重庆；D. 武汉。

18. 关于我国海洋水产的叙述，正确的是_____。

A. 舟山渔场是全国最大的渔场，夏季是带鱼汛，冬季是墨鱼汛；B. 在我国海水养殖业中，珍珠贝养殖发展最快，产量也最大；C. 渤海湾渔场以盛产对虾著称；D. 黄海素有天然鱼仓之称。

19. 下列叙述正确的是_____。

A. 云南南部与老挝为邻；B. 新疆是临国最多的省（区）；C. 宁夏平原位于鄂尔多斯高原以西；D. 广州位于珠江干支流的北江和西江汇合处。

20. 青岛和大连_____。

A. 都位于中温带湿润地区，但淡水资源又都不足；B. 都是濒临渤海的沿海开放城市；C. 都是建有集装箱码头的对

外贸港口；D. 都是有石油管道相通，不属省会的城市。

21. 以下城市既有梅雨和伏旱天气，又临大河流的是_____。

A. 重庆和武汉；B. 南京和南昌；C. 长沙和合肥；D. 上海和杭州。

22. 台湾和海南岛相同的特征是_____。

A. 都属热带气候；B. 东西海岸线曲折，多良港；C. 海岸背风地带宜建盐场，近海大陆架蕴藏着丰富的石油；D. 旅游资源条件优越。

23. 为了充分发挥当地的资源优势，可在_____。

A. 内蒙古建立稀土工业基地；B. 滇、黔、鄂建立煤炭基地；C. 湘、赣、川建立有色金属矿基地；D. 晋、黔、内蒙古建立磷矿基地。

24. 下列各省（区）中相互为邻的是_____。

A. 秦、晋、鲁；B. 新、青、宁；C. 湘、粤、桂；D. 皖、鄂、赣。

25. 西南三省环状的铁路网，按顺时针排列是_____。

A. 川黔、贵昆、成渝、成昆；B. 成昆、成渝、川黔、贵昆；D. 成渝、成昆、贵昆、川黔；D. 成渝、成昆、川黔、贵昆。

26. 下列货物采用的运输方式最合适的是_____。

A. 5000吨铁材从武汉运到十堰用汽车；B. 1000份中央文件从北京到成都用特快火车；C. 50万吨的原油从波斯湾到日本用海运；D. 5吨的淡水鱼从十三陵水库运到北京用空运。

27. 广西许多地区经常缺水，出现旱象，原因是_____。

A. 石灰岩地层面积广，渗漏严重；B. 气温高，蒸发强；

C. 海岸线短, 受海洋影响小; D. 地面崎岖, 水土流失严重。

28. 在四川省境内注入金沙江的长江支流有_____。

A. 乌江; B. 嘉陵江; C. 沱江; D. 雅砻江。

29. 我国边境有一地区, 群山起伏, 气候垂直变化明显, 河谷地带土质肥沃, 桔子树枝叶茂盛, 香蕉园终年翠绿, 水稻田随处可见, 茶园散布于缓坡山岗上, 这就是人们常说的_____。

A. “塞上江南”; B. “鱼米之乡”; C. “西藏江南”; D. “聚宝盆”。

30. 1970年7月, 在日本的东京发生过一次污染事件, 当时天气晴朗但能见度显著降低, 人们的眼睛、鼻、喉粘膜受到刺激且发炎红肿, 且有不同程度的头痛呕吐症状。此次污染事件属于_____。

A. 大气污染; B. 水污染; C. 噪声污染; D. 固体废弃物污染。

二、填空题 (20分)

1. 我国较肥沃的土壤有东北平原含丰富的腐殖质的_____土; 华北平原含矿物养分较多的_____土; 长江中下游的耕作土壤_____土和四川盆地肥沃的_____土。

2. 我国沿海航线, 北方以_____和_____为中心, 南方以_____为中心。全国商业零售额占第一位的是_____。

3. 我国年降水量最多的地方是_____, 该地降雨的类型属于_____。我国地势最低处在_____, 它位于_____省(区)。

4. 城市有多种职能，北京的主要职能是_____；延吉市的主要职能是_____；上海的主要职能是_____；伊春市的主要职能是_____。

5. 我国的名胜古迹很多，闻名世界的秦始皇兵马俑在_____市；莫高窟在_____县；昭君墓在_____市；布达拉宫在_____市。

6. 我国西南地区最大的城市是_____；全国最大的城市是_____；台湾省南部最大的港口是_____；东北地区最大的海港是_____。

7. 浙赣铁路在贵溪和_____铁路相接，在_____和京广、湘黔铁路交汇；陇海铁路在洛阳与_____铁路相接，在_____与京沪线交汇。

8. 调节地表径流季节分配不均的主要办法是_____；解决地表径流地区分布不平衡的主要办法是_____，其中已见成效的是_____和_____工程。

9. 我国最大的淡水湖是_____，最大的湖泊是_____，最大的蔗糖产区是_____，最大的桑蚕基地是_____。

10. 我国赣北的_____山、皖南的_____山，鲁中的_____山和四川盆地西部边缘的_____山均以风景优美著称。

三、排列题（4分）

1. 将长江干流沿岸的主要钢铁工业基地，按自西向东的顺序排列；A. 上海；B. 重庆；C. 武汉；D. 马鞍山；E. 攀枝花。_____。

2. 将下列各山峰按海拔高低排列,并用“>”号连接; A. 贡嘎山; B. 峨眉山; C. 泰山; D. 玉山。

四、填表题 (共15分)

1. 根据我国各个农业生产地区的内容填表。(9分)

表1.1

地形区	温度带	干湿地区	主要农产品
湟水谷地			
珠江三角洲			
江汉平原			
汾渭平原			
河套平原			
雅鲁藏布江谷地			

2. 比较鞍山、上海、攀枝花发展钢铁工业的条件。(6分)

表1.2

城市 \ 项目	铁矿石来源	煤炭来源	水源	交通运输
	鞍山			
上海				
攀枝花				