

公务员录用考试省考与省级联考
专用系列教材



2011

紧扣大纲，契合真题，
深度点拨答题技巧，体现命题规律与趋势

行政职业能力测验+申论

专家命题预测试卷与2010年真题

- ✓ 深入剖析历年真题
- ✓ 权威点拨答题技巧
- ✓ 精心萃取高频考点
- ✓ 全面预测考试内容
- ✓ 名师解析最新题型
- ✓ 快速提升应试能力

公务员考试研究中心 编



化学工业出版社

公务员录用考试省考与省级联考
专用系列教材

2011

行政职业能力测验+申论
专家命题预测试卷与2010年真题

公务员考试研究中心 编



化学工业出版社

· 北京 ·

内 容 简 介

《行政职业能力测验+申论专家命题预测试卷与2010年真题》是本系列教材《行政职业能力测验》和《申论高分黄金攻略》的配套练习,它是由公务员录用考试命题研究中心资深专家在认真分析历年公务员考试真题和公务员录用考试省考、省级联考的基础上,顺应公务员考试最新变化与趋势,严格依据省考、省级联考的考核要求和出题思路,认真筛选新近发生的事件和热点精心编撰而成,保证了申论问题的时效性和重要性。同时,本套试卷还具有编排科学合理,方法得当,题量适中,解析精练等特点,是一本不可多得的公务员省考、省级联考备考用书。

图书在版编目(CIP)数据

行政职业能力测验+申论专家命题预测试卷与2010年真题 /
公务员考试研究中心编. —北京:化学工业出版社,2011.1
(公务员录用考试省考与省级联考专用系列教材)
ISBN 978-7-122-09915-0

I. 行… II. 公… III. ①公务员-招聘-考试-中国-习题②行政管理-能力倾向测验-中国-习题 IV. D630.3-44

中国版本图书馆CIP数据核字(2010)第222778号

策划编辑:张立瞿微
责任编辑:瞿微李萃

装帧设计:王晓宇
责任校对:王素芹

出版发行:化学工业出版社(北京市东城区青年湖南街13号 邮政编码100011)

印 刷:北京永鑫印刷有限责任公司

装 订:三河市万龙印装有限公司

880mm×1230mm 1/16 印张19 $\frac{3}{4}$ 字数624千字 2011年2月北京第1版第1次印刷

购书咨询:010-64518888(传真:010-64519686)

售后服务:010-64518899

网 址:<http://www.cip.com.cn>

凡购买本书,如有缺损质量问题,本社销售中心负责调换。

定 价:39.00元

版权所有 违者必究

前 言

我国的公务员考试录用制度自建立以来,在不断的探索和实践过程中日趋完善,其清晰、透明且规范化的作用和管理制度,充分体现了“公开、平等、竞争、择优”的原则,使得公务员成为许多人的就业首选。时至今日,公务员录用考试已成为党和政府面向全社会招贤纳士的主要渠道。

从2009年上半年的天津、湖北、湖南、陕西、四川、广东、西藏七省(市、自治区)联考到2010年4月25日的十三省(市、自治区)联考,再到2010年9月18日的十省(市、自治区)联考,联考队伍在不断扩充,呈现出了明显的“联考”趋势。这足以看出,省级公务员考试正向着统一化进程发展,“联考”逐步成为地方公务员考试的主旋律。

随着公务员联考炙手可热、报名人数剧增局面的出现,公务员考试用书市场也呈现了一派繁荣之势。但纵观整个图书市场,专门用于公务员联考、省级联考的书实在是寥若晨星。为了适应公务员省级联考的迫切需要,丰富公务员考试用书品种,更好地为广大考生服务,我们集聚了一批从事公务员录用考试命题研究的资深学者,以及长期致力于公务员录用考试实践的权威专家,深入研究和分析公务员录用考试省考、省级联考的考核要素,严格按照省考、省级联考的考核要求,立足考试,开拓创新,精心打造了这套《公务员录用考试省考与省级联考专用系列教材》,以帮助考生在短时间内准确把握公务员省考、省级联考的脉络,利用科学有效的方法取得优异成绩。

本系列用书是根据公务员联考、省级联考最新命题思路编写的,在题型、题量、试题难度等方面均与历年真题相辅相成,做到了既把握公务员考试的命题特点,又重视发展趋势的研究,具有以下鲜明特点。

一、立足省考联考,体现特色

本套教材是由公务员考试命题研究小组的权威专家在透彻分析公务员录用考试省考、省级联考最新考核要素的基础上,本着“诚信为本、服务考生”的宗旨,严格按照公务员录用考试省考、省级联考的考核要求编写的,揭示了公务员录用考试省考、省级联考的最新发展趋势,充分体现了公务员录用考试省考、省级联考的独特性。

二、资深专家团队,品质保证

本套教材由化学工业出版社与资深公务员考试培训中心——天合教育联袂打造,且由在公务员录用考试应试辅导领域经验丰富的权威专家直接参与编写,造就了本教材的卓越品质,其不仅贴合公务员考试实际,同时又结合命题趋势和理论研究,极具实用性和指导性,可谓省考、省级联考考生之首选经典教材。

三、命题科学严谨,测查全面

本教材在命题过程中,顺应“多省联考,统一命题”的联考机制,对知识结构、题量题型、讲解内容均进行了精心设计,并以全面测查考生的综合素质为前提,从而保证了命题的科学性与严谨,更有利于帮助考生提高成绩,提升能力。

四、突出归纳技巧,内容丰富

本教材涵盖了公务员考试的经典题型和最新题型,其讲解详尽且通俗易懂,深入探讨公务员考试的各种题型,力求为考生总结归纳出最快速、最实用的解题方法与技巧,从而使考生提高解题速度和正确率。

五、视频讲座光盘,全程指导

本教材随书免费赠送公务员考试提高班专家全程培训视频讲座光盘(包括:行政职业能力测验、申论和面试视频讲座),时长600分钟。光盘中还免费赠送超值题海(包括:行政职业能力测验,申论,公共基础

知识,面试,公安、检察院、法院录用考试的基础知识),具有模拟考场、智能组卷、专项训练等功能。

六、迅捷专业网站,为你解疑释惑

我们拥有专业的公务员录用考试教育和技术社区——天合教育网(www.thjy888.com),为您提供在线测试和名师指点,考生可以随时登录网站,了解考试的最新资讯,与专家进行在线咨询和交流,解决您在复习过程中遇到的难题和疑问,还可以下载各种公务员考试的考前预测试题。

本书编写过程中难免有不足之处,敬请广大读者、同仁不吝指正。衷心希望本系列教材能为广大考生的复习备考带来实质性的帮助。祝各位考生金榜题名,愿本系列教材能一直陪伴您备考直至成功!

公务员考试研究中心

目 录

上篇·行政职业能力测验专家命题预测试卷

行政职业能力测验专家命题预测试卷(一)	3
行政职业能力测验专家命题预测试卷(二)	21
行政职业能力测验专家命题预测试卷(三)	40
行政职业能力测验专家命题预测试卷(四)	60
行政职业能力测验专家命题预测试卷(五)	79
行政职业能力测验专家命题预测试卷(六)	98
参考答案及解析	118

中篇·申论专家命题预测试卷

申论专家命题预测试卷(一)	169
申论专家命题预测试卷(二)	174
申论专家命题预测试卷(三)	180
申论专家命题预测试卷(四)	187
申论专家命题预测试卷(五)	192
申论专家命题预测试卷(六)	198
申论专家命题预测试卷(七)	203
申论专家命题预测试卷(八)	208
参考答案及例文	214

下篇·2010年真题

2010年4月公务员录用考试省级联考《行政职业能力测验》试题	229
2010年9月公务员录用考试省级联考《行政职业能力测验》试题	250
参考答案及解析	270
2010年4月公务员录用考试省级联考《申论》试题 (辽宁、重庆、陕西、云南、江苏、湖南、广西、海南、宁夏、内蒙古)	289
2010年4月公务员录用考试省级联考《申论》试题 (山东、天津)	294
2010年9月公务员录用考试省级联考《申论》试题 (山西、河南、辽宁、福建、重庆、海南、青海、宁夏、内蒙古、陕西、西藏)	299
参考答案及例文	304

上篇

**行政职业能力测验
专家命题预测试卷**

行政职业能力测验专家命题预测试卷(一)

说 明

这项测验共有五个部分,120 道题,总时限为 120 分钟。各部分不分别计时,但都给出了参考时限,供你参考以分配时间。

请在机读答题卡上严格按照要求填写好自己的姓名、报考部门,涂写准考证号。

请仔细阅读下面的注意事项,这对你获得成功非常重要。

1. 题目应在答题卡上作答,不要在题本上作任何记号。

2. 监考人员宣布考试开始时,你才可以开始答题。

3. 监考人员宣布考试结束时,你应立即放下铅笔,将试题本、答案卡和草稿纸都留在桌上,然后离开。如果你违反了以上任何一项要求,都将影响你的成绩。

4. 在这项测验中,可能有一些试题较难,因此你不要在一道题上思考时间太久,遇到不会答的题目,可先跳过去,如果有时间再去思考。否则,你可能没有时间完成后面的题目。

5. 试题答错不倒扣分。

6. 特别提醒你注意,涂写答案时一定要认准题号。严禁折叠答题卡!



第一部分 言语理解与表达

(共 30 题,参考时限 30 分钟)

本部分包括表达与理解两方面的内容,请根据题目要求,在四个选项中选出一个最恰当的答案。

请开始答题:

1. 这曲不迷人人自迷,调不醉人人自醉,韵如_____,境似高山流水,听得你犹如肺腑里注入一汪纯美甘泉,余韵回荡。

填入横线部分最恰当的是()。

- A. 余音绕梁 B. 阳春白雪 C. 长河落日 D. 如痴如醉

2. 归属是人的一种_____需要,人在社会中总是_____归属一定的群体。

填入横线部分最恰当的一项是()。

- A. 高级心理 渴望自己 B. 复杂心情 期望个人
C. 特殊感情 希望个体 D. 社会交往 自然而然

3. 大脑是人的思想器官,这个器官和其他人体器官一样,是愈用愈发达,不用则_____。

填入横线部分最恰当的是()。

- A. 退化 B. 消退 C. 蜕化 D. 消蜕

4. 依次填入下列各句横线处的词语,恰当的一组是()。

(1)这所古老的建筑正当窗口,_____交通。要不要拆除,有关部门正在研究。

(2)这种树的表皮可以一层层剥下来,做成精致的小盒子,并不_____它的生长。

(3)还有难于计算的尘埃和气体组成的星云,浮游在星星与星星之间,浮游在宇宙空间里,_____星光的通过。

- A. 妨碍 阻碍 妨害 B. 妨害 阻挡 妨碍
C. 妨害 阻止 中断 D. 妨碍 妨害 阻碍

5. 追求与放弃都是正常的生活态度,有所追求就应有所放弃,有价值的人生,需要开拓进取、成就事业,但更要懂得正确和必要的放弃——这不是_____,而是一种_____。

依次填入横线处的词语,最恰当的一组是()。

- A. 淡漠 豁达 B. 无为 境界
C. 退却 智慧 D. 无奈 自信

6. 我们欣赏中外精彩的绘画,可以举出它们很多优点,潇洒自然常常是它们共同的长处。画师选择各种素材入画,可以经过十分严格的选择,_____体现于画幅上,_____往往十分自然。卓越的画师,_____敢于画壮丽雄伟的山川,气象万千的远景,也敢于画平常的静物,画嬉戏的小孩,画断脚的螃蟹,画蛀孔的蔬菜……_____一经他选中入画,也就涉笔成趣,给人一番自然的美感。

填入横线部分最恰当的一项是()。

- A. 所以 就 不但 只要 B. 但是 却 因为 所以
C. 因此 就 不但 而且 D. 但是 却 不但 而且

7. 依次填入下列各句横线上的词语,恰当的一组是()。

①新县长上任后,大胆_____了精明能干的张强,使濒于倒闭的制药厂起死回生。

②一个有抱负的人,必将会成大器;一个懂得_____的人,或许会雄霸一方;一个充满自信的人,往往能从容地面对各种困境。



③长江流域,无疑也是中华民族文化的_____之一。

填入横线部分最恰当的一项是()。

- A. 启用 未雨绸缪 发源地
B. 选拔 从长计议 发祥地
C. 任用 顾全大局 发源地
D. 起用 运筹帷幄 发祥地

8. 一帆风顺的旅途只能酿就_____的思维,而人生中的_____从来都是经历了颠簸与坎坷之后才赫然出现的。

依次填入横线部分最恰当的一项是()。

- A. 墨守成规 捷径
B. 一成不变 捷径
C. 画地为牢 道路
D. 中规中矩 道路

9. 口头的承诺并不具备法律上的_____ ,而只是一种良心的自我_____。

填入横线部分最恰当的一组是()。

- A. 效应 制约
B. 效力 制约
C. 效应 约束
D. 效力 约束

10. 一系列网络热点事件_____网络管理应进一步_____ ,加大财力和人才的投入,加快完善立法。

依次填入横线部分最恰当的一项是()。

- A. 表明 规范
B. 证明 规划
C. 说明 规范
D. 显示 规划

11. 下列诗句不是描写节日的是()。

- A. 东风夜放花千树,更吹落,星如雨
B. 千门万户瞳瞳日,总把新桃换旧符
C. 遥知兄弟登高处,遍插茱萸少一人
D. 自古逢秋悲寂寥,我言秋日胜春朝

12. 下列各句中没有语病的一句是()。

- A. 当全球金融危机爆发,使我国出口遭遇寒冬
B. 现在的天文学,不是光研究太阳、月亮、星星在天上的位置和运行规律,还要研究星星里头的变化,研究宇宙的演化
C. 当下,大量新型社区的出现,同时改变了国人原有的居住方式,也促使人们的行为和观念发生了潜移默化的改变
D. 正午时分,经过几个小时的攀爬,我们终于登上了山的最高峰,不禁延口残喘

13. 艺术欣赏的特点,其实不过是借有限却有力的诱导物,让欣赏者利用他们的那些和特定的艺术形象有联系的生活经验,发挥想象,接受以至“丰富”或“提炼”既成的艺术形象。无形的音乐是给人听的,可是听音乐的人能够觉得看见了其实不在眼前的什么。有形的绘画是给人看的,可是,例如画出了汹涌水势的马远的《水图》,能够使人觉得仿佛听见了什么,我一时找不到适当的词句来说明这种精神活动,姑且把它叫做“再创造”吧。

从这段话来看,“再创造”的过程是()。

- A. 诱导物,“丰富”或“提炼”,“再创造”
B. 特定的艺术形象,生活经验,想象
C. 无形的音乐,有形的绘画,“再创造”
D. 既成的艺术形象,接受,精神活动

14. 程明道“泰山不如平地大,真是千古。在平地者谁知平地大?唯登泰山者,乃益知平地大。故必读西哲印哲书,而后亦知中国先哲之不可及,知其中庸之高明也。”

对文中理解最正确的是()。

- A. 将西哲印哲比喻成泰山
B. 将西哲印哲比喻成大地
C. 中国先哲不及西方西哲印哲
D. 读西哲印哲书最为重要

15. 依次填入下面一段文字横线处的语句,衔接最恰当的一项是()。

李清照的悲剧就在于她是生在封建时代的一个有文化的女人。_____ , _____ , _____ ,



_____, _____, _____. 这就难免有孤独的悲哀。

- ①她又处在社会思想的制高点
- ②她看到了许多别人看不到的事情
- ③追求着许多别人不追求的境界
- ④她处在封建社会的底层
- ⑤作为女人
- ⑥作为一个知识分子

- A. ⑤②④①⑥③
- B. ⑤④⑥①②③
- C. ⑥①④⑤③②
- D. ⑥①②③⑤④

16. 高速公路设计的行车时速一般为 120 公里,大大超过普通火车的时速。与一般公路相比,车速大大提高,运输成本可降低 20%多,交通事故可减少 60%~70%。一条 4 车道的高速公路,可承担的运输量相当于一双轨铁路。美国现有高速公路每年在运输上可节约 60 亿~70 亿美元。高速公路的建设费用一般 10 年左右即可收回,车祸死亡率只有普通公路的一半。

这段话主要支持了这样一种论点,即高速公路()。

- A. 承担的运输量大
- B. 行车速度快、效率高
- C. 虽然造价高,但经济效益很大
- D. 交通事故只有普通公路的一半

17. 中国哲学凝聚了中华文化的基本精神,是中华民族数千年文化发展的结晶。在西方文化中,宗教处于核心的地位,然而在中国文化中,宗教的功能基本上是由哲学承担的。自古以来,中国人对宇宙的看法,对人生的看法,他们生活的意义,他们的价值观念,他们赖以安身立命的终极根据,都是通过中国哲学加以反映、凝结和提升的。

这段话主要支持了这样一种观点,即()。

- A. 中国哲学在中国文化传统中起着主导的作用
- B. 中国哲学是民族文化的结晶
- C. 西方文化中,哲学的作用不如宗教明显
- D. 哲学是中国文化的精髓

18. 由九个监控画面组成的交通保卫数字视频监控系统与 GPS 系统配合使用,车队上路行驶时,GPS 系统实时触发所在道路路口的监控摄像头,可同时自动显示车队所在路口、前方路口、后方路口的路面状况,便于整体协调指挥。

符合这段话意思的是()。

- A. GPS 系统由九个监控画面组成
- B. 交通保卫数字视频监控系统可触发道路路口的监控摄像头
- C. 交通保卫数字视频监控系统与 GPS 系统配合使用,便于交通的整体协调指挥
- D. 道路路口监控摄像头被触发后,才能显示车队所在路口、前方路口、后方路口的路面状况

19. 开发商要变成“猪坚强”,首先要有“猪坚强”那样随遇而安、顺势而为,降低生活标准求生的勇气。但遗憾的是,现在,开发商们只学习“猪坚强”最终获救的结果而忽略了那个最重要的生存过程。因此,开发商向“猪坚强”的学习,充其量只是一个皮毛,并未领会“猪坚强”适者生存的真正含义。

这段文字的主要意思是()。

- A. 开发商已经变成了“猪坚强”
- B. 开发商并没有真正向“猪坚强”学习
- C. 开发商希望政府能够对他们施救
- D. 政府不应该向开发商施救

20. 一个正常人能够把自己的悲伤、愤怒、怨恨、委屈、不满等情绪表达出来,那么朋友和同事就会知道他的困难,并尽自己的能力来帮助他。而“阳光抑郁症”患者往往会把自己真正的情绪隐藏起来,只向人展



示自己阳光的一面,长期得不到宣泄的负面情绪积累下来,就会形成巨大的压力。

通过这段话,我们可以知道()。

- A. 阳光抑郁症患者不愿意得到别人的帮助
- B. 阳光抑郁症患者得不到别人的帮助
- C. 阳光抑郁症患者有巨大的心理压力
- D. 阳光抑郁症患者认为自己的人生不完美

21. 不仅是知觉,其他任何一种心理活动和心理现象,从认知到情绪情感以至个性都离不开记忆的参与。记忆将人的心理活动的过去、现在和未来连成一个整体,使心理发展、知识积累和个性形成得以实现。

这段话的中心意思是()。

- A. 记忆在人的整个心理活动中处于突出的地位
- B. 记忆将人的心理活动的过去、现在和未来连成一个整体
- C. 记忆使心理发展得以实现
- D. 记忆使知识积累和个性的形成能够实现

22. 理学重道德的修养固然不错,其对于中国社会日后发展贡献,也不容忽视,但不能都认,理学所倡导的偏重道德轻视事功的倾向,还有他那过分的内省自律,正好为专制帝王起到了为渊驱鱼的效果。读书人的大丈夫气概日渐消亡,英雄豪杰只有在草莽中孕育,从梁山泊里诞生。宋、明两次亡于外族,无疑与宋代以来主流思想的自宫与内敛不无干系。

对这段文字的主旨理解最准确的是()。

- A. 理学特有的价值取向遵循了古代统治者的统治需求
- B. 理学所倡导的精神导致古代读书人中很少出现英雄豪杰
- C. 读书人大丈夫气概的缺失和理学自身的特点有关
- D. 宋明两次亡于外族,理学理论起到了推波助澜的作用

23. 对一项科学工作的评价不能简单地归结为一个数字的大小,任何数字都不能取代同行评议及对该工作科学意义的具体分析和历史检验。然而,不好的评价指标有可能误导评审人员,导致错误的结果;而好的评价指标可以提供更准确的信息,使相应的评审更加客观和公正。

这段文字意在强调,对科学工作的评价()。

- A. 应该是主观评价和客观评价的统一
- B. 关键在于建立科学的评价指标体系
- C. 不应以数字结论作为主要参考依据
- D. 需要综合考虑多种因素才能实现公正

24. 由于元朝重视宗权,僧侣具有强大的势力和尊贵的地位。甚至管理宗教事务的宣政院也成为最高宗教审判机关,负责审理重大的僧侣纠纷案件。

最能准确复述这段话主要意思的是()。


- A. 元朝重视宗权
- B. 元朝僧侣势力很强大
- C. 元朝僧侣在司法上拥有特权
- D. 元朝僧侣参政

25. 怀旧是人的一种挥之不去的情愫。怀旧之所以在经过岁月淘洗之后历久弥新,并非由于它本身具有多大的魅力,而是旧事能给回忆的人以深思的素材,使人们于曾经历过或正在经历的某种或剧烈或断裂的变动过程中,触发生活的感悟,或是从中汲取生活的动力。

符合这段文字的内容是()。

- A. 怀旧是一种情感,具有一定的心理功效
- B. 对过去的事情的回忆是人的最基本的情感
- C. 怀旧的对象是引起生活发生剧烈变化的事情
- D. 怀旧的原因在于旧事对人具有特定的积极作用

26. 影视剧翻拍从来都是既讨好又挨骂——利用经典多年来积下的人气口碑,至少在吆喝声上就比原创剧占了便宜,但它们也必须面对老观众挑剔的目光。



这段话主要谈论影视剧翻拍()。

- A. 可能遇到的难题
- B. 必须应对的处境
- C. 有利和不利条件
- D. 不同于原创剧的特点

27. 应该说,我国的社会保障制度在新中国成立后的不同时期,行使了不同的职能,适应特定的历史时期的需要,完成了它应承担的任务。但是,随着我国社会主义市场经济体制改革的不断深入,社会保障制度将作为市场经济体制的一个重要组成部分而存在,就需要进一步改革与完善。

这段话的中心观点是()。

- A. 社会保障制度完成了它应承担的任务
- B. 社会主义市场经济体制不断深入
- C. 社会保障制度是社会主义市场经济的重要组成部分
- D. 社会保障制度需要进一步改革和完善

28. 由于国民经济的持续、快速增长,个人收入渠道的多元化,我国目前个人收入总量庞大,据报道,在1995年国内生产总值最终分配中,个人收入已占69.1%。近年来,我国国民收入分配向个人倾斜的趋势不断发展,但不是向个人整体性倾斜,而是不均衡地、过多地向社会少部分人倾斜,致使我国涌现出一批高收入群体,出现了一批百万富翁、千万富翁,甚至亿万富翁,个人拥有的财富相当可观,这就为我国征收遗产税提供了税源。

这段话主要支持了这样一种论点,即()。

- A. 我国国民收入分配向个人倾斜的趋势不断发展
- B. 我国涌现出一批高收入群体,他们成为我国征收遗产税的税源
- C. 通过征收个人遗产税来均衡社会财富势在必行
- D. 我国已经具备了征收遗产税的经济基础

29. 中国传统文化的生活方式是子孙满堂,这点很令美国老年人羡慕,儒家文化提倡“父母在,不远游”,贫困地区的父母更是把生男孩作为自己养老的保障。而美国人则认为,培养孩子是一种社会责任而不是自我“牺牲”,孩子的回报并不是反哺父母,而是努力使自己成才,尽管美国有较为完善的社会福利制度来保障老年人的日常生活,但老年人在情感上与后代缺少交流,他们感到无助、孤独,长期与家人分开,享受不到天伦之乐。

这段话主要谈论的是()。

- A. 美国人羡慕中国人的生活方式
- B. 中国的社会福利制度尚不完善
- C. 中国老年人存在情感上的无助、孤独等现象
- D. 中美两国老人的晚景截然不同,是中美文化使然

30. 一些招工单位提出的用人条件,动辄就是大本以上学历,本来有些工种普通技工即可胜任,可招工单位非要招本科生、研究生装点门面。在现有的人才概念中,技术工人常常被排斥在人才的范畴之外,或者提起来重要,排起队来次要;关键岗位需要,而盘点“功名”时则觉得他们没必要。

这段文字是针对下面哪种现象谈的?()。

- A. 用人单位哄抬学历
- B. 没有做到人尽其用
- C. 技工没受到足够重视
- D. 对人才概念的错误

※※※第一部分结束,请继续做第二部分! ※※※



第二部分 数量关系

(共 15 题,参考时限 15 分钟)

一、数字推理。给你一个数列,但其中缺少一项,要求你仔细观察数列的排列规律,然后从四个供选择的选项中选择你认为最合理的一项,来填补空缺项,使之符合原数列的排列规律。

请开始答题:

31. 4, 3, 4, 11, 18, 33, ()

A. 60

B. 62

C. 64

D. 66

32. 4, 1, 12, 13, 28, ()

A. 33

B. 41

C. 52

D. 55

33. 1, 7, 18, 36, 63, 101, ()

A. 150

B. 151

C. 152

D. 153

34. $1/2, 1/2, 6/16, 1/4, 20/128, ()$

A. $8/64$

B. $3/32$

C. $6/128$

D. $5/16$

35. 2, 6, 3, $1/2, 1/6, 1/3, ()$

A. $1/4$

B. $2/3$

C. 1

D. 2

二、数学运算。在这部分试题中,每道试题呈现了一段表述数字关系的文字,要求你迅速、准确地计算出答案。你可以在草稿纸上运算。

请开始答题:

36. 一个水库在年降水量不变的情况下,能够维持全市 12 万人 20 年的用水量,在该市新迁入 3 万人之后,该水库只够维持 15 年的用水量。因此,市政府号召节约用水,希望能将水库的使用寿命提高到 30 年。那么,该市市民平均需要节约多少比例的水才能实现政府制定的目标? ()

A. $2/5$

B. $2/7$

C. $1/3$

D. $1/4$

37. 有甲、乙两个项目组。乙组任务临时加重时,从甲组抽调了甲组 $1/4$ 的组员。此后甲组任务也有所加重,于是又从乙组调回了重组后乙组人数的 $1/10$ 。此时甲组与乙组人数相等。由此可以得出结论()。

A. 甲组原有 16 人,乙组原有 11 人

B. 甲、乙两组原组员人数之比为 16 : 11

C. 甲组原有 11 人,乙组原有 16 人

D. 甲、乙两组原组员人数之比为 11 : 16

38. 客车和货车同时从甲、乙两地相对而行,6 小时后可在途中相遇。因货车在途中卸货 2.5 小时,直到出发后 7.5 小时才相遇。已知客车每小时行 80 千米,甲、乙两地相距多少千米? ()

A. 1000

B. 1200

C. 1315

D. 1438

39. 如果 4 个矿泉水空瓶可以换 1 瓶矿泉水,现有 15 个矿泉水空瓶,不交钱最多可以喝矿泉水()。

A. 3 瓶

B. 4 瓶

C. 5 瓶

D. 6 瓶


40. 五人的体重之和是 423 斤,他们的体重都是整数,并且各不相同。则体重最轻的人,最重可能是()。

A. 80 斤

B. 82 斤

C. 84 斤

D. 86 斤



41. 某班学生不到 50 人,在一次考试中,有 $\frac{1}{7}$ 人得优, $\frac{1}{3}$ 人得良, $\frac{1}{2}$ 人及格,其余的均不及格,那么不及格的人数是()。

- A. 1 B. 2 C. 3 D. 4

42. 某一天小张发现办公桌上的台历已经有七天没有翻了,所以就一次翻了七张,这七天的日期加起来刚好是 77,问这一天是几号?()

- A. 13 B. 14 C. 15 D. 17

43. 有 10 对夫妇共 20 人参加一次圣诞晚会,其中每位男宾与其他每一个女宾握一次手(他的夫人除外),女宾与女宾都不握手,晚会上这 20 个人之间一共互相握了()次手。

- A. 150 B. 145 C. 140 D. 135

44. 一个长方体的长、宽、高恰好是三个连续的自然数,并且它的体积数值等于它的所有棱长之和的 2 倍,那么这个长方体的表面积是()。

- A. 74 B. 148 C. 150 D. 154

45. 四人进行篮球传接球练习,要求每人接球后再传给别人。开始由甲发球,并作为第一次传球,若第五次传球后,球又回到甲手中,则共有传球方式()。

- A. 60 种 B. 65 种 C. 70 种 D. 75 种

※※※第二部分结束,请继续做第三部分! ※※※

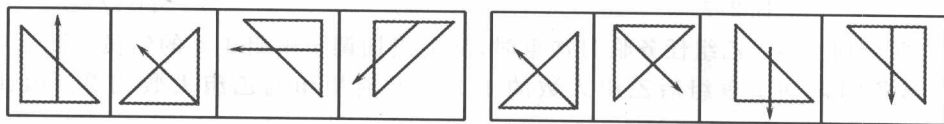
第三部分 判断推理

(共 30 题,参考时限 40 分钟)

一、图形推理。请按每道题的答题要求作答。

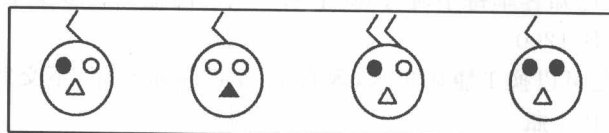
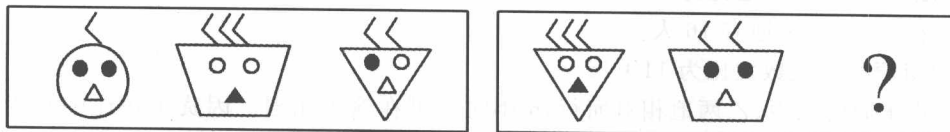
请开始答题:

46. 请从所给的四个选项中,选择合适的选项,使之呈现一定的规律性。()



- A B C D

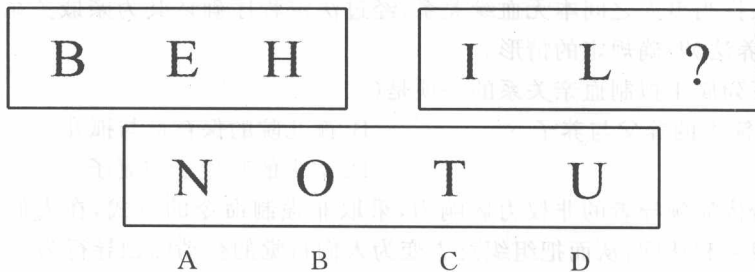
47. 请从所给的四个选项中,选择合适的选项,使之呈现一定的规律性。()



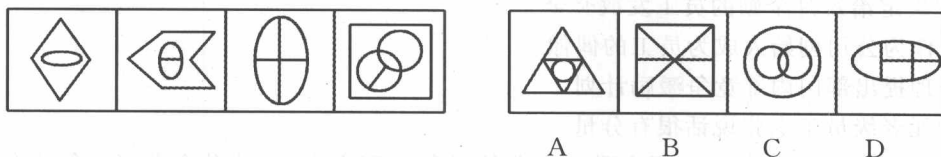
- A B C D



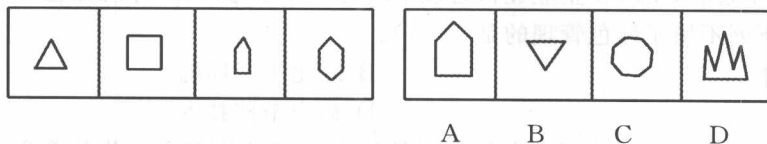
48. 请从所给的四个选项中,选择合适的选项,使之呈现一定的规律性。()



49. 请从所给的四个选项中,选择合适的选项,使之呈现一定的规律性。()



50. 请从所给的四个选项中,选择合适的选项,使之呈现一定的规律性。()



二、定义判断。每道题先给出一个概念的定义,然后分别列出四种情况,要求你严格依据定义,从中选出一个最符合或最不符合定义的答案。注意:假设这个定义是正确的,不容置疑的。

请开始答题:

51. 耕作是指作物种植以前,或在作物生长期,为了改善植物生长条件而对土壤进行的机械操作,耕作的基本目的有三个:①改良土壤结构;②把作物残茬和有机肥料掩埋并掺和到土壤中去;③清除杂草或其他不需要的植株。

根据上述定义,以下属于耕作的是()。

- A. 在果园里挖排水沟
- B. 喷洒除草剂以清除杂草
- C. 将雨后板结的表土破碎
- D. 冬季在农田里种植绿肥作物

52. 私分国有资产是指国家机关、国有公司、企业、事业单位、人民团体,违反国家规定,以单位名义将国有资产集体私分给个人,数额较大的行为。下列行为属于私分国有资产罪的是()。

- A. 某国有事业单位即将更换办公设备,该单位将价值 20 万元的原有电脑、办公桌等办公设备以一折的低价出售给单位员工
- B. 某国家机关处长将本单位公款 10 万元以单位名义借给朋友用于投资经营,结果朋友投资失败,无法归还,造成公款损失
- C. 某企业为感谢上级主管领导的器重和照顾,从单位利润中拿出 10 万元送给领导,主管领导收受
- D. 某事业单位私设小金库,在与全体职工享受正常奖金分配后,该单位领导私分了剩余钱数,每人获得 5 万元

53. 反诉:是指在已经提起的诉讼中,被告针对与原告有联系的行为,提起独立诉讼请求的行为。

根据以上定义,下列行为属于反诉的是()。

- A. 原告起诉被告居住的房屋所有权是他的,被告请求法院让原告偿还房款
- B. 原告起诉,要求被告按买卖合同交货,被告起诉供货商未能按时交货
- C. 原告起诉离婚,被告请求法院确认婚姻关系本来就是无效