


经全国中小学教材审定委员会 2002 年初审通过

义务教育课程标准实验教科书

# 地理

八年级下册



湖南教育出版社

义务教育课程标准实验教科书

# 地 理

八年级下册



湖南教育出版社

## 说 明

中国区域地理的教学，根据《全日制义务教育地理课程标准（实验稿）》，本教材规定北京市、台湾省、香港特别行政区和澳门特别行政区为必修内容，其余的 30 个省级行政区则确定为选修内容，并不要求逐一进行学习。教师可根据实际情况，在讲授 4 个必修的省级行政区的基础上，再选择 5~8 个省级行政区作为教学内容即可。讲述这些选修的省级行政区不必面面俱到，而应各有侧重，突出区域地理特色。未选部分可列为学生自学内容。

本教材编委会  
2002 年 12 月



# 目 录

<b>第一章</b>	<b>中国的主要产业</b> .....	1
第一节	农 业 .....	2
第二节	工 业 .....	10
第三节	高技术产业 .....	18
第四节	交通运输业 .....	20
<b>第二章</b>	<b>沿海万里行</b> .....	29
第一节	“祖国心脏”——北京市 .....	30
第二节	“华北门户”——天津市 .....	34
第三节	“燕赵沃野”——河北省 .....	36
第四节	“辽海重地”——辽宁省 .....	38
第五节	“齐鲁大地”——山东省 .....	40
第六节	“富饶水乡”——江苏省 .....	42
第七节	“东方明珠”——上海市 .....	44
第八节	“钱塘江畔”——浙江省 .....	46
第九节	“东南侨乡”——福建省 .....	48
第十节	“祖国宝岛”——台湾省 .....	50
第十一节	“岭南热土”——广东省 .....	54
第十二节	“繁华都会”——香港特别行政区 .....	56
第十三节	“海上花园”——澳门特别行政区 .....	61
第十四节	“锦绣壮乡”——广西壮族自治区 .....	64
第十五节	“天涯海角”——海南省 .....	66
<b>第三章</b>	<b>陆疆万里行</b> .....	68
第一节	“雪原林海”——吉林省 .....	69
第二节	“北国粮仓”——黑龙江省 .....	71
第三节	“草原毡乡”——内蒙古自治区 .....	73



第四节	“天山南北”——新疆维吾尔自治区	75
第五节	“雪域高原”——西藏自治区	77
第六节	“彩云南国”——云南省	79
<b>第四章</b>	<b>黄河万里行</b>	<b>81</b>
第一节	“江河之源”——青海省	82
第二节	“丝路咽喉”——甘肃省	84
第三节	“塞上江南”——宁夏回族自治区	86
第四节	“古朴秦川”——陕西省	88
第五节	“乌金之乡”——山西省	90
第六节	“中原之州”——河南省	92
<b>第五章</b>	<b>长江万里行</b>	<b>94</b>
第一节	“天府之国”——四川省	95
第二节	“西南山城”——重庆市	97
第三节	“壮美高原”——贵州省	99
第四节	“九省通衢”——湖北省	101
第五节	“芙蓉国度”——湖南省	103
第六节	“物华天宝”——江西省	105
第七节	“江淮之滨”——安徽省	107
<b>第六章</b>	<b>走向世界的中国</b>	<b>109</b>

## 图 例

<p><b>全 国 图</b></p> <ul style="list-style-type: none"> <li>★ 北京 首都</li> <li>◎ 郑州 省级行政中心</li> <li>○ 大连 主要城市</li> </ul> <p><b>分 省 图</b></p> <ul style="list-style-type: none"> <li>★ 北京 首都</li> <li>◎ 郑州 省级行政中心</li> <li>● 嘉兴 地级市行政中心</li> <li>◎ 三河 宣丰 县级市、县级行政中心</li> <li>○ 含浦 其他居民点</li> </ul>	<ul style="list-style-type: none"> <li>—— 国界</li> <li>—— 未定国界</li> <li>—— 省、自治区、直辖市界</li> <li>—— 特别行政区界</li> <li>—— 建设中 铁路</li> <li>—— 建设中 高速公路</li> <li>—— 主要公路</li> <li>—— 湖、海岸线</li> </ul>	<ul style="list-style-type: none"> <li>—— 运河</li> <li>—— 河流</li> <li>—— 时令河</li> <li>—— 水渠、水库</li> <li>—— 沼泽地</li> <li>▲ 8844(米) 山峰、高程</li> <li>✈ 机场</li> <li>● 旅游景点</li> </ul>
--	---	---



# 第一章

## 中国的主要产业

在人类文明史上，我国的农业生产和科学技术占有重要地位。

近半个多世纪以来，经过艰苦不懈的努力，我国由一个贫穷落后的旧中国，迅速发展成为一个繁荣昌盛的新中国。在工业、农业、交通运输、科学技术等方面，我国都取得了巨大成就。我国的生产力布局，也改变了以往那种过分集中于沿海的不合理状况。无论在沿海，还是在内地，国家都兴建了众多的工业基地和现代化城市。一条条铁路和高速公路穿过崇山峻岭，跨越滔滔江河，把祖国各地联系起来。

我国现已建成基本完整的国民经济体系，综合国力得到空前的增强。30年的改革开放使得沿海地区的面貌焕然一新，国家西部大开发战略的全面实施，更会给西部地区带来灿烂的明天。





# 第一节 农业

## 让“土地奉献”的产业


在农田，人们种植庄稼；在牧场，人们饲养牲畜；在山野，人们植树造林；在水域，人们撒网捕鱼……这就是农业，一种直接利用土地资源所从事的生产活动，一种让“土地奉献”的产业。



什么是农业？贝贝和玲玲都有自己的看法，请谈一谈你的看法。



农业就是种植农作物。



不仅如此，农业还包括……



### 历史悠久的中国农业

我国农业历史悠久，是世界上最早种植水稻、粟的国家。我国培育了品种繁多的农作物，是小麦、大豆、大白菜、葱、芥菜、萝卜、韭菜、茭白、荔枝、梨、桃、橘、枇杷、麻等农作物的原产地。我国最早种桑养蚕，古代商人经“丝绸之路”将我国所产的丝绸运往西亚和欧洲。我国又是世界上最早栽培茶树的国家，茶叶一直是我国重要的出口农产品。



## 我国农业的发展

半个世纪以来，我国农业生产发展较快。当前，我国的粮食、肉类、棉花、花生、油菜子、水果等农产品的产量已居世界第一位。谷物人均占有量接近世界平均水平，棉花人均占有量超过世界平均水平。

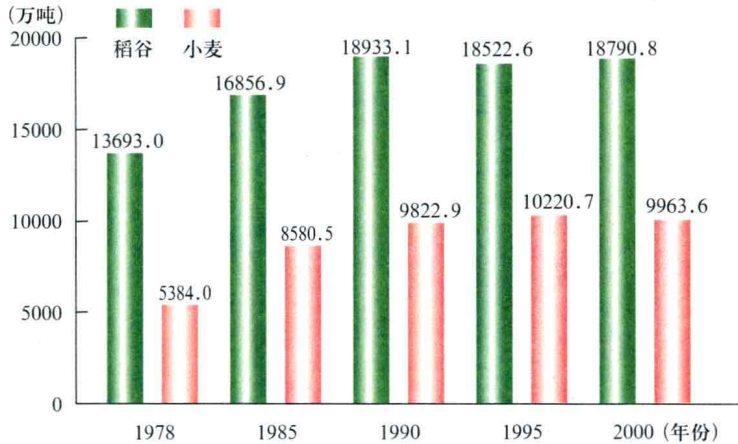


图 1-1 中国稻谷、小麦产量的变化

我国农业生产条件日益改善。农田灌溉面积已占到农田总面积的40%，农田防护林建设有了很大发展。但是，农业的生态环境条件还比较差，基础设施仍较薄弱。

我国农业生产的地区分布趋于合理。在农业生产水平比较高的东部地区，建设了大量的高产稳产农田；在农业生产水平比较低的地区，培育了新的农业基地。为适应对外开放的需要，还建立了许多以出口创汇为主的农产品基地。随着城市化的加速推进，城郊农业也蓬勃发展起来。



图 1-2 喷灌



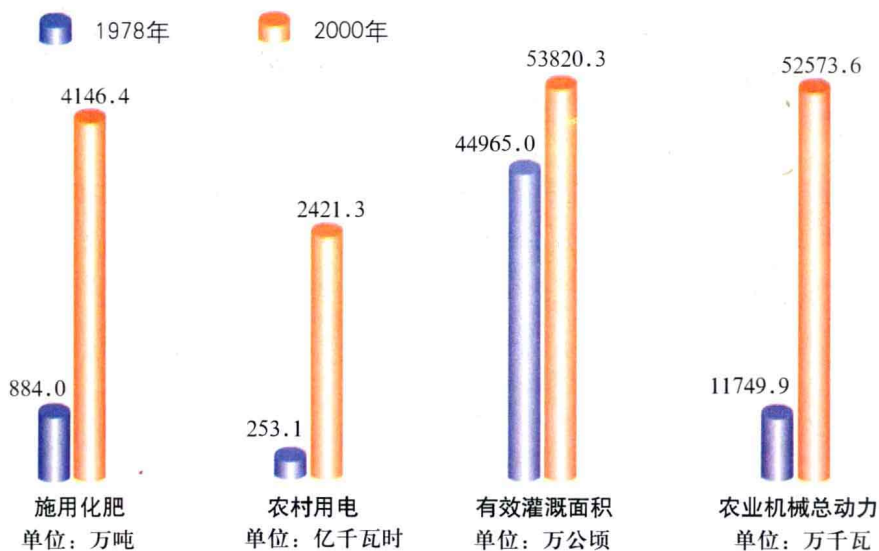


图 1-3 中国农业基础设施的发展

## 主要粮食作物的分布



1. 我国北方居民与南方居民的主食是不同的。下面两幅图，哪一幅反映的是北方人的饮食习惯？哪一幅反映的是南方人的饮食习惯？他们的主食各是什么？



2. 我国北方居民与南方居民的主食不同，跟当地种植的粮食作物有关。想一想，我国北方与南方的主要粮食作物各是什么？

3. 下面两幅照片，哪一幅反映的是北方粮食作物的收割情况？哪一幅反映的是南方粮食作物的收割情况？



图 1-4 水稻收割



图 1-5 小麦收割

4. 请把①三江平原、②松嫩平原、③洞庭湖平原、④鄱阳湖平原、⑤成都平原这 5 个粮食集中产区的序号填注在图 1-6 中。

5. 你家乡的主要粮食作物是什么？

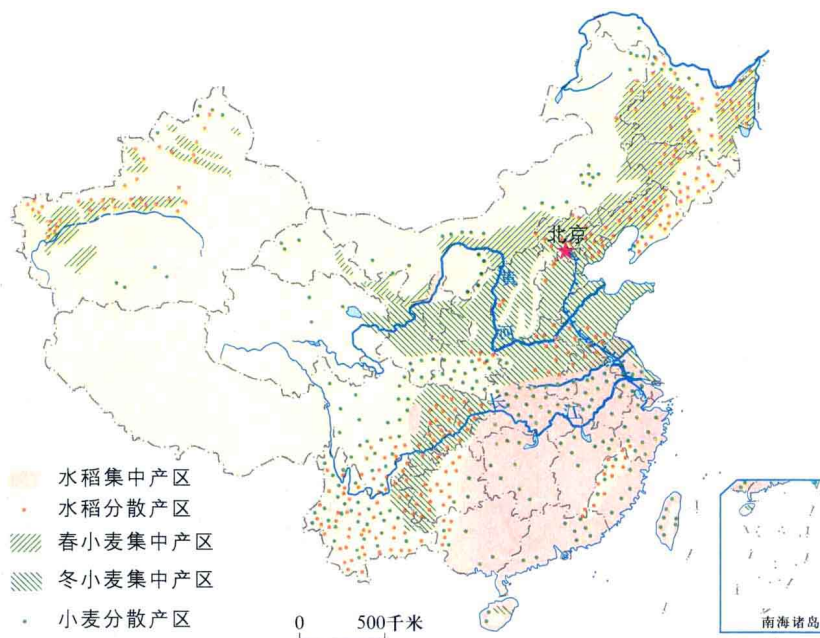


图 1-6 中国小麦、水稻分布



### 冬小麦与春小麦

根据播种期不同，小麦有冬小麦与春小麦之分。冬小麦在秋季播种，次年的夏季收获，对越冬条件有较高要求。春小麦在春季播种，秋季收获。





## 主要经济作物的分布

我国经济作物种类繁多，有纤维作物、油料作物、糖料作物、饮料作物、药用作物等。有的经济作物生长在温带、亚热带地区，有的经济作物只能生长在热带地区，后者被称为热带经济作物。经济作物通常具有经济价值高、技术要求高、商品性强等特点。有些经济作物是人们的衣食之源，有些经济作物是重要的工业原料。



图 1-7 中国部分经济作物分布



### 油料、糖料和饮料作物

油料作物中，油菜在我国种植面积最广，产量要占到全国油料总产量的一半以上。油菜的最大产区是长江流域。花生分布较为普遍，山东、河南两省为主要产区。

糖料作物中，甘蔗性喜湿热，主要分布在华南及四川盆地，广西壮族自治区为最大产区。甜菜性喜温凉，主要分布在黑龙江、吉林、内蒙古和新疆北部。

饮料作物中，茶叶种植历史悠久，是我国传统的农产品。秦



岭—淮河以南的丘陵、山地为主要产茶区，主要产茶省有福建、浙江、云南等。

●南方有一家制糖厂，设想在附近开辟一个甜菜生产基地，以满足制糖原料的需求。这种想法是否正确，为什么？

## 农产品出口基地

我国沿海的山东半岛、太湖平原、闽南、珠江三角洲等地，盛产花卉、水果、蔬菜、水产、畜禽等产品。近年来，这些地区的农产品出口不断增加，成为我国重要的农产品出口基地。



图 1-8 花卉出口基地



### 新型农业

“外向型农业”是指以出口创汇为主体的农业，所生产的农产品主要面向国际市场。这就要求具有与国际农产品市场需求变化相适应的生产基地、技术支持、运作机制和服务体系。

“旅游农业”又称观光农业，是与旅游业相结合的一种消遣性农事活动。农民利用当地的优势条件开辟活动场所，提供生活设施，吸引游客，以增加收入。旅游活动的内容除游览田园风景外，还有林间狩猎、水面垂钓、采摘果实等农事活动。

除此之外，“生态农业”、“精确农业”等新型农业也正在蓬勃发展。

●就珠江三角洲和江汉平原来说，哪一个地区更适宜于发展外向型农业？其农产品主要销往哪些地方？

●有人说，无公害蔬菜生产属于生态农业，这种说法对吗？查一查资料，证明你的判断。



## 畜牧业分布



图 1-9 天山牧场

我国自然环境复杂多样，草场资源丰富，为发展畜牧业提供了有利条件。我国是世界畜牧业大国之一，但畜牧业在农业总产值中的比重偏小，难以适应人民生活不断增长的需求。

我国西部、北部草原辽阔，牧场宽广。内蒙古、新疆、青海、西藏是我国的四大放牧区，这里的许多地方水草肥美，气候适宜，具有悠久的畜牧业生产历史。





我国东部、南部农耕区的畜牧业，以畜禽饲养为主。农耕区饲料资源丰富，饲养的牲畜要占到全国总数的80%，每年为国家提供大量的肉类、乳类产品。除养鸡外，大规模放养鸭、鹅等水禽，也是家禽饲养的一大特色。四川、湖南、河南是我国商品生猪的主要产区。



图 1-11 大型养鸡场



活动

参观附近的一个饲养场或牧场，了解畜牧业的生产情况，填写

下表：

饲养场（牧场）名称	
主要畜产品	
畜产品年产量	
畜产品销售地	
存在的主要问题	
你有哪些建议	





## 第二节 工业

### 国民经济的主导产业

工业为国民经济各个部门提供生产所必需的各种原材料、能源和技术装备，也为人们提供丰富多样的生活资料。

应当根据各地区的自然资源条件、人口和劳动力的状况、市场因素以及现有经济基础等来发展工业。科学地进行工业布局，就可以充分利用我国国土辽阔、资源丰富、气候多样、人口众多等条件，使全国各个地区的工业得到合理发展。



图 1-12 纺织工业



图 1-13 机械工业



活动

1. 你对图 1-12、1-13 中人们从事的工业生产活动了解吗？把你知道的告诉大家。除此之外，你还能列举出其他一些工业生产活动吗？

2. 结合生活实际，谈一谈工业生产和农业生产有什么不同。

### 我国工业的发展

半个世纪以来，我国工业得到了很大的发展。许多工业品的产量在



世界上名列前茅，其中煤炭、钢铁、棉布、电视机、电冰箱等的产量居世界首位。我国工业技术水平有了很大的提高，已初步形成门类齐全的工业体系。

过去，我国工业集中分布在沿海。重工业主要集中在辽宁中南部地区，轻纺工业则集中分布于上海、天津、青岛、广州等少数沿海城市。而在辽阔的内地，现代工业几乎是一片空白。



图 1-14 马鞍山钢铁工业基地

新中国成立后，加强了东部沿海地区原有的工业区和工业中心的建设。在中部地区和东北腹地，扩建或新建了一些工业基地和工业中心。在过去交通闭塞、经济不发达的内地和少数民族地区，兴建了一批新的工业基地或工业中心，地方工业有了长足发展。

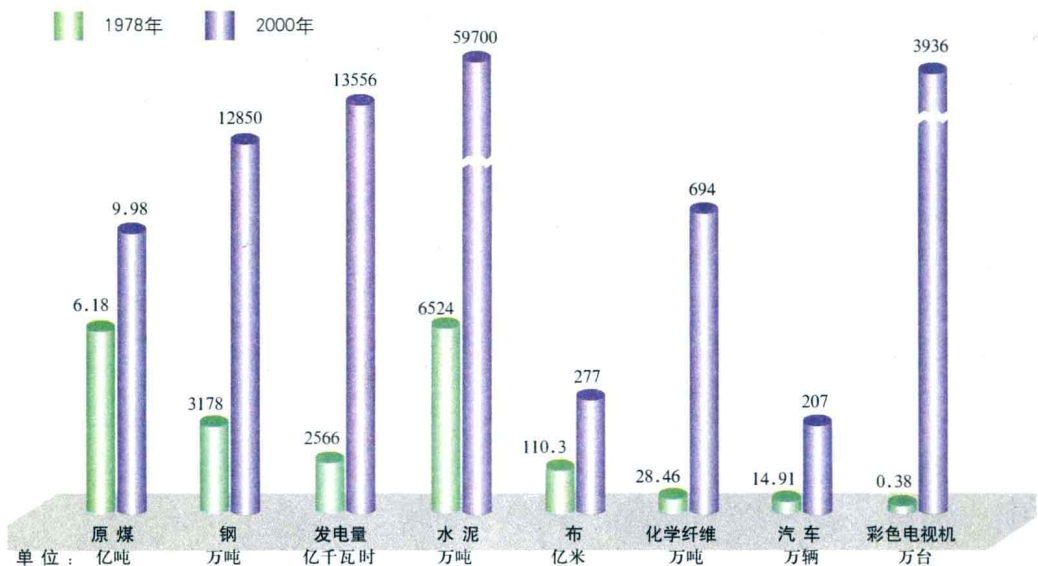


图 1-15 我国主要工业产品产量的变化





## 能源工业分布

能源是我国现代化建设和人民生活的重要物质基础。我国既是世界能源资源大国，也是世界能源生产大国。加速发展能源工业，是我国经济建设的战略重点。目前能源供应不足与浪费并存，必须贯彻开发与节约并举的方针。

煤炭是我国第一大能源，占全国能源生产和消费总量的70%以上。我国是世界上煤炭产量最多的国家。在各省区中，山西省的煤炭产量最多，每年有大量煤炭供应外地。



### 我国的煤炭工业基地

山西的大同、阳泉，河北的开滦、峰峰，河南的平顶山，内蒙古的准格尔、霍林河，黑龙江的鸡西、鹤岗，贵州的六盘水，江苏的徐州，安徽的淮北、淮南等，都是著名的煤炭工业基地。陕北和内蒙古交界处的神府—鄂尔多斯煤田，正在建设成特大型煤炭工业基地。



图 1-16 煤炭开采



1. 思考玲玲和贝贝的谈话，说一说你对开发“小煤窑”的看法。



目前，在一些地方很盛行开发“小煤窑”。

是啊，随之带来了不少问题……



2. 电力工业主要有水力发电和火力发电两种形式。我国北方电力工业以哪种形式为主？南方电力工业以哪种形式为主？这是为什么？

石油是我国第二大能源，在我国能源生产和消费总量中仅次于煤炭。我国是世界上最早发现和利用石油的国家之一，石油蕴藏量较为丰富。