

九年义务教育三年制四年制初级中学

世界历史

(第一册)

填充练习图册

SHIJIE LISHI TIANCHONG LIANXI TUCE



中国地图出版社编制出版

班级 _____ 姓名 _____ 学号 _____

人类的出现和世界三大人种	2	法国资产阶级革命	36
古代埃及	3	法兰西第一帝国极盛时的欧洲	37
公元前18世纪的古巴比伦王国	4	19世纪拉丁美洲独立运动	38
古代印度	5	英国工业革命	39
佛教的传播	6	欧洲三大工人运动和科学社会主义的创立	40
西方字母的渊源与发展	7	美国领土扩张	41
灿烂辉煌的古代亚非文化	8	美国内战	42
大河流域的亚非文明古国	9	俄国的领土扩张(一)	43
爱琴文明和古代希腊	10	俄国的领土扩张(二)	44
亚历山大帝国	11	日本的反幕府斗争与明治维新	45
古代罗马	12	德意志的统一	46
罗马帝国的分裂和西罗马帝国的灭亡	13	意大利的统一	47
古希腊和罗马的神话、史诗、戏剧	14	近代的科学	48
西方古代的历史名著、科学家、建筑和雕塑	15	近代的文化	48
查理曼帝国的起源、形成与发展	16		
7-9世纪的不列颠	17		
拜占廷帝国	18		
基督教的兴起与发展	19		
古代朝鲜	20		
古代日本	21		
阿拉伯帝国的扩张	22		
奥斯曼土耳其的扩张	23		
15世纪的意大利	24		
欧亚主要商路及马可·波罗行程示意图	25		
新航路的开辟	26		
葡萄牙、西班牙的殖民扩张	27		
意大利文艺复兴	28		
欧洲文艺复兴	29		
英国资产阶级革命	30		
英、荷、法的殖民地	31		
英法在北美的扩张	32		
英法对印度的侵略	32		
三角贸易	33		
七年战争后英国在北美的殖民地	34		
来克星顿的枪声	35		
美国独立战争	35		

统一图例



首都

重要居民点

洲界

国界

地区界

河流、湖泊

运河

战场

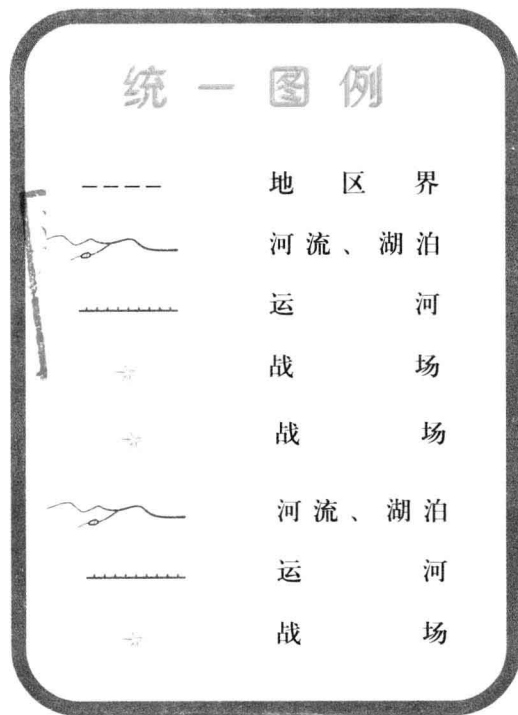
未定界

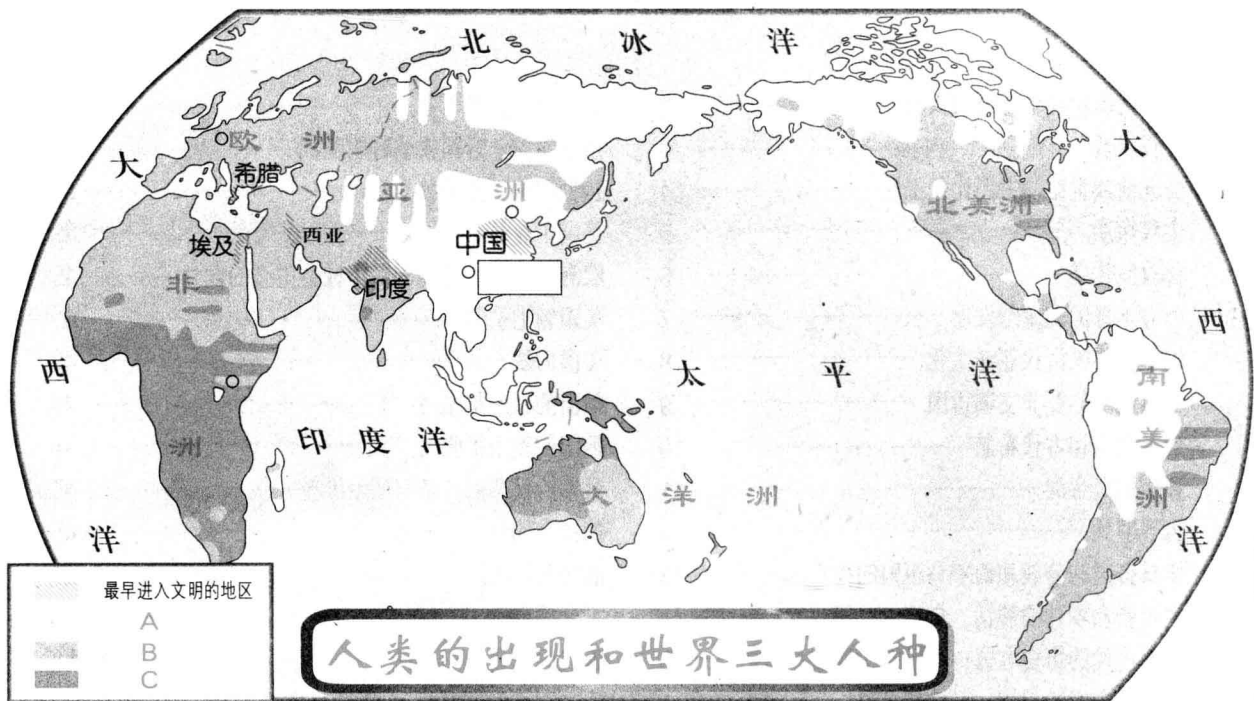


人类的出现和世界三大人种	2
古代埃及	3
公元前18世纪的古巴比伦王国	4
古代印度	5
佛教的传播	6
西方字母的渊源与发展	7
灿烂辉煌的古代亚非文化	8
大河流域的亚非文明古国	9
爱琴文明和古代希腊	10
亚历山大帝国	11
古代罗马	12
罗马帝国的分裂和西罗马帝国的灭亡	13
古希腊和罗马的神话、史诗、戏剧	14
西方古代的历史名著、科学家、建筑和雕塑	15
查理曼帝国的起源、形成与发展	16
7-9世纪的不列颠	17
拜占廷帝国	18
基督教的兴起与发展	19
古代朝鲜	20
古代日本	21
阿拉伯帝国的扩张	22
奥斯曼土耳其的扩张	23
15世纪的意大利	24
欧亚主要商路及马可·波罗行程示意图	25
新航路的开辟	26
葡萄牙、西班牙的殖民扩张	27
意大利文艺复兴	28
欧洲文艺复兴	29
英国资产阶级革命	30
英、荷、法的殖民地	31
英法在北美的扩张	32
英法对印度的侵略	32
三角贸易	33
七年战争后英国在北美的殖民地	34
来克星顿的枪声	35
美国独立战争	35

法国资产阶级革命	36
法兰西第一帝国极盛时的欧洲	37
19世纪拉丁美洲独立运动	38
英国工业革命	39
欧洲三大工人运动和科学社会主义的创立	40
美国领土扩张	41
美国内战	42
俄国的领土扩张(一)	43
俄国的领土扩张(二)	44
日本的反幕府斗争与明治维新	45
德意志的统一	46
意大利的统一	47
近代的科学	48
近代的文化	48

统一图例





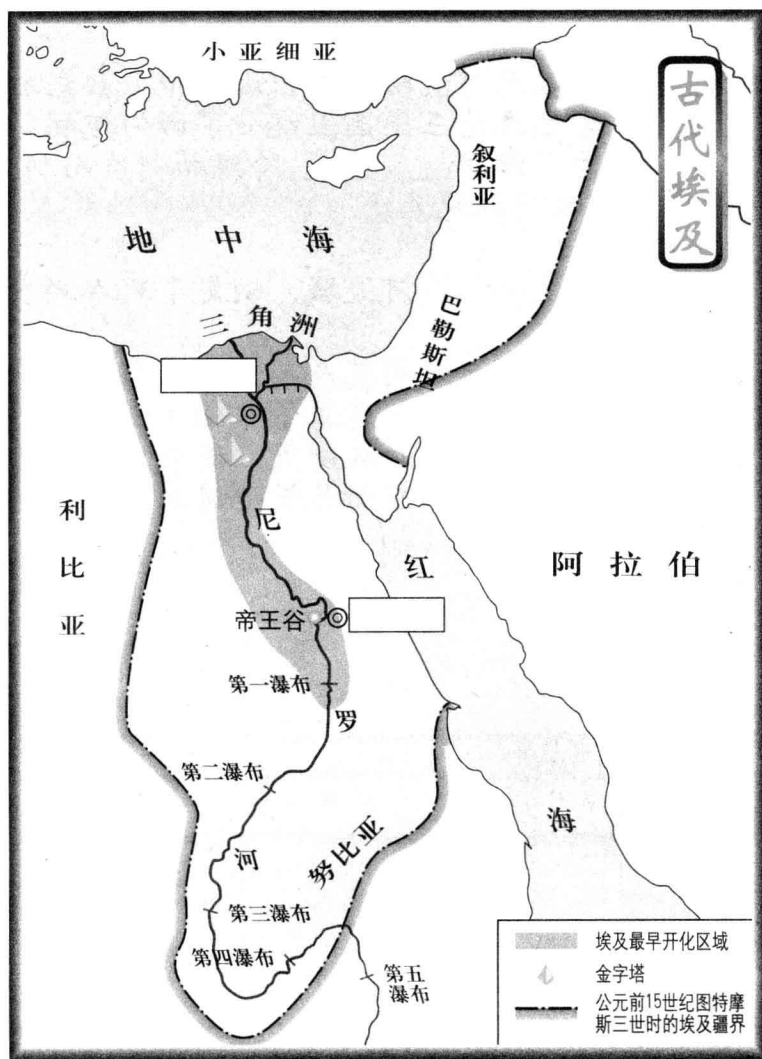
一、填空：

1. 人类出现于_____年前，人类最初的社会是_____社会。
2. 最先出现的氏族是_____氏族，然后是_____氏族。
3. 各人种之间只是在体型、_____、_____、发型和_____等方面有差异。
4. 图例中的代号分别代表哪个人种的分布：A _____色人种、B _____色人种、C _____色人种。

二、在图中方框内填上相应的地名。

三、将下面表格中最初人类的主要代表的对应代号填入上面地图中的相应位置，以了解最初人类的大致分布。

最初人类的主要代表	
早期猿人	肯尼亚1470号人① 坦桑尼亚奥都威峡谷“能人”
晚期猿人	印尼爪哇人 德国海德堡人② 中国北京人③
早期智人	德国尼安德特人 中国丁村人
晚期智人	中国山顶洞人



一、填空：

1. 公元前_____年，尼罗河下游陆续出现了几十个奴隶制小国。而初步统一的埃及国家是在公元前3000年左右建立起来的。
2. 公元前_____世纪，图特摩斯三世在位时，埃及成为地跨亚非的军事帝国。

二、在图中方框内填上相应的地名。

三、判断正误：

1. 读图可知，孟斐斯东北有一条沟通红海和尼罗河的运河。（ ）
2. 孟斐斯在今埃及首都开罗以北处。（ ）
3. 公元前6世纪，埃及被东亚的波斯所灭。（ ）

新月地带的古国

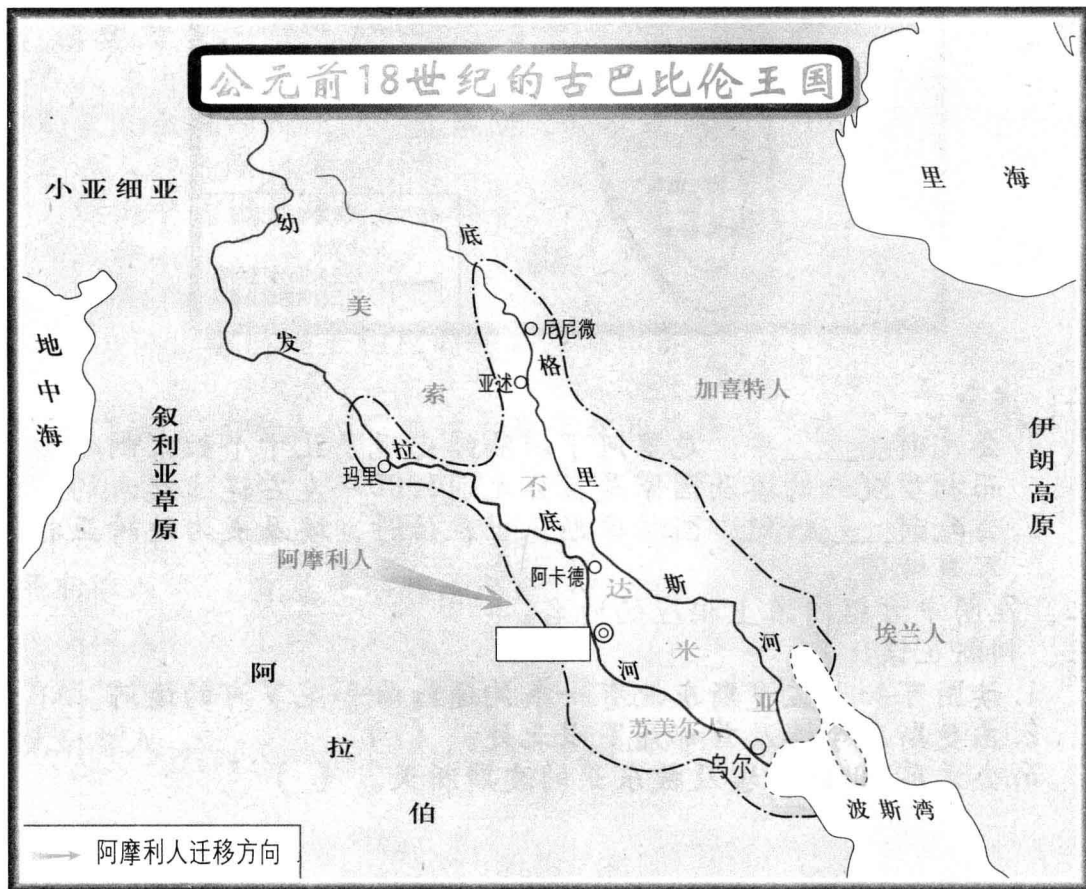
一、填空：

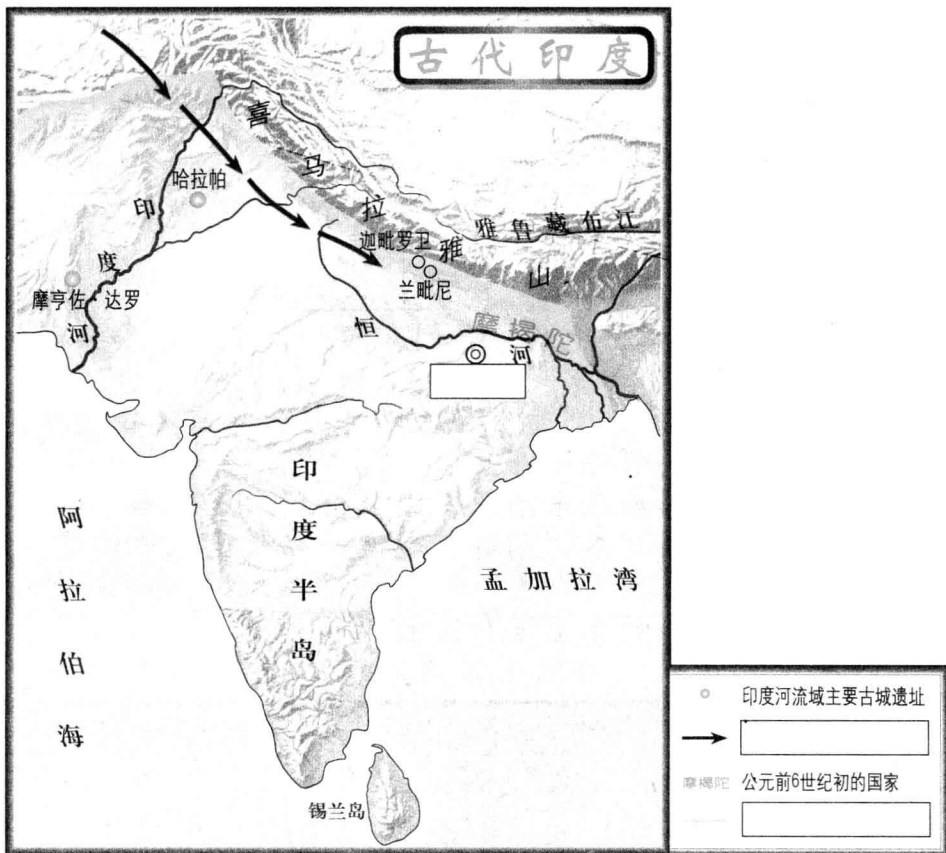
1. 约公元前____年，在两河流域南部出现了很多奴隶制小国。公元前____世纪，古巴比伦王国国王统一了两河流域。
2. 汉谟拉比法典是为了维护_____阶级的利益而制定的。

二、在图中方框内填上相应的地名。

三、判断正误：

1. 汉谟拉比的贡献：统一了两河流域，制定了现存的世界古代第一部法典。（ ）
2. 底格里斯河和幼发拉底河之间就是美索不达米亚平原。（ ）
3. 希伯来人在“新月沃地”西部建立了希伯来王国，后来分裂为以色列和犹太国，最终都被外族所灭，流散到世界各地。（ ）
4. 腓尼基人擅长航海和经商，在新月沃地建立过奴隶制小国外，还在海外建立了殖民地。（ ）





一、填空：

1. 印度河两岸土地肥沃，约公元前____年，这里开始出现奴隶制小国。
2. 古代印度受_____人统治。
3. 公元前3世纪，____河流域的____国统一了除南端以外的整个印度半岛。
4. 古印度有着严格的等级制度，历史上称“_____”。

二、在图中方框内填出地名，并将图例补充完整。

三、判断正误：

1. 苏美尔人是从西北方向入侵古代印度的。（ ）
2. 古代印度国王要比掌管神权的祭司贵族地位高。（ ）

四、对照课文将古印度的等级同社会阶层用线连起来。

婆罗门
刹帝利
吠舍
首陀罗

官吏
祭司贵族
国王
农民、牧民
武士
手工业者
被征服者、贫困破产失去土地的人
商人

佛教的诞生

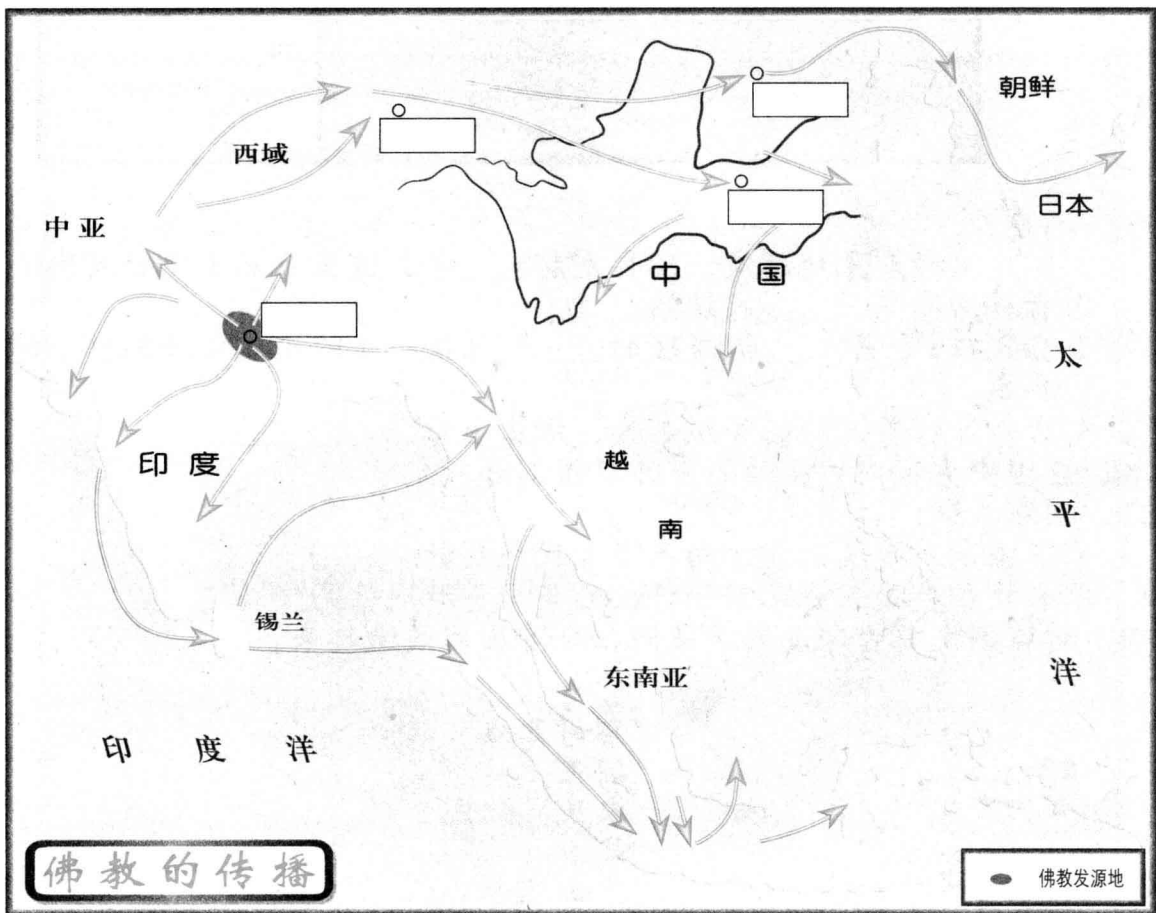
一、填空：

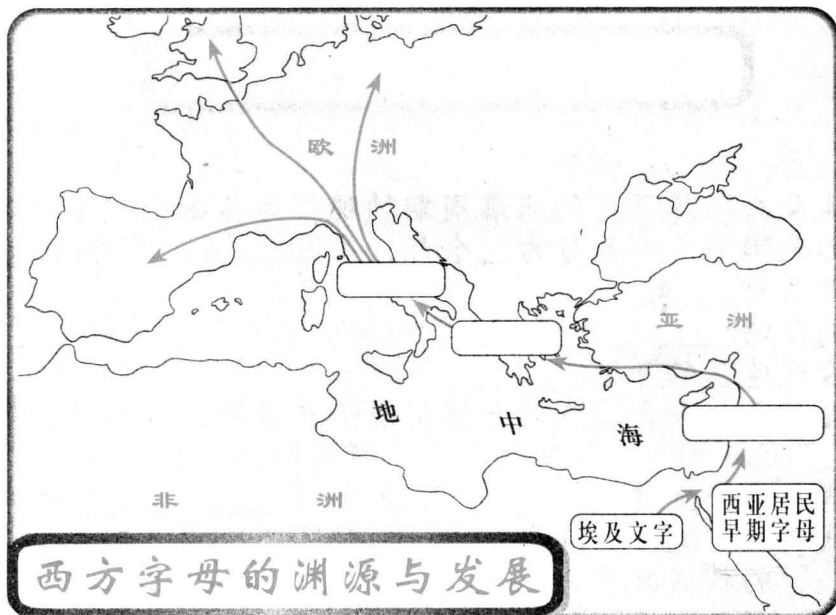
1. 佛教是在公元前__世纪产生的，创始人是_____。
2. 佛教宣扬_____，反对婆罗门的特权地位，但不反对奴隶制度。
3. 摩揭陀的国王_____，促使佛教有了更大发展，并且开始向古代印度以外传播。
4. 佛教发源地在_____，在今_____境内。

二、在下图方框内填出地名：龙门、敦煌、蓝毗尼和云冈。

三、判断正误：

1. 公元6世纪，种姓制度在古代印度引起异常尖锐的社会矛盾，佛教就在这种形势下产生了。（ ）
2. 读图可知，佛教在东南亚、中亚得到广泛传播。（ ）
3. 读图可以判断日本、朝鲜、越南的佛教是从中国传入的。（ ）
4. 佛教产生之前世界上没有宗教。（ ）





西方字母的渊源与发展

一、在图中方框内填出西方字母演变的几个过程。

二、判断正误：

1. 古埃及时期，只有神庙祭司等少数人能够掌握埃及象形文字，如今已经没人能够释读它了。（ ）
2. 生活在新月沃地的腓尼基人对人类做出的一项伟大贡献就是：将深奥难懂的楔形文字简化为接近于现在字母的腓尼基文字。（ ）
3. 古埃及的象形文字和苏美尔人的楔形文字都是刻在石头上才得以流传至今。（ ）
4. 下图中古埃及象形文字、西亚的楔形文字和中国古代的甲骨文有些类似，说明人类早期的文字是以图形、图画表示事物的。（ ）

甲骨文		象形文字		楔形文字	
人	鹿	兵	足		
目	门	打	星		
齿	戈	走	鱼		
日	羊	日	山		
水	月	哭			

三、用自己的话来说明西方字母的起源、演变、发展过程。

灿烂辉煌的古代亚非文化


一、填空：

1. 古埃及人以尼罗河的涨落周期的观察为基础制定了世界上最早的太阳历：一年分为__个月，每月__天，年终再加5天，全年共计__天。
2. 古埃及的_____神庙（阿蒙神庙）和两河流域的“_____”是古代建筑的奇迹。
3. 古埃及人把人或动物的尸体制成干尸保存，这种干尸叫“_____”。
4. 古代印度产生过《_____》和《_____》两部史诗。
5. 古代西亚曾流传的洪水神话，后经不断改编，形成了“_____”的神话故事。

二、判断正误：

1. 古埃及人制定的太阳历就是我们今天所用的历法。（ ）
2. 埃及的金字塔不是古代世界的奇迹。（ ）
3. 古代埃及人能够计算出三角形和圆的面积。（ ）
4. 中国文字从仰韶文化遗存中发现的刻划符号，到甲骨文、金文、大篆、小篆、隶书、楷书等一脉相承。（ ）

三、为下面照片填写照片说明：



四、查阅资料，回答世界七大建筑奇迹是什么？我们已经学过了哪些？

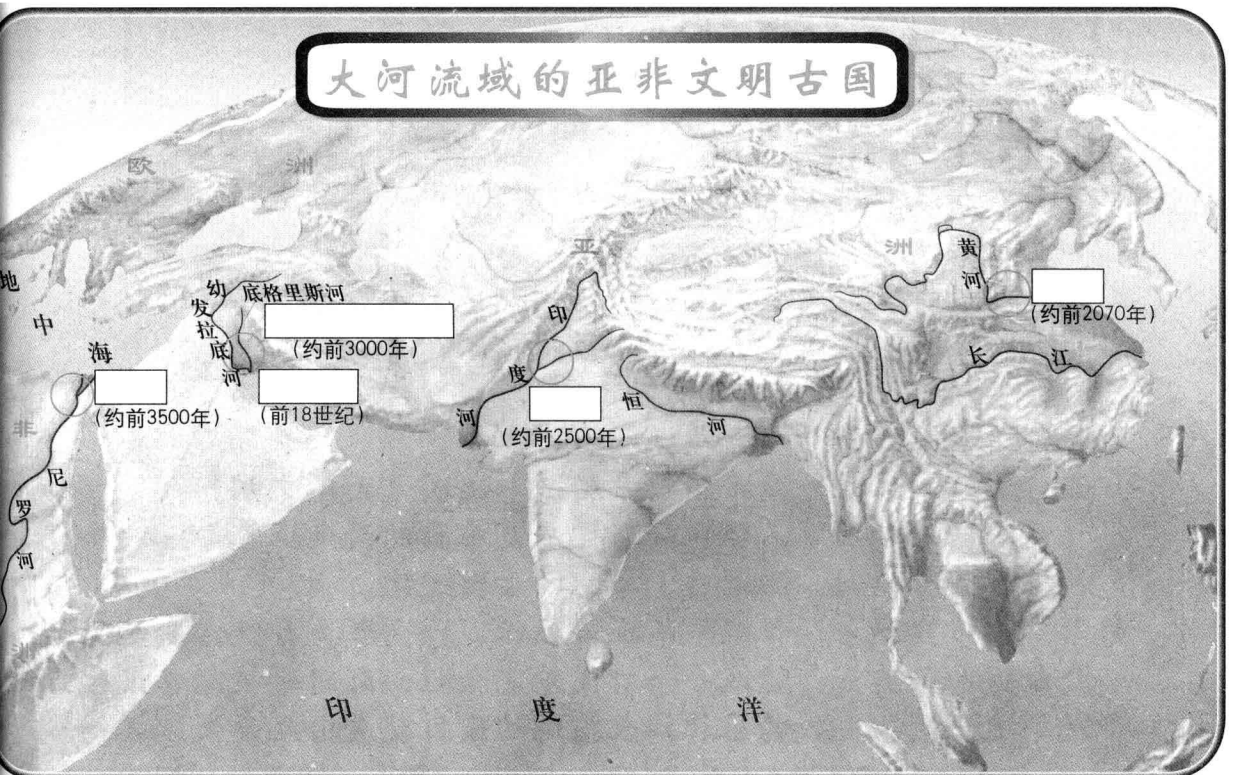
一、填空：

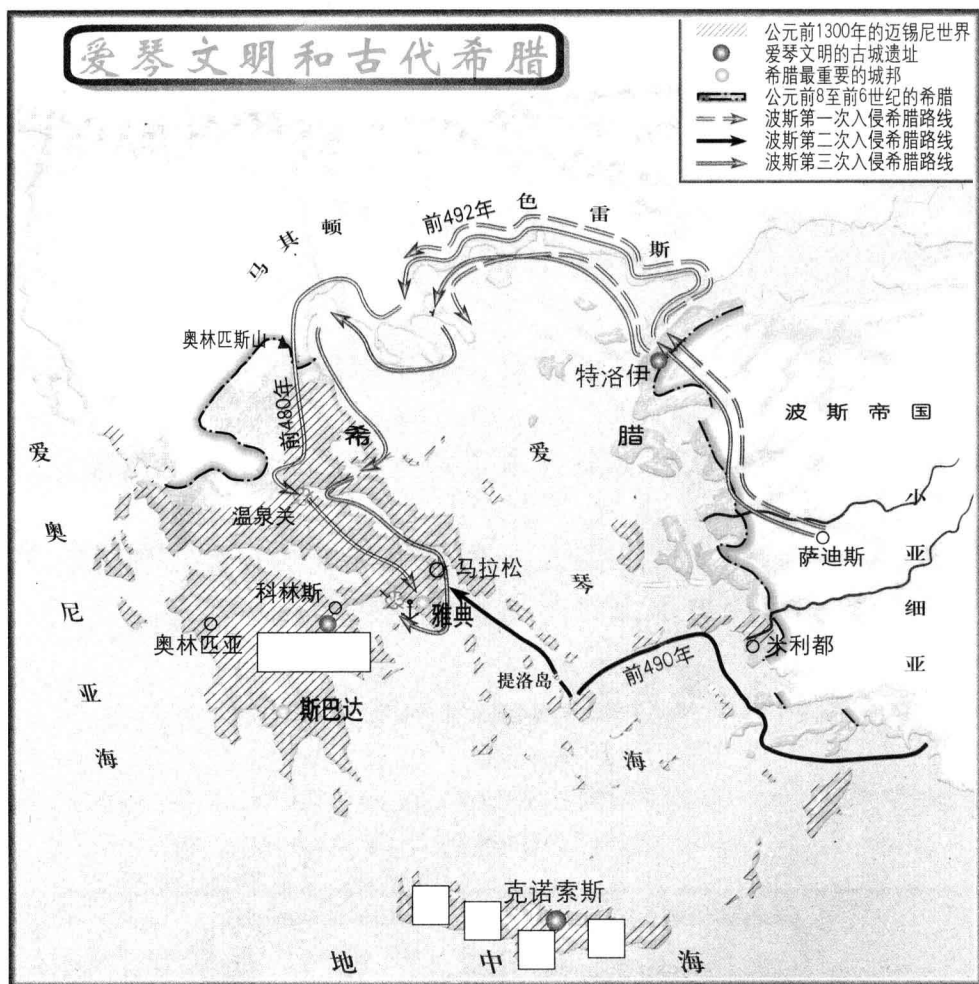
亚非文明产生于“大河流域”，“大河流域”是指：东亚的____河和____河、南亚的____河和____河、西亚的____河和____河、北非的____河。

二、判断正误：

1. 尼罗河水定期泛滥，水退后，留下肥沃的黑土，便于农业种植。（ ）
2. 幼发拉底河和底格里斯河中下游处在“新月沃地”当中。（ ）
3. 读图看出，印度河上游在高原中曲折流动。可以想像，夏季，印度河会由于上游高原积雪融化而河水泛滥。（ ）

三、对照课文在图中框内填写出亚非文明古国的名称。





一、填空：

1. 古代希腊城邦出现于公元前__世纪，其中重要的城邦有_____和_____。
2. 公元前__世纪，是希腊空前繁荣、奴隶制经济高度发展的时期。
3. 雅典的全盛时期是在_____当政时期。

二、在图中方框内填上爱琴文明的先后两个中心的名称。

三、判断正误：

1. 西方文明的发源地是希腊，希腊早期文明是爱琴文明。（ ）
2. 古代希腊是个国家，雅典和斯巴达是希腊的两个城市。（ ）
3. 和平繁荣时期的希腊创造了不朽的古典文化。（ ）
4. 第二次希波战争，雅典军队在马拉松，以少胜多打败波斯军队，受命返回雅典报喜的战士一口气跑完全程，到雅典报完喜讯后就倒地而死。现代的马拉松长跑运动项目就是由此而来。（ ）

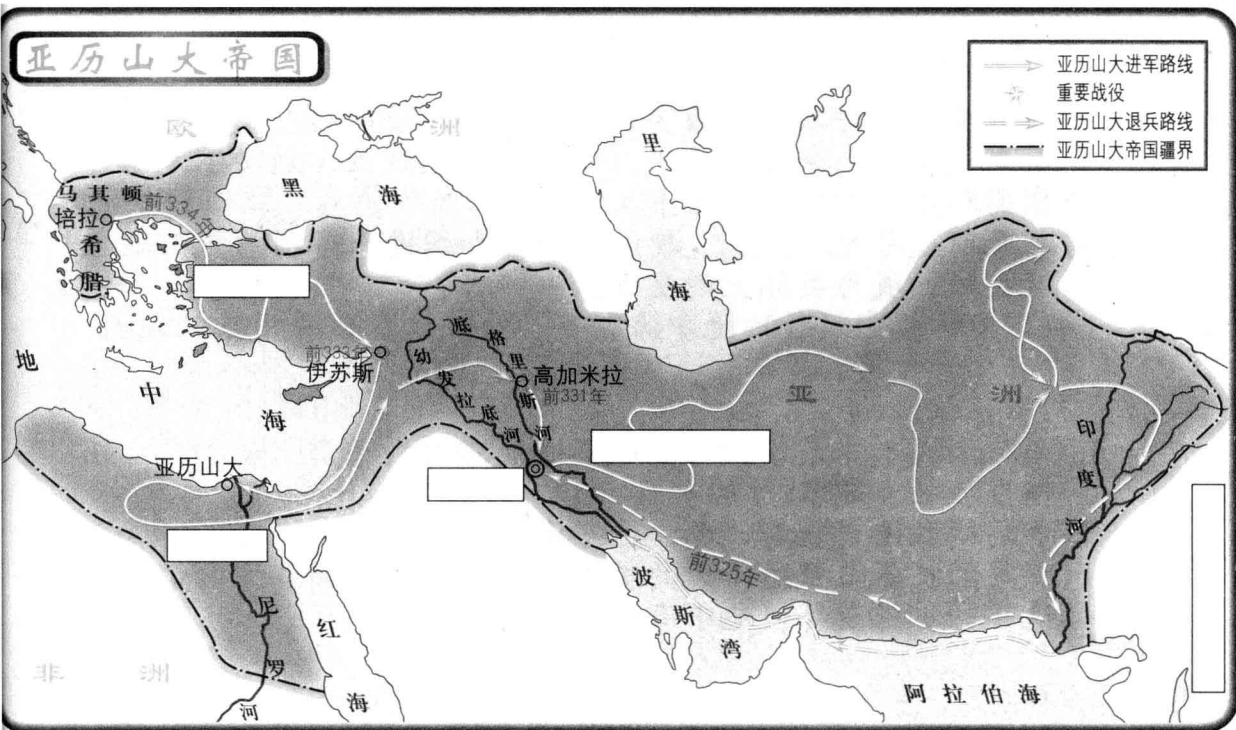
一、填空：

1. 从图上可以看出，亚历山大帝国是地跨__、__、__三大洲的大帝国。
2. 亚历山大帝国，最终定都_____。

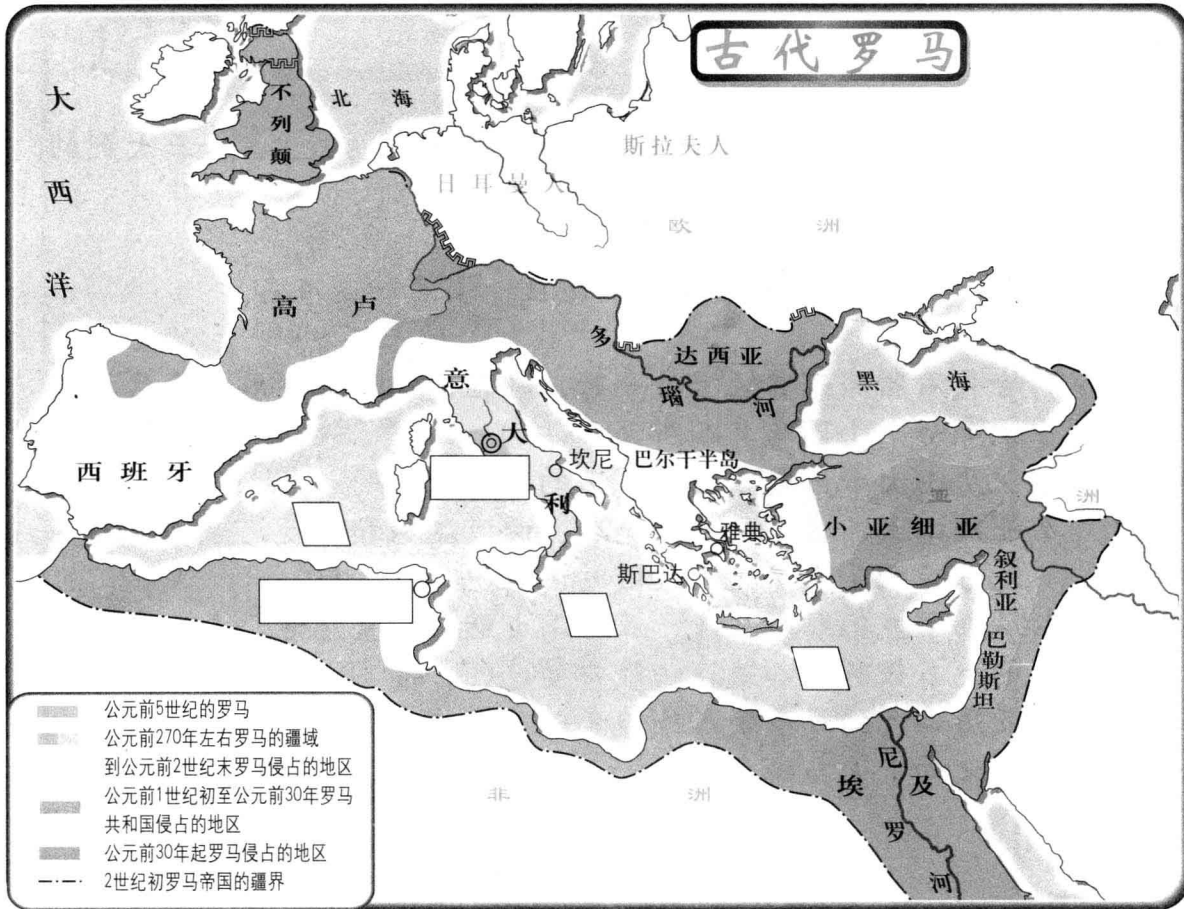
二、在图中方框内填上被征服的地区、国名和城市名。

三、判断正误：

1. 古代希腊城邦曾经繁盛一时，却在内江当中削弱，最后被其北部一个小国马其顿所灭。（ ）
2. 亚历山大帝国是以一个国王的名字命名的。（ ）
3. 亚历山大入侵了尼罗河流域、两河流域和印度河流域，这些地方曾经是三个文明古国的诞生地。（ ）
4. 从书中我们可以知道，亚历山大继位后直至他死去，在位时的大多数时间都是在征战中度过。（ ）
5. 亚历山大的战争使人民饱受苦难，但在客观上促进了东西方文化的交流与融合。（ ）



地中海世界的霸主——古代罗马



一、填空：

1. 公元前____年，罗马成为共和国。
2. 罗马共和国时期，掌握实权的是贵族组成的_____。
3. 军事强人_____夺取了政权。但他的某些政策，触动了元老贵族的利益，遭到他们谋杀。
4. 公元前____年起，_____使罗马由共和国进入帝国时代，他独揽大权，成为实际上的皇帝。

二、在图中方框内填注：地中海、罗马、迦太基。并用红笔在图中描出台伯河。

三、判断正误：

1. 亚历山大一味东侵，而西部不远处意大利半岛上的罗马却悄悄发展壮大起来。（ ）
2. 罗马战胜迦太基后，成为地中海上的霸主。（ ）
3. 罗马的扩张与亚历山大的扩张不同，是向周围各方向扩张，这样的扩张最终使地中海成了罗马的内湖。（ ）



一、填空：

1. 罗马帝国建立后的约两百年间，由于境内局势安定，经济繁荣。历史上叫做“_____”时期。
2. _____年，罗马帝国内外交困，终于分裂为东、西两部分。
3. 西罗马帝国最终于_____年灭亡了。

二、对照图册，在图中画出日耳曼人对罗马帝国的入侵路线，并在方框内分别填注东、西罗马帝国。

三、判断正误：

1. “条条大路通罗马”说明了罗马当时的海路交通畅通、陆路四通八达，更说明了交流的频繁和贸易的发展，是一个经济繁荣的时期。（ ）
2. 安定的环境一方面使得罗马经济繁荣，另一方面却让统治者更加奢侈腐化、穷奢极欲，加倍压榨被征服地区人民。（ ）
3. 西罗马帝国依然是地跨三大洲的大帝国。（ ）

古希腊和罗马的神话、史诗、戏剧

一、将图画与图表当中的四个人名对应连线：



神的职责	希腊名	罗马名
最高天神	宙斯	朱庇特
太阳神	阿波罗	阿波罗
智慧女神	雅典娜	弥涅耳瓦
爱情女神	阿弗洛狄特	维纳斯



二、填空：

1. 《_____》相传为希腊盲诗人荷马所著，是欧洲最著名的长篇文学作品之一。罗马人维吉尔写的史诗《_____》在当时也很有名。
2. 希腊的_____是著名的悲剧作家，代表作有《_____》
_____》，与他齐名的有喜剧作家_____。

三、判断正误：

1. 罗马神话人物及故事情节取自希腊，说明罗马文化源于希腊。而古希腊、罗马文化又是西方文化的摇篮。（ ）
2. 公元前5世纪希波战争后希腊的和平时期与罗马帝国的“罗马和平”时期，为西方古典文化发展创造了条件。（ ）
3. 西方的戏剧源于古代希腊（ ）
4. 戏剧中的普罗米修斯从宙斯的奥林匹亚山盗回火种，还教人们使用火，使世间有了光明，人们持火炬赛跑纪念他。这就是现代的传递圣火的接力活动的由来。（ ）

四、为以下照片填写说明：





西方古代的历史名著、科学家、建筑和雕塑

一、填空：

1. _____定理是几何学的重要定理，就是中国的勾股定理。
2. 亚里士多德创立了_____、_____、_____和_____等学科体系。

二、将以下国名、人名、著作名对应连接：

希腊	普林尼	《伯罗奔尼撒战争史》
	希罗多德	《罗马史》
	李维	《历史》
罗马	休昔底德	《自然史》

三、判断正误：

1. 普林尼著作了《自然史》，是一位伟大的历史学家，还精通天文、地理、植物、矿物和医学方面的知识。（ ）
2. 雅典娜是智慧女神，在雅典卫城中有祭祀她的神庙，雅典娜的神像外面全用黄金和象牙镶成。（ ）
3. 罗马建筑庄严、厚重，多使用柱子和拱型结构，对后来欧洲和世界建筑有很大影响。（ ）
4. 英语和德语并非由拉丁语衍化而来，但使用了拉丁字母。（ ）
5. 今天的法国、意大利、西班牙、葡萄牙等地在古罗马统治时期使用的官方语言是拉丁语。（ ）

四、为以下照片填写说明。

