

2012 年

国家公务员录用考试试卷系列

全真模拟预测试卷 · 行政职业能力测验

李永新 ◎ 主编



十二年 创新研发之总结 数百位名师 授课之精华 数百万考生 通关之方略

契合真题 · 深入研究真题规律 公考名师精心编写
高效实用 · 题型全面作答权威，快速突破备考难点
命中率高 · 紧随国考最新变化，精准把握命题趋势
解密命题规律，重塑思维能力，突破备考瓶颈

本书适用于 国家及各省市公务员 | 事业单位 | 招警 | 村干部 | 军转干招考

2012
中公版

国家公务员录用考试试卷系列

全真模拟预测试卷

【行政职业能力测验】

李永新 主编

中公教育公务员考试研究院 审定

法律出版社

中公教育核心研发团队

李永新 中公教育首席研究与辅导专家

毕业于北京大学政府管理学院,具有深厚的公务员考试核心理论专业背景,对中央国家机关和地方各级公务员招录考试有着博大精深的研究,极具丰富的公务员考试实战经验。主持并研发了引领公考领域行业标准的深度辅导教材系列和辅导课程、专项突破辅导教材和辅导课程,帮助无数考生成就了梦想,备受考生推崇,是公考辅导领域行业标准的开创者和引领者。

张永生 中公教育首席研究与辅导专家

中公教育资深专家与顶级辅导教师,多年来潜心致力于公务员考试的教学研究,参与编写了中央国家机关及地方各级公务员录用考试深度辅导教材,教学中认真负责,因材施教,实现了考生的高通过率,成为深受考生信赖的实力派讲师!

李琳 中公教育首席研究与辅导专家

中公教育研发团队核心成员,对行政职业能力测验有着系统深入的研究,对公务员考试命题趋势把握极其准确。在授课过程中,兼顾解题方法技巧的传授和学员基础能力的提升,帮助无数考生在短期内大幅提升了考试成绩,于众多竞争者中脱颖而出。

刘彦 中公教育首席研究与辅导专家

毕业于北京大学物理学院,于多年执教生涯中积累了丰富的教学经验,对行政职业能力测验及面试辅导具备颇深的造诣,擅长用简单方法解决复杂的问题,授课幽默生动,备受学员推崇和欢迎。

王学永 中公教育首席研究与辅导专家

北京大学政府管理学院公共管理硕士,理论基础扎实,对判断推理部分有深入的研究,具备丰富的辅导经验,在理论与实战完美结合的基础上,形成了业界最前沿的研发成果,有助于学员迅速提高成绩,受到各地学员的欢迎和认可。

李国斌 中公教育首席研究与辅导专家

曾多年从事高等教育数学教学工作,对行政职业能力测验科目有系统深入的研究,尤为擅长判断推理部分,教学经验非常丰富,授课思路严谨,语言生动幽默。其对面试教学的研究,同样取得了令人瞩目的成果。

云哲 中公教育首席研究与辅导专家

对公务员考试命题思路有透彻深入的研究,授课思路清晰,注重培养考生“举一反三”的能力,善于以启发的方式帮助学员发现各类题型的快速解题方法,帮助考生突破瓶颈,深受广大学员的好评。

王娜 中公教育资深研究与辅导专家

主讲行政职业能力测验、面试理论,对中央国家机关和地方各级公务员考试有深入研究,注重对学生能力的培养,讲解知识深入浅出,条理清晰,具有丰富的教学经验和完美的授课艺术。

赵金川 中公教育资深研究与辅导专家

对公务员考试行政职业能力测验部分有深入而透彻的研究,教学经验极其丰富,授课极具特色,讲解清晰明了,对待学员耐心细致,广受学员欢迎。

葛树明 中公教育资深研究与辅导专家

行政职业能力测验科目授课教师,主要研究方向为资料分析,对该部分的重要概念、图表特点分析深入、透彻,总结出了一系列适合于资料分析部分的解题技巧。授课细致认真,重点突出,条理清晰,对考点把握准确,总的多种解题方法切实提高了学员的解题速度和准确率。

堂云 中公教育资深研究与辅导专家

执教多年,积累了丰富的教学实践经验,对行政职业能力测验有系统深入的研究,造诣颇深,授课充满激情,考点把握准确,善于将复杂的问题巧妙简化,有效提高考生快速解题的能力,深受广大学员的欢迎。

陈巍 中公教育资深研究与辅导专家

主要研究方向为言语理解与表达。对公务员考试有深入的研究,总结了言语理解与表达部分的变化过程、命题特点、考试趋势,授课严谨而不失幽默,所授方法简单实用,在教学过程中注重与学生互动,课堂氛围活泼,调动了学员学习的积极性。

中公教育研发团队其他成员介绍详见: www.offcn.com

目 录

2012 年度国家公务员录用考试《行政职业能力测验》全真模拟预测试卷(一)	(1)
2012 年度国家公务员录用考试《行政职业能力测验》全真模拟预测试卷(二)	(26)
2012 年度国家公务员录用考试《行政职业能力测验》全真模拟预测试卷(三)	(51)
2012 年度国家公务员录用考试《行政职业能力测验》全真模拟预测试卷(四)	(75)
2012 年度国家公务员录用考试《行政职业能力测验》全真模拟预测试卷(五)	(100)
2012 年度国家公务员录用考试《行政职业能力测验》全真模拟预测试卷(六)	(124)
2012 年度国家公务员录用考试《行政职业能力测验》全真模拟预测试卷(七)	(149)
2012 年度国家公务员录用考试《行政职业能力测验》全真模拟预测试卷(八)	(174)
模拟试卷(一)参考答案及解析	(200)
模拟试卷(二)参考答案及解析	(211)
模拟试卷(三)参考答案及解析	(222)
模拟试卷(四)参考答案及解析	(232)
模拟试卷(五)参考答案及解析	(244)
模拟试卷(六)参考答案及解析	(255)
模拟试卷(七)参考答案及解析	(266)
模拟试卷(八)参考答案及解析	(277)

图书在版编目(CIP)数据

全真模拟预测试卷:2012 年·行政职业能力测验/
李永新主编. —北京:法律出版社,2011.3
国家公务员录用考试试卷系列
ISBN 978-7-5118-1864-5

I. ①全… II. ①李… III. ①公务员—招聘—考试—
中国—习题②行政管理—能力倾向测验—中国—习题
IV. ①D630.3-44

中国版本图书馆 CIP 数据核字(2011)第 028070 号

©法律出版社·中国

责任编辑/张瑞珍

装帧设计/智工坊工作室

出版/法律出版社
总发行/中国法律图书有限公司
印刷/固安华明印刷厂

编辑统筹/独立项目策划部
经销/新华书店
责任印制/沙磊

开本/787×1092 毫米 1/16
版本/2011 年 3 月第 1 版

印张/18.25 字数/480 千
印次/2011 年 3 月第 1 次印刷

法律出版社/北京市丰台区莲花池西里 7 号(100073)

电子邮件/info@lawpress.com.cn

销售热线/010-63939792/9779

网址/www.lawpress.com.cn

咨询电话/010-63939796

中国法律图书有限公司/北京市丰台区莲花池西里 7 号(100073)

全国各地中法图分、子公司电话:

第一法律书店/010-63939781/9782 西安分公司/029-85388843 重庆公司/023-65382816/2908
上海公司/021-62071010/1636 北京分公司/010-62534456 深圳公司/0755-83072995

书号:ISBN 978-7-5118-1864-5

定价:38.00 元

(如有缺页或倒装,中国法律图书有限公司负责退换)

2012 年度国家公务员录用考试 《行政职业能力测验》全真模拟预测试卷(一)

注意事项

- 1.行政职业能力测验共有五个部分,135 道题,总时限为 120 分钟。各部分不分别计时,但都给出了参考时限,供答题时参考。
- 2.将姓名与准考证号在指定位置上用黑色字迹的钢笔、签字笔或圆珠笔填写,并用 2B 铅笔在准考证号对应的数字上填涂。
- 3.请将题本上的条形码揭下,贴在答题卡指定位置。没有贴条形码的答题卡将按作废处理,成绩计为零分。
- 4.题目应在答题卡上作答,在题本上作答一律无效。
- 5.待监考老师宣布考试开始后,你才可以开始答题。
- 6.监考老师宣布考试结束时,你应立即停止作答,将题本、答案卡和草稿纸都翻过来放在桌上,待监考老师确认数量无误、发出离开指令后,方可离开考场。
- 7.试题答错不倒扣分。
- 8.严禁折叠答题卡!

第一部分 常识判断 (共 25 题,参考时限 15 分钟)

根据题目要求,在四个选项中选出一个最恰当的答案。

请开始答题:

- 1.“十二五”时期,必须坚持把解决好农业、农村、农民问题作为全党工作重中之重,统筹城乡发展,坚持_____方针,加大强农惠农力度,夯实农业农村发展基础。
 - A.农村土地承包经营不变
 - B.工业反哺农业、城市支持农村和多予少取放活
 - C.城镇化
 - D.巩固农业基础地位、调整工业结构和加快基础设施建设
- 2.2011 年我国经济工作中,各方面要切实把重点放到_____上来。
 - A.加快转变经济发展方式
 - B.促进社会和谐进步
 - C.加快转变经济增长速度
 - D.区域经济发展协调性
- 3.在第三十四届世界遗产大会上,中国的_____被列入文化和自然遗产。

- A.登封的“天地之中”历史建筑群和中国丹霞地貌
 - B.福建土楼和江西三清山
 - C.河南安阳殷墟和四川大熊猫栖息地
 - D.开平碉楼与村落和中国南方喀斯特地貌
- 4.关于我国能源以下说法不正确的是:
 - A.能源资源主要分布在西部,能源消费主要集中在东部
 - B.长距离、大规模的北煤南运、西电东送、北油南运、西气东输是我国能源运输的基本格局
 - C.山西、鄂尔多斯盆地、蒙东、西南、新疆等 5 个区域的煤炭、油气、水力资源蕴藏量占全国的 70%以上
 - D.“十二五”时期,火电将不再成为我国的主力电源
 - 5.下列关于我国教育事业说法不正确的是:
 - A.十七大报告明确指出,要坚持教育事业的社会性,加大财政对教育的投入
 - B.“十一五”时期我国教育发展的主要目标是全面普及九年义务教育,“普九”人口覆盖率接近 100%
 - C.2010 年《国家中长期教育改革和发展规划纲要(2010~2020 年)》提出了 2012 年教育投入占 GDP 4%的战略目标
 - D.从 2010 年秋季学期起,中央与地方共同设立国家助学金,用于资助普通高中在校生中的家庭经济困难学生,资助面约占全国普通高中在校生总数的 20%
 - 6.下列说法不正确的是:
 - A.甲村享有选举权的村民有 500 人,其中 200 人参与了村委会主任选举,候选人张某获得 120 票,因而当选
 - B.乙村享有选举权的村民有 500 人,在村委会选举中,李某获得 300 票,因而当选
 - C.丙村在村委会选举中,设立了秘密写票处
 - D.丁村村民胡某在村委会选举期间不能参加投票,书面委托其享有选举权的父亲代为投票
 - 7.下列对我国行政监察工作说法不正确的是:
 - A.监察机关对实名举报的,必须将处理结果等情况予以回复
 - B.市级监察机关可监察县级政府所有公务员
 - C.监察机关立案调查的案件,应当自立案之日起六个月内结案
 - D.国家行政机关公务员对主管行政机关作出的处分决定不服的,可以自收到处分决定之日起三十日内向监察机关提出申诉
 - 8.下列说法正确的是:
 - A.委员长、副委员长组成委员长会议,处理全国人民代表大会常务委员会的重要日常工作
 - B.总理、副总理、国务委员组成国务院常务会议
 - C.在全国人民代表大会闭会期间,国务院对全国人民代表大会常务委员会负责并报告工作
 - D.中央军事委员会主席对全国人民代表大会和全国人民代表大会常务委员会负责并报告工作
 - 9.《上海县竹枝词》有诗云:“卅年求富更求强,造炮成船法仿洋。海面未收功一战,总归虚牝掷金黄。”与上述内容有关的历史事件是:
 - A.第二次鸦片战争
 - B.中法马尾海战
 - C.中日甲午战争
 - D.八国联军侵华

10.关于新能源技术,下列说法错误的是:

- A.生物质能是世界能源消费第四大能源,是唯一一种可再生的碳源
- B.我国的地热资源主要分布在云南、西藏、河北等省区
- C.混合动力汽车属于新能源汽车,纯电动汽车属于节能汽车
- D.波浪能是既不稳定又无规律的海洋能

11.关于我国夏季气温分布的正确叙述是:

- A.夏季气温最高的地方是我国纬度最低的曾母暗沙
- B.漠河由于纬度高,是我国夏季气温最低的地方
- C.我国大多数地方普遍高温,南北温差不大
- D.我国夏季南北温差大

12.新中国成立 60 年来,我国体育事业全面发展,竞技体育取得历史性跨越。以下关于我国体育事业说法不正确的是:

- A.举重运动员陈镜开成为新中国第一个打破世界纪录的运动员
- B.首次参加在洛杉矶举办的夏季奥运会,实现了中国奥运史上金牌“零”的突破
- C.2008 年,北京成功举办第 29 届夏季奥运会,中国代表团取得了 50 枚金牌的优异成绩
- D.1951 年 11 月 24 日,中华全国体育总会公布和推行第一套广播体操

13.下列措施中有利于扩大进口的是:

- A.提高外汇汇率
- B.提高进口关税税率
- C.提高出口关税税率
- D.提高存款准备金率

14.近年,我国取得了一批重大科技创新成果,实现部分领域由“跟随”到“领跑”的跨越。以下说法不正确的是:

- A.神舟系列飞船发射成功使我国成为世界上第三个掌握空间出仓活动技术的国家
- B.嫦娥一号、二号相继发射成功使我国成为世界上第五个发射月球探测器的国家
- C.深海载人潜水器 3000 米级海上试验取得成功,最大下潜深度达到 3759 米
- D.杂交稻的产量在杂交水稻的基础上提高了 20%~30%,超级稻亩产量达 2000 公斤以上

15.关于气象灾害的说法,不正确的是:

- A.旱灾、洪灾、寒潮、台风等是对中国影响较大的主要灾害性天气
- B.寒潮预警分为四级,分别以蓝色、橙色、黄色、红色表示
- C.在夏秋季节,中国东南沿海常常受到热带风暴——台风的侵袭
- D.我国黄河中下游地区在每年 6 月、7 月会出现梅雨天气

16.2011 年中国共产党迎来建党 90 周年,以下说法错误的是:

- A.中国共产党的建立,得到了列宁领导的第一国际的帮助
- B.中共一大选举产生党的领导机构是中央局
- C.毛泽东在《论持久战》中第一次明确提出“七一”是党的诞生纪念日
- D.中国共产党的最早组织是在上海建立的

17.我国社会主义道德建设的核心是为人民服务,我国《公民道德建设实施纲要》中的 20 字基本道德规范,除了“爱国守法、明礼诚信、团结友善、勤俭自强”还有:

- A.助人为乐
- B.爱岗敬业
- C.敬业奉献
- D.尊老爱幼

18.某地发生破坏性地震,位于震区的甲乙两地,甲地震中距比乙地大,则:

A.甲地烈度小于乙地

B.甲地烈度大于乙地

C.甲乙两地烈度可能相同

D.甲乙两地受破坏程度不可能相同

19.下列有关文学常识的表述不正确的是:

A.《国语》是最早的国别体史书,《左传》是最早的叙事详备的编年体史书;《国语》《左传》既长于记事,又长于记言

B.我国古典小说中真正地吸收史传文学写人艺术经验的第一部作品是《水浒传》

C.《金瓶梅》开辟了一条写平凡人生活的道路,显示了现实主义文学的长足发展

D.屈原的《离骚》是我国第一部长篇政治抒情诗

20.由于青铜技术的成熟包括鼓风、浇铸等的运用,世界各个民族的先人陆续掌握了冶铁技术,中国是在_____时代初步掌握了冶铁技术。

A.春秋战国

B.汉代

C.秦代

D.宋代

21.全球气温升高和生态环境恶化是人类面临的共同问题。在造成生态环境恶化的多种原因中,难以人为改变的是:

A.高消费、高浪费、大排放的生活方式

B.对资源、能源的掠夺性开采

C.生产工艺水平低

D.自然资源的有限承载力

22.下列作品、作家、时代(国别)及体裁对应正确的是:

A.《秋浦歌》——杜牧——唐代——诗歌

B.《北京人》——曹禺——现代——话剧

C.《哈姆雷特》——莎士比亚——英国——小说

D.《叶甫盖尼·奥涅金》——歌德——德国——诗体小说

23.以下说法不正确的是:

A.顾拜旦被誉为“现代奥林匹克之父”

B.邓稼先被称为我国的“两弹元勋”

C.林则徐是近代史上睁眼看世界的第一人

D.关汉卿与马致远、郑光祖、汤显祖并称为“元曲四大家”

24.以下关于生活常识,说法不正确的是:

A.石英钟的电池耗尽停止走动时,其秒针往往停在刻度盘上“9”的位置

B.电炉“燃烧”是电能转化为内能,不需要氧气

C.鸽子可以检验测定地球磁力场

D.冬天室外的铁器和木材温度并不一样,因此触摸的话会感到冷热不一样

25.下列有关饮食的说法不正确的是:

A.用铁锅炒菜有利于防止缺铁性贫血

B.食用加碘盐能预防甲状腺肿大

C.晚上睡前喝牛奶能促进睡眠

D.多吃富含纤维食物易于补充大量维生素

※※※第一部分结束,请继续做第二部分! ※※※

第二部分 言语理解与表达
(共 40 题,参考时限 35 分钟)

本部分包括表达与理解两方面的内容。请根据题目要求,在四个选项中选出一个最恰当的答案。

请开始答题:

26.如果把一些中国象征都只是当作“元素”,就有点儿像把文化和传统当作装饰性的小挂件,看上去_____,但“如七宝楼台,眩人眼目,碎拆下来,不成片断”。

填入划横线部分最恰当的一项是:

- A.五彩缤纷 B.富丽堂皇 C.林林总总 D.包罗万象

27.在过去六十年中,现代中国的建设走过一条_____的道路,经历过无数艰辛、动荡、摇摆与反复,既有山重水复之_____,也有柳暗花明之转机。

填入划横线部分最恰当的一项是:

- A.循环往复 迷惘 B.迂回曲折 困惑
C.艰难险阻 迷惑 D.跌宕起伏 困难

28.清凉的天气已经_____了整整一周时间,气象部门提醒,由于春天是雷电和强降水多发季节,市民要及时做好_____,减少因强对流天气造成的损失。

填入划横线部分最恰当的一项是:

- A.持续 防御 B.继续 抵御
C.连续 预防 D.维持 防范

29.坐在餐桌前,举筷享用食物,我们早已司空见惯,却浑然不知盘中中餐在全球范围内_____的利害关系。现代社会高度分工,我们远离春耕秋收,只有食品价格飙升的时候,粮食生产才会引起我们关注。去年,粮价一路攀升,为我们的长期_____敲响了警钟。

填入划横线部分最恰当的一项是:

- A.盘根错节 漠然 B.纷繁芜杂 冷淡
C.扑朔迷离 无视 D.眼花缭乱 疏忽

30.体操是一个结合了杂技和舞蹈的体育运动。它的魅力,在于那种刀锋上的平衡与美感,在于每一秒都让人_____。运动员在空中翻腾的时候,即使不在现场的观众,也会不由自主地屏住呼吸,直到运动员稳稳落地。

填入划横线部分最恰当的一项是:

- A.心旷神怡 B.赏心悦目 C.战战兢兢 D.如痴如醉

31.许多好书的价值仅限于某一特定历史时期,它们没有展示出那种_____的吸引力,这种吸引力来源于用各个时代、各个地区的人都能理解的方式来讨论各时代、各地区的人都要_____的问题。

填入划横线部分最恰当的一项是:

- A.一如既往 解决 B.历久弥新 考察
C.一唱百和 思考 D.经久不衰 面对

32.人生是一个容器,可这个容器的容量实在是非常_____.愁苦和畏惧多了,欢乐与_____就少了。

填入划横线部分最恰当的一项是:

- A.庞大 胆量 B.可观 轻松
C.有限 勇气 D.莫测 勇敢

33.五十多年后回顾这段历史,杜老依然_____,然而他也没有_____土改实施过程中的缺陷,例如消灭富农和侵犯中农,以及没有严格依法保护劳动者财产利益。

填入划横线部分最恰当的一项是:

- A.直言不讳 回避 B.毫无隐瞒 忌讳
C.慷慨激昂 避嫌 D.激情满怀 避讳

34.《功夫熊猫》的热映说明“中国元素”已不仅仅只是好莱坞电影中的_____,它甚至已经成为好莱坞电影导演的灵感来源。片中“功夫”和“熊猫”两个主要元素都来自中国文化,而猴王、老虎、螳螂、毒蛇、丹顶鹤等五大高手更是把中国功夫中的轻功演绎得_____。

填入划横线部分最恰当的一项是:

- A.点缀 惟妙惟肖 B.卖点 栩栩如生
C.陪衬 精妙绝伦 D.题材 活灵活现

35.原始民族的艺术作品大半都不是纯粹从审美的动机出发,它们的创作常常是为了_____的目的,而且后者往往还是主要的动机,审美的要求只是满足次要的_____而已。

填入划横线部分最恰当的一项是:

- A.实用 欲望 B.生活 情感
C.娱乐 目标 D.交换 生存

36.在这个世界上,依然有很多朋友热爱纸质的芬芳,翰墨的留香,也依然有很多人经过岁月的_____后仍坚守着朴实的_____,渴望真诚的交流,欣赏丰富而_____的灵魂。

填入划横线部分最恰当的一项是:

- A.淘洗 信念 淡定 B.洗礼 理想 平静
C.磨砺 理念 激扬 D.检验 作风 优雅

37.刚见面,张家界就责问我为何_____.说来惭愧,二十六年来,我本来有机会一睹她的_____,只要往前再迈出半步。

填入划横线部分最恰当的一项是:

- A.姗姗来迟 芳颜 B.飘然而至 容貌
C.不请自来 真容 D.不期而遇 面目

38.迈克尔·杰克逊是流行乐坛最具影响力的音乐家之一,_____世界销量第一的专辑。他魔幻般的舞步更是让无数的明星_____.他一个人_____了世界上 39 个慈善救助基金会,是全世界以个人名义捐助慈善事业最多的人。

填入划横线部分最恰当的一项是:

- A.拥有 效仿 支持 B.持有 羡慕 成立
C.制作 折服 赞助 D.录制 追捧 创办

39.亚洲有中印两个人口大国,然而人口的庞大却与人才是否_____没有必然关系。人才供应缺口在一些国际化的行业中尤为_____,例如金融从业人员、工程研发人员等在全亚洲

都供不应求。

填入划横线部分最恰当的一项是：

- A.饱和 突出 B.充裕 明显
C.过剩 严峻 D.流失 巨大

40.越来越多的人表示愿意购买医疗保险产品,但医疗保险产品的销售情况并没有与需求保持_____。因为消费者并不单是从开支管理角度来考虑,更多的是受到情感的_____,他们真正寻求的是一种心理安定,这往往是销售者所_____的。

填入划横线部分最恰当的一项是：

- A.一致 左右 关注 B.协调 干扰 利用
C.同步 驱动 忽视 D.统一 暗示 追求

41.鉴于对出口的严重_____,中国的实体经济将不可避免地受到全球经济下滑的_____。但是经济危机也给中国带来新的机会,它在经历了危机的_____后会变得更强。

填入划横线部分最恰当的一项是：

- A.依赖 冲击 洗礼 B.依靠 拖累 磨砺
C.仰仗 打击 考验 D.倚重 影响 锻炼

42.俄国的两位大作家,都情不自禁地对莎士比亚表达了自己的看法。屠格涅夫借批评哈姆雷特,对莎剧_____,他的态度倒还像个绅士,总的来说还算温和。托尔斯泰就比较厉害,他对莎士比亚进行了最猛烈的攻击,口诛笔伐,几乎把伟大的莎士比亚说得_____。

填入划横线部分最恰当的一项是：

- A.不屑一顾 一无是处 B.颇有微词 一无是处
C.心怀不敬 体无完肤 D.嗤之以鼻 一塌糊涂

43.根据智利的法律,所有新房屋的建造都必须按照严格的建筑程序和监督流程进行,建筑物在开建之前_____地必须由专业机构负责设计,因为对房屋防震的要求极高,所以智利人在建筑的每一个环节上都_____,不敢有丝毫的_____。

填入划横线部分最恰当的一项是：

- A.理所当然 精益求精 松懈 B.无一例外 按部就班 懈怠
C.一视同仁 精雕细刻 马虎 D.毫无疑问 循规蹈矩 大意

44.感觉上与我容易投机交谈的人,多是比我年长十岁或十几岁的,也许因为他们都_____了各个领域的书籍,从年轻时候起就曾深深_____自我内心和世间万象。我平时所思所想,都是人生观问题,所以与同年代的人往往难有共同语言。对方若是 20 来岁的年轻人,未曾思考过人生,那自然我们就_____。

填入划横线部分最恰当的一项是：

- A.摄取 审悉 少言寡语 B.涉及 审视 无言以对
C.涉猎 审视 话不投机 D.涉猎 审悉 一拍即合

45.一般而言,一幅大画不可能_____,艺术家应该有一段时间收集资料、深入实地、写生采风,进而精心_____,反复_____,甚至数易其稿,从而成就一件佳作。

填入划横线部分最恰当的一项是：

- A.一蹴而就 准备 修改 B.一挥而就 构思 推敲
C.一气呵成 设计 研讨 D.唾手可得 筹划 揣摩

46.目前大规模的信贷投放会引起通胀吗?如果经济复苏不明显,而银行体系依然开闸放水,那么大量资金并不能进入实体经济,从而会推高物价指数,并带来通胀,最坏的情况下甚至会形成“滞胀”。如果信贷的大规模投放伴随着经济复苏,那么,即使物价指数上涨,也是属于温和健康的上涨,和通胀无关。

这段文字意在说明：

- A.通胀的影响要具体问题具体分析,不可一概而论
B.大规模的信贷投放与通胀的发生之间并无必然的因果关系
C.物价上涨的程度,是判断通胀是否发生的主要标志
D.在经济迅速增长的情况下,通胀是不大可能发生的

47.一定的历史观是对是非、善恶、美丑的评价体系的集中体现。历史是发展的、前进的,历史人物、事件终究会依其所起作用的性质和地位,而打上是非、美丑、善恶的烙印。_____。把本来十分清楚的历史评价错误地颠倒过来,就会搞乱社会公众的道德评价体系。

填入划横线部分最恰当的一句是：

- A.这种评价是主观的,但绝不能说和客观没有一点关系
B.这种评价是历史的,但绝不能说和现实没有一点关系
C.这种评价是现实的,但绝不能说和历史没有一点关系
D.这种评价是客观的,但绝不能说和主观没有一点关系

48.我国当代快速城市化的一个明显问题是地方文化特色逐渐丧失。城市的文化特色是城市竞争力的根本所在,各城市在千百年的发展中形成了丰富的地方文化和各具特色的城市风貌,这些历史文化特色是城市的文化竞争力和经济竞争力的主要来源,也是人类文明的重要组成部分。保护好这些历史文化特色,就是在保护人类文明。

这段文字意在说明：

- A.快速城市化与城市的文化保护存在冲突
B.保护城市的文化特色意义十分重大
C.文化特色是城市竞争力的重要体现
D.城市的文化特色丧失的速度非常惊人

49.在与自然灾害的抗争中,人类仍然有很长的路要走。现实固然必须正视,但普通民众是否就无可作为呢?在灾害预测还无法做到完全精确的今天,每一个人该如何保护上天赋予我们的宝贵生命,如何在灾难降临的那一刻做出最及时而智慧的选择,该如何自救、救人,避免或减少悲剧的发生?这些事情,其实都可以通过社会教育和自我教育来完成。

这段文字意在强调：

- A.人类与自然灾害的抗争是一个漫长的过程
B.在自然灾难面前人的首要任务是保护生命
C.灾难来临时的及时而智慧的选择非常重要
D.教育可以在自然灾害中保护更多宝贵的生命

50.从甲骨文到草书、行书的各种书法艺术,间接地反映了现实某些方面的属性,将具体的形式集中概括为抽象的意象,通过视觉来启发人们的想象力,调动人们的情感,使人们从意象中体味到其间所蕴涵的美。这也就是在一些讲书法的文章里常说的“舍貌取神”——舍弃客观事物的具体现象特征,而摄取其神髓。

这段文字的关键词是：

- A.书法 意象 神髓
- B.艺术 意象 体味
- C.书法 属性 特征
- D.艺术 想象 神髓

51.文物价值观具有相对的稳定性和持久性,但也会随着社会环境、个人人生观、世界观的改变而发生变化。由于社会地位、文化差异、利益关系等原因,使得人们的文物价值观在不同的时间、地点、场合都会表现出很大的不同。政府的文物价值观可能取决于决策人员,文物工作者的文物价值观,通常会表现出相对的先进性、积极性和稳定性,一般民众的文物价值观则依赖于国家政策、社会舆论导向、个人文化素质等因素。

这段文字主要谈论的是：

- A.文物价值观变迁的原因
- B.不同文物价值观的优缺点
- C.文物价值观差异性的表现形式
- D.文物价值观存在差异的原因

52.散步不要刻意求快,还要玩,还要赏。天空有大雁飞过,身边花团锦簇,蜂蝶蹁跹,也浑然不顾快步如飞,勇往直前么?俯仰皆情趣,万不可不屑一顾也。散步不要非得规定走多远,完不成指标不罢休;不要给人感觉好像翻山越岭抢占高地,要不徐不疾,不快不慢,漫不经心,洒脱冲淡。

这段文字主要说明散步：

- A.贵在散心
- B.是健身的有效方式
- C.是陶冶情趣的重要途径
- D.重在表现自由率直的天性

53.长期以来,中国周边各个区域对中国有不同的认识,而这可能恰恰是很多面使中国自我认识更加准确的镜子。与这些曾经与中国亲密接触、看上去有些接近的文明体比较起来,那个长期以来当作比较镜像的西方,似乎只是一面朦胧含糊的铜镜。虽然看得见整体中国文化的轮廓,却看不清具体文化中国的细节。所以,如果我们转身面向这个周边,套一句经济学界常用的术语,也许它将成为学术的一个新的增长点。因为这一研究领域的开拓,我以为引出的学术史变化,有可能是对语言工具的重新重视、对域外新数据的重新重视。

这段文字的主旨是：

- A.中国应该多研究周边地区的文化
- B.通过对周边地区的研究可以更好地了解中国
- C.中国应该重新重视语言工具和域外新资料
- D.中国需要加强自我认识

54.多种怪之中,最突出的是“自知”与“他知”的迥然不同。这种情况也是古已有之,比如明朝的徐文长,提起青藤山人的画,几乎无人不知,无人不爱,可是他自己评论,却是字(书法)第一,诗第二,画第三。

根据这段文字,下列说法中正确的是：

- A.“自知”中的“知”是认知的意思
- B.文章主旨在于评论徐文长的“怪”
- C.在“他知”中,徐文长的字排第一
- D.“自知”与“他知”不同,并不奇怪

55.看来,不只是贵族有偏见,平民也自有平民的偏见。这种偏见就是看不见每个人都应该享有人之为人的尊严和独自为人的权利。由于我们在这方面迷失太久,今天,无论是尊重自己的权利,还是尊重他者的权利,都需要经过艰苦的学习。我们要早一天学会这些东西才好。只有先学会了尊重自己和尊重他者,我们才能开始学习有尊严的生活,我们才能尊严地生活在这片

大地上。

这段话主要支持的观点是：

- A.尊重自己和尊重他人是自己获得尊严的前提
- B.不论贵族或平民,都有得到别人尊重的权利
- C.先尊重自己,还是先尊重他人,困扰着世人
- D.当今很多人都不尊重别人,只知索取尊重

56.有一些老东西虽粗糙,却有非凡的价值。特别是食物,愈粗糙愈有益健康,像糙米胜过白米,黑麦面包胜过白面包,天然食物胜过加工食品。我们不断地把食物做得精致,事实上是在为自己制造祸害。“过度加工”与“过度精制”的时代,使我们产生了巨大的盲点,并把这些盲点传给下一代,误以为加工与精制是好的,那些传统的、天然的事物反而被舍弃了。

这段话主要支持了这样一种观点,即：

- A.越是粗糙的食物对身体健康越有裨益
- B.返璞归真是重要的养生之道
- C.“过度加工”时代,人们陷入“精即是好”的误区
- D.精制未必是好的,传统和天然的可能更有价值

57.古希腊历史学家希罗多德在其《历史》一书中说过：“不容许过分强大的东西存在,这乃是上天的意旨。”大自然本身是个调节器,处处有平衡。这一平衡在社会关系中的一个表现就是,随着历史的发展尤其是文化的进步,人与人之间在知识和智力上越来越趋于相等。尽管草根在经济基础和政治地位上与精英有明显的差别,处在不平等的社会两极,但在文化和思想上并不逊于所谓精英。不断加速的信息与知识的传播与交流,使精英与草根之间的差别越来越模糊,人们可以发现,即使精英中亦有滥竽充数者,草根中却并不缺少英才。

对这段文字的主旨概括最准确的是：

- A.回归平衡是社会的永恒法则
- B.草根力量的崛起是社会平衡的体现
- C.草根与精英之间其实并没有明确的界限
- D.草根取代精英是时代发展的必然

58.孔子是人不是神。把孔子推上神坛的是后人,并非孔子的过错。在 2500 年前孔子的思想和成就能达到那样的高度,确实了不起,我们应该充分肯定和尊重,其中今天仍有价值的部分应该很好地珍惜利用。把孔子和儒家学说说得一文不值,是极端和片面的,把孔子作为神来膜拜,把儒学作为《圣经》来推崇,也是非理性的。这两种极端的观点将越来越没有市场。

这段文字意在说明：

- A.今人需理性对待孔子及儒家学说
- B.目前国人对待孔子的两种态度
- C.评价孔子及儒家学说须结合实际
- D.不应站在今人的立场苛求古人

59.两河流域的苏美尔人在公元前 4000 年就创造了一种象形文字,并逐渐演化成了西亚一带广泛使用的楔形文字。约在公元前 1000 年,在今叙利亚一带生活的阿拉美亚(Arameans)人,习得了腓尼基(Phoenicia)的字母文字。随着军事的扩张和贸易的开展,数百年后,阿拉美亚的语言、文字在西亚普及开来,楔形文字渐被取代。

对文意理解有误的是：

- A.苏美尔人使用楔形文字比阿拉美亚人使用腓尼基文字更早

- B. 西亚地区先前曾广泛使用过楔形文字,其后普及使用腓尼基文字
 C. 腓尼基的字母文字是叙利亚的阿拉美亚人率先习得的
 D. 阿拉美亚人的语言文字能在西亚普及,与他们的军事扩张和贸易开展有关

60. ①对发展中国家和新兴市场国家尤其如此
 ②很大原因是因为中国仍然保持着对资本流动的严格控制
 ③作为一个发展中国家,中国之所以在过去这些年屡屡可以躲过金融危机的直接冲击
 ④资本的自由流动,从来都是一把双刃剑
 ⑤一个原因就是这些国家尚不成熟的金融体系碰上了具有高度流动性的国际资本
 ⑥这个世界上几乎还没有哪个新兴市场国家逃脱过金融危机的魔爪

将以上 6 个句子重新排列,语序正确的是:

- A. ③②⑥⑤④① B. ⑥①⑤④③②
 C. ④①③②⑥⑤ D. ③②④①⑥⑤

61. ①匠心之意是让你尽量透过廊、窗取景,抬眼时便是一幅图画。
 ②墙为纸,物为墨,随风摇曳,影布墙上。
 ③这个园子多回廊,亭堂又多窗。
 ④窗外常是粉墙,窗与墙之间或植竹数竿,或插梅一支。
 ⑤且天生的艳红翠绿,这是任何丹青高手所不能企及的。

将以上 5 个句子重新排列,语序正确的是:

- A. ③①④②⑤ B. ⑤①④③② C. ③①④⑤② D. ①③④②⑤

62. ①这就和浴室中的镜子表面出现水雾的原理相同。
 ②研究表明,利用激光脉冲从空气当中的原子中分离出电子的过程有助于生成羟基原子团。
 ③用激光使水蒸气“冷凝”成为雨滴,称为激光造雨。
 ④比起在大气层中撒播盐粒或碘化银颗粒等人工降雨方式,激光造雨是一种更加“清洁”的选择。
 ⑤此项技术尚处初级阶段,能否大规模推广应用,有待进一步研究。
 ⑥这些原子团可将空气中的硫和二氧化氮变成能够“附着”水蒸气的凝结核,进而使水蒸气“冷凝”成水滴。

将以上 6 个句子重新排列,语序正确的是:

- A. ②⑥③①④⑤ B. ③②⑥①④⑤ C. ④③①②⑥⑤ D. ⑥①②③⑤④

63. 海洋表层的运动主要受海平面风的牵制。信风的存在使得大量暖水被吹送到赤道西太平洋地区,而赤道东太平洋地区暖水被刮走后,主要靠海面以下的冷水进行补充,因此,赤道东太平洋海温比西太平洋海温明显偏低。当信风加强时,赤道东太平洋深层海水涌升上翻现象更加剧烈,导致海表温度异常偏低,使得气流在赤道太平洋东部下沉,而气流在西部的上升运动更为加剧,有利于信风的加强,这进一步加剧了赤道东太平洋冷水的发展,引发了所谓拉尼娜现象。

这段文字主要谈的是:

- A. 海表运动与信风的关系 B. 赤道东西太平洋海温差异的原因
 C. 拉尼娜现象的形成原理 D. 信风的存在对海温的影响

64. 从年画的艺术形式特点上,可以感受到:饱满的构图、鲜明的形象似乎潜藏有盼望大团圆、祈愿丰收和吃饱饭等意思;挺拔的线条,反映出健康、有力的含义;鲜明的色彩,体现出火红

喜庆的意思。中国人偏爱红色,它象征太阳、温暖、热闹、吉祥等意思,所以年画上,人们挂红灯笼、穿红袄、扎红头绳,不光鞭炮是红的,连鲤鱼也多画成红的。

能准确概括上面文字内容的一句话是:

- A. 年画的艺术形式多种多样 B. 年画的色彩多为红色
 C. 年画艺术的特点是含义丰富 D. 年画艺术具有象征性

65. 近年来,汉语出现了许多新词新语。对同一事物或现象,有人愿意这样说,有人愿意那样说。对此,语言工作者应进行客观冷静地分析。看到那种盲目效仿港台语,或者为表现个性而表现个性的刻意“创新”,不闻不问是不对的。我们应规范语言运用的主流,但过分强调规范,希望纯而又纯也不行。

对这段文字概括最准确的是:

- A. 新词新语是人们社会生活的直接反映,折射出时代的色彩
 B. 应该以科学的态度对语言运用的主流进行规范
 C. 对盲目效仿和刻意“创新”的语言应进行规范
 D. 对新词新语过分挑剔不利于语言的创新和发展

※※※第二部分结束,请继续做第三部分! ※※※

第三部分 数量关系

(共 15 题,参考时限 20 分钟)

在这部分试题中,每道题呈现一段表述数字关系的文字,要求你迅速、准确地计算出答案。

请开始答题:

66. 某单位有工作人员 48 人,其中女性占总人数的 37.5%,后来又调来女性若干人,这时女性人数恰好是总人数的 40%,问调来几名女性?

- A. 1 人 B. 2 人 C. 3 人 D. 4 人

67. 小明 7 点多开始写作业,发现时针和分针正好相差了 4 大格,不到一个小时后写完作业,小明惊讶的发现时针和分针正好还是相差了 4 大格。问小明写作业花了多少分钟?

- A. 30 B. 40 C. $43\frac{7}{11}$ D. $65\frac{5}{11}$

68. 小明到商店买红、黑两种笔共 66 支。红笔每支定价 5 元,黑笔每支定价 9 元。由于买的数量较多,商店就给予优惠,红笔按定价 85% 付钱,黑笔按定价 80% 付钱,如果他付的钱比按定价少付了 18%,那么他买了红笔多少支?

- A. 30 B. 24 C. 32 D. 36

69. 甲、乙、丙、丁四个旅行团分别有游客 69 人、85 人、93 人、97 人。现在要把这四个旅行团分别进行分组,使每组都是 A 名游客,以便乘车前往参观游览。已知甲、乙、丙三个旅行团分成每组 A 人的若干组后,所剩的人数都相同,问丁旅行团分成每组 A 人的若干组后还剩几人?

- A. 0 B. 1 C. 2 D. 3

70. 两工厂各加工 480 件产品, 甲工厂每天比乙工厂多加工 4 件, 完成任务所需时间比乙工厂少 10 天。设甲工厂每天加工产品 x 件, 则 x 满足的方程为:

- A. $\frac{480}{x} + 10 = \frac{480}{x+4}$ B. $\frac{480}{x} - 10 = \frac{480}{x+4}$
 C. $\frac{480}{x} + 10 = \frac{480}{x-4}$ D. $\frac{480}{x} - 10 = \frac{480}{x-4}$

71. 现有一个无限容积的空杯子, 先加入 1 克酒精, 再加入 2 克水, 再加入 3 克酒精, 再加入 4 克水……如此下去, 问最终杯子中酒精溶液浓度为多少?

- A. 0 B. 25% C. 33.3% D. 50%

72. 五年级一班的张老师在一次数学课上出了两道题, 规定每道题做对得 2 分, 没做得 1 分, 做错得 0 分。张老师说: 可以肯定全班同学中至少有 6 名学生各题的得分都相同。那要保证这种情况, 这个班至少有多少人?

- A. 24 B. 36 C. 46 D. 58

73. 大盒放有若干支同样的钢笔, 小盒放有若干支同样的圆珠笔, 两盒笔的总价相等。如果从大盒取出 8 支钢笔放入小盒, 从小盒取出 10 支圆珠笔放入大盒, 必须在大盒中再添两支同样的钢笔, 两盒笔的总价才相等。如果从大盒取出 10 支钢笔放入小盒, 从小盒取出 8 支圆珠笔放入大盒, 那么大盒内笔的总价比小盒少 44 元。每支钢笔多少元?

- A. 8 B. 6 C. 5 D. 4

74. 某戏院一共卖了 1200 张票, 其中前排票每张 40 元, 后排票每张 50 元。已知后排比前排多卖了 16800 元。问前排票卖出了多少张?

- A. 480 B. 560 C. 640 D. 720

75. 杂货店分三次进了一些货物, 已知每一次的进货单价都是上一次的 80%, 且第一次的进货单价为 5 元。已知这些货物恰好能够排成一个三层的空心方阵, 且最内层、中间层和最外层恰好分别是第一、二、三次所进的货物, 且最外层每边有 7 个货物。现要保证 20% 利润率的情况下, 杂货店应该将货物至少定为多少元?

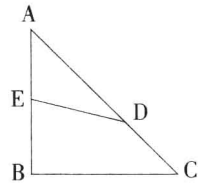
- A. 3.90 B. 4.12 C. 4.36 D. 4.52

76. 有 114 名学生分 A、B、C 三种书, 其中 90 名学生分到了 A 种书, 83 名学生分到了 B 种书, 70 名学生分到了 C 种书。问三种书都被分到的学生至少有多少人?

- A. 0 B. 15 C. 36 D. 49

77. 如右图所示, $\triangle ABC$ 是等腰直角三角形, $AB=12$, AD 的长度是 CD 的 2 倍, 四边形 $EBCD$ 与 $\triangle AED$ 的面积之比为 3:2, 问 AE 的长度是多少?

- A. 6.9 B. 7.1
 C. 7.2 D. 7.4



78. 某居民小区决定投资 15 万元修建停车位, 据测算, 修建一个室内车位的费用为 5000 元, 修建一个室外车位的费用为 1000 元, 考虑到实际因素, 计划室外车位的数量不少于室内车位的 2 倍, 也不多于室内车位的 3 倍, 这笔投资最多可建车位的数量为:

- A. 78 B. 74 C. 72 D. 70

79. 某服装厂生产某种定型冬装, 9 月份销售每件冬装的利润是出厂价的 25% (每件冬装的利润=出厂价-成本)。10 月份将每件冬装的出厂价调低 10%, 成本降低 10%, 销售件数比 9 月

份增长 80%, 那么该厂 10 月份销售这种冬装的利润比 9 月份的利润总额增长:

- A. 2% B. 8% C. 40.5% D. 62%

80. 在年底的献爱心活动中, 某单位共有 100 人参加捐款。经统计, 捐款总额是 19000 元, 个人捐款数额有 100、500、2000 元三种, 该单位捐款 500 元的人数为:

- A. 13 B. 18 C. 25 D. 30

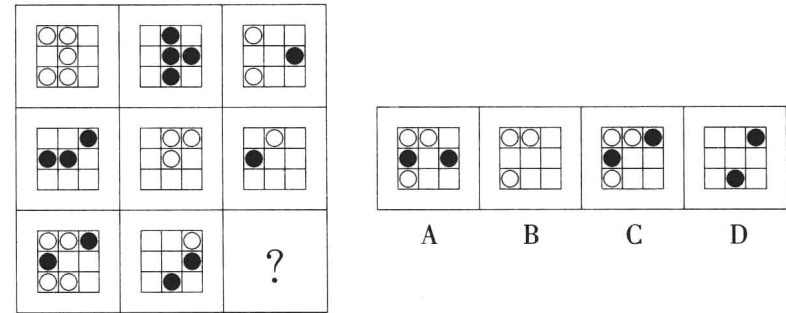
※※※第三部分结束, 请继续做第四部分! ※※※

第四部分 判断推理 (共 40 题, 参考时限 35 分钟)

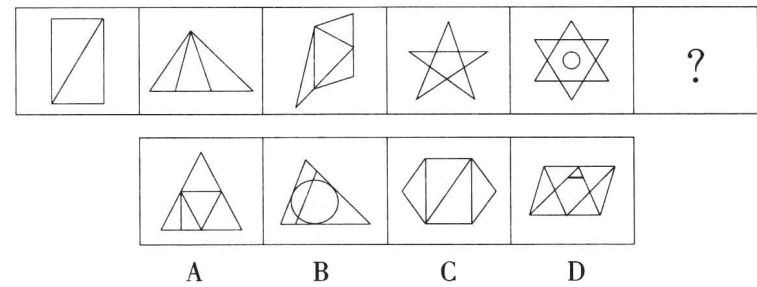
一、图形推理。请按每道题的答题要求作答。

请开始答题:

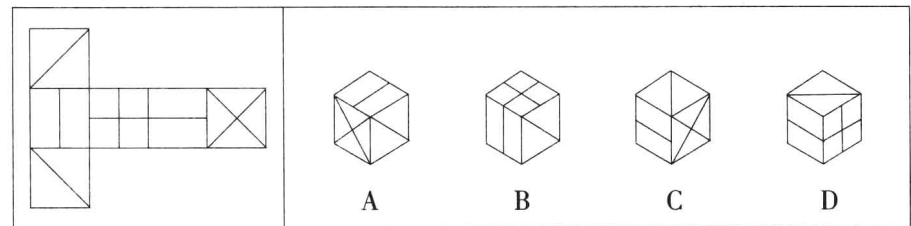
81. 从所给的四个选项中, 选择最合适的一个填入问号处, 使之呈现一定的规律性:



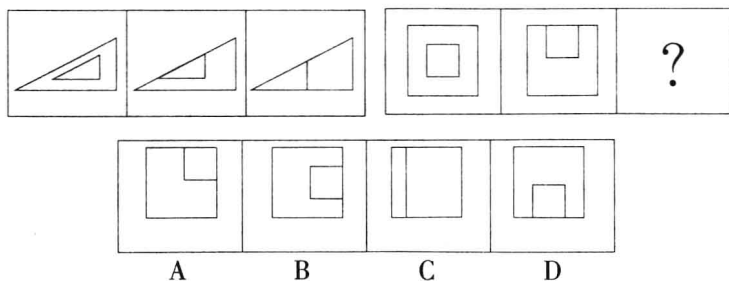
82. 从所给的四个选项中, 选择最合适的一个填入问号处, 使之呈现一定的规律性:




83. 左边给定的是纸盒的外表面, 下面哪一项能由它折叠而成?



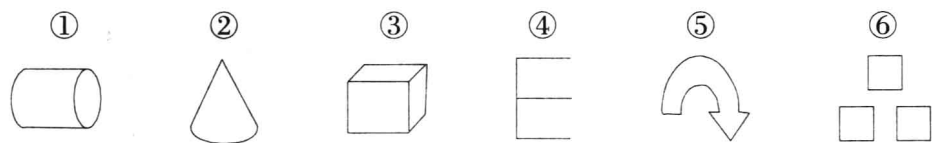
84.从所给的四个选项中,选择最合适的一个填入问号处,使之呈现一定的规律性:



85.从所给的四个选项中,选择最合适的一个填入问号处,使之呈现一定的规律性:

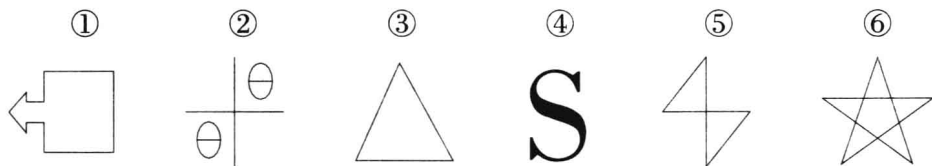


86.把下面的六个图形分为两类,使每一类图形都有各自的共同特征或规律,分类正确的一项是:



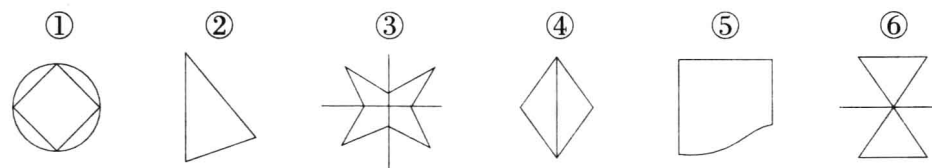
- A.①②③,④⑤⑥
B.①③④,②⑤⑥
C.①②⑤,③④⑥
D.①③⑥,②④⑤

87.把下面的六个图形分为两类,使每一类图形都有各自的共同特征或规律,分类正确的一项是:



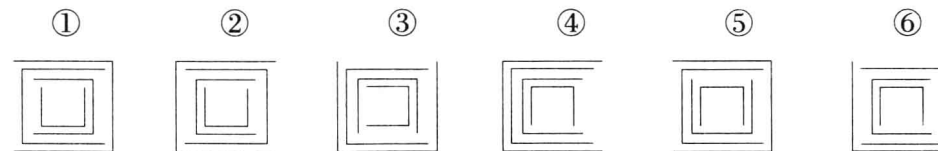
- A.①②③,④⑤⑥
B.①③④,②⑤⑥
C.①④⑥,②③⑤
D.①③⑥,②④⑤

88.把下面的六个图形分为两类,使每一类图形都有各自的共同特征或规律,分类正确的一项是:



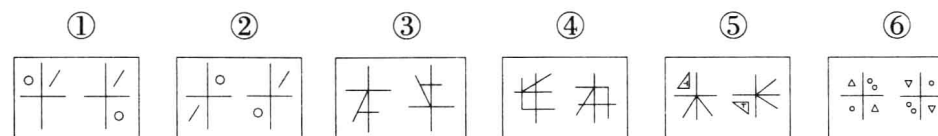
- A.①②③,④⑤⑥
B.①③⑤,②④⑥
C.①④⑥,②③⑤
D.①③⑥,②④⑤

89.把下面的六个图形分为两类,使每一类图形都有各自的共同特征或规律,分类正确的一项是:



- A.①②④,③⑤⑥
B.①③④,②⑤⑥
C.①④⑥,②③⑤
D.①③⑥,②④⑤

90.把下面的六个图形分为两类,使每一类图形都有各自的共同特征或规律,分类正确的一项是:



- A.①②③,④⑤⑥
B.①③④,②⑤⑥
C.①④⑥,②③⑤
D.①③⑥,②④⑤

二、定义判断。每道题先给出定义,然后列出四种情况,要求你严格依据定义,从中选出一个最符合或最不符合该定义的答案。注意:假设这个定义是正确的,不容置疑的。

请开始答题:

91.垂直思考法,即按照一定的思维路线或思维逻辑进行的、向上或向下的垂直式思考方法,这是一种头脑的自我扩大方法,以思维的逻辑性、严密性和深刻性见长,它一向被评价为最理想的思考法之一。

根据上述定义,下列应用了垂直思考法的是:

- A.广告公司的几位创意人员为了策划新的广告项目,采用头脑风暴法集思广益
B.在人们普遍考虑“人为什么会得天花”时,琴纳考虑的则是“为什么在奶牛场劳动的女工不得天花”
C.某数学天才通过层层推理,证明了一道几十年来世界上无人能解的数学难题
D.某公司的高级顾问老王能对一个问题进行多方位思考,提出各种不同的新见解

92.执行回转:指执行完毕后,因据以执行的法律文书被撤消,执行人员采取措施,将被执行人的财产恢复到执行前的状况。

下列属于执行回转的是:

- A.人民法院制作的先予执行的裁定,在执行完毕后,被本院的生效判决或者二审法院的终审判决所撤消,因先予执行而取得财物的一方当事人应将执行所得返还给对方当事人
B.作为一方当事人的法人或者其他组织终止,尚未确定权利义务承受人
C.执行的标的物是其他法院或仲裁机构正在审理的案件争议标的物,需要等待该案件审理完毕确定权属

D.作为被执行人的公民因生活困难无力偿还借款,无收入来源,又丧失劳动能力

93.招徕定价又称特价商品定价,是一种有意将少数商品降价以招徕吸引顾客的定价方式。商品的价格定得低于市价,一般都能引起消费者的注意,这是适合消费者求廉心理的。

根据上述定义,下列采用了招徕定价策略的一项是:

A.日本创意药房在将一瓶 200 元的补药以 80 元超低价出售时,每天都有大批人潮涌进店里抢购补药,该药店不但没有赔本,反而盈余骤增

B.金利来领带,一上市就以优质、高价定位,对有质量问题的金利来领带他们绝不上市销售,更不会降价处理

C.许多家庭生活日常用品如一块肥皂、一瓶洗涤灵的定价一般不会随意上升

D.某商场季末清仓,全场产品一律 5 折出售,吸引了大批顾客

94.英国 N·古狄逊提出:一个累坏了的主管,是一个最差劲的主管。这就是著名的古狄逊定理。管理的真谛不是要管理者自己来做事,而是要管理者管理别人做事。

根据上述定义,下列遵循古狄逊定理的是:

A.某公司老板坚持凡事亲力亲为,只要是自己可以做的事绝不交给下属去做

B.某管理者将自己比作一只小蜜蜂,认为自己的主要工作就是搜集花粉和给员工打气

C.某校推行班长轮任制,即每个班级的班长任期为一个月,每个学期会有四个人担任班长

D.某甲刚刚升任公司人事部主管,下属不愿意服从自己的安排,导致许多事情都需要自己亲自去做

95.误解性危机,是指企业自身的工作或产品质量等方面没有什么问题,没有出现任何损害公众的事件,但是由于种种原因,被公众误解怀疑,受到公众无端指责,企业由此而陷入危机之中。事故性危机是指由于企业自身的失职、失误,或者管理工作中出现问题,或者产品质量上出现问题,而引发的危机事件。

根据上述定义,下列属于误解性危机的是:

A.某品牌奶粉因含有过量的三聚氰胺而遭到公众退货

B.某工厂的许多生产设备在玉树大地震中严重受损,导致该工厂停产

C.甲企业仿造乙企业商标生产了大量的不合格产品,导致公众排斥该品牌产品

D.在许多杂志转载了种植花卉可能对人体造成伤害的不实报道后,花卉行业惨遭损失

96.沟通焦虑是指在口头沟通或书面沟通中,经历的过度紧张与不安,因而影响沟通的技巧。高度口头沟通焦虑的人通常会扭曲其工作的沟通需求,以使沟通的需求减至最少。

根据上述定义,下列属于高度口头沟通焦虑的一项是:

A.小强生性腴腆,说话声音很小,每次和陌生人谈话都会脸红

B.马老师第一次走上讲台时,紧张得大脑一片空白,不知道该讲什么

C.秘书小李在工作中充分利用电子邮件等网络通讯工具,减少口头沟通

D.赵师傅因为紧张无法与人面对面交流,多次换工作,最后做了锅炉工

97.市场定位是指企业根据竞争者现有产品在市场上所处的位置,针对顾客对该类产品某些特征和属性的重视程度,为本企业产品塑造与众不同的、给人印象鲜明的形象,并将这种形象生动地传递给顾客,从而使该产品在市场上确定适当的位置。

根据上述定义,下列各项中最符合市场定位的是:

A.某地打算发展旅游业,经过对外地考察,发现一些地方因兴建仿古街、发展农家乐赚了

不少钱,于是决定在本地规划几条仿古街,并鼓励农民兴办农家乐

B.某公司根据自身技术优势,选择与农民合作发展种植业,采用类似野生的方式种植野菜

C.某企业为了让自己的产品销路更广,销量更大,打出广告说该产品适用于各种人群

D.由于社会竞争越来越激烈,年轻人的工作压力越来越大,很多人愿意在业余时间玩一些不动脑筋又能回归自然的游戏,而不是那些耗时耗力的游戏,某网站趁机推出开心农场游戏

98.慈善事业是一种有益于社会与人群的社会公益事业,是政府主导下的社会保障体系的一种必要的补充。慈善事业是在政府的倡导或帮助、扶持下,由民间的团体和个人自愿组织与开展活动的,对社会中遇到灾难或不幸的人,不求回报地实施救助的一种无私的支持与奉献的事业。慈善事业实质上也是一种社会再分配的实现形式。

以下属于慈善事业的是:

A.林某含冤入狱被关押 2 年后无罪释放,获得政府发放的国家赔偿金

B.刘某因病致贫,无正常收入来源,家庭贫困、生活窘迫,去所在地的民政局申请低保

C.中国儿童少年基金会发起“春蕾计划”,在全国各地援建了多所春蕾学校

D.某企业资助多名贫困大学生的学费和生活费,要求其毕业后在该企业至少工作两年

99.卡特尔,垄断组织形式之一,指同一生产部门的资本主义企业,为获取垄断高额利润和加强自己在竞争斗争中的地位,彼此间签订关于销售市场、商品产量和商品价格的协议,并交换新技术的许可证等而形成的一种垄断联合。

下列不属于卡特尔的是:

A.各生产者签订协议,规定销售市场

B.各生产者签订协议,规定垄断价格

C.各生产者签订协议,规定生产和销售商品的一定数量,并要求每个参加者遵守

D.迫于成本核算,各商家停止了打折竞争

100.对于两种物品,如果一种物品价格的上升会引起另一种物品需求的增加,则这两种物品被称为替代品;如果一种物品价格的上升会引起另一种物品需求的下降,则这两种物品被称为互补品。

根据上述定义,下列属于互补品的是:

A.春运期间,由于火车票“一票难求”,不少人转而乘坐飞机回家

B.随着数码相机的使用越来越广泛,胶卷这一产品正逐渐退出历史舞台

C.在物价不断上涨的今天,由于牛奶的价格上升得较快,许多人转而购买奶粉

D.由于中国联通与 iPhone4 开展了合约计划政策,购买 iPhone4 的用户只能选择联通的通信服务

三、类比推理。每道题先给出一组相关的词,要求你在备选答案中找出一组与之在逻辑关系上最为贴近、相似或匹配的词。

请开始答题:

101.勺子:筷子

A.电笔:钢笔 B.打字机:纸张 C.手套:眼镜 D.绵羊:毛衣

102.水:冰

A.米:饭 B.铁:锈 C.云:雨 D.树:木

103.装腔作势:自然

- A.乳臭未干:粗鲁
C.游手好闲:忙碌

- B.自以为是:谦虚
D.开门见山:直接

104.冲突:解决:和谐

- A.吵架:爆发:混乱
C.噪音:消除:安静

- B.生活:富裕:美好
D.兴奋:镇定:放松

105.饼干:烘焙:早餐

- A.衣服:剪裁:干洗
C.考试:复习:工作

- B.围巾:编织:保暖
D.鞭炮:燃放:庆祝

106.船长:轮船:大海

- A.司机:汽车:公路
C.空姐:飞机:机场

- B.行人:桥梁:河流
D.火车:铁路:铁轨

107.安居乐业:颠沛流离:生活艰辛

- A.锦上添花:雪上加霜:灾难深重
C.沉鱼落雁:闭月羞花:容貌美丽

- B.巧夺天工:鬼斧神工:技艺高超
D.一丝不苟:粗枝大叶:态度认真

108.牛奶 对于 () 相当于 () 对于 白酒

- A.蛋糕 饮料
C.奶粉 葡萄

- B.奶牛 红酒
D.酸奶 粮食

109.() 对于 共享 相当于 广告 对于 ()

- A.双赢 扩大
C.信息 盈利

- B.网络 宣传
D.互联 投资

110.() 对于 飞机 相当于 抹布 对于 ()

- A.天空 地板
C.地铁 毛刷

- B.跑道 手套
D.轮船 玻璃

四、逻辑判断。每道题给出一段陈述,这段陈述被假设是正确的,不容置疑的。要求你根据这段陈述,选择一个答案。注意:正确的答案应与所给的陈述相符合,不需要任何附加说明即可以从陈述中直接推出。

请开始答题:

111.“俏色”指的是一种利用玉的天然色泽进行雕刻的工艺。这种工艺原来被认为最早始于明代中期。然而,在商代晚期的妇好墓中出土了一件俏色玉龟,工匠用玉的深色部分做了龟的背壳,用白玉部分作了龟的头尾和四肢。这件文物表明,“俏色”工艺最早始于商代晚期。

以下哪一项陈述是上述论证的结论所依赖的假设?

- A.“俏色”是比镂空这种透雕工艺更古老的雕刻工艺
B.妇好墓中的俏色玉龟不是更古老的朝代留下来的
C.因势象形是“俏色”和根雕这两种工艺的共同特征
D.周武王打败商纣王时,从殷都带回来了许多商代玉器

112. 2005年打捞公司在南川岛海域调查沉船时意外发现一艘载有中国瓷器的古代沉船,该沉船位于海底的沉积层上。据调查,南川岛海底沉积层在公元1000年形成,因此,水下考古

人员认为,此沉船不可能是公元850年开往南川岛的“征服号”沉船。

以下哪项如果为真,最严重地弱化上述论证?

- A.历史学家发现,“征服号”既未到达其目的地,也未返回其出发的港口
B.通过碳素技术测定,在南海沉积层发现的沉船是在公元800年建造的
C.公元700-900年间某些失传的中国瓷器在南川岛海底沉船中发现
D.在南川岛海底沉积层发现的沉船可能是搁在海底礁盘数百年后才落到沉积层上的

113.任何证人的未经证实的证词都不是陪审员进行判决的依据。因为在一般情况下高度怀疑任何人没有证据的诉讼请求都是明智的,不过陪审员们不应该为了保持一致而相信其共同经验:根据未经证实的所有认罪供词而宣告被告有罪。

下列哪一项支持上述观点?

- A.关于被告在审判前撤回所有供词的案例,陪审员们通常宣告无罪
B.设置陪审团选择程序的目的就是在审判前选出那些对被告的罪行有确定观点的人
C.当被告确实犯有该罪行或者终于相信原告有足够证据时,他有时会认罪
D.对于那些被控告有罪行且易被暗示的人来说,他们很难确定自己对往事的回忆,于是最终接受了对自己不利的控告

114.为了对付北方夏季的一场罕见干旱,某市居民用水量受到严格限制。不过,该市目前的水库储水量与8年前该市干旱期间的蓄水量持平。既然当时居民用水量并未受到限制,那么现在也不应该受到限制。

如果以下陈述为真,哪一项将最严重地削弱作者的主张?

- A.自上次干旱以来,该市并没有建造新的水库
B.按计划,对居民用水量的限制在整个夏天仅仅持续两个月
C.居民用水量占总用水量的50%还多
D.自上次干旱以来,该市总人口有了极大的增长

115.李赫,张岚,林宏,何柏,邱辉,5位同事近日他们各自买了一台不同品牌小轿车,分别为雪铁龙,奥迪,宝马,奔驰,桑塔纳。这五辆车的颜色分别与5人名字最后一个字谐音的颜色不同。已知,李赫买的是蓝色的雪铁龙。

以下哪项排列可能依次对应张岚,林宏,何柏,邱辉所买的车?

- A.灰色奥迪、白色宝马、黑色奔驰、红色桑塔纳
B.黑色奥迪、红色宝马、灰色奔驰、白色桑塔纳
C.红色奥迪、灰色宝马、白色奔驰、黑色桑塔纳
D.白色奥迪、黑色宝马、红色奔驰、灰色桑塔纳

116.张林是奇美公司的总经理,潘洪是奇美公司的财务主管。奇美公司每年生产的紫水晶占全世界紫水晶产品的2%。潘洪希望公司通过增加产量使公司利润增加。张林却认为:增加产量将会导致全球紫水晶价格下降,反而会导致利润减少。

以下哪项最为恰当地指出了张林的逻辑推断中的漏洞?

- A.将长期需要与短期需要互相混淆
B.将未加工的紫水晶与加工后紫水晶的价格互相混淆
C.不当地假设公司的生产目标与财务目标不一定是一致的
D.不当地假设奇美公司的产品供给变化会显著改变整个水晶市场产品的总供给

第五部分 资料分析
(共 15 题,参考时限 15 分钟)

所给出的图、表、文字或综合型资料均有若干个问题要你回答。你应根据资料提供的信息进行分析、比较、计算和判断处理。

请开始答题:

根据以下资料,回答第 121~125 题。

2009 年以来,山东省工业生产增速呈波动回升态势,8 月份规模以上工业增加值增长 15.0%,比年初增速提高 3.3 个百分点。1-8 月,累计实现增加值 12188.4 亿元,增长 12.6%,较上半年增速提高 0.6 个百分点,比全国平均增速快 4.5 个百分点。工业品产量回升面继续扩大,增势稳步升高。8 月份,在国家重点调度的 120 种工业产品中,有 95 种产品产量同比增长,占重点调度产品的 79.0%,占比较 7 月份提高 14.0 个百分点;增速较 7 月份提高的有 77 种,占重点调度产品的 64.2%。

1-8 月,全社会固定资产投资完成 12872.1 亿元,增长 23.0%,增幅比上半年提高 0.2 个百分点,同比提高 1.5 个百分点。其中,城镇投资 10557.4 亿元,增长 22.7%,增幅比上半年提高 0.2 个百分点。第一、二产业投资保持稳定增长,依次增长 19.2%和 16.2%;第三产业投资增速加快,增长 33.0%,增幅比上半年提高 1.0 个百分点;上年同期的三次产业投资构成之比为 3.9:56.3:39.8。1-8 月,房地产开发投资完成额 1507.0 亿元,增长 22.5%,比全国平均增速高 7.8 个百分点。房屋销售面积 3424.1 万平方米,增幅由上半年、1-7 月的 11.0%、19.5%提升至 24.9%。

今年以来,全省消费市场逐步走强,社会消费品零售额增长由 2 月份的 14.4%增至 8 月份的 18.8%,提高 4.4 个百分点。1-8 月累计实现零售额 7808.4 亿元,增长 18.1%,增速同比回落 5.4 个百分点,比上半年提高 0.2 个百分点,比全国平均增速高 3.0 个百分点;扣除价格因素,实际增长 19.2%,同比提高 2.4 个百分点。其中,县以上城市市场实现零售额 5075.0 亿元,增长 18.5%;县及县以下农村市场实现零售额 2733.4 亿元,增长 17.4%。

8 月份,居民消费价格比上月上涨 0.3%,为自今年 3 月份以来首次出现月环比上涨。与上年同月比,居民消费价格下降 0.7%,比上月降幅收窄 0.1 个百分点。1-8 月,居民消费价格同比下降 0.2%,继续延续上月累计同比价格首次出现的降势,降幅比前 7 个月扩大 0.1 个百分点,比全国平均降幅低 1.0 个百分点。8 月份,原材料燃料动力购进价格和工业品出厂价格环比分别上涨 0.6%和 0.8%。与上年同月比,两类价格依次下降 7.6%和 8.8%,其中,工业品出厂价格同比自上年 12 月由升转降以来,降幅首次出现缩减,比 7 月份降幅收窄 0.6 个百分点。1-8 月,两类价格累计同比分别下降 5.6%和 7.1%,较全国平均降幅依次低 3.8 个百分点和高 0.7 个百分点。

121.2009 年 7 月份,在国家重点调度产品中,山东省工业品产量同比增长的有()种。

A.65 B.78 C.93 D.95

122.2007 年 1-8 月,山东省累计实现零售额:

A.7466.9 亿元 B.5866.6 亿元

117.某国采用了一种新方法测试献血者是否携带 NANB 肝炎病毒。在实施这种方法前估计因此将被淘汰的 NANB 病毒携带者将占整个报名献血者的 5%。实际结果显示,仍然有三分之二的携带 NANB 病毒的报名献血者通过测试而献了血,他们占实际献血人数的 10%。

由此可以推出,()。

- A.NANB 病毒的测定是国际范围内医学界的难题
- B.实施测试方法前对被淘汰的 NANB 病毒携带者数量百分比的估计偏高
- C.实施测试方法前对被淘汰的 NANB 病毒携带者数量百分比的估计偏低
- D.实施测试方法前对被淘汰的 NANB 病毒携带者数量百分比的估计非常准确

118.为了调查当前人们的识字水平,其实验者列举了 20 个词语,请 30 位文化人士识读,这些人的文化程度都在大专以上。识读结果显示,多数人只读对 3 到 5 个词语,极少数人读对 15 个以上,甚至有人全部读错。其中,“蹒跚”的辨识率最高,30 人中有 19 人读对;“呱呱坠地”所有人都读错。20 个词语的整体误读率接近 80%。该实验者由此得出,当前人们的识字水平并没有提高,甚至有所下降。

以下哪项如果为真,最能对该实验者的结论构成质疑?

- A.实验者选取的 20 个词语不具有代表性
- B.实验者选取的 30 位识读者均没有博士学位
- C.实验者选取的 20 个词语在网络流行语言中不常用
- D.“呱呱坠地”这个词的读音有些大学老师也经常读错

119.生活应该是一系列冒险,它很有乐趣,偶尔让人感到兴奋,有时却好像是通向不可预知的未来的痛苦旅行。当你试图以一种创造性的方式生活时,即使你身处沙漠中,也会遇到灵感之井、妙想之泉,它们却不是能事先拥有的。

下面哪一个选项所强调的意思与题干的主旨相同?

- A.英国哲学家休谟说,习惯是人生的伟大指南
- B.美国哲学家怀特海说,观念的改变损失最小,成就最大
- C.法国化学家巴斯德说,机遇只偏爱有准备的头脑
- D.美国诗人弗罗斯特说,假如我知道写诗的结果,我就不会开始写诗

120.域控制器存储了域内的账户、密码和属于这个域的计算机三项信息。当计算机接入网络时,域控制器首先要鉴别这台计算机是否属于这个域,用户使用的登录账户是否存在,密码是否正确。如果三项信息均正确,则允许登录;如果以上信息有一项不正确,那么域控制器就会拒绝这个用户从这台计算机登录。小张的登录账号是正确的,但是域控制器拒绝小张的计算机登录。

基于以上陈述能得出以下哪项结论?

- A.小张输入的密码是错误的
- B.小张的计算机不属于这个域
- C.如果小张的计算机属于这个域,那么他输入的密码是错误的
- D.只有小张输入的密码是正确的,它的计算机才属于这个域

※※※第四部分结束,请继续做第五部分! ※※※

A.69.1% B.65.6% C.49.7% D.45.6%

132.2008年1~10月份,我国东北三省商品房销售总面积约为()万平方米。

A.3020.48 B.4112.34 C.4444.65 D.3345.39

133.我国2008年1~10月份商品房销售平均价格为:

A.0.323亿元/万平方米 B.0.393亿元/万平方米

C.0.402亿元/万平方米 D.0.343亿元/万平方米

134.2009年1~10月份商品房销售的平均价格最低的地区是:

A.中部地区 B.西部地区

C.东部地区 D.无法判断

135.以下四个选项中正确的是:

A.2008年黑龙江省的商品房销售总额接近300亿元

B.2008年我国东部地区商品房的平均销售价格超过0.6亿元/万平方米

C.2009年1~10月份,西部各省商品房销售总额和销售总面积相较上年均有所增加

D.2008年1~10月份,北京市商品房销售额低于上海市

※※※全部测验到此结束! ※※※

2012年度国家公务员录用考试 《行政职业能力测验》全真模拟预测试卷(二)

注意事项

1.行政职业能力测验共有五个部分,135道题,总时限为120分钟。各部分不分别计时,但都给出了参考时限,供答题时参考。

2.将姓名与准考证号在指定位置上用黑色字迹的钢笔、签字笔或圆珠笔填写,并用2B铅笔在准考证号对应的数字上填涂。

3.请将题本上的条形码揭下,贴在答题卡指定位置。没有贴条形码的答题卡将按作废处理,成绩计为零分。

4.题目应在答题卡上作答,在题本上作答一律无效。

5.待监考老师宣布考试开始后,你才可以开始答题。

6.监考老师宣布考试结束时,你应立即停止作答,将题本、答题卡和草稿纸都翻过来放在桌上,待监考老师确认数量无误、发出离开指令后,方可离开考场。

7.试题答错不倒扣分。

8.严禁折叠答题卡!

第一部分 常识判断

(共25题,参考时限15分钟)

根据题目要求,在四个选项中选出一个最恰当的答案。

请开始答题:

1.构建社会主义和谐社会,要按照民主法治、公平正义、诚信友爱、充满活力、安定有序、人与自然和谐相处的总要求和_____的原则,着力解决人民最关心、最直接、最现实的利益问题,努力形成全体人民各尽其能、各得其所而又和谐相处的局面,为发展提供良好社会环境。

A.效率与公平相统一

B.共同建设、共同享有

C.注重效率、兼顾公平

D.各尽所能、各取所需

2.创新是一个民族进步的灵魂,是一个国家兴旺发达的不竭动力,也是一个政党永葆生机的源泉。创新包括理论创新、制度创新、技术创新、文化创新及其他各方面的创新。在各种创新中处于先导地位的是:

A.科技创新

B.制度创新

C.文化创新

D.理论创新

3.下列表述不正确的是:

- A.目前我国已经建设客运专线 8358 公里,这标志着高速铁路运营总里程已位居世界第一
- B.2010 年 7 月 10 日是“中国 2010 年上海世博会志愿者主题日”,也是世博历史上首次设立的“志愿者主题日”
- C.在 2010 年全球货物吞吐量排行榜中,中国稳占 8 席,深圳港继续保持全球第一大港的位置
- D.我国“天河一号”高性能计算机位列世界超级计算机 500 强排行榜首位
- 4.民族区域自治制度是新中国的重要政治制度。在我国五个民族自治区中,最早和最晚建立的是:
- A.内蒙古自治区、西藏自治区
- B.内蒙古自治区、宁夏回族自治区
- C.新疆维吾尔自治区、宁夏回族自治区
- D.广西壮族自治区、西藏自治区
- 5.“十二五”时期,我国对外开放战略将实现的转变不包括:
- A.从以往的以出口创汇为核心目标转变为以促进经济发展模式转变为目标
- B.从以往追求外资外贸规模与速度转为讲求质量与效益
- C.从以往的以“引进来”为主转变为以“走出去”为主
- D.从以往的制造业开放为主转变为制造业与服务业开放并重
- 6.根据《选举法》,下列说法正确的是:
- A.选举委员会根据选民的要求,可以组织代表候选人与选民见面
- B.代表候选人的近亲属可以担任监票人、计票人
- C.每一代表所代表的城乡人口数相同
- D.选举时可以设有秘密写票处
- 7.根据《突发事件应对法》,下列说法正确的是:
- A.突发事件应对工作实行预防为主、预防与应急相结合的原则
- B.涉及两个以上行政区域的,由有关行政区域的人民政府共同负责
- C.国务院和县级以上地方各级人民政府的办事机构是突发事件应对工作的行政领导机关
- D.突发事件预警级别,可分为一级、二级、三级和四级,四级为最高级别
- 8.下列有关政务公开的说法不正确的是:
- A.要认真贯彻实施政府信息公开条例,一切政府信息,都要向社会公开
- B.对人民群众申请公开政府信息的,要依法在规定时限内予以答复
- C.要把公开透明作为政府工作的基本制度,拓宽办事公开领域
- D.创新政务公开方式,方便人民群众通过互联网办事
- 9.下列历史事件时间排序正确的一组是:
- A.戊戌变法——马关条约——五四运动
- B.郑和下西洋——戚继光抗击倭寇——郑成功收复台湾
- C.张衡发明地动仪——诸葛亮写《出师表》——张骞出使西域
- D.虎门销烟——中日甲午战争——第一次鸦片战争
- 10.以下人物及其成就说法不正确的是:
- A.巴甫洛夫发现了条件反射
- B.拉瓦锡揭示了物质燃烧的本质

- C.亚当·斯密的《就业、利息与货币通论》
- D.冯·诺依曼被称为计算机之父
- 11.下列关于中国的航天航空发展说法错误的是:
- A.“中国航天第一港”是酒泉卫星发射中心
- B.“神舟七号”载人飞船于 2008 年 9 月 25 日发射,翟志刚实现了中国历史上的首次太空漫步
- C.我国第一颗人造卫星“东方红”一号于 1968 年遨游太空
- D.航空火箭学家、空气动力学家钱学森被誉为“中国航天之父”和“火箭之王”
- 12.我国最大的天然林区分布在:
- A.西北地区 B.东北地区 C.西南地区 D.东南地区
- 13.贯彻科学发展观,就要树立正确的政绩观,彻底改变“唯 GDP 论英雄”的政绩评价方式,这是因为 GDP 不能:
- A.反映经济实力和市场规模 B.进行国际经济的横向比较
- C.全面反映人民的幸福程度 D.反映社会经济结构的变动情况
- 14.关于我国的卫生医疗事业,下列说法不正确的是:
- A.人人享有基本医疗卫生服务是我国的卫生发展目标
- B.隋末唐初的医学家“药王”孙思邈著有《本草纲目》
- C.从 2000 年起,我国开始建立城镇职工基本医疗保险制度
- D.砒石是我国古代最早发明、使用的一种医疗用具,是新石器时代的产物
- 15.关于我国的地形,以下说法不正确的是:
- A.吐鲁番盆地是我国地势最低的盆地
- B.华北平原是我国最大的平原
- C.我国西北—东南走向的山脉主要有两条:阿尔泰山和祁连山
- D.我国地势的第一级阶梯是青藏高原,平均海拔在 4000 米以上
- 16.科学发展观是按照“统筹城乡发展、统筹区域发展、统筹_____发展、统筹人与自然和谐发展、统筹国内发展和对外开放”的要求推进各项事业的改革和发展的一种方法论,是中国共产党的重大战略思想。
- A.政治社会 B.经济社会 C.文化社会 D.精神社会
- 17.社会主义和谐社会的核心价值是:
- A.自由民主 B.公平正义 C.社会稳定 D.以人为本
- 18.当地自然资源对建筑风格的影响最弱的是:
- A.西双版纳的傣家竹楼 B.纽约的摩天大楼
- C.因纽特人的雪屋 D.黄土高原的窑洞
- 19.关于国画,以下说法不正确的是:
- A.中国画自古分为人物、山水、花鸟三大科
- B.长沙楚墓出土的《人物龙凤图》、《御龙图》是现存最古老的帛画
- C.元四家是指黄公望、王蒙、倪瓒和文征明
- D.郑板桥的代表作有《兰石图》、《竹石图》
- 20.下列各项,说法不正确的是: