



曲一线科学备考

让每一位学生分享高品质教育



5年[®]高考

3年模拟

WUNIAN GAOKAO SANNIAN MONI

高考政治

新课标专用

北京市特级教师徐克兴如此评价：5·3实为高考科学备考领军之作，集学考之精粹，成名世之奇书，有助于迅速提高考试成绩。

北京市特级教师乔家瑞如此评价：谁选用了5·3，谁就选择了一条正确的复习道路；
谁选用了5·3，谁就掌握了科学的复习方法；谁选用了5·3，谁就会取得理想的高考成绩。



 首都师范大学出版社
CAPITAL NORMAL UNIVERSITY PRESS

 教育科学出版社
ESPH Educational Science Publishing House



5年高考 3年模拟

WUNIAN GAOKAO SANNIAN MONI

高考政治 新课标专用

丛书主编：曲一线

专家顾问：徐克兴 乔家瑞 李俊和 洪安生 刘振贵 王永惠 梁侠 李晓风 王树声

本册主编：管荣生

副主编：姜明涛 江志军 于翱森

编委：孔同运 王志和 吕海志 莫偌 葛德林 程坤

图书在版编目(CIP)数据

5年高考3年模拟·政治/曲一线主编.
—北京:首都师范大学出版社,2005.6
ISBN 978-7-81064-828-8

I. 5... II. 曲... III. 政治课-高中-习题-升学参考资料
IV. G634

中国版本图书馆CIP数据核字(2005)第060894号

5年高考3年模拟·政治
丛书主编 曲一线

责任编辑 周正群 责任录排 李雪梅

出版发行 首都师范大学出版社
北京西三环北路105号 100048

教育科学出版社

北京·朝阳区安慧北里安园甲9号 100101

电 话 68418523(总编室) 68982468(发行部)

网 址 www.cnupn.com.cn

中原出版传媒投资控股集团北京汇林印务有限公司印刷

全国新华书店发行

版 次 2010年6月第6版

印 次 2010年6月第1次印刷

开 本 890毫米×1240毫米 1/16

印 张 22.5

字 数 810千

定 价 45.00元

版权所有 违者必究

如有质量问题 请与010-63735353联系退换



1915年旧金山世博会上福特与他发明的T型汽车



1939—1940年纽约世博会上通用汽车展示的“未来世界”



1962年西雅图世博会上展示的概念车

1867年巴黎世博会，德国人奥拓发明的“内燃机”获得金奖；1876年费城世博会，奥拓展示了更加完美的“四冲程循环内燃机”。新的动力机加速了交通工具的变革。

德国工程师戴姆勒和本茨被认为汽车业的鼻祖和元勋。1886年，卡尔·本茨发明了第一辆不用马拉的三轮车，并获得“汽车制造专利权”。1889年巴黎世博会上，戴姆勒则展示了马车装上最新汽油发动机的四轮汽车。

1915年旧金山世博会，福特公司把“T型汽车”的生产线搬到世博会场。每天下午演示3小时，每10分钟组装一辆车并现场销售，期间共生产汽车4400辆。标准的程序，精确的分工，流水线生产，彻底改变了汽车制造理念。汽车从此进入了大规模流水线生产。

随着科技的发展，各种概念车、新能源车在历届世博会上层出不穷，汽车已经成为人们生活中不可或缺的一部分。



1889年巴黎世博会上本茨发明的三轮汽车



1889年巴黎世博会上戴姆勒发明的四轮汽车





曲一线科学备考心语



祁明怡

清华大学经管学院学生，毕业于江苏省盐城中学，2008年江苏省高考理科状元

热血高三，5·3为伴

文/祁明怡

这天下午，我们一大群同学一起参观和访问了曲一线图书策划有限公司。就是这家公司，策划出版了曾让我受益颇深的《5年高考3年模拟》。接到邀请时恰逢清华开学，事务繁忙，几乎抽不开身，但自己却没有太多犹豫就答应了。一方面是自己对这套书的确有感情；另一方面，整个高三一直放在案头最显眼处、时时翻阅的那本5·3，确实令我叹为观止。

坐在去往曲一线的车上，看着窗外流动的风景，我一直回想着自己那本写满了课堂笔记的5·3语文。记得自己当时的语文基本功不够扎实，成绩波动很大，想要分项突破，语文老师就给我推荐了《5年高考3年模拟》。这本书讲解全面，归纳系统，解析透彻。当时，只要一想起手里的5·3，心里就特别踏实，感觉它就像一部牛津字典。

在曲一线，大家受到了热情接待。我们看到了在营销大厅里繁忙地接听来自全国各地电话的员工，在办公室将成堆的稿件录入电脑的技术人员，在审校室正在抽样检查的专业编辑，还有来自全国各地的专门为5·3撰稿的特级、高级教师……一本好书的出炉真是需要许许多多的人付出心血和努力。从最初梳理一线教师多年的教学经验，构建最合理的知识架构，再经过反复推敲打磨，直至浓缩成为简洁明了的知识清单，再经过七审七校达到小于万分之一的错误率，才最终成为我以前使用的那本红色5·3……

我不禁唏嘘不已。这个世界并不缺少奇迹，但究其一生能经历、甚至说能见证的人却寥寥无几。曲一线的员工为了图书早一点上市，心甘情愿地加班加点，夜以继日，只想更快捷地为全国的师生提供高品质图书。我们在大厅里看到了曲一线的企业使命——让每一位学生分享高品质教育。正是这种崇高的理想和信念，让曲一线从不急功近利，策划出版的图书更加贴近学生的实际需求，帮助无数像我一样的学生圆了自己的名牌大学梦。

回学校的路上，和同行的伙伴说起了刚刚过去的高三生活。也许是高考得到了想要的结果吧，现在回想起来，高三这一年对我来说更多是一种享受。有一个明确的目标，有一份为这个目标铆足劲向前冲的心情，是一件很幸福的事情。人的一生，有几个如此单纯又如此热血的一年？更何况，还有5·3为伴呢！



徐金鹏

清华大学经管学院学生，毕业于湖南省怀化铁路一中，2009年湖南省高考文科状元

5·3是目前市面上关于高考复习的一套近乎完美的资料，其内容详实，体例编排得当，适合不同年级不同层次的同学用于巩固知识，科学备考。高一高二的学弟学妹可以通过它零距离接触高考，提前一步做好准备，做到厚积薄发。高三学子可以借助它实现最好的冲刺，登上梦想的巅峰。选择5·3，就是选择了高效的复习方法；选择5·3，就是选择为自己的高中奋斗生涯画上一个圆满的句号。

科学备考

一套 **5+3** 就够了

5大特性

资料性 ▶ 囊括最新5年高考真题，精选最近3年经典模拟，知识覆盖全面，题型覆盖全面

权威性 ▶ 最新考纲权威解读，高考真题原味呈现；一线名师心血结晶，高考专家严格审定

科学性 ▶ 分类编排科学，选题解析科学，训练设计科学，规律方法科学

实用性 ▶ 教学练考一体，题组阶梯分布，试题变式多解，答案全解全析

前瞻性 ▶ 深入探究教改理念，科学总结命题规律，精确预测命题趋势

3大标准

知识习题化 ▶ 以训练为主线

考点清单化 ▶ 以考点为核心

素材趣味化 ▶ 以兴趣为原点

5+3=1套高考整体解决方案

盗版举报专线：010-87606918（李律师）

邮购热线：400 898 5353（免长途费） 客服热线：010-63735353 网络订购：www.exian.cn

防伪查询说明

1. 登陆曲一线官方网站www.exian.cn，在“防伪查询”窗口输入防伪码，点击查询按钮，真伪立辨。
2. 查询后如果提示为非正版图书或封面无防伪标志，请及时拨打010-63735353核实登记。确认后请将该书寄至：北京市100176信箱09分箱 邮购部（收）邮编：100176，您将及时得到正版图书并获得意外奖励。**如提供有效的打击盗版线索，有重奖。**
3. 本次活动最终解释权归曲一线所有。

轻轻地告诉你

Lingqing de gaosu ni

朋友，我正看着你呢，你也正看着我。

我不是一幅色彩缤纷、线条优美的画卷，也许不能让你感受生活的美妙、世界的神奇；

我不是一曲余音绕梁、三日不绝的仙乐，也许不能让你领悟高山的淳朴、流水的真挚。

我只是一行行前人的足迹，引领你登上书山的峰顶；

我只是一句句殷切的叮咛，提醒你拾起遗漏的点滴。

啊，朋友！

其实，我是一页页在久久期待，期待着能与你晤谈的文字。

我给予你的，是需要你辛勤劳作的土地。

我爱你，我对所有的学子充满敬意：你最辛苦，因此你也最美丽。

我爱你，你的勤奋、刻苦、拼搏、进取，将成为我永久的记忆。

我想对你说，拥抱明天，需要你学会做人、学会学习、学会生存，也需要你付出百倍努力，学会考试！

我想对你说，考试就意味着竞争，考试就意味着较量，考试就意味着选拔，考试就意味着优胜劣汰。考试需要有健康的体魄和挺拔的心理，考试更需要有坚韧的毅力和顽强的斗志。

我想对你说，我可能有点丑陋，只是一本毫无表情的普普通通的书，但我的字里行间，流淌着无数老师的良苦，蕴蓄着无数专家学者的睿智。

◆ **五年高考** 这是多少命题专家的心血啊，这是多少命题学者的汗滴。这是智慧的结晶，这是精心的设计，这是苦心的创作，这是优美的诗句。洞悉高考试题及命题规律就等于抓住了上帝的一只手，就等于揭开了上帝手中的谜底！

◆ **解读探究** 这是对考纲最权威的解读，这是对命题最深入的探究，明确高考方向，掌握高考规律，科学备考，事半功倍。

◆ **知识清单** 这是千万老教师的经验，这是无数成功者的累积。这是最系统的归纳，这是最科学的设计。你要记死，不要死记。

◆ **突破方法** 这里重点难点各个突破，这里方法技巧一应俱全。达尔文说：“最有价值的知识是关于方法的知识。”掌握科学的复习方法，你将拥有制胜的利器！

Qingqing de gaosu ni

◆ **三年模拟** 这是一线教师团结起来跟命题人的较量，是命题人不得不阅读的重要信息，也是命题人灵感的发源地。你要精心地去练习，探索个中就里。

◆ **智力背景** 这是知识的拓展，这是能力的延伸，这是智慧的加油站，这是高考的动力臂。如果拥有这个支点，你将会拥有解决所有问题的妙计。

我想对你说，我正迫不及待地走向你。因为你拥有了我，我就拥有了你。你拥有了我，你就多了一份慰藉；我拥有了你，我就多了一份欣喜。

我想对你说，请把我介绍给所有认识你的人，你的成功，你的终生受益是我的唯一。

我想对你说，我虽不是什么“灵丹妙药”，但如果你掌握了我给你讲的应试技巧，你确能“妙手回春”。

我虽不是什么“金钥匙”，却能开启你通往理想王国的大门。

我虽不是什么“救生符”，却是你在短时间内走向成功的阶梯。

我想对你说，军号已经吹响，钢枪正需擦亮，高考正向你走来，东方已露出曙光。时间，不允许你再犹豫；空间，不允许你再逃避。

你和所有人一样都站在同一条起跑线上，既然，天才不常有，蠢材也罕见，既然，智慧就在你的脑袋里，那么，面对高考，你只有充满自信和乐观，决不能留下遗憾和叹息。

我想对你说，不再回头的，不只是那古老的辰光，也不只是那些个夜晚的群星和月亮，还有你的青春。青春，这是上帝赋予你的无限高贵的礼品，青春充满着力量、信心和希冀。

请把烦恼和无奈抛给昨天，面对挑战，无论是输是赢，你都须全身心地投入，向着既定的目标冲刺！

我想轻轻地告诉你，所有的人，都在祝福着你。

你向上看，上面写着，我永远祝福你；你向后看，后面写着，我永远祝福你。这一点毫不怀疑。

朋友，你正看着我呢，我也正看着你。

诚聘英才作者 诚征优秀书稿

北京曲一线图书策划有限公司怀揣对教育事业的热爱，凭借对教育教学改革的敏锐把握，依靠经验丰富的教师团队，使《5年高考3年模拟》《5年中考3年模拟》等书逐渐成为教辅市场的一面旗帜。为了不断进步，打造更实用更完美的图书品牌，曲一线诚邀全国初高中名师加盟，诚征初高中优秀教辅书稿。

加盟曲一线，真诚到永远！

凡加盟者可享受如下待遇：1 稿酬从优，结算及时。2 参编者一律颁发荣誉证书。3 参编者将免费获得曲一线提供的各种图书资料和培训机会。


来信请寄：北京市100176信箱09分箱 总编室收

邮编：100176

邮箱：zbs@exian.cn

电话：010-87602687

请在信封上注明“应聘作者”

请沿此虚线剪下寄回 

2011《5年高考3年模拟（新课标专用）》读者反馈表

亲爱的读者：

您好！感谢您使用《5年高考3年模拟》系列丛书，感谢您对我们的大力支持！

为进一步提高图书质量，请您把使用过程中发现的不足和建议反馈给我们，我们将会认真对待您的每一条意见，并用心把书做得更好。

您的进步是我们的希望，您的成功是我们的欣慰。

来信请寄：北京市100176信箱09分箱 总编室收

邮编：100176

邮箱：zbs@exian.cn

电话：010-87602687

请在信封上注明“读者反馈”

姓名	电话	邮箱	科目
通信地址		邮编	版本
错误记录			
主要不足			
主要优点			

目录

Contents

必考内容

第 1 部分 经济生活

- 专题一 生活与消费 (1)
- 专题二 生产、劳动与经营 (20)
- 专题三 收入与分配 (38)
- 专题四 发展社会主义市场经济 (55)

第 2 部分 政治生活

- 专题五 公民的政治生活 (72)
- 专题六 为人民服务的政府 (87)
- 专题七 发展社会主义民主政治 (104)
- 专题八 当代国际社会 (121)

第 3 部分 文化生活

- 专题九 文化与生活 (135)
- 专题十 文化传承与创新 (150)

Contents

专题十一 中华文化与民族精神..... (166)

专题十二 发展中国特色社会主义文化 (179)

第4部分 生活与哲学

专题十三 生活智慧与时代精神..... (196)

专题十四 探索世界与追求真理..... (206)

专题十五 思想方法与创新意识..... (221)

专题十六 认识社会与价值选择..... (239)

选考内容

专题十七 经济学常识 (252)

专题十八 国家和国际组织常识..... (260)

专题十九 公民道德与伦理常识..... (270)

答案全解全析 (279)

Contents

高考政治智力背景

世博会	(1)	国庆 60 周年大阅兵	(72)
货币的起源	(2)	福建南平砍杀小学生案	(73)
古代货币为什么都是圆形方孔钱	(3)	“4·14”玉树地震	(74)
“钞票”这一称谓的起源	(4)	楼脆脆事件	(75)
什么是 CPI	(5)	南京“徐宝宝事件”	(76)
什么是 PPI	(6)	国务院食品安全委员会设立	(77)
消费乘数理论	(7)	国务院发布《中华人民共和国知识产权海关保护条例》	(78)
基尼系数	(8)	怎样深化政府自身改革	(79)
恩格尔系数	(9)	钓鱼执法	(80)
民生经济学	(10)	国务院决定成立国家能源委员会	(81)
食品安全法	(11)	最高法院发布意见要求全国法院贯彻宽严相济刑事政策	(82)
各地上调水价	(12)	省直管县	(83)
养老保险新政	(13)	广州率先立法禁止办公室吸烟,拒不改正可罚 50 元	(84)
什么叫保障性住房	(14)	什么是微博	(85)
使用信用卡新规	(15)	政务公开	(86)
丰田章男就汽车召回向中国消费者道歉	(16)	房屋征收补偿条例征求意见	(87)
经济危机	(17)	《国家中长期教育改革和发展规划纲要》向社会征求意见	(88)
股指期货	(18)	取消城乡差别,实现“同票同权”	(89)
什么是绿色消费	(19)	社会主义政治文明	(90)
什么是网络代购	(20)	为什么要进行选民登记	(91)
低碳生活	(21)	社会建设	(92)
磁浮列车	(22)	中央纪委反腐倡廉新部署	(93)
布利丹效应:成功始于果敢的决策	(23)	出台《责任追究办法》意义何在	(94)
达维多定律	(24)	“金鱼缸”法则	(95)
250 定律	(25)	“两个必须”充分彰显我党惩治腐败的决心	(96)
零和游戏原理	(26)	怎样推进从源头上防治腐败的制度改革和创新	(97)
手表定理	(27)	中国特色社会主义理论体系	(98)
快鱼法则	(28)	西藏百万农奴解放是崇高而正义的	(99)
比尔·盖茨苛求自己	(29)	2010 年全国宗教工作会议	(100)
鲑鱼效应	(30)	中央研究部署推进西藏跨越式发展工作	(101)
瓶颈效应	(31)	第五次西藏工作座谈会举行	(102)
什么是威客	(32)	何谓三股势力	(103)
存款准备金率	(33)	社会听证	(104)
存款准备金率上调	(34)	“基层群众自治制度”纳入中国特色的政治制度	(105)
个人理财中的足球理论	(35)	国旗的分量	(106)
给年轻人的理财建议(一)	(36)	于右任的临终诗	(107)
给年轻人的理财建议(二)	(37)	把殊荣颁给祖国	(108)
分蛋糕的规则	(38)	国际儿童节	(109)
循环经济	(39)	关于国家各种称谓的含义	(110)
目前我国高速铁路运营里程居世界第一位	(40)	白皮书、蓝皮书	(111)
中央财政预算公开再迈重要步伐	(41)	党内民主	(112)
怎样看待预算信息公开工作	(42)	社会公示制度和听证制度	(113)
2010 年继续实施积极的财政政策	(43)	什么是地方民族主义	(114)
2010 年税收宣传月主题:税收·发展·民生	(44)	开斋节	(115)
“财政”一词的来源	(45)	邪教	(116)
什么是车辆购置税	(46)	藏族的哈达	(117)
什么是生态税	(47)	为什么我国清真寺的礼拜大殿都是坐西向东建造的	(118)
什么是增值税转型	(48)	澳门回归祖国 10 周年	(119)
什么是燃油税	(49)	两岸规模最大的民间交流大会——首届海峡论坛	(120)
如何推进收入分配制度改革	(50)	20 国集团简介	(121)
什么是“三网”融合	(51)	金砖四国	(122)
“五缓四减三补贴”就业扶持政策	(52)	哥本哈根气候大会	(123)
医药卫生体制改革的五项重点工作	(53)	你了解世界卫生日吗	(124)
民政部:80 岁以上老人可享高龄津贴	(54)	世界地球日	(125)
旱灾的背后	(55)	博鳌亚洲论坛	(126)
沙尘暴不再遥远	(56)	中立国	(127)
结构调整的加减乘除	(57)	八国集团首脑会议	(128)
经济发展的三大规则	(58)	综合国力的含义	(129)
块状经济与集群经济	(59)	海地发生大地震	(130)
为什么要加快淘汰落后产能	(60)	上海合作组织	(131)
海南全力推进国际旅游岛建设	(61)	诺贝尔和平奖	(132)
中国将全面推进跨境贸易人民币结算试点工作	(62)	世界特殊奥运会	(133)
第三次中日财长对话在北京举行	(63)		
欧洲强子对撞机“开撞”成功	(64)		
怎样看待海外并购	(65)		
什么是绿色壁垒	(66)		
什么是碳足迹	(67)		
区域一体化	(68)		
世界经济论坛	(69)		
什么是外贸依存度	(70)		
什么是蘑菇管理定律	(71)		

Contents

什么是单边主义	(134)	破罐不顾	(207)
文化是什么：一个众说纷纭的话题	(135)	治驼背术	(208)
绿色阅读	(136)	网上祭祀	(209)
广告与成语	(137)	放弃眼前利益	(210)
不为五斗米折腰	(138)	揠苗助长	(211)
文豪与乞丐的握手	(139)	齐人有好猎者	(212)
人生的六字秘诀	(140)	荆人涉楚	(213)
贝多芬只有一个	(141)	老狮子与狐狸	(214)
飞到绝境是飞瀑	(142)	金丝雀与蝙蝠	(215)
“磨洋工”的来历	(143)	吓人的名字	(216)
门第之分	(144)	水桶的故事	(217)
木桶定律：注重团队中的薄弱环节	(145)	挤牛奶	(218)
发呆可增进血液循环	(146)	量体裁衣	(219)
妙话人生三步曲	(147)	锁箱捆笼	(220)
选择小语种专业要结合兴趣	(148)	梧鼠学技	(221)
“宅男宅女”	(149)	买椟还珠	(222)
千年古刹——国清寺	(150)	斗争性	(223)
欧洲四大名著——《荷马史诗》	(151)	踏扁葫芦	(224)
神曲(Commedia, Divine Comedy)	(152)	秀才审案	(225)
欧洲四大名著——《哈姆雷特》	(153)	鲁侯养鸟	(226)
欧洲四大名著——《浮士德》	(154)	不冻手之药	(227)
中国四大名著——《三国演义》	(155)	放大你的优点	(228)
中国四大名著——《西游记》	(156)	剑客	(229)
中国四大名著——《水浒传》	(157)	起死回生	(230)
中国四大名著——《红楼梦》	(158)	橘逾淮为枳	(231)
什么是无厘头	(159)	杨布打狗	(232)
何谓“非主流”	(160)	杀猪教子	(233)
《十面埋伏》	(161)	愚人吃饼	(234)
《汉宫秋月》	(162)	朝三暮四	(235)
《阳春白雪》	(163)	姜从树生	(236)
《渔樵问答》	(164)	庸医断箭	(237)
《平沙落雁》	(165)	蓬头赤足	(238)
2010年上海世博会中国国家馆	(166)	弯腰	(239)
2010年上海世博会会徽简介	(167)	没人磨墨	(240)
茶水文化	(168)	卖糖哲学	(241)
孔子学院	(169)	朴素辩证法	(242)
此生唯愿长报国	(170)	唯心辩证法	(243)
文化产业的“纽扣”现象	(171)	圆圈的比喻	(244)
保护非物质文化遗产	(172)	凿湖容水	(245)
文化消费潜力	(173)	以羊换牛	(246)
文化软实力	(174)	一鸣惊人	(247)
中国义务教育之路	(175)	凿壁移痛	(248)
东方的荷马史诗	(176)	扣盘扞烛	(249)
《孙子兵法》	(177)	不材之木	(250)
红色表示吉庆的由来	(178)	反映论	(251)
竹子与精神文化	(179)	李嘉图的主要理论	(252)
动情的教育	(180)	什么是市场准入制度	(253)
皮影戏	(181)	“看不见的手”	(254)
金鸡奖	(182)	什么是不值得定律	(255)
五行学说	(183)	何为融资融券	(256)
用青春铸造生命之梯	(184)	凯恩斯革命	(257)
乡镇文化站职能	(185)	国际货币基金组织	(258)
“鸟巢一代”感动世界	(186)	世界移动通信大会	(259)
梁启超的“三步读书法”	(187)	三权分立	(260)
缺边的牡丹	(188)	亚洲政党国际会议	(261)
《官场现形记》	(189)	颜色革命	(262)
《老残游记》	(190)	索马里海盗	(263)
《孽海花》	(191)	国际刑警组织	(264)
《二十年目睹之怪现状》	(192)	“卡廷事件”	(265)
《高山流水》	(193)	《里斯本条约》生效	(266)
《春江花月夜》	(194)	《京都议定书》	(267)
武侠领袖的武侠世界	(195)	里约集团	(268)
杀龙妙技	(196)	非洲联盟	(269)
人和鱼雁	(197)	水污染	(270)
画鬼最易	(198)	上海光源	(271)
从象箸推去	(199)	治疗肿瘤新曙光	(272)
偷鸡贼	(200)	卫星相撞	(273)
疑人偷斧	(201)	“定制”无遗传疾病婴儿	(274)
王顾左右而言他	(202)	五维光盘存储技术问世	(275)
秀才过沟	(203)	艾滋病疫苗新突破	(276)
上帝不是万能的	(204)	绿色信贷，促环境发展	(277)
柏拉图	(205)	多理性行事，少意气用事	(278)
围魏救赵	(206)		



必考内容

第一部分 经济生活

专题一 生活与消费

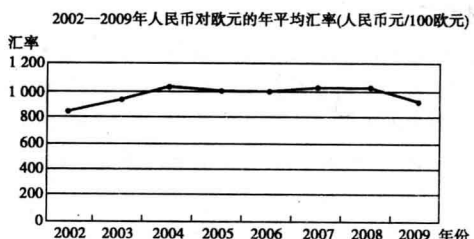
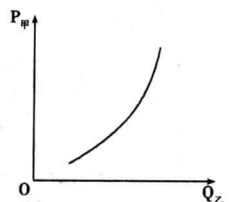
五年高考

A组 2010年全国高考题组

一、选择题

- (2010 课标全国,12,4分)按照中国—东盟自由贸易协议,成员国90%的贸易商品实行零关税。如果以前一件10人民币元的M商品出口到某东盟成员国N国的关税为5%,本外币间的汇率为1:8。2010年该商品实行零关税,中国生产M商品的劳动生产率提高25%,其他条件不变,则一件M商品在实行零关税之前和之后出口到N国的价格用N国货币单位表示分别为 ()
A. 80,84 B. 84,80 C. 84,64 D. 84,100
- (2010 全国I,24,4分)假设某国2009年甲产品的总产量是100万件,每件产品价值用货币表示为10元。2010年生产甲产品的社会劳动生产率提高一倍,在货币价值不变和通货膨胀率为20%的不同情况下,甲产品2010年的价格分别是 ()
A. 5元,6元 B. 10元,12元
C. 20元,24元 D. 8元,16元
- (2010 全国II,24,4分)假设某企业2008年的生产条件属于社会平均水平,生产一件甲种商品的劳动耗费为6元,产量为10万件。2009年该企业的劳动生产率提高50%,其他条件不变,那么,该企业生产甲种商品的个别价值、社会价值和价值总量分别为 ()
A. 4元、4元、60万元 B. 6元、8元、90万元
C. 4元、6元、90万元 D. 8元、6元、120万元
- (2010 天津文综,2,4分)日前,天津板栗被国家质检总局批准为国家地理标志保护产品,成为受法律保护的原产地产品。以蓟县为主产区的天津板栗同静海独流老醋、蓟县盘山磨盘柿、汉沽茶淀玫瑰香葡萄、宁河七里海河蟹等土特产一起,有了品质和声誉的“身份证”。这使上述土特产 ()
A. 扩大了品牌效应 B. 增加了市场供给
C. 提高了商品价值 D. 提升了产品质量
- (2010 安徽文综,1,4分)在“商品—货币—商品”的流通过程中,“商品—货币”阶段的变化“是商品的惊险的跳跃”。这个跳跃如果不成功,摔坏的不是商品,而是商品所有者。这说明 ()
A. 商品生产者需要生产适销对路、质量上乘的商品
B. 商品生产者生产的商品就失去了使用价值和价值

- 货币作为商品交换的媒介必须是观念上的货币
D. 货币作为一般等价物在物物交换中起决定作用
- (2010 江苏单科,7,2分)中国人民银行外汇牌价显示:2007年8月24日,100美元兑换756.91元人民币;2010年5月4日,100美元兑换682.65元人民币。这一变化表明 ()
A. 人民币汇率跌落,美元贬值
B. 人民币汇率升高,美元升值
C. 美元汇率升高,人民币贬值
D. 美元汇率跌落,人民币升值
- (2010 山东文综,19,4分)甲商品价格($P_{甲}$)与乙商品需求量($Q_{乙}$)之间存在如图所示关系。在其他条件不变的情况下,下列判断正确的是 ()
①甲商品的需求量受乙商品价格的影响
②甲商品价格上升会使乙商品价格下降
③甲商品价值量降低时,人们对乙商品的需求增加
④人们的某一特定需要,甲乙两种商品都可以满足
A. ①② B. ①④ C. ②③ D. ③④
- (2010 北京文综,34,4分)某商品的价格p变化 Δp 会引起其相关商品的需求量x变化 Δx ,这种变化可表现为两种关系:① $\frac{\Delta x}{\Delta p} < 0$,② $\frac{\Delta x}{\Delta p} > 0$ 。在其他条件不变的情况下,下列描述正确的是 ()
A. 汽油价格变化和柴油需求量变化之间的关系符合①
B. 汽油价格变化和原油需求量变化之间的关系符合②
C. 煤炭价格变化和原油需求量变化之间的关系符合①
D. 煤炭价格变化和天然气需求量变化之间的关系符合②
- (2010 北京文综,35,4分)



智力背景

世博会 全称世界博览会(World Exhibition or Exposition,简称 World Expo)是一项由主办国政府组织和举办的有较大影响和悠久历史的国际性博览活动。它已经历了百余年的历史,最初以美术品和传统工艺品的展示为主,后来逐渐变为荟萃科学技术与产业技术的展览会。世界展览会的会场不单是展示技术和商品,而且伴以异彩纷呈的表演,富有魅力的壮观景象,成为市民娱乐和消费的理想场所。(图为2010年上海世博会会徽)

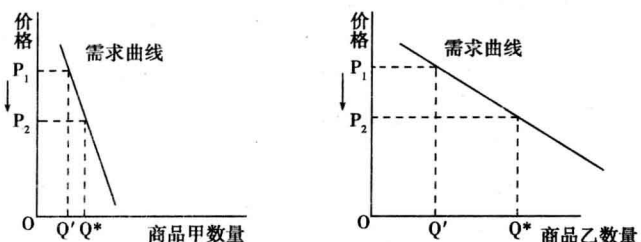


不考虑其他因素,图中汇率变化产生的影响是 ()

- ①2002至2004年,中国出口到法国的纺织品更具竞争力了
 ②2002至2004年,德国出口到中国的机械设备变得便宜了
 ③2008至2009年,中国企业赴欧元区国家投资设厂更有利
 ④2008至2009年,法国学生来中国留学需要的费用减少了
 A. ①③ B. ①④ C. ②③ D. ②④

10. (2010福建文综,26,4分)福州至厦门高速铁路客运专线(动车)开通后,福州的张先生和李先生在“乘坐动车还是汽车前往厦门”的讨论中,张先生说,我会选择动车,虽然它的价格高一些,但速度快,用时少。李先生说,我会选择汽车,虽然它的速度没有动车快,但价格低。由此可见 ()
 A. 商品价格的高低受供求关系影响
 B. 商品价格的高低反映商品质量的优劣
 C. 人们选择商品关注的是商品的有用性
 D. 人们选择商品关注的是使用价值与价值的统一

11. (2010广东文综,24,4分)图中商品甲、乙是两种互不关联的普通商品



当两商品的价格 P 均从 P_1 同幅下降到 P_2 时,对于需求量 Q 的变化,若有如下判断:

- ①两商品的需求量与价格同向变动
 ②两商品的需求量与价格反向变动
 ③两商品相比,商品甲是高档耐用品

二、非选择题

15. [2010安徽文综,37(1),8分]阅读材料,回答下列问题。

材料一

表 某市城乡居民收入和消费增长率变化表

年份	城镇居民实际人均可支配收入增长率(%)	农村居民实际人均纯收入增长率(%)	城镇居民消费实际增长率(%)	农村居民消费实际增长率(%)
2007	12.4	9.6	15.8	5.8
2008	8.6	8.2	13.2	5.2
2009	10.1	8.7	13.7	5.4

注:2009年该市城镇居民人均可支配收入17 215元,农村居民人均纯收入5 365元。

材料二

近年来,我国政府为了增加居民收入,扩大居民消费,保障人民生活,采取了一系列措施。如加强“三农”工作,增加农民收入;稳步推进医药卫生事业改革;实施更加积极的就业政策;加快完善社会保障体系;大力发展教育事业;维护社会稳定,促

④两商品相比,商品甲是生活必需品

其中正确的是 ()

- A. ①③ B. ①④ C. ②③ D. ②④

12. (2010浙江文综,25,4分)为抑制商品房价格过快上涨,促进房地产市场健康发展,我国政府采取了一系列增加保障性住房供给的措施,如增加价格明显低于商品房的经济适用房、供低收入者租用的廉租房等。政府出台这些措施是因为 ()

- ①增加经济适用房可以减少商品房购买需求
 ②增加廉租房就能抑制商品房有效需求
 ③经济适用房与廉租房互为替代品
 ④增加保障性住房能缓解房地产市场的过度炒作
 A. ①② B. ②③ C. ①④ D. ③④

13. (2010浙江文综,26,4分)如果甲国年利率为1%,乙国年利率为3%,乙国货币对甲国货币呈贬值趋势,预期一年后贬值2%,那么,在不考虑其他因素的情况下,从投资的角度看 ()

- A. 更多的资金将会流向甲国
 B. 更多的资金将会流向乙国
 C. 甲乙两国资金出现等量流动
 D. 甲乙两国之间停止资金流动

14. (2010四川文综,25,4分)为克服当前金融危机的影响,许多国家实行宽松的货币政策,增加货币发行量,向金融机构注资,引发了人们对通货膨胀的担忧。是否发生了通货膨胀,必须看是否出现 ()

- ①流通中实际需要的货币量超过纸币的发行量
 ②商品价格总额超过价值总额,货币持续贬值
 ③国家发行的货币数量超过上一年发行的数量
 ④物价总水平不断上涨使居民购买力普遍下降
 A. ① B. ②④ C. ①②③ D. ②③④

进社会和谐。

运用收入影响消费的知识分析材料一所反映的经济现象。

智力背景

货币的起源

货币是商品交换的媒介,是商品生产发展的必然产物。中国货币的起源,有据可查的是商汤时期的“铜贝”,而在此之前的夏商,骨贝、石贝、陶贝已经开始流通。贝壳自装饰品发展为货币可以上溯到黄帝时期,中国货币从使用贝至今已有四五千年货币文明史。金属货币的起源,应在殷商时期,是中国先民掌握了冶炼金属技术之后的事,在一些殷商墓葬中曾出土青铜块,这些也许是最早的金属货币。(图为贝币)




B组 2006—2009年新课标地区高考题组

一、选择题

1. (2009 江苏单科,8,2分)随着我国城乡居民人均可支配收入的增加,一直被视为高档耐用消费品的轿车正悄然走进寻常百姓家。这说明 ()
- A. 收入是消费的基础和前提
B. 消费拉动经济增长
C. 物价水平影响人们的购买力
D. 生产与消费相互影响
2. (2009 广东文基,2,2分)某年上半年定期存款利率是3.78%(整存整取),同期居民消费价格指数(CPI)同比上涨了7.9%。小张年初存入了1万元半年定期存款,到期时 ()
- A. 小张的货币购买能力下降
B. 小张的货币购买能力上升
C. 小张的货币购买能力没有变化
D. CPI变化对小张没有任何影响
3. (2009 广东理基,55,2分)康乃馨平时1元一支,母亲节那天5元一支,还卖得很好。这表明 ()
- A. 价格由供求决定
B. 供过于求,价格上升
C. 价格受供求影响
D. 价值规律不起作用
4. (2008 广东单科,8,2分)没有稳定收入的人士很难申请到银行发行的信用卡,因为银行信用卡是 ()
- A. 商业银行对年满18周岁的客户发行的一种信用凭证
B. 商业银行对资信状况良好的客户发行的一种信用凭证
C. 商业银行对拥有房、车等资产的客户发行的一种信用凭证
D. 商业银行对喜欢提前消费的客户发行的一种信用凭证
5. (2008 广东单科,9,2分)甲省和乙省的城镇居民恩格尔系数分别为35.3%和36.1%,这表明 ()
- A. 从收入水平来看,甲省城镇居民略高于乙省城镇居民
B. 从收入水平来看,乙省城镇居民略高于甲省城镇居民
C. 从生活水平来看,甲省城镇居民略高于乙省城镇居民
D. 从生活水平来看,乙省城镇居民略高于甲省城镇居民
6. (2008 广东文基,1,2分)商品的价值量由生产该商品的社会必要劳动时间决定,生产者想多赢利就应该 ()
- A. 尽量延长生产该商品的个别劳动时间
B. 尽量缩短生产该商品的个别劳动时间
C. 尽量延长生产该商品的社会必要劳动时间
D. 尽量缩短生产该商品的社会必要劳动时间
7. (2008 广东文基,2,2分)某优质大米在我国市场每公斤售价近100元,约为普通大米价格的20倍,但在北京、上海等发达城市其销售状况依然良好。这体现了 ()
- A. 收入是影响消费的主要因素
B. 求异心理是影响消费的重要因素
C. 价格是影响消费的主要因素
D. 攀比心理是影响消费的重要因素
8. (2008 宁夏文综,15,4分)2005年7月21日,美元兑人民币的汇率由1美元=8.21人民币元调整为1美元=8.11人民币元。此后,人民币持续小幅升值,截至2008年4月,人民币累
- 计升值约为16%。人民币升值有利于 ()
- ①我国出口贸易的发展 ②我国进口贸易的发展
③我国对外投资的增加 ④吸引外商在我国投资
- A. ①② B. ①③ C. ②③ D. ③④
9. (2008 海南单科,1,2分)商品流通过程中实际需要的货币数量是受货币流通规律支配的。在一定时期内,流通中需要的货币数量 ()
- ①与货币价值成正比 ②与货币流通速度成反比
③与商品价格水平成反比 ④与流通中的商品数量成正比
- A. ①② B. ②③ C. ②④ D. ③④
10. (2007 广东单科,2,2分)气候、时间、地域、宗教信仰、习俗等因素的变化,都会引起商品价格的变动。它们对商品价格的影响,是因为改变了 ()
- A. 该商品的个别劳动生产率
B. 该商品的价值量
C. 该商品的供求关系
D. 该商品的社会劳动生产率
11. (2007 广东理基,55,2分)价值、价格和供求关系之间存在着密切联系,下列认识正确的是 ()
- A. 价格决定价值,供求关系影响价格
B. 供求关系决定价值,价格影响价值
C. 价值决定价格,价格决定供求关系
D. 价值决定价格,价格与供求关系相互影响
12. (2007 宁夏文综,12,4分)假定甲商品和乙商品是替代品,甲商品和丙商品是互补品。如果市场上甲商品的价格大幅度下降,那么,在其他条件不变时 ()
- ①乙商品的需求量减少 ②乙商品的需求量增加
③丙商品的需求量减少 ④丙商品的需求量增加
- A. ①② B. ②③ C. ③④ D. ①④
- “贵上极则反贱,贱下极则反贵。”(《史记·货殖列传》)据此回答下题。
13. (2007 江苏单科,17,2分)从经济学角度看,这是 ()
- A. 价值规律的表现形式 B. 计划机制作用的结果
C. 劳动决定价值的体现 D. 供求关系对价值的影响
14. (2007 江苏单科,25,双项,3分)我省是外向型经济比较发达的省份之一,在其他条件不变的情况下,人民币持续升值对我省经济和人民生活的影响表现在 ()
- A. 增加了进口技术设备的成本
B. 有利于提升出口商品的市场竞争力
C. 有利于促进外贸出口增长方式的转变
D. 可以减少居民赴美留学、旅游的费用
15. (2007 江苏单科,26,双项,3分)节俭是传统美德。经济学家凯恩斯则提出了节俭悖论,认为节俭对个人、家庭来说是美德,而对社会来说则意味着支出减少,导致有效需求不足,阻碍经济发展,造成失业增加,收入减少。这启示我们 ()
- A. 个人应该坚持节俭,社会应该扩大消费
B. 消费决定生产,政府应当刺激消费

智力背景

古代货币为什么都是圆形方孔钱 战国时铸造的众多钱币中,有一类是圆形的,后人称为“圆钱”或“环钱”。早期圆钱外圆内圆,后来发展为外圆内方。战国时天圆地方的观念盛行,以为秦始皇是在天圆地方的观念下创造了外圆内方的半两钱。可是圆钱为什么从圆孔发展为方孔呢?这可以从技术需要予以说明。第一,方孔便于钱上文字的定位,两字的钱文安排在方孔的左右。第二,钱铸成后还要做一定的加工(如锉边),方孔用方形细木棍插入,可以使钱固定不动,便于操作。(图为中国古代铸币)



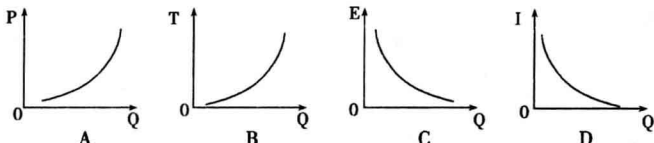
C. 既要勤俭节约,又要适度消费

D. 应重视消费对生产的影响,积极引导消费

16. (2006 广东大综合,14,3分) 据统计,1992年我国农村居民收入的53%用于购买食品;到了2005年,农村居民收入的45%用于购买食品。这种变化说明我国农村居民 ()

A. 用于食品的支出在减少
B. 教育医疗等方面的负担在加重
C. 生活水平在下降
D. 生活水平在提高

17. (2009 天津文综,3,4分) 汽车需求量(Q)随着汽车价格(P)、汽车购置税(T)、汽油价格(E)、居民收入(I)的变动而变动。下列曲线图中正确反映其变动关系的是 ()



18. (2009 浙江文综,24,4分) 从历史发展的过程看,下列判断正确的是 ()

A. 一切商品都能承担价值尺度职能
B. 只有货币能承担价值尺度职能
C. 凡是劳动产品都能承担价值尺度职能
D. 仅仅金银能承担价值尺度职能

春秋时期,齐国国王命令大臣们必须穿丝制衣服,但国内只准种粮食而不准种桑树。齐国蚕丝需求量大,价格上涨,邻近的鲁、梁等国纷纷停止种粮改种桑树。几年后,齐王又命只准穿布衣,且不准卖粮食给其他国家。结果,鲁、梁等国因饥荒而大乱,不战而衰,齐国坐享其成,使疆土得以扩张。据此回答下题。

19. (2009 浙江文综,28,4分) 上述故事中蕴涵的经济生活道理有 ()

①供求变化直接影响商品的价格
②价格变动对生产具有调节作用
③价格在本质上是由供求决定的
④价格涨跌是通过行政手段实现的

A. ①② B. ②③ C. ①④ D. ③④

20. (2009 宁夏文综,13,4分) 2008年下半年以来,中国纺织品等劳动密集型商品出口增速呈明显放缓态势,且在总出口额中比重下降,其主要原因是 ()

①外部市场疲软 ②人民币升值
③中外贸易摩擦不断 ④宏观经济政策趋紧

A. ①② B. ②③ C. ①④ D. ③④


21. (2009 福建文综,27,4分) 周末,小陈同学陪妈妈逛商场,看到下图的情景,向妈妈解释了产生这一情景的下列几种原因,其中合理的是 ()



买方市场

- A. 不正当竞争引起洗衣机市场的混乱
B. 洗衣机供过于求致使商家争抢客源
C. 洗衣机质量优劣决定其销售量大小
D. 劳动生产率提高降低了洗衣机价格
22. (2009 安徽文综,3,4分) 某商品生产部门去年的劳动生产率是每小时生产1件商品,价值用货币表示为260元。该部门今年的劳动生产率提高了30%。假定甲生产者今年的劳动生产率是每小时生产2件商品,在其他条件不变情况下,甲生产者1小时内创造的价值总量用货币表示为 ()
A. 364元 B. 400元 C. 520元 D. 776元
23. (2009 江苏单科,7,2分) 假定原先1台电脑与4部手机的价值量相等,现在生产电脑的社会劳动生产率提高一倍,而生产手机的社会必要劳动时间缩短到原来的一半,其他条件不变,则现在1台电脑与____部手机的价值量相等。()
A. 2 B. 4 C. 8 D. 16
24. (2009 广东单科,9,2分) 需求法则是指商品需求量随其价格上升而下降,随其价格下降而上升的一般规律。但生活中有时东西越贵越有人买,如天降大雨,小贩趁机提价推销雨伞,雨伞却卖得很不错。这表明此时 ()
A. 需求法则不起作用 B. 处于卖方市场
C. 处于买方市场 D. 雨伞的价值上升
25. (2009 广东文基,1,2分) “夫珠玉金银,饥不可食,寒不可衣”,但人们还是喜欢金银。这表明金银作为货币 ()
A. 从起源看,是和商品同时产生的
B. 从作用看,是财富的唯一象征
C. 从本质看,是固定充当一般等价物的商品
D. 从职能看,具有价值尺度、贮藏手段两种基本职能
26. (2009 海南单科,1,2分) 假设2007年1单位M国货币/1单位N国货币为1:5.5。2008年,M国的通货膨胀率为10%,其他条件不变,从购买力角度来看,则两国间的汇率为 ()
A. 1:4.95 B. 1:5 C. 1:5.6 D. 1:6.05
27. (2009 海南单科,3,2分) 在世界金融危机期间,一批依托科研机构进行技术研发的企业呈现逆势上扬态势,新产品不断问世,企业的销售收入与利润也随之上升。这是因为 ()
①产品创新增强了企业竞争优势
②产研联合实现了双方优势互补
③新产品的新功能增大了其价值
④科技产品的需求弹性小利润大
A. ①② B. ②③ C. ③④ D. ①④
28. (2008 山东文综,15,4分) 政府给农民一定的家电购置补贴,会影响农民对家电的市场需求量。下列曲线图(横轴为需求

智力背景



“钞票”这一称谓的起源 据考证,“钞票”这一称谓应该起源于清代发行的两种纸币——“大清宝钞”和“户部官票”。“大清宝钞”以制钱为单位,亦称“钱票”或“钱钞”;而“户部官票”是以银两为单位,亦称“银票”。由于在当时市场流通中,用小额货币需使用“大清宝钞”,用银两就使用“户部官票”,因此老百姓出行购物必须带两种纸币。为了便于称呼,民间就把这两种纸币简称为“钞票”了。所以,“钞票”的称谓起源于清朝咸丰年间,并一直沿用至今。