





配九年义务教育课程标准实验教科书（粤人民版）
新课程自主学习丛书

学地理

GEOGRAPHY

广东省教育厅教研室 编
八年级 上册

责任编辑：邱仲军
责任技编：黎碧霞
封面设计：陈洁文



ISBN 7-218-05332-7



ISBN 7-218-05332-7/G·1360

定价：6.80元

配九年义务教育课程标准实验教科书（粤人民版）
新课程自主学习丛书





学地理

GEOGRAPHY

广东省教育厅教研室 编
八年级 上册

 广东人民出版社

责任编辑：邱仲军
责任技编：黎碧霞
封面设计：陈洁文



ISBN 7-218-05332-7



9 787218 053325 >

ISBN 7-218-05332-7/G·1360

定价：6.80元

新课程自主学习丛书

配九年义务教育课程标准实验教科书（粤人民版）

学 地 理

八年级上册

广东省教育厅教研室 编

主 编：周顺彬

编写人员：鲁 艳 代存刚
谭桂兰 陈 焘

广东人民出版社

图书在版编目 (CIP) 数据

学地理(粤人民版)-八年级. 上 / 周顺彬主编. -广州:
广东人民出版社, 2006. 8

ISBN 7-218-05332-7

I. 学... II. 周... III. 地理课-初中-数学参考
资料 IV. G634. 553

中国版本图书馆 CIP 数据核字 (2004) 第013613号

责任编辑	邱仲军
版式设计	陈洁文
责任技编	黎碧霞
出版发行	广东人民出版社
印 刷	广东金冠科技发展有限公司
开 本	787毫米×1092毫米 1/16
印 张	5
字 数	100千字
版 次	2006年8月第1版 2006年8月第1次印刷
印 数	5000册
书 号	ISBN 7-218-05332-7/G · 1360
定 价	6. 80元

如果发现印装质量问题,影响阅读,请与出版社(020-83795749)联系调换。

【出版社网址: <http://www.gdpph.com> 电子邮箱: sales@gdpph.com
图书营销中心: 020-83799710 (直销) 83790667 83780104 (分销)】

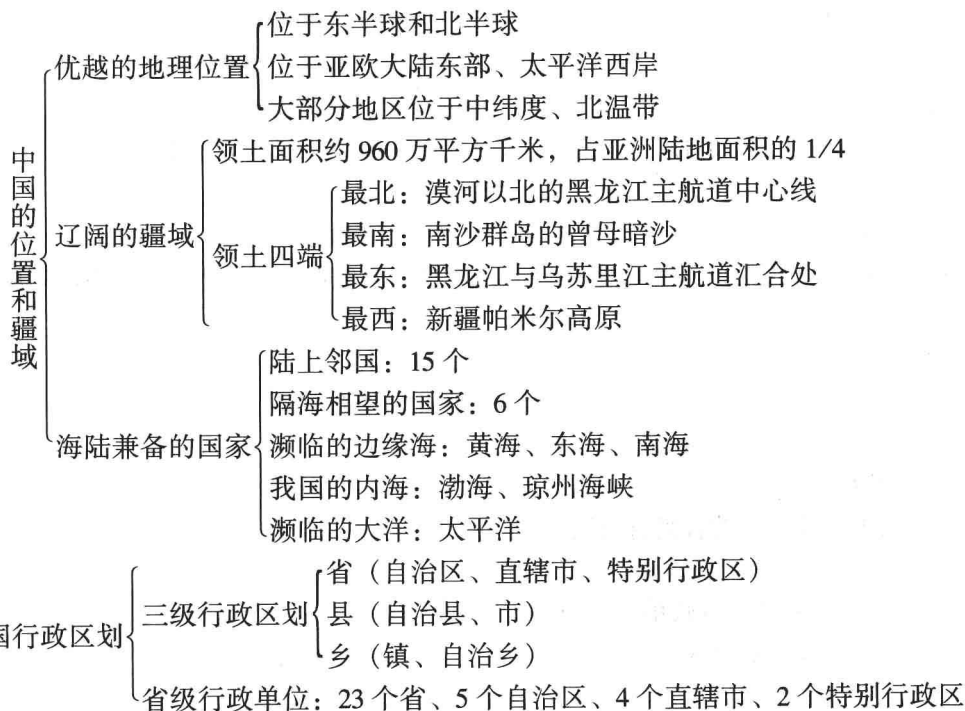
目 录

第一章 中国的疆域和人口	(1)
第一节 位置和疆域	(1)
第二节 人口和民族	(5)
第二章 中国的自然环境	(13)
第一节 从青藏高原到沿海平原	(13)
第二节 奔流不息的大河	(17)
第三节 复杂多样的气候	(21)
第三章 中国的自然资源	(27)
第一节 自然资源概况	(27)
第二节 土地资源	(29)
第三节 水资源	(34)
第四节 海洋资源	(37)
第四章 中国的经济和文化	(44)
第一节 因地制宜发展农业	(44)
第二节 全面协调发展的工业	(49)
第三节 合理布局发展的交通运输业	(53)
第四节 多姿多彩的中华文化	(58)
期末测试题	(62)
参考答案	(67)

第一章 中国的疆域和人口

第一节 位置和疆域

知识要点



基础训练

一、选择题

- 我国最大的岛屿是（ ）

A. 海南岛 B. 台湾岛 C. 南海诸岛 D. 舟山群岛
- 中国濒临的海洋从南到北依次是（ ）

①黄海 ②东海 ③渤海 ④南海

A. ④②①③ B. ③②④① C. ①③②④ D. ②③①④
- 我国地理位置的特点是（ ）

A. 亚欧大陆中的内陆国 B. 太平洋上的岛国

C. 一个海陆兼备的国家 D. 东邻大西洋
- 与广东省相邻的省份按顺时针顺序排列正确的有（ ）

①湖南省 ②广西壮族自治区 ③海南省 ④江西省 ⑤福建省

A. ①②③④⑤

B. ⑤③④①②

C. ②①④⑤③

D. ③②④⑤①

5. 我国疆域的四至点中, 没有位于北温带的有 ()

A. 最北端

B. 最南端

C. 最东端

D. 最西端

6. 与我国隔海相望的国家是 ()

A. 蒙古

B. 朝鲜

C. 越南

D. 韩国

7. 下列省份与濒临的海的连线, 正确的是 ()

A. 辽宁、河北——渤海

B. 辽宁、山东——东海

C. 江苏、安徽——黄海

D. 浙江、广东——南海

8. 下列属于我国内海的是 ()

A. 渤海、台湾海峡

B. 渤海、琼州海峡

C. 东海、南海

D. 琼州海峡、台湾海峡

9. 我国最早“迎来日出”的地区和最迟“送走晚霞”的地区所在的省份是 ()

A. 黑龙江和海南

B. 新疆和海南

C. 内蒙古和新疆

D. 黑龙江和新疆

10. “当帕米尔高原还是满天星斗的黑夜时, 乌苏里江已经撒满了阳光”, 这说明我国地理位置具有这样的特点 ()

A. 经度跨度大

B. 纬度跨度大

C. 大部分位于北温带

D. 位于亚洲的东部

二、填空题

1. 我国领土最西端在_____，最东端在_____。
我国位置最北的省级行政区是_____，最南的省级行政区是_____。

2. 我国共有_____个省级行政单位, 包括_____个省、_____个自治区、_____个直辖市和_____个特别行政区。自治区分别是_____、_____、_____、_____和_____。

3. 我国陆地面积约达_____万平方千米, 在世界各国中, 仅次于_____、_____, 居第_____位, 差不多同整个_____洲面积相等。

三、读图题

1. 读下图, 回答问题。

(1) 写出图上字母所表示的国家名称。

A _____ B _____ C _____ D _____

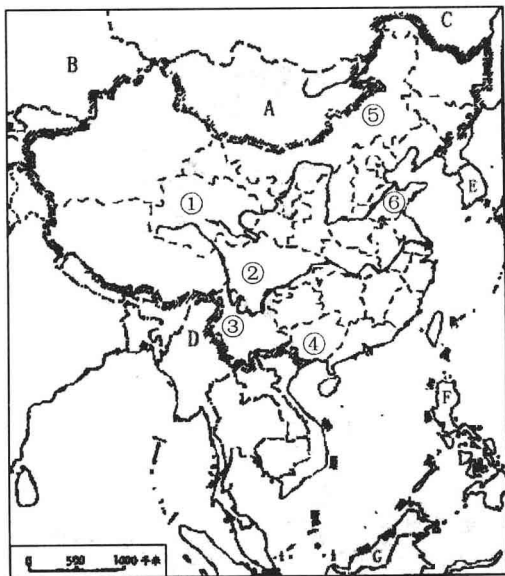
E _____ F _____ G _____

(2) 在图上正确的位置填写渤海、黄海、东海、南海、台湾海峡、琼州海峡、太平洋、印度洋。

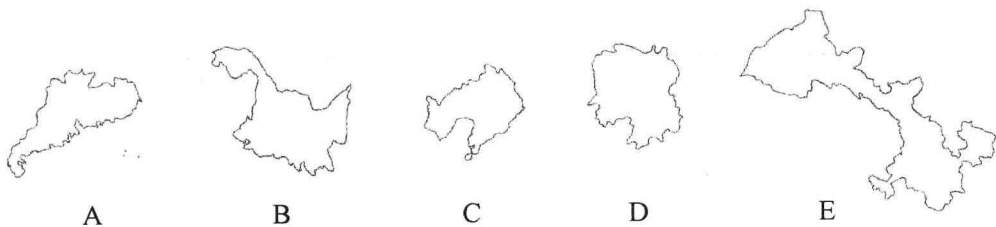
(3) 写出图上数字所表示的省级行政区的简称。

① _____ ② _____ ③ _____ ④ _____ ⑤ _____ ⑥ _____

(4) 写出长江、黄河共同流经的省区的名称: _____。



2. 读图，回答并完成下列问题。



(1) 写出上述五个省的名称：

A _____ B _____ C _____ D _____ E _____

(2) 图内五个省中，临海的有_____、_____，分别临_____海、_____海，陆上同邻国接壤的有_____、_____，邻国分别是_____、_____。其中国界线最长的是_____，纬度最低的是_____。

(3) 五个省中，地理位置最偏东的是_____，最偏西的是_____，有热带分布的是_____。

探究任务

1. 请你查找相关资料，说出下列几个电话号码所在的城市名称，并了解更多地区的电话号码区号。

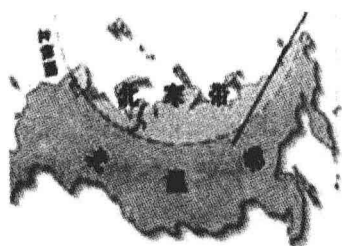
010—25378 * * *

020—56387 * * *


021—53819 * * *

0755—82467 * * *

2. 比较下列几个国家的纬度位置和海陆位置的不同，了解我国地理位置特点，并完成下列表格。



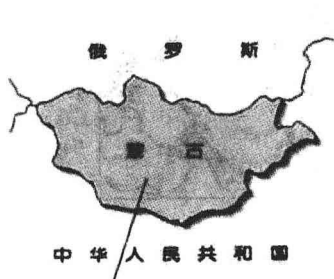
俄罗斯



加拿大



巴西



中华人民共和国



地理位置		对生产生活的影响	
类型	特点	优势	劣势
纬度位置			
海陆位置			

见多识广

省级行政区简名口诀

地矿部勘探技术研究所 在 20 世纪 80 年代初,《北京晚报》曾载《省级行政区简名口诀》。如今香港、澳门已回归祖国怀抱,加之此前已新置海南省与重庆直辖市,原口诀已不能反映新情况,故试作新口诀如下。

湖广山重^①河福^②(复)天

四江^③三海^④云贵川

辽吉陕甘内新藏

港澳台归夏^⑤北^⑥安^⑦

注:①“重”除表重庆市外,还含指湖、广、山是双重的,即湖南、湖北、广东、广西、

山东、山西。②“福”系福建，并借用谐音“复”，指在其前的河是重复的，即河南、河北。全句作山重水复意。③“四江”指江苏、江西、浙江、黑龙江。④“三海”指上海、青海、海南。⑤“夏”指宁夏，意指华夏。⑥“北”系北京，意指设在北京的中央人民政府。⑦“安”是安徽，意释为安定团结的政治局面。

《颂中华》新口诀是按各省区、市“简名”字义进行组合串接的，虽然用的是“真材实料”，但味道终觉“清淡”。而实际上我中华山川之雄伟壮丽，资源之富饶丰厚，为外国所鲜有。再作《颂中华》，将“简名”镶嵌句中，展现中华风姿。以释新口诀真义。

湖平土广，山峦重嶂，大河九曲，福（复）直流天际；

四江三海，苍茫云雾，更贵天堑，巨川有直壁。

辽吉林密，陕甘羊肥，内蕴宝藏，新塔油流丰；

港澳台归，华夏一统，中枢北京，安定若磐石。

你知道下列这些谜语的谜底是哪些城市吗？

船出长江口、大言不断、云河渡口、空中码头、风平浪静



第二节 人口和民族

知识要点

世界人口大国	人口最多的国家	总人口为 12.95 亿（第五次人口普查） 约占世界总人口的 22%
	人口突出特点：	增长速度快，人口基数大，分布疏密不均
		东南部人口稠密 西北部人口稀少
	（以黑河—腾冲一线为界）	
	人口国策：实行计划生育，控制人口数量，提高人口质量	
56 个民族是一家	统一的多民族国家：56 个民族，汉族占 92%，少数民族占 8%	
	民族分布	“大杂居，小聚居” 汉族遍及全国各地 少数民族主要分布在西南、西北和东北部地区
	民族政策：各民族不论大小，一律平等	

华人华侨共亲情 { 目前我国在海外的华人、华侨约 3000 多万人
以广东、福建为原籍的华人和华侨最多
华人、华侨为发展祖国作出了贡献

基础训练

一、选择题

- 以下说法正确的是 ()
 - 中国人口分布很不均匀, 黑河—腾冲一线以东人口比较稀少
 - 中国是一个有 55 个民族组成的大家庭
 - 各民族在地区的分布上具有“大杂居、小聚居”的特点
 - 我国少数民族主要集中在东北、西北、东南的边疆地区
- 我国东部人口稠密的自然原因是 ()
 - 城镇多, 交通运输业发达
 - 工商业发达
 - 耕地多, 气候适宜
 - 外来人口多
- “泼水节”是下面哪个民族的传统节日 ()
 - 土家族
 - 傣族
 - 黎族
 - 彝族
- 下列少数民族与其主要民族舞蹈或体育活动组合, 正确的是 ()
 - 朝鲜族——手鼓舞
 - 傣族——跳板
 - 蒙古族——摔跤
 - 土家族——孔雀舞
- 我国少数民族集中分布地区是 ()
 - 南部沿海和西南地区
 - 西南、西北和东北等边疆地区
 - 西北部和东南沿海地区
 - 甘肃、青海和广东等部分地区
- 我国少数民族中, 主要聚居在岛屿上的有 ()
 - 布依族、傣族
 - 高山族、黎族
 - 白族、水族
 - 满族、朝鲜族
- 我国自治区的五大少数民族是 ()
 - 蒙、回、藏、维、苗
 - 蒙、回、藏、维、壮
 - 回、藏、布、满、朝
 - 回、白、蒙、壮、土
- 关于我国民族的叙述 ()
 - 我国少数民族分布地区占全国面积的 30% ~ 40%
 - 各民族风俗习惯必须要统一
 - 汉族人集中分布的地区没有少数民族分布
 - 我国少数民族多分布在边疆地区
- 关于民族与其主要分布地区组合, 正确的是 ()
 - 藏族——西藏和青海两个省区
 - 壮族——广西壮族自治区和河南省
 - 高山族——台湾省和宁夏回族自治区
 - 维吾尔族——新疆维吾尔自治区和湖北省
- 关于下面四幅图相关描述错误的是 ()



A. 甲：一山一水一圣人

B. 乙：民族的百花园

C. 丙：贫瘠的黑土地

D. 丁：开放的前沿，经济的热土

二、填空题

1. 我国有_____个少数民族，它们主要集中分布在_____、_____和_____的边疆地区。

2. 我国的人口国策是实行_____，控制人口的数量，提高人口的_____。

3. 我国人口增长的突出特点是人口_____大，人口_____快。

4. 我国人口中汉族人口约占_____%，少数民族人口占_____%。少数民族中人口最多的是_____族，该民族主要分布省区是_____。

三、综合题

你知道下面这些人物是属于哪些少数民族吗？请你利用各种媒体，查找更多的关于我国少数民族的知识，介绍给大家。



探究任务

1. 根据我国少数民族地区经济的增长数据，填写表格并说说我国的少数民族地区经济发展的状况。

孜、土、塔吉克、乌孜别克、塔塔尔、鄂温克、保安、羌、撒拉、俄罗斯、锡伯、裕固、鄂伦春等 27 个民族。

第二阶段是从 1954 年到 1978 年年底，确认了土家、畲、达斡尔、仫佬、布朗、仡佬、阿昌、普米、怒、崩龙（后改为德昂）、京、独龙、赫哲、门巴、毛难（后改为毛南）、珞巴等 16 个少数民族。

第三阶段是从 1978 年到 1987 年。1979 年确认了基诺族为单一的少数民族。至此，我国的民族识别工作基本完成。



我国共有 55 个少数民族，各民族都有保持或改革自己的风俗习惯的自由，我们要尊重各民族的风俗习惯。

单元训练

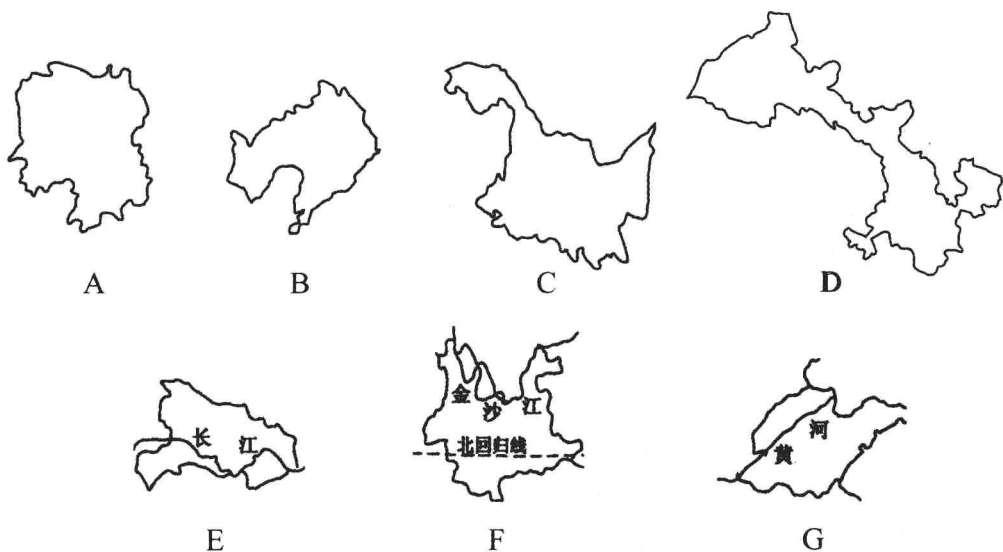
一、选择题

- 我国少数民族主要分布在（ ）
 - 西北和东南
 - 东北和东南
 - 东南和西南
 - 西南和西北
- 下列省级行政区中有两个简称的是（ ）
 - 山东省
 - 湖南省
 - 贵州省
 - 辽宁省
- 下列民族，建立了省级行政自治区域的是（ ）
 - 回族、布依族
 - 满族、蒙古族
 - 汉族、瑶族
 - 回族、壮族
- 下列省级行政区的排列顺序按由高纬到低纬排列的一组是（ ）
 - 吉、陕、川、桂
 - 吉、川、陕、桂
 - 陕、吉、川、桂
 - 桂、川、陕、吉
- 下列有关我国民族的叙述，正确的是（ ）
 - 我国是个多民族国家，由汉族和 56 个少数民族组成
 - 人口最多的少数民族是回族
 - 各民族的生活习惯都要受到尊重
 - 在各民族自治区域内没有其他民族居住
- 世界人口最多的国家其面积居世界（ ）
 - 第一位
 - 第二位
 - 第三位
 - 第四位
- 我国领土的最北端在（ ）
 - 4°N 附近的曾母暗沙
 - 漠河以北的黑龙江主航道中心线上

- C. 新疆的帕米尔高原上
D. 黑龙江与乌苏里江主航道中心线的相交处
8. 下列纬线中, 经过我国的是 ()
A. 赤道 B. 北回归线 C. 北极圈 D. 南回归线
9. 在我国的各省级行政区中, 面积最大、位置最西的是 ()
A. 内蒙古自治区 B. 青海省
C. 西藏自治区 D. 新疆维吾尔自治区
10. 位于西部地区的直辖市是 ()
A. 北京市 B. 天津市 C. 上海市 D. 重庆市
11. 我国人口变化的突出特点是 ()
A. 人口基数大, 人口增长快 B. 人口多, 就业机会少
C. 出生率上升, 死亡率下降 D. 人口多, 人均占有财富少
12. 关于我国地理位置的正确叙述是 ()
A. 我国位于东半球的西南部 B. 我国大部分地区处在中高纬度带
C. 我国大部分地区处在北温带 D. 我国位于亚洲西部, 太平洋东岸
13. 与广西相邻的四个省按顺时针方向排列的是 ()
A. 湘、粤、贵、云 B. 云、贵、湘、粤
C. 粤、湘、贵、云 D. 贵、湘、粤、云
14. 我国人口分布不均, 大体上是 ()
A. 东北少、西南多 B. 东南多、西北少
C. 东部少、西部多 D. 南方多、北方少

二、读图、填图题

1. 读下列各省区的轮廓图, 完成下列要求。



- (1) 填写下表。