

义务教育三年制初中教材（人教版）

学科精点精练丛书

初中一年级第二学期

地理 精点精练

北京市海淀区教师进修学校 主编



 广东教育出版社

编写说明

我们在深入征求广大师生意见的基础上，近期对《初中学科精点精练》丛书和《小学学科精点精练》丛书作了全面的修改。主要做法是：按照国家教育部最新公布的小学和初中各科教学大纲（试用修订版）的精神，同时坚持与人教版新修订的教材同序同步进行改写或修订。在修改过程中，我们特别注意在初中学段增加了“一课一练”的内容，删去了不要求中考的部分，从而增强了这套丛书的针对性和实用性。

这套丛书的各册书均分单元进行编写，每一单元都由三大部分组成：第一部分是目标与要求。这部分简明、准确地指出本单元的学习目标与要求，当中有知识和技能方面的目标，也有更加重视结合知识和技能而提出的思维训练和能力培养的目标。其中，针对每一课提出的具体教学目标与要求，设计了“一课一练”的内容，以使教育目标具体化，并使目标与解题有机地结合起来。第二部分是点拨与练习。这部分主要是精选适量的练习题，在分析方法、全面准确地理解题意、善于寻找隐含在题意中的信息和条件等方面，对学生进行点拨，引导他们找出解题的思路，这是全书的重点。第三部分是总结与检测。这部分通过归纳与总结，使学生的思维能力得到进一步的训练，然后再通过整个单元的综合练习，使学生的能力得到明显的提高。

在各册书中，均增加了期中与期末检测题各一套，并附有各套练习的参考答案，对较难的题目，还附有解题方法的提示，以方便学生进行自我训练。

此外，初三级第二学期的用书，除了点明平时的学习要求外，对中考的目标要求和复习计划等也作了说明，并按照北京市海淀区中考的复习经验和结合一些地方中考的实际情况，精心安排了各个单元的复习内容和相应的练习套题，让学生从中认识和掌握中考复习的规律和特点。

参加初中一年级第二学期《地理精点精练》编写工作的人员有：张兵、尹利、李蕾、刘莉、王光、张华。全书由张兵审定。

北京市海淀区教师进修学校

2000年5月

目 录

第十章 南亚	(1)
一、目标与要求	(1)
二、点拨与练习	(3)
三、总结与检测	(9)
第十一章 中亚	(13)
一、目标与要求	(13)
二、点拨与练习	(14)
三、总结与检测	(16)
第十二章 西亚和北非	(18)
一、目标与要求	(19)
二、点拨与练习	(20)
三、总结与检测	(25)
第十三章 撒哈拉以南的非洲	(32)
一、目标与要求	(32)
二、点拨与练习	(34)
三、总结与检测	(40)
第十四章 欧洲西部	(45)
一、目标与要求	(46)
二、点拨与练习	(47)
三、总结与检测	(56)
期中检测题	(62)

第十五章 欧洲东部和北亚	(75)
一、目标与要求	(75)
二、点拨与练习	(76)
三、总结与检测	(78)
第十六章 北美	(84)
一、目标与要求	(84)
二、点拨与练习	(85)
三、总结与检测	(91)
第十七章 拉丁美洲	(98)
一、目标与要求	(99)
二、点拨与练习	(100)
三、总结与检测	(107)
第十八章 大洋洲	(116)
一、目标与要求	(116)
二、点拨与练习	(117)
三、总结与检测	(122)
第十九章 南极洲	(126)
一、目标与要求	(126)
二、点拨与练习	(127)
三、总结与检测	(130)
第二十章 人类共同生活在一个地球上	(131)
一、目标与要求	(132)
二、点拨与练习	(132)
三、总结与检测	(133)
期末检测题	(135)
附录 答案与提示	(147)

第十章 南 亚

本章由“概述”和“印度”两大部分内容组成。在“概述”一节讲述了“南亚的国家”（通过读图方式，说明了南亚的位置、范围和国家的分布）悠久的历史；佛教、印度教的发源地；地形和河流；热带季风气候与农业四个方面的内容。这些内容既有自然地理的内容，又有人文地理的内容，两者紧密地联系在一起，强调了人类活动同环境的关系。其中“三大地形区和两大河流”、“热带季风气候与农业”是本节的重点。

印度是南亚地区面积最大，人口最多，政治、经济、文化、宗教影响最大的国家。教材主要介绍了文明古国、农业发展与人口压力、工业、主要城市四个方面的内容。其中农作物种类及分布与自然条件的关系，工业分布与原料产地的关系是本节的重点内容。

学习本章的基本要求是：

一、目标与要求

1. 知识目标

识记

南亚的位置与范围、孟加拉湾、阿拉伯海、南亚次大陆、印度半岛、斯里兰卡岛。

印度、巴基斯坦、孟加拉国、斯里兰卡、尼泊尔等国及其首都，克什米尔地区。

平原和高原为主的地形；喜马拉雅山脉、德干高原、恒河与恒河平原、印度河与印度河平原；发展中的南亚经济；佛教与印度教的发源地。

印度的面积、人口；著名的文明古国；印度的居民和宗教概况；发展农业生产的有利与不利条件；印度的水稻、小麦、棉花、花生、黄麻、甘蔗、茶叶等农作物的分布；印度煤、铁等矿产资源的分布及迅速发展的工业；印度主要的工业区的分布；主要城市新德里、加尔各答和孟买的位置。

2. 技能目标

在南亚填充图上，正确填绘出南亚主要的岛屿、半岛、临海、山脉、高原、平原、河流的位置以及主要国家和著名城市的名称。

3. 能力目标

通过分析“孟买各月气温与降水量的分配图”与“南亚一月风向图”、“南亚七月风向图”，说明南亚热带季风气候的特点及西南季风对农业生产的影响；掌握印度地形、气候同农业生产的关系；掌握印度矿产资源的分布与工业中心的关系，进一步明确人类生产活动与自然环境之间的关系。

4. 观念目标

通过对印度独立前后经济发展概况的了解，进一步明确争取、维护民族解放和国家独立，是发展经济的重要保证；通过学习印度的人口压力 and 经济发展状况，进一步认识控制人口数量、提高人口素质对于经济发展的重要意义，明确人

口的增长要与经济的增长相适应、同资源利用和环境保护相协调的道理。

二、点拨与练习

第一节 概述

点拨实例

【例 1】

下列宗教中，发源地在南亚的有：

- A. 伊斯兰教
- B. 印度教
- C. 犹太教
- D. 佛教

分析与解答

通过对本章的学习可知，例 1 是一道“双项选择题”，该题提供的四个选项中，有两个选项符合题意要求。例 1 所提供的四个选项都是有众多信奉者的世界著名宗教，但发源地在南亚地区的只有佛教和印度教。根据例 1 题意要求，其正确选项为 B 和 D。

【例 2】

读图 10-1，完成下列要求：

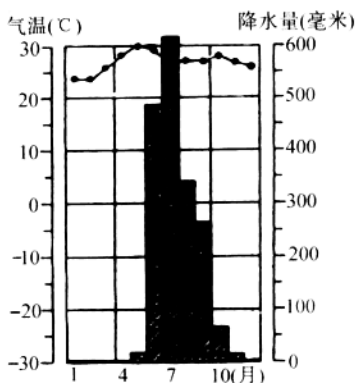


图 10-1

(1) 图 10-1 中各月的气温状况如何?

(2) 图 10-1 中哪些月份降水多? 哪些月份降水少? 在降水的季节分配上有什么明显特点?

(3) 图 10-1 所处地点的气候特点是什么?

分析与解答

例 2 是一道“读图问答题”，要求阅读图 10-1，回答出图 10-1 所在地区气温、降水的特点，并进一步分析回答出该地区的气候特点。

(1) 阅读图 10-1 所示气温曲线，可以看出，图 10-1 所在地，各月平均气温都在 20°C 以上，“全年高温”是其气温的基本特点。

(2) 阅读图 10-1 所示各月降水的柱状图可以看出，图 10-1 所在地，6 月至 9 月降水最多，10 月至次年 5 月少雨；该地点全年降水丰沛，但有明显的雨、旱季之分。

(3) 通过阅读图 10-1 及对气温曲线和降水柱状图的分析可以看出, 图 10-1 所在地属于“热带季风气候”, “全年高温多雨, 一年分为雨、旱两季”为该处气候的突出特点。

【例 3】

在图 10-2 中, 用箭头标注出南亚“7月”、“1月”两图中的季风风向。

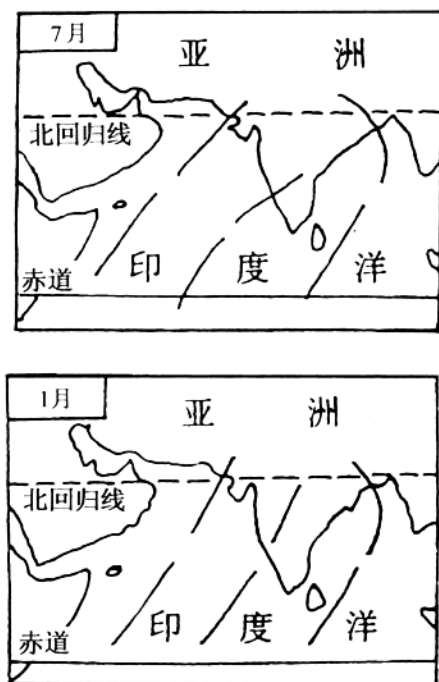


图 10-2

分析与解答

例3是一道“读图绘图题”。通过学习可知，南亚地区主要属于“热带季风气候”，每年6月至9月盛行西南季风；10月至次年5月盛行东北季风。所以在图10-2中的“7月”图内用箭头标出“西南风向”，在“1月”图内用箭头标出“东北风向”，正确答案见图10-3：

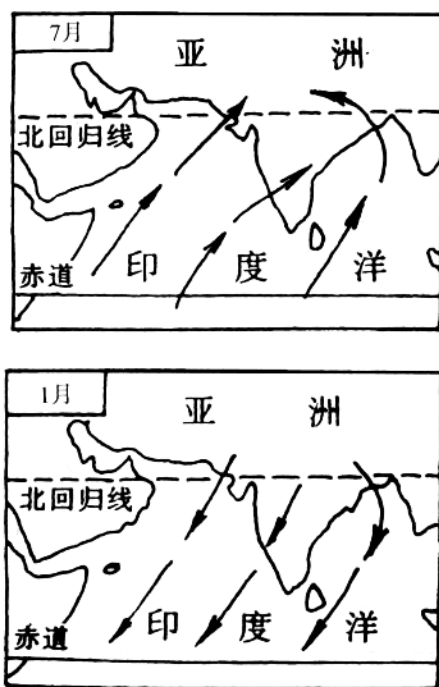


图10-3

一课一练

简述西南季风对南亚农业的影响。

第二节 印度

点拨实例

【例1】

将下列左侧印度的农作物与右侧农作物相应的分布地区之间，用线段相连接：

- | | |
|-------|-------------------|
| A. 水稻 | ① 德干高原西北部、恒河上游地区 |
| B. 小麦 | ② 东北部及半岛沿海地区 |
| C. 棉花 | ③ 东北部布拉马普特拉河两岸低山坡 |
| D. 茶 | ④ 恒河三角洲 |
| E. 黄麻 | ⑤ 德干高原西北部 |

分析与解答

例1是一道“配伍选择题”，主要检测印度的农作物分布方面的内容。

不同的农作物的生长，需要与其相适应的光、热、水、土等自然条件；地形条件、气候条件对农作物的分布关系密切。

水稻生长需要热量充足、降水丰沛的平原条件。

小麦、棉花耐旱能力较强。棉花的生长后期又需要晴朗的天气条件。

茶树需要生长在雨水充足、排水良好的低山坡的条件。

黄麻一般生长在地势平坦、气候湿热的地区。

该题的解答应在认真对照“南亚地形图”、“印度农作物分布图”和“印度年降水量分布图”的基础上回答。

例 1 的正确答案：

A——② B——① C——⑤ D——③

E——④

一课一练

读图 10-4，完成下列要求：

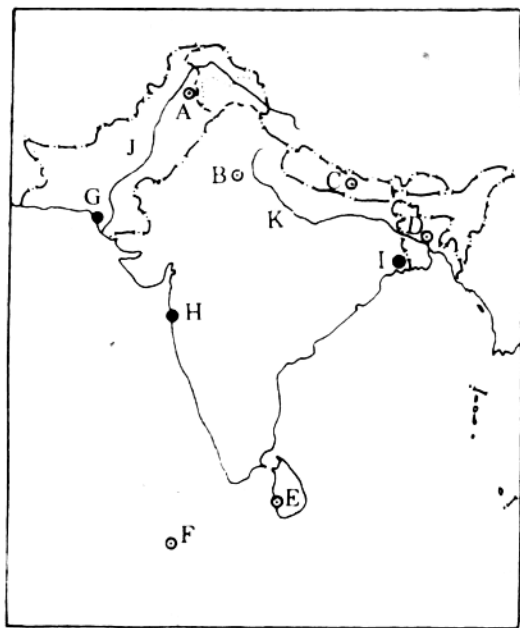


图 10-4

(1) 图 10-4 中，字母代表的城市名称是：

A _____ B _____ C _____
D _____ E _____ F _____
G _____ H _____ I _____

(2) 图 10-4 中, 字母代表的河流名称是:

K _____ J _____

(3) 在图 10-4 中的适当位置填注下列地理名称:

①喜马拉雅山 ②阿拉伯海 ③孟加拉湾 ④印度洋

三、总结与检测

【填充题】

1. 人们把_____山以南直至_____洋这部分地区称为“南亚次大陆”。

2. 南亚中部平原由_____河和_____河冲积而成。

3. 印度河发源于我国的_____ (省级行政区), 注入_____海。

4. 恒河自西北喜马拉雅山区流向东南, 大部分在印度境内, 下游流经_____国, 注入_____。

5. 南亚大部分地区属于_____气候; 印度东北部的_____, 年平均降水量有 11000 多毫米, 是世界上降水最多的地区之一。

6. 南亚每年 6 月至 9 月盛行西南季风, 形成____季; 10 月至次年 5 月盛行东北季风, 为____季。

7. 南亚面积最大, 人口最多的国家是_____, 该国家的首都是_____。

8. 印度的国语为_____语，其官方语言为_____语。

9. 印度的主要粮食作物是_____、_____。

10. 印度最大的海港和棉纺织工业中心是_____；印度人口最多的城市和麻纺织工业中心是_____。

【选择题】

下列各小题均有四个选项，其中有一项或两项符合题意要求。请将所选答案前边的字母，填在题后边的括号内。

1. 下列南亚国家中，属于临海国家的是：（ ）

- A. 孟加拉国 B. 印度
C. 尼泊尔 D. 不丹

2. 占有印度河平原大部的国家是下列中的：（ ）

- A. 印度 B. 巴基斯坦
C. 孟加拉国 D. 斯里兰卡

3. 下列国家中，位于恒河三角洲地区的是：（ ）

- A. 孟加拉国 B. 尼泊尔
C. 巴基斯坦 D. 印度

4. 下列国家中，占有德干高原和恒河平原大部分的国家是：（ ）

- A. 斯里兰卡 B. 尼泊尔
C. 印度 D. 巴基斯坦

5. 南亚地区面积最大的岛国是：（ ）

- A. 马尔代夫 B. 不丹
C. 孟加拉国 D. 斯里兰卡

6. 给南亚地区带来丰沛降水的季风, 是下列中的: ()
- A. 东北季风 B. 西北季风
C. 西南季风 D. 东南季风
7. 印度主要的矿产资源有: ()
- A. 煤、铁 B. 锰、石油
C. 稀土、镍 D. 银、铜
8. 印度钢铁工业主要分布在: ()
- A. 德干高原东北部
B. 新德里
C. 孟买
D. 马德拉斯
9. 印度茶主要分布在: ()
- A. 西北部雨量充足、排水良好的低山坡
B. 地势低平、气候湿热的恒河三角洲地区
C. 东北部、半岛沿海的平原地区
D. 降水较少、日照充足的德干高原西北地区
10. 印度最大的海港是: ()
- A. 新德里 B. 加尔各答
C. 孟买 D. 马德拉斯

【连线题】

将下列左侧的国家与右侧相应的各国首都之间, 用线段相连接:

- | | |
|---------|--------|
| A. 巴基斯坦 | ① 达卡 |
| B. 孟加拉国 | ② 伊斯兰堡 |
| C. 印度 | ③ 廷布 |
| D. 不丹 | ④ 新德里 |
| E. 锡金 | ⑤ 加德满都 |
| F. 尼泊尔 | ⑥ 甘托克 |
| G. 斯里兰卡 | ⑦ 马累 |
| H. 马尔代夫 | ⑧ 科伦坡 |

【表格题】

将下列印度工业部门的分布地区或工业中心与原料产地的关系填入表内空格处：

工业部门	分布地区或工业中心	与原料产地的关系
钢铁工业		
棉纺织工业		
麻纺织工业		