


乐理·2级

快乐钢琴基础教程



威拉德·阿·帕尔默、莫顿·曼努斯、阿曼达·维克·莱斯科



美国阿尔弗莱德出版公司提供版权



SMPH 上海音乐出版社出版

冯 磊 译

快乐钢琴基础教程

Piano

乐理·2级

使用说明

1. 本书与《课程·2级》同步使用。
2. 本册各页内容与《课程·2级》一一对应，教师应根据本册每页右上角的说明布置作业。
3. 乐理作业应由学生在家中完成，然后由教师在下次上课时检查。

威拉德·阿·帕尔默

莫顿·曼努斯

阿曼达·维克·莱斯科

 **SMPH**
上海音乐出版社
WWW.SMPH.SH.CN



Copyright©MM by Alfred Publishing Co., Inc.

冯 磊 译

快乐钢琴基础教程

Piano

乐理·2级

使用说明

1. 本书与《课程·2级》同步使用。
2. 本册各页内容与《课程·2级》一一对应，教师应根据本册每页右上角的说明布置作业。
3. 乐理作业应由学生在家中完成，然后由教师在下次上课时检查。

威拉德·阿·帕尔默

莫顿·曼努斯


阿曼达·维克·莱斯科

 **SMPH**
上海音乐出版社
WWW.SMPH.SH.CN



Copyright©MM by Alfred Publishing Co., Inc.

识别 IDENTIFY



第2页和第3页的不明飞行物可以变化成能识别的飞行物!

把每艘宇宙飞船的名字写在它随身带的旗帜上, 让它由不明飞行物变成能识别的飞行物。
可以在下面的名词中选择:

四分休止符
二分休止符
全休止符

升号
降号
还原记号

响
中等响
轻


连音符
重音
延长记号

拍号
反复记号
八分音符

识别一个不明飞行物你就能得到100分! 满分1500分!

不明飞行物!

THE U.F.O.'s!



想得到附加分吗? 回答出下面的问题就可得到 1700 分,
那你就成为一名超级优等生了!

1. $p-mf$ 表示: _____

2.  表示渐渐地 _____


最后得分: _____

介绍附点四分音符


Introducing Dotted Quarter Notes

附点：增加前面这个音符一半的时值。

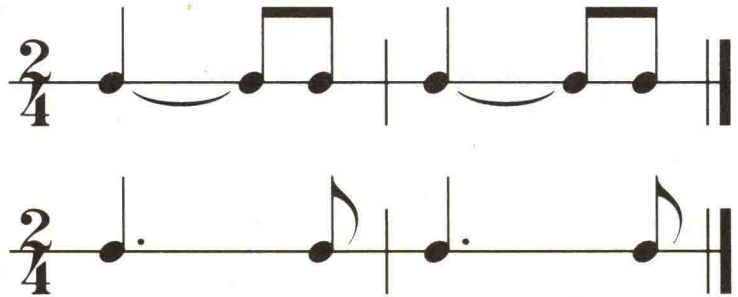
四分音符



附点四分音符



这里是同一节奏的两种不同的记谱法：



1. 拍（或敲）上面两个谱例的节奏。它们一样吗？_____


当使用连音符时，它的拍子为：“1拍2，拍，”。

当使用附点四分音符时，它的拍子为：“1拍2，拍，”。

2. 在下面的乐谱中，按虚线所示画上连音线。


3. 边弹边数拍子。

G 位置



4. 在下面乐谱中四分音符的后面加上附点，使它与上面乐曲中的节奏一样。

5. 边弹边数拍子。你会发现这首乐曲和上面乐曲的节奏完全相同。



3/4拍中的附点四分音符

Dotted Quarter Notes in 3/4 Time

1. 在下面的乐谱中，按虚线所示画上连音线。
2. 边弹边数拍子。
3. 边弹边唱歌词。

中央C位置

mf My coun-try, 'tis of thee, Sweet land of lib - er-ty, Of thee I sing!
我 歌 唱 我 的 祖 国 充 满 甜 蜜 和 自 由 的 国!

4. 在下面的乐谱中，有些四分音符需要加上附点。在正确的位置加上附点，使它与上面乐谱的节奏相同。
5. 边弹边数拍子。你会发现这首乐曲和上面乐曲的节奏完全相同。

mf

4/4拍中的附点四分音符

Dotted Quarter Notes in 4/4 Time

6. 在下面的乐谱中，按虚线所示画上连音线。
7. 边弹边数拍子。
8. 边弹边唱歌词。

中央C位置

1. Sleep, my child, and peace at-tend thee, All through the night;
2. Guard - ian an - gels God will send thee, All through the night.

4

1. *p* 睡 吧 宝 贝, 安 宁 整 夜 伴 随 着 你。
2. 守 护 天 使, 上 帝 整 夜 伴 随 着 你。

9. 在下面的乐谱中，有些四分音符的附点和一些八分音符的符尾不见了，请在合适的地方加上它们，使它与上面乐曲的节奏相同。
10. 边弹边数拍子。你会发现这首乐曲和上面乐曲的节奏完全相同。

4

p

重要！在 $\frac{2}{4}$ 、 $\frac{3}{4}$ 或 $\frac{4}{4}$ 拍中，一个附点四分音符后面常常会跟着一个八分音符！



音乐魔方 (复习读谱)

The "Music Cube" (Note Reading Review)

在音符下面的横线上写出音符的名字，然后按要求放到魔方的每个方框内。

上面


横向

1. The 2nd month.
(Abbreviation.)



— — —


3. My "Pop."
(Another nickname.)



— — —


纵向

1. A hungry cat likes
to be this.
(So does a dog.)



— — —

2. A good place
to sleep.
(Or grow flowers.)



— — —

侧面


横向

1. It means
"to ask for."
(My dog can
do this.)



— — —

3. Just a
little bit.
(Also, "to pat.")



— — —


纵向

1. Not good.
(Don't be
that way!)

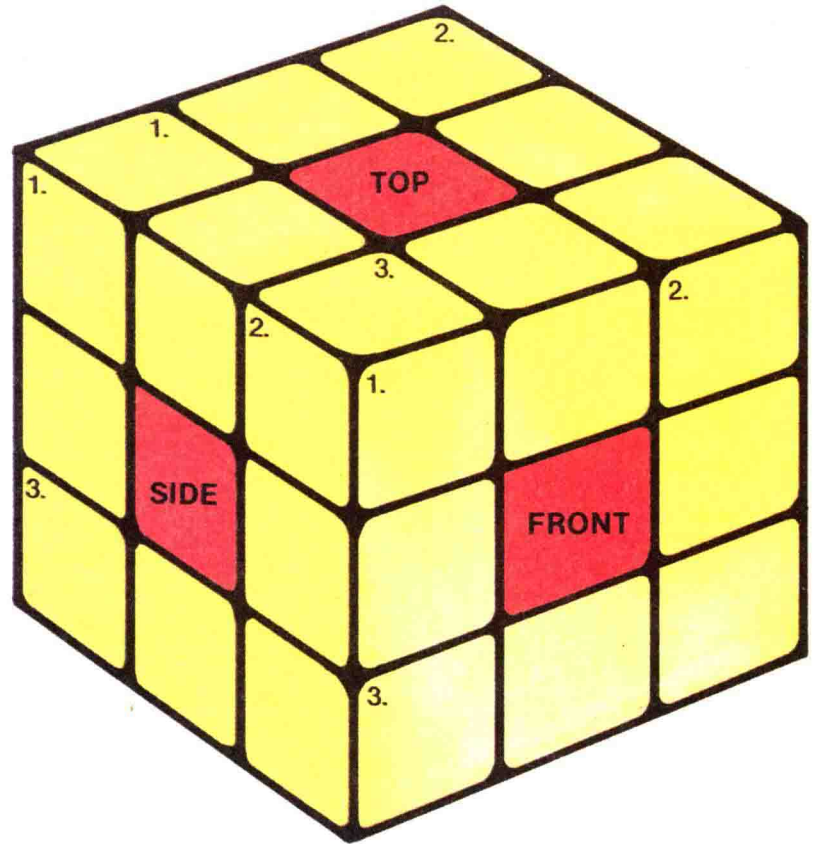


— — —

2. It means "to
talk a lot."
(Or "a lot of
talk.")



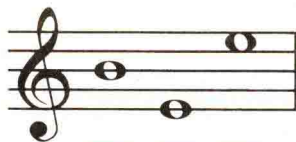
— — —



前面


横向

1. It can sting.
(Or make
sweet stuff.)



— — —

3. Talk too much and
you may get one.
(That's a joke!)



— — —


纵向

1. Something's in it.
(A sandwich,
maybe?)



— — —

2. It's good in a
scramble.
(Or an omelette.)



— — —

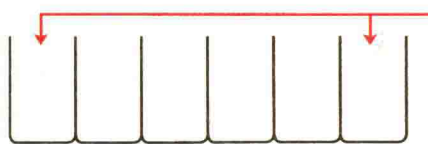
这个游戏可以锻炼你的读谱能力。每个正确答案得分为 10 分，满分为 120 分。

得分：_____

(译注：本游戏必须用英文完成，故不译。)


测测六度

Measuring 6ths



当跨过四个白键时，就构成了六度音程。

六度写在线—间或间—线上。



1. 在下面方框中写出每个音符的音名。
2. 弹奏这些旋律音程，同时说出“上行六度”等等。

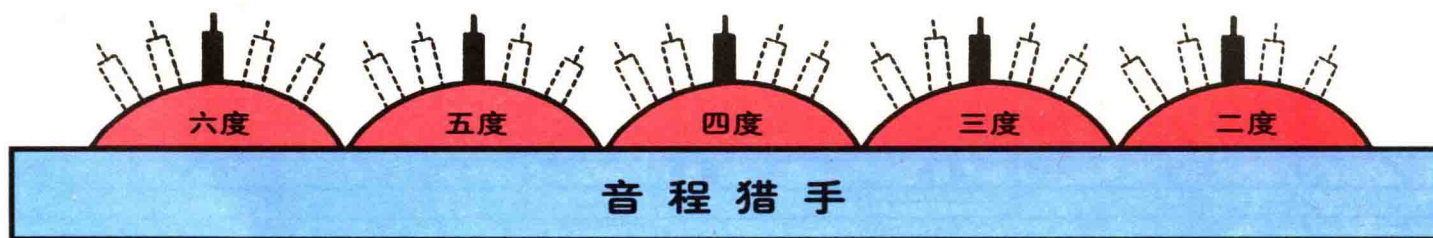

3. 参照第1小节的例子，在每小节上写一个全音符使其与下方的音符构成指定的和声音程。

4. 弹奏上面两行谱表。每个五度和六度音程使用右手 $\overset{5}{1}$ 或左手 $\underset{5}{1}$ 指。

“音程射击！”

“Fire at Intervals!”

玩这个游戏：用枪射击装有相同名字音程的飞机！将它们用直线连接起来，可以交叉，但不能穿过不同名字的音程。




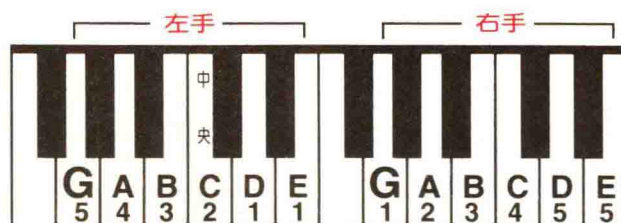
每射中一个音程得 10 分。

满分为 100 分。


得分：_____

G 位置上的六度

6ths in G Position



1. 在下面每小节音符上方写一个全音符使其与下方的音符构成指定的和声音程。
2. 弹奏。五度、六度音程用右手 $\overset{5}{1}$ 指弹奏。



3. 在下面每小节音符上方写一个全音符使其与下方的音符构成指定的和声音程。
4. 弹奏。五度、六度音程用左手 $\overset{1}{5}$ 指弹奏。



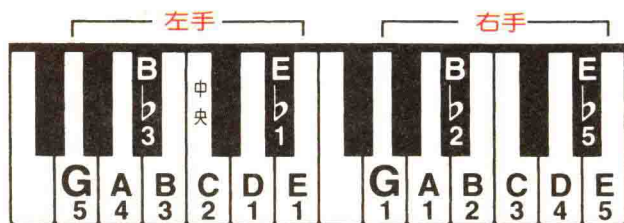
5. 在下面的方框中写上每个音的音名。
6. 弹奏，并说出“下行四度”等等。

7. 在最后两行谱表中你弹奏的是和声音程还是旋律音程? _____

对话 (快乐—严肃)

Conversation Piece

(Happy—Serious)



1. 在第1—8小节内的每个音符符头上面或下面加上一个表示断奏的符号。

如果符干向下，把符号标在符头上面；

如果符干向上，把符号标在符头下面。

2. 在第9—16小节内，在每个小节的所有音符上面或下面加上一个表示连奏的符号。

请注意这些符号不能跨过小节线。

3. 弹奏。

1 Allegro moderato


9 Andante

在键盘上六度上行或下行

Moving Up & Down the Keyboard in 6ths


1. 在下面的音符上面写一个音符构成六度音程。说出你写出音符的名字。

2. 弹奏，每个六度用右手 $\frac{5}{1}$ 指弹奏。



3. 在下面的音符下面写一个音符构成六度音程。说出你写出音符的名字。

4. 弹奏，每个六度用左手 $\frac{1}{5}$ 指弹奏。



5. 把两行谱表当成一首完整的乐曲来演奏，先用右手，再用左手。


六度音程的熟练练习

Moving Around the Keyboard in 6ths




1. 在下面的音符上面写一个音符构成六度音程。说出你写出音符的名字。

2. 弹奏，每个六度用右手 $\frac{5}{1}$ 指弹奏。



3. 在下面的音符下面写一个音符构成六度音程。说出你写出音符的名字。

4. 弹奏，每个六度用左手 $\frac{1}{5}$ 指弹奏。



5. 把两行谱表当成一首完整的乐曲来演奏，先用右手，再用左手。



左手 2 指跨过 1 指

——指法技巧!

Crossing LH 2 over 1

—A Fingering Trick!

你可以用左手弹奏键盘上任意六个上行且相邻的白键，
从 5 指开始，2 指跨过 1 指。


1. 像第 1 个例子一样，在每个音符下面写出所用的指法。
2. 在方框内写出音符的名字。
3. 弹奏。

右手 2 指跨过 1 指

——指法技巧!

Crossing RH 2 over 1

—A Fingering Trick!



你可以用右手弹奏键盘上任意六个下行且相邻的白键，
从 5 指开始，2 指跨过 1 指。

1. 像第一个例子一样，在每个音符下面写出所用的指法。
2. 在方框内写出音符的名字。
3. 弹奏。

5 4 3 2 1 2

F

节奏复习

Rhythm Review

1. 在每个休止符下方方框内，写出在 $\frac{4}{4}$ 拍里与该休止符时值相等的音符。


2. 在下面每个方框内写出一个音符，使它与每道题中音符的总时值相等。











$\text{quarter note} + \text{quarter note} = \boxed{\text{half note}}$	$\text{half note} + \text{half note} = \boxed{\phantom{\text{half note}}}$
$\text{quarter note} + \text{quarter note} = \boxed{\phantom{\text{quarter note}}}$	$\text{quarter note} + \text{quarter note} = \boxed{\phantom{\text{quarter note}}}$
$\text{quarter note} + \text{quarter note} = \boxed{\phantom{\text{quarter note}}}$	$\text{quarter note} + \text{quarter note} = \boxed{\phantom{\text{quarter note}}}$
$\text{quarter note} + \text{quarter note} = \boxed{\phantom{\text{quarter note}}}$	$\text{quarter note} + \text{quarter note} + \text{quarter note} = \boxed{\phantom{\text{quarter note}}}$
$\text{quarter note} + \text{quarter note} = \boxed{\phantom{\text{quarter note}}}$	$\text{quarter note} + \text{quarter note} + \text{quarter note} = \boxed{\phantom{\text{quarter note}}}$

3. 在每小节中加上一个休止符使小节的节拍完整。

音乐私家侦探

The Musical Private Eye



① 	② <i>mf</i>	③ 	④ 
⑤ <i>p</i>	⑥ <i>Fine</i>	⑦ 	⑧ <i>pp</i>
⑨ 	⑩ 	⑪ 	⑫ 
⑬ 	⑭ <i>ff</i>	⑮ 	⑯ <i>mp</i>

在下面方框内写出与上面方格内各种符号相对应的数字。

四分休止符

1

最轻

还原记号

延长记号

降号

渐弱

升号

渐强

中等轻

轻

结束

中等响

全休止符

踏板记号

重音记号

最响

每个正确答案得 10 分。

总分 150 分!

得分: _____