

李秀英

阶梯数学

数字·数量


2~3岁 | 李秀英/
主编



A



+



4



5



3



÷



李秀英阶梯数学

数字·数量



李秀英/主编



图书在版编目(CIP)数据

李秀英阶梯数学. 2~3岁 / 李秀英著. — 石家庄:
河北少年儿童出版社, 2014.1

ISBN 978-7-5376-6854-5

I. ①李… II. ①李… III. ①数学课—学前教育—教
学参考资料 IV. ①G613.4

中国版本图书馆CIP数据核字(2013)第277796号

李秀英阶梯数学·2~3岁

主 编: 李秀英

编 写: 方 蕾

策划监制: 戴 用 贺文平

责任编辑: 吴 倩

特约编辑: 张丽静 郑朋娜

内文插图: 蓝色梦境工作室 洪立佳 崔峥嵘

美术编辑: 陈 晴 王艳霞 王 娟

出 版: 河北出版传媒集团
河北少年儿童出版社

地 址: 石家庄市中华南大街172号泰丰大厦 050051

发 行: 全国新华书店

印 刷: 北京画中画印刷有限公司

开 本: 889×1194 1/16

印 张: 13.75

版 次: 2014年6月第1版

印 次: 2014年6月第1次印刷

书 号: ISBN 978-7-5376-6854-5

定 价: 56.00元(全四册)


如有印装质量问题影响阅读, 请直接与北斗童书馆联系调换。

北斗童书馆读者热线: 13661118964





看数圈图	2	数图画点	14	数一数	29
比较多少	3	画糖豆	15	分萝卜	30
看物画圆圈	4	圈一圈	16	小鸟	31
小雨点	5	连一连	17	找不同	32
小花和小蜜蜂	6	小树	18	可爱的动物	33
越来越多	7	分蘑菇	19	圆点排图形	34
回家	8	圆点排图形	20	多一个	35
看图画圈	9	连一连	21	它们各有几个	36
多一个	10	午餐	22	少了几个	37
认识数字“4”	11	小火车	23	找数字	38
孔雀	12	小鱼缸	24	看数圈图	39
郊游	13	认识数字“5”	25	少了多少	40
		数气球	26	点卡排队	41
		小花朵朵开	27		
		数点配对	28		



我的学习单

小朋友在使用本书的时候，可以记录下自己的学习过程。

“数字·数量”篇：

“比较·分类”篇：

“图形·空间”篇：

“综合”篇：




姓名：_____

记录的日期是：_____年_____月_____日


看数圈图

请根据示例，在旁边圈出相应数量的图。



比较多少

数一数下面的每组物品哪种多，在多的那一种物品后面的圆圈里涂上颜色。




看物画圆圈

根据示例，数一数图中每组物品的数量，再画出对应的圆圈数。



小雨点

天上下雨了，小雨点连成了线。请按箭头提示的方向将虚线描实。




1 2 3 4 5

描出的小雨点像数字几呀？请把它圈出来。

小花和小蜜蜂

在图中找一找哪种东西的数量最多，在小图旁边的方框里涂上颜色。





越来越多

学习“多一个”。

数一数每个盘子里有几杯饮料。

数一数每个盘子里有几枚鸡蛋。

数一数每个盘子里有几个苹果。



1

2

3

回家

小红帽要去看外婆，她要沿着有三朵花的地方走才能到外婆家。请你帮她画出路线。









看图画圈

数一数下面的物品各有多少，然后根据示例，在相应的地方画上相同数量的圆圈。



多一个

数一数方格里图案的数量，再加上一个变成几个？
根据示例，在旁边找出相应的数字并圈出来。



1 	+	1 	1 2 3
2 	+	1 	1 2 3
3 	+	1 	1 4 3



认识数字“4”

这是数字“4”，它的形状像一面小旗子。请你伸出小手顺着箭头走一走，先描黄色，再描蓝色。

找一找哪幅图上有四只小蚂蚁，把它们圈出来。



孔雀

孔雀有几只，请你数一数，圈出正确的数字。



1 2 3 4

郊游

小朋友们要去郊游啦！每个人要背一个黄色的背包，他们一共要背几个背包？请你连线后数一数。

