

快速提升小学生思维能力的




4000个

智力题

在游戏中开发思维，在思考中收获快乐

稚子文化 / 编著



中原出版传媒集团
大地传媒

河南科学技术出版社

快速提升



小学生思维能力 **的** 400个智力题

稚子文化 编著

河南科学技术出版社
· 郑州 ·

目录

观察力	3
记忆力	27
想象力	49
判断力	67
逻辑推理	89
动手能力	111
综合思维	131
答案	153

图书在版编目 (CIP) 数据

快速提升小学生思维能力的400个智力题/稚子文化
编著. — 郑州: 河南科学技术出版社, 2015. 4
ISBN 978-7-5349-7614-8

I. ①快… II. ①稚… III. ①智力游戏-少儿读物
IV. ①G898.2

中国版本图书馆CIP数据核字 (2015) 第032362号

快速提升

小学生

思维能力的400个

智力题

出版发行: 河南科学技术出版社

地址: 郑州市经五路66号 邮编: 450002

电话: (0371) 65737028 65788613

网址: www.hnstp.cn

策划编辑: 刘欣

责任编辑: 梁娟

责任校对: 柯姣

封面设计: 稚子文化

版式设计: 稚子文化

印刷: 郑州新海岸电脑彩色制印有限公司

经销: 全国新华书店

幅面尺寸: 210mm×285mm

印张: 10

字数: 150千字

版次: 2015年4月第1版

2015年4月第1次印刷

定价: 29.80元

如发现印、装质量问题, 影响阅读, 请与出版社联系并调换。

快速提升



小学生思维能力 **的**
400个智力题

稚子文化 编著

河南科学技术出版社
· 郑州 ·

目录

观察力	3
记忆力	27
想象力	49
判断力	67
逻辑推理	89
动手能力	111
综合思维	131
答案	153

图书在版编目 (CIP) 数据

快速提升小学生思维能力的400个智力题/稚子文化
编著. — 郑州: 河南科学技术出版社, 2015. 4
ISBN 978-7-5349-7614-8

I. ①快… II. ①稚… III. ①智力游戏-少儿读物
IV. ①G898.2

中国版本图书馆CIP数据核字 (2015) 第032362号

快速提升

小学生

思维能力的400个

智力题

出版发行: 河南科学技术出版社

地址: 郑州市经五路66号 邮编: 450002

电话: (0371) 65737028 65788613

网址: www.hnstp.cn

策划编辑: 刘欣

责任编辑: 梁娟

责任校对: 柯姣

封面设计: 稚子文化

版式设计: 稚子文化

印刷: 郑州新海岸电脑彩色制印有限公司

经销: 全国新华书店

幅面尺寸: 210mm×285mm

印张: 10

字数: 150千字

版次: 2015年4月第1版

2015年4月第1次印刷

定价: 29.80元


如发现印、装质量问题, 影响阅读, 请与出版社联系并调换。

观察力

Guan Cha Li

001

小朋友，来数一数下图中一共有多少个三角形吧！




002

小朋友，下图中有四朵花与其他花的形状不同，请把它们找出来。



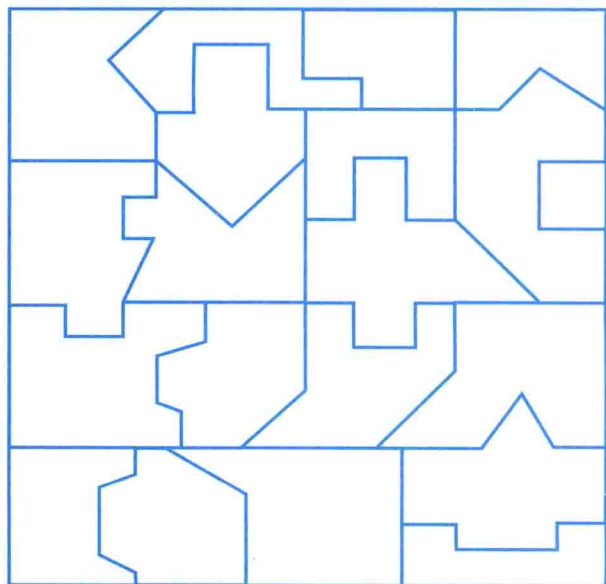

003

小山正在和小伙伴捉迷藏，请帮小山把他们找出来吧！



004



小朋友，请从大图中找出与例图完全相同的图形，然后涂上对应的颜色吧！




005

把例图逆时针方向旋转 90° 会得到 A、B、C、D 中的哪一个？选出来吧！


例图




A



B




C



D

006

小朋友，请仔细观察下面四组铅笔，找出每组缺少的颜色，然后帮它们涂上颜色吧！




小贴士

家长不要急于求成，要耐心地引导孩子完成题目，要多鼓励孩子。

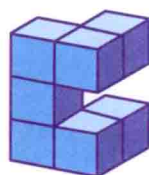

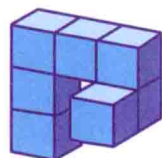
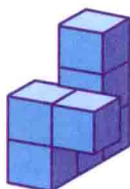


007

小朋友，请仔细观察下图，然后找出和例图一模一样的图案。

例图



例图



008

小朋友，请仔细观察图片，说一说：图中的红、蓝两条线哪条长，哪条短？三胞胎兄弟谁高谁矮？



009

唐唐家的冰箱里装了很多好吃的。小朋友，请仔细观察，然后回答下面的问题。



1. 冰箱里有几个鸡蛋？
2. 葡萄在第几层？
3. 冰箱里有牛奶吗？


010

两个小丑正在表演抛彩球，每个彩球上都有一个数字，现在有些数字消失了。小朋友，请按顺序补出来吧！



011

小朋友，请仔细观察下图，把不一样的两个篮球圈出来。




012

小朋友，请仔细观察图形，然后按照从下到上的叠放顺序给圆圈涂上对应的颜色。




013

小朋友，请根据最上面一栏两个图形之间的规律，选择合适的图形与中间一栏的图形配成一对。





014

小朋友，请记住第一排的小动物，然后说出下面三排中分别缺少了哪只小动物。



015

路面上的小坑挡住了汽车的去路。小朋友，请圈出可以填平路面的图案。





016

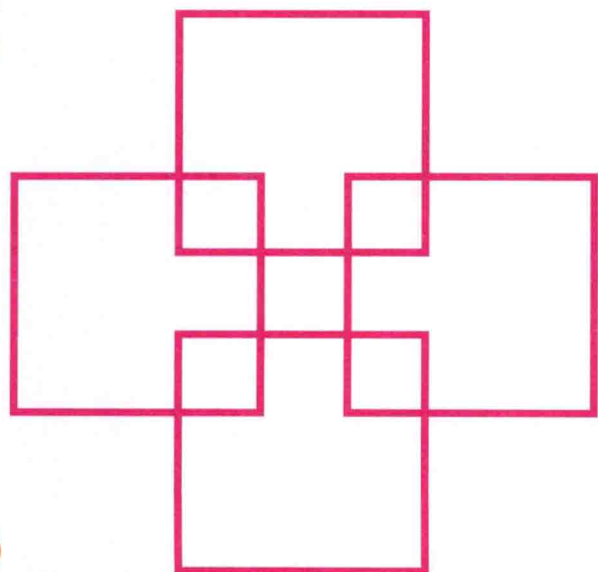
在森林里隐藏着好多物品。小朋友，你能把它们找出来吗？（提示：物品包括梳子、杯子、鱼、手掌、电话、王冠、蝴蝶、剪刀、锄头。）




017 下面六幅图中，有两幅是完全一样的。小朋友，请把它们找出来吧！



018 小朋友，请数一数下图中一共有多少个正方形。



019 下图的六盘蚊香中有一盘是与其他五盘有所区别的。你能找出来吗？




020

小朋友，请根据拼好的图案，找一找分散的拼图块中哪一张是多余的，然后圈出来。



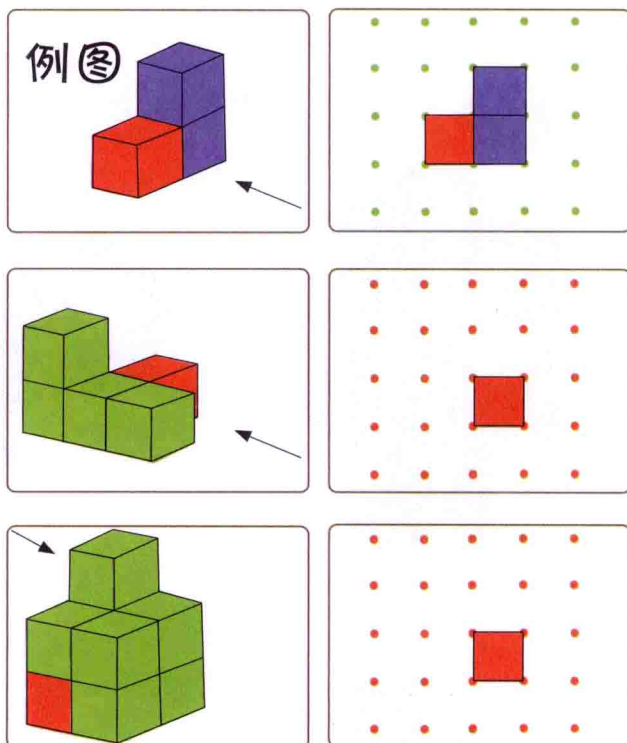
021

东东必须按照 $\blacktriangle - \bullet - \blacksquare - \blacklozenge$ 的顺序才能爬上山顶。小朋友，来和东东一起找出去山顶的路线吧！



022

如果沿箭头方向观察左图中的积木会是什么样的呢？小朋友，请根据例图所示，在右图中画出看到的形状。




小 贴 士

观察力的训练，不仅是让孩子找到图形的变化规律，还要发现空间变化的规律。

023

小朋友，请仔细观察左上角的图案，然后找出与它相同的图案吧！



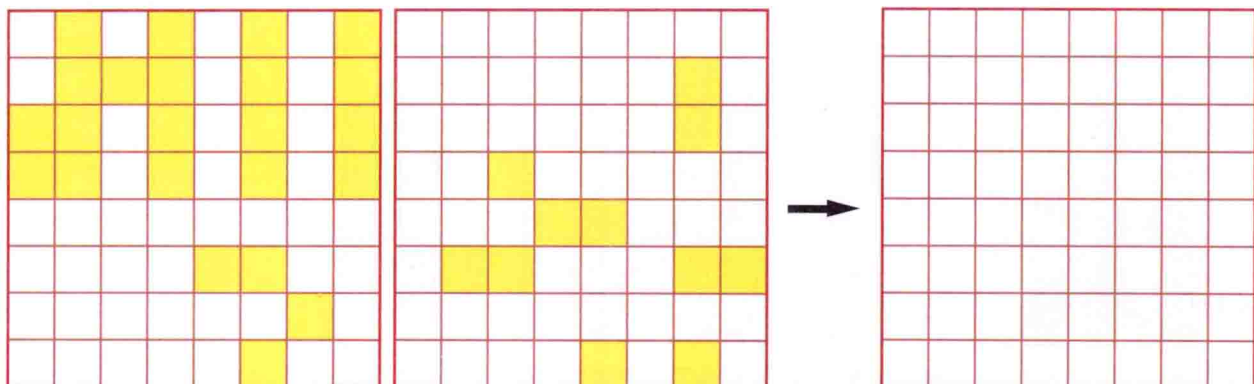
024

下面是一些物体的影子。小朋友，你能说说它们都是什么吗？



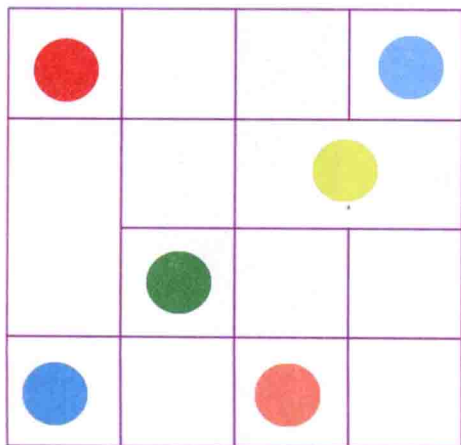

025

如果把左侧两个方框重合在一起会得到怎样的结果呢？小朋友，请把答案涂到右侧的方框中。



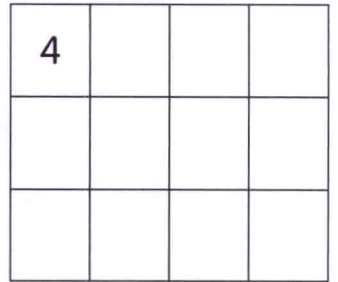

026

小朋友，请仔细观察左图，然后给右图的圆圈涂上对应的颜色。



027

一张照片被剪成了很多块。小朋友，你能把它们拼成原图吗？请试着把每一张拼图的序号写在正确的位置。



028

下图缺少了几部分，请从破碎的图片中找出大图缺少的部分，然后把对应的序号写在空白里。



1



2



3



4

