

(二年级)

3

5

1

!



小学一年级

数学试卷

下学期

08A00264

小学数学试卷编写组

2

8

4

6

北京教育出版社

PDF

小学一年级数学试卷(下学期)
XIAOXUE YINIANJI SHUXUE SHIJUAN(XIAXUEQI)
小学数学试卷编写组 编

*

北京教育出版社出版
(北京北三环中路6号)
邮政编码:100011

网 址 : www.hph.com.cn
北京出版社出版集团总发行
新华书店经销
北京冶金大业印刷有限公司印刷

*

787×1092 16开本 5.75印张 70000字
2001年1月第2版 2004年1月第7次印刷
印数 46791—51710

ISBN 7-5303-1240-5
G·1215 定价:6.10元

出版说明

这套试卷是以国家教育部颁发的《九年义务教育全日制小学数学教学大纲(试用修订版)》为依据,配合北京出版社出版的、北京教育科学研究院基础教育教学研究中心编著的六年制小学数学试用课本,由多年从事小学数学教材教法研究和具有丰富教学经验的教师编写的。


这套测试卷,可以供任课教师在教学中,对学生进行单元同步测试,及时了解学生学习的情况,作为改进教学的依据,也可以作为学生家长了解和辅导学生的材料。

本试卷由7套单元试卷、2份期中试卷和2份期末试卷组成。测试题目难易适度,题量适当,形式灵活,并具有一定的典型性。既注意全面考查学生理解和掌握数学基础知识的情况,又注意适当考查学生的能力。


为了便于学生携带、使用,本试卷用16开本形式装订,按8开本使用。使用时,从中间打开,依次分为试卷一、二、三……答案附在最后。

编辑出版这套试卷由于时间紧,水平有限,缺点错误在所难免,恳请读者批评指正。


使用说明



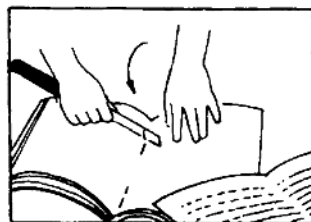
1. 从中间打开试卷



2. 撬开订书钉



3. 取出一份试卷



4. 订书钉放回原位

小学一年级数学第一单元试卷(A)

班级 _____ 姓名 _____ 分数 _____

一、口算下面各题。(8分)

- $3+6=$ $9+5=$
 $10+9=$ $13-4=$
 $7+8=$ $5+8=$
 $12-4=$ $14-9=$
 $15-9=$ $11-7=$
 $6+10=$ $12-6=$
 $9+3=$ $8+3=$
 $5-5=$ $13-5=$

二、填空。(8分)

- $1. 3+9-5=$ $2. 4+6+8=$
 $3. 10-2+7=$ $4. 18-9-6=$

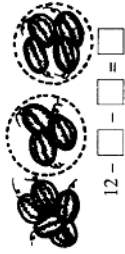
三、看图填数计算。(15分)

1.



$5 + \square + \square = \square$

2.



$12 - \square - \square = \square$

3.



$8 - \square + \square = \square$

四、计算下面各题。(12分)

- $8+3-9=$ $13-8+4=$
 $14-7-7=$ $9+2-10=$
 $10-5+7=$ $6+4+1=$
 $1+9-2=$ $11-3+5=$
 $15-6-8=$ $5+2+9=$
 $2+7+6=$ $17-7-3=$

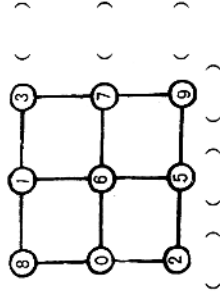
五、在下面的○里填上>、<或=。(6分)

- $16-7-9 \bigcirc 0$
 $5+6-8 \bigcirc 19$
 $19-10+4 \bigcirc 12$
 $8+2+6 \bigcirc 16$
 $15-8-1 \bigcirc 8$
 $11-4+5 \bigcirc 11$

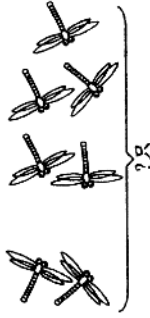
六、连线。(10分)

- | | | | |
|----------|------|-----------|------|
| $12-7+5$ | 4 | $8+9-10$ | 7 |
| $6+1+2$ | 6 | $15-10-4$ | 14 |
| $8+8-10$ | 10 | $13-6+7$ | 15 |
| $11-8-3$ | 9 | $7+3+10$ | 11 |
| $7+6-9$ | 0 | $11-5+9$ | 20 |

七、每条线上的三个数相加，各得多少？(6分)



九、先说说图的意思，再列式计算。(4分)



$\square \bigcirc \square = \square$ (只)

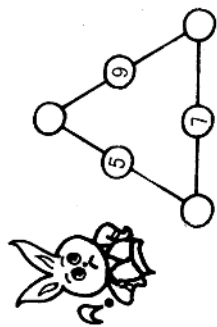
十、填□。(12分)

- $3 \xrightarrow{+4} \square \xrightarrow{+5} \square \xrightarrow{-2} \square \xrightarrow{-7} \square$
 $2 \xrightarrow{+8} \square \xrightarrow{-3} \square \xrightarrow{+6} \square \xrightarrow{-5} \square$
 $11 \xrightarrow{-6} \square \xrightarrow{+10} \square \xrightarrow{-7} \square \xrightarrow{+9} \square$

十一、在下面的○里填上“+”或“-”。(12分)

- $17-8 \bigcirc 10=19$
 $6+7 \bigcirc 3=10$
 $3+4 \bigcirc 1=8$
 $11-2 \bigcirc 5=4$
 $9 \bigcirc 1 \bigcirc 1=11$
 $13 \bigcirc 10 \bigcirc 4=7$
 $15 \bigcirc 5 \bigcirc 9=1$
 $7 \bigcirc 1 \bigcirc 8=0$

十二、填上数,使每条线上的三个数相加得13。(加8分)

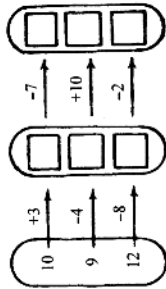


八、先说说图的意思,再列式计算。(4分)



$\square \circ \square = \square$ (根)

九、填 \square 。(6分)



十、在正确得数后面画“√”。(8分)

- $5 + 2 + 4 = \begin{cases} 10() \\ 11() \\ 12() \end{cases}$
- $8 + 7 - 9 = \begin{cases} 4() \\ 5() \\ 6() \end{cases}$
- $12 - 7 - 4 = \begin{cases} 0() \\ 1() \\ 2() \end{cases}$

四、连线。(10分)

$11 - 3 + 5$	5	$14 - 9 - 2$	12
$6 + 6 - 7$	11	$7 + 0 + 7$	3
$8 + 2 + 9$	13	$15 - 8 + 5$	14
$13 - 4 + 2$	0	$8 + 6 - 10$	10
$16 - 8 - 8$	19	$12 - 10 + 8$	4

五、计算下面各题。(12分)

- $6 - 3 - 3 = 13 - 6 + 5 =$
 $7 + 7 - 10 = 10 + 4 - 7 =$
 $9 - 5 + 8 = 11 - 1 - 6 =$
 $4 + 4 + 9 = 7 + 8 - 10 =$
 $10 - 3 + 2 = 1 + 5 + 9 =$
 $5 + 4 + 6 = 8 - 4 - 4 =$

六、在下面的 \bigcirc 里填上 $>$ 、 $<$ 或 $=$ 。

- (12分)
- $5 + 5 + 5 \bigcirc 10$ $19 - 9 + 3 \bigcirc 12$
 $16 - 7 - 8 \bigcirc 1$ $3 + 9 - 5 \bigcirc 8$
 $11 - 10 + 1 \bigcirc 0$ $7 + 6 - 4 \bigcirc 11$

七、把横行、竖行的三个数加起来,各得多少?(6分)

5	4	6	()
3	2	4	()
2	8	7	()
()	()	()	()

小学一年级数学第一单元试卷(B)

班级 _____ 姓名 _____ 分数 _____


一、口算下面各题。(10分)

- $9 + 4 =$ $10 + 10 =$
 $17 - 8 =$ $9 + 7 =$
 $15 - 6 =$ $14 - 8 =$
 $12 - 2 =$ $5 + 3 =$
 $6 + 5 =$ $11 - 4 =$
 $7 + 6 =$ $13 - 10 =$
 $15 - 7 =$ $5 + 9 =$
 $9 + 8 =$ $13 - 5 =$
 $6 - 6 =$ $7 + 8 =$
 $12 - 5 =$ $8 + 6 =$


二、填空。(12分)

1. $5 + 5 + 7 = \square$ 2. $14 - 6 - 3 = \square$
 3. $6 + 2 - 8 = \square$ 4. $15 - 9 + 10 = \square$
 5. $10 - 1 + 3 = \square$ 6. $10 + 1 - 5 = \square$

三、看图填数计算。(20分)



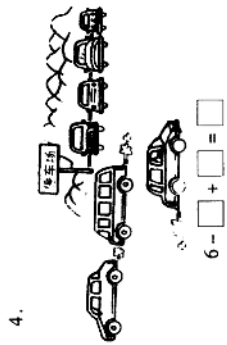
$\square - \square - \square = \square$



$\square + \square + \square = \square$



$9 - \square - \square = \square$



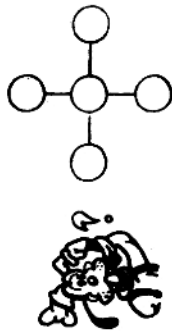
$6 - \square + \square = \square$

4.

$$14 - 4 + 6 = \begin{cases} 16(&) \\ 17(&) \\ 18(&) \end{cases}$$

十一、在圖圈里填上 2、3、4、5、6，使橫行、豎行上的三個數相加都得 11。

(加 8 分)




小学一年级数学第二单元试卷(A)

班级 _____ 姓名 _____ 分数 _____

一、看图数数。(4分)

1. 一个一个地数, 下面一共有()个气泡?



2. 十根十根地数, 一共有()个十根, 一共是()根。



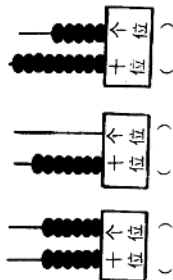
三、填空。(6分)

1. ()个十和()个一合起来是()。

2. ()个十和()个一合起来是()。

3. ()个十和()个一合起来是()。

四、看图写出下面各数。(15分)



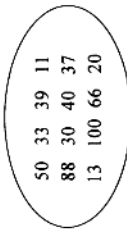
五、填空。(11分)

- ()个一是一十; ()个十是一百。
- 79里面有()个十和()个一。
- 一个数的个位上是1, 十位上是9, 这个数是()。
- 一个数从右边起, 第一位是()位, 第二位是()位, 第三位是()位。
- 47里的“4”在()位上, 表示4个(), “7”在()位上, 表示7个()。
- 和50相邻的两个数是()和()。

六、写出下面各数后面连续的四个数。(12分)

- 18 _____
- 57 _____
- 96 _____

七、按要求填数。(13分)

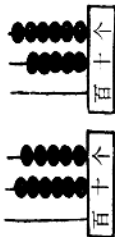


十位是3 的两位数是()
个位是0 的两位数是()
个位和十位上相同的数是()



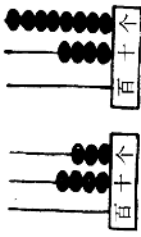
八、先看图写数, 再比较两个数的大小。(6分)

1.



() ○ ()

2.



() ○ ()

九、按照数的顺序写数。(9分)

36	37			
		97	95	94

十、口算下面各题。(16分)

- $15 - 10 =$ $2 + 70 =$
 $6 + 40 =$ $99 - 9 =$
 $20 + 9 =$ $0 + 50 =$
 $73 - 3 =$ $40 + 8 =$
 $1 + 80 =$ $28 - 20 =$
 $30 + 5 =$ $54 - 4 =$
 $86 - 6 =$ $7 + 30 =$
 $42 - 40 =$ $80 - 0 =$

十一、先用 3、4、5 写出六个两位数，再从
小到大排列起来。(加 6 分)

< < < < <



小学一年级数学第二单元试卷(B)

班级 _____ 姓名 _____ 分数 _____

一、填空。(10分)

- 5个十和6个一合起来是()。
- 90里面有()个十。
- 64前面一个数是(),后面一个数是()。
- 一个数的十位上是8,个位上是3,这个数是()。
- 49和51中间的数是()。
- 10个十是()。
- 最大的两位数是(),最小的两位数是()。
- 68后面第五个数是()。

二、写出下面各数。(4分)

百位	十位	个位

七十一
八十八
四十
一百

三、写出下面各数,并写出是几位数。(5分)

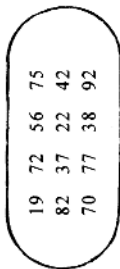
- 十六写作____,是____位数。
- 六十写作____,是____位数。
- 四写作____,是____位数。
- 一百写作____,是____位数。

七十八写作____,是____位数。

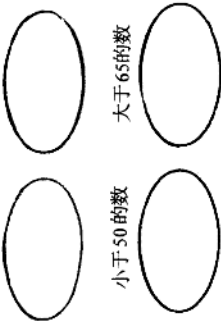
四、在○里填上>、<或=。(6分)

- 31○49 64○46
72○72 30○33
80○18 100○70

五、按要求把数填在○里。(8分)



个位是2的数 十位是7的数



小于50的数 大于65的数

六、在正确答案的()里画“√”。(3分)

- 和80相邻的两个数是81和82 78和79 79和81
() () ()

3. 最大的一位数比最小的两位数少

10 9 1 11

() () () ()

3.52前面第六个数是

46 47 57 58

() () () ()

七、写出下面各数后面连续的四个数。

(6分)

- 36 _____
- 57 _____
- 88 _____

八、把下面各数按照从小到大的顺序排列起来。(3分)

27 86 41 93 68 55

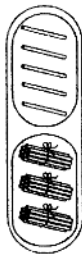
九、看图列式计算。(8分)

1.



□ ○ □ = □

2.



□ ○ □ = □

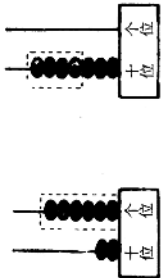
十一、直接写得数。(12分)

- 20 + 40 + 9 =
80 - 60 + 2 =
5 + 70 - 70 =
90 - 50 - 30 =
30 + 10 + 6 =
60 - 40 - 20 =

十、口算下面各题。(24分)

- 8 + 10 = 55 - 50 =
50 - 30 = 77 - 70 =
7 + 60 = 40 + 20 =
32 - 30 = 9 + 10 =
40 - 10 = 30 + 20 =
80 - 20 = 90 - 90 =
6 + 60 = 28 - 8 =
20 + 50 = 51 - 1 =
90 - 40 = 10 + 90 =
10 + 10 = 20 + 70 =
30 + 30 = 40 + 50 =
95 - 5 = 88 - 8 =

□ ○ □ = □ □ ○ □ = □



十二、填空。(11分)

今年小强7岁,他爷爷63岁,奶奶66岁,妈妈33岁,爸爸34岁。把他们的年龄填在表里,再从大到小排一排。

	小强	爸爸	妈妈	爷爷	奶奶
年龄					

> > > >

回答下面的问题。

1. () 的年龄最大。
() 的年龄最小。
2. 妈妈的年龄在家中排第(),
小强排第()。

十三、在□里填数。(加8分)

$$50 + 2 + \square < 55$$

$$80 - 70 - \square < 5$$



小学一年级数学第三单元(第1小节)试卷(A)

班级 _____ 姓名 _____ 分数 _____

一、填□。(8分)

1. $\square \square \square = \square$
 $20 + 39 = \square$

2. $\square \square \square \rightarrow \square \square \square = \square$
 $98 - 80 = \square$

3. $\square \square \square \rightarrow \square \square \square = \square$
 $44 + 50 = \square$

4. $\square \square \square \rightarrow \square \square \square = \square$
 $57 - 30 = \square$

二、口算下面各题。(20分)

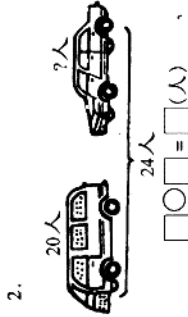
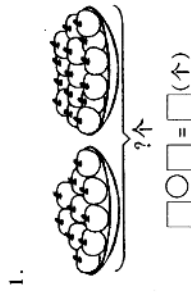
$87 - 40 =$ $50 + 32 =$
 $1 + 90 =$ $68 - 8 =$
 $75 - 50 =$ $76 - 70 =$
 $24 + 30 =$ $10 + 39 =$
 $31 - 10 =$ $60 + 25 =$
 $8 + 60 =$ $49 - 40 =$
 $44 - 4 =$ $17 + 60 =$
 $90 - 70 =$ $57 - 50 =$
 $30 + 30 =$ $82 - 30 =$
 $52 + 20 =$ $20 + 61 =$

三、在下面的○里填上“+”或“-”。

(6分)

$74 \bigcirc 40 = 34$ $55 \bigcirc 30 = 25$
 $29 \bigcirc 20 = 49$ $91 \bigcirc 10 = 81$
 $86 \bigcirc 60 = 26$ $23 \bigcirc 50 = 73$

四、看图列式计算。(12分)



五、在下面○里填上>、<或=。(6分)

$30 + 22 \bigcirc 25$ $48 - 40 \bigcirc 80$
 $85 - 50 \bigcirc 80$ $60 + 30 \bigcirc 30$
 $56 + 40 \bigcirc 96$ $71 - 10 \bigcirc 70$

六、选一个合适的问题,在下面画上线,

再算出来。(10分)

1. 小华先吃了14个栗子,又吃了10个。 _____ ?

(1) 还剩多少个

(2) 两次吃了多少个

$\square \bigcirc \square = \square$ (个)

2. 张立两天一共算了40道口算题,昨天算了20道。 _____ ?

(1) 今天算了多少道

(2) 一共要算多少道

$\square \bigcirc \square = \square$ (道)

七、选一个合适的条件,在下面画上线,再算出来。(10分)

1. 东东有36张画片, _____ , 东东现在有画片多少张?

(1) 红军有40张画片

(2) 送给红红6张画片

$\square \bigcirc \square = \square$ (张)

2. 幼儿园有50个花皮球, _____ , 有红皮球和花皮球一共多少个?

(1) 有42个白皮球

(2) 有36个红皮球

$\square \bigcirc \square = \square$ (个)

八、解答应用题。(20分)

1. 庆祝“六一”儿童节,同学们要做65朵红花,已经做了20朵,还要做多少朵?

□答: 还要做 _____ 朵。

2. 停车场原来有30辆汽车,又开来18辆,停车场现在有多少辆?

□答: 停车场现在有汽车 _____ 辆。
 3. 同学们浇树,一共有42人,有女生20人,有男生多少人?

□答: 有男生 _____ 人。

4. 商店第一天卖出30个气球,第二天卖出的气球和第一天同样多。两天一共卖出多少个气球?

□答: 两天一共卖出 _____ 个气球。

九、直接写得数。(8分)

$6 + 50 + 20 = \square$
 $23 - 20 + 40 = \square$
 $89 - 40 - 30 = \square$
 $44 + 50 - 90 = \square$

十、动脑筋。填□。(加7分)

$$1. 52 - \triangle = 2$$

$$52 - \star = 30$$

$$\triangle = \square$$

$$\star = \square$$

$$\triangle + \star = \square$$

$$2. 6 + \square = 10 - \square$$

$$\square - 5 = \square + 5$$



小学一年级数学第三单元(第1小节)试卷(B)

班级 _____ 姓名 _____ 分数 _____

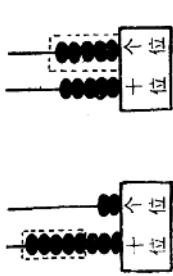
一、看图列式计算。(9分)

1.



$$\square \bigcirc \square = \square$$

2.



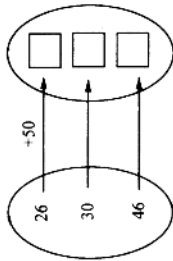
$$\square \bigcirc \square = \square$$

二、口算下面各题。(20分)

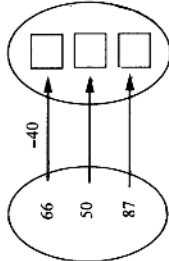
- 48 + 20 = 35 - 10 =
 60 - 50 = 74 - 60 =
 30 + 33 = 20 + 72 =
 76 - 60 = 6 + 80 =
 8 + 10 = 50 + 47 =
 95 - 80 = 95 - 50 =
 40 + 46 = 48 + 30 =
 58 - 30 = 39 - 9 =
 70 - 70 = 66 - 60 =
 2 + 90 = 0 + 88 =

三、在□里填上适当的数。(6分)

1.

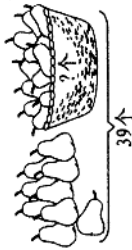


2.



四、看图列式计算。(8分)

1.



$$\square \bigcirc \square = \square \text{ (个)}$$

2.



$$\square \bigcirc \square = \square \text{ (只)}$$

五、选一个合适的问题,在下面画上线,

再算出来。(10分)

1. 菜站有65筐黄瓜,卖了30筐, —

还剩多少筐?

(1) 还剩多少筐黄瓜

(2) 还剩多少筐西红柿

$$\square \bigcirc \square = \square \text{ (筐)}$$

2. 王义两天一共写了38个生字,第

一天写了20个, —

第二天写了多少个?

(1) 两天写了多少个

(2) 第二天写了多少个

$$\square \bigcirc \square = \square \text{ (个)}$$

六、在正确算式后面画“√”,横式算式后

面画“x”。(15分)

1. 食堂有一些面粉。第一周吃了52

袋,第二周吃了40袋,两周吃了多

少袋?

(1) 52 - 40 = 12 (袋) ()

(2) 52 + 40 = 92 (袋) ()

2. 大生要浇24盆花,已经浇了20

盆,还要浇多少盆?

(1) 24 - 20 = 4 (盆) ()

(2) 24 + 20 = 44 (盆) ()

3. 小勇有50本故事书,又买了10本,他现在有多少本故事书?

$$(1) 50 + 10 = 60 \text{ (本)} \text{ ()}$$

$$(2) 50 - 10 = 40 \text{ (本)} \text{ ()}$$

七、解答应用题。(20分)

1. 春生和秋生一共擦了39张桌子,

春生擦了20张,秋生擦了多少张?

口答:秋生擦了_____张。

2. 同学们种花。先种了28棵,又种了30棵,一共种了多少棵?

口答:一共种了_____棵。

3. 学校买来78盒粉笔,有60盒是白粉笔,其余的是色粉笔,买色粉笔多少盒?

口答:买色粉笔_____盒。

4. 方明看故事书,第一天看了10页,第二天看的和第一天同样多,两天一共看了多少页?

口答:两天一共看了_____页。

八、直接写得数。(12分)

$$10 + 20 + 30 =$$

$$36 - 20 - 8 =$$

$$57 + 10 - 40 =$$

$$75 - 70 + 60 =$$

$$90 - 70 + 6 =$$

$$84 - 50 - 20 =$$

九、王老师带领 20 名男生和 15 名女生一起去看电影，需要买多少张电影票？（加 6 分）

口答：需要买_____张电影票。



小学一年级数学第三单元(第2、3、4小节)试卷(A)

班级 _____ 姓名 _____ 分数 _____

一、先圈一圈,再计算。(6分)



$35 + 7 = \square$



$48 - 5 = \square$

二、填 \square 。(8分)

1. $3 + 56 = \square$
 \square

2. $40 - 4 = \square$
 \square

3. $69 - 7 = \square$
 \square

4. $55 + 8 = \square$
 \square

三、口算下面各题。(20分)

- $6 + 32 =$
- $25 - 8 =$
- $7 + 17 =$
- $14 + 9 =$
- $55 - 7 =$
- $80 - 6 =$
- $43 - 5 =$
- $22 + 40 =$
- $7 + 33 =$
- $30 - 3 =$
- $36 - 30 =$
- $9 + 48 =$
- $68 - 7 =$
- $90 - 2 =$
- $25 + 6 =$
- $82 + 5 =$
- $39 - 9 =$
- $1 + 69 =$
- $54 - 4 =$
- $3 + 48 =$

四、列式计算。(6分)

1. 53 加上 7, 和是多少?

2. 被减数是 65, 减数是 50, 差是多少?

3. 一个加数是 8, 另一个加数是 25, 和是多少?

五、把条件与合适的问题用线连起来, 再解答。(15分)

1.

一本书有 42 页, 小伟看了一些后, 还剩 8 页没有看。	小伟看了多少页?
	这本书一共有多少页?

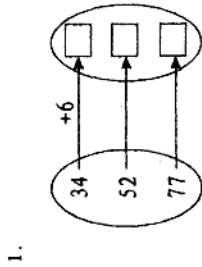
2.

体育室借出去 42 根跳绳, 还有 20 根。	体育室原来有多少根跳绳?
	还剩多少根跳绳?

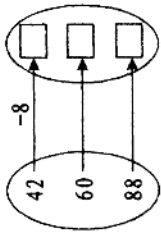
3.

小林和小亮一共有 70 张纪念邮票, 其中小林有 40 张。	小亮有多少张?
	小林有多少张?

六、在 \square 里填上适当的数。(6分)



2.



七、在下面的 \bigcirc 里填上 $>$ 、 $<$ 或 $=$ 。(6分)

- $36 + 8 \bigcirc 42$
- $1 + 50 \bigcirc 51$
- $87 - 9 \bigcirc 79$
- $45 - 4 \bigcirc 5$
- $76 - 30 \bigcirc 73$
- $3 + 77 \bigcirc 80$

八、检查下面各题, 计算对的画“ \checkmark ”, 错的画“ \times ”, 并把错的改正过来。(8分)

- $51 - 7 = 46$ ()
- $82 + 9 = 92$ ()
- $4 + 56 = 60$ ()
- $65 - 5 = 70$ ()
- $33 - 3 = 3$ ()
- $6 + 28 = 88$ ()
- $79 - 40 = 29$ ()
- $50 + 50 = 100$ ()

九、解答应用题。(25分)

1. 一年级一班有学生 42 人, 转走 3 人, 现在有多少人?

口答: 现在有 \square 人。

2. 同学们做了一些风车,送给幼儿园 20 个,还有 25 个。同学们做了多少个风车?

_____。
口答:同学们做了_____个风车。

3. 合唱队有学生 58 人,有男生 30 人,有女生多少人?

_____。
口答:有女生_____人。

4. 图书组有故事书 64 本,借出去一些,还剩 8 本,借出去多少本?

_____。
口答:借出去_____本。

5. 张力有 30 本故事书。他先看了 17 页,又看了 20 页,他一共看了多少页?

_____。
口答:他一共看了_____页。