


日本小学教科书

新 算 术

2_下



吉林人民出版社

库存书

新 算 术
(小学二年级算术)
小平邦彦等编
王 桂 译

*

吉林人民出版社出版 吉林省新华书店发行
长春新华印刷厂印刷

*

787×1092毫米 32开本 2 $\frac{3}{4}$ 印张
1979年4月第1版 1979年4月第1次印刷
印数：1—60,000册
书号：7091·1054 定价：0.66元

限制
系列

算术


2下

(小学二年级算术)
小平邦彦等 编译
王桂 译




吉林人民出版社
221211

目 录



- 10 容积 ————— 4
 - 容积的测量方法 ————— 4
 - 容积的单位 ————— 6
- 11 10000 以内的数 ————— 10
 - 问 题 • 4 ————— 16
- 12 加 法 • 2 ————— 18
 - 计 算 (1) ————— 18
 - 计 算 (2) ————— 20
 - 计 算 (3) ————— 24
 - 复 习 • 2 ————— 28
- 13 减 法 • 2 ————— 30
 - 计 算 (1) ————— 30
 - 计 算 (2) ————— 32
 - 计 算 (3) ————— 36
- 14 大小的比较 ————— 40
 - 等分的大小 ————— 40



- 2 倍、3 倍的大小 ————— 42
- 15 乘法 • 1 ————— 44
- 乘法 ————— 44
- 五的乘法口诀 ————— 48
- 二的乘法口诀 ————— 50
- 第 2 学期复习 ————— 54
- 16 乘法 • 2 ————— 56
- 三和四的乘法口诀 ————— 56
- 六和七的乘法口诀 ————— 60
- 17 乘法 • 3 ————— 66
- 八和九的乘法口诀 ————— 66
- 一的乘法口诀 ————— 69
- 18 问题的思考方法 • 2 ————— 72
- 19 盒的形状 ————— 76
- 20 二年级总结 ————— 80
- 计算练习 ————— 87

10 容积



容积的测量方法

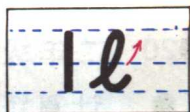
秋良他们比较两个水槽里的水的容积。

★ 用什么方法来比较？


准确地测量水和其它东西的容积，需要用固定大小的量杯。



公升是表示容积的单位，写做 l 。



秋良测量的水槽，用 1 l 的量杯装了 5 杯水，春子测量的水槽里装了 3 杯水。



- ★ 两个水槽里的水的容积各是几 l ?
- ★ 指出两个水槽里的水的容积相差多少?
- ① 用 1 l 的量杯往水桶里装水，量一量能装几杯。

34760/07


容积的单位

测量暖水瓶里的水的容积，
用 1 l 的量杯量了两杯，还剩
一些。




测量容积少于 1 l 的水时，
需要用 1 分升的量杯。

分升表示小于
 1 l 的容积单位，
写做 dl 。




★ 用 1 dl 的量杯，量一量
 1 l 的水有几杯。



$$1\text{ l} = 10\text{ dl}$$

用 1 dl 的
量杯测量剩下
的水，正好有
3 杯。



★ 暖水瓶里的水的容积是几
 l 几 dl ?

① 用 1 dl 的量杯，测量饮水
桶里的水的容积。

练习

- ① 指出下面的容积中，哪个比 3 l 少？哪个比 3 l 多？

$2\text{ l } 6\text{ dl}$ 4 l $1\text{ l } 9\text{ dl}$ 7 dl

- ② 2 l 是多少 dl ？
 $1\text{ l } 4\text{ dl}$ 是多少 dl ？
- ③ 要往瓶子里倒 $1\text{ l } 7\text{ dl}$ 的水，已经用 1 l 的量杯倒了 1 杯。还需要用 1 dl 的量杯倒几杯？

- ④ 用容量为 2 dl 的玻璃杯，往水槽里倒了 4 杯水，水槽里的水是多少 dl ？



小结

- ① 用 1 l 的量杯装水 2 杯，又用 1 dl 的量杯装水 5 杯，一共是几 l 几 dl ？

这些水的容积是几 dl ？

- ② 哪个容量多？


(4 dl , 3 l) ($1\text{ l } 3\text{ dl}$, 12 dl)

- ③ $2\text{ l } 8\text{ dl}$ 比 2 l 多几 dl ？

差多少 dl 才够 3 l ？

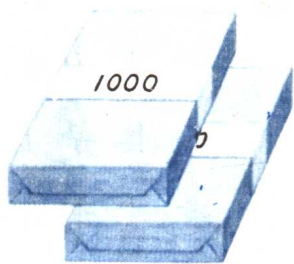
- ④ 在一个容器里装了 7 dl 水，在另一个容器里装了 5 dl 水，加在一起是几 l

几 dl ？



●11 10000 以内的数

有两个纸捆，
每捆 1000 张。




一共是多少
张纸？

两个一千组成的数，叫做
两千。

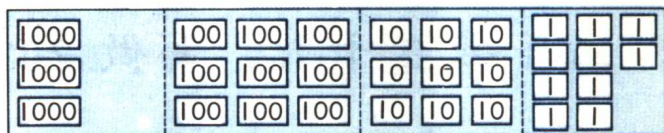
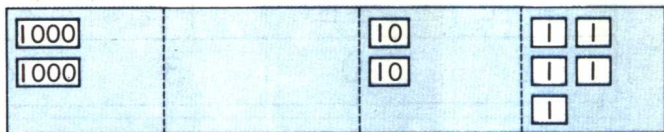
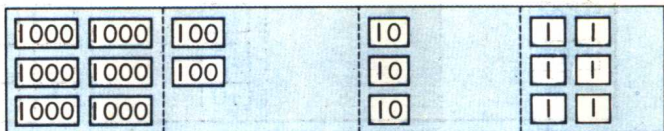
① 五个一千组成的数是多少？

有多少张纸？



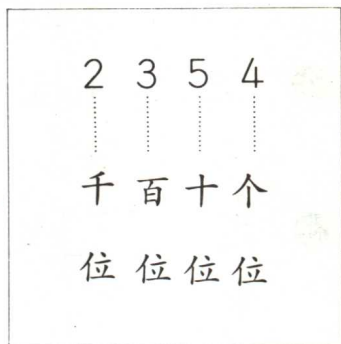
两个一千和三百五十四组
成的数，读做二千三百五十四。

★ 下面的数是多少？



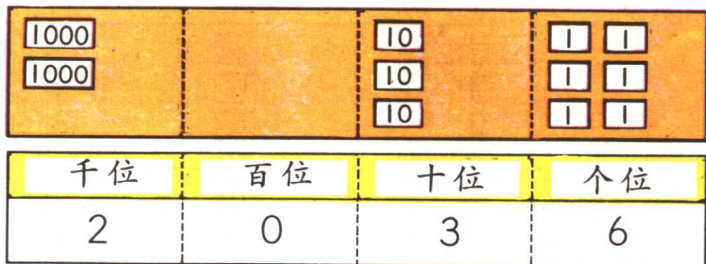
二千三百
五十四，写做
2354。

2354的千
位数是2。



- ② 写出6个1000、9个100、7个10、8个1所组成的数。

用阿拉伯数字写出下面的数：



二千零三十六，写做 2036。


③ 读一读下面的数：

1763 2430 6095 5004

④ 写成阿拉伯数字：

一千三百八十二 六千四百 七千八百

⑤ 指出 里应该填上什么数：




⑥ 哪边的数大？

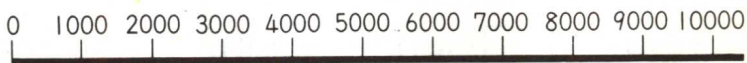
画上符号 < 或 >。

(5000, 4650) (3000, 3078)

下面的数是多少？



10个一千组成的数，叫做
一万，写做10000。



⑦ 写出比10000小1的数。

⑧ $4000 + 300$ $3000 + 7000$

$2750 - 750$ $10000 - 2000$

3650是3000、600、和50组成的数。

$$3650 = 3000 + 600 + 50$$

- ⑨ 指出 里应该填上什么数。

$$4800 = 4000 + \square$$

$$6900 = 7000 - \square$$

$$10000 = 9000 + \square$$

$$5360 = 5000 + \square + 60$$

- ⑩ 在 里填上符号 $<$ 或 $>$ 。

$$5500 \square 5000 + 800$$

$$2400 \square 3000 - 1000$$

- ⑪ 把 里可以填写的数全都指出来。

$$2\square 00 < 2600$$

$$7780 < 7\square 00$$

$$34\square 8 > 3479$$

$$5230 > \square 180$$

小结

① 5047的千位数、百位数是几？

② 按照大小顺序重写一遍：

4260 5026 4510 5100

③ 在□里应该填上什么数？

$2300 = \square + 300$ $9000 = \square - 1000$

④ 每捆100张的图画纸有10捆，每捆10张的有16捆。一共有多少张图画纸？

⑤ 把用错了〈或〉的地方改正过来。

$2900 > 3000$ $5370 < 6000$