

主 编 ● 范胜魁 魏兰锋
分册主编 ● 韩晓冬 王淑云

1课测


学好每一课
全凭一课一测

→ 试用修订版
shiyongxiudingban

初二地理

(上)

● 吉林人民出版社



1课 1测

与新教材同步

→试用修订版

shiyongxiudingban

初二地理(上)

主 编●范胜魁 魏兰锋 分册主编●韩晓冬 王淑云

●吉林人民出版社

45/12

(吉) 新登字 01 号

一课一测·初二地理·上 (试用修订版)

主 编 范胜魁 魏兰锋
责任编辑 张长平 王胜利
责任校对 贾 金

分册主编 韩晓冬 王淑云
封面设计 魏 晋
版式设计 王胜利

出 版 者 吉林人民出版社 (长春市人民大街 124 号 邮编 130021)
发 行 者 吉林人民出版社 电话: 0431-5678541
印 刷 者 北京市通县长凌营印刷厂

开 本 787×1092 1/16
印 张 5.625
字 数 117 千
版 次 2002 年 6 月第 1 版
印 次 2002 年 6 月第 1 次印刷
印 数 1 30100 册

标准书号 ISBN 7 - 206 - 02830 - 6/G · 1265
定 价 7.50 元

如图书有印装质量问题, 请与承印工厂联系

出版说明

《一课一测》系列丛书以课时内容为编写单元,针对学生和老师的实际需要,英语、语文每课设计一份试题,数学、物理、化学每节一份试题,每单元或每章一份综合测试,并且根据课时进度,安排增加了期中测试、期末测试等,初、高中(三)年级都增加中(高)考模拟训练,体验临考气息。每课或每节试题二页,期中测试、期末测试每份试题四页。每份试题题量大,难易适度。每课时(节)测试时间为50分钟,赋分50分,单元测试、期中测试、期末测试,时间为90分钟,满分100分。平常课堂小考,课后自测均可使用,亦可用作课后练习作业。每份试题又分别设计了二个栏目:

课前提示 这部分内容没有长篇理论重复教材上的概念性知识,而用言简意赅的文字把每课时内容点拨出来,使学生在课堂或课后有的放矢,抓住重点。

课后检测 针对课时内容有限的特点,合理设计一份最佳考题。以中等题为主,命题遵循大纲范围,突出能力立意,重点考查知识主干。精选情境新、贴近生活、思维价值高的试题,既考查学生对课堂所学知识的理解,又考查学生的综合能力,使学生掌握知识点的内涵与迁移能力,学会举一反三,触类旁通。

与其他活页卷相比,本书具有三个特点:

题材新:重点突出,贴近生活,综合性强。

针对性:题量合理,梯度性强。

实用性:形式灵活,用时较少,收效大。教师可以利用课堂、课后、课前时间对学生进行测验,并能很好地掌握不同层次学生的学习能力,因材施教,优化教学结构。

由于时间仓促,本书难免有一些不足,请广大师生提出建议与意见,以使我们修订时进一步完善。

吉林人民出版社综合室

目 录

第一章 中国的疆域和行政区划	(1)
第一节 中国的疆域	(1)
第二节 中国的行政区划	(3)
单元测试	(5)
第二章 中国的人口和民族	(9)
第一节 中国的人口	(9)
第二节 中国的民族	(11)
单元测试	(13)
第三章 中国的地形	(17)
第一节 地形概况	(17)
第二节 主要山脉	(19)
第三节 主要地形区	(21)
第四节 地震和火山	(23)
单元测试	(25)
第四章 中国的天气和气候	(29)
第一节 收听天气预报	(29)
第二节 气温分布和温度带	(31)
第三节 降水和干湿地区	(33)
第四节 气候特征	(35)
第五节 寒潮、台风和水旱灾害	(37)
单元测试	(39)
第五章 中国的河流和湖泊	(43)
第一节 河流和湖泊概况	(43)
第二节 长 江	(45)
第三节 黄 河	(47)
单元测试	(49)
第六章 中国的自然资源	(53)
第一节 自然资源的总量和人均占有量	(53)
第二节 水资源和水能资源	(55)
第三节 土地资源	(57)
第四节 矿产资源	(59)
第五节 海洋资源	(61)
单元测试	(63)
期中测试	(67)
期末测试	(71)
参考答案	(75)

第一章 中国的疆域和行政区划

第一节 中国的疆域

班级_____ 姓名_____ 检测时间50分钟 满分50分 得分_____

课前提示

1. 从世界看中国。2. 我国的疆域。3. 我国濒临的海洋。4. 陆界和临国。

课后检测(总分50分)

一、填空题(23分,每空1分)

1. 从东西两半球看,中国位于_____半球,从南北两半球看,中国位于_____半球。
2. 从海陆位置看,中国位于_____洲,东部、_____洋西岸。
3. 我国领土南北跨越的纬度近_____度,大部分在_____带,小部分在_____带,没有_____带。只在_____地区,有终年冰雪带。
4. 我国领土所跨的经度,从西到东有_____多度,目前,我国各地都采用北京所在的_____区的区时,这就是“北京时间”。
5. 我国陆地面积达_____万平方千米,在世界各国中,仅次于_____、_____,居第_____位,差不多同整个_____洲面积相等。
6. 我国所濒临的海洋,从北到南依次分_____、黄海、_____、南海。
7. 我国的领海,是指从海岸基线向海上延伸到_____海里的海域。
8. 我国的陆上国界线长达_____多千米,陆上相邻的国家有_____个。我国大陆岸线长_____多千米,同我国隔海相望的国家有_____个。

二、选择题(14分,每小题1分)

1. 夏至日,我国白昼时间最短的地方是 ()
A. 漠河 B. 曾母暗沙 C. 帕米尔高原 D. 我国最东端
2. 在一幅中国地图上,量得我国领土东西端的图上距离为10厘米,南北端的图上距离为11厘米,那么,这幅中国地图的比例尺是 ()
A. 1:100,000,000 B. 1:20,000,000
C. 1:1,000,000,000 D. 图上1厘米代表实地距离500千米
3. 我国纬度位置最低的省级行政区是 ()
A. 台湾省 B. 广东省 C. 海南省 D. 云南省
4. “北回归线从东向西依次穿过我国省级行政区是 ()
A. 广东、广西、海南、云南 B. 台湾、广东、广西、云南
C. 台湾、福建、广东、海南、广西 D. 云南、广西、广东、福建、台湾
5. 下列省市中,直接濒临太平洋的是 ()
A. 台湾 B. 海南 C. 广东 D. 上海
6. 下列与我国隔海相望的国家中,纬度最低的是 ()
A. 韩国 B. 马来西亚 C. 菲律宾 D. 日本
7. 我国东部的陆上邻国是 ()
A. 俄罗斯 B. 越南 C. 朝鲜 D. 日本
8. 除中国外,位于太平洋西岸的亚洲国家是 ()
A. 朝鲜、韩国、越南、泰国 B. 韩国、老挝、越南、马来西亚

- C. 泰国、尼泊尔、锡金、不丹 D. 蒙古、英国、美国、朝鲜
9. 下列省级行政区中, 濒临黄海的是 ()
- A. 辽宁和河北 B. 上海和浙江 C. 天津和山东 D. 山东和江苏
10. 我国的陆上邻国中, 属于内陆国国家的有 ()
- A. 越南 B. 印度 C. 朝鲜 D. 哈萨克斯坦
11. 冬夏日, 我国白昼时间最短的地方是 ()
- A. 哈尔滨 B. 北京 C. 武汉 D. 广州
12. 我国最北端与最南端的距离约为 ()
- A. 5500 千米 B. 6600 千米 C. 4000 千米 D. 3000 千米
13. 根据世界时区的划分, 我国共跨 ()
- A. 6 个时区 B. 5 个时区 C. 7 个时区 D. 4 个时区
14. 我国沿海分布的岛屿, 自南向北排序正确的是 ()
- A. 舟山群岛、台湾岛、海南岛、南海诸岛 B. 台湾岛、海南岛、舟山群岛、南海诸岛
- C. 海南岛、舟山群岛、南海诸岛、台湾岛 D. 南海诸岛、海南岛、台湾岛、舟山群岛

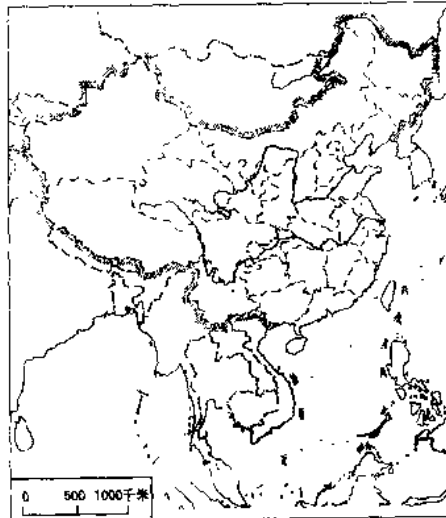
三、连线题(6分)

1. 将下列海域与其位置分别用直线连接起来。(2分)
- ①渤海 A 雷州半岛和海南岛之间
- ②琼州海峡 B 辽东半岛和山东半岛所环抱
2. 将我国领土的四端与其地点分别用直线连接起来。(4分)
- ①最东端 A 漠河以北的黑龙江主航道中心线上
- ②最西端 B 黑龙江与乌苏里江的主航道中心线汇合处
- ③最北端 C 曾母暗沙
- ④最南端 D 新疆帕米尔高原

四、识图题(7分)

读右图, 在图中适当位置填出同我国陆地相邻的国家和隔海相望国家的代号。

- ①朝鲜 ②俄罗斯 ③蒙古
- ④哈萨克斯坦
- ⑤吉尔吉斯斯坦
- ⑥塔吉克斯坦
- ⑦阿富汗
- ⑧巴基斯坦
- ⑨印度 ⑩尼泊尔
- ⑪锡金 ⑫不丹
- ⑬缅甸 ⑭老挝
- ⑮越南 ⑯韩国
- ⑰日本 ⑱菲律宾
- ⑲马来西亚
- ⑳文莱
- ㉑印度尼西亚



第二节 中国的行政区划

班级_____ 姓名_____ 检测时间50分钟 满分50分 得分_____

课前提示

1. 三级行政区。2. 省级行政区。3. 各省级行政单位的简称。

课后检测(总分50分)

一、填空题(15分,每空0.5分)

1. 我国的行政区域,基本分为_____,_____,_____三级。国家在必要时,还可设立_____。
2. _____、_____、_____都是民族自治地方。其中_____是介于省级同县级行政区之间的一级民族自治地方。
3. 我国共有_____个省级行政单位,其中_____个省,_____个自治区,_____个直辖市,和2个特别行政区。
4. _____年7月1日,我国政府对香港恢复行使主权,设立香港特别行政区。_____年12月20日,澳门回归祖国,并设立澳门特别行政区。
5. “两湖两广两河山”指代我国省级行政区,其中“湖”指_____,_____,“广”指_____,_____,“河”指_____,_____,“山”指_____。
6. 为了使用上的方便,各省级行政单位都有简称,简称的由来是,取用全名中的_____或_____来做简称;用本省的主要_____或_____来做简称,如湘(湖南省有湘江);用本省的_____做简称,如冀(河北省)。
7. 我国的首都简称_____,位于我国最西端的直辖市简称_____。
8. 由北向南,我国自治区的简称依次是_____,新、宁、_____,桂。

二、选择题(15分,每小题1分)

1. 我国纬度最高的省级行政单位是 ()
A. 新疆维吾尔自治区 B. 内蒙古自治区
C. 吉林省 D. 黑龙江省
2. 我国四个直辖市中,靠最东面一个是 ()
A. 渝 B. 京 C. 津 D. 沪
3. 下列各地中,无太阳直射的现象是 ()
A. 香港 B. 广州 C. 上海 D. 海口
4. 下列四组省区中,均有部分地区处于热带的是 ()
A. 台、闽、云、浙 B. 台、粤、桂、云 C. 粤、桂、琼、湘 D. 苏、桂、台、浙
5. 我国各省区中全部处于热带的是 ()
A. 台 B. 粤 C. 滇 D. 琼
6. 下列省级行政区中,有两个简称的是 ()
A. 湖南省 B. 四川省 C. 河北省 D. 江苏省
7. 我国不经过边缘海而直接濒临太平洋的省级行政单位是 ()
A. 上海市 B. 台湾省 C. 浙江省 D. 广东省
8. 我国跨经度范围最大的省、自治区是 ()
A. 广东省 B. 内蒙古自治区 C. 西藏自治区 D. 黑龙江省
9. 下列省区跨纬度范围最大的是 ()
A. 琼 B. 蜀 C. 甘 D. 秦
10. 同我国3个自治区相邻的省是 ()
A. 陕西省 B. 甘肃省 C. 四川省 D. 青海省
11. 我国纬度最低省(自治区)的简称是 ()
A. 黑 B. 内蒙古 C. 新 D. 琼
12. 与6个自治区、省相邻的省级行政单位是 ()

- A. 四川省、内蒙古自治区 B. 湖南省、甘肃省
 C. 甘肃省、河北省 D. 新疆维吾尔自治区、河南省
13. 与江西省相邻的省、自治区,按顺时针方向排列正确的是 ()
 A. 浙、闽、粤、湘、鄂、皖 B. 皖、浙、粤、桂、湘、鄂
 C. 浙、闽、粤、桂、湘、鄂 D. 皖、鄂、湘、粤、闽、浙
14. 下列省级行政单位中,属于用本省的主要河流名或山名做简称的是 ()
 A. 湘、赣、闽、皖 B. 黑、台、青、内蒙古 C. 冀、鲁、沪、琼 D. 吉、滇、陇、浙
15. 我国陆上相邻国家最多的省(区)是 ()
 A. 西藏 B. 内蒙古 C. 新疆 D. 云南

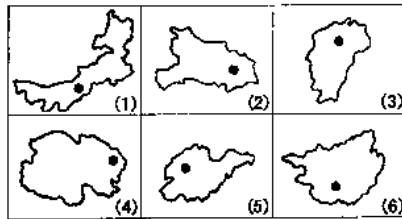
三、连线题(6分)

将下列各省名称与它的简称及省会名称用直线连接起来

- | | | |
|-------|----|-------|
| (1)海南 | ①赣 | a 石家庄 |
| (2)贵州 | ②粤 | b 海口 |
| (3)江西 | ③冀 | c 贵阳 |
| (4)广东 | ④吉 | d 长春 |
| (5)河北 | ⑤琼 | e 南昌 |
| (6)吉林 | ⑥黔 | f 广州 |

四、识图题(14分)

1. 读下图(各省区轮廓图),在表中分别填出它们的名称及行政中心名称。(6分)



图号	(1)	(2)	(3)	(4)	(5)	(6)
省、自治区						
行政中心						

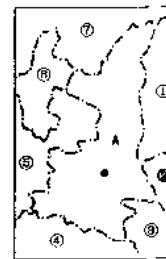
2. 读右图写出A省名称、行政中心及其邻省(自治区)的简称。(8分)

A省省名_____

行政中心_____

邻省(自治区)的简称:

- | | |
|--------|--------|
| ①_____ | ②_____ |
| ③_____ | ④_____ |
| ⑤_____ | ⑥_____ |
| ⑦_____ | |



单元测试

班级_____ 姓名_____ 检测时间90分钟 满分100分 得分_____

一、填空题(25分,每空0.5分)

1. 我国位于东半球的北半球,在亚洲的_____部,太平洋的_____岸。
2. 我国最北端在漠河以北黑龙江主航道的_____ ,最南端在北纬1°附近的_____。
3. 北回归线穿过我国的南部,我国绝大部分领土在_____带,一小部分在_____带。
4. 从纬度位置看,我国位于北纬_____度到北纬_____度之间。
5. 我国领土最东端在黑龙江和_____的主航道会合处,最西端在_____高原。
6. 我国领土面积约_____万平方千米,在世界各国中我国面积居第_____位。
7. 我国领土辽阔,南北相距约_____千米,东西相距约_____千米。
8. 我国陆上疆界长_____万多千米,共有_____个邻国。
9. 和我国西藏自治区相邻的国家,按自东向西的顺序为_____、印度、不丹、锡金和_____。
10. 中南半岛上和我国相邻的国家有_____、老挝和_____。
11. 同我国隔海相望的国家中,东南面和南面有菲律宾、_____、_____和印度尼西亚等国。
12. 我国新疆维吾尔自治区的邻国最多,自西南部起,按顺时针方向依次有印度、_____、阿富汗、塔吉克斯坦、_____、哈萨克斯坦、俄罗斯、蒙古等国。
13. 我国与一个国家相邻,纬度位置最高的省是_____ ,其相邻的国家是_____。
14. 我国的海岸线很长,光是大陆海岸线就有_____多千米。
15. 我国大陆海岸线北起_____江口,南到_____河口。
16. 我国海域广大,自北向南环绕大陆边缘的是渤海、_____、_____和南海。
17. 我国的内海有_____和_____。
18. 上海东临_____海,天津东临_____海。
19. 山东省临_____海和_____海。
20. 琼州海峡位于_____半岛和_____岛之间。
21. 北回归线穿过我国南部的_____省、广东省、广西壮族自治区和_____省。
22. 我国各省、市、区中,四周都临海的有_____和_____。
23. 我国临黄海的省有_____、山东和_____。
24. 我国省级行政单位,包括_____个省、_____个自治区、4个直辖市和2个特别行政区。
25. 我国的三大半岛是指辽东半岛、_____半岛和_____半岛。
26. 在我国的省级行政区中,岛屿最多的是_____省。

二、选择题(21分,每小题1分)

1. 我国在地球上的位置是 ()
A. 北半球、东半球 B. 北半球、西半球 C. 南半球、东半球 D. 南半球、西半球
2. 我国领土的最南端在 ()
A. 黑龙江省漠河以北黑龙江主航道的中心线
B. 黑龙江和乌苏里江主航道会合处

- C. 北纬4°附近的曾母暗沙
D. 新疆的帕米尔高原上
3. 关于我国的叙述, 正确的是 ()
A. 位于亚洲的东部, 太平洋的东岸
B. 现行的省级行政单位包括23个省, 4个自治区, 4个直辖市和2个特别行政区。
C. 与我国陆上相邻的国家有12个
D. 总面积960万平方千米, 是世界上最大的国家之一
4. 当乌苏里江畔的人们迎来曙光时, 新疆喀什的天空还是 ()
A. 烈日当空 B. 满天星斗 C. 天色微明 D. 一片晚霞
5. 从我国领土最东端到最西端, 所跨的经度和直线距离分别为 ()
A. 62° 5000千米 B. 60°以上 5500千米
C. 55° 5500千米 D. 50°以上 5000千米
6. 关于我国位置的叙述, 正确的是 ()
A. 北回归线穿越我国台、闽、粤、桂4省
B. 大部分位于东经度。
C. 大部分位于中纬度, 北部进入高纬度地区
D. 领土的最北端和最东端均位于黑龙江省境内
7. 现在我国陆上邻国有 ()
A. 13个 B. 14个 C. 15个 D. 16个
8. 同我国接壤的国家有 ()
A. 阿富汗 B. 柬埔寨 C. 孟加拉国 D. 泰国
9. 与我国云南省接壤的国家, 由东向西依次为 ()
A. 缅甸、印度、不丹 B. 孟加拉国、老挝、越南
C. 越南、老挝、缅甸 D. 缅甸、老挝、越南
10. 与我国省级行政区接壤最多的国家是 ()
A. 蒙古 B. 俄罗斯 C. 印度 D. 朝鲜
11. 在我国陆上邻国中, 与我国有不连续疆界的国家有 ()
A. 蒙古 B. 印度 C. 阿富汗 D. 巴基斯坦
12. 我国同5个国家接壤的省级行政区是 ()
A. 新疆维吾尔自治区 B. 内蒙古自治区 C. 西藏自治区 D. 云南省
13. 下列省(区)中, 邻国由多到少排列正确的是 ()
A. 藏、陇、滇、内蒙古 B. 新、滇、黑、内蒙古
C. 藏、滇、吉、桂 D. 新、辽、黑、滇
14. 我国陆上邻国最多的省(区)是 ()
A. 新疆、云南 B. 西藏、内蒙古 C. 广西、云南 D. 新疆、西藏
15. 和我国辽宁、吉林两省接壤的国家是 ()
A. 俄罗斯 B. 朝鲜 C. 蒙古 D. 韩国

16. 下列各省(区)中,既临海又与其他国家相邻的是 ()
- A. 粤 B. 桂 C. 鲁 D. 藏
17. 下列城市所在的省(区),临海的是 ()
- A. 杭州、武汉 B. 合肥、南宁 C. 沈阳、石家庄 D. 济南、郑州
18. 黄海沿线的省级行政单位有 ()
- A. 辽宁、河北、山东 B. 辽宁、山东、江苏 C. 山东、江苏、上海 D. 江苏、上海、浙江
19. 我国最大的群岛是 ()
- A. 庙岛群岛 B. 澎湖列岛 C. 舟山群岛 D. 南海诸岛
20. 我国下列自治区中,没有国界线的是 ()
- A. 宁 B. 桂 C. 藏 D. 新
21. 下列各省(区)中,与我国的3个自治区相邻的是 ()
- A. 青海 B. 云南 C. 陕西 D. 甘肃

三、连线题(23分)

1. 将下列各省名称与它的简称及省会名称用直线连接起来(10分)

- | | | |
|-------|----|-------|
| (1)海南 | ①赣 | a 石家庄 |
| (2)贵州 | ②粤 | b 海口 |
| (3)江西 | ③冀 | c 贵阳 |
| (4)广东 | ④琼 | d 南昌 |
| (5)河北 | ⑤黔 | e 广州 |

2. 将下列省市名称与其临海,用直线连接起来(5分)

- | | |
|-------|------|
| (1)江苏 | |
| (2)山东 | a 渤海 |
| (3)辽宁 | |
| (4)河北 | b 黄海 |
| (5)天津 | |

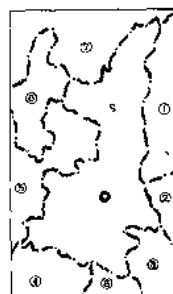
3. 将下列我国四至点与其位置及所在的省(区)用直线连接起来(8分)

- | | | |
|--------|--------------|-------|
| (1)最北端 | ①黑龙江与乌苏里江汇合处 | a 海南 |
| (2)最南端 | ②曾母暗沙 | b 黑龙江 |
| (3)最东端 | ③帕米尔高原 | c 新疆 |
| (4)最西端 | ④漠河以北 | |

四、识图题(21分)

1. 读右图,填出图中下列号码代表的省区名称:(8分)

- (1) _____ ; (2) _____ ;
- (3) _____ ; (4) _____ ;
- (5) _____ ; (6) _____ ;
- (7) _____ ; (8) _____ .



2. 读右图,完成下列各题:(13分)

(1)填出图中下列字母代表的我国陆上邻国名称:

称:

A. _____ B. _____

C. _____ D. _____

E. _____

(2)填出图中下列字母代表的我国隔海相望国家的名称:

家的名称:

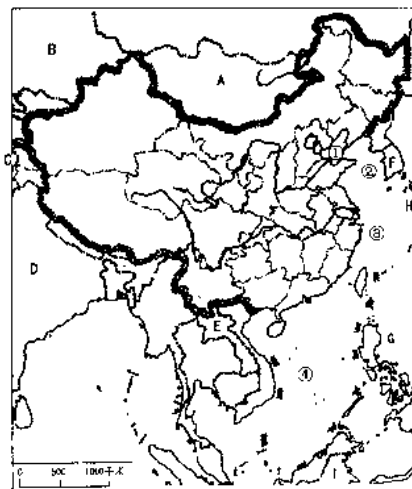
F. _____ H. _____

G. _____ I. _____

3. 填出右图中下列号码代表的我国临海名称:

① _____ ② _____

③ _____ ④ _____



五、简答题(10分)

举例说明我国省级行政单位简称的由来有哪几种?

第二章 中国的人口和民族

第一节 中国的人口

班级_____ 姓名_____ 检测时间50分钟 满分50分 得分_____

课前提示

1. 世界上人口最多的国家。2. 人口分布不平均。3. 农村人口比重大城镇人口比重小。4. 华侨与华人。5. 人口增长过快及带来的问题。6. 实行计划生育是基本国策

课后检测(总分50分)

一、填空题(13分,每空0.5分)

1. 据统计资料表明,2000年,我国总人口为_____亿,约占世界总数的_____。中国是世界上人口_____的国家。
2. 世界上,人口在五千万以上的国家,就被称为人口大国,而我国人口超过五千万的省就有_____个。
3. 2000年,中国平均人口密度为每平方千米_____人,是世界人口密度的_____倍多。
4. 中国人口分布_____,东部人口密度_____,特别是沿海各省的平原地区,每平方千米达_____人。西部人口密度_____,每平方千米在50人以下。
5. 中国人口分布大体可从黑龙江省的_____到云南省的_____划一条直线。此线东南部面积占全国总面积的_____,人口占全国总人口的_____。
6. 我国农村人口比重大,城镇人口比重小,1997年全国城镇人口约占全国总人口的_____。全国12亿多人口中,有_____亿居住在农村。
7. 在国外,约有_____多万华侨和华人分布在世界各地。他们为祖国的建设、为发展我国人民同各国人民的友好关系,作出了巨大的贡献。
8. 近年,我国每年约增加_____万~_____万人口,比欧洲的比利时,匈牙利等一个国家的人口数还多,我国人口的突出特点是_____。
9. 人口数量的增长要同_____的发展和_____,_____的条件相适应。少生是_____的关键,优生是_____的前提。

二、选择题(8分,每小题1分)

1. 据2000年统计,我国人口平均每平方千米为 ()
A. 120人 B. 140人 C. 134人 D. 150人
2. 据统计,江苏省人口6700万人,面积为10万多平方千米,其人口密度约为每平方千米 ()
A. 500人 B. 600人 C. 67人 D. 670人
3. 我国省级行政区中,人口密度最大的是 ()
A. 河南省 B. 江苏省 C. 四川省 D. 上海市
4. 我国沿海各省(区)中,以“侨乡”著称的是 ()
A. 广东、广西 B. 广东、福建 C. 浙江、福建 D. 广东、安徽
5. 有关我国人口分布的叙述,正确的是 ()
A. 我国人口密度是世界人口密度的3倍多 B. 我国人口总数多,但人口密度小
C. 我国人口分布均匀 D. 我国东部人口密度小,西部人口密度大
6. 我国每年净增人口数量很大的原因是 ()
A. 人口出生率太高 B. 我国人口基数大 C. 人口死亡率太低 D. 自然增长率高

7. 我国下列地区人口最稠密的是 ()

- A. 东北平原 B. 河套平原 C. 河西走廊 D. 珠江三角洲

8. 我国省级行政区中,人口密度最小的是 ()

- A. 重庆市 B. 广东省 C. 新疆维吾尔自治区 D. 浙江省

三、连线题(共10分)

1. 将下列国家与其人口数分别用直线连接起来(4分)

- | | |
|------|---------|
| ①美国 | a12.95亿 |
| ②中国 | b1.45亿 |
| ③加拿大 | c0.31亿 |
| ④俄罗斯 | d2.73亿 |

2. 将下列人口分布与其对应的行政区划进用直线连接起来(4分)

- | | |
|-----|------------------|
| ①西藏 | A 我国人口密度最大的省区 |
| ②山东 | B 我国人口密度最小的省区 |
| ③四川 | C 我国人口数量最多的民族自治区 |
| ④广西 | D 我国人口数量最多的省区 |

3. 将我国人口政策的基本内容和具体要求分别用直线连接起来(2分)

- | | |
|------------|-----------------|
| ①人口政策的基本内容 | A 晚婚、晚育、少生、优生 |
| ②人口政策的具体要求 | B 控制人口数量、提高人口素质 |

四、简答题(19分)

1. 我国对城市发展的政策是什么?(6分)

2. 我国东部比西部人口密度大,城镇人口多,原因是什么?(6分)

3. 为什么我国把实行计划生育作为一项基本国策?(7分)

第二节 中国的民族

班级_____ 姓名_____ 检测时间50分钟 满分50分 得分_____

课前提示

1. 统一的多民族的国家。2. 中国的民族政策。3. 各民族的语言文字。4. 尊重各民族的风俗习惯。

课后检测(总分50分)

一、填空题(13分,每空0.5分)

1. 我国是一个_____的_____的社会主义国有,由汉、蒙古、回、藏、维吾尔等_____个民族组成。
2. 在我国各民族中_____人口最多,约占全国总人口的_____,其他民族人口都较少,统称_____。
3. 我国少数民族中人口最多的是_____族,有_____多万人。
4. 我国各民族的地区分布状况是:汉族的分布遍及全国,主要集中在_____,和_____,在_____地区,汉族多与各少数民族杂居在一起。各少数民族主要分布在_____,_____和_____等边疆地区。
5. 中国的民族政策是各民族不论大小,_____;国家保障各少数民族的合法权利和利益,维护和发展各民族的_____,_____,_____关系;在各少数民族聚居的地方实行_____,设立自治机关,行使自治权。
6. 在我国,各民族都有使用和发展自己的语言文字的自由。_____和_____是我国普遍使用的语言文字。由于社会主义建设的需要,国家确定以_____作为现代汉民族的共同语言。
7. 我国各少数民族,除_____,_____通用汉语文外,都有自己的语言,其中有_____多个民族有自己的文字。
8. 我国宪法规定:各民族都有保持或者改革自己的_____的自由;中华人民共和国公民有_____自由。

二、选择题(11分,每小题1分)

1. 青海省的主要少数民族有 ()
A. 蒙古族、哈萨克族、朝鲜族
B. 藏族、蒙古族、回族
C. 回族、土家族、满族
D. 土家族、苗族、壮族
2. 我国的民族自治区中,临海的是 ()
A. 新疆维吾尔自治区
B. 广西壮族自治区
C. 内蒙古自治区
D. 宁夏回族自治区
3. 我国的少数民族,主要分布在 ()
A. 中部和东部
B. 东南、西北、东北边疆地区
C. 西南、西北和东北边疆地区
D. 东南、西南、西北边疆地区
4. 大多信仰伊斯兰教的民族是 ()
A. 维吾尔族和回族
B. 维吾尔族和蒙古族
C. 回族和藏族
D. 蒙古族和藏族
5. 我国民族最多的一个省 ()
A. 贵州省
B. 青海省
C. 云南省
D. 四川省
6. 关于我国人口与民族的叙述,正确的是 ()
A. 据1997年统计,我国人口密度每平方千米108人
B. 壮族人口在1800万以上

