

儿童进阶算术

学减法

(上)



上海画报出版社

PDF

学减法

(上)

儿童进阶算术



上海画报出版社

图书在版编目(CIP)数据

儿童进阶算术。学减法 / 多多编。- 上海: 上海画报出版社, 2000.11

ISBN 7-80530-645-1

I.儿 ... II.多 ... III.算术课 - 学前教育 - 教学参考资料 IV.G613.4

中国版本图书馆CIP数据核字(2000)第58257号

责任编辑: 张仲煜

技术编辑: 李 荀

儿童进阶算术

——学减法

上海画报出版社出版

(上海长乐路672弄33号)

新华书店上海发行所发行

上海财经大学印刷厂印刷

开本 787×1092 1/16


印张 4 印数 5501—11000

2000年11月第1版 2001年8月第2次印刷

ISBN 7-80530-645-1/J·646

定价: 8.50元(上、下册17元)

小鳄鱼在做算术题，
小朋友，
你也来一起学好吗？



2

-



=



-

1

=



3

-




=




-

1


=



小朋友，
你能算得出还剩下多少动物吗？





$$\begin{array}{r} 5 \\ - 1 \\ \hline \end{array}$$




$$\begin{array}{r} 4 \\ - 1 \\ \hline \end{array}$$



小朋友，请你数一数哪边多？多多少？



大象要坐等于4的船出海，小朋友，你知道是哪一条吗？



$$6-3=$$



$$9-4=$$



$$8-3=$$




$$7-2=$$



$$5-1=$$

兔子只有沿着正确的答案走，才能赶上乌龟，
小朋友，你能帮助它吗？



请小朋友和小乌龟一起做算术题。

$2-1=$

$3-1=$

$4-1=$

$5-1=$

$9-1=$

$8-1=$

$7-1=$

$6-1=$



$6-1=$

$7-1=$

$8-1=$

$9-1=$


$5-1=$

$4-1=$

$3-1=$

$2-1=$

小白象在做算术题，
小朋友，
你也来一起学好吗？




$$\boxed{3} - \boxed{2} = \boxed{}$$




$$\boxed{4} - \boxed{2} = \boxed{}$$

小朋友，
你能算得出还剩下
多少小动物吗？





$$\begin{array}{r} 5 \\ - 2 \\ \hline \end{array}$$



$$\begin{array}{r} 6 \\ - 2 \\ \hline \end{array}$$



小朋友，请你数一数哪边多？多多少？



小白兔到森林里采鲜果，只有得数等于1的鲜果才是没毒的。小朋友，你知道小白兔该采哪些鲜果吗？



$$3-3=$$



$$7-3=$$



$$6-5=$$




$$5-4=$$



$$8-1=$$

小企鹅只有沿着正确的答案走，才能找到海星，小朋友，你能帮助它吗？



请小朋友和小鸭子一起做算术题。

$3-2=$

$10-2=$

$4-2=$

$9-2=$

$5-2=$

$8-2=$

$6-2=$

$7-2=$



$7-2=$

$6-2=$

$8-2=$

$5-2=$

$9-2=$

$4-2=$

$10-2=$

$3-2=$

大熊猫在做算术题，
小朋友，
你也来一起学好吗？



$$\boxed{4} - \boxed{3} = \boxed{}$$




$$\boxed{5} - \boxed{3} = \boxed{}$$

小朋友，
你能算得出还剩下
多少小动物吗？



$$\begin{array}{r} 7 \\ - 3 \\ \hline \end{array}$$



$$\begin{array}{r} 6 \\ - 3 \\ \hline \end{array}$$