

儿童进阶算术

学加送

(上)



上海画报出版社

学加法

(上)

儿童进阶算术



上海画报出版社

图书在版编目(CIP)数据

儿童进阶算术。学加法 / 多多编。—上海: 上海画报出版社, 2000.11
ISBN 7-80530-644-3

I.儿 ... II.多 ... III.算术课—学前教育—教学参考资料 IV.G613.4

中国版本图书馆CIP数据核字(2000)第58258号

责任编辑: 张仲煜

技术编辑: 李 苒

儿童进阶算术

——学加法

上海画报出版社出版

(上海长乐路672弄33号)

新华书店上海发行所发行

上海财经大学印刷厂印刷

开本 787×1092 1/16

印张 4 印数 5501—11000


2000年11月第1版 2001年8月第2次印刷

ISBN 7-80530-644-3/J·645

定价: 8.50元(上、下册 17元)



小骆驼在做算术题，小朋友，
你也来一起学好吗？



$$2 + 1 = \square$$




$$1 + 1 = \square$$




MMEG/05

小朋友，你能算得出这里有多少小动物吗？








$$\begin{array}{r} 4 \\ + 1 \\ \hline \end{array}$$




$$\begin{array}{r} 3 \\ + 1 \\ \hline \end{array}$$





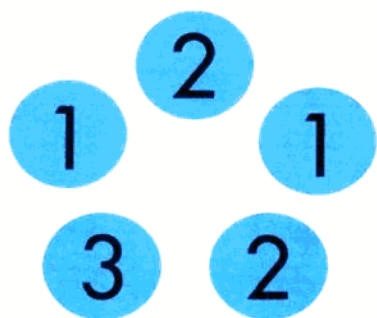
小企鹅要坐得数等于5的汽车回家，小朋友，你能帮助它吗？



小白兔要到姥姥家去玩，妈妈告诉它：沿着一条算式全等于5的路走，就能到姥姥家了。小朋友，你能告诉小白兔该走哪条路吗？



小牛和小羊在玩凑9的游戏，每组圆圈上的数字合起来是9。小朋友，你也来试一试好吗？





请小朋友和小鹿一起做算术题。

$1+1=$

$2+1=$

$3+1=$

$4+1=$

$9+1=$

$8+1=$

$7+1=$

$6+1=$



$5+1=$

$6+1=$

$7+1=$

$8+1=$

$5+1=$


$4+1=$

$3+1=$

$2+1=$



小青蛙在做算术题，小朋友，
你也来一起学好吗？





$$2 + 3 =$$



$$2 + 2 =$$


小朋友,你能算得出这里
有多少小动物吗?

$$\begin{array}{r} 4 \\ + 2 \\ \hline \end{array}$$




$$\begin{array}{r} 5 \\ + 2 \\ \hline \end{array}$$


小猴子要找得数等于6的香蕉，小朋友，你能帮助它吗？



大公鸡想去找小猫玩，可是，面前有条小河，它必须站在算式等于6的石头上，才能越过小河。小朋友，你能告诉大公鸡该怎么走吗？



1个盒子里可以装5支铅笔，请小朋友帮小螃蟹数一数，图上所有的铅笔可以装满几个盒子。





请小朋友和小青蛙一起做算术题。

$1+2=$

$2+2=$

$3+2=$

$4+2=$

$8+2=$

$7+2=$

$6+2=$

$5+2=$



$5+2=$

$6+2=$

$7+2=$


$8+2=$

$4+2=$

$3+2=$

$2+2=$

$1+2=$



小白象在做算术题，小朋友，你也来一起学好吗？



+



=



+



=



小朋友，你能算得出这里有多少小动物吗？



$$\begin{array}{r} 3 \\ + 3 \\ \hline \end{array}$$



$$\begin{array}{r} 4 \\ + 3 \\ \hline \end{array}$$