


经全国中小学教材审定委员会 2002 年初审通过
义务教育课程标准实验教科书

shu xue 数 学

二年级（下册）



江苏教育出版社

《中教育是》

义务教育课程标准实验教科书



数 学

G624.5/10

No. **4** 二年级（下册）

班级 _____

姓名 _____

江苏教育出版社

书 名 义务教育课程标准实验教科书
数学 二年级(下册)
主 编 孙丽谷 王 林
责任编辑 眭双祥 徐正康
出版发行 江苏教育出版社
地 址 南京市马家街 31 号(邮编 210009)
网 址 <http://www.1088.com.cn>
经 销 江苏省新华发行集团有限公司
照 排 南京山石卡通艺术公司
刷 印 盐城市印刷厂(邮编 224001)
厂 址 盐城市纯化路 29 号
电 话 0515 - 8322277
开 本 1000 × 1440 毫米 1/32
印 张 3.5
字 数 50 000
版 次 2002 年 12 月第 1 版
2002 年 12 月第 1 次印刷
书 号 ISBN 7 - 5343 - 4895 - 1/G·4590
定 价 5.18 元
盗版举报 025 - 3204538

苏教版图书若有印装错误可向承印厂调换
邮购免收邮费,提供盗版线索者给予重奖



顾 问 周玉仁 郑君威

主 编 孙丽谷 王 林

副主编 凌国伟 陈春圣

编 写 匡金龙 李 新 侯正海

蒋康华 蔡宏圣

主 审 盛大启

副主审 沈重予 李继海

审 稿 安淑华 刘仍轩 杨淑萍

周仲武 骆祖瑶 黄 昆

曹 平

责任编辑 眭双祥 徐正康



一	有余数的除法	1
●	我们去植树	8
二	观察物体	10
三	认数	16
四	分米和毫米	33
五	加法	38
六	确定位置	49
●	测定方向	56





七 减法 58

八 认识角 73

九 乘法 81

● 游览美丽的海滨 94

十 统计 96

● 你能跳多远 100

十一 期末复习 102



一 有余数的除法



把 10 枝铅笔分给几个小朋友，每人分得同样多，可以怎样分？在小组里分一分，说一说。

每人分 3 枝，会怎么样？每人分 4 枝、5 枝、6 枝呢？



每人分 2 枝，可以分给 5 人。

你能把分的不同情况记录下来吗？



每人分几枝	分给几人	还剩几枝
2	5	—
3		
4		
5		
6		

10 枝铅笔，每人分 3 枝，可以分给 (3) 人，还剩 (1) 枝。

写成除法算式是： $10 \div 3 = 3$ (人) $\cdots\cdots 1$ (枝)

⋮
余数

$10 \div 3 = 3 \cdots\cdots 1$ 读作“10 除以 3 等于 3 余 1”。



试一试

你能把分铅笔有剩余的其他情况，用除法算式表示出来吗？



$$10 \div 4 = \square (\text{人}) \cdots \cdots \square (\text{枝})$$

$$10 \div 6 = \square (\text{人}) \cdots \cdots \square (\text{枝})$$



想想做做

1. 先摆一摆，再填空。

(1) 8个 \bigcirc ，每3个一份，分了()份，还剩()个。
 $8 \div 3 = \square \cdots \cdots \square$

(2) 11个 \blacktriangle ，平均分成2份，每份()个，还剩()个。
 $11 \div 2 = \square \cdots \cdots \square$

2.



(1) 有14朵花，每个花瓶里插()朵，插了()瓶，还剩()朵。

$$14 \div \square = \square (\text{瓶}) \cdots \cdots \square (\text{朵})$$

(2) 有14朵花，平均插在()个花瓶里，每个花瓶里插()朵，还剩()朵。

$$14 \div \square = \square (\text{朵}) \cdots \cdots \square (\text{朵})$$

3. 说出每道算式中的商和余数各是多少，再读一读。

$$17 \div 3 = 5 \cdots \cdots 2$$

$$25 \div 7 = 3 \cdots \cdots 4$$



7个桃，每盘放3个，放了（ ）盘，还剩（ ）个。



$$7 \div 3 = \square (\text{盘}) \cdots \cdots \square (\text{个})$$

$$\begin{array}{r} 2 \\ 3 \overline{) 7} \end{array}$$

$$\underline{6}$$

1 $\cdots \cdots$ 余数

你是怎样想到商2的？



试一试



18个

平均每人分几个，
还剩几个？



$$18 \div 5 = \square (\text{个}) \cdots \cdots \square (\text{个})$$

$$\begin{array}{r} \square \\ 5 \overline{) 18} \\ \square \square \\ \hline \square \end{array}$$



比较每道题里余数和除数的大小，你发现了什么？



想想做做

1. 先摆一摆，再计算。

9根 / ，每2根一份，
分了 () 份，还剩
() 根。

$$9 \div 2 = \square \cdots \cdots \square$$

$$2 \overline{) 9}$$

把11根 / 平均分成
4份，每份有 () 根，
还剩 () 根。

$$11 \div 4 = \square \cdots \cdots \square$$

$$4 \overline{) 11}$$

2.

$$2 \overline{) 4}$$

$$4 \overline{) 16}$$

$$3 \overline{) 24}$$

$$5 \overline{) 30}$$


$$2 \overline{) 5}$$

$$4 \overline{) 18}$$

$$3 \overline{) 23}$$

$$5 \overline{) 28}$$

3.



这盒纽扣可以钉多少件
衣服，还剩多少个？

$$30 \div \square = \square \text{ (件)} \cdots \cdots \square \text{ (个)}$$



4.



分给8个班级。

平均每班分多少
把，还剩几把？


$$25 \div \square = \square \text{ (把)} \cdots \cdots \square \text{ (把)}$$





练习一

1. 看图填算式。



$$9 \div 4 = \square (\text{盘}) \cdots \cdots \square (\text{个})$$

$$9 \div 2 = \square (\text{个}) \cdots \cdots \square (\text{个})$$



$$20 \div 3 = \square (\text{个}) \cdots \cdots \square (\text{个})$$

$$20 \div 6 = \square (\text{束}) \cdots \cdots \square (\text{个})$$

2. 计算下面各题。

$$2 \overline{) 11}$$

$$4 \overline{) 29}$$

$$3 \overline{) 14}$$

$$5 \overline{) 34}$$

3.



下面的计算对吗？把不对的改正过来。

$$\begin{array}{r} 7 \\ 5 \overline{) 37} \\ \underline{35} \\ 2 \end{array}$$

$$\begin{array}{r} 4 \\ 5 \overline{) 26} \\ \underline{20} \\ 6 \end{array}$$

$$\begin{array}{r} 6 \\ 3 \overline{) 14} \\ \underline{18} \\ 4 \end{array}$$

$$\begin{array}{r} 6 \\ 4 \overline{) 28} \\ \underline{24} \\ 4 \end{array}$$

4. 用竖式计算。

$13 \div 2$

$25 \div 4$

$26 \div 3$

$32 \div 5$


5.

每5米剪成一段。

可以剪成这样的几段，还剩几米？



6.



$57 \div 8$

$50 \div 7$

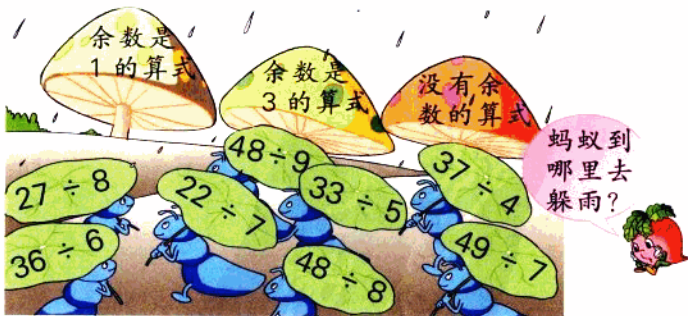
$64 \div 8$

$41 \div 6$

$72 \div 9$

$46 \div 9$

8.




9. $\square \div \square = \square \cdots 5$

你知道除数最小应是几吗?



10.



30本

平均分给4个同学，每人分几本，还剩几本?



可以买几枝，还剩多少钱?




每枝3角



做一个灯笼用6张纸。50张纸最多能做多少个?



每次运8箱。

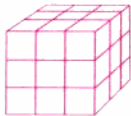


20箱

要运多少次?



11.



这是用27个搭成的。

如果用这些搭，最多可以搭多少个?



12. $\square \div \square = 4 \cdots 1$

你能说出哪些不同的算式?





我们班领了
4捆树苗，
每捆8棵。

我们班准备
每7人一组，
每组栽6棵。

二班
42人

一班
44人

三班
45人

我们班准备把
树苗栽成5行，
每行栽6棵。



你会把每班植树的棵数填入表中吗？

班 级	一班	二班	三班
植树棵数			

把树苗栽成5行，
平均每行多少棵，
还剩多少棵？



如果每行栽7棵，
最多能栽几行？
还剩几棵？



每行栽的棵数
与行数相同，
每行栽几棵？


还可以栽成
几行，每行
栽几棵？



你还能提出哪些数学问题？




二 观察物体



你能指出图书柜的正面、侧面和上面吗？



下面两幅图分别是谁看到的？
各看到了哪几个面？



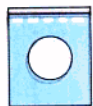


起起做做

1. 你能说出正方体和长方体的正面、侧面和上面各是什么颜色吗？



2. 你能指出洗衣机和冰箱的正面、侧面和上面吗？



3. 右面的图分别是谁看到的？连一连。

