

直击上海公务员考试系列

2010

王君 主编

格致出版社 上海人民出版社

2010

行政职业能力 倾向测试

王君 著

资深命题官 ····

全新修订 ····

权威解读 ····

全真尽览 ····

精准预测 ····

直击上海公务员考试系列

2010

王君 主编

格致出版社  上海人民出版社

行政职业能力 倾向测试

王 君 著

图书在版编目(CIP)数据

行政职业能力倾向测试/王君著. —上海:格致出版社;
上海人民出版社,2009.8

(直击上海公务员考试系列)

ISBN 978-7-5432-1642-6

I. 行… II. 王… III. ①公务员-招聘-考试-中国-
自学参考资料②行政管理-能力倾向测验-中国-自学
参考资料 IV. D630.3

中国版本图书馆CIP数据核字(2009)第123125号

责任编辑 罗 康

美术编辑 路 静

直击上海公务员考试系列
行政职业能力倾向测试
王 君 著

出 版 世纪出版集团 格致出版社
www.ewen.cc www.hibooks.cn
上海人民出版社
(200001 上海福建中路193号24层)



编辑部热线 021-63914988

市场部热线 021-63914081

发 行 世纪出版集团发行中心
印 刷 上海市印刷七厂有限公司
开 本 787×1092 毫米 1/16
印 张 33.5
插 页 1
字 数 884,000
版 次 2009年8月第1版
印 次 2009年8月第1次印刷
ISBN 978-7-5432-1642-6/D·24
定 价 48.00元

2010 版(第 4 版)说明

使用建议:

- 复习时:书——培训——博客三位一体,互补互促,效果更佳
- 读书时:水平测试,明知强弱——系统学习,扬长补短——模拟强化,巩固加深

“直击上海公考”系列用书——第一品牌,帮您梦圆

近年,公务员考试竞争日益加剧,平均录取比例已近百比一。这无论是对考生还是对命题人都提出了更高要求。特别是命题官,一方面,要通过设计的试题有针对性地了解考生的实力和水平;另一方面,更为重要的是要通过一套试卷把政府需要的真正优秀的人才选出来。对考生来讲,没人不希望考出好成绩。

但很遗憾,据笔者掌握的情况,考生很少对考试有正确的认识和应有的准备。不少考生把考公务员看得太渺茫,只是去碰碰运气;也有不少考生受各种虚假信息的误导,准备的方向严重偏差,该学的没学,该掌握的没掌握,其根本原因在于考生直到考前都没能掌握公务员考试的特点和要求,更没能把握住当年的命题方向,总结起来就是没把握住考试的门道、学识和技巧。

要解决这一问题,不外乎两条途径:一是买好书读;二是如何能接受一些质量上乘的辅导和帮助。只可惜,许多考生把大量的准备花在一般知识的了解上,没上升到能力提高、理念更新上;辅导培训也只是掌握了一点所谓的技巧,妄想以技巧来取胜。

为了能帮助考生更好地准备上海公务员考试,从 2006 年笔者开始编写出版“直击上海公务员考试”系列教材以来,每年都根据当年形势对“直击公考”系列图书进行大幅度修订,以满足考生当年考试复习之需要。在修改过程中,笔者力求做到道、学、技的有机融合。正因为此,才促成“直击公考”的高知名度和上佳口碑,成为上海公考的第一品牌。

作为国内至今唯一真正由命题官编写的公考用书,品质乃生命。为力求臻于完美,这套 2010 版上海公务员考试用书的撰写和修改突出了三大变化:

一是行测内容丰富,难度加大。特别是“常识运用部分”,鉴于此部分与中央公考有本质差异,特别加大了此部分内容的更新力度,新编和从题库中抽取大量全新的中高难度的高质量题目入书。涉及行政复议法、行政处罚法、行政诉讼法、党的十七届三中全会、学习实践科学发展观活动、2010 年上海世博会等内容。

二是申论加大重大政策与时政内容的梳理和分析,加大对策和作文的实例欣赏。涉及十七届三中全会、学习实践科学发展观活动、纪念改革开放 30 周年、2008 年中央经济工作会议、全球金融危机、2009 年中央和上海政府工作报告、六个“为什么”、突发事件应对、行政问责、城管执法、基本公共服务均等化、老龄化问题、促就业、经适房建设等内容。

三是专业部分指导吴涛博士完成《综合管理》的编写。上海公务员考试笔试部分除行测和申

论外,还有六门专业课(可选其中一至六门)。应考生要求,从今年开始,笔者将陆续组织专家,逐步推出高水平的专业辅导用书;如时间允许,笔者将撰写全真面试模拟用书,以为考生应试之用。

本版专门针对 2010 年度上海公务员考试,同时适用于 2010 年度中央公务员考试、上海军转考试和事业单位招聘人员考试。

本修订版丛书的出版,得益于上海世纪出版股份有限公司格致出版社社长何元龙先生及格致出版社各位老师的大力支持和帮助,得益于读者们提供的大量宝贵意见和建议,在此深表感谢!

相信本书将带给您更多新惊喜!如有不足之处,敬请批评指正!

王 君

中国浦东干部学院教学研究部

上海市前程路 99 号,201204

E-mail: wang_jun1221@yahoo.com.cn

2009 年 7 月于上海

一、“选词填空”的命题思路与解题技巧	99
(一) 命题思路	99
(二) 解题技巧	102
二、“语句表达”的命题思路与解题技巧	121
(一) 语句类型	121
(二) 常见的语病以及纠正的规律	121
(三) 常见的歧义及解题方法	126
三、“阅读理解”的命题思路和解答题技巧	127
(一) 命题思路	127
(二) 解题技巧	134
第三节 实战考场	141
一、选词填空	141
二、语句表达	144
三、阅读理解	148
参考答案	162

第四章 逻辑推理能力 163

第一节 上海卷与全国卷的异同	164
第二节 考试要点、命题思路与解题技巧	182
一、“程序推理”的命题思路与解题技巧	182
(一) 命题思路	182
(二) 解题技巧	184
二、“图形推理”的命题思路与解题技巧	187
(一) 类比题的命题思路与解题技巧	191
(二) 其他类型题目的命题思路与解题技巧	204
三、“分析推理”的命题思路与解题技巧	210
(一) 语义分析题的命题思路与解题技巧	210
(二) 演绎推理题的命题思路与解题技巧	212
(三) 归纳类比题的命题思路与解题技巧	217
(四) 批判分析题的命题思路与解题技巧	219
四、“定义判断”的命题思路与解题技巧	223
(一) 命题思路	223
(二) 解题技巧	225
五、“机械推理”的命题思路与解题技巧	235
六、“类比推理”的命题思路与解题技巧	238

(五) 我国现行宪法的主要内容	324
二、宪法专项训练 75 题及参考答案	330
第五节 公务员法重要考点及专项训练	340
一、重要考点	340
二、公务员法专项训练 100 题	354
第六节 行政法学重要考点及专项训练	368
一、重要考点	368
(一) 行政法概述	368
(二) 行政立法	371
(三) 行政处罚	371
(四) 行政强制	372
(五) 行政征收	372
(六) 行政补偿	373
(七) 行政裁决	373
(八) 行政指导	374
(九) 行政许可	374
(十) 行政复议	378
(十一) 行政诉讼	382
(十二) 行政赔偿	386
二、部分行政法规专项训练	405
(一) 行政处罚法专项训练 100 题	405
(二) 行政复议法专项训练 100 题	419
(三) 行政诉讼法专项训练 100 题	433
三、行政法规综合训练	446
(一) 行政法规综合训练一	446
(二) 行政法规综合训练二	457
第七节 公文重要考点及专项训练	467
一、重要考点	467
(一) 公文的含义	467
(二) 公文的特点	467
(三) 公文的作用	468
(四) 公文的分类	468
(五) 公文的文种及其适用范围	468
(六) 公文的行文规则	470
(七) 公文的格式	471

(八) 公文的用纸格式	475
(九) 公文的印装格式	475
(十) 公文的稿本	475
(十一) 收文处理的一般过程	476
(十二) 发文处理程序与方法	476
(十三) 公文销毁的方式和范围	477
二、公文专项训练 70 题及参考答案	487
第八节 人文、科技常识重要考点及专项训练	495
一、重要考点	495
二、人文、科技常识专项训练 100 题及参考答案	495
第九节 政治与时事重要考点及专项训练	506
一、重要考点	506
(一) 党的十七大报告	506
(二) 其他内容	509
二、专项训练	509
(一) 党的十七大报告专项训练 40 题及参考答案	509
(二) 十七届三中全会专题训练 50 题及参考答案	514
(三) 学习实践科学发展观活动专题训练 5 题及参考答案	521
(四) 2010 上海世博会专题训练 20 题及参考答案	523
(五) 其他内容专项训练及参考答案	524

2010年度上海公务员考试

《行政职业能力倾向测试》水平测试

(满分:100分,时限:120分钟)

第一部分 数理能力

此部分包括三种类型的题目,共25题。

一、数字推理(1~5题):给你一个数列,但其中缺少一项,要求您仔细研究数列规律,然后从四个选项选出最符合规律的一项来填补空缺项。

例题:1, 3, 5, 7, 9, ()

A. 7

B. 64

C. 11

D. 72

解答:正确答案是11。原数列是一个等差数列,公差为2,故应选C。

请开始答题:

- $\frac{1-\sqrt{5}}{2}, \frac{1+\sqrt{5}}{2}, 1-\sqrt{2}, 1+\sqrt{2}, (), \frac{3+\sqrt{13}}{2}$
A. $\frac{1}{\sqrt{13}-3}$ B. $\frac{2}{3+\sqrt{13}}$ C. $\frac{-2}{3+\sqrt{13}}$ D. $\frac{1}{3+\sqrt{13}}$
- 5, 5, 14, 38, 87, ()
A. 167 B. 168 C. 169 D. 170
- 8, 15, 39, 65, 94, 128, 170, ()
A. 180 B. 210 C. 225 D. 256
- 100, 20, 2, $\frac{2}{15}, \frac{1}{150}, ()$
A. $\frac{1}{3750}$ B. $\frac{1}{225}$ C. 3 D. $\frac{1}{500}$
- 69 124, 91 246, 12 469, 24 691, ()

A. 46 912

B. 96 421

C. 21 496

D. 49 621

二、数学应用(6~10题):在这部分试题中,每道试题呈现一段表述数字关系的文字,要求你迅速、准确地计算出答案。你可以在草稿纸上运算。

例题:甲、乙两地相距 42 公里,A、B 两人分别同时从甲乙两地步行出发,A 的步行速度为 3 公里/小时,B 的步行速度为 4 公里/小时,问 A、B 步行几小时后相遇?()

A. 3

B. 4

C. 5

D. 6

解答:正确答案为 D 只要把 A、B 两人的步行速度相加,然后被甲、乙两地间距离相除即可得出答案。

请开始答题:

6. 周长为 400 米的圆形跑道上,有相距 100 米的 A、B 两点,甲、乙两人分别从 A、B 两点同时相背而跑,两人相遇后,乙即转身与甲同向而跑,当甲跑到 A 时,乙恰跑到 B。如果以后甲、乙跑的速度和方向都不变,那么追上乙时,甲共跑了多少米(从出发时算起)? ()

A. 900

B. 1 200

C. 800

D. 1 000

7. 有四名棋手,每两名选手都要比赛一局,规则规定胜一局得 2 分,平一局得 1 分,负一局得 0 分。比赛结果,没有人全胜,并且各人的总分都不相同,那么至少有多少局平局? ()

A. 3

B. 1

C. 2

D. 4


8. 右图是一个 4×4 的大方格(由 16 个 1×1 的小方格组成),请问其中共有多少个正方形? ()

A. 30

B. 29

C. 31

D. 28



9. 一包泡泡糖和一袋香肠 10 元,一盒巧克力和一瓶蜂蜜需要 19 元,一瓶蜂蜜和一包泡泡糖 13 元,一袋香肠比一盒巧克力贵 1.5 元,这四样商品中最贵的是什么? ()

A. 泡泡糖

B. 巧克力

C. 香肠

D. 蜂蜜

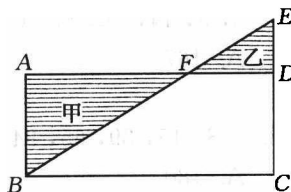
10. 如右图,长方形的长为 12 厘米,宽为 5 厘米,阴影部分甲的面积比乙的面积大 15 平方厘米,那么,ED 的长是()

A. 2.8 厘米

B. 2.5 厘米

C. 3.4 厘米

D. 3.5 厘米



三、资料分析(第 11~25 题):本部分考查报考人员对文字资料和图表资料的综合理解和分析能力。请根据资料提供的信息,找出最合适的答案填在答题卡上。

例题:

根据下表,回答 1~2 题:博物馆四个入口处自动计数器的读数见下表:

自动计数器在不同时间的读数(人数)					
入口(时间)	7:00	8:00	9:00	10:00	11:00
1	7 111	7 905	8 342	8 451	8 485
2	8 432	9 013	9 152	9 237	9 306
3	5 555	5 921	5 989	6 143	6 233
4	954	1 063	1 121	1 242	1 299

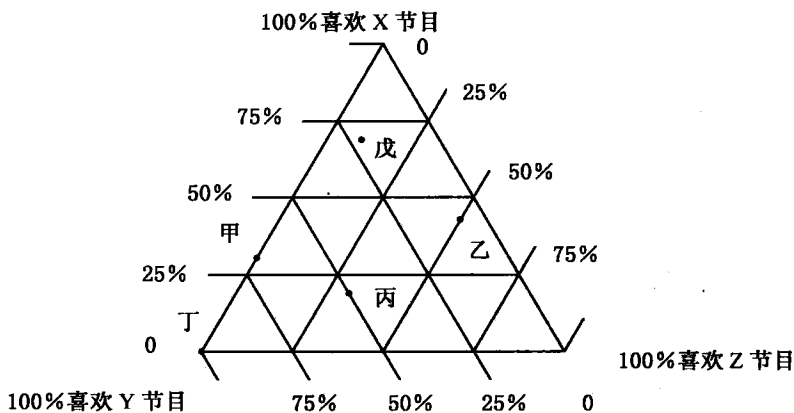
- 从早上 7:00 到 11:00 通过入口 1 进入博物馆的参观人数是()人。
A. 580 B. 94 C. 1 374 D. 1 594
- 在早上 7:00 到 8:00 之间,通过人数最多的入口是()。
A. 1 B. 2 C. 3 D. 4

解答:题 1 应为 $8\,485 - 7\,111 = 1\,374$, 答案是 C; 题 2 比较两数之间的差, 差值最大的是入口 1 的两个数, 故答案是 A。

请开始答题:

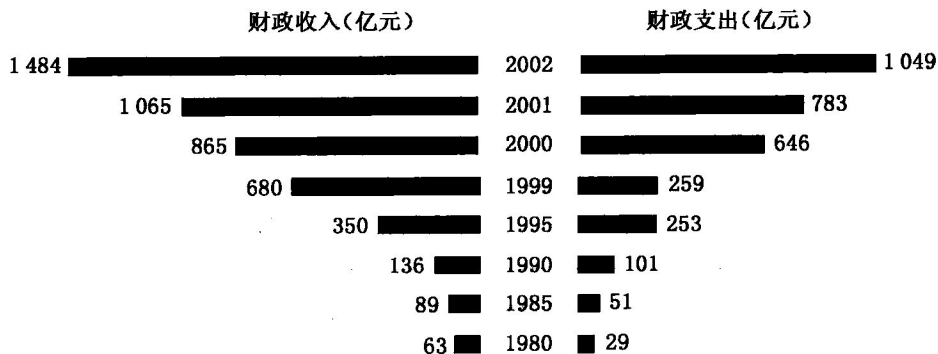
(1) 根据下表回答第 11、12 题:

下面的三角形表示甲、乙、丙、丁、戊五个城市的中学生对 X、Y、Z 三个电视节目的喜欢情况调查结果。如甲城喜欢 X 节目的占 30%, 喜欢 Y 节目的占 70%, 无人喜欢 Z 节目; 而丙城 20% 喜欢 X 节目, 50% 喜欢 Y 节目, 30% 喜欢 Z 节目。

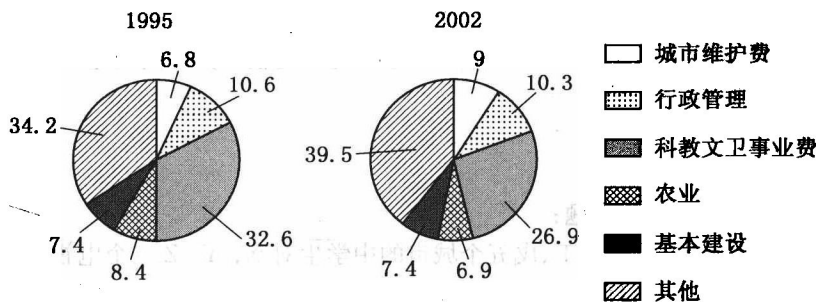


- 戊城中学生最喜欢的节目是()
A. X B. Y C. Z D. 不能判断
- Z 节目在丙城受欢迎的程度要达到 X 节目在戊城的水平, 需增加的百分比例是()
A. 50% B. -20%
C. 40% D. -30%

(2) 根据下图所提供的信息回答 13~14 题:



财政支出构成(%)



江苏财政收支情况图

13. 2002 年江苏省用于城市维护的财政支出金额比 1995 年增加了百分之几? ()
- A. 2.2 B. 448.77 C. 2.6 D. 432.16
14. 财政支出与财政收入之比最小的是哪一年? ()
- A. 1980 B. 1985 C. 1999 D. 2002

(3) 根据下文资料,回答第 15~17 题:

美国房地产贷款利率最近再次下调,30 年期利率从 5.94% 下降至 5.34%,15 年期利率从 5.94% 下降至 5.76%,1 年期的调整利率从 4.50% 下降至 4.31%,为 1994 年以来最低。1994 年 2 月 25 日的 1 年期调整利率为 4.25%。2001 年,30 年期的利率为 7.03%,15 年期为 6.58%,1 年期的调整利率为 5.72%。房地产贷款利率的下调促使房屋销售市场的活跃,今年上半年全美出售新房屋总数为 101 万单元,出售房屋总数为 507 万个单元,上升 11.7%。

15. 最近一次美国房地产贷款利率下调,1 年期的调整利率下降了()
- A. 0.19% B. 4.25% C. 0.18% D. 4.31%
16. 2001 年到现在,美国房地产贷款利率下调幅度,30 年期比 15 年期()
- A. 少 0.42% B. 多 0.87% C. 相等 D. 多 0.24%

17. 1994 年到现在,美国房地产贷款利率 1 年期调整利率最低的是在()
- A. 1994 年 B. 1995 年 C. 2001 年 D. 2002 年

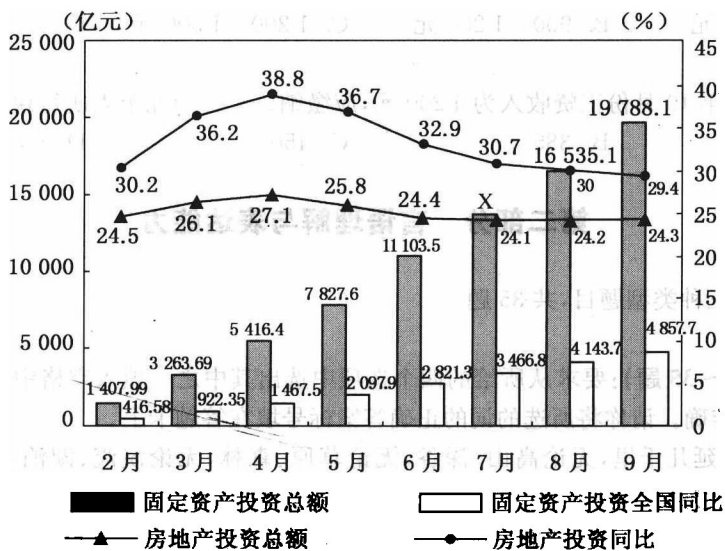
(4) 根据下表回答 18~20 题:

以下是某厂销售额统计表(单位:万元),分析该表,试回答以下的问题:

年份 \ 季度	第一季度	第二季度	第三季度	第四季度
1999	242	107	336	587
2000	252	170	480	886
2001	290	201	570	1 072
2002	399	240	577	996

18. 该厂销售情况最好的年份是()
- A. 1999 年 B. 2000 年 C. 2001 年 D. 2002 年
19. 比较 2002 年相对于 1999 年的销售额,同比增幅最大的是()
- A. 第一季度 B. 第二季度 C. 第三季度 D. 第四季度
20. 该厂生产的产品最可能是()
- A. 酱油 B. 羽绒服 C. 冰淇淋 D. 家具

(5) 根据下图所提供的信息回答 21~23 题:



2002 年全国固定资产投资月度统计图

注:图中的数据为截至当月底的数据,如:由上图可知 2002 年截至 6 月份,我国房地产投资总额为 2 821.3 亿元。

21. 与上述图表相对应,现在如果有一张 2001 年的全国固定资产投资月度统计图,那么可知截止 2001 年 8 月底,全国完成房地产投资总额约为()
- A. 2 864.5 亿元 B. 2 996.7 亿元 C. 3 009.1 亿元 D. 3 187.5 亿元
22. 已知 2002 年 7 月份,我国的固定资产投资额为 2 690.2 亿元,则图表中“X”的值为()
- A. 14 086.9 B. 13 218.4 C. 14 021.5 D. 13 793.7
23. 根据上述资料,下列说法不正确的是()
- A. 2002 年 9 月份,我国完成房地产投资 719 亿元
- B. 2002 年 4 月份,我国完成的固定资产投资额比 2001 年 4 月份增长了 27.1%
- C. 设 2002 年 5 月份、6 月份和 7 月份全国房地产投资额分别为(A)、(B)和(C),那么(B)>(C)>(A)
- D. 根据图表资料,我们可以计算出 2001 年 9 月份全国的固定资产投资额

(6) 根据下表回答第 24、25 题:

《中华人民共和国个人所得税法》规定,公民全月工资、薪金所得不超过 800 元的部分不必纳税,超过 800 元的部分为全月应纳税所得额,此项税款按下表分段累进计算:

全月应纳税所得额	税率
不超过 500 元的部分	5%
超过 500 元到 2 000 元的部分	10%
超过 2 000 元到 5 000 元的部分	15%
...	...

24. 某人一月份应缴纳此项税款 30 元,则他的当月工资薪金所得介于()
- A. 800—900 元 B. 900—1 200 元 C. 1 200—1 500 元 D. 1 500—2 800 元
25. 若某人 2000 年 10 月份工资收入为 4 200 元,应缴纳()元个人所得税。
- A. 250 B. 385 C. 450 D. 630

第二部分 言语理解与表达能力

此部分包括三种类型题目,共 35 题。

一、选词填空(26~35 题):要求从所给的四个选项中选出其中之一填入空格中,从而使句子的意思表达得最准确。请你将所选的词的正确答案标号填在答题卡上。

例题:天山绵延几千里,无论高山、深谷,无论草原、森林,无论溪流、湖泊,处处有丰饶的物产,处处有()的美景。

- A. 美丽 B. 奇丽 C. 艳丽 D. 绚丽

解答:用“奇丽”(即答案 B)使句子的意思表达的最连贯、最准确。

26. 科学是老老实实的学问,来不得半点虚假,需要付出()的劳动。

- A. 艰难 B. 艰辛 C. 艰苦 D. 艰巨
27. 在澳门半岛南部,有澳门建筑年代最()和最负盛名的一处古迹——妈祖庙。
A. 悠久 B. 久远 C. 长远 D. 悠远
28. 做任何工作都要全面考虑问题,从全局出发,不能有任何()。
A. 偏激 B. 偏废 C. 偏袒 D. 偏离
29. 和中路军所遇敌情一样,我西路军所遇之敌亦纷纷(),毫无斗志,我军所遇之抵抗,甚为微弱。
A. 撤退 B. 溃退 C. 败退 D. 失败
30. 数学家对最优化问题的研究()。古希腊的毕达哥拉斯就发现了长方形长与宽的最佳比例为1:0.618,这被称作黄金分割比。
A. 源远流长 B. 家喻户晓 C. 卓有成效 D. 无与伦比
31. 德国邮政公司已开始使用自动邮信机。该机器将()不少邮政人员的工作负担,并()邮政的人工开支。
A. 减轻,降低 B. 减轻,减少 C. 降低,减少 D. 降低,减轻
32. ()具备了高尚的艺术职业道德,()对艺术全身心投入的敬业精神,()使艺术家在物质诱惑面前,选择自己所献身的艺术本身。
A. 由于,由于,因而 B. 只有,只有,才能
C. 如果,如果,那么 D. 即使,即使,才能
33. 我的眼光越过了生死的界限,将人世的一切都(),去探求真理。
A. 置若罔闻 B. 置之度外 C. 司空见惯 D. 熟视无睹
34. 越是没有本领的人,就越是(),以为谁也比不上他。
A. 自命不凡 B. 自以为是 C. 趾高气扬 D. 骄傲自满
35. 我国人民十分重视保障人民的民主()和加强国家的民主建设。我国确定的人民代表大会制度,是实现人民当家作主和保障公民政治()的主要形式。中华人民共和国的一切()属于人民。人民行使国家()的机关是全国人民代表大会和地方各级人民代表大会。
A. 权利 权力 权利 权力 B. 权力 权力 权利 权利
C. 权力 权利 权力 权利 D. 权利 权利 权力 权力

二、语句表达(36~45题):考查考生对于语气、词序、语法结构等在言语表达中的作用的理解程度。

例题:从给出的几句话中选出没有语病的一句:()