

经全国中小学教材审定委员会 2001 年初审通过
义务教育课程标准实验教科书



SHU XUE
数 学

一年级 上册



北京师范大学出版社

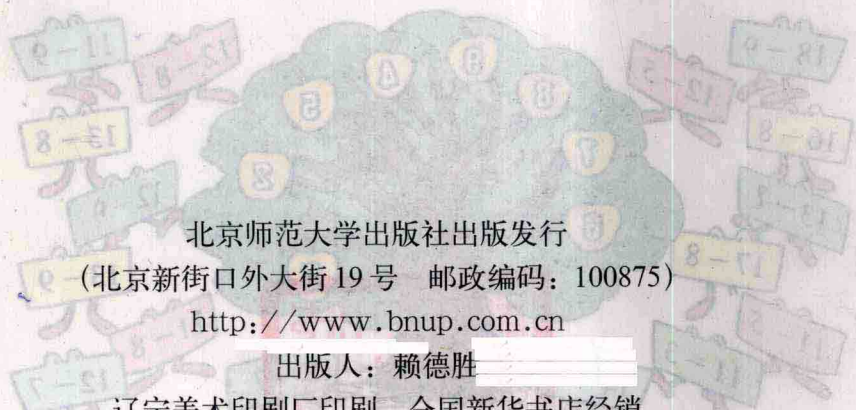


教育部 2005 年全国教育科学规划课题
 批准立项 教育部 2005 年全国教育科学规划课题

学 楼

第一册

教育部 2005 年全国教育科学规划课题



北京师范大学出版社出版发行

(北京新街口外大街 19 号 邮政编码: 100875)

<http://www.bnup.com.cn>

出版人: 赖德胜

辽宁美术印刷厂印刷 全国新华书店经销

开本: 787mm × 1092mm 1/16 印张: 7 字数: 166 千字

2004 年 6 月第 4 版 2004 年 6 月第 1 次印刷

定价: 7.85 元

如发现印、装质量问题, 影响阅读, 请与辽宁美术印刷厂

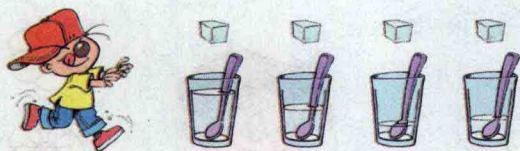
联系调换。 地址: 沈阳市大东区北大营街 11 号

邮编: 110044 电话: 024-88332520


目 录




一 生活中的数 2



二 比较 12



三 加减法 (一) 22



整理与复习 (一) 48



大家来锻炼 50

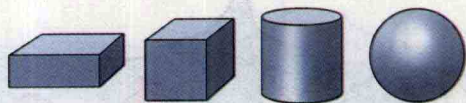


四 分类 52



五 位置与顺序 56


六 认识物体 64



七 加减法 (二) 68




整理与复习 (二) ... 88



八 认识钟表 90



九 统计 94



迎新年 98



总复习 100



附页



经全国中小学教材审定委员会 2001 年初审通过
义务教育课程标准实验教科书

SHU XUE
数 学

一年级 上册

义务教育数学课程标准研制组 组编

北京师范大学出版社

002300 · 北京 · 440011 邮编

一 生活中的数

可爱的校园

开学了!

迎新同学

你能数出有几只小兔吗?





-(1)班

-(2)班


到校园里走
一走，说一说有
什么、有多少。



快乐的家园

说一说

(1) 1 可以表示什么？



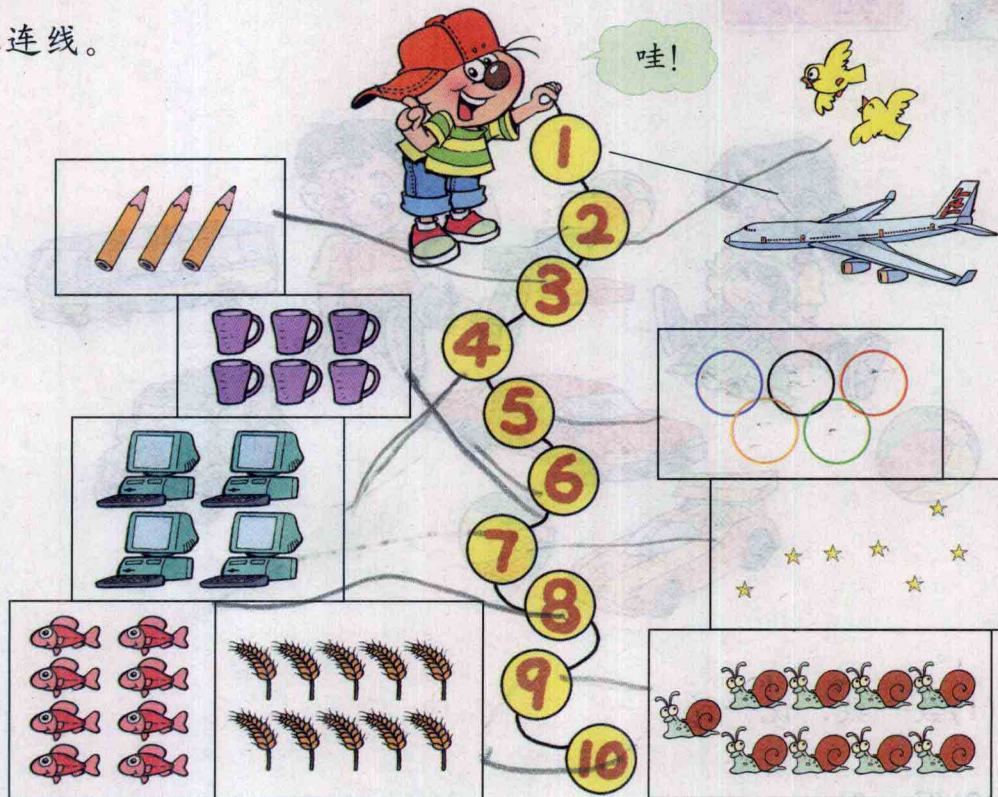
(2) 2 可以表示什么？3 呢？4 呢？

(3) 在下图中，衣服上的数表示什么？

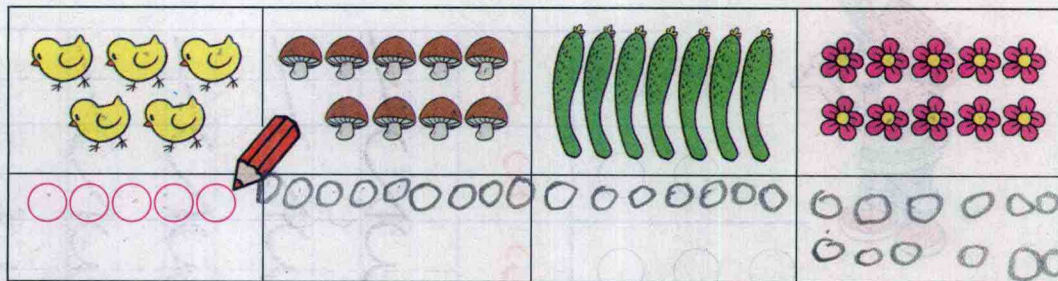


练一练

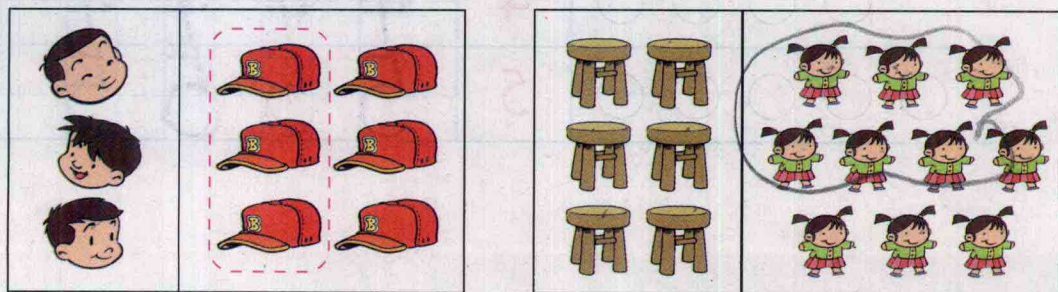
1. 连线。



2. 数一数，画一画。




3. 每组图中，把与左边同样多的部分圈起来。





玩具




- (1) 数一数，说一说。
- (2) 写一写。



○	1	1	1	1	1	1
○ ○	2	2	2	2	2	2
○ ○ ○	3	3	3	3	3	3
○ ○ ○ ○	4	4	4	4	4	4
○ ○ ○ ○ ○	5	5	5	5	5	5

练一练

1. 写数。




3

4

5

1

2



1


3

5

2. 看数画线。



3. 数一数，填一填。



第 1 节

第 2 节

第 3 节

第 4 节

第 5 节



小猫钓鱼

唉！一条
鱼也没钓着！



想一想 0 还可以表示什么？

今天最
低气温 0 度。





从 0 开始。



练一练


1. 数一数有几朵花。




2. 读一读，写一写。



3. 一笔画 (从0出发)。



4. 怎样数得快?



● (10) 个, ■ (10) 个,
▲ (10) 个, ○ (9) 个。

5. 说一说生活中哪些地方用到0。



文具

(1) 找朋友。

(2) 数一数自己铅笔盒里的文具。

(3) 写一写。

⑥⑥⑥⑥⑥⑥	6	6	6	6	6
⑦⑦⑦⑦⑦⑦⑦	7	7	7	7	7
⑧⑧⑧⑧⑧⑧⑧⑧	8	8	8	8	8
⑨⑨⑨⑨⑨⑨⑨⑨⑨	9	9	9	9	9
⑩⑩⑩⑩⑩⑩⑩⑩⑩⑩	10	10	10	10	10


(4) 6, 7, 8, 9, 10 分别可以表示什么? 与同伴说一说。

练一练


1. 看数画线。

○ ○ ○ ○ ○ ○	○ ○ ○ ○ ○ ○ ○	○ ○ ○ ○ ○ ○ ○	○ ○ ○ ○ ○ ○ ○	○ ○ ○ ○ ○ ○ ○
○ ○ ○ ○ ○ ○ ○	○ ○ ○ ○ ○ ○ ○	○ ○ ○ ○ ○ ○ ○	○ ○ ○ ○ ○ ○ ○	○ ○ ○ ○ ○ ○ ○
6	7	8	9	10


2. 数一数，画○，再写出数。




○ ○ ○ ○ ○	7
○ ○	



○ ○ ○ ○ ○ ○ ○ ○	8
○ ○	




○ ○ ○ ○ ○	10
○ ○ ○ ○ ○	



○ ○ ○ ○ ○	9
○ ○ ○ ○ ○	

3. 填数。



10	9	8	7	6	5	4	3	2	1
----	---	---	---	---	---	---	---	---	---

二 比 较



动物乐园



与 谁多?





$$4 = 4$$

读作：4 等于 4。

⋮

等号





说一说 谁多？谁少？

5比3大。

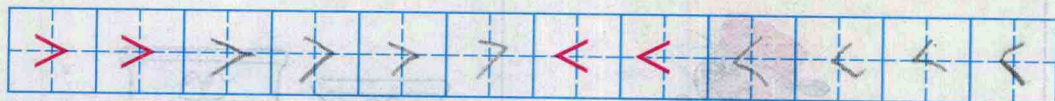
$5 > 3$ ，读作：5大于3。

大于号

3比5小。

$3 < 5$ ，读作：3小于5。

小于号



最少，小鸟最多。



比  少， $3 < 4$ 。



比  _____， $4 < 5$ 。



比  多， $4 > 3$ 。



比  _____， $5 > 4$ 。

填一填

$7 > 3$

$4 < 9$

$3 = 3$

$5 < 8$

$10 > 1$

$2 > \boxed{1}$

$6 > \boxed{5}$

$6 = \boxed{6}$

$\boxed{8} = 8$

$\boxed{8} < 9$