


ZHONGGUO LISHI TIANCHONG TUCE

配合义务教育课程标准实验教科书使用

中国历史填充图册

八年级 (上)



中国地图出版社教学地图编制中心 编著
中国地图出版社出版

班级 _____
姓名 _____
学号 _____

责任编辑 贺湘京
制 图 贺湘京
审 校 张小琴
审 订 顾乃福
修编编辑 石忠献
封面设计 赵培璧
重版编辑 姜春明



配合义务教育课程标准实验教科书使用

书 名 中国历史填充图册 八年级（上）
编 著 中国地图出版社

出 版 中国地图出版社
社 址 北京市白纸坊西街3号
邮 政 编 码 100054
电 话 010-83543930
地图教学网 地图教学网：www.ditu.cn
印 刷 北京天顺鸿彩印有限公司
发 行 新华书店
成 品 规 格 184mm × 260mm
印 张 2.25
版 次 2003年6月第1版
印 次 2007年6月北京第5次印刷

书 号 ISBN 978-7-5031-3245-2/K · 1665
审 图 号 GS(2003)230号

本图册中国今国界线系按照我社1989年出版的
1:400万《中华人民共和国地形图》绘制

ISBN 978-7-5031-3245-2



9 787503 13245

定价:2.90元

目 次

第一单元 侵略与反抗

- 第1课 鸦片战争 2~3
- 第2课 第二次鸦片战争期间列强侵华罪行 4~6
- 第3课 收复新疆 7
- 第4课 甲午中日战争 8
- 第5课 八国联军侵华战争 9

第二单元 近代化的探索

- 第6课 洋务运动 10
- 第7课 戊戌变法 11
- 第8课 辛亥革命 12~13
- 第9课 新文化运动 14

第三单元 新民主主义革命的兴起

- 第10课 五四爱国运动和中国共产党的成立 15~16
- 第11课 北伐战争 17
- 第12课 星星之火，可以燎原 18
- 第13课 红军不怕远征难 19

第四单元 中华民族的抗日战争

- 第14课 难忘九一八 20
- 第15课 “宁为战死鬼，不作亡国奴” 21
- 第16课 血肉筑长城 22

第五单元 人民解放战争的胜利

- 第17课 内战烽火 23
- 第18课 战略大决战 24

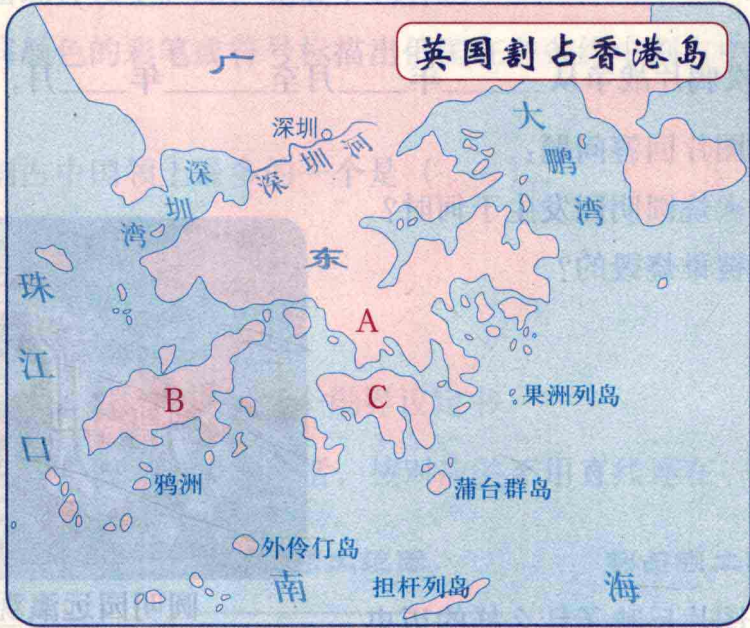
第六单元 经济和社会生活

- 第19课 中国近代民族工业的发展 25
- 第20课 社会生活的变化 25

第七单元 科学技术与思想文化

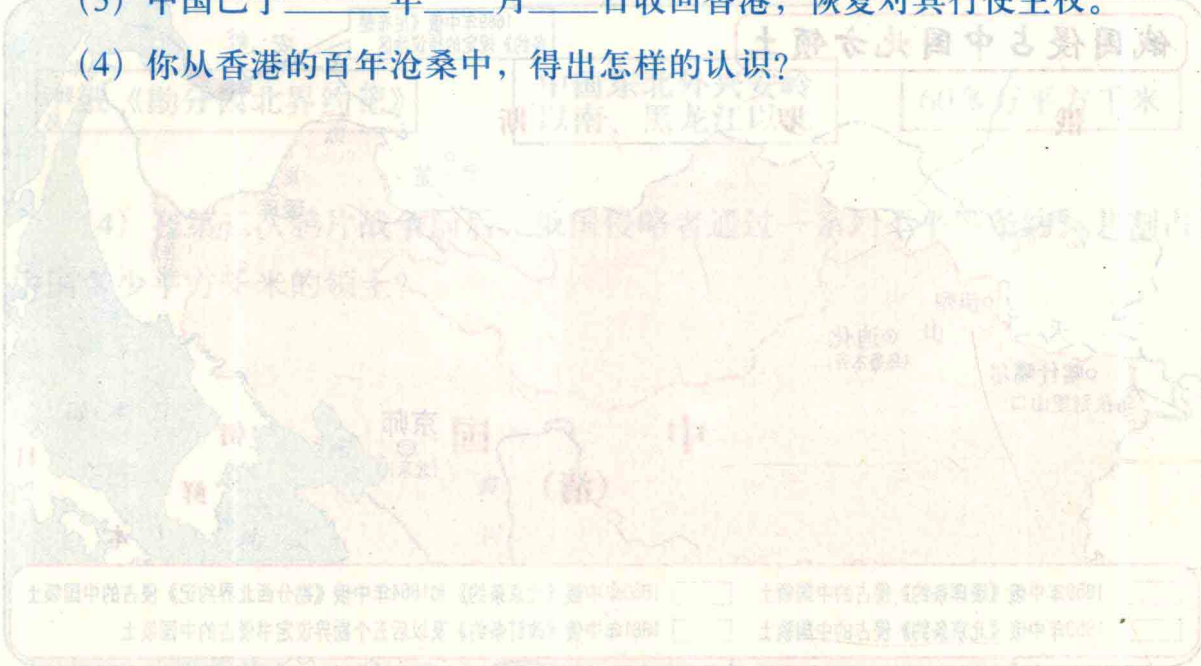
- 第21课 科学技术与思想文化（一） 26
- 第22课 科学技术与思想文化（二） 27

- 部分习题参考答案 28~32



3. 读《英国割占香港岛》图，完成下列各题：

- (1) 图中A、B、C三处中，_____是香港岛。
- (2) 香港岛是英国通过_____年强迫中国清政府签订的丧权辱国的不平等条约中英《_____》正式予以割占的。
- (3) 中国已于_____年____月____日收回香港，恢复对其行使主权。
- (4) 你从香港的百年沧桑中，得出怎样的认识？



第一单元 侵略与反抗

第2课 第二次鸦片战争期间列强侵华罪行

1. 填空：

第二次鸦片战争从_____年_____月至_____年_____月，共历时_____年。

2. 根据图片回答问题：

(1) 火烧圆明园发生于何时？

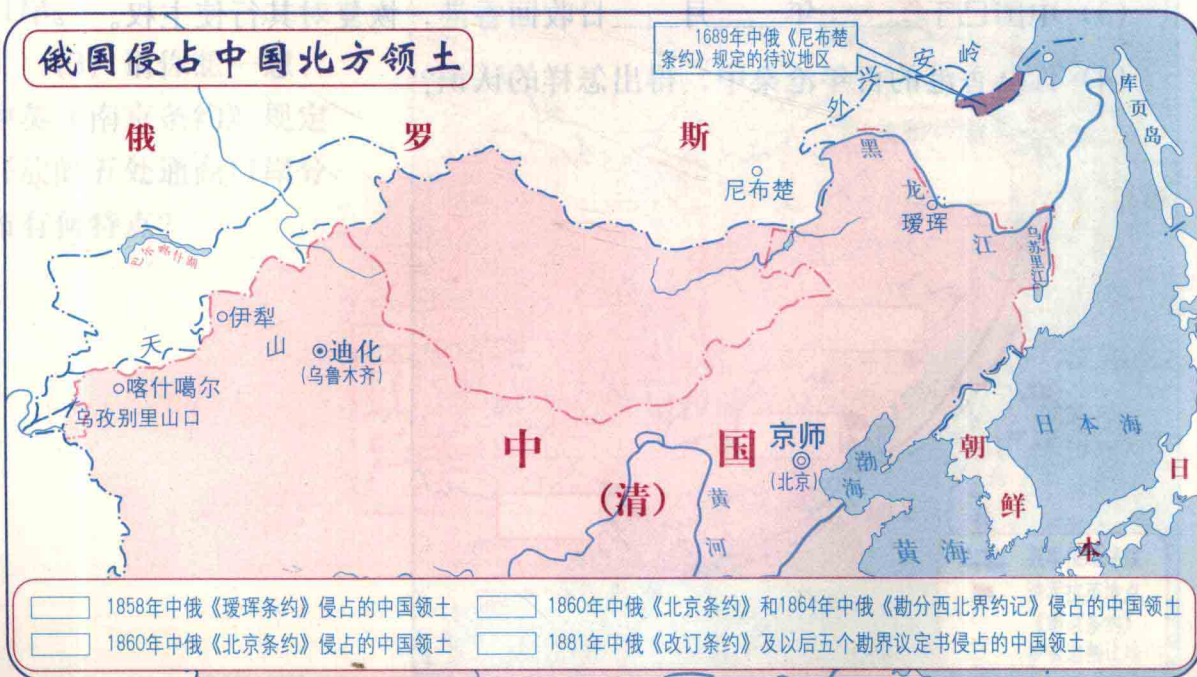
圆明园是被谁烧毁的？



圆明园远瀛观和大水法残迹

(2) 图片反映了什么样的历史

事实？看后你有何感想？



3. 读《俄国侵占中国北方领土》图，完成下列各题：

(1) 在图中用不同颜色的彩笔或符号标描出俄国在各条约中割占中国领土的范围。

(2) 下列条约中割占中国领土最多的一个是 ()。

- A. 中俄《璦琿条约》
- B. 中俄《北京条约》
- C. 中俄《勘分西北界约记》
- D. 中俄《改订条约》及以后五个勘界议定书

(3) 下面是俄国割占中国领土情况概括，按对应关系用直线连在一起。

不平等条约名称	割占领土范围	割占领土面积
中俄《璦琿条约》	中国乌苏里江以东、包括库页岛在内	7万多平方千米
中俄《改订条约》及以后五个勘界议定书	中国巴尔喀什湖以东以南	44万多平方千米
中俄《北京条约》	中国西北部	约40万平方千米
中俄《勘分西北界约记》	中国东北外兴安岭以南、黑龙江以北	60多万平方千米

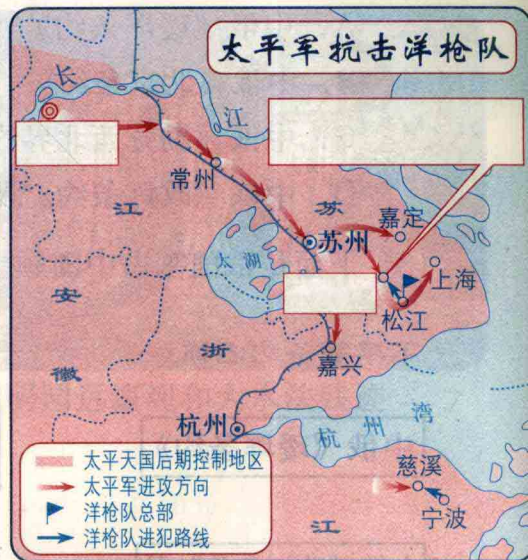
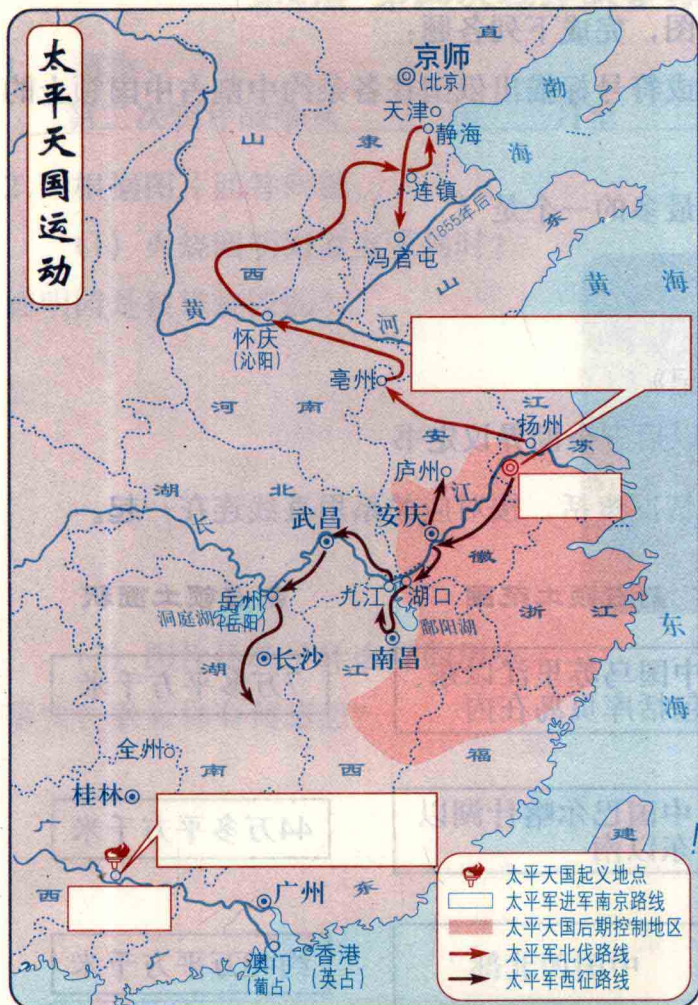
(4) 在第二次鸦片战争前后，俄国侵略者通过一系列不平等条约，共割占了
中国多少平方千米的领土？

京天一世封一世全一田金 B 京天一昌南一林封一田金 A

京天一昌瓦一林封一田金 D 京天一昌南一折封一田金 C

(4) 除了诗中提到的北碚外，你还能列举出左宗棠的其他事迹吗？

第一单元 侵略与反抗

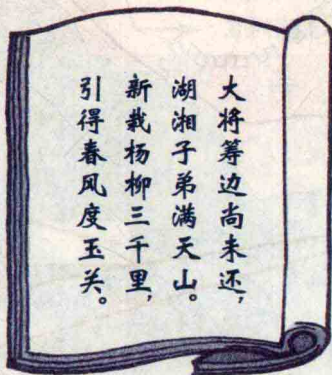


4. 读《太平天国运动》和《太平军抗击洋枪队》图，完成下列各题：
- (1) 在图中红框内填出太平天国起义的地点、定都地点和抗击洋枪队的主要地点，并自己设计试填有关事件的图注。
- (2) 在图中用红笔绘出太平军从金田起义到定都天京的路线，并填出下列选项中正确的是（ ）。
- A. 金田—桂林—南昌—天京 B. 金田—全州—杭州—天京
C. 金田—长沙—南昌—天京 D. 金田—桂林—武昌—天京

第3课 收复新疆

阅读下列有关左宗棠的图片和诗歌回答问题：

左宗棠题字刻石



大将筹边尚未还，
湖湘子弟满天山。
新栽杨柳三千里，
引得春风度玉关。

(1) 图片中的“天地正气”四字表达了左宗棠一种什么样的气概？

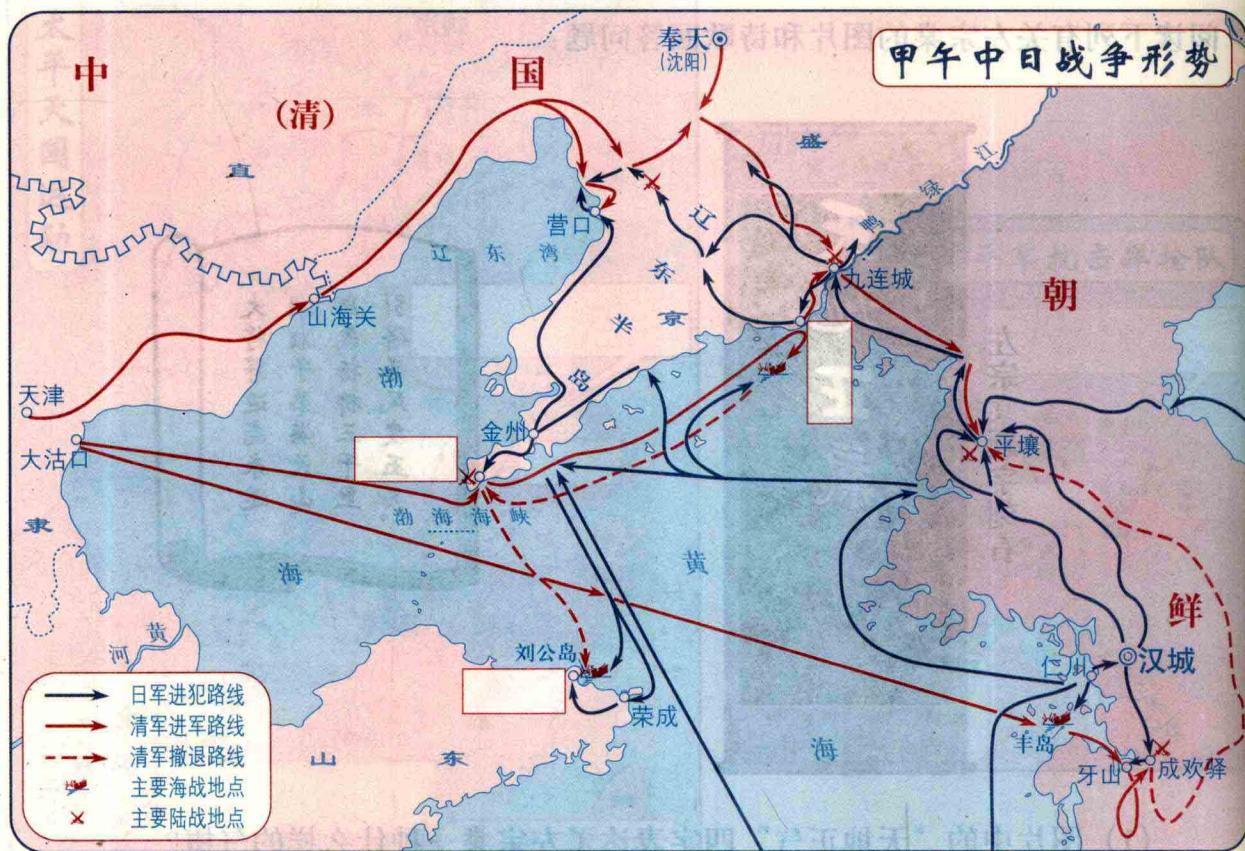
(2) 此诗主要颂扬了左宗棠的什么业绩？

(3) 左宗棠收复新疆有什么重要的历史意义？

(4) 除了诗中提到的业绩外，你还能列举出左宗棠的其他事迹吗？

第一单元 侵略与反抗

第4课 甲午中日战争



1. 读《甲午中日战争形势》图，完成下列各题：

(1) 甲午中日战争爆发于_____年，因为这一年是_____年，所以被称为“甲午中日战争”。

(2) 在图中红框内填出与甲午中日战争相关的地名。

(3) 1895年4月，_____和日本首相_____签订了中日《_____》，它的签订大大加深了中国半殖民地化程度。

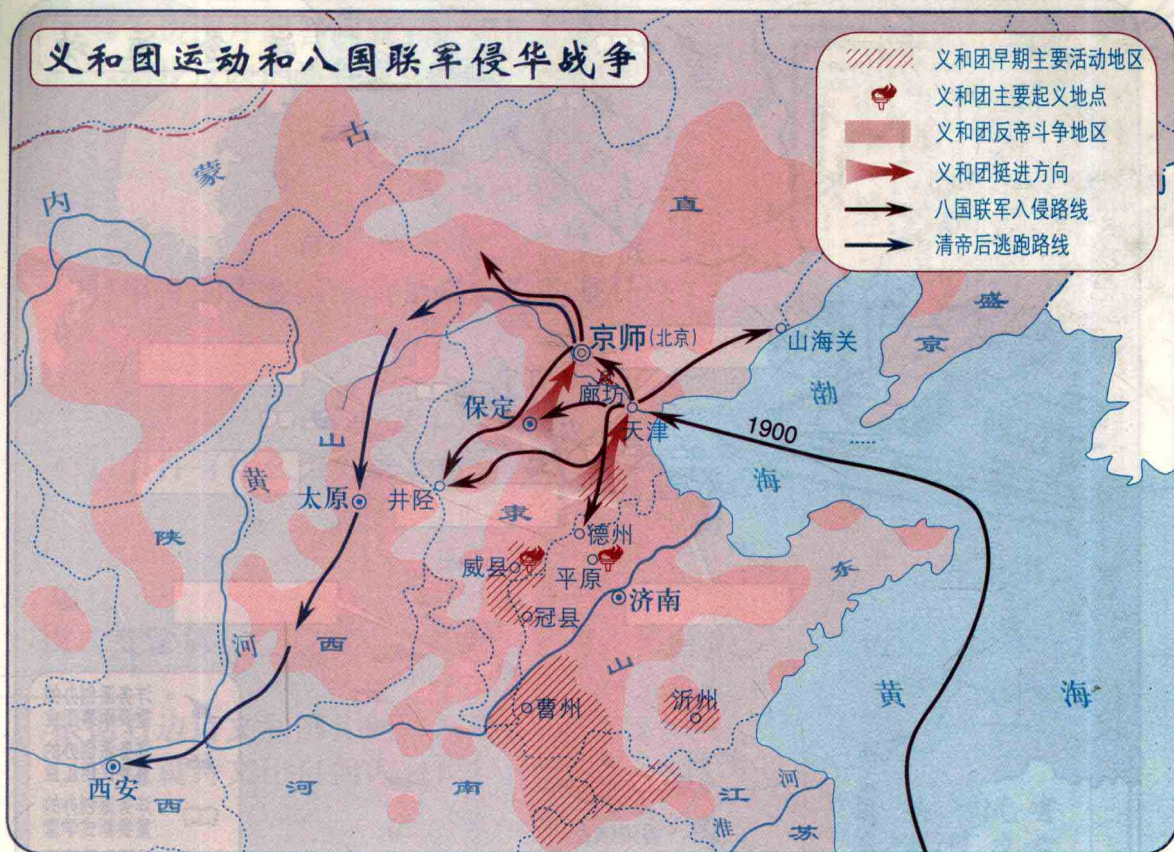
2. 阅读右文，回答下列问题：

(1) 此文是人们为哀悼哪位民族英雄而撰写的挽联？

(2) 结合所学知识，向其他同学讲一讲这位民族英雄英勇抗敌的事迹。

此日漫挥天下泪，
有公足壮海军威。

第5课 八国联军侵华战争



1. 读《义和团运动和八国联军侵华战争》图，完成下列各题：

(1) 八国联军侵华路线有什么特点？

(2) 在图中找出义和团运动首先爆发的地点（省份）是_____，义和团抗击八国联军进攻的主要地点是_____。

(3) _____年，清政府被迫与_____、_____、_____、_____、_____、_____、_____、_____签订《_____》，标志着中国完全沦为半殖民地半封建社会。

2. 阅读右文，回答下列问题：

(1) 义和团运动发生于哪一年？发生的原因是什么？

(2) 义和团运动是一次什么性质的运动？



第二单元 近代化的探索

第6课 洋务运动



- 读《洋务运动》图，完成下列各题：
 - 于19世纪60年代掀起的洋务运动中，洋务派在中央的代表人物是（ ）。
A. 曾国藩 B. 李鸿章 C. 张之洞 D. 奕訢
 - 洋务运动前期，洋务派以“_____”为口号，采用西方先进生产技术，创办了一批近代军事工业；洋务运动后期，洋务派在继续发展军事工业的同时，又以“_____”为口号，开办了一些民用工业，并筹建了_____，兴办了_____。
 - 在图中紫框内填出洋务派创办的主要军事工业名称，在蓝框内填出洋务派创办的主要民用工业名称。
- 分析与思考：

洋务派兴办洋务的目的是什么？结合所学知识，你认为洋务运动达到这个目的了吗？为什么？

第7课 戊戌变法

1. 根据右边图片回答问题：

(1) 图片反映的事件发生于哪一年？起因是什么？

(2) 事件的主要组织者是谁？目的是什么？

(3) 事件有什么历史意义？



公车上书

2. 填空：

戊戌变法从_____年_____月到_____月，历时103天，故历史上又称它为“_____”。

3. 根据右边诗文和图片回答问题：

(1) 这篇诗文出自何人之口？



(2) 诗文中“有心杀贼”的“贼”指的是谁？

维新派为什么“无力回天”？

(3) 诗文表达了这位维新派人士怎样的决心和精神？

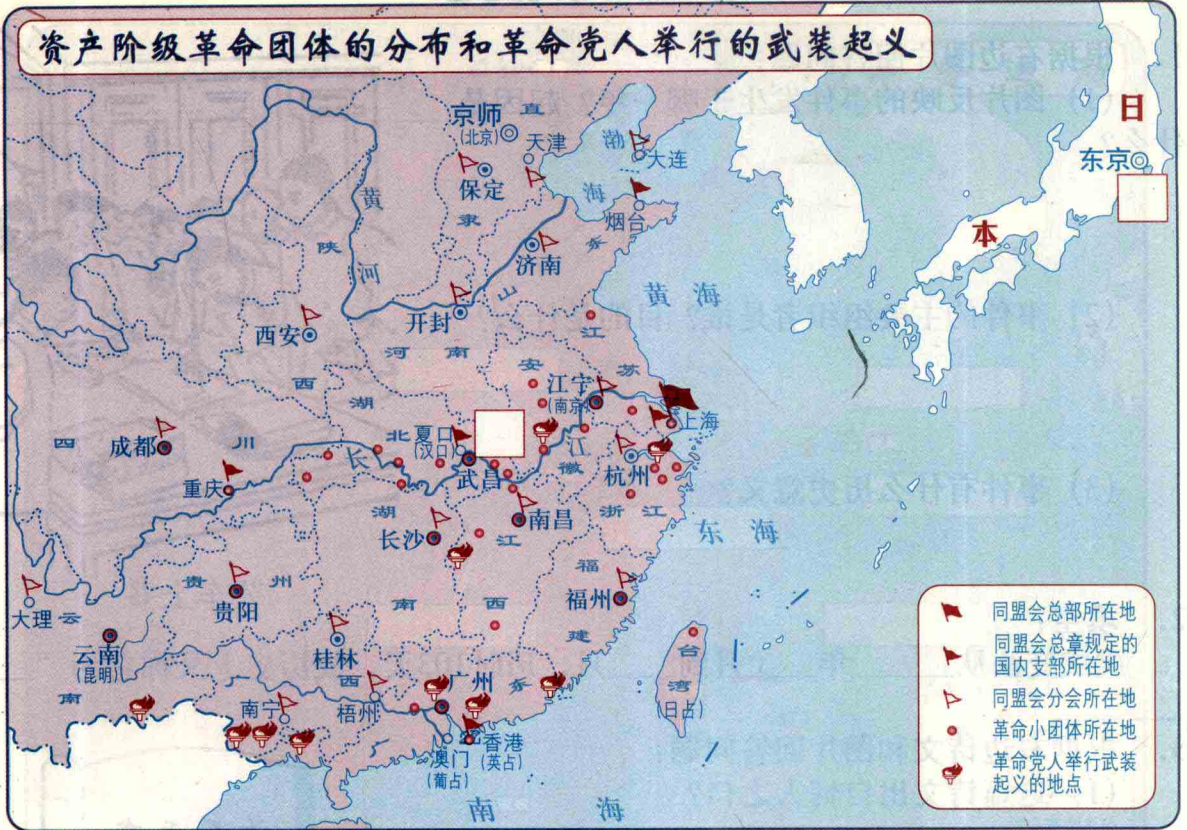
(4) 我们应该向这位维新派人士学习什么？



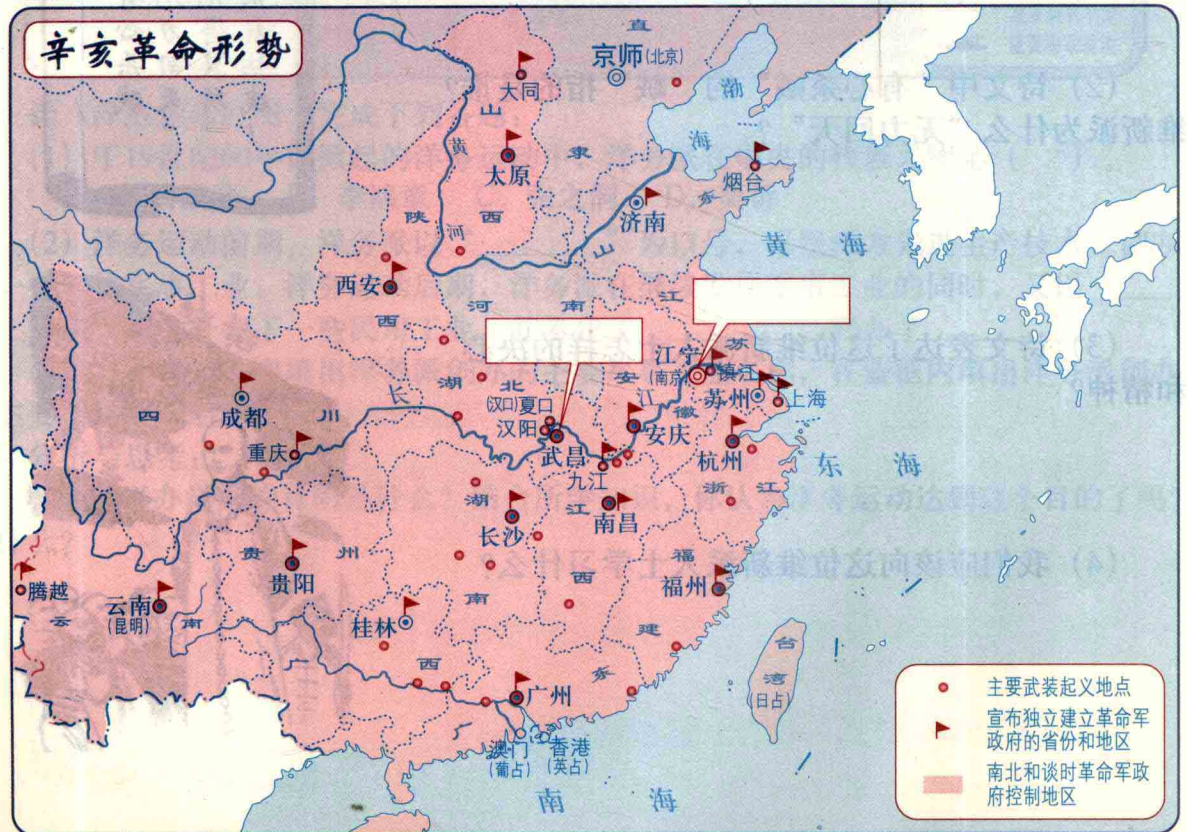
第二单元 近代化的探索

第8课 辛亥革命

资产阶级革命团体的分布和革命党人举行的武装起义



辛亥革命形势



1. 读《资产阶级革命团体的分布和革命党人举行的武装起义》和《辛亥革命形势》图，完成下列各题：

(1) 在《资产阶级革命团体的分布和革命党人举行的武装起义》图中红框内用字母标出：

- A. 中国同盟会成立的地点
- B. 辛亥革命爆发的地点

(2) 在《辛亥革命形势》图中红框内标出武昌起义和中华民国成立的日期。

2. 读右文回答下列问题：

这是哪个阶级的革命纲领？是由什么组织颁布的？意义如何？



3. 观点辨析：

有人说辛亥革命“没有完成反帝反封建的革命任务”，你认为这种观点是否正确？为什么？

第二单元 近代化的探索

第9课 新文化运动

1. 填空：

1915年起掀起的新文化运动高举的两面大旗是（ ）。

- A. 民主和科学 B. 反对旧文学，反对复古思想
C. “兼容并包” D. 实业救国

2. 观察下列人物图片回答问题：

(1) 在红框内填出图片中人物的姓名。



①



②



③



④

(2) 分别列举他们在新文化运动中的主要贡献。

第三单元 新民主主义革命的兴起

第10课 五四爱国运动和中国共产党的成立

誓死力爭
還我青島

1. 阅读右边口号回答问题:

- (1) 此口号是在什么运动中提出的?
- (2) 这次运动的导火线是什么?
- (3) 该运动是一次什么性质的运动? 有何历史意义?

2. 读《五四爱国运动》图, 完成下列各题:

- (1) 在图中红框内填出五四爱国运动爆发地点和举行罢工、罢市的主要城市名称。
- (2) 下列口号中最能反映五四爱国运动反帝反封建性质的是 ()。
A. 还我青岛 B. 废除二十一条
C. 外争国权, 内惩国贼 D. 拒绝在和约上签字

(3) 列举五四爱国运动取得初步胜利的主要表现。

(4) 作为新时代的青年, 你应学习五四运动青年们的什么精神?

