

责任编辑：张玉平 刘建宏
封面设计：隋仲秋

天利38

天利38

开卷全国教辅畅销书排行榜前列

2005 实验区中考模拟试题快速

语文.....	6.80元	数学.....	6.80元
英语.....	6.80元	(另配磁带1盒: 6.00元)	
化学.....	5.80元	政治.....	5.80元
物理.....	5.80元		

读天利书 圆梦名校

www.tl100.com

ISBN 7-223-01774-0



9 782223 017749 >

定价：37.80元

媒体推荐

 搜狐教育 Learning.sohu.com
 新浪教育 edu.sina.com.cn
 腾讯教育 edu.qq.com
 网易教育 education.163.com

2005 新课标 实验区中考模拟

试题快速

北京天利考试信息网 编
全国学习科学研究会考试研究中心 审

新动向

政治

西藏人民出版社

编写说明

随着新课标教材的实施和课程改革的推进,参加课改中考的区县已经由2004年首批17个课程改革实验区增加到了2005年的500多个区县,涉及到了全国几乎所有省市。新课程背景下的学业水平考试怎么考,带有选拔性质的中考试题会怎样命制,新课标理念如何体现在课改中考试卷上,课改试题与传统试题相比有哪些新变化,这些都成为了课改实验区广大师生亟待关注的问题。为了帮助大家明确前面的问题,更为为了广大考生可以更好地熟悉、适应这种全新的考试模式,北京天利考试信息网联合全国各地中考专家和全国学习科学研究会考试研究中心依照课程标准、国家基础教育课程改革实验区2005年初中毕业会考与普通高招中招制度改革指导意见及2004年实验区中考实际编写了本书。

使用本书时需要注意:

1. 根据大家复习的实际需要,本书包括课改实验区中考模拟试题和中考总复习专题训练两大部分。考生可以在充分了解课改中考新特点的基础上,做一些针对性的专题练习,以利于更加深刻地掌握课改中考的最新变化。
2. 结合实验区考试内容改革的基本理念中明确提出的,要注意试题的应用性、实践性、综合性、时代性和教育性,加强试题与社会实际和学生生活实际的联系;要适当注意试题的开放性与探究性,引导对学生创新意识 and 实践能力的培养内容;我们在本书的所有科目中专门给出了两个探究专题,以帮助考生更好地领会这一命题精神。
3. 考虑到课程改革的必然性,虽然非实验区中考是依据教学大纲和课程标准命题,但实际上很多非实验区中考已经在按照课程标准和参照实验区中考的要求命题,因此,本书无论对实验区还是对非实验区中考考生都有较高的参考价值和价值。

1. 为了方便使用,书中试题均为活页,读者可以拆开。

本书在编写过程中得到了各地教科所、教育学院、教研室等许多专家及特级教师的指导和帮助,在此深表谢意。

相信本书会成为将要参加中考的你的益友!

编者

2005年4月

2005年实验区中考命题新动向

新课程实施已经第五个年头了,为更好地引导新课程健康顺利实施,教育部初中毕业与普通高中招生制度改革专项组针对新课程、新中考编写的《中考命题指导》已经面市,我们在分析及比较2004年命题指导的基础上,为考生归纳总结出了以下一些体会,以供大家参考。

一、命题改革的基本理念

2005年中考试题的试题将会更加注重应用性、综合性、探究性、时代性和教育性;更注重试题与社会实际和学生生活实际的联系;更强调科学精神和人文精神,强调人与自然、社会协调发展的现代意识;引导学生关注国家、人类和世界命运的题目将有所增加。

二、考试科目与方式

课改实验区的考试科目与考试方式有几个变化趋势:第一,综合的趋势,即一张试卷中会包含更多的学科内容,如综合理科、综合文科、理化合卷、政史合卷等多种形式;第二,开卷和半开卷的科目会有所增加;第三,考试方式除传统的纸笔测试外,可能会有听力测试、口语测试和实验操作等更多的测试方式出现。

三、考试内容

1. 语文:识字与写字部分,一般都会有考查考生书写技能性的题目,但是书写量不会过大。阅读部分,文言文阅读一般不会把词法、句法等方面的知识作为考试的重点,考生应该注重借助注释和工具书理解文章的大意;现代文阅读方面侧重考查考生对阅读材料的整体感受和综合理解能力,注重评价考生的情感体验和创造性的理解。写作部分,着重考查考生恰当运用语言文字表达真情实感的能力。口语交际部分,更多的是考查考生在具体交际情境中倾听、表达和应对的能力,所蕴涵实际情境一般会和考生的学习及生活实际密切相关。综合性学习部分,重在考查学生的探究精神、创新意识和综合运用能力。

2. 数学:考查考生在未来社会生活中所必备的数学知识和技能和方法。基础知识与基本技能部分,加重对考生收集数据、有效描述数据特征等方面能力的考查。数学思考部分,注重对考生“空间观念”发展情况的考查。解决问题部分,加大对考生提出问题的能力考查力度。

3. 英语:听力技能部分,注重考生对信息进行判断、归纳、综合或者根据信息进行实际操作的能力。口语技能部分,主要考查考生口头表达的实际效果,兼顾流利性和准确性。阅读技能部分,会注重以适当形式考查考生从图表等视觉材料中获取信息的能力。写的技能部分,会尽可能考查考生表达真实意义或对个人经验的能力。语言知识的运用能力部分,不会孤立考查某个知识点,更不会机械考查对知识点的简单记忆。

4. 物理、化学:考生应更多地关注当前的科技热点,关心身边的科学,注重对解决现实问题的能力的考查;对实验内容的考查力度会有所加大。

5. 政治:考生应更多地关注社会时政热点问题,注重对考生用所学知识去解释身边事物的能力。

小学不读指南，长大你会遗憾

小学阅读指南

中国指导小学生阅读独家期刊《全国百家期刊阅览室》赠刊单位



《小学阅读指南》自创刊以来，得到了全国广大小学生的普遍欢迎，发行量逐年增加。特别是减负以后，孩子们从繁重的课业负担下解放出来，它更成为许多孩子首选的课外读物。《小学阅读指南》在注重素质教育的同时，最大限度的满足了孩子的阅读需求，许多教育专家称赞《小学阅读指南》是一份内容充实、形式新颖的高品位的课外读物。

《小学阅读指南》内容广泛，特色鲜明，可以满足不同地区不同年级小学生的课外阅读要求。

- * 语文·新课本 介绍全国各地不同版本的《语文》新教材。
- * 阅读·四等级 配合教学提供训练材料。
- * 小说·真精彩 从全国各种少年文艺刊物中精选一篇小说。
- * 好诗·背一言 现在背下来长大受益无穷。
- * 文摘·互联网 选摘全国各种少儿报刊文章，注重可读性、知识性和趣味性。
- * 新书·早知道 展示各省、市、自治区少儿出版社出版的新书、好书。能达到一册在手，无限拥有！

《小学阅读指南》跟小学《语文》课本一样大小，印刷精美，是一本课外《语文》。每月10日出版，单价2.40元，半年14.40元，全年28.80元。

通讯地址：黑龙江省哈尔滨市道里街森林街68号
 邮编：150040 电话：0451-84647498
 传真：0451-84647338
 (小学阅读指南) 国际标准刊号：ISSN1008-0090
 国内统一刊号：CN23-1422/G4
 邮发代号：14-278

北京天利考试信息网加入办法

“北京天利考试信息网”(www.tl100.com)及搜狐天利考试专栏(http://learning.sohu.com/TL100)包括：网上的网和网下的网。

- 网上的网
 - 提供最新考试信息动态(如最新考试大纲变化、政策变动等)、试题下载、志愿填报咨询、高考及专业查询、分数线查询、各类考试要求与动态等。
- 网下的网
 - 向网员邮寄考试动态刊物、寄送推荐新书、寄送新试题(如北京三区试题)、组织研讨会、赠手冊、为网员提供优惠和其它各项服务。

欢迎加入“天利考试信息网”

◆ 北京天利考试信息网加入办法(以下四种符合一种即可加入)

(1) 订购西藏人民出版社“天利38套”或“天利”图书15册以上(收集齐15张订书回执,填好后交寄信息网);

- (2) 提供内部交流试题、信息或对西藏人民出版社图书提出问题、建议;
- (3) 汇寄30元入网费;
- (4) 教师填表可直接申请加入。

◆ 北京天利考试信息网网员待遇

信息网将发给网员网号、密码或网卡,有效期为两年。网员享有以下待遇:

1. 获取最新考试政策、动态(如考试大纲变化、政策变动),不上网者可获得邮寄或传真信息或通知;
2. 获得实用新试卷(如北京或其它省市内部模拟试题)下载;
3. 获得网刊和其它信息资料,订书可获优惠;
4. 教师网员可获得效率手册、新书、纪念品赠送或研讨会参会优惠。

◆ 北京天利考试信息网联系办法

通讯:100013 北京朝阳区东土城路8号林达大厦A座13层 北京天利考试信息网
 电话:010-64466482,64466472,51655511-858 或 859
 传真:010-64466399 E-mail:info@TL100.com

西藏人民出版社“天利38套”“天利”回执及网员申请表

姓名	性别	年龄	电话	邮编
地址	科目: TEACH	执教年级:	职务	
身份	教师	年级:	学生、家长	
购书名称及科目	售书店			

图书在版编目(CIP)数据

试题快速/北京天利考试信息网编.

拉萨:西藏人民出版社,2005.4

ISBN 7-223-01774-0

I. 试… II. 北… III. 课程 初中—习题 升学参考资料

IV. G634

中国版本图书馆CIP数据核字(2004)第118334号.

目 录

2005 新课标

实验区中考模拟

试题快速

北京天利考试信息网
全国学习科学研究会考试研究中心 编 审

1. 2005 年课改实验区中考模拟试题(一)(开卷)
2. 2005 年课改实验区中考模拟试题(二)
3. 2005 年课改实验区中考模拟试题(三)
4. 2005 年课改实验区中考模拟试题(四)
- 专题一 国家与法律
- 专题二 公民与法律
- 专题三 人类社会的发展
- 专题四 建设有中国特色的社会主义
- 专题五 时政热点
- 专题六 开放与探究(一)
- 专题七 开放与探究(二)

试题快速

——实验区中考模拟试题快速

作者 北京天利考试信息网

责任编辑 张玉平 刘建宏

封面设计 谭仲秋

出版社 西藏人民出版社

地址 拉萨市林廓北路 20 号 邮政编码 850000

北京发行部:100013 北京市东土城路 8 号 林达大厦

A 座 13 层

电 话:010-64466482,64466473,64655511 转 858

印刷 北京市后沙峪印刷厂

经销 全国新华书店

开本 8 开(787×1092) 字 数 650 千字

印数 10000 印 张 34.25

版次 2005 年 4 月第 1 版第 1 次印刷

标准书号 ISBN 7-223-01774-0/G·755

定 价 37.80 元



全国教辅畅销书排行榜前列

读天利书 圆名校梦

更多中考信息:—

www.TL100.com

政 治

西藏人民出版社

1. 2005 年课改实验区中考模拟试题(一)(开卷)

政治

(考试时间 90 分钟, 满分 100 分)

第 I 卷 (选择题 共 40 分)

一、单项选择题(下列各题列出的四个选项中, 只有一项最符合题意, 选出来填入题后括号内。每题 2 分, 共计 40 分)

1. 由国家强制力保证实施, 是法律最主要的特征。下列选项中能体现这一观点的是 ()
A. 我国农村将全面推举税费改革
B. 厦门特大走私案主犯被依法处死
C. 环保部门倡导不随意丢弃废旧电池
D. 公民同违法犯罪行为作斗争
2. 公民同违法犯罪行为作斗争 ()
①可以协助执法机关及时侦破案件 ②可以使违法犯罪行为及时得到惩处
③可以使公民从中受到教育, 得到锻炼 ④可以对社会上的不安分子形成威慑作用, 减少犯罪行为的发生
A. ①②③ B. ①②③④ C. ①②③ D. ①②③④

3. 一私营业主在某中学隔壁从事金属切削加工业务。切割机发出刺耳的噪音, 导致学校教学活动无法正常进行。这种行为属于 ()
A. 扰乱公共秩序的行为
B. 破坏经济秩序的犯罪行为
C. 危害公共安全的行为
D. 严重妨害社会管理秩序的犯罪行为
4. 近期, 可可西里主力巡山队在可可西里腹地破获一起武装盗猎藏羚羊案, 一个带有家族犯罪性质的 6 名盗猎团伙被当场抓获。缴获藏羚羊皮 90 张, 吉普车 3 辆, 汽油 7 桶, 小口径步枪 1 支, 双筒猎枪 1 支, 子弹 800 发及其他作案工具。这个案例说明 ()
①保护环境必须依靠法律手段 ②我国的环保工作十分艰巨
③人类和自然是可能和谐共存的 ④国家应加大对破坏环境的违法行为的惩处力度
A. ②③④ B. ②④ C. ①②③④ D. ①③④

5. 初中生小 A 的父母离婚了, 小 A 跟母亲一起生活, 小 A 的父亲应该每月支付给小 A 200 元生活费, 但从未给过。小 A 父亲的行为 ()
A. 是违法的, 也是不道德的, 因为法律规定, 父母有抚养未成年子女的义务
B. 无所谓道德问题, 但是违法的, 因为法律规定父母有抚养未成年子女的义务
C. 是可以理解的, 因为父母已经离婚, 小 A 又和母亲一起生活
D. 是不道德的, 但不违法, 因为小 A 的父母已经离婚

6. 下列行为属于侵犯公民名誉权的有 ()
A. 故意损毁别人的照片
B. 对获得荣誉称号的同学进行挖苦、讽刺和打击
C. 道听途说添油加醋诋毁他人
D. 使用他人姓名实施不正当行为
7. 某图书经销商私自盗印复习资料, 并以正版价格向学生出售 ()
①违反了诚实守信原则 ②侵犯了作者的著作权
A. ① B. ①② C. ②③ D. ①②③
8. 列宁指出:“宪法是什么? 宪法就是一张写着人民权利的纸。”这句话说明我国宪法 ()
A. 规定国家生活中的根本问题
B. 是人民权利最重要的法律保障
C. 具有最高的法律效力
D. 是全体公民的最高行为准则

2004 年 3 月 20 日, 陈水扁不顾海内外强烈反对而执意推动所谓“3·20 公报”, 因投票人数未达到总投票人数的一半, 而公投无效。据此回答问题是。

9. 在台湾问题上, 我们坚持的基本立场是 ()
A. 一国两制, 和平统一
B. 坚决用武力实现统一
C. 承诺决不使用武力
D. 只要经济发展, 其他无所谓
10. 台湾当局妄图通过公投制造“两个中国”, “一中一台”, “一中一台”的局面遭到失败。这事实说明 ()
①坚持一个中国的原则是国际社会的共识 ②台湾当局分裂行径不得人心
③实行祖国的统一是历史发展的潮流, 台“独”没有生路 ④台湾的前途系于公投
A. ①②③④ B. ①②③ C. ①③④ D. ②③④
11. 我们青少年应该 ()
①自觉履行维护祖国统一的神圣职责 ②台湾当局的分裂行径不得人心
③热爱祖国, 报效祖国 ④坚决同一切破坏国家统一的言行作斗争
⑤坚决支持党和国家为维护祖国统一所采取的一切措施
A. ①③④⑤ B. ①②③④ C. ②④⑤ D. ②③④

12. 下列对“初级阶段”的认识正确的是 ()
①它是我国必然要经历的历史阶段, 是不可逾越的历史阶段
②从 1949 年新中国成立开始, 至少需要一百年的时间
③社会的主要矛盾是人民群众日益增长的物质文化需要同落后的社会生产之间的矛盾
④国家的根本任务是集中力量进行社会主义现代化建设
⑤是当代最大的基本国情
A. ①②③④⑤ B. ①②③④ C. ①③④ D. ①③④⑤
13. 杜甫在《兵车行》中说:“爷娘妻子走相送, 尘埃不见咸阳桥。牵衣顿足拦道哭, 哭声直上干云霄”, 这形象地揭露了 () 给人民带来的痛苦。
A. 高利贷 B. 徭役
C. 劳徭杂税 D. 苛捐杂税

14. 按图表:

	1978年	1990年	1997年	2000年	2003年
我国国内生产总值	3624.1	18547.9	71402.6	89442.6	116694
我国城镇居民家庭人均可支配收入(元)	343.4	1510.2	5160.3	6280	9030

图中数据的变化表明

- ①我国经济建设取得了巨大成就 ②人民生活水平进一步提高 ③城镇居民收入不平衡 ④综合国力显著增强
- A. ①②③
B. ②③④
C. ①②④
D. ①③④

15. 党的十六大报告指出:“当今世界,文化与经济和政治相互交融,在综合国力的竞争中的地位与作用越来越突出。”在当代中国,发展先进文化

- ①就是建设社会主义精神文明
②必须坚持马列主义、毛泽东思想、邓小平理论和“三个代表”重要思想
③继承和发扬一切优秀文化 ④必须与时俱进,开拓创新
- A. ①②③
B. ①②③④
C. ①③④
D. ②③④

16. 坚持党的基础路线不动摇,关键是坚持以经济建设为中心不动摇。下列事件能体现以经济建设为中心的是

- A. 十六大的召开
B. 国家禁毒委员会在全国开展大规模禁毒专项斗争
C. 抗击“非典”取得了最终胜利
D. 我国第一座大型商用核电站——广东大亚湾核电站通过国家验收,并网发电
17. 温家宝总理在2004年的政府工作报告中指出,今年是我国改革和发展十分关键的一年。……要实现社会主义物质文明、政治文明、精神文明共同进步,是因为
- A. 社会主义是物质文明、政治文明、精神文明全面发展的社会
B. “三个文明”是相辅相成的,其中,政治文明为物质文明、精神文明提供精神动力和智力支持
C. “三个文明”共同发展是我国的根本政治制度
D. “三个文明”共同发展是发展先进文化的根本任务

18. 小提琴协奏曲《梁祝》取材于中国民间传说,因情节感人,旋律优美,深受各国人民喜爱。这告诉我们

A. 中国的科技文化是世界上最先进的
B. 要全部继承中国的传统文化
C. 拒绝一切外来文化
D. 中国特色社会主义文化具有民族性和时代性

19. 和平与发展是当今世界的主题,下列都是《时事》杂志中的文章标题。其中有悖于“和平”这一主题的是

- ①“伊朗:第二个伊拉克?” ②“恐怖主义全球蔓延”
③“日本:军事大国合法化” ④“周边外交:与邻为善,与邻为伴”
- A. ①②③
B. ①②④
C. ②④
D. ②③

20. 2004年4月北京大学对在志愿服务事业中作出突出贡献的贵阳籍硕士研究生蒙晓燕通令嘉奖,这是1993年以后北大以正式文件形式所发布的第一张嘉奖令。仅2001年蒙晓燕就在北大附中义务讲授中国法律史半年;还积极参与重建北大法律援助协会,为全国各地的群众无偿提供法律服务,并在河北迁西县创立农村社区法律诊所,参与当地的法制建设。蒙晓燕

- ①以实际行动担负起时代赋予当代青年的崇高使命
②积极为现代化建设尽自己的社会责任
③努力服务社会,在志愿服务事业中做出了不平凡的业绩
④享受了公民的荣誉权
- A. ①②
B. ①②③
C. ②③④
D. ①②③④

第II卷 (非选择题 共60分)

二、简答题(每题8分,共24分)

21. 当前,发展循环经济已成为国际社会的一大趋势。循环经济倡导的是一种与环境和谐的经济发展模式,它要求把经济活动组织成一个“资源—产品—再生资源”的反馈式流程,特征是低开采,高利用,低排放,因此,它本质是一种生态经济。

请回答:

(1)我国资源状况的基本特征是什么?

(2)概述我国发展循环经济的重要意义。

22. 小明的爸爸妈妈都下岗了：爸爸因无一技之长，在一私营企业中找到了工作，可工作半年却拿不到一分工资，多次催讨仍然无效；妈妈因为没有文化没有技术，费尽周折才找到工作，又因上班迟到，工作时走神，出差错，不到一月就遭到老板的辞退……今天，老师把小明家的“烦恼”告诉同学们，请大家为他排忧解难。

(1) 针对小明爸爸的遭遇，同学们提出如下建议：

学生 A：我人把老板揍一顿或索性把老板绑架了。

学生 B：自认倒霉，算了，胳膊拗不过大腿，没办法。

学生 C：向劳动部门反映，仍解决不了可向法院起诉。

以上三位同学的建议是否可取？请结合所学知识简述理由。(5分)

(1) 漫画中的“大个子”和“小个子”分别指代什么？漫画反映了当今国际社会存在的什么现象？(3分)

(2) “不欺负你们，我就白长这么大了！”上述现象体现了什么思想？该现象的主要动因是什么？(2分)

(3) 面对这一现象，请你为“小个子们”提出几条合理化建议。(3分)

23. 阅读下面的漫画，结合初三所学的知识回答下列问题。



三、辨别分析题(本题 10 分，只作判断不说明理由不得分)

24. 发展经济是当务之急，环境污染将来治理也不迟。

四、分析说明题(本题 12 分)

25. 阅读下列材料,结合所学知识,分析说明问题。

材料 1 目前,发达国家对经济增长的贡献率已占 60—80%,而中国仅为 30%。

材料 2 胡锦涛总书记在全国人才工作会议上指出,人才问题是关系党和国家事业发展的关键问题,要把实施人才强国战略作为党和国家一项重大而紧迫的任务抓紧抓好。要牢固树立人人都可以成才的观念,坚持德才兼备的原则,把品德、知识、能力和业绩作为衡量人才的主要标准。

材料 3 《中共中央关于进一步加强和改进未成年人思想道德建设的若干意见》指出,未成年人的思想道德状况,直接关系到中华民族的整体素质,关系到国家前途和民族命运。

(1)材料 1 说明了什么问题?

(2)结合材料 1、2,说明科技、人才与经济发展的联系。

(3)结合材料 2、3,谈谈你对成才标准的理解。

五、探究与实践(本题 14 分)

26. 小明用自己的压岁钱为奶奶买了两盒安神口服液,奶奶喝了一支,即感到有些恶心。小明详细研究其包装,发现自己买的是假冒伪劣产品,心里十分愧疚。奶奶说:“你的孝心我领了,我不喝了,自认倒霉吧。”父亲不同意奶奶的看法,并十分生气地提出了对此事的处理意见。小明听后对奶奶和父亲的意见都不赞成,他用所学的法律知识说服了奶奶和父亲,然后提出自己的意见,使这件事得到了圆满解决。

(1)请根据上述材料推测小明和父亲对此事的处理意见分别是怎样的?

(2)如果你是小明,你会怎样说服奶奶和父亲?

7. 驴是美国共和党的象征,大象是民族党的象征。下图是讽刺 2004 年美国大选的“驴象之争论”的漫画,共和党的获胜 ()



- A. 改变了工人被雇佣,受剥削的命运
 B. 使资本主义国家的民主不断得到进步和完善
 C. 改变不了资本主义国家是资产阶级统治工人阶级和其他劳动人民的工具
 D. 使美国和发展中国家的矛盾得到了缓和
8. 截至 2004 年,我国农业科技贡献率已达 45%,其中种植业、林业、畜牧业、渔业、科技的贡献率分别为 42.4%、31.4%、42% 和 45%,使我国成为世界粮棉油生产和畜禽、水产养殖第一大国,农业科技贡献率的提升为农村经济持续发展 and 农民增收做出了较大贡献。这充分体现了 ()

- A. 我国农业的发展完全是靠科技的投入
 B. 科技是第一生产力
 C. 我国已经成为农业现代化国家
 D. 我国综合国力增强、国际地位提高
9. 下幅漫画中的经济行为违反了经济活动中的 ()
- A. 自愿原则 B. 平等原则 C. 公平原则 D. 诚实信用原则



10. 以下宣传广告语体现可持续发展战略的有 ()
- ①花草有情,人间有爱 ②计划生育,人人有责
 ③环境保护连着你我他 ④“盼统一,反台独”
 ⑤但留方寸土,留与子孙耕 ⑥为人当以诚信为本,为官当以清廉为本
- A. ①②③⑤ B. ①⑤⑥ C. ①③⑤ D. ②④⑥

2. 2005 年课改实验区中考模拟试题(二)

政治

一、选择题

1. 在我国半坡氏族原始居民普遍使用磨制石器开垦土地,用石刀收割庄稼,主要农作物是粟。这体现了 ()
- A. 原始人生产经验少 B. 原始社会生产力水平极端低下
 C. 原始社会没有剥削和压迫 D. 原始社会自然条件恶劣
2. 下列现象属于在奴隶社会开始出现的是 ()
- ①文字的出现 ②畜牧业的生产
 ③体力劳动和脑力劳动的分工 ④金属工具的出现
- A. ①② B. ③④
 C. ②④ D. ①③
3. 在我国封建社会,皇帝被称为“天子”,王侯的墓被称为“冢”,平民百姓的墓被称为“坟”,圣人的墓被称为“林”。这种区别体现了封建社会里存在 ()
- A. 封建土地所有制 B. 生死有命,富贵在天
 C. 封建等级制度 D. 君权神授
4. 出现区别的根本原因是 ()
- A. 封建政权制度 B. 生死有命,富贵在天
 C. 封建等级制度 D. 封建土地所有制
5. 唐代诗人张翥的《蚕妇》中“昨日入城市,归来泪满襟。遍身罗绮者,不是养蚕人”。诗歌体现了地主对农民的剥削,出现这种剥削的根源是 ()
- A. 封建政权制度 B. 生死有命,富贵在天
 C. 封建等级制度 D. 封建土地所有制
6. 在奴隶社会,奴隶毫无人身自由,在奴隶主的强迫下进行最繁重的劳动;在封建社会,农民有了一定的人身自由,能够比较自主地进行劳动;在资本主义社会,工人是自由劳动者,他们可以选择受哪个资本家雇佣的自由。劳动者人身自由各不相同,最根本的根源是 ()
- A. 统治者对劳动者剥削程度的不同
 B. 剥削者对生产资料的占有程度的不同
 C. 三个阶级的生产力水平的不同
 D. 劳动者在社会生活中地位不同

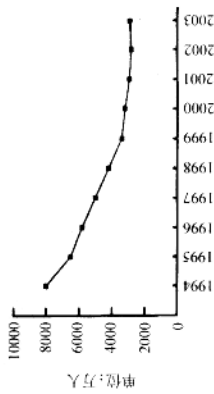
11. 下图漫画指的是发生在2005年1月28日的事件(2005年1月29日,9架来自大陆和台湾的民航客机,满载着众多台商及眷属的返乡心情和大陆同胞的亲情况,往返穿梭于海峡两岸上空,实现了跨越36年的历史性飞越。)

- A. 两岸直航
B. 台商春节包机
C. 两岸高层领导人互访
D. 两岸通邮



12. 下图是历年国家统计局《中国农村贫困监测报告》图中的曲线充分说明了()

- A. 社会主义具体制度还不够完善
B. 我国已经消除了贫困
C. 我国人口众多制约我国经济发展和人民生活水平的提高
D. 社会主义的本质是解放和发展生产力,消灭剥削,消除两极分化,最终达到共同富裕



13. 世界银行副行长傅兰妮说中国在过去二十年中,无疑是全球扶贫做贡献最大的国家。中国政府在经过二十多年的努力,把尚未解决温饱的贫困人口从一九七八年的两亿五千万人减少到现在的两千九百万人。贫困发生率从百分之三十降低到百分之三左右,农村人口的温饱问题基本解决。这充分体现了

- A. 社会主义具体制度还不够完善
B. 我国已经消除了贫困
C. 我国人口众多制约我国经济发展和人民生活水平的提高
D. 社会主义的本质是解放和发展生产力,消灭剥削,消除两极分化,最终达到共同富裕

2004年8月22日是社会主义改革开放和现代化建设的总设计师邓小平同志诞生一百周年。他留给我们的财富就是他创立的邓小平理论,在这个理论指导下制定的党在社会主义初级阶段的基本路线。请根据材料回答14~17题:

14. 1978年()召开,吹响了改革开放的嘹亮号角
A. 十一届三中全会
B. 十六大
C. 十六届四中全会
D. 党的十三大

15. 基本路线的核心内容是
A. 自力更生、艰苦创业
B. 把我国建设成为富强、民主、文明的社会主义现代化国家
C. 以经济建设为中心,坚持四项基本原则,坚持改革开放
D. 实现中华民族伟大复兴

16. 坚持党的基本路线不动摇,最关键的是坚持()不动摇
A. 四项基本原则
B. 改革开放
C. 社会主义制度
D. 以经济建设为中心

17. 邓小平对祖国和平统一大业的巨大贡献不断为人们所缅怀和颂扬。实现祖国的统一是他的遗志。邓小平提出了用()的科学构想解决台湾问题和香港问题、澳门问题
A. 和平统一、一国两制
B. 平等、团结、互助
C. 两岸直接通商、通邮、通航
D. 一个中心、两个基本点

18. 联合国贸发会议秘书长里库佩罗评价:“中国的改革开放是近几十年来最广受关注、最富有戏剧性、最引人入胜的经济发展历程。她已成为世界经济增长的重要引擎。”这体现了改革开放是
A. 立国之本
B. 强国之路
C. 政治保证
D. 文化建设的基础工程

19. 台湾民歌《我们都是一家人》所唱“我们都是一家人,现在也是一家人,永远都是一家人。手牵着手,肩并着肩,轻轻地唱出我们的歌声;团结起来,相亲相爱,因为我们所有海内外中华儿女的共同心声。我们是一家人是因为
A. 台湾自古就是中国的领土,大陆和台湾同属一个中国
B. 任何分裂祖国的图谋和行为都是违背历史发展潮流的,是注定要失败的
C. “一国两制”是两岸统一的最佳方针
D. 坚持一个中国的原则是发展两岸关系和实现和平统一的基础

20. 国务委员召开的中央经济工作会议12月3日至5日上午在北京举行。明年我国经济发展必须不断提高我国的综合国力,全面增强我国经济的整体竞争力。最根本的是要坚持
A. 四项基本原则
B. 可持续发展战略
C. 以经济建设为中心
D. 思想道德建设

目前,相对于发达国家,中国的生产力和科技水平仍较落后,人均GDP依然偏低,人均资源不足,还有3000万农民需要解决温饱,2300万城镇人口需要领取最低生活保障金,完善社会主义市场经济体制的任务十分繁重。根据材料回答21、22题:

21. 这说明当代中国的最基本国情是处于 ()
- A. 社会主义初级阶段
B. 社会主义发达阶段
C. 以农业为主的阶段
D. 高级阶段
22. 由此可见我国社会的主要矛盾是 ()
- A. 人口众多和劳动者素质不高之间的矛盾
B. 经济发展与环境恶化之间的矛盾
C. 人口众多与资源短缺之间的矛盾
D. 人民日益增长的物质文化需要和落后的社会生产之间的矛盾

2004年是全国人大成立50周年。改革开放以来全国人民代表大会制定了现行宪法和4个宪法修正案,全国人民代表大会及其常务委员会制定了200多件现行有效的法律,国务院制定了650多件现行有效的行政法规,地方人民代表大会及其常务委员会制定了7500多件现行有效的地方性法规,民族自治地方的人民代表大会制定了600多件自治条例和单行条例。根据材料回答23、24题:

23. 我国的最高权力机关是 ()
- A. 最高人民法院
B. 国务院
C. 最高人民法院
D. 全国人民代表大会
24. 我国的根本政治制度是 ()
- A. 社会主义制度
B. 公有制
C. 民族区域自治制度
D. 人民代表大会制度

2004年10月10日法国文化年在北京拉开序幕,法国在中国各大城市通过举办百余项活动向中国各个层面的民众展示法国文化和法国精神。根据材料回答25~27题:

25. 这说明了当今国际社会的基本事实是 ()
- A. 社会主义国家和资本主义国家之间的矛盾已经解决
B. 社会主义国家和资本主义国家长期共存和斗争
C. 社会主义国家和资本主义国家可以和睦相处
D. 社会主义国家和资本主义国家先进的生产力的发展来发展自己

26. 中国和法国互办文化年进一步加强了两国之间的友好合作关系,这给我们的启示是在现代化建设中必须实施()基本国策 ()

A. 可持续发展
B. 计划生育
C. 保护环境
D. 对外开放


27. 在对外文化交流中,我们要 ()

①吸收发达国家的文明成果 ②向世界展示中国文化建设成就
③全盘吸收外国的文化成果 ④坚持以我为主,为我所用的原则

A. ①②③
B. ②③④
C. ①②④
D. ①③④

二、问答题

28. 请根据下图漫画的内容回答:



(1) 这幅漫画反映了我国什么问题?

(2) 请你具体分析产生漫画中现象的具体原因是什么?

(3) 我们应当怎样解决漫画中出现的现象?

29. 材料1 二十多年来,我国经济持续高速增长,取得了举世瞩目的辉煌成就,但是也带来了工业化、城市化带来的烟尘、二氧化硫等污染,机动车和有毒有害化学品污染,城市化学污染,外来物种入侵等新问题,污染已从陆地蔓延到近海水域,从一般污染物扩展到有毒有害污染物,已形成大气、水体、土壤污染相互作用的格局,对生态系统、食品安全、人体健康构成了日益严重的威胁。

材料2 2005年1月18日,国家环保总局召开新闻发布会宣布筹建金沙江溪洛渡水电站等13个省市的30个违法开工项目,这是2003年9月《中华人民共和国环境影响评价法》实施后环保总局首次大规模对外公布违法开工项目。

请根据材料回答下列各题:

(1) 材料1反映了我国什么问题?

(2)材料2体现了我国实施什么基本国策和什么战略?

- ①1949年 _____
- ②1956年 _____
- ③1978年 _____

(2)为什么中国共产党团结带领全国各族人民,战胜各种风险和挑战,把四分五裂、贫穷落后的旧中国建设成为人民生活总体上达到小康水平、正在蓬勃发展的新中国,取得了举世瞩目的成就?

(3)在你所居住的地方最严重的环境问题是什么?请就针对这个问题提出一条解决问题的办法。

30. 在现实生活中,我们每个人都有可能购买过假冒伪劣商品。作为消费者,我们的合法权益都有可能受到不同程度的侵害。在3·15消费者权益日到来之际,政治老师指导同学们开展一次社会调查。请你加入调查的行列,并完成下列任务:

(1)设计两个调查题目。

(2)写出1种有效的调查方法。

(3)在调查活动中你有什么收获?

31. 中国共产党第十六届中央委员会第四次全体会议9月16日至19日在北京举行。全会审议通过了《中共中央关于加强党的执政能力建设的决定》。全会回顾了党的执政历程,一致认为党执政55年来,团结带领全国各族人民,战胜各种风险和挑战,把四分五裂、贫穷落后的旧中国建设成为人民生活总体上达到小康水平、正在蓬勃发展的新中国,取得了举世瞩目的成就。

(1)在中国共产党领导中国人民进行新民主主义和社会主义革命的历史征途中取得了辉煌的成就,请根据下列时间提示说说在党的领导下,在中华民族的伟大复兴的历史征途中发生的历史事件是什么?

(3)中国共产党团结带领全国各族人民,战胜各种风险和挑战,把四分五裂、贫穷落后的旧中国建设成为人民生活总体上达到小康水平、正在蓬勃发展的新中国,取得了举世瞩目的成就,充分说明了什么道理?

32. 如果说1984年的洛杉矶奥运会中国队获得15枚金牌让世界看到了中国改革开放之初的面貌,那么,2004年雅典奥运会中国队获32枚金牌的佳绩成为仅次于美国的全球第二体育强国,则让世界看到了改革开放和经济崛起为中国社会和人民带来的巨变。这一切无不标志着经历了20多年改革开放和经济崛起后,中国终于赢得了与自身国力相适应的体育大国地位。

(1)改革开放和经济崛起为中国社会和人民带来的巨变说明了什么道理?

(2)20多年改革开放和经济崛起后,中国终于赢得了与自身国力相适应的体育大国地位。请你说说其主要原因是什么?

(3)我们相信在2008年北京奥运会上祖国定能取得骄人的成绩,请你说说其依据是什么?

33. 共和国 55 载沧桑巨变——从数字看中国

材料 1 “欢腾的数字，自豪的比较”：(欢腾的数字，自豪的比较——中国在世界的位次)
在共和国 55 岁的生日之际，我们就跟全球，回首变迁，在世界的坐标中寻找自己的位置

	1949	1978	1990	1995	2000	2002	2003 年
谷物		2	1	1	1	1	1
肉类	3	3	1	1	1	1	1
棉花	4	3	1	1	1	1	1
大豆	2	3	3	3	4	4	4
花生	2	2	2	1	1	1	1
油菜籽	2	2	1	1	1	1	1
甘蔗		9	4	3	3	3	3
茶叶	3	2	2	2	2	2	2
水果			4	1	1	1	1

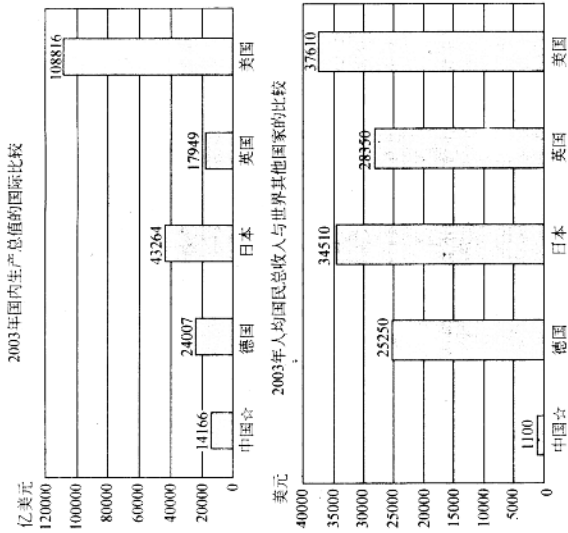
注：肉类 1990 年以前为猪、牛、羊肉产量的位次

	1949	1978	1990	1995	2000	2001	2002 年
钢	26	5	4	2	1	1	1
煤	9	3	1	1	1	1	1
原油	27	8	5	5	5	5	5
发电量	25	7	4	2	2	2	2
水泥		4	1	1	1	1	1
化肥		3	3	2	1	1	1
化学纤维		7	2	2	2	2	2
棉布		1	1	1	2	2	1
糖		8	6	4	4	3	3
电视机		8	1	1	1	1	1

(1)从“欢腾的数字，自豪的比较”中你能够感悟到什么道理？

(2)在共和国 55 岁的生日我们放眼全球，回首变迁，祖国发生了哪些方面巨变？

材料 2 理性的数字，清醒的比较。




(3)从理性的数字中，同世界发达国家相比，看“总量”令人欣喜，看“人均”我们还存在差距。这种差别总体上体现在哪些方面？(请你说说当代中国的最基本国情是什么?)

(4)欢腾的数字令我们坚信一定能够实现强国富民、民族复兴的百年梦想。为中华民族的伟大复兴我们应当怎么做？

(5)回首 55 年难忘岁月，对我们的社会主义现代化建设有哪些启示？

34. 了解中国历史

(1) 了解近代中国发生的大事



历史的感悟

(2) 从1840年到1949年的中国近代史中,根据课文所学知识你能够得出哪些结论?(至少写4个)

分析历史

对于中国的近代史,毛泽东曾经说:“帝国主义的侵略打破了中国人民学西方的迷梦。很奇怪,为什么先生老是侵略学生呢?中国人向西方学得很不少,但是行不通,理想总是不能实现。多次奋斗,包括辛亥革命那样全国规模的运动都失败了,国家的情况一天一天变坏,环境迫使人们活不下去。怀疑产生了,增长了,发展了。”请根据材料回答:

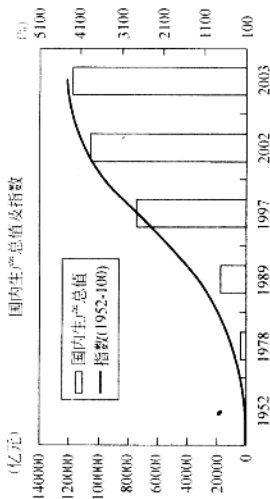
(3) 除材料中提到的辛亥革命之外,你还能够举出哪两次中国人民救国图强的伟大尝试?

(4) 中国人向西方学得很不少,但是行不通,理想总是不能实现。多次奋斗,包括辛亥革命那样全国规模的运动都失败了,为什么?

感受祖国巨变,为中华民族的伟大复兴而努力

2004年4月24日,胡锦涛总书记在博鳌亚洲论坛年会上发表演讲,就中国25年来的发展,向各国来宾展示了下面的数字。

年份	国内生产总值	年进出口总额	外汇储备
1978	1473亿	206亿	1.67亿
2003	14000多亿	8512亿	4033亿



看到这些数字,同学们一定会为祖国取得的成就而自豪,请回答:

(5) 据课文内容回答在中华民族的伟大复兴征途中,祖国取得的成就主要表现在哪?

(6) 祖国的发展和百姓生活水平的提高充分说明了一个什么道理?

(7) 请你说说在中华民族的伟大复兴征途中我们还有哪项历史任务没有完成? 请你引用一句名言或者自己写一句话,表达期盼祖国早日实现这项历史任务的心声。

3. 2005 年课改实验区中考模拟试题(三)

政治

(考试时间 90 分钟, 满分 100 分)

第一卷 (选择题 共 40 分)

一、单项选择题(下列各题列出的四个选项, 中只有一项最符合题意, 选出后填入题后括号内。每题 2 分, 共计 40 分)

1. 2004 年 6 月 29 日, 贵州省原省委书记刘方仁因受贿罪被北京市第二中级人民法院依法判处无期徒刑。这说明我国法律具有_____特征。

①由国家制定或认可。②靠国家强制力保证实施。③对全体社会成员具有普遍约束力。

- A. ①②③
B. ①②④
C. ①③④
D. ②③④

2. 当我们漫步在城市街道时, 经常会看到路面上会有许多口香糖的污迹, 这些污迹给这条整洁整洁的街道造成了难以消除的“雀斑”。制造这令人头痛的“城市雀斑”的行为属于



①妨害社会管理秩序的行为。②破坏环境的行为。③损害社会主义精神文明建设的行为。④危害公共安全的行为。

- A. ①②③
B. ②③④
C. ①②④
D. ①③④

3. 某书店老板说:“本店书刊者已售出, 有质量问题可找印刷厂, 本店概不负责”。这一说法

- A. 合情合理
B. 合情但不合理
C. 应追究其刑事责任
D. 是对消费者的合法权益不负责任的违法行为

4. 下列能反映漫画离意的叙述是



①必须坚持不懈地增强公民的法制观念。②必须坚持不懈地加强思想道德建设。③必须坚持不懈地加强物质文明建设。④必须坚持不懈地加强精神文明建设。

- A. ①②③
B. ①②③④
C. ②③④
D. ①②④

5. 为了保护和改善环境, 防治污染和生态破坏, 保障人体健康, 促进社会主义现代化建设的发展, 我国制定了环境领域的基本法律, 它是

- A. 《中华人民共和国森林法》
B. 《中华人民共和国环境保护法》
C. 《中华人民共和国大气污染防治法》
D. 《中华人民共和国水污染防治法》

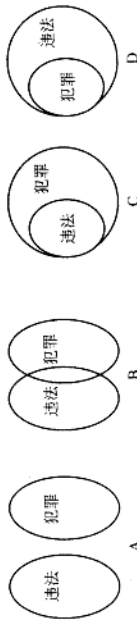
6. 据《法制日报》报道, 我们的舆论由于对一些英勇献身的儿童大加宣扬, 导致某报曾在一个月内收到 17 名儿童救人身亡的事迹。出于对儿童关爱和避免误导的考虑, 某省民政厅决定不给 10 岁以下的儿童授予烈士称号。下列对此认识正确的是

- A. 中小學生不应该同坏人坏事作斗争, 而应该学会自我保护
B. 中小學生属于未成年人, 没有同违法犯罪作斗争的义务
C. 我国宪法和法律没有赋予中小學生与犯罪分子作斗争的权利
D. 中小學生遇到坏人坏事讲究策略, 见义“智”为, 不能硬拼

7. 使“台独”分子闻风丧胆的是

- A. “一国两制”
B. 《反分裂国家法》立法程序启动
C. 两岸经济文化交流的加强
D. 实行“三通”

8. 下列图示中, 正确反映违法与犯罪关系的是




9. 第十届全国人大二次会议 3 月 14 日下午投票表决通过宪法修正案。根据十届全国人大二次会议表决议案办法, 表决宪法修正案草案, 采用大会无记名投票方式, 由全体代表的 2/3 以上的多数通过。会议经过表决, 赞成票超过全国人民代表大会全体代表的 2/3 以上, 这表明

- ①全国人民代表大会是最高国家权力机关和行政机关。②全国人民代表大会拥有立法权。③宪法具有严格的修改程序。④宪法的修改要由全国人民代表大会以全体代表的 2/3 以上多数通过。

- A. ①②③④
B. ①②③
C. ②③④
D. ①③④

10. 陈红的一曲《常回家看看》唱道:“……常回家看看, 回家看看, 哪怕是帮爸爸捶捶后背揉揉肩; ……哪怕是帮妈妈刷刷孩子洗洗碗……就图个团团圆圆……”。这首歌唱红了大江南北, 唱进了多少老人的心坎里, 这表明

17. 开辟中国历史新纪元的是 ()
- A. 中国共产党的诞生
B. 社会主义的建立
C. 十一届三中全会的召开
D. 中华人民共和国成立
18. 党的十六大郑重地把“三个代表”重要思想写入党章, 同坚持马克思主义、毛泽东思想、邓小平理论一道作为党的指导思想。对此我们应当这样认识“三个代表” ()
- ①是党的立党之本, 执政之基, 力量之源
②是中国共产党先进性的集中体现
③是中国共产党能继续站在时代前列, 带领人民胜利前进的保证
④是党在成立之初就充分认识到
- A. ①②③④
B. ①②③
C. ①②④
D. ②③④
19. 下列图示中, 能正确反映生产力与生产关系二者之间的相互关系的是 ()




20. 振兴东北老工业基地 ()
- ①体现了社会主义本质要求 ②充分显示了社会主义国家能集中力量办大事的优越性
③可以加快社会主义现代化建设的进程 ④有利于少数民族地区实行民族区域自治
- A. ①②③④
B. ①②③
C. ①②④
D. ①②

第 II 卷 (非选择题 共 60 分)

二、简答题 (每题 8 分, 共 24 分)

21. 赏析漫画《老师罚我做 50 个》回答下列问题:



- A. 老人们喜欢儿女为他们唱歌
B. 老人们喜欢儿女们为他们做些家务事
C. 老人们需要儿女常回家给他们以物质上的帮助
D. 老人们需要儿女常回家给他们以精神上的慰藉
11. 公民甲和乙就“公民最基本的权利”问题发生了争论。甲说:“现代生活就要有钱, 而要挣钱就必须有劳动的机会, 所以劳动权是公民最基本的权利”。乙说:“知识经济时代最需要知识, 受教育才是公民最基本的权利”。作为一名学生, 你对此的看法是 ()
- A. 甲的观点是正确的, 因为只有劳动才能获得生存所需的物质资料
B. 乙的观点是正确的, 因为受教育既是公民的权利也是公民的义务
C. 甲、乙的观点都是正确的, 因为劳动权和受教育权都是宪法确认的公民的基本权利
D. 甲、乙的观点都是错误的, 因为人身自由权利是公民的最基本的权利, 是公民享有其他一切权利的先决条件
12. 中央电视台举办的“焦点访谈”和“新闻调查”等节目, 对国家机关和其他工作人员腐败现象、不正之风、社会上的违法行为、丑恶现象, 进行了有力的抨击和曝光, 引起了社会的强烈反响和中央领导的高度重视。这表明 ()
- ①新闻监督是公民行使批评、建议权最有效、最直接的手段
②电视等新闻媒体能发挥新闻监督的作用
③新闻监督在反对官僚主义, 纠正不正之风等方面发挥着重要作用
④党和政府十分重视人民的监督工作
- A. ①②③④
B. ①②③
C. ①②④
D. ②③④
13. 经中国内地和台湾民航部门的协商, 2005 年春节台商包机业务的范围扩大到北京、上海、厦门、广州四个城市和台湾的台北、台南, 首次实现了两岸直航。这一事实说明 ()
- A. 祖国实现了统一
B. 两岸人民实现了直接“三通”
C. 两岸人民正在积极加强交流, 力促祖国早日实现统一
D. “和平统一, 一国两制”的方针是实现祖国统一的最佳方式
14. 在雅典举行的第 28 届奥运会上, 夺得我国具有历史意义的第 100 枚金牌的女运动员是 ()
- A. 郭晶晶
B. 杜丽
C. 张怡宁
D. 王楠
15. 我国封建社会流传着这样一首歌谣:“种田的, 缺米粮, 晒盐的, 喝淡汤; 纺织娘, 没衣裳; 缴凉席的, 睡光床”。造成这种现象的根源是 ()
- A. 封建的土地所有制
B. 封建的等级制度
C. 地主阶级的残酷剥削
D. 封建专制的统治罗网
16. 下列反映第三次科技革命的事件是 ()
- ①瓦特发明蒸汽机 ②贝尔发明电话 ③美国阿波罗号飞船登月成功 ④第一台电子计算机问世 ⑤因特网的出现 ⑥中国秦山、大亚湾核电站建成使用
- A. ①②③④⑤⑥
B. ③④⑤⑥
C. ②③④⑤
D. ①③④⑤⑥

(1) 你认为老师的做法合适吗？为什么？

(2) 作为学生，你如何对待此类行为？

22. 材料：“13亿，是一个很大的数字，如果你用乘法来算，一个很小的问题，乘以13亿，就会变成一个大问题。如果你用除法的话，一个很大的总量，除以13亿，就会变成一个小数目”。这是温家宝总理在接受美国《华盛顿时报》记者采访时，提出的简单而又复杂的“乘法”。

阅读上述材料，回答下列问题：

(1) 温家宝提出“乘法”的出发点是什么？

(2) 请你联系所学知识，写出与这个出发点相一致的观点。（至少两条）

(3) 请你从政治、经济、文化三方面列举出中国共产党所做的能体现这个出发点的具体事例。（各举一例）

23. 小明是初二(2)班的学生。暑假在政治老师的指导下，进行了一次社会调查活动。下列内容是他调查的情况记载：

某生产“娃哈哈”AD钙奶的厂家，对过期的AD钙奶及大量不符合质量要求的AD钙奶全部销毁，并组织全厂职工学习产品质量法。

某生产月饼的著名厂家，竟用陈馅来生产月饼，并将其出售给消费者。请你替小明简要分析这两个厂家的做法。

三、辨别分析题(本题10分，只判断不说理由不得分)

24. 正确行使权利是公民意识的重要表现，自觉履行义务更是公民意识的重要表现。