

# MENSA



世界第一智商俱乐部

# 门萨

youth  
青少年版

10 课堂之外的脑力震荡 智力刺激的无穷乐趣

## 连环迷宫

INTERLINKED MAZE  
(英) 罗伯特·艾伦 主编



希望出版社

Text and puzzle content copyright © British Mensa Limited 1993  
Design and Artwork copyright © Carlton Books Limited 1993

## 关于门萨 ( MENSA )

### ◎门萨是什么

门萨是世界顶级智商俱乐部的名称，于1946年成立于英国牛津，创始人是律师贝里尔和科学家韦尔。他们有意为聪明者建立一个社团，通过充满挑战性的社团活动而使参加者的高智商获得承认并得以不断提高，并分享彼此的成功感。

### ◎门萨的影响

半个多世纪的发展使门萨成为世界上最好的、规模最大以及最为成功的智商俱乐部。作为一个超级俱乐部，它拥有十万以上的会员，遍布世界100个国家，除南极外，各大洲超过40个国家都设立有它的分支机构。

除了高智商外，门萨的会员可以说并无其他特征。参加门萨的惟一途径便是参加考试并脱颖而出——每一百个通过门萨考试的人中，有两个最拔尖者可能会被吸纳为正式会员。

### ◎门萨智力测试

门萨除了为他的会员们提供一个充满刺激的智力交流论坛外，还将他的会员们所贡献的最具挑战的智力问题结集出版，让会员之外的人士共同分享。凭借门萨在智商测试领域的地位，门萨系列图书不但热销于欧美，同时还被世界众多政府机构和跨国公司列为甄选人才的重要参考标准。

“门萨系列图书”是门萨俱乐部特别推出的一套智力测试丛书，希望出版社将其第一次比较完整地引进国内，共25本。

M

E

N

S

A

INTERLINKED  
M A Z I N G  
® 连环迷宫

(英) 罗伯特·艾伦 主编  
杨振华 译

希望出版社

图书在版编目(CIP)数据

门萨Mensa. 第3辑. 连环迷宫 / (英) 罗伯特·艾伦主编; 杨振华译. —太原: 希望出版社, 2005.1  
ISBN 7-5379-3454-1

I. 门... II. ①罗... ②杨... III. 智力测验 IV. G449.4

中国版本图书馆CIP数据核字(2004)第137809号

I N T E R L I N K E D

10 连环迷宫 MAZE

Text Copyright © British Mensa Limited 1995  
Design and Artwork Copyright © Carlton Books Limited 1995  
All right reserved

Licensing Agent: Asia Pacific Offset Ltd., Hong Kong  
&  
Integrated Image Co. Ltd., Guangzhou (www.bookgate.com.cn)

Chinese Translation © 2004 Anno Domini Media Co. Ltd., Guangzhou

译文由广州公元传播有限公司提供  
所有权利保留  
版权合同登记号: 图字04-2002-004号

主 编 / (英) 罗伯特·艾伦  
译 者 / 杨振华  
特约编辑 / 蔡国才  
责任编辑 / 申月华  
复 审 / 武志娟  
终 审 / 赵连娣  
装帧设计 / 谢 欢  
出版发行 / 希望出版社  
经 销 / 新华书店  
制 作 / 广州公元传播有限公司  
印 刷 / 广州市番禺锦云彩印有限公司  
规 格 / 787 × 1092mm 1/24 6½印张 80千字  
版 次 / 2005年1月第1版第1次印刷  
书 号 / ISBN 7-5379-3454-1/0 · 0013  
定 价 / 80.00元 (共4册)

若有印装质量问题, 请致电 020-33199099 联系调换。

## 与门萨大师相抗衡

我们要勇敢地面对难题，它们是任何人都可以解决的。毫无疑问，其中有些比较棘手，但只要花多一点时间，你就能够把它们搞掂。让我们来尝试一下这些更新异、更具有挑战性的题目吧。这些题目甚至会让你死掉不少脑细胞，使你目瞪口呆，跟傻瓜似的。但它们绝对有趣，有劲！

那是什么东西呢？是思维的迷宫！智力的迷宫！

在每一个迷宫里，所有题目均以某种顺序相互联系在一起，这种顺序与题目中的序号并不相同。只有经由每一道巧妙设计的难题，才能将下一道应做的难题引出。例如下面这道难题：

找出这个数列的下一个数字。当你求出答案后，将结果翻倍后就是下一道题目的题号。

2 4 6 8 10 ?

在上面的数列中，每两个数字之间递增2，所以问号处的数字应是12，翻倍后变成24，也就是说，你要做的下一道题就是第24题。

本书的每一道难题都会指引你要做的下一道题目，错误的答案可能会导致错误的解题路线。只有通过正确的解题路线，你才可以赢得最终的胜利。如果做错一道题，就会有很大的麻烦！

另外，在这些谜题中，常常会用英文字母来代替数字。为了帮助读者解题，我们使用的基本上是字母在字母表的位置序号，例如A=1，B=2，……M=13，N=14，……Z=26。

好啦，别只说不练了。让我们开始吧，还有许多难题等着解决呢！



罗伯特·艾伦

(门萨天才儿童基金会首席执行官)

目  
→  
录

寻宝之旅

7

答案 13

星际测试

15

答案 23

密探

25

答案 34

课堂的乐趣

37

答案 46

军校毕业考试

63

答案 84

爱因斯坦学院

87

答案 104

宝藏之路

49

答案 60

摇滚音乐会

107

答案 128

终极挑战

131

答案 156





# XUNBA





# 寻宝之旅 Treasure Hunt

“沼泽之光”汽车俱乐部正在举行年度寻宝大赛。  
按照规定，参赛者必须从起点开始，根据俱乐部所提供的线索到达目的地。只有按照正确的路线走完全程，才有可能赢得比赛。

# ZEHÜ

1 one

答案：13注

如图所示，时针和分针在下列钟表上分别转动。请判断一下，第四个钟表应该是几点钟？如果你选择的是A，那么请转至第4题；如果你选择的是B，请转至第6题；如果你选择的是C，请转至第9题。

- A. 9 : 15
- B. 9 : 30
- C. 9 : 45



M E N S A M E N S A M E N S A

注：阿拉伯数字是该题答案所在页码，全书同。

# 2 two

答案: 13

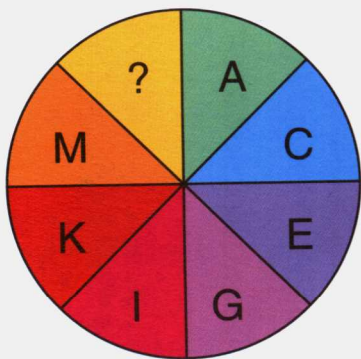
丹妮尔游遍了欧洲。她喜欢巴黎 (Paris)，但不喜欢伦敦 (London)；喜欢法兰克福 (Frankfurt)，但不喜欢波恩 (Bonn)；喜欢阿姆斯特丹 (Amsterdam)，但不喜欢巴塞罗那 (Barcelona)。那么，她会喜欢圣彼得堡 (St Petersburg) 吗？如果你选择的是“喜欢”，那么，请转至第5题；如果你选择的是“不喜欢”，那么，请转至第8题。



# 3 three

答案: 13

请找出一个合适的字母填入下图中的问号处。如果你选择的是 B，转至第6题；如果你选择了 F，转至第10题；如果你选择了 O，转至第9题。



M E N S A M E N S A M E N S





为绿色空间，家庭友善于孩，我们让个高智能机器人分在家庭使用是和家器。地址：Media House, 37 John's Square, Whitehampton, W4 4AH, England. 如果您不住英国，但希望获取更详细的信息，您也可以联系MENA团队联系我们。一点出色的提示：好了，您准备好将有足够的读者进入到您网站了吗？

**S**ix  
您准备好将一百五十万受众的空间，留给，您也可以成为其中的一员。如果您准备好向您的“努力成果”，那么您准备好拥有这么多独特的宝贵资源了吗？

**S**ix  
您准备好将一百五十万受众的空间，留给，您也可以成为其中的一员。如果您准备好向您的“努力成果”，那么您准备好拥有这么多独特的宝贵资源了吗？

**S**ix  
您准备好将一百五十万受众的空间，留给，您也可以成为其中的一员。如果您准备好向您的“努力成果”，那么您准备好拥有这么多独特的宝贵资源了吗？

**S**ix  
您准备好将一百五十万受众的空间，留给，您也可以成为其中的一员。如果您准备好向您的“努力成果”，那么您准备好拥有这么多独特的宝贵资源了吗？

我们准备好将一百五十万受众的空间，留给，您也可以成为其中的一员。如果您准备好向您的“努力成果”，那么您准备好拥有这么多独特的宝贵资源了吗？

**S**ix  
您准备好将一百五十万受众的空间，留给，您也可以成为其中的一员。如果您准备好向您的“努力成果”，那么您准备好拥有这么多独特的宝贵资源了吗？

**S**ix  
您准备好将一百五十万受众的空间，留给，您也可以成为其中的一员。如果您准备好向您的“努力成果”，那么您准备好拥有这么多独特的宝贵资源了吗？

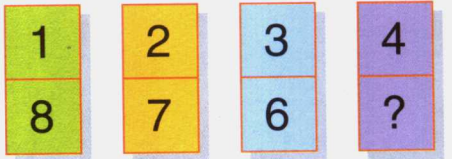
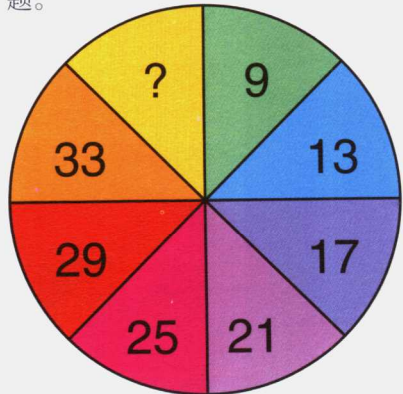
**S**ix  
您准备好将一百五十万受众的空间，留给，您也可以成为其中的一员。如果您准备好向您的“努力成果”，那么您准备好拥有这么多独特的宝贵资源了吗？

**S**ix  
您准备好将一百五十万受众的空间，留给，您也可以成为其中的一员。如果您准备好向您的“努力成果”，那么您准备好拥有这么多独特的宝贵资源了吗？

# 6 six

答案: 13

请找出下图问号处所缺少的数字，并将答案减去34，进入下一道题。



# 7 seven

答案: 13

请找出上面问号处所缺少的数字，将答案加上3后，进入下一道题。





## 8

eight

答案: 13

A、B、C、D四个选项中，哪一个图形可以放入下图问号处？如果选择A，就转至第4题；如果选择B，就转至第2题；如果选择C，就转至第9题；如果选择D，那就转至第10题。



?



A

B

C

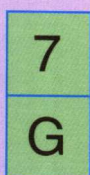

D

## 9

nine

答案: 13

请找出问号处所缺少的字母。如果你认为是K，就转至第6题；如果选择F，就转至第4题；如果选择I，就转至第7题。



M

E

N

S

A

连

环

M

密

## 10

ten

答案: 13

欢迎来到终点。你的路线是怎样的？

# Answers 答案1-10

1. A。转至第4题。时针每次向前移1个小时，而分针则向前移动15分钟。

2. 喜欢。转至第5题。在那些她所不喜欢的景点中，都包含着字母O。

3. O。转至第9题。从字母A开始，沿顺时针方向看，每两个字母之间均依照字母表的顺序丢失了一个字母。

4. 喜欢。转至第2题。他所讨厌的州的名称中都包含着一个字母“T”。

5. 24。转至第6题。从数字3开始，按照顺时针方向看，每两个数字之间递增3。 $24 \div 4 = 6$ 。


6. 37。转至第3题。从数字9开始，按照顺时针方向看，每两个数字之间递增4。 $37 - 34 = 3$ 。

7. 5。转至第8题。在上面一行从左往右数，然后从下面一行从右往左数，可以形成一个数列。 $5 + 3 = 8$ 。

8. D。转至第10题。题中所有的图形都由3条线组成。

9. I。转至第7题。每个字母的上面都是其在字母表中相应的位置序号。I在字母表中是第9个字母。

10. 这趟寻宝之旅必须遵循以下路线： $1 \rightarrow 4 \rightarrow 2 \rightarrow 5 \rightarrow 6 \rightarrow 3 \rightarrow 9 \rightarrow 7 \rightarrow 8 \rightarrow 10$ 。



XINGJI



# 星际测试 Intergalactic Test

这是一场竞争星际联盟指挥官一职的考试。候选人必须在以地球时间为标准的半小时内完成下列试题。