



策  
刘：申  
文  
展  
责任编辑：孙里  
封面设计：怡辰

## 公务员考前预测试卷

GONGWUYUAN KAOQIAN YUCESHIJUAN

- ▶ 公共基础知识
- ▶ 行政职业能力测验
- ▶ 申论

依据中共中央组织部、国家人事部最新考试大纲编写  
适用于国家、省、市范围公务员录用考试



ISBN 7-80211-089-0

9 787802 110892 >

国家公务员录用考试教材

公务员考前预测试卷

行政职业能力测验（二、三通用）

# 公务员考前预测试卷

## 行政职业能力测验


（一、二通用）

主 编 陈永祥 教授  
中共中央党校 刘 春 教授  
编 审 中共中央党校 刘启云 副教授


### 特别提示

- ◎ 取消听力测试
- ◎ 增加时政热点
- ◎ 图形推理部分呈现新题型
- ◎ 判断推理部分增加事件排序
- ◎ 常识判断部分侧重法律常识
- ◎ 考题的题量由125题增加到135题
- ◎ 本套试卷针对以上变化进行了全面编写
- ◎ 本系列教材附有最新考试大纲、公告、招考指南、历年真题及解答

GUOJIA  
GONGWUYUAN  
LUYONG KAOSHI  
JIAOCAI



中央编译出版社  
CENTRAL CHINA PARTY SCHOOL PRESS



中央编译出版社  
CENTRAL CHINA PARTY SCHOOL PRESS

ISBN 7-80211-089-0/D·115  
定价：45.00元(共三册) 本册定价15.00元

# 国家公务员录用考试教材

## 公务员考前预测试卷

### 行政职业能力测验

主编 陈永祥 教授

编审 中共中央党校 刘启云 副教授  
中共中央党校 刘启云 副教授

编委 陈永祥 刘启云  
朱晓兰 刘春芳  
宋彦娜 夏马海英

图书在版编目(CIP)数据

公务员录用考试考前预测试卷/陈永祥主编.

—北京:中央编译出版社,2005.3

ISBN 7-80211-089-0

I. 公…

II. 陈…

III. 公务员—招聘—考试—中国—习题

IV. D630.3-44

中国版本图书馆 CIP 数据核字(2005)第 019800 号

公务员录用考试考前预测试卷

出版发行:中央编译出版社

地址:北京西城区西直门内冠英园西区 22 号(100035)

电话:66560272(编辑部) 66560273 66560299(发行部)

http://www.ccpb.com.cn

E-mail:ccpb@ccpb.com.cn

经销:全国新华书店

印刷:北京朝阳印刷厂印刷

开本:787×1092 毫米 1/8

字数:360 千字

印张:30

印数:1—5000 册

印次:2005 年 4 月第 1 版第 1 次印刷

定价:44.00 元(共三册)

中央编译出版社  
CENTRAL COMPIB & PRESS

# 前 言

# 目 录

为了帮助广大考生在较短的时间内高效、便捷、准确地把握公务员录用考试脉络,快速融入公务员的行列,根据“最新考试大纲”的精神,我们特精心地组织中共中央党校、国家行政学院、中国人民大学、北京教育学院、北京师范大学等单位多年来从事公务员录用考试试题研究方面的专家、教授、学者反复酝酿编写了本套预测试卷。本套试卷深入地分析了公务员录用考试历年真题和大量题库,充分地吸收十多年来公务员录用考试的成功经验,严格按照“最新考试大纲”要求的内容、题例、题量和难度系数拟定命题思路,把握最新命题趋势。本套预测试卷具有以下特点:

## 一、紧扣大纲、把握准确

本套试卷紧扣大纲,结构科学合理,内容详略得当,不重不漏,全面复习,力求为广大考生在进行系统的模拟训练。

## 二、内容全面、题型新颖

本套试卷涵盖面广,包括“最新考试大纲”所新增的“数字推理”、“事件排序”等内容,“常识判断”部分侧重“法律常识”;“图形推理”部分呈现“新题型”,在题型选择上突出了重点、难点、考点,并且在编排形式上充分汲取了大量题库的精华,科学预测,权威模拟,使广大考生复习起来事半功倍。

## 三、针对性强、切题率高

本套试卷按照“最新考试大纲”的要求,对公务员录用考试的命题范围、命题重点、命题理念、命题思路、命题角度及命题原则等进行了系统的研究。并且为广大考生提供了针对性较强的预测试卷,以便让考生“知己知彼,百战不殆”。

## 四、系统训练、注重能力

本套试卷都详细阐述了行政职业能力测验考试所应具备的知识点,其中各种题型都具体体现了公务员对实际公务活动分析和处理的能力,以便广大考生通过对本套预测试卷的复习,真正做到有的放矢,有效提高系统测试能力。

在编写过程中,若有疏漏之处,恳请社会各界人士和广大考生批评指正。

《行政职业能力测验》预测试卷(一) .....	(共 24 页)
《行政职业能力测验》预测试卷(二) .....	(共 24 页)
《行政职业能力测验》预测试卷(三) .....	(共 24 页)
《行政职业能力测验》预测试卷(四) .....	(共 24 页)
《行政职业能力测验》预测试卷(五) .....	(共 24 页)
《行政职业能力测验》预测试卷(六) .....	(共 24 页)
(每套预测试卷都附有参考答案)	

注意：  
因以下项目填写不准确  
而影响成绩者在自负  
准考证号

--	--	--	--	--	--	--	--	--	--

姓名					
考试					
地址					
区县					
考场					
号					
白噪声					
控制					

## 《行政职业能力测验》预测试卷(一)

### 说明

这项测验共有五个部分,135道题,总时限为120分钟。各部分不分别计时,但都给出了参考时限,供你参考以分配时间。

请在机读答题卡上严格按照要求填写好自己的姓名、报考部门、涂写准考证号。请仔细阅读下面的注意事项,这对你获得成功非常重要。

1. 题目应在答题卡上作答,不要在题本上作任何记号。
2. 监考人员宣布考试开始时,你才可以开始答题。
3. 监考人员宣布考试结束时,你应立即放下铅笔,将试题本、答案卡和草稿纸都留在桌上,然后离开。
4. 如果你违反了以上任何一项要求,都将影响你的成绩。
5. 在这项测验中,可能有一些试题较难,因此你不要在一道题上思考时间太久,遇到不会答的题目,可先跳过去,如果有时间再去思考。否则,你可能没有时间完成后面的题目。
6. 特别提醒你注意,涂写答案时一定要认准题号,严禁折叠答题卡!

停!请不要往下翻!听候监考老师的指示。  
否则,会影响你的成绩。

### 第一部分 言语理解与表达

(共25题,参考时限25分钟)

言语理解与表达着重考查考生对语言文字的综合分析能力。所给的文字材料较长,主要是要对词和句子一般意思和特定意义的理解;对比较复杂的概念和观点的准确理解;对语句隐含信息的合理推断;在于干扰因素较多的情况下,能比较准确地辨别句义,筛选信息。

例题:钢铁被用来建造桥梁、摩天大楼、地铁、轮船、铁路和汽车等,被用来制造几乎所有现代生活主要支持了这样一种观点,即( )。

- A. 钢铁是一种反映物质生活水平的金属
- B. 钢铁具有许多不同的用途
- C. 钢铁是所有金属中最坚固的
- D. 钢铁是唯一用于建造摩天大楼和桥梁的物质

【解答】 正确答案为B。片段主要叙述的是钢铁的不同用途。

请开始答题:

1. 早在三千多年以前,我国就有了世界上最早的文字。这些文字是刻在龟甲和扁平的骨头上的,所以叫做甲骨文。这些文字,直到1898年才发现。  
对这段话最准确的复述是( )。  
A. 我国在1898年出现了世界上最早的文字——甲骨文  
B. 早在三千多年前就出现了世界上最早的文字——甲骨文  
C. 1898年在我国发现了三千多年前出现的世界上最早的文字——甲骨文  
D. 甲骨文是三千多年前的我国刻在龟甲和扁平的骨头上的最早的文字
2. 关于物种起源的问题,如果一位生物学家,对生物物种间的亲缘关系、它们之间的关系的地理的分布以及在地质时期内出现的程序等等事实加以思考,那么,我们可以推想得到,生物物种的演变和种一样,是由以别的种演变而来的,而不是别别创造出来的。  
这段话主要阐述的是( )。  
A. 生物的种的起源是演变而来的  
B. 生物的种起源于相互间的亲缘关系  
C. 生物的种起源于它们的胚胎关系  
D. 生物的种起源于地理的分布
3. 多写不仅可以提高写作水平,同时还能起到巩固深化读书成果的作用。孔子说:“学而不思则罔”,告诉我们只读书而不思考是不会有收获。思考自然可在读的过程中进行,但写作是更好的思考,更有效的思考。  
关于这段话,下列说法不正确的是( )。  
A. 写作也是一种思考  
B. 引用孔子的话是为了说明写作是一种思考  
C. 思考可以深化巩固我们所学的知识  
D. 只读书而不思考是没有多大效果的
4. 高速公路设计的行车时速一般为120公里,大大超过普通火车的时速。与一般公路相比,车速大提高,运输成本可降低20%多,交通事故可减少60%~70%。一条4车道的四车道高速公路,可承担相当于一条双轨铁路。美国原有高速公路每年在运输上可节

约60到70亿美元。高速公路的建设费用一般十年左右即可收回,车辆死亡率只有普通公路的一半。

这段话主要支持了这样一种论点,即( )。

- A. 承担的费用高,但经济效益很大
- B. 行车速度快,效率高,安全舒适
- C. 虽然造价高,但经济效益很大
- D. 交通事故只有普通公路的一半

5. 气枪击碎玻璃的痕迹与其他膛线的枪支击碎玻璃的痕迹是不一样的。这是因为气枪虽然有膛线,但它是用弹簧压缩空气作为动力来发射子弹,速度低、体积小、重量轻,每个气枪重0.5克,所以气枪击碎玻璃时,对玻璃的作用时间长,用力小,穿透能力小。其玻璃的痕迹也不同于右击玻璃的痕迹。

最能准确复述这段话主要意思的是( )。

- A. 气枪击碎玻璃的痕迹不同于其他枪支痕迹
- B. 气枪击碎玻璃的痕迹之所以不同于其他枪支的痕迹是由于它是用弹簧压缩空气作为动力的
- C. 气枪弹痕极易辨认
- D. 其他有膛线的枪支的弹痕也不同于右击玻璃

6. 良好的意志品质不是先天就有的,而是在后天的教育过程中逐渐形成的。

对这段话的正确表述是( )。

- A. 良好的意志品质是可教的
- B. 良好的意志品质是在后天教育中形成的
- C. 意志品质是与生俱来的
- D. 意志品质决定人的前途

7. 皮肤美是人体美的一个重要表征。面部皮肤是最引人注目的地方,健康的皮肤可增添人的姿色,反映人体的健康状况与精神面貌。中国大多数人属黄皮肤人种,光洁柔润、白里透红的颜面,是历来被人们所称颂、羡慕和追求的。

关于这段话,下列说法不正确的是( )。

- A. 皮肤美也是衡量人体美的一个指标
- B. 从而面部肤色可判断出一个人的精神面貌
- C. 除了黄皮肤以外中国还有其他肤色的人种
- D. 中国人的肤色是最美丽的

8. 中国银行北京分行的个人外币存款额已突破10亿美元;在该行累计发放的20亿美元外汇贷款中有相当大的比例来自居民个人存款。

从这段话中可以看出( )。

- A. 北京个人拥有的外币总额已相当可观
- B. 该行累计发放的外汇贷款中,有二分之一的款项来自居民个人
- C. 该行20亿美元的贷款,相当大的比例是贷给居民个人的
- D. 该行的外币存款额已占存款总额的二分之一

9. 鉴于现代科学技术的特点,一个从事科学技术工作的人就应该既深钻自己的专业,又要关心有关的别的学科,尤其是基础科学发展的情况。点与面相结合,专与博相结合,才能更好地胜任工作和做出更大贡献。

这段话直接支持了这样一种观点,即( )。

- A. 现代科学技术是十分深奥的,普通人很难理解

- B. 只有掌握了现代科学技术的人才能更好地胜任工作和做出更大贡献

C. 从事现代科学技术工作的人,不仅仅要深钻专业,同时还应具有广博的知识

D. 对基础科学及有关领域的学科的发展情况的了解,比钻研自己的专业更重要

10. 相对来说,选择整体经济社会的技术结构,以及制订实现该结构的有关政策,是一项独立于其他领域,可以在科技战略内部完成的任务。并且,技术结构极大地制约着整体经济社会的发展。因此,在发展中国家和地区的科技战略和政策中,技术结构策略居于核心地位。

这段话主要支持了这样一个论点,即( )。

- A. 科技战略是可以独立于其他领域而独立完成的
- B. 在发展中国家和地区的科技战略中应将技术结构置于核心地位
- C. 技术结构制约着其他领域的发展
- D. 制定科技战略要依据不同的国情

11. 写作要有题目,就是要有中心思想,要有内容,目的性要明确,例如这篇文章是记载一件事物,或提出一个问题,解决一个问题,或发表自己的主张、见解等等。总之,要有所为而作。无“为”的文章,尽管文理通顺,语气连贯,但是内容空洞,只能叫入读活一档,而不写为好。

这段话主要支持了这样一个论点,即( )。

- A. 写作要有题目
- B. 写作之前一定要有一个明确的目的,这样才能言之有物
- C. 文章有很多种类,要根据不同的种类确定不同的写作内容
- D. 写作要发表自己的主张、见解

12. 现在,用词不当,语法错误,逻辑混乱等语言不规范的现象,不仅出现在学生的笔下,而且在报刊、书籍上也屡见不鲜;读者的讹误,不仅出现在一般人的口头上,而且在广播和电视中也时有所闻。

这段话支持了这样一个论点,即( )。

- A. 现在,语言不规范的现象已非常普遍
- B. 纠正语言不规范现象刻不容缓
- C. 在语言文字规范化方面,新闻工作者承担着重要责任
- D. 语言文字不规范,新闻工作者应负重要责任

13. 马基斯和恩格斯指出:“我们首先应当确定一切人类生存的第一个前提也就是一切历史的第一个前提,这个前提就是:人们为了能够‘创造历史’,必须能够生活。但是为了生活,首先就要衣食、住以及其他东西。因此第一个历史活动就是生产满足这些需要的资料,即生产物质生活本身。”人类的精神生产不是纯粹与物质无关的活动,精神文明的发展需要一定的物质条件,这些物质条件正是物质文明提供的。

最能准确复述这段话主要意思的是( )。

- A. 物质文明为精神文明提供物质条件
- B. 物质资料的生产是人类生存的首要条件
- C. 物质生产决定精神生产
- D. 物质资料的生产是人类的第一个历史活动

14. 现代科技的杰出成就创造了发达的医学,延长了人的平均寿命,同时降低了新生婴儿的死亡率,加上第二次世界大战后世界没有发生大规模的战争,少数国家很晚才提出控制生育政策,这诸多因素给人类造成了一个稳定生育的时代。世界人口以每年8700万的速度增加,1960年世界人口30亿,1974年达40亿,1986年达50亿,20世纪末世界人口达到64亿。

这段话主要支持了这样一个论点,即( )。

- A. 现代科学技术延长了人的寿命并降低了婴儿死亡率
- B. 人口的无节制增长是现代科学技术所带来的负面影响
- C. 由于多因素的共同作用所造成的稳定生育时代导致世界人口的大量增加
- D. 世界人口的增长速度是呈几何级数上升的

15. 最近,美国麻省理工学院癌症研究所、哈佛大学医学院和冷泉港实验室的科学家纷纷宣布,他们在各自独立进行的研究中,先后从多种人体癌细胞中分离出了单独的基因,并且证实了这些基因可以使正常的健康细胞发生癌变。多年来,科学家一直认为,可以通过改变肿瘤细胞的基因而使癌细胞转变成正常的细胞。现在果然找到了一些这样的基因,这就使得人类战胜癌症的努力前进了一大步。

关于这段话下列说法正确的是( )。

- A. 科学家找到了成功克服癌症的基因
- B. 发现这些基因是不同研究机构合作的结果
- C. 这些基因可以修复癌细胞,从而可以成功医治癌症
- D. 这一发现在人类攻克癌症进程中有深远的影响

16. 在台州市,我们亲眼目睹了农村小学受欺凌的事。造成这种状况的主要原因是干部群众对教育事业缺乏认识。党的十一届三中全会以后,党中央一再强调教育的重要意义,但是在一些基层干部中并未引起足够的重视,他们头脑里往往只有“生产”没有教育。他们对教育在社会主义现代化建设中的作用,对教育同国家和个人利益的关系认识不清,因此在处理学校与各方面的关系时,往往在压抑学校。

关于这段话,下列说法不正确的是( )。

- A. 台州市,农村小学受欺凌是因为人们处理教育和其他各方面问题失当所致
- B. 文中“他们”指代基层干部和群众
- C. 造成农村小学受欺凌的现象,除了基层干部外,群众也应负一定的责任
- D. 教育同国家利益和个人利益有很大的关系

17. 在电信业务中,我国国际电话通话费过高,严重影响到了国际电信业务的增加,而市内电话却亏损,1995年,全国亏损60亿元。调整后的国际电话通话费标准平均提高20%,长途电话在价格总水平不提高的前提下,简化计费等级,为减轻农民负担和用户安装电话的负担,降低农村电话通话费和城乡电话初装费。

这段话能确切表达这段话主要意思是( )。

- A. 我国国际电话通话费过高,严重影响国际电信业务的增加,不利于国际交流
- B. 我国国际电话通话费过高,市话收费过低,发展极不平衡
- C. 国家改革电话收费管理制度,提高市内电话通话费,降低国际电话通话费、电话初装费和农村电话初装费

18. 国家应下大力气调整电话收费标准,改变不合理现象

D. 在中国传统道德的发展中,虽然出现过许许多多的道德规范,价值体系也是多元取向,十分复杂,但仁、义、礼、智总是主体,贯穿于整个中国伦理学的发展中。四者之中,“仁”是核心,其他诸德都是“仁”的运作与体现。可以说,仁、义、礼、智就是“中国四德”,体现了中国古代传统的民族精神。

这段话主要支持了这样一种论点,即( )。

- A. 中国道德是一个多元化体系
- B. 仁、义、礼、智的主体价值体系始终贯穿于中国伦理学的发展中
- C. 在四德当中,“仁”是最重要的,是核心和基础
- D. “中国四德”是我们民族精神的体现

19. 借助药物、物理治疗或化学治疗的方法来清除病患,效果并不一定很好,目前防治高血压的药物有4种,分别适用于不同的对象,如果服用不当,还可能造成对身体的危害。

这段话主要支持了这样一种观点,即( )。

- A. 高血压患者只要采用恰当的方法,就可以不药自愈
- B. 现代科学技术在治疗许多人的高血压方面收效甚微
- C. 依赖现代科技手段的治疗并非是清除病患的唯一途径
- D. 高血压患者应该谨慎服用药物,否则可能对身体造成伤害

20. 封建时代最有资格存在的是“载道”的正统,悲剧和喜剧要使自己“正剧化”后才能生存。这段话支持了这样一种观点,在封建时代( )。

- A. 悲剧、喜剧与正剧没什么区别
- B. 只有正剧才能生存
- C. 没有正剧就没有悲剧、喜剧
- D. 悲剧和喜剧也都要“载道”

21. 目前,市场上一方面居民手中有大量的货币和存款,另一方面不少商品供大于求,一方面而物价上涨幅度较大,另一方面有的企业开工不了。

这段话说明的是( )。

- A. 市场供求关系存在矛盾
- B. 物价上涨幅度大,人民币手中的货币在贬值
- C. 人民舍不得花钱购买商品
- D. 企业开工不了会影响自身的发展

22. 读书有疑,可贵之处,就是独立思考,敢于大胆探索和追求。但是,提倡读书有疑,并不是脱离客观实际,并不是违背科学的胡猜乱想。要疑得正确,疑得有长进,还必须善于疑。否则,当疑不疑,不当疑又乱疑,那不但得不到任何长进,相反还会把思想引上邪路,这也不是我们应取的治学态度。

这段话能确切表达这段话主要意思是( )。

- A. 读书要善于疑,但不能胡思乱疑
- B. 读书的困难之处在于独立思考
- C. 要独立思考,大胆探索和追求
- D. 胡猜乱想会他思想走上邪路

附近群众的意见,要求并提出建议以及办理法律规定的其他事项,居民委员会或村民委员会向居民会议或村民会议负责并报告工作。

- 这段话的意思是( )。
- 居民委员会或村民委员会向人民政府负责
  - 居民委员会或村民委员会是基层群众性自治组织
  - 居民委员会或村民委员会的内部机构设置
  - 居民委员会和村民委员会的结构及与基层政权的关系
24. 医学家很早以前就开始研究音乐家的天才与其大脑的关系,认为音乐家大脑的左、右半球均均衡发展。大概的右半球负责旋律和音调的识别,左半球负责节奏和乐理的调节、实施。

- 这段话直接支持了这样一个观点,即音乐家的天才( )。
- 是大脑的右半球负责旋律和音调识别的结果
  - 是由于音乐家大脑左半球负责节奏和乐理的调节、实施的原因
  - 与音乐家大脑左右半球均衡发展有密切的关系
  - 是音乐家天生的

25. 宗教在史实发展过程中,与各种文化现象结下了不解之缘。纵观人类历史发展,几乎所有的文化形态都与宗教有着密切的联系,不但那些直接标志着人类文明的哲学、科学、文学、艺术、书法绘画、雕塑建筑等无不打上宗教印记,就连那些作为各个时代上层建筑核心的政治制度、法律思想、道德规范等,也都受宗教制约。至于宗教对各个历史时期各个民族的生活习俗、社会心理、文化特征的影响,就更是无处不在,难以尽说。

- 这段话主要支持了这样一个论点,即( )。
- 宗教在发展过程中也在影响着其他各种文化现象
  - 宗教在人类历史上具有不可磨灭的功勋
  - 宗教是人类文明的标志
  - 宗教无处不在,无处不有,深刻地影响着人类生活的各个方面

第一部分结束,请继续做第二部分!

## 第二部分 数量关系

(共 25 题,参考时限 20 分钟)

本部分包括两种类型的试题:

一、数字推理:给出一个数列,但其中缺少一项,要求你仔细观察数列的排列规律,然后从四个备选选项中选择一个你认为最合适的一项,填补空缺项,使之符合原数列的排列规律。

- 例题:
1. 3, 5, 7, 9, ( )。
- 7
  - 8
  - 11
  - 10

《行政职业能力测验》预测试卷(一) 第 7 页(共 24 页)

【解答】正确答案是 11。原数列是一个等差数列,公差为 2,故应选 C。

请开始答题:

26. 79, 62, 45, 28, ( )。
- 7
  - 15
  - 9
  - 11
27.  $1.2\sqrt{7}, \sqrt{10}, ( )$ 。
- $\sqrt{13}$
  - $\sqrt{14}$
  - 3
  - $2\sqrt{3}$
28.  $14, 64, 16, -32, 18, 16, ( )$ 。
- 19, 8
  - 20, -8
  - 21, -8
  - 22, 8
29.  $\frac{1}{7}, \frac{4}{11}, \frac{9}{16}, ( )$ 。
- $\frac{25}{22}$
  - $\frac{25}{24}$
  - $\frac{26}{24}$
  - $\frac{25}{23}$
30.  $1, 012, 2, 034, 4, 056, ( )$ 。
- 6, 078
  - 8, 098
  - 6, 058
  - 8, 078
31.  $2, 10, 26, 50, 82, ( )$ 。
- 101
  - 122
  - 145
  - 170
32.  $8, 8, 6, 2, ( )$ 。
- 2
  - 0
  - 4
  - 4
33.  $5, 17, 37, 65, ( ), 145$
- 99
  - 100
  - 101
  - 102
34.  $\frac{3}{2}, \frac{2}{3}, \frac{5}{4}, \frac{4}{5}, ( )$ 。
- $\frac{7}{6}$
  - $\frac{6}{7}$
  - $\frac{8}{9}$
  - $\frac{7}{8}$
35.  $121, 109, 97, ( )$ 。
- 96
  - 85
  - 83
  - 94

二、数学运算:你可以在草稿纸上运算。遇到难题,可以跳过暂不做,待你有时间再返回解决它。

例题:

甲、乙两地相距 42 公里, A、B 两人分别从甲、乙两地步行出发, A 的步行速度为 3 公里/小时, B 的步行速度为 4 公里/小时,问 A、B 两人步行几小时后相遇?( )。

- 【解答】正确答案为 D。你只要把 A、B 两人的步行速度相加,然后按 A、乙两地间距离相除即可得出答案。
- 请开始答题:
- 6
  - 4
  - 5
  - 6

36.  $85, 7-7, 8+4, 3-12, 2$  的值是( )。
- 60
  - 70
  - 80
  - 81
37.  $0.0100470$  的有效数字有( )。
- 4 个
  - 6 个
  - 5 个
  - 7 个

《行政职业能力测验》预测试卷(一) 第 8 页(共 24 页)

### 第三部分 判断推理


(共 45 题, 参考时限 45 分钟)

本部分包括四种类型的题目:

一、图形推理(共 10 题): 包括三种类型的题目。


1. 每道题目的左边 4 个图形呈现一定的规律性, 你需要在右边所给出的备选答案中选出一个最合理的答案。每道题只有一个正确答案。

例 1:



A B C D


例 2:



A B C D

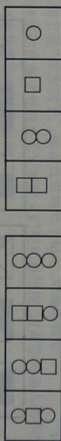
【解答】在图例 1 中, 最左边的图形中的直线是向上直立的, 其后图形中直线逐渐向右倒下。第 5 个图形中的直线应该恰好倒下。因此, 正确的答案是 D。在图例 2 中, 黑点在正方形中随时钟移动。在第 5 个图形中, 应该正好移动到左上角。因此, 正确答案是 B。

51.



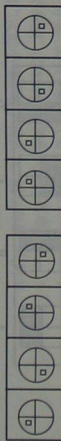
A B C D

52.



A B C D

53.



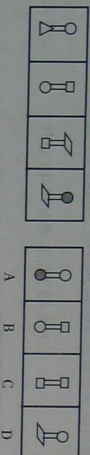
A B C D

第二部分结束, 请继续做第三部分!

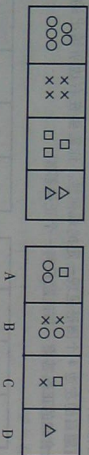
38.  $\sqrt{3}$ ,  $\frac{7}{4}$ , 1.73, 1.74 四个数中最大的数是( )。
- A.  $\sqrt{3}$  B.  $\frac{7}{4}$  C. 1.73 D. 1.74
39.  $\left[ (1.5 + 2 \frac{2}{3}) \div 3 - 0.4 \right] \times 1 \frac{7}{8} = ( )$ 。
- A.  $\frac{1}{3}$  B.  $\frac{2}{3}$  C. 1 D.  $\frac{4}{3}$
40. 把一根长木头锯成 21 段, 问需锯( )次。
- A. 18 B. 19 C. 20 D. 21
41.  $0.5 \times 0.3 \div 3$  等于( )。
- A. 0.5 B. 0.05 C. 5 D. 0.03
42. 最大的三位数加上最大的两位数( )。
- A. 1098 B. 1099 C. 1100 D. 1097
43.  $\frac{1}{2} + (\frac{1}{2})^2 + (\frac{1}{2})^3 + (\frac{1}{2})^4$  的值为( )。
- A. 1 B.  $\frac{7}{8}$  C.  $\frac{1}{16}$  D.  $\frac{15}{16}$
44. 某利股票在 6 月份跌了 20%, 到 6 月 30 日收盘时每股 12 元, 那么该股票 5 月 31 日收盘时的价格是( )元。
- A. 14 B. 15 C. 18 D. 21
45. 某书售价比原来降低 30%, 现价是 28 元, 原价是( )元。
- A. 42 B. 46 C. 48 D. 40
46. 一条长 27000 米的绳子, 按 2 : 3 : 5 的比例进行分段, 最长的一段是( )。
- A. 2700 米 B. 5400 米 C. 8100 米 D. 13500 米
47. 某班 50 名学生, 在第一次测验中 6 人不及格, 在第二次测验中 3 人不及格, 如果两次测验中都不及格的学生有 1 人, 那么两次测验中都及格的人数是( )。
- A. 42 人 B. 43 人 C. 41 人 D. 44 人
48. 圆湖的周长 1000 米, 在湖边每隔 8 米处种柳树 1 株, 再在两柳树之间等距离种桃 2 株桃树, 则两株柳树之间的两株桃树相距( )米。
- A.  $\frac{8}{3}$  B.  $\frac{5}{3}$  C. 2 D.  $\frac{7}{3}$
49. 某电脑公司去年销售微机 20 万台, 今年预计销售 24 万台, 今年销售将比去年增长( )。
- A. 25% B. 20% C. 40% D. 15%
50. 甲队人数是乙队人数的 2 倍, 从甲队调 12 人到乙队, 这时甲队人数比乙队人数的一半多 3 人, 则甲队原来的人数为( )。
- A. 24 B. 20 C. 22 D. 28



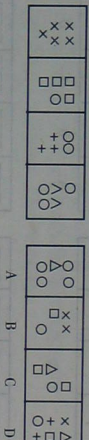
54.



55.

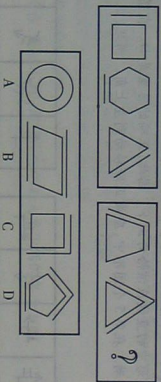


56.



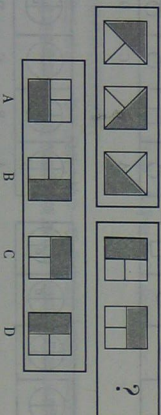
2. 每道题包含两套图形和可供选择的4个图形。这两套图形具有某种相似性,也存在某种差异。要求你从四个选项中选择你认为最适合取代问号的一个。正确的答案应不仅使两套图形表现出最大的相似性,而且使第二套图形也表现出自己的特征。

例题:



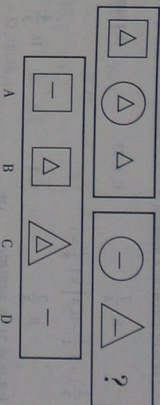
【解答】正确答案为C。因为在第一套图形中多边形均有一条边是双线,在第二套图形中均有二条相邻的边是双线。

57.



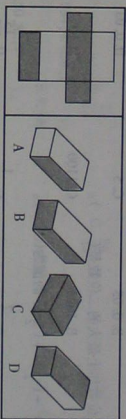
《行政职业能力测验》预测试卷(一) 第 11 页(共 24 页)

58.



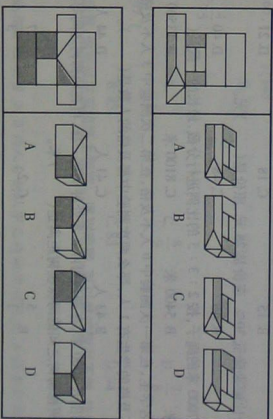
3. 在右面的4个图形中,只有一个是由于左面的纸板折叠而成。你需要选出正确的一个。

例题:



【解答】只有D可以由左边的纸板折叠而成。因此,正确答案是D。

59.



60.

二、演绎推理(共15题)。这种题型考察考生的逻辑推理能力。在每道题中给出一段陈述,这段陈述被假设为正确的,不容置疑的。要求考生根据这段陈述,选择一个备选答案。正确的答案应与所给的陈述相符合,应不需要任何附加说明即可从陈述中直接推出。

例题:彭平是一个计算机编程专家,姚欣是一位数学家。其实,所有的计算机编程专家都是数学家。我们知道,今天国内大多数综合性大学都在培养着计算机编程专家。据此,我们可以认为( )。

A. 彭平是由综合性大学所培养的

《行政职业能力测验》预测试卷(一) 第 12 页(共 24 页)

61. 在计算机语言中有一种逻辑运算,如果两个数同一位上都是0,其和为0;都是1时,其和为1;一个为0、一个为1时,其和为0。那么( )。
- A. 如果和为0,则两数必然都是0  
B. 如果和为1,则两数必然都为1  
C. 如果和为1,则两数中可能有一个为0  
D. 如果和为0,则两数中不可能有一个为1
62. 德育是以理服人,重在说服、训示和灌输,这是一种单向性教育;美育则是以情动人,重在引导、启发和劝诱,它要调动学生自身的感受、体验和领悟,依靠学生精神的自我建构,来达到个性的发展和人格的完善。可见( )。
- A. 美育是一种双向互动的教育  
B. 德育比美育的作用大  
C. 有了美育,就可以不要德育了  
D. 美育就是让学生自己管自己
63. 我国城市由于大量应用电梯等电器设施,地面对雷电的抵抗力越来越差,而农村的现代新建建筑很少使用钢材,只是房顶梁中有少量钢筋且房顶普遍没有避雷装置。这意味着( )。
- A. 一旦遭雷电袭击,很可能造成房屋人员伤亡的后果  
B. 重视建筑物的防雷电设施,已成为当前的当务之急  
C. 我国的避雷装置很落后  
D. 人们的防雷电的意识很淡薄
64. 2002年8月,中日两国草原探险夏令营中,日本孩子病了硬挺着走到底,中国孩子病了送回大本营睡大觉;日本孩子的家长走了,只把鼓励留给孩子,中国家长来了,在艰难路段把孩子扛上车。这意味着( )。
- A. 中国家长比日本家长更爱护孩子  
B. 日本孩子的体质好而中国孩子体质差  
C. 中日两国人民友谊很深  
D. 中日两国家长在对孩子的教育观念上存在着显著差异
65. 关于中国资本主义萌芽问题,毛泽东在1959年曾写了这样一段话:“中国封建社会内的商品经济的发展,已经孕育着资本主义的萌芽,如果没有外国资本主义的影响,中国也将缓慢地发展到资本主义社会。”二十年代的大多数中国史学家大都确信:近代以前的中国已具有资本主义发展的因素。因此( )。
- A. 毛泽东“发明”了中国早期已有资本主义萌芽的观点  
B. 关于资本主义萌芽的观点只不过是“御用史学”的产物  
C. 毛泽东并没有“发明”出这种观点,而是采纳了当时大多数史学家的共同看法  
D. 毛泽东的观点非常正确

- 因此下列说法不正确的是( )。
- A. 石头是不可能孵出小鸡的  
B. 好人是不可能变坏的  
C. 学生在课堂上,老师的教是外因,自己的学习是内因  
D. 鸡蛋虽必须保证有适当的温度才能孵出小鸡
67. 2004年9月29日美国各地近万名群众在华盛顿举行了声势浩大的反对战争和种族主义的集会游行,呼吁美国政府不要以暴力手段来回应“9·11”恐怖事件。下列口号中最不可能出现在集会中的是( )。
- A. 战争不能使我们的亲人复活  
B. 严惩恐怖分子  
C. 不要以我们的名义发动战争  
D. 人民不需要战争和种族主义
68. 对外贸易特别是转口贸易是香港经济发展最重要的推动力之一。1985年香港产品对内地出口总值达151.9亿港元,从而使中国内地取代美国成为香港第一大贸易伙伴,占香港的进口来源的第一位,出口贸易的第一位,出口贸易的第二位,1993年又成为香港产品出口的最大市场。可见( )。
- A. “中国因素”是香港经济繁荣的重要因素  
B. 香港带动了内地对外贸易的快速发展  
C. 美国对香港对外贸易的发展越来越不重要了  
D. 香港已成为内地的第一大贸易伙伴
69. 老师:在长子继承权的原则下,由男人的第一个妻子生下的第一个男性婴儿总是首先继承家庭财产的权利。
- 学生:那不正确,华尔顿夫人是其父亲的唯一妻子的唯一活着的儿子,她继承了她的所有遗产。
- 学生误解了老师的意思,他理解为( )。
- A. 男人必须是其父亲的父亲  
B. 女儿不能算第一个出生的孩子  
C. 只有儿子才能继承财产  
D. 私生子不能继承财产
70. 所有市场经济搞得好的国家都是因为法律秩序比较好。其实建立市场并不难,一旦放开,人们会利益的驱使,市场很快就能形成,但是一个没有秩序的市场一旦形成,再来整治就非常困难了。所以( )。
- A. 要建立市场经济体制,必须高度重视法规的颁布  
B. 市场调节是“无形的手”,市场自发地处于稳定、均衡的状态  
C. 市场经济的优越之处就在于它能使人们受利益驱使,因而能调动人的积极性  
D. 市场只有依靠法制才能形成
71. 市场经济如“汪洋大海”,有“江河湖汉”,“航空母舰”有规模经济的优势,能抗拒大风浪,但这种优势也不是绝对的,投资与风险同比增长,一旦不景气,风浪远比“小船”大得多,而“小船”具备灵活性优势,能顺势而为,游刃有余。因此( )。
- A. “航空母舰”式的规模经济模式是不可取的  
B. “小船”式的小规模经济模式比“航空母舰”式的好  
C. 不能简单否定“小船”式的好模式  
D. “小船”不能在“汪洋大海”中航航

72. 由于我们过度迷信传统的思维方式,所以,我们常常被强烈地吸引到逻辑、数学、计算机和相称计算机等方面。但这些东西只能产生线性的教学过程,而不能进行创造性思维。尽管一些计算机迷可能要抗议,但计算机的确不能从事创造性活动,它们既不能改变旧观念,也不能产生新观念,在解决富有创造性的问题时显得软弱无力。由此我们可知( )
- A. 计算机是—些创造性思维能力很强的人  
B. 计算机能够从从事创造性活动  
C. 传统思维缺乏创造性  
D. 只有改变旧观念才能产生新观念
73. 小张高中时成绩优秀,但其家庭条件不是太好,高考填报志愿时经与父母商量后报了一所军事院校。小张之所以会报军校其最可能的原因是( )
- A. 小张向往军旅生活  
B. 军事院校不收学费  
C. 其父母从事的职业与军人有关  
D. 高考成绩不是很理想
74. 今天我国女性在高科技领域的状况是:女科技人员有800多万,占科技队伍的1/3,在医学界则占50%以上。大学工科女毕业生占27%,女专业工程师占19%,女性正副教授占10%,女学部委员占4.8%。这些比例虽还有差距,却已大大高出一些发达国家。由此可推知( )
- A. 我国妇女是世界上优秀的女性  
B. 我国的妇女人数居世界各国之首  
C. 在正副教授中有90%是男性  
D. 我国高科技的发展是十分迅速的
75. 自然科学的历史,绝不可能仅仅是正确认识简单积累和不断被证实的直线过程,而是充满着正确的认识和错误的认识,全面的认识和片面的认识,深入的认识和表面的认识,普遍的认识和高部的认识等等的不断斗争的曲线过程。是一切不正确的和不完全正确的认识不断被克服即被否定的过程。由此可以得出的正确推论是( )
- A. 自然科学的发展是渐进式的  
B. 自然科学的内容是十分丰富繁杂的  
C. 自然科学已相当成熟  
D. 自然科学的内容就是人类认识自然的历史
- 三、定义判断(共10题):运用标准进行判断,是公务员一项基本的职业要求。在每一个问题中,先给考生一个概念的定义,然后再给出一组事物或行为的例子,要求考生从中选出一个或多个符合或不符合该定义的典型事物或行为。这里假设这个概念的定义是正确的,不容置疑的。
- 例题:  
健康:指一个人智力正常,行为合乎情理,能够适应正常工作、社会交往或者学习,能够抵御—些疾病。根据健康的定义,下列属于健康的是( )。
- A. 大学教授老李,虽然五十多岁但工作起来仍然精力充沛,在今年春天患流感  
B. 张辉十九岁的儿子肖强,读书十一年还是小学二年级水平,但是从小学到大没生过什么大病,体力活可以干得很好  
C. 小胡硕士毕业后,工作表现一直很优秀。自—次事故后,当工作压力比较大的时候就会精神失常  
D. 小刘身体很好,工作非常努力,孝敬父母,但是很多同事说他古怪,不愿与其交往

《行政职业能力测验》真题试卷(—) 第15页(共24页)

【答案】此题的正确答案为A。只有A中的现象完全符合健康的定义。

请开始答题:

76. 回归教育,是一种认为人的一生应是学习和工作不断交替、相互结合的过程,接受义务教育或基础教育乃至高等教育后就业的成年人,应在需要时有返回学校去学习的机会的理论。
- 下列教育类型属于回归教育的一项是( )。
- A. 九年制义务教育  
B. 某厂技术人员为了“充电”,到本单位举办的职工夜校补习英语  
C. 大学教育  
D. 中等专业学校学生二年全部学习之后参加一年的实习
77. 借题发挥,是指客观上并不存在正在进行的不法侵害,而行为人主观上误认为正在发生不法侵害,而对想像的“侵害人”实施了防卫行为。
- 下列不属于借题发挥的是( )。
- A. 明晚约会发现有贼在窗下,以为是盗窃犯来偷东西,用棍子将其打伤,结果却发现是歹徒在捉迷藏  
B. 张某在街上走时发现前面一个人像是公安局通缉的贪污犯,随即上前将其抓住,结果发现认错人了  
C. 村民李某家中因连续被盗窃十分恼火,一天晚上,他发现有人悄悄走进其院子,顺手便打,却发现原来是儿子回来晚了  
D. 杨某深夜拦路抢劫,结果发现是自己中学同学,深恶痛疾,向其道歉,却被闻讯赶来的人们暴打一頓
78. 大气污染是指因人类的生产和生活使某种物质进入大气从而而导致其特性改变,使人们的生活、身体健康以及生态环境直接或间接受到危害的现象。主要污染物有烟尘、粉尘、氟氧化物、碳氧化物、放射性污染等。
- 下列所述属于大气污染的是( )。
- A. 朝庄农工有几十辆农用大卡车驶在麦田里,影响了春耕生产  
B. 淮河水质从解放前至今,越来越差  
C. 兰州市上空布满了驱之不去的“阴云”,那是市郊工厂的废气  
D. 飞机起飞声弄得住在机场附近的老王整夜没有睡好觉
79. 票据权利,也称票据上的权利,指持票人对汇票承兑人、本票发票人和支票保持人等付款义务经提示要求,行使请求支付票据金额的权利,以及在不获付款、不获承兑或其他有到期不获付款的情况下行使追索的权利。
- 下列所列权限不属于票据权利的是( )
- A. 持票人提示票据,要求汇票承兑人给予付款的期限要求权  
B. 持票人提示票据,要求支票保持人行使支付款项的权利  
C. 持票人在没有获得应有付款时,在规定时效内追索的权利  
D. 持票人在没有获得应有付款时,擅自更改票据的权利
80. 光年:指光在一年内所通过的距离,光年在天文学中常用于表示距离远近。根据以上定义,下述表述正确的是( )。

《行政职业能力测验》真题试卷(—) 第16页(共24页)

A. 光年是时间单位

B. 光年是光年方面的专业术语

C. 光年是测算巨型天体面积的一个计量单位

D. 光年是一个长度单位

81. 犯罪未遂: 罪犯已经着手实行犯罪, 但由于意志以外的原因而未得逞。

根据以上定义, 下面哪种行为不是犯罪未遂? ( )。

A. 甲在某商店偷了两件羊毛衫, 刚跑出商店大门, 被店里人发现, 立即通知了派出所。

B. 乙想用枪打死一个仇人, 有一天他的仇人独自进山打猎, 他尾随其后, 在一处僻静的地方, 向仇人开了枪, 但因他的射击技术不佳, 未打中仇人

C. 某男因为一直找不到房子非常愤怒, 想用炸药炸毁一领导某处无人居住的房子。刚安设好炸药时, 被民警发现

D. 甲乙合伙做生意, 因利润分配不公而发生争执, 甲一气之下而要杀死乙, 当甲举刀砍向乙时, 乙的朋友赶到了, 夺下了甲手中的刀

紧急避险: 为了便公共利益, 本人或者他人的人身和其他权利免受正在发生的危险, 不得已而采取的侵害法律所保护的公共利益或他人利益的行为。

根据以上定义, 下面的哪种行为不是紧急避险? ( )。

A. 一客机飞行中天气突变, 飞机表面大量结冰, 致使飞机重量增加, 急剧下降, 情况非常危急, 机长决定把飞机上的较重行李全部抛出舱外

B. 甲、乙两人去林中打野兔, 突然蹦出一只东北虎, 甲、乙二人知道东北虎是国家保护动物, 急忙躲避, 但乙行动稍慢被老虎扑倒在地, 危在旦夕, 甲只好开他打死了这只东北虎

C. 重载货轮航行在海上, 船长听天气预报第二天晚上可能有大风暴, 船长考虑, 如果明天晚上真有风暴, 货船载重量太大, 也许会有危险, 遂下令将船上一半物品倒入海里

D. 一地质队携带价值 50 万元的先进仪器进山考察, 当行进在一条峡谷中时, 天气突变, 大雨倾盆, 山洪暴发, 为了能加快速度使全体人员撤到高地上去, 考察队队长决定让大家扔掉所带的仪器

玩忽职守: 国家工作人员违反职责规定, 不履行或不正确履行其职责义务, 致使国家和人民的利益遭受重大损失的行为。

根据上述定义, 下面哪种情况不属于玩忽职守? ( )。

A. 某医院在给一名妇女做便器有手术时, 一名检验师没有认真核对便将 50 毫升的卡可因当成 0.5% 的奴夫卡因送给了医生, 结果致使该名妇女中毒死亡

B. 乡邮递员赵某, 每天下班后, 把当天未投送完的邮件, 报刊拿回宿舍隐匿, 或随意送人

C. 某远洋货轮航行在海上, 突然遇到大风暴。由于船的载重量太大, 船体发生倾斜, 使部分防潮的货物被海水浸湿了

D. 某部一副连长, 将上级下发给该连训练用的两枚航弹, 自认为是其弹药, 便连同部分废旧皮革给废品收购站, 收购站又转给了某钢厂。钢厂加工车间对这枚炸弹处理时, 引起爆炸, 造成 3 人死亡, 3 人受伤

84. 正当防卫: 为了起公共利益, 本人或他人的人身和其他权利免受正在进行的不法侵害,

而采取的有限度的防卫行为。

根据上述定义, 下面哪种情况属于正当防卫? ( )。

A. 某天晚上, 下中班的许爱莲在一偏僻小道上遭到抢劫, 抢劫犯手持匕首, 扬言自己从车里逃出, 如不交出钱财就要杀人。许爱莲不得已交出身上的钱包。当抢劫犯低头数钱时, 她突然抬起一块砖头, 朝罪犯的头上砸去, 罪犯应声倒地。许拿起自己的钱款离开现场, 后获知抢劫犯已被无效死亡

B. 某甲与某乙发生争执, 某乙扬言要杀某甲, 某甲听到这话后, 就决定先下手为强, 某乙不往意时, 将乙杀死

C. 某甲有一麻风病人, 无恶不作, 甚至天绝人性地在公用公共里吐痰, 不仅严重威胁着群众的身体健康, 而且屡教不改, 使人防不胜防。为了制止其犯罪行为, 村民陈某用火焰枪致死

D. 某甲追杀某乙, 某乙见自己斗不过某甲, 转身猛踢站在路旁的小孩, 致使小孩摔在冰沟中致死

85. 无效劳动合同是指当事人违反法律、行政法规的规定, 订立不具有法律效力的劳动合同。它具有当事人双方协商订立的, 但经国家规定的专门机构认为无效合同后, 国家则不予承认, 法律不予保护。

根据上述定义, 下述哪种行为是典型的无效劳动合同? ( )。

A. 民工小李被某厂雇佣, 书面合同规定管吃管住, 月薪 800 元人民币, 无节假日

B. 民工小王在劳动市场被某餐馆雇佣, 签订劳动合同, 并当场发了合同公证

C. 小汪在劳动行政部门的鉴证下, 与某厂签订了劳动合同

D. 小汪被某厂雇佣, 书面合同规定月薪 800 元人民币, 并口头约定遵循国家相关的政策和法律

四、事件排序(共 10 题)。每道题给出五个事件, 每个事件都是以前短语句表达的, 接着给出表示事件的四种假定发生顺序的数字序列, 请选择其中最合乎逻辑的一种事件顺序。

例題:

(1) 收集书籍 (2) 购买材料

(3) 打造书柜 (4) 雇用木工

(5) 排列书籍

A. 4-3-1-2-5 B. 1-4-2-3-5

C. 4-3-2-1-5 D. 3-2-1-4-5

【解答】此题的正确答案为 B。收集书籍(1)——雇用木工(4)——购买材料(2)——打造书柜(3)——排列书籍(5), 这一顺序相对于其他顺序而言最为合理。

请开始答题:

86. (1) 受到上级嘉奖 (2) 排着整齐的队伍走出军营

(3) 来到北京西站 (4) 群众热烈欢腾

(5) 擦洗大厅里的座椅

A. 1-2-3-4-5 B. 4-3-1-2-5

C. 2-3-5-4-1 D. 3-4-2-1-5

- (3)以邮政补贴方式收购  
 (5)住房紧张而得到缓解  
 A.3-1-2-5-4  
 C.4-3-1-2-5
88. (1)米粮有违章建筑  
 (3)不服上诉  
 (5)开庭判决  
 A.4-1-3-2-5  
 C.1-4-5-2-3
89. (1)公司交了罚款并将货物退回原产地  
 (3)海关对进口货物例行检查  
 (5)海关做出处理决定  
 A.3-4-2-5-1  
 C.2-3-4-5-1
90. (1)孩子大声哭喊  
 (3)煮牛奶  
 (5)烫伤了手  
 A.1-3-5-4-2  
 C.1-4-3-5-2
91. (1)某姑娘在一家个体餐馆打工  
 (3)店主用开水泼烫打工妹  
 (5)打工妹常混店主毒打  
 A.1-5-3-2-4  
 C.5-4-1-2-3
92. (1)某战士接到回家结婚的电报  
 (3)与姑娘书信往来萌生爱情  
 (5)发现姑娘是被拐来的一位姑娘  
 A.1-2-5-4-3  
 C.5-1-4-3-2
93. (1)脚在医院床上  
 (3)正准备投篮  
 (5)比赛进入高潮  
 A.5-3-2-4-1  
 C.5-2-4-3-1
94. (1)单方违约  
 (3)签订合同  
 (5)谈判业务  
 A.3-5-1-2-4  
 C.5-3-1-2-4

(行政职业能力测验)预测试卷(一) 第 19 页(共 24 页)

- (4)补充“安居工程”房源  
 B.2-1-3-4-5  
 D.1-3-2-5-4
- (2)责令拆除  
 (4)调查取证  
 B.1-4-5-3-2  
 D.1-3-2-4-5
- (2)发现某公司进口货物中有外国战旗  
 (4)通过化验证实含有毒化学物质  
 B.3-2-4-5-1  
 D.2-3-5-4-1
- (2)擦了点药继续工作  
 (4)放下手中的工作  
 B.3-4-2-1-5  
 D.1-2-3-4-5
- (2)打工妹送医院抢救无效死亡  
 (4)法院判处店主死刑  
 B.1-5-4-2-3  
 D.5-4-3-2-1
- (2)喜结良缘  
 (4)将姑娘送回家乡  
 B.1-2-3-4-5  
 D.1-5-4-3-2
- (2)防守队员犯规  
 (4)进攻失去知觉  
 B.2-3-5-4-1  
 D.5-2-3-4-1
- (2)提出起诉  
 (4)法院判决  
 B.5-3-2-4-1  
 D.3-5-2-1-4

第三部分结束,请继续做第四部分!

### 第四部分 常识判断

(共 20 题,参考时限 10 分钟)

常识判断部分涵盖法律、政治、经济、管理、人文、科技等方面,主要侧重考查考生的法律知识运用能力,涉及宪法、行政法、经济法、民法等内容。  
 根据题目要求,在 4 个选项中选出一个正确答案。

例题:

- 下列属于地方性法规的是( )。  
 A.××省人大常委会通过的《××省人才市场管理暂行办法》  
 B.××省人民政府颁布的《××省流动人口管理暂行办法》  
 C.××省人民政府制定的《××省城市供水管理办法》  
 D.××省人事厅转发人事部制定的《公务员录用面试考官管理暂行办法》

【解答】正确答案为 A。根据《中华人民共和国立法法》第六十三条“省、自治区、直辖市的人民代表大会及其常务委员会根据本行政区域的具体情况和实际需要,在不同宪法、法律、行政法规相抵触的前提下,可以制定地方性法规。较大的市的人民代表大会及其常务委员会根据本市的实际情况和实际需要,在不同宪法、法律、行政法规和本省、自治区的地方性法规相抵触的前提下,可以制定地方性法规,报省、自治区的人民代表大会常务委员会批准后施行”的规定。

请开始答题:

96. 在互联网迅速发展发展的基础上,电子商务正在悄然兴起,但差不多所有的电子商务网站都在亏损,这主要是因为( )。  
 A. 顾客太少,没有在网上购物  
 B. 初期投资巨大,短期难以实现盈利  
 C. 商品过于便宜,低于成本  
 D. 税负负担沉重,增加了成本
97. 在南方发达国家建筑业中,普遍用塑料门窗代替木门窗和金属门窗,政府也对此大力提倡,造成这种结果的根本原因在于( )。  
 A. 金属门窗价格昂贵  
 B. 塑料门窗成本最低  
 C. 使用塑料门窗的建设商可以享受减免税  
 D. 使用塑料门窗有利于保护非再生资源

(行政职业能力测验)预测试卷(一) 第 20 页(共 24 页)

98. 不是由全国人民代表大会选举产生,而是由国家主席提名决定的是( )。
- A. 国务院总理 B. 最高人民法院院长  
C. 国家副主席 D. 中央军委委员会主席
99. 我国刑法规定,法定最高刑为无期徒刑,死刑的追诉时效是 20 年。如果 20 年以后认为必须追诉的,须报请( )核准。
- A. 公安部 B. 公安厅 C. 最高人民法院 D. 最高人民检察院
100. 社会主义法的本质是( )。
- A. 社会主义主义的体现和保证  
B. 调整社会主义社会人与人之间关系的准则  
C. 维护公共秩序的行为规范  
D. 上升为法律的工人阶级和广大人民的意志
101. 经济机制和经济体制的内在联系是指( )。
- A. 一定的经济机制包含在一定的经济体制中  
B. 一定的经济体制不包含在一定的经济机制中  
C. 互为目的,互为手段  
D. 互为手段
102. 元代最优秀的剧作家关汉卿,其出色的代表作是( )。
- A. 《西厢记》 B. 《窦娥冤》 C. 《牡丹亭》 D. 《红楼梦》
103. 尽管我们关于太阳能的研究和讨论已经相当多,但今天对太阳能的利用还是非常有限的。其主要原因是( )。
- A. 难以将阳光有效聚集起来 B. 尚未开发出有效的收集和储存太阳能的系统  
C. 核能仍然更有效 D. 太阳能系统尚不安全
104. 我国刑法关于溯及力的规定采取( )。
- A. 从旧原则 B. 从新兼从轻原则 C. 从轻原则 D. 从旧兼从轻原则
105. 我国机构改革的关键是( )。
- A. 精简机构 B. 裁减人员 C. 转变职能 D. 核定编制
106. 四大美女中为汉初友好做出了贡献的是( )。
- A. 西施 B. 貂蝉 C. 王昭君 D. 杨玉环
107. 货币资本的职能是( )。
- A. 实现剩余价值 B. 生产和实现剩余价值  
C. 为剩余价值生产做准备 D. 生产和实现剩余价值
108. 犯罪的客体是( )。
- A. 犯罪行为所侵犯的人身 B. 犯罪行为所侵犯的物  
C. 犯罪行为所侵犯的刑法所保护的的社会关系 D. 犯罪行为所侵犯的人或物  
被西方称为“物理学之父”的科学家是( )。
109. A. 阿基米德 B. 欧几里德 C. 牛顿 D. 伽利略
110. 新的规范性公文产生了,对同一事项约束、规范的旧文件应( )。
- A. 两法并存 B. 新不废旧 C. 相辅相成 D. 废止旧法
111. 公共行政追求的首要目标是( )。

(行政职业能力测验)预测试卷(一) 第 21 页(共 24 页)

- A. 社会公平 B. 伦理道德 C. 效率至上 D. 民主行政
112. 有限责任公司的股东对公司负有责任,是( )。
- A. 股东以购买的股票为限 B. 股东以出资额的收益为限  
C. 股东以其所有的财产为限 D. 股东以出资额为限
113. 我国国有企业改革的方向是( )。
- A. 承包经营 B. 租赁经营 C. 建立现代企业制度 D. 股份制经营
114. 中国共产党确定建立抗日民族统一战线政策的会议是( )。
- A. 洛川会议 B. 遵义会议 C. 延安会议 D. 瓦窑堡会议
115. 加强党的思想建设,根本的是要坚定不移的用邓小平理论武装全党,充分发挥党的( )。
- A. 思想政治优势 B. 表率作用 C. 组织优势 D. 领导上的作用

第四部分结束,请继续做第五部分!

## 第五部分 资料分析

(共 20 题,参考时限 20 分钟)

所给出的图、表或一段文字均有 5 个问题要你回答。你应根据资料提供的信息进行分析、比较、计算和判断处理。

请开始答题:

一、根据下表回答第 116 - 120 题。

企业名称	人均销售额(万元)	人均利润(元)	资产生产率(%)	资产利润率(%)
燕山石化公司	23.66	8152.17	53.40	1.84
齐鲁石化	22.75	5496.30	55.26	1.34
高桥石化	63.57	13552.60	102.71	2.22
金陵石化	64.42	8421.00	150.99	1.97
茂源石化	40.69	37.04	39.15	0.004
天津石化	34.11	-10939.00	64.39	-1.96
扬子石化	42.75	38692.90	44.55	4.03
巴陵石化	21.68	-3254.68	55.60	-0.84
仪征集团	26.83	-30685.00	24.52	-2.78
上海石化股份	30.21	6897.50	49.89	1.14
南京化学工业	7.41	-3611.69	35.73	-1.74
安庆石化	34.47	-11287.02	95.73	-3.13
涪阳石化	56.45	6238.50	65.24	0.72

我国某年主要石化企业的生产率指标

116. 人均利润最高的石化企业是( )。
- A. 燕山石化公司 B. 扬子石化 C. 高桥石化 D. 洛阳石化
117. 金陵石化的资产生产率是仪征集团资产生产率的多少倍?( )。
- A. 3 B. 4 C. 5 D. 6

(行政职业能力测验)预测试卷(一) 第 22 页(共 24 页)

118. 资产利润率最低的石化企业是( )。

- A. 天津石化 B. 安庆石化 C. 仪征集团 D. 南京化学公司

119. 燕山石化人均利润和天津石化人均利润的差额是多少?( )。

- A. 18545 B. 2241 C. 16468 D. 3628

120. 人均销售额最高的企业和最低的企业人均销售额的差额是多少?( )。

- A. 55 B. 56 C. 57 D. 58

二、根据以下资料回答第121~125题。

对某企业工时利用率进行调查统计,结果如下:

实行44小时(每周)工时制和进行人员精简等改革前,该企业的制度工时利用率为85%,也就是说有15%的制度工时没有被利用。其中,缺勤占去50%,停工占去40%,非生产性工时占去10%。

实行40小时工时制和进行人员精简等改革后,该企业的制度工时利用率提高了5个百分点,缺勤时间和非生产性工时都有所下降,其中人均每周缺勤时间和非生产性工时分别为1.6小时和0.4小时。

121. 实行40小时工时制后,该企业的制度工时利用率为( )。

- A. 80% B. 90% C. 20% D. 10%

122. 实行44小时工时制时,该企业人均每周缺勤时间为( )。

- A. 3.3小时 B. 4小时 C. 4.4小时 D. 6.6小时

123. 实行40小时工时制后,在没有被利用的工时中,停工占去( )。

- A. 10% B. 45% C. 50% D. 56%

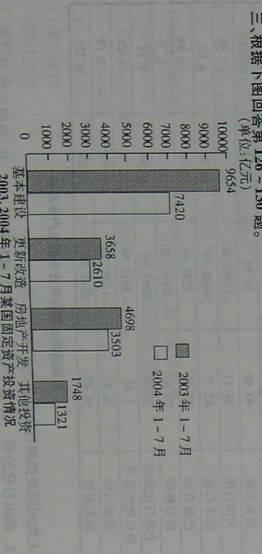
124. 实行40小时工时制与实行44小时工时制相比,人均每周缺勤时间( )。

- A. 提高10% B. 下降10% C. 下降约17% D. 下降约51%

125. 若实行35小时工时制,而人均每周缺勤时间、停工时间、非生产性工时分别为1.6、1.5、0.4小时,则该企业的工时利用率为( )。

- A. 80% B. 85% C. 90% D. 95%

三、根据下图回答第126~130题。



注:固定资产投资增长32.7%,基本建设增长30.1%,更新改造增长40.1%,房地产同比增长34.1%,其他投资同比增长32.3%。

《行政职业能力测验》预测试卷(一) 第23页(共24页)

126. 在2003年1-7月、2004年1-7月固定资产投资额最多的是( )。

- A. 其他投资 B. 房地产投资  
C. 基本建设投资 D. 更新改造投资

127. 在2004年1-7月固定资产投资增长最快的是( )。

- A. 其他投资 B. 房地产投资  
C. 基本建设投资 D. 更新改造投资

128. 在2004年1-7月固定资产投资额最多的比最少的多出( )。

- A. 4886 B. 5886 C. 7906 D. 6646


129. 2004年1-7月固定资产投资总额为( )。

- A. 14753 B. 19758 C. 16853 D. 17963

130. 2004年1-7月固定资产投资同比呈现( )。

- A. 上升趋势 B. 下降趋势 C. 持平 D. 没有变化

四、根据下面的统计图回答第131~135题。



131. 农业人口占全国总人口比重最大的国家是( )。

- A. 中国 B. 美国 C. 印度 D. 巴西

132. 工业化程度最高的国家是( )。

- A. 中国 B. 美国 C. 俄罗斯 D. 日本

133. 印度非农业人口占全国总人口的( )。

- A. 60.9 B. 39.1 C. 60.9% D. 39.1%

134. 巴西农业人口占全国总人口的( )。

- A. 35.8 B. 25.5% C. 64.2 D. 64.2%

135. 非农业人口占全国总人口一半以上的国家是( )。

- A. 美国、俄罗斯、印度 B. 中国、美国、日本、巴西  
C. 美国、俄罗斯、日本 D. 美国、俄罗斯、日本、巴西

全部测试到此结束。

《行政职业能力测验》预测试卷(一) 第24页(共24页)





- A. 在一定范围内发展外商投资经济和港、澳、台投资经济可以提高人民生活水平  
 B. 在一定范围内发展外商投资经济和港、澳、台投资经济可以提高高新技术  
 C. 在一定范围内发展外商投资经济和港、澳、台投资经济对于加速我国现代化建设具有重大意义  
 D. 在一定范围内发展外商投资经济和港、澳、台投资经济可以增强建设资金
4. 不仅可以说,其他任何一个心理活动和心理现象,从认识到情绪情感以至个性都离不开记忆的影响,记忆将人的心理活动的过去、现在和未来连成一个整体,使心理发展、知识积累和个性形成得以实现。  
 这段话的中心意思是( )。  
 A. 记忆在人的整个心理活动中处于突出的地位  
 B. 记忆将人的心理活动的过去、现在和未来连成一个整体  
 C. 记忆使心理发展得以实现  
 D. 记忆使知识积累和个性的形成能够实现
5. 刘白羽说,蟹黄汤包不能不吃。当地人讲,这风味还是三国时传下来的呢。当年,刘备病死白帝城,住在东汉的孙夫人得知,思念丈夫情义,痛不欲生,登上北固山投江自尽。后人用面皮包上猪肉茸和蟹肉制成的小肉馒蒸熟,祭奠孙夫人。由于这种肉馒外形美味,被人们引为食用,代代相传,演变为今天的蟹包。这自然是传说,不过在镇江,蟹包确实是历史悠久、最负盛名的美食。  
 这段话的主要目的是告诉我们( )。  
 A. 镇江蟹包的来历  
 B. 蟹包是难得的美食  
 C. 到镇江不吃蟹包是一个遗憾  
 D. 到镇江必须吃蟹包
6. 吴官正说,大中小学目前正在紧张地复习功课,迎接即将考试。考试是必要的,但不要搞得太难,不要出偏题、难题,不能搞得大多数学生不及格。现在的学生负担太重,一天到晚都处于紧张的状态。要师严全社会来关心学生,学校布置的作业不要太多,家长也不要打骂自己的孩子,尤其是中小学生的作业,已经很高了,再也不要加码了。没有学好大课业的,不一定都比考上大学的差。有可多入没有进大学,但很有才干。要让大学生参加一些社会实践活动,参加一些劳动,做到德智体全面发展。  
 关于这段话下列说法不正确的是( )。  
 A. 全社会都已经就中小学生的负担达成共识  
 B. 考试的试题要把握得当  
 C. 不读大学不一定没有出路  
 D. 学生不应限于书本和学校
7. 一些学者说,人的大脑通过中极神经传导的信号,首先到达身体左侧,然后才到身体右侧。因此,左撇子人的反应有可能比右撇子人的反应快千分之几。  
 这段话支持了这样一个论点,即( )。  
 A. 左撇子比较聪明  
 B. 人的大脑决定人的反应速度  
 C. 左撇子反应更敏捷  
 D. 左撇子比较聪明
8. 由于自然地理环境的各个因素(气候、地形、土壤、水圈分布、资源贮存等)在地球表面的分布表现出巨大地理差异性,因而各种因素在某一地区的不同组合对人口分布所提供的条

- 件就大不一样。现在世界上人口分布得不均衡,在很大程度上是由于自然地理条件所加的种种影响造成的。  
 这段话支持了这样一个论点,即( )。  
 A. 自然地理环境因素在各地的表现没有差异性  
 B. 自然地理环境决定人口分布  
 C. 世界人口分布不均衡皆因自然地理环境之差异  
 D. 自然地理环境的差异影响着各地的人口分布状况
9. 我国土地资源总量虽居世界前列,但由于人口众多和地形多样化的原因,土地人均占有量和已利用土地资源中耕地的平均占有量,均远低于世界平均数。  
 这段话主要支持了这样一个论点,即我国( )。  
 A. 土地资源总量丰富  
 B. 土地资源总量居世界前列  
 C. 土地资源相对贫乏  
 D. 土地资源贫乏
10. 原子结构模型大阳系,中心是原子核,周围环绕着一些带负电荷的电子。原子的质量几乎全部集中在原子核上,它由一些带正电荷的质子和不带电的中子所组成。  
 对这段话准确的复述是( )。  
 A. 原子核处于太阳系的中心  
 B. 原子核由带负电荷的电子以及带正电荷的质子和不带电的中子所组成  
 C. 原子由电子和带正电荷的质子与不带电的中子所组成的原子核组成  
 D. 原子核由核外电子、质子和中子组成
11. 群众过去把干部关系比作“鱼水关系”,而现在却把一些地方的干部关系形象地斥责为“蛙水关系”,意思是指有的干部在需要群众时就像“蛙”在水中。对此,一位省委书记认为,田鸡是可以吃的,“蛙”跳到岸上来,就应该把他也吃掉。  
 这位省委书记的意思是( )。  
 A. 坏事有时可以变成好事  
 B. 共产党的干部一刻也不能脱离群众  
 C. 对于大吃大喝的干部决不能姑息  
 D. 对于脱离群众的干部不能姑息
12. 在原始社会,当社会生产力水平低下,人们的劳动所得除维持人们自身的生存和繁衍外几乎没有剩余时,是没有所谓人权概念的。后来,随着生产力的发展,私有制的出现,产生了阶级对立的阶级压迫,体现了如集权的产生和发展,奴隶的生存权而作为最古老的人权要求第一次被提出来了。因此,没有生产力的发展,就不会有人权问题的产生。  
 这段话主要支持了这样一种论点,即( )。  
 A. 人权要求是伴随着阶级的出现而出现的  
 B. 奴隶的生存权是最古老的人权要求  
 C. 生产力的发展导致了人权要求的产生  
 D. 私有制是人权出现的根源
13. 永定河上的卢沟桥,修建于公元1189—1192年间。桥长265米,由11个半圆形的石拱组成,每个拱长度不一,自16米至21.6米。桥宽约8米,路面平坦,几乎与河面平行。每两个石拱之间有石砌桥墩,把11个石拱连成一个整体。由于各拱相连,所以这种桥叫连拱石桥。