



搜 狐  
Sohu.com 教育频道推荐用书

点知教育

# 2005年全国各省市 高考试卷总汇及详解

北京点知教育研究院 编写  
高考命题研究中心

# 文综

中国致公出版社



# 2005 年全国各省市 高考试卷总汇及详解

北京点知教育研究院  
高考命题研究中心 编

## 文 综

主 编 石 磊

|     |    |     |     |     |     |     |
|-----|----|-----|-----|-----|-----|-----|
| 编 委 | 语文 | 李艳辉 | 冯立嵩 | 张玉娟 | 刘 强 | 何 璐 |
|     | 数学 | 邓向阳 | 石勇铭 | 周敏云 | 辛 明 |     |
|     |    | 刘 欣 | 宋智涛 | 郑一宏 | 熊志勇 |     |
|     | 英语 | 袁 琳 | 刘彦民 | 降荣贞 | 何林根 |     |
|     | 文综 | 郭 松 | 刘立春 | 李 芳 | 张玉华 |     |
|     |    | 王天开 | 梁丽娟 | 罗 伟 | 陈 飞 |     |
|     | 理综 | 孙陆沙 | 杨快乐 | 郭月秋 |     |     |
|     |    | 蓝联飞 | 雷 伍 | 胡 华 |     |     |

中国致公出版社

**图书在版编目(CIP)数据**

轻松高考/北京点知教育研究院高考命题研究中心编写·—北京:中国致公出版社,2005.6

ISBN 7-80096-639-9

I. 轻… II. 北… III. 课程-高中-解题-升学

参考资料 IV. G634

中国版本图书馆 CIP 数据核字(2004)第 056409 号

---

**轻松高考·2005年全国各省市高考试卷总汇及详解(文综)**

---

**出版者:**中国致公出版社

北京市西城区太平桥大街4号 邮编:100034

电话:010-66168543(发行部) 66126749(编辑部)

**发行者:**新华书店

**印刷者:**北京市施园印刷厂

**开本:**787×1092毫米 1/16 印张:70 字数:800千字

**版次:**2005年6月第3版 2005年6月第1次印刷

**书号:**ISBN 7-80096-639-9/G·418

**定价:**77.00元(全6册)

---

如有印刷质量问题,印厂负责调换。

# 编写说明

2005年,是参加高考的学生最多的一年,也是高考模式、科目、内容和要求发生重大变化的一年。全国实施自主命题的省份已由2004年的11个增加至14个,同时2005年的高考《考试大纲》取消了语文、数学、英语三科的题型及分值的限制。为了方便广大师生尽快欣赏全国各省市的高考试题,北京点知教育研究院在2005年高考结束后的第一时间即组织了国内著名的高考命题研究专家对2005年全国各省市的全部高考试题深入研究,并对答案进行了详细的解析,分科汇编成了本套试卷汇编,以便为参加2006年高考的师生们抛砖引玉。

本套试卷汇编除具权威性外,还充分突出了实用性,既可为广大学生提供模拟训练之用,同时也为教师和教研人员提供了很好的参考。为方便读者使用,我们按照科目汇集,分为语文、数学(理)、数学(文)、英语、文科综合、理科综合六册,并尽量保持了试卷的原貌。部分省市除语文、数学、英语以外的单科试卷我们放在了文科综合或理科综合中。在试卷汇编过程中,我们得到了众多教育机构、教师和教研人员的大力支持,在此深表感谢!

北京点知教育研究院

高考命题研究中心

2005年6月

## 高考自主命题 14 省市试卷概览

| 省市  | 单独命题科目                                  | 教育部考试中心命题科目            |
|-----|---|------------------------|
| 北京市 | 语文、数学、英语、文科综合、理科综合                      |                        |
| 天津市 | 语文、数学、英语、文科综合、理科综合                      |                        |
| 辽宁省 | 语文、数学、英语                                | 文理综合                   |
| 上海市 | 语文、数学、英语、综合能力测试、物理、化学、生物、政治、历史、地理       |                        |
| 江苏省 | 语文、数学、英语、物理、化学、生物、政治、历史、地理              |                        |
| 浙江省 | 语文、数学、英语                                | 文科综合、理科综合              |
| 福建省 | 语文、数学、英语                                | 文科综合、理科综合              |
| 湖北省 | 语文、数学、英语                                | 文科综合、理科综合              |
| 湖南省 | 语文、数学、英语                                | 文科综合、理科综合              |
| 广东省 | 语文、数学、英语、物理、化学、政治、历史、生物、地理、英语(2)、综合能力测试 |                        |
| 重庆市 | 语文、数学、英语                                | 文科综合、理科综合              |
| 江西省 | 语文、数学、英语                                | 文科综合、理科综合              |
| 山东省 | 语文、数学、英语                                | 文科综合、理科综合              |
| 安徽省 | 英语笔试试题                                  | 英语听力部分、语文、数学、文科综合、理科综合 |

# 目 录

1. 2005 年普通高等学校招生全国统一考试 文科综合能力测试(全国卷I) …… ( 1 )  
(河北、河南、安徽、山西、浙江、福建、湖北、湖南、江西、山东、安徽各省考卷)
2. 2005 年普通高等学校招生全国统一考试 文科综合能力测试(全国卷II) …… ( 1 )  
(黑龙江、吉林、广西各省考卷)
3. 2005 年普通高等学校招生全国统一考试 文科综合能力测试(全国卷III) …… ( 1 )  
(甘肃、四川、云南、陕西、重庆各省区考卷)
4. 2005 年普通高等学校招生全国统一考试 文科综合能力测试(北京卷) …… ( 2 )
5. 2005 年普通高等学校招生全国统一考试 文科综合能力测试(天津卷) …… ( 3 )
6. 2005 年普通高等学校招生全国统一考试 上海综合能力测试(文科使用) …… ( 4 )
7. 2005 年普通高等学校招生全国统一考试 广东综合能力测试(文科使用) …… ( 4 )
8. 2005 年普通高等学校招生全国统一考试 上海政治试卷 …… ( 5 )
9. 2005 年普通高等学校招生全国统一考试 广东政治试卷 …… ( 6 )
10. 2005 年普通高等学校招生全国统一考试 江苏政治试卷 …… ( 7 )
11. 2005 年普通高等学校招生全国统一考试 上海历史试卷 …… ( 8 )
12. 2005 年普通高等学校招生全国统一考试 广东历史试卷 …… ( 9 )
13. 2005 年普通高等学校招生全国统一考试 江苏历史试卷 …… ( 9 )
14. 2005 年普通高等学校招生全国统一考试 上海地理试卷 …… ( 10 )
15. 2005 年普通高等学校招生全国统一考试 广东地理试卷 …… ( 11 )
16. 2005 年普通高等学校招生全国统一考试 江苏地理试卷 …… ( 12 )
17. 2005 年普通高等学校招生全国统一考试 文理综合(辽宁卷) …… ( 12 )

说明:2005年全国高考教育部考试中心统一命题文综试卷三份,本份由河北、河南、安徽、山西、浙江、福建、湖北、湖南、江西、山东、安徽等省市采用。

绝密★启用前

## 2005年普通高等学校招生全国统一考试(全国卷I)

### 文科综合能力测试

本试卷分第I卷(选择题)和第II卷(非选择题)两部分。考试结束后,将本试卷和答题卡一并交回。

#### 第I卷

##### 注意事项:

1. 答第I卷前,考生务必将自己的姓名、考生号、考试科目涂写在答题卡上。
2. 每小题选出答案后,用铅笔把答题卡上对应题目的答案标号涂黑。如需改动,用橡皮擦干净后,再选涂其他答案标号。不能答在试题卷上。
3. 本卷共35小题,每小题4分,共140分。在每题给出的四个选项中,只有一项是最符合题目要求的。目前我国已成为世界主要的石油进口国,随着需求的增加,石油进口量还将继续增长。近年,世界市场石油价格持续走高。回答1~4题。

1. 图1为某地地层示意图。从P点向下钻井,当钻头位于①、②、③“层”时,可能分别探测到 ( )

- A. 天然气 水 石油  
B. 水 石油 天然气  
C. 石油 天然气 水  
D. 天然气 石油 水

2. 一艘油轮从波斯湾驶往我国沿海。6月下旬经马尔代夫附近海域、马六甲海峡到新加坡,该油轮 ( )

- A. 先顺水航行,后逆水航行  
B. 桅杆的日影始终出现在南侧  
C. 可以不经过吉隆坡西南海域  
D. 航行期间,雨少晴多

3. 我国西气东输工程已于2004年建成通气。该工程主线的西部起点位于 ( )

- A. 塔里木盆地  
B. 准噶尔盆地  
C. 柴达木盆地  
D. 鄂尔多斯高原

4. 最近三四年间,世界市场石油价格暴涨,主要原因在于 ( )

- ①运输成本增加  
②垄断的加强  
③供需关系的改变  
④炼油业的大发展
- A. ①②  
B. ②③  
C. ③④  
D. ①④

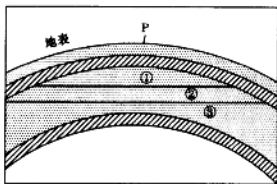


图1

图2为亚洲两个国家略图。读图回答5~7题。

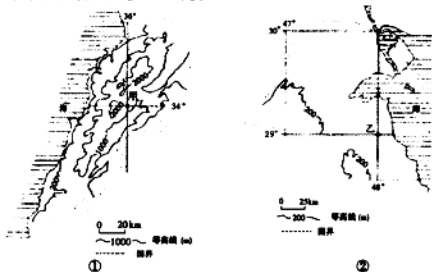


图2

5. 两国的临海分别是

( )

- A. 红海、亚丁湾      B. 安达曼海、泰国湾      C. 地中海、波斯湾      D. 阿拉伯海、孟加拉湾

6. ②图所示国家的自然特点是 ( )

- A. 面临海洋、降水丰沛      B. 地势低平、植被茂盛      C. 冬温夏凉、四季如春      D. 沙漠广布、炎热干燥

7. 据地理坐标判断,甲乙两地距离约为 ( )

- A. 300 千米      B. 550 千米      C. 1300 千米      D. 1550 千米

假定工厂选址时只考虑运费,且运费仅与所运货物的重量和运距成正比。某原料的原料指数等于该原料重量与产品重量之比。图3中,O点到原料 $M_1$ 、 $M_2$ 产地和市场N的距离相等。据此回答8~9题。

8. 如果工厂选址在O点最合理,那么 ( )

- A.  $M_1$ 的原料指数大于 $M_2$ 的原料指数  
 B.  $M_1$ 、 $M_2$ 的原料指数都大于1  
 C. 生产1个单位重量的产品分别约需要0.5个单位重量的 $M_1$ 、 $M_2$   
 D. 生产1个单位重量的产品分别约需要1个单位重量的 $M_1$ 、 $M_2$

9. 若生产2个单位重量的产品需3个单位重量的原料 $M_1$ ,2个单位重量的原料 $M_2$ ,那么工厂区位最好接近以下四点中的 ( )

- A. N      B. P      C. Q      D. R

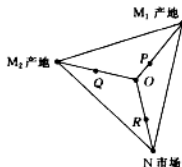


图3

图4是长江口外水域叶绿素含量、水温和盐度垂直分布的某次监测数据合成图。叶绿素含量在水深10到20米之间先升后降。据此回答10~12题。

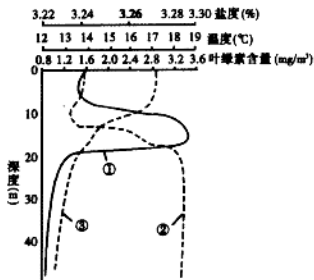


图4

10. 图4中①、②、③曲线依次代表 ( )

- A. 盐度、温度、叶绿素含量      B. 盐度、叶绿素含量、温度  
 C. 叶绿素含量、盐度、温度      D. 叶绿素含量、温度、盐度

11. 从图4中可以看出 ( )

- A. 水深超过10米后,盐度随深度增加持续升高  
 B. 水深超过10米后,水温随深度增加持续降低  
 C. 水深15米处,叶绿素含量、温度、盐度值均达到最高  
 D. 水深超过20米后,叶绿素含量随深度增加而升高

12. 此次监测所处的时节 ( )

- A. 长城内外——千里冰封,万里雪飘      B. 江淮平原——草长莺飞二月天  
 C. 燕赵大地——赤日炎炎似火烧      D. 太行群山——霜叶红于二月花

我国西南地区自古生活着众多少数民族，中央政府在该区推行了许多促进统一多民族国家发展的政策。回答13~16题。

13. 图5是考古出土的一方汉印的印文。该印是 ( )

- A. 刘邦所封异姓诸侯王的王印  
B. 汉朝赐予百越首领的印信  
C. 汉朝管理今昆明地区的实物证据  
D. 汉朝封夜郎候为王时所赐印信



图5“滇王之印”

14. 元朝时，西藏正式成为中央政府管辖下的一个行政区，中央政府 ( )

- A. 在西藏设立行省  
B. 以宣政院为管理西藏地区的机构  
C. 在西藏设置卫所  
D. 设置驻藏大臣

15. 明清两朝在西南地区实施“改土归流”政策 ( )

- A. 规定按田亩多少纳税，允许人口流动  
B. 在当地推广土司制度  
C. 康熙时为了平息“三藩之乱”而加以大规模推行  
D. 由中央政府任命行政官员实施直接统治

16. 中华人民共和国建立初期，中央人民政府在西南等少数民族地区进行民主改革的主要任务是 ( )

- ①废除剥削制度 ②消灭阶级压迫 ③统一国家财政经济 ④建立社会主义经济  
A. ①②③ B. ①②④ C. ①③④ D. ②③④

文学作品的风格、形式和内容往往反映了时代的特点。回答17~20题。

17. 生活在东汉末年的曹操是建安文学的代表人物，他的诗歌总体风格是 ( )

- A. 慷慨苍凉 B. 朴实恬淡 C. 缠绵婉转 D. 浮艳华丽

18. “忆昔开元全盛日，小邑犹藏万家室”和“寂寞天宝后，园庐但蒿藜”全是唐代一位著名诗人的诗句。这位诗人最有可能是 ( )

- A. 陈子昂 B. 孟浩然 C. 杜甫 D. 杜牧

19. 话本是宋代出现的一种新的文学形式，促使它兴起的直接社会原因是 ( )

- A. 理学的形成与发展  
B. 商业和城市的繁荣  
C. 各民族文化的交融  
D. 阶级矛盾和民族矛盾的尖锐

20. 毛泽东的诗词是记载中国革命伟大历程的史诗。他的词“军叫工农革命，旗号镰刀斧头，匡庐（泛指江西）一带不停留，便向潇湘（泛指湖南）直进”描述的是 ( )

- A. 北伐军进军湖南 B. 八一南昌起义 C. 湘赣边秋收起义 D. 红军第五次反“围剿”

在中国近现代史上，中美关系经历了一个曲折变化的过程。回答21~24题。

21. 1844年，美国强迫清政府签订《望厦条约》。与《南京条约》及其补充条约相比，下列各项中，美国通过《望厦条约》扩大的侵略权益是 ( )

- A. 进出口货物应纳税税率由两国议定  
B. 有权在通商口岸租地、房屋和永久居住  
C. 享有领事裁判权和片面最惠国待遇  
D. 有权在通商口岸巡查贸易、开设医院、建立教堂

22. 在世界反法西斯战争中，中、美、英三国共同签署的《开罗宣言》规定 ( )

- A. 日本侵占的中国领土必须归还  
B. 维持外蒙古现状  
C. 战后成立联合国  
D. 废除美英在华治外法权

23. 抗日战争胜利后，美国实行扶蒋反共政策的根本目的是 ( )

- A. 进一步扩大对华资本输出  
B. 在中国建立稳定统一的全国性政权  
C. 控制中国，推行全球战略  
D. 缓和美苏矛盾，划分势力范围

24. 20世纪70年代，中美两国关系开始走向正常化的标志是 ( )

- A. 美国乒乓球队首次访问中国  
B. 美国国家安全事务助理基辛格秘密访华  
C. 《中美联合公报》在上海签订  
D. 两国建立外交关系

居民消费是不断变化的。人们通常所说的“三大件”的变化就是生动的事例。在20世纪50~60年代，“三大件”是指缝纫机、手表和自行车。以后“三大件”逐渐演变为彩色电视机、冰箱和洗衣机；电话、空调和计算机；轿车、房子和旅游。回答25~27题。



25. 从消费内容来看,缝纫机、手表和自行车的消费属于 ( )  
 A. 物质生活消费 B. 精神文化生活消费 C. 劳务消费 D. 享受资料消费
26. 与彩色电视机相比,旅游商品属于 ( )  
 A. 物质商品 B. 耐用消费品 C. 服务商品 D. 专用商品
27. 决定居民消费从低级逐步向较高层次发展的根本因素是 ( )  
 A. 对外开放程度 B. 经济发展水平 C. 财政收入状况 D. 通货膨胀水平

图6是比利时画家马格利特的作品。画面上明明画了一只逼真的烟斗,而画上的法文写的却是“这不是一只烟斗”。回答28~29题。

28. 在画面情境中,烟斗的形象与文字含义之间的关系属于 ( )  
 A. 自相矛盾的关系 B. 辩证法的矛盾关系  
 C. 诡辩的关系 D. 辩证否定的关系
29. 当我们面对这幅画的时候,图形与文字共同组成的这幅画又启发我们思考艺术作品与现实对象的关系。下列叙述正确表达两者关系的有 ( )  
 ①艺术作品是不依赖原型的主观创造  
 ②艺术作品体现了对原型的摹写与创造的统一  
 ③艺术作品是对原型的审美再现  
 ④艺术作品应不断追求更逼真地反映原型



图6

- A. ①② B. ②③ C. ③④ D. ②④

“苟利国家生死以,岂因祸福避趋之?”民族英雄林则徐的这一诗句,不仅激励了几代中国人抗击外国侵略、维护民族利益的斗争精神,在建设社会主义和谐社会的今天,仍是宝贵的精神财富。回答30~31题。

30. 这句诗体现了人生价值观是 ( )  
 ①人生的价值在于对社会的贡献 ②有价值的人生不应考虑个人利益  
 ③对社会的贡献大小决定了人生价值的高低 ④个人对社会的贡献以社会对个人的尊重为基础
- A. ①② B. ①④ C. ①③ D. ③④

31. 有人认为,“趋福避祸、趋利避害”是一切动物的本能,人也是动物,由此得出“人的本质是自私的”。这种论证之所以不正确,是因为 ( )

- ①人性本善,自私是后天获得的特质 ②人性本恶,后天可以为善  
 ③人的本质应从社会关系的总和去理解 ④趋群体、他人之利,是对趋利避害本能的超越
- A. ①③ B. ②③ C. ①④ D. ③④

互联网的发展和普及极大地推动了社会的发展,同时也带来了前所未有的社会问题。除了过于乐观和过于悲观的观点之外,更多的人主张全面地看待这两方面的关系。回答32~33题。

32. 下列属于矛盾分析法的叙述有 ( )  
 ①互联网所带来的好处和坏处各占一定比例  
 ②互联网所带来的利、弊是同一事物的两个对立的方面  
 ③互联网本来是好东西,只是后来被坏人利用了  
 ④互联网和其他事物一样在同一与斗争的关系中发展
- A. ①② B. ②③ C. ①③ D. ②④

33. 一般来说,互联网对社会发展利大于弊,其积极作用是主流,而对于痴迷网络的少数青少年来说,则弊大于利。这是由于 ( )

- ①矛盾的主要方面与次要方面发生了转化 ②外因起了决定性的作用  
 ③具体事物的性质是由矛盾特殊性决定的 ④矛盾的同一性和斗争性发生转化
- A. ①② B. ②③ C. ②④ D. ①③

34. 关于民族区域自治制的正确表述是 ( )

- A. 民族区域自治权由民族自治地方的人民政府、法院和检察院行使  
 B. 民族区域自治权由民族自治地方的人民代表大会和人民政府行使

- C. 民族区域自治权只有少数民族才能享有  
D. 民族区域自治权的实质是少数民族的自由权

35. 议会制共和制和总统制共和制是当代资本主义国家的两种主要政体,其区别是 ( )

- ①前者不设总统,后者设立总统  
②前者政府对议会负责,后者的政府对总统负责  
③前者的国家元首没有实权,后来的国家元首拥有实权  
④前者的议会拥有立法权,后者的立法权在总统

A. ①②                      B. ②③                      C. ①④                      D. ②④

## 第 II 卷

注意事项:

1. 用钢笔或圆珠笔直接答在试题卷上。
2. 答卷前将密封线内的项目填写清楚。
3. 本卷共 4 大题,共 160 分。

|     |  |     |  |
|-----|--|-----|--|
| 总 分 |  | 核分人 |  |
|-----|--|-----|--|

36. (36 分)图 7 为我国亚热带季风气候区一个小区域的平面图及地形剖面图。据此回答下列问题。

评卷人

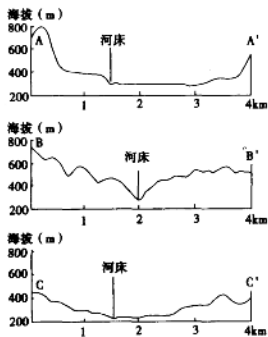
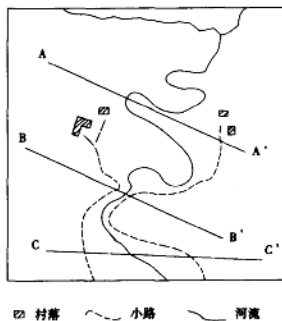


图 7

(1) 简述三个剖面分别显示的地形特征,并综述该小区域的整体地形特征。(16 分)

得分

(2) 根据所给信息,说明该小区域土地利用的潜力及开发利用应当注意的问题。(9 分)

得分

(3) 扼要说明该小区域水能开发的有利因素。(11 分)

得分

37. (32分)根据材料回答问题。

评卷人

材料一

在法国大革命期间的瓦尔密战役中,普军训练有素、装备精良,在猛烈炮轰法军阵地后,发动进攻。法军士兵在普军逼近时,高呼“民族万岁!”击退了敌人的进攻。

材料二

在20世纪初的欧洲,“每个国家突然之间有了要使自己强大的感情,但都忘记了别的国家也会有同样的情绪;每个国家都想得到更多的财富,每个国家都想从别国得到点什么”。“在一九一四年战争开始的几个星期……最爱好和平,最心地善良的人,也像喝醉了酒似的两眼杀气腾腾”。

材料三

第一次世界大战后,落后的土耳其沦为西方列强宰割的对象。在民族主义激励下,凯末尔领导土耳其人民,赶走外国侵略者,建立共和国,发展民族经济,走上民族复兴的道路。

(1)结合所学知识,说明材料一所述的瓦尔密战役的性质。(6分)

得分

(2)概括材料二反映出的狭隘民族主义的内容,结合所学知识简述其产生的欧洲国际关系背景。(12分)

得分

(3)指出材料三反映出的凯末尔革命中民族主义的目标。(4分)

得分

(4)根据上述三条材料,简要评价民族主义的历史作用。(10分)

得分

38. (32分)根据材料回答问题。

评卷人

表1 我国农民收入来源及构成(单位:元/人)

| 年份   | 纯收入  | 1. 工资性收入 | 占比(%) | 2. 家庭经营纯收入 | 占比(%) | 3. 转移性收入 | 占比(%) | 4. 其它收入 | 占比(%) |
|------|------|----------|-------|------------|-------|----------|-------|---------|-------|
| 2001 | 2366 | 772      | 32.6  | 1460       | 61.7  | 47       | 2.0   | 88      | 3.7   |
| 2002 | 2476 | 840      | 33.9  | 1488       | 60.1  | 51       | 2.1   | 98      | 4.0   |
| 2003 | 2622 | 919      | 35.0  | 1541       | 58.8  | 66       | 2.5   | 97      | 3.7   |
| 2004 | 2936 | 998      | 33.98 | 1746       | 59.45 | 77       | 2.62  | 116     | 3.95  |

注:技术性统计误差由四舍五入造成

(1)根据表1简要说明农民收入结构变化的状况。(3分)

得分

(2)根据表1所显示的信息,联系我国经济发展的实际,提出增加工资性收入和家庭经营纯收入的主要经济措施。(7分)

得分

(3)农民工为我国国民经济的发展作出了重要贡献。但近年来,由于农民进城务工收入增长缓慢,农民工子女上学难、“同工不同酬”、“同工不同权”等现象的普遍存在,导致农民务工人员数增长趋缓。对此,政府采取了一系列政策措施,切实加强农民工合法权益的保护。请运用政治常识说明政府保障农民工合法权益的理由。(10分)

得分

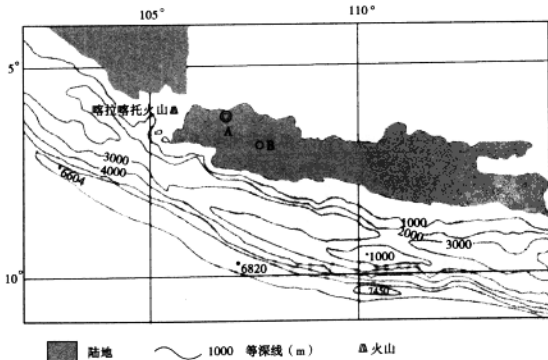
(4)表1反映了我国农民收入的变化情况。改革开放以来,为了发展农村经济,党和政府根据农村实际进行了包括家庭承包制、科技兴农及减免农业税等一系列兴农富民的政策。试分析这些政策的哲学依据。(12分)

得分

39. (60分)根据材料完成下列要求。

评卷人

图8是某群岛附近海域等深线图。喀拉喀托火山于1853年8月26日从水深305米的海底猛烈喷发,引发的海啸导致澳大利亚36000多人丧生。这次火山喷发后,火山露出海面,其后又多次喷发。现今该火山海拔813米。



(1)填空:喀拉喀托火山顶与图示最低处相对高度是\_\_\_\_\_米。(3分)图中A城市名称是\_\_\_\_\_,它是\_\_\_\_\_ (国家)的首都。(4分)

得分

(2) 写出图示范围内板块界线的类型及板块的名称。(6分)

得分

(3) 简要说明喀拉喀托火山喷发的原因。(7分)

得分

图8中B城市为万隆。1955年,在这里召开了亚非会议,又称“万隆会议”。在这次会议上,周恩来提出:“我们的会议应该求同而存异……我们并不要求各人放弃自己的见解,因为这是实际存在的反映……我们应该承认,在亚非国家中是存在有不同的思想意识和社会制度的,但这并不妨碍我们求同和团结。”

(4) 指出材料中所说的与会各国的“异”指的是什么,结合所学知识说明与会各国的“同”主要包括哪些内容。(10分)

得分

(5) 简述周恩来是在什么情况下提出“求同存异”的方针的,这对会议起到了什么作用。(6分)

得分

(6) 简要说明万隆会议对当时的中国外交所起的作用。(4分)

得分

(7) 胡锦涛主席在2005年4月24日印度尼西亚峰会上发表的讲话中指出:“50年前的亚非会议,是亚非民族解放运动的一座重要里程碑,是国际关系史上的一个伟大创举。”“那次会议所确立的处理国家关系的十项原则,为建立公正合理的国际政治经济新秩序奠定了重要基础。”请回答:我国政府倡导的国际新秩序的内容是什么?为什么说它实质上与周恩来在第一次亚非会议上提出的“求同存异”的原则是一致的?(10分)

得分

(8) 近些年来,我国加强了同亚非国家的经济合作。2002年,中国与东盟签署了《全面经济合作框架协议》,确定了2010年建立自由贸易区的目标。运用所学的经济常识分析我国谋求与东盟国家建立中国—东盟自由贸易区的必要性及将对我国经济发展产生的影响。(10分)

得分

## 2005年普通高等学校招生全国统一考试(全国卷Ⅱ)

### 文科综合能力测试

本试卷分第Ⅰ卷(选择题)和第Ⅱ卷(非选择题)两部分。考试结束后,将本试卷和答题卡一并交回。

#### 第Ⅰ卷

注意事项:

1. 答第Ⅰ卷前,考生务必将自己的姓名、准考证号、考试科目涂写在答题卡上。
2. 每小题选出答案后,用铅笔把答题卡上对应题目的答案标号涂黑。如需改动,用橡皮擦干净后,再选涂其他答案标号。不能答在试题卷上。
3. 本卷共35小题,每小题4分,共140分。在每题给出的四个选项中,只有一项是最符合题目要求的。图1表示某地区人口再生产类型的转变过程。据此回答1~2题。

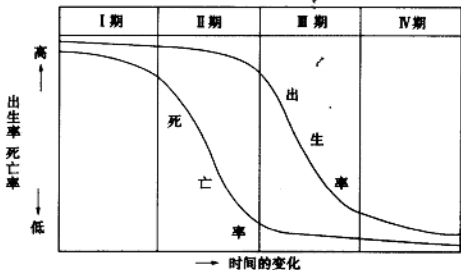


图1

1. 与“人口自然增长率迅速降低,高龄人口比例缓慢增加”对应的时期是 ( )  
 A. I期                      B. II期                      C. III期                      D. IV期
  2. 在I期 ( )  
 A. 人口急剧膨胀              B. 人口老龄化              C. 人口增长停滞              D. 人口平均寿命较低
- 读图2回答3~6题。

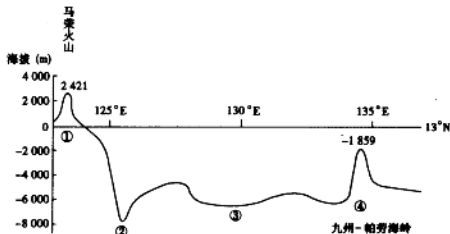


图2

- 3.九州—帕劳海岭 ( )
- A. 位于亚欧板块上 B. 位于印度洋板块上  
C. 位于太平洋板块上 D. 是太平洋板块和印度洋板块的界线
4. 因板块挤压引发的地震多位于图中的 ( )
- A. ①②之间 B. ②③之间 C. ③④之间 D. ④附近
5. 马荣火山所在的国家是 ( )
- A. 文莱 B. 越南 C. 菲律宾 D. 日本
6. 马荣火山与九州——帕劳海岭的距离约 ( )
- A. 1400 千米 B. 1200 千米 C. 1000 千米 D. 800 千米

图 3 表示不同地物辐射温度在一天内的变化状况。据此回答 7~8 题。

7. 曲线①~④代表的地物分别可能是 ( )
- A. 沙地、湖泊、林地、草地 B. 沙地、草地、林地、湖泊  
C. 草地、沙地、湖泊、林地 D. 草地、林地、沙地、湖泊
8. 图 3 显示 ( )
- A. 日出前各地物间的温差最大  
B. 日落后地物①的降温速度最快  
C. 地物③的辐射温度白天夜晚都最低  
D. 地物④到达最高温度的时间早于其它地物

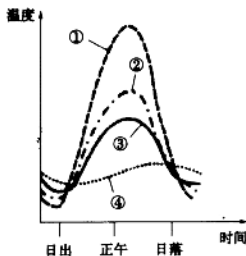


图 3

假定城镇是唯一市场,城镇周围是条件均一的平原,种植农作物的收益只与市场价格、生产成本和运费有关,其关系表达式为:收益=市场价格—生产成本—运费。单位面积甲、乙、丙农作物,其市场价格分别为 600 元、1000 元、1400 元,生产成本分别为 200 元、400 元、600 元,运费与距离成正比。图 4 是这三种农作物收益随距城镇(市场)的距离变化示意图。据此回答 9~11 题。

9. X、Y、Z 线代表的农作物依次是 ( )
- A. 甲、乙、丙 B. 乙、丙、甲  
C. 丙、甲、乙 D. 丙、乙、甲
10. 在距城镇 OJ 范围内,为取得最佳综合经济效益,种植这三种农作物的界线应该是 ( )
- A. E、F B. F、G  
C. E、H D. F、H

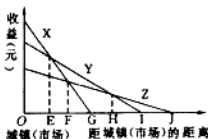


图 4

11. 与其它两作物相比较,单位面积作物 Z ( )
- A. 单位距离运费最低 B. 单位距离运费最高  
C. 随距城镇距离增大收益递减最快 D. 总是收益最低
- 水利是农业的命脉,对社会经济发展具有重要作用。回答 12~15 题。
12. 春秋时,楚相孙叔敖主持修建芍陂,推动了所在地区农业生产的发展。该水利工程位于 ( )
- A. 成都平原 B. 河北地区 C. 渭河流域 D. 淮河流域
13. 隋朝大运河的一段利用了春秋时期吴王夫差开凿的古运河。这一段是 ( )
- A. 水济渠 B. 通济渠 C. 邗沟 D. 江南河
14. 筒车在中国古代南方农业生产中发挥过重要作用,这一灌溉工具创制于 ( )
- A. 三国时期 B. 南北朝时期 C. 唐代 D. 南宋
15. 新中国的大型水利工程建设取得了一系列重大成就,葛洲坝水利枢纽工程建成于 ( )
- A. 第一个五年计划期间 B. 开始全面建设社会主义的十年期间  
C. “文化大革命”期间 D. 改革开放时期

宪法是国家的根本大法,是立国之本。回答16~18题。

16. 1791年宪法是法国大革命的重要成果,该宪法 ( )
- A. 规定法国实行君主立宪制  
B. 规定法国为共和制国家  
C. 确立了无财产限制的选举制度  
D. 是各革命派别一直严格遵循的纲领
17. 1912年春,南京临时政府颁布的《中华民国临时约法》 ( )
- A. 宣告了中华民国的成立  
B. 标志清王朝统治的结束  
C. 宣布废除清政府与列强签订的一切不平等条约  
D. 标志中国第一部资产阶级民主宪法的诞生
18. 与《中国人民政治协商会议共同纲领》相比,1954年《中华人民共和国宪法》的新特点是 ( )
- A. 规定国家的权力属于人民  
B. 规定实行人民民主专政  
C. 体现了社会主义原则  
D. 规定实行民族区域自治

图书报刊在推动思想解放和社会进步方面发挥着重要作用。回答19~23题。

19. 明末清初,顾炎武主张做学问要“经世致用”,对后代学风影响很大。他的代表作是 ( )
- A. 《农政全书》  
B. 《天工开物》  
C. 《天下郡国利病书》  
D. 《坤舆万国全图》
20. 鸦片战争后出版的《海国图志》和《瀛环志略》对开阔人们眼界、重新认识世界起了积极作用。它们的主要内容是介绍 ( )
- A. 西方各国政治制度  
B. 西方历史地理知识  
C. 西方兵器制造知识  
D. 西方先进科学技术
21. 梁启超阐述变法图存道理的重要论著《变法通议》发表在 ( )
- A. 《时务报》  
B. 《中外纪闻》  
C. 《国闻报》  
D. 《循环日报》
22. 最早在《新青年》上提倡以白话文代替文言文,成为文学革命先声的是 ( )
- A. 鲁迅的《狂人日记》  
B. 胡适的《文学改良刍议》  
C. 陈独秀的《文学革命论》  
D. 李大钊的《庶民的胜利》
23. 1978年《光明日报》发表《实践是检验真理的唯一标准》,引发了关于真理标准问题的大讨论。这次讨论 ( )

- ①否定了“两个凡是”的错误观点  
②打破了长期以来个人崇拜和教条主义的束缚  
③为中共十一届三中全会的召开奠定了思想基础  
④完成了党的思想路线、政治路线的拨乱反正
- A. ①②③  
B. ①②④  
C. ①③④  
D. ②③④

市场作为各种经济活动的枢纽,连接着从生产到消费的全过程。回答24~26题。

24. 市场上从事交易活动的组织和个人称为市场主体。通常情况下,最重要的市场主体是 ( )
- A. 企业  
B. 居民  
C. 政府  
D. 非盈利性机构
25. 市场经济是实现资源优化配置的一种有效形式。这种配置主要是通过 ( )
- A. 对外出口来实现的  
B. 政府宏观调控来实现的  
C. 价格机制来实现的  
D. 银行信贷来实现的
26. 世界市场是国内市场在范围上的延伸,它是随着 ( )
- A. 社会生产力水平和国际分工的发展而形成的  
B. 国际性经济组织的发展而形成的  
C. 跨国公司的发展而形成的  
D. 市场竞争的展开而形成的

图5是一幅题为“招商热”的漫画。回答27~28题。

27. 漫画“招商热”除了讽刺某些人办事不从实际出发,还批评了他们没有 ( )
- A. 抓主要矛盾  
B. 具体问题具体分析  
C. 抓矛盾的主要方面  
D. 发挥主观能动性
28. 从图5所显示的信息来看,建设水电站还缺乏基本的自然资源。一般说来,资源配置是指人们为了满足多方面的需要 ( )
- A. 消费既有的资源  
B. 生产出过去没有的物质  
C. 相互交换自己多余的物资  
D. 对资源作出一定的安排

蟾蜍有毒,蟾衣却可入药。某青年农民偶然看到了蟾蜍蜕皮的过程,于是开始了巧获蟾衣的探索。经过反复观察、实验、总结,发现蟾蜍蜕皮是其生长过程的自然现象,一般在黑夜发生,过程很短,然后马上吃掉;还发现蟾蜍的眼睛只对运动的物体敏



招商热

图5



感。根据这些情况,他发明了通过控制光线、在水中获取、用光照引吸虫喂养等技巧获取蟾衣的方法,终于闯出了低成本、省劳力、不破坏生态平衡且有巨大经济效益的致富道路。回答 29~31 题。

29. 巧获蟾衣之所以可能的客观依据是 ( )

- ①偶然性在一定条件下起决定作用
- ②认识规律及其实现条件才能利用规律
- ③客观事物发展有自己的特殊规律
- ④规律是必然性与偶然性的统一

A. ①②      B. ②③      C. ③④      D. ①④

30. 巧获蟾衣的过程体现了 ( )

- ①一个正确认识获得需要多次反复的认识过程
- ②发挥主观能动性是认识和利用规律的条件
- ③人在自然和社会规律面前是自由的
- ④人在自然和社会规律面前是不自由的

A. ①②      B. ①③      C. ②④      D. ①④

31. 巧获蟾衣致富体现的经济学道理是 ( )

- A. 个别劳动时间越长,所生产商品的价值量就越大
- B. 提高劳动生产率,可以降低生产商品的个别劳动时间
- C. 技术和诀窍可以提高生产商品的社会必要劳动时间
- D. 个别劳动时间越长,所生产商品的价值量就越小

在我国,每个民族在全国人民代表大会中都有本民族的代表,且人口在百万以上的民族都有全国人民代表大会常务委员会委员。回答 32~33 题。

32. 上述材料体现了 ( )

- A. 各民族的大团结是我国统一、繁荣、昌盛的重要保证
- B. 各民族都有平等权利参加国家事务的管理
- C. 各民族都有权管理本民族内部事务
- D. 各民族都有权管理本地区事务

33. 我国人大代表的主要职责是 ( )

- ①代表人民利益和意志,依照宪法和法律赋予的各项职权,行使国家权力
- ②保持和人民群众的密切联系,听取和反映人民群众的意见和要求
- ③在工作、学习和生活中发挥先锋模范作用
- ④依法行政,有效管理社会公共事务

A. ①②      B. ②③      C. ①③      D. ③④

34. 党的十六届四中全会通过的《中共中央关于加强党的执政能力建设的决议》中指出,要“按照党总揽全局,协调各方的原则,改革和完善党的领导方式。”党对国家和社会生活的领导方式主要是 ( )

- ①政治领导      ②行政领导      ③思想领导      ④组织领导

A. ①②③      B. ①③④      C. ②③④      D. ①②④

35. 我国地方人民政协的主要职能是 ( )

- A. 贯彻执行上一级人民政协机关的决定和决议
- B. 制定地方性法规
- C. 政治协商、民主监督、参政议政
- D. 调查研究、提出议案,对地方重大事务进行科学决策