

小学数学 每周一测

与二期课改新教材
配套使用

5

+

2

二年级第一学期
本书编写组 编

x

3

-

÷



学林出版社



定价: 12.00 元

ISBN 7-80616-547-9



9 787806 165478

与二期课改新教材配套使用

小学数学每周一测

(二年级第一学期)

本书编写组 编

学林出版社

图书在版编目(CIP)数据

小学数学每周一测. 二年级第一学期/《小学数学每周一测》编写组编. —上海:学林出版社,1998.7(2001.8重印)
ISBN 7-80616-547-9

I. 小... II. 小... III. 数学课-小学-试题
IV. G624.505

中国版本图书馆 CIP 数据核字(2000)第 64621 号

小学数学每周一测(二年级第一学期)



作 者——本书编写组

特约编辑——李 华

责任编辑——钱丽明

封面设计——王 峥

出 版——上海世纪出版集团
学林出版社(上海钦州南路 81 号 3 楼)
电话:64515005 传真:64515005

发 行——应书书店上海发行所
学林图书发行部(钦州南路 81 号 1 楼)
电话:64515012 传真:64844088

印 刷——上海师范大学印刷厂

开 本——787×1092 1/16

印 张——7.5

字 数——17 万

版 次——1998 年 7 月第 1 版

2006 年 5 月第 15 次印刷

印 数——98001-113000 册

书 号——ISBN 7-80616-547-9/G·142

定 价——12.00 元

目 录

第一周(A)	1	第十二周(A)	45
(B)	3	(B)	47
第二周(A)	5	第十三周(A)	49
(B)	7	(B)	51
第三周(A)	9	第十四周(A)	53
(B)	11	(B)	55
第四周(A)	13	第十五周(A)	57
(B)	15	(B)	59
第五周(A)	17	第十六周(A)	61
(B)	19	(B)	63
第六周(A)	21	第十七周(A)	65
(B)	23	(B)	67
第七周(A)	25	第十八周(A)	69
(B)	27	(B)	71
第八周(A)	29	第十九周(A)	73
(B)	31	(B)	75
第九周(A)	33	第二十周(A)	77
(B)	35	(B)	79
第十周(A)	37	期中试卷(A)	81
(B)	39	(B)	84
第十一周(A)	41	期末试卷(A)	87
(B)	43	(B)	90
		参考答案	93

第一周(A)

题号	一	二	三	四	五	六	七	思考题	总分
题分	12	24	20	6	10	16	12	10	110
得分									

一、口算(每题1分,共12分)

13 + 8 =	9 + 4 =	23 + 5 =	80 + 18 =
18 - 8 =	90 - 30 =	36 - 4 =	45 - 8 =
39 - 6 =	24 + 40 =	9 + 56 =	5 + 18 =

二、计算(每题4分,共24分)

29 + 28 - 47 =	48 + 16 + 34 =	61 - 22 + 28 =
----------------	----------------	----------------

56 + 16 - 19 =	95 - 39 - 36 =	47 + 16 + 25 =
----------------	----------------	----------------

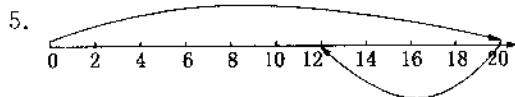
三、填空(第5题3分,其他每格1分,共20分)

1. $(26+9) \text{ () } - 8 \text{ () } + 30 \text{ () } - 20 \text{ () } + 7 \text{ () } - 5 \text{ ()}$

2. 8个十是(); 6个一和9个十是()。

3. 35里面有()个十和()个一。

4. 一个两位数,十位上是7,个位上是最大的一位数,这个数是()。



$\square \bigcirc \square = \square$

被减数	75	92	
减数	37		33
差		20	23

加数	40	29	
加数	28	23	18
加数	14	17	17
和			78

四、用点子表示数(6分)

一个点子放在十位上表示10,放在个位上表示1,现在有三个点子,可表示哪些两位数?

五、移动一根火柴,使下面的算式成立(每题5分,共10分)

1. $35 + 6 = 31$ 2. $26 - 6 = 23$

六、先提出问题,再列式计算(每题8分,共16分)

李明家养了15只  , 7只  .

提出问题: 1.





列式计算

提出问题: 2.





列式计算

七、想想算算(每题6分,共12分)

1.

 有 25 筐
 有 19 筐
 和  共有? 筐

2.

 有 64 只
 有 94 只
 和  相差几只?

思考题(每题5分,共10分)

如果 $\square = 24$, $\bigcirc = 16$, $\star = 37$, ()里应该填什么数?

(1) \bigcirc (\square \bigcirc \star) = () \bigcirc (\bigcirc \bigcirc \bigcirc) = ()

(2) \bigcirc (\star \star \square) = () \bigcirc (\square \square \star) = ()

第 一 周(B)

题号	一	二	三	四	五	六	七	思考题	总分
题分	12	24	20	6	10	16	12	10	110
得分									

一、口算(每题 1 分,共 12 分)

$12 + 7 =$	$8 + 5 =$	$36 + 4 =$	$27 + 7 =$
$80 - 4 =$	$32 - 5 =$	$46 - 9 =$	$37 + 40 =$
$54 + 9 =$	$5 + 45 =$	$18 - 9 =$	$8 + 28 =$

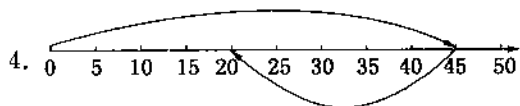
二、计算(每题 4 分,共 24 分)

$64 - 38 + 15 =$	$26 + 26 + 26 =$	$45 - 24 + 17 =$
------------------	------------------	------------------

$45 + 15 - 32 =$	$54 - 27 - 27 =$	$37 + 28 + 27 =$
------------------	------------------	------------------

三、填空(第 1~4 题,每题 3 分,第 5 题 8 分,共 20 分)

1. 6 个十是();4 个一和 5 个十是()。
2. 78 里面有()个十和()个一。
3. 一个两位数,十位上是 8,个位上是最小的一位数,这个数是()。



$$\square \bigcirc \square = \square$$

5.

被减数	85	73	
减数	58		44
差		20	34

加数	16	25	
加数	27	31	21
加数	12	34	12
和			66



四、用点子表示数(6分)

一个点子放在十位、个位上,分别表示10,1,现在有四个点子,可表示哪些两位数?

五、移动一根火柴,使下面算式成立(每题5分,共10分)

1. $89 + 2 = 100$ 2. $89 - 2 = 96$

六、先提出问题,再列式计算(每题8分,共16分)

鱼塘有  30 条,有  28 条。

提出问题: 1.




列式计算

提出问题: 2.




列式计算

七、想想算算(每题6分,共12分)

1.

取走 47 支 
还剩 25 支 
原来有几支  ?

2.

先开走 8 辆 
又开走 5 辆 
一共开走几辆  ?

思考题(10分)

1. 教室里有 6 盏日光灯,全部亮着,现在关掉了 4 盏灯,教室里还有几盏日光灯?

2. 二(1)班学生排成一行做广播操,张小乐排的位置是:从前面数是第 18 人,从后面数是第 17 人,二(1)班有多少人?

第二周(A)

题号	一	二	三	四	五	六	七	思考题	总分
题分	16	24	15	9	12	12	12	10	110
得分									

一、口算(每题1分,共16分)

$26 - 7 =$	$32 + 8 =$	$85 - 80 =$	$28 - 7 =$
$4 + 48 =$	$30 + 70 =$	$8 + 42 =$	$56 - 8 =$
$65 + 5 =$	$75 - 5 =$	$6 + 16 =$	$7 + 45 =$
$80 - 30 =$	$61 - 9 =$	$27 + 6 =$	$30 - 6 =$

二、估算(每题6分,共24分)

(1) 37 元 + 46 元	(2) $98 - 79$	(3) $95 - 49$	(4) $22 + 39$
大约是()元	大约是()	大约是()	大约是()

三、判断题,对的打“√”,错的打“×”(每题3分,共15分)

$$\begin{array}{r} 46 \\ + 16 \\ \hline 62 \end{array}$$

$$\begin{array}{r} 58 \\ - 23 \\ \hline 35 \end{array}$$

$$\begin{array}{r} 37 \\ + 33 \\ \hline 60 \end{array}$$

$$\begin{array}{r} 4 \\ + 24 \\ \hline 60 \end{array}$$

$$\begin{array}{r} 78 - 39 + 9 = 39 \\ \begin{array}{r} 78 \\ - 39 \\ \hline 39 \end{array} \end{array}$$

() () () () ()

四、选择题,在对的○内打“√”(每题3分,共9分)



长2米



长2分米



长20厘米



2. 100 厘米 ○ 1 米

“ $>$ ”



“ $=$ ”



“ $<$ ”



3. 佳佳每天看5页书,看了4天,第5天从()页看起。

20



21



9



五、列式计算(每题 6 分,共 12 分)

1. 减数是 20,被减数是 77,求差。



2. 一个加数是 25,另两个加数都是 18,和是多少?


六、想一想,做一做(每题 6 分,共 12 分)

1. 写出十位上是 5 的两位数。

2. 一个长方形剪去一个角,还剩几个角?

七、想想算算(每题 6 分,共 12 分)

1. 学校有 50 面彩旗  其中 26 面是红色  其余颜色旗有几面?

2. 原来有  15 只,又买来 12 只,吃掉 21 只,现在还有几只?

思考题(10 分)

1.

$$\begin{array}{r} 49 \\ + \square\square \\ \hline 76 \\ - 2\square \\ \hline \square 1 \end{array}$$

2.

$$\begin{array}{r} 29 \\ 29 \\ + \square\square \\ \hline 87 \end{array}$$

第二周(B)

题号	一	二	三	四	五	六	七	思考题	总分
题分	16	24	15	9	12	12	12	10	110
得分									

一、口算(每题 1 分,共 16 分)

$23 - 5 =$	$50 - 9 =$	$39 + 8 =$	$81 - 20 =$
$6 + 48 =$	$48 + 5 =$	$91 + 9 =$	$46 + 7 =$
$75 + 8 =$	$44 + 7 =$	$73 - 70 =$	$9 + 50 =$
$90 - 40 =$	$78 + 8 =$	$37 - 4 =$	$45 : 40 =$

二、估算(每题 6 分,共 24 分)

(1) $29 \text{ 元} + 32 \text{ 元}$	(2) $92 - 31$	(3) $61 - 48$	(4) $48 + 19$
大约是()元	大约是()	大约是()	大约是()

三、判断题,对的打“√”,错的打“×”(每题 3 分,共 15 分)

$$\begin{array}{r} 42 \\ + 23 \\ \hline 65 \end{array}$$

()

$$\begin{array}{r} 69 \\ - 14 \\ \hline 45 \end{array}$$

()

$$\begin{array}{r} 90 \\ - 36 \\ \hline 64 \end{array}$$

()

$$\begin{array}{r} 3 \\ + 48 \\ \hline 78 \end{array}$$

()

$$97 - 32 + 30 = 65$$

$$\begin{array}{r} 97 \\ - 32 \\ \hline 65 \end{array}$$

()

四、选择题,在对的○内打“√”(每题 3 分,共 9 分)

1. 方凳 

高 3 米

30 厘米

300 厘米

2. 99 厘米 ○ 1 米

“>”

“=”

“<”

3. 小明每天看 5 页书,看了 6 天,第 7 天从第()页看起。

30

31

35

五、列式计算(每题 6 分,共 12 分)

1. 减数是 31,被减数是 58,差是多少?

2. 83 减去 27,再加上 18,结果是多少?


六、想一想,做一做(每题 6 分,共 12 分)

1. 写出个位上是 3 的两位数。

2. 把一个长方形平均分成两个形状、大小相同的图形,你有几种分法?(至少 6 种)

七、想想算算(每题 6 分,共 12 分)

1. 农场养了 42 只鸡,又养了 33 只鸭,鸡比鸭多几只?

2. 妈妈买来  32 只,吃掉 23 只,又买来 15 只,现在还有多少只?

思考题(10 分)

1. $\bigcirc = \triangle\triangle$, $\triangle = \star\star\star\star$,

那么: $\bigcirc = (\quad)$ 个 \star

2. $\square = \bigcirc\bigcirc$, $\bigcirc = \star\star\star\star\star$, $\star = \triangle\triangle$,

那么: $\square = (\quad)$ 个 \triangle

第 三 周(A)

题号	一	二	三	四	五	六	七	思考题	总分
题分	16	16	20	12	12	12	12	10	110
得分									

一、口算(每题 1 分,共 16 分)

35 + 30 =	77 + 7 =	6 + 34 =	36 - 6 =
85 + 15 =	11 + 9 =	6 + 38 =	27 - 5 =
96 - 6 =	68 - 6 =	29 - 4 =	30 + 8 =
21 - 7 =	1 + 39 =	18 + 18 =	18 - 5 =

二、巧算(每题 4 分,共 16 分)

(1) 37 + 26 = () + () = ()	(2) 72 - 36 = () - () = ()
(3) 19 + 28 = () + () = ()	(1) 34 - 18 = () - () = ()

三、填空(每题 4 分,共 20 分)



加法算式 _____
乘法算式 _____



加法算式 _____
乘法算式 _____

3. $2 \times 8 = \square$ 读作 _____ 表示 () 个 () 连加。

4. 写出乘法算式: 5 个 2 连加 _____;
一个因数是 8, 一个因数是 4 _____。

5. 根据乘法口诀, 写出两个乘法算式:
二四得八 _____、_____
二五 一十 _____、_____

四、在○内填“>”、“=”、“<”(每题2分,共12分)

$3 \times 2 \bigcirc 5$

$2 \times 7 \bigcirc 7 + 7$

$5 \times 2 \bigcirc 2 \times 5$

$4 \times 1 \bigcirc 4$

$2 \times 6 \bigcirc 6 + 6$

$2 \times 7 \bigcirc 16$

五、选择题,在正确的○内打“√”(每题4分,共12分)

1. 3个6连加改写成乘法算式是:

$3 + 3 + 3 + 3 + 3 + 3$

$3 + 6$

3×6

6×3



2. 写成乘法算式是:



2×6

6×2

3×4



3. 5个2连加是:

5×2

2×5

$5 + 5$



六、看一看,做一做(每题4分,共12分)



5元



2元



3元

- 2支牙膏多少钱? _____
- 3把牙刷多少钱? _____
- 一个茶杯、2支牙膏和3把牙刷一共多少钱? _____

七、想想算算(每题6分,共12分)

1. 原来有粉笔98支,分给二(1)班24支,二(2)班35支,还剩几支?

2. 小明拿5元钱,买了一只卷笔刀3元6角,应找回多少钱?

思考题(10分)



每个皮球5元

1个书包 = ()元

第 三 周(B)

题号	一	二	三	四	五	六	七	思考题	总分
题分	16	16	20	12	12	12	12	10	110
得分									

一、口算(每题 1 分,共 16 分)

45 + 40 =	66 - 6 =	5 + 35 =	44 - 4 =
75 + 25 =	42 - 8 =	52 + 28 =	38 - 8 =
84 - 9 =	35 + 3 =	35 - 7 =	40 - 8 =
72 - 9 =	4 + 25 =	20 + 40 =	27 - 5 =

二、巧算(每题 4 分,共 16 分)

(1) 38 + 16 = () + () = ()	(2) 44 - 15 = () - () = ()
(3) 26 + 24 = () + () = ()	(4) 62 - 53 = () - () = ()

三、填空(每题 4 分,共 20 分)

1. ○○○ ○○○ ○○○ ○○○ ○○○ 2. ☆☆☆☆ ☆☆☆☆
 加法算式 _____
 乘法算式 _____
3. $5 \times 2 = \square$, 读作 _____, 表示()个()连加。
4. 写出乘法算式: 3 个 5 连加 _____,
 一个因数是 7, 另一个因数是 5 _____
5. 根据乘法口诀, 写出两个乘法算式:
 二六十二 _____、_____
 二八十六 _____、_____

四、在○里填“>”、“=”、“<”(每题 2 分,共 12 分)

3 × 3 ○ 8	2 × 4 ○ 4 + 4	2 × 8 ○ 10
15 - 2 ○ 2 × 7	2 × 9 ○ 9 + 8	2 × 2 ○ 2 - 2

五、选择题,在正确的○内打“√”(每题4分,共12分)

1. 5个2连加改写成乘法算式是:

$2+2+2+2+2$



2×5



5×2



$5+2$



2. ☆☆☆☆☆ ☆☆☆☆☆ 写成乘法算式是:

2×5



5×2



$5+2$



$2+2+2+2$



3. 6个2连加是:

2×6



6×2



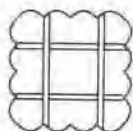
$6+6$



$6+2$



六、看一看,做一做(每题4分,共12分)



2元



4元



12元

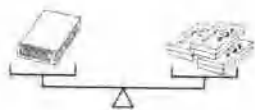
- 2块手帕多少钱? _____
- 3双袜子多少钱? _____
- 2块手帕,3双袜子和一把伞,一共多少钱? _____

七、想想算算(每题6分,共12分)

1. 二(1)班种15盆花,二(2)班种18盆花,二(2)班比二(1)班多种几盆花?

2. 小红用10元钱去买钢笔,用去8元2角,还剩多少钱?

思考题(10分)



一本书 = () 元