

学前创意学习计划游戏书系列  
分龄训练 最适当的学习

5 6 7 岁适用

# 幼儿启蒙数学训练

北京金苹果图书有限公司 编绘



北京出版集团公司  
北京少年儿童出版社

学前创意学习计划游戏书系列  
分龄训练 最适当的学习

5 6 7 岁适用

# 幼儿启蒙数学训练

北京金苹果图书有限公司 编绘

3

路加

德尼

耶利米

小哈维

蓝斯



北京出版社出版集团  
北京少年儿童出版社

算一算，左边的减去右边的，差是多少？把答案写在空格中。




-



=



-



=



-



=



-



=

$10 - 4 =$

$9 - 6 =$


$8 - 5 =$

$7 - 3 =$

学习指导：告诉孩子，前边的是被减数，第二个是减数，算出来的答案是它们的差。

图形对应

把躯干部分形状相似的小螃蟹和小鱼用线连起来，然后说一说它们都像什么形状？




2




算一算，两边加起来是多少？请将答案写在空格中。

# 数的加法



3



$$6 + 5 = 11$$

$$6 + 7 = 13$$

$$8 + 5 = 13$$

$$7 + 4 = 11$$

学习指导：告诉孩子，加法就是两个或是两个以上的数合成一个数的运算方法。

幼儿启蒙数学

试读结束：需要全本请在线购买：[www.ert](http://www.ert)

# 图形对应

下面的三角板各拼出了哪一组图形呢？请你画线连接。




4




学习指导：提醒孩子数一数每张图上红色和白色三角形的不同数量，上下数量一定要一一对应，让他独立思考，完成练习。

耶利米和蓝斯玩纸牌游戏，到底哪些牌才是7和8呢？快帮他们找出来，在下面的圆圈里分别涂上不同的颜色吧！



7



5




8




学习指导：如果孩子只找出一张，要提醒他说：“仔细看，不止一张哦！”把数量是7的涂成一种颜色，数量是8的涂成另一种的颜色，注意别涂错了。

# 识别形状

请你在下面的每组图形中，按照要求将所要找的图形圈出来吧！

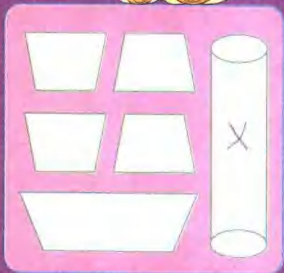


哪些不是正方形？



哪些不是长方形？

6



哪些不是梯形？



哪些不是扇形？


学习指导：引导孩子说出正方形、长方形、梯形、扇形的特点，再让他根据特点自己比较，找出答案。





同一种动物是一样重的，请根据动物的数量，说说图中的这些跷跷板是哪边重？把画错的用笔圈起来吧！

比较轻重



7

学习指导：引导孩子根据动物的数量来辨别轻和重，帮助他理解数量和重量的关系。在同一种动物是同等重量的前提下，数量越多则越重。

幼儿启蒙数学训练



## 观察力


蓝斯和路加的积木混在一起了。蓝斯的积木上标的是奇数，路加的积木上标的是偶数，请你把蓝斯的积木涂上黄色，路加的积木涂上红色，帮他们分出来吧！



我是路加。




我是蓝斯。



学习指导：可先试着让孩子说一说1~10的数字哪些是奇数，哪些是偶数，然后根据题目要求涂上颜色。

请小朋友把比5大的数字部分涂上黄色，比5小的涂上黑色吧！然后再说一说是什么动物？



学习指导：先列出1、2、3、4……10，然后告诉孩子排在后面的数字比排在前面的大，让孩子先了解10以内数的大小关系，再根据结果完成习题。

# 分割图形

图中左边的图形可以分割成右边的哪几个图形？请用笔将正确的答案圈起来。




10





下面是一张8月份的月历，  
但是少了几个日期，你能帮忙写  
出来吗？

数字  
顺序



11




学习指导：拿出家里的台历或挂历，先让孩子观察一下月历的特点，然后给他讲解有关年、月、日、星期的相关知识。

幼儿启蒙数学

图中的物品各有多少呢？仔细数一数，把正确答案圈起来吧！



15	18	20
26	21	50



2	19	22
30	28	12



50	12	23
41	29	30

按照下面的要求，积木组合出的图形应该是哪一种呢？请你帮助耶利米把正确的答案圈起来。

逻辑思考



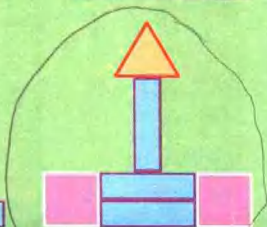
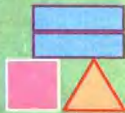
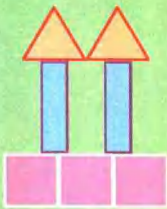

1个



2个



3个



13

学习指导：培养孩子正确的思维方式非常重要，先让孩子自己完成，重要的不是能否找出答案，而是他用什么样的方式思考。

幼儿启蒙数学训练

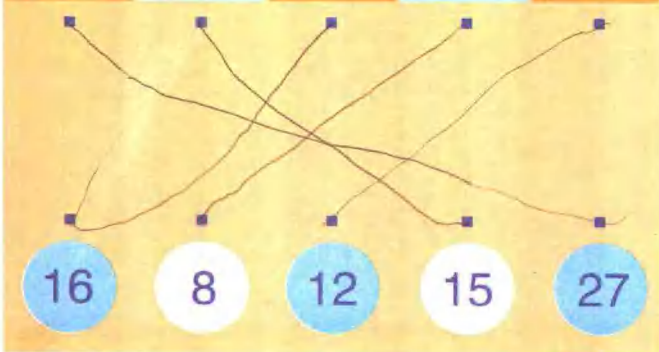
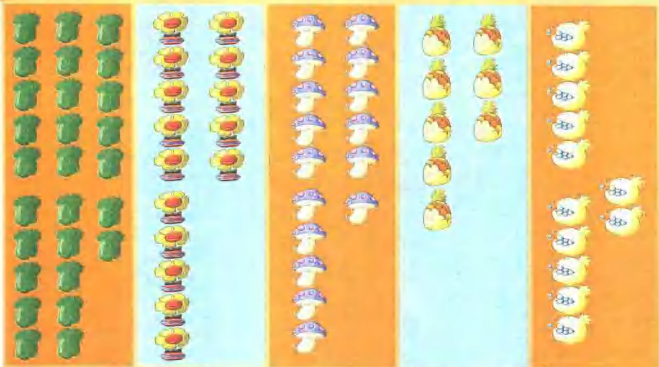


# 数数练习

下面每组图中的植物加起来，各有多少呢？请你赶快数一数，找出答案连起来。



14



16

8

12

15

27






下面的三个跷跷板上谁比较重，谁比较轻呢？请在旁边的方格内把重的一方画上“√”吧！

重量比较



15



学习指导：先用实物给孩子讲解一下跷跷板上不同物体轻重的概念，即重的在下面，轻的在上面。再让他看图说一说哪些动物比较重，根据题目做出判断。

幼儿启蒙数学