



小学数学课程与教学论系列丛书

# 小学数学家庭作业



人民教育出版社

义务教育课程标准实验教科书配套用书

# 小学数学家庭作业

一年级(下册)

班级\_\_\_\_\_

姓名\_\_\_\_\_

凤凰出版传媒集团  
江苏教育出版社



编 者 吴志毅 顾晓娟 殷海英 顾祥祥 孙蔚 曹丹  
 作 者 小学语文课程专家 一年组(下册)  
 教材编辑 《小学语文课程专家》编写组  
 责任编辑 孙正刚  
 出版发行 凤凰出版传媒集团  
 江苏教育出版社(江西南路18号 210009)

网 址 <http://www.1000.com.cn>  
 集团网址 凤凰出版传媒网 <http://www.jppw.cn>  
 经 销 江苏凤凰新华书店集团有限公司

印 刷 南京印钞厂  
 印 刷 浙江新华印刷厂  
 厂 址 南京市鼓楼区(邮编 212001)


电 话 025-7281158  
 开 本 890×1168毫米 1/32  
 印 张 1.575

字 数 28 000  
 定 次 2006年12月第2版  
 2006年12月第1次印刷  
 书 号 ISBN 7-5343-4804-8  
 定 价 2.40元

邮购电话 025-75660774, 025267777  
 邮购网址 <http://www.1000.com.cn>

本书封面贴有江苏凤凰出版传媒集团凤凰厂防伪  
 安全标识, 刮开涂层即见防伪安全码

ISBN 7-5343-4804-8



9 787534 348044 >

新课标 新教材 新理念 新思维 新教法 新学法 新资源



江苏教育出版社 2005年全力打造

《苏教金牌助学·名师原创》

苏教金牌助学

名师原创



SUJIAO JINPAI ZHUXUE

小学数学

二年级上学期



江苏教育出版社

《苏教金牌助学·名师原创》

语文（一上） 苏教版  
语文（二上） 苏教版  
语文（三上） 苏教版  
语文（四上） 苏教版  
语文（五上） 苏教版  
语文（六上） 苏教版

语文（一上） 人教版  
语文（二上） 人教版  
语文（三上） 人教版  
语文（四上） 人教版

数学（一上） 苏教版  
数学（二上） 苏教版  
数学（三上） 苏教版  
数学（四上） 苏教版  
数学（五上） 苏教版  
数学（六上） 苏教版

数学（一上） 人教版  
数学（二上） 人教版  
数学（三上） 人教版  
数学（四上） 人教版

丛书是由部分教材编写人员经验丰富  
的教研员、一线名师联袂打造。  
包含小学各年级各主要版本，中学  
各年级各主要版本。

# 小学语文、数学一本通

配合课前预习、课内探究、课外拓展  
三个学习环节，在学习知识的同时，了解  
历史、自然和地理等百科知识。真的是

“一书在手，

百学无忧”。



 江苏教育出版社

江苏教育出版社发行部

读者俱乐部

南京市马家街31号

欢迎师生拨打邮购热线：025-85400774

025-85406265

试读结束！需要全本请在线购买：[www.ertongbook.com](http://www.ertongbook.com)



1. 先说一说是怎样计算的,再填得数。



$$15 - 9 = \square$$

2. 先算加法,再算减法。

$$9 + 6 = \square$$

$$9 + 4 = \square$$

$$9 + 7 = \square$$

$$15 - 9 = \square$$

$$13 - 9 = \square$$

$$16 - 9 = \square$$

3. 连一连。

$$12 - 9$$

$$8$$

$$11 - 9$$

$$10$$

$$17 - 9$$

$$5$$

$$18 - 9$$

$$2$$

$$14 - 9$$

$$3$$

$$19 - 9$$

$$9$$

4. 看谁都能算对。

$$11 - 9 =$$

$$12 - 9 =$$

$$13 - 9 =$$

$$17 - 9 =$$

$$14 - 9 =$$

$$15 - 9 =$$

$$16 - 9 =$$

$$18 - 9 =$$

5.  $\triangle\triangle\triangle\triangle$   $\triangle\triangle\triangle\triangle$

$\triangle\triangle\triangle$   $\triangle\triangle\triangle\triangle\triangle$

$$\square \bigcirc \square = \square$$

小明有( )个  
 $\triangle$ ,送给小朋友( )  
个,还剩( )个。



1. 看图列式。



$$\boxed{9} + \boxed{\quad} = \boxed{\quad}$$

$$\boxed{\quad} + \boxed{\quad} = \boxed{\quad}$$

$$\boxed{\quad} - \boxed{9} = \boxed{\quad}$$

$$\boxed{\quad} - \boxed{9} = \boxed{\quad}$$

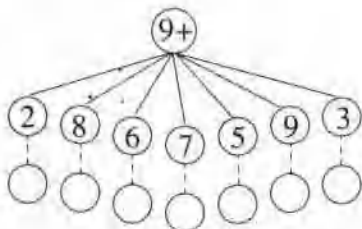
2.  $9 + (\quad) = 11$

$9 + (\quad) = 18$

$15 - (\quad) = 5$

$17 - (\quad) = 8$

3.



4. 在○里填上“>”“<”或“=”。

$9 + 5 \bigcirc 15$

$10 + 8 \bigcirc 8 + 10$

$13 - 9 \bigcirc 3$

5. 看谁都能算对。

$9 + 2 =$

$11 - 9 =$

$9 + 7 =$

$16 - 9 =$

$14 - 9 =$

$15 - 9 =$

$9 + 4 =$

$18 - 9 =$

6. 想一想□、△各表示几。

$\square + \triangle = 14$

$\square = (\quad)$

$\square - 4 = 5$

$\triangle = (\quad)$





1.



$$\square \bigcirc \square = \square$$




$$\square \bigcirc \square = \square$$

2.  $9+5-10=$        $9+8-7=$        $9+4-10=$

$18-9+7=$        $12-9+6=$        $17-9-8=$

3. 小白兔拔萝卜。



小白兔要拔(     )个萝卜,

已拔了9个,

还有(     )个没有拔。

$$\square \bigcirc \square = \square$$

4.



金鱼缸里一共有12条金鱼,有9条小金鱼,大金鱼有(     )条。


$$\square \bigcirc \square = \square$$



得分



1. 看图列式。



$$\boxed{8} + \boxed{\quad} = \boxed{\quad}$$

$$\boxed{\quad} \bigcirc \boxed{\quad} = \boxed{\quad}$$

$$\boxed{\quad} - \boxed{8} = \boxed{\quad}$$

2. 先算加法,再算减法。

$$8 + 8 = \boxed{\quad}$$

$$7 + 5 = \boxed{\quad}$$

$$8 + 3 = \boxed{\quad}$$

$$16 - 8 = \boxed{\quad}$$

$$12 - 7 = \boxed{\quad}$$

$$11 - 8 = \boxed{\quad}$$

3.

|    |
|----|
| 13 |
| 15 |
| 17 |
| 14 |

$$- 8 =$$

|  |
|--|
|  |
|  |
|  |
|  |

|    |
|----|
| 14 |
| 13 |
| 15 |
| 11 |

$$- 7 =$$

|  |
|--|
|  |
|  |
|  |
|  |

4. 看谁都能算对。

$$11 - 7 =$$

$$12 - 7 =$$

$$13 - 7 =$$

$$11 - 8 =$$

$$14 - 7 =$$

$$15 - 8 =$$

$$16 - 8 =$$


$$12 - 8 =$$

5. 把得数大于 6 的涂上红色,小于 6 的涂上黄色。





1. 看图列式。



$$\square + \square = \square$$

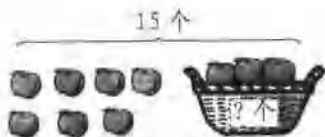
$$\square + \square = \square$$

$$\square - \square = \square$$

$$\square - \square = \square$$



$$\square \bigcirc \square = \square$$



$$\square \bigcirc \square = \square$$

2. 连一连。

8+3


12-8

16-7

15-8

16-8

8+7



11-7

7+4

17-8

15-7

14-7

18-9

3.  $12-7=$      $14-8=$      $18-10=$      $16-8=$

$13-8=$      $11-7=$      $15-7=$      $17-8=$

$14-7=$      $17-10=$      $16-7=$      $17-7=$



得分

• 5 •



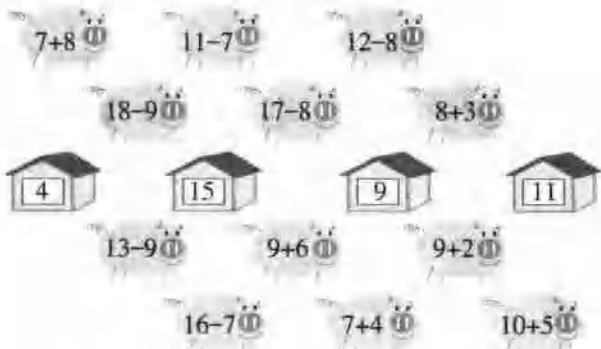
## 1. 看谁都能算对。

$8+3=$        $16-7=$        $7+8=$        $11-8=$

$16-9=$        $13-7=$        $8+9=$        $13-8=$

$14-7=$        $7+6=$        $7+4=$        $11-7=$

## 2. 帮小猪找家。



## 3. 看图写算式。



$\square \bigcirc \square = \square$



$\square \bigcirc \square = \square$



$\square \bigcirc \square = \square$

## 4.



鱼缸里原有 13 条鱼, 捞走了 8 条, 鱼缸里还有( )条鱼。

$\square \bigcirc \square = \square$





1.



$$13 - \square = \square$$





$$13 - \square = \square$$



$$11 - \square = \square$$

$$11 - \square = \square$$

2.

|    |   |   |   |   |
|----|---|---|---|---|
|    |  |  |  |  |
| 原有 | 11个   | 14个   | 12个   | 13个   |
| 吃了 | 7个  | 6个  | 5个  | 4个  |
| 还剩 | ( )个  | ( )个  | ( )个  | ( )个  |

3.



$$\square \bigcirc \square = \square$$

$$\square \bigcirc \square = \square$$

4. 看谁都能算对。

$$11 - 4 = \quad 12 - 3 = \quad 12 - 6 = \quad 11 - 2 =$$

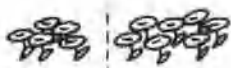
$$11 - 3 = \quad 13 - 5 = \quad 15 - 6 = \quad 13 - 4 =$$

$$14 - 5 = \quad 12 - 4 = \quad 11 - 6 = \quad 12 - 7 =$$






1. 看图写两道减法算式。



$$\square - \square = \square$$

$$\square - \square = \square$$



$$\square - \square = \square$$

$$\square - \square = \square$$



$$\square - \square = \square$$

$$\square - \square = \square$$

2. 比一比,算一算。

|  |  |  |  |
|--|--|--|--|
| $\left\{ \begin{array}{l} 5+8=\square \\ 13-5=\square \\ 13-8=\square \end{array} \right.$ | $\left\{ \begin{array}{l} 3+9=\square \\ 12-3=\square \\ 12-9=\square \end{array} \right.$ | $\left\{ \begin{array}{l} 4+7=\square \\ 11-4=\square \\ 11-7=\square \end{array} \right.$ | $\left\{ \begin{array}{l} 6+7=\square \\ 13-6=\square \\ 13-7=\square \end{array} \right.$ |
|--|--|--|--|

3. 看谁都能算对。

$11-2=$      $11-4=$      $11-6=$      $6+6=$

$11-3=$      $5+7=$      $3+9=$      $14-7=$

4. 盒子外面有6颗珠子,盒子里面有多少颗珠子?



$$\square \bigcirc \square = \square$$

5. 根据表中内容,填好表里的括号。

| 买来 | 13本  | 15支  | 16块  |
|----|------|------|------|
| 用去 | 4本   | 6支   | 8块   |
| 还剩 | ( )本 | ( )支 | ( )块 |





1. 算一算。

$11-5=$      $13-3=$      $15-6=$      $12-4=$

$13-5=$      $11-3=$      $12-6=$      $14-5=$

2. 你能算对吗?

$\square=4$

$\triangle=3$


$\bigcirc=5$

$\begin{matrix} \square & \triangle \\ \bigcirc \end{matrix} = 12$

$\begin{matrix} \square & \square \\ \triangle \end{matrix} = ( )$

$\begin{matrix} \triangle & \triangle \\ \bigcirc \end{matrix} = ( )$

3.

|     |   |   |   |   |   |
|-----|---|---|---|---|---|
|     |  |  |  |  |  |
| 一班有 | 5个  | 7个  | ( )个  | 8个  | 9个  |
| 二班有 | 6个  | ( )个  | 8个  | 7个  | ( )个  |
| 一共有 | ( )个  | 14个   | 17个   | ( )个  | 16个   |

4. 草地上小兔和小狗共 13 只。



(1) 小兔有 8 只, 小狗有多少只?

$\square \bigcirc \square = \square$

(2) 小狗有 5 只, 小兔有多少只?

$\square \bigcirc \square = \square$



1.



$$\square \bigcirc \square = \square$$

$$\square \bigcirc \square = \square$$

$$\square \bigcirc \square = \square$$

$$\square \bigcirc \square = \square$$

2. 看谁算得又对又快。

$12 - 6 =$

$14 - 9 =$

$16 - 7 =$

$17 - 8 =$

$14 - 6 =$

$15 - 8 =$

$12 - 8 =$

$11 - 2 =$

$11 - 7 =$



$13 - 6 =$

$11 - 9 =$

$18 - 9 =$

3.

|   |   |      |
|---|---|------|
|  |  | 一共   |
| ( ) 辆   | 5 辆   | 13 辆 |

|   |   |      |
|---|---|------|
|  |  | 一共   |
| 8 辆   | ( ) 辆   | 13 辆 |

4. 大鸡有 7 只, 小鸡有多少只?

$$\square \bigcirc \square = \square$$

15 只



小鸡有 8 只, 大鸡有多少只?

$$\square \bigcirc \square = \square$$





1. 看图写四道算式。



$$\square \bigcirc \square = \square$$

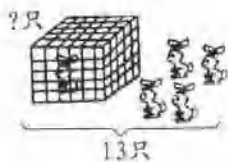
$$\square \bigcirc \square = \square$$

$$\square \bigcirc \square = \square$$

$$\square \bigcirc \square = \square$$

2.  $13 - 5 =$        $14 - 6 =$        $12 - 6 =$   
 $16 - 9 =$        $12 - 4 =$        $17 - 9 =$   
 $15 - 7 =$        $16 - 7 =$        $15 - 8 =$

3.




$$\square \bigcirc \square = \square$$

$$\square \bigcirc \square = \square$$

4.

|    |    |    |    |    |    |    |    |    |    |    |    |
|----|----|----|----|----|----|----|----|----|----|----|----|
| 11 | 12 | 13 | 14 | 15 | 16 | 17 | 18 | 19 | 20 | 11 | 12 |
| 9  | 7  | 8  | 6  | 9  | 8  | 10 | 9  | 6  | 10 | 3  | 5  |
| 2  |    |    |    |    |    |    |    |    |    |    |    |


5.

冬冬有 16 张(zhāng) 

送给同学 9 张，

还剩下多少张？

$$\square \bigcirc \square = \square$$

草丛中有 15 只 

飞走 6 只，

现在有多少只？

$$\square \bigcirc \square = \square$$







1. 按要求在括号里画标记。

有长方形面的画“√”，有正方形面的画“△”，  
有圆面的画“○”。



( )



( )



( )




( )



( )

2. 涂一涂，数一数。

长方形涂黄色 正方形涂红色 圆涂黑色



正方形有( )个；

长方形有( )个；

圆有( )个。

3. 按要求画图形。

(1) 画 3 个圆 \_\_\_\_\_

(2) 画的正方形比圆多 2 个 \_\_\_\_\_

(3) 画的长方形比圆少 1 个 \_\_\_\_\_

4. 在方格纸上画一个长方形和一个正方形。

