

★ 新课标 新教材 新思维 ★

苏教金牌助学


名师原创

SUJIAO 1课3练 自主检测 ZHUXUE

课标苏教版

小学数学

1 年级上册



江苏教育出版社

九年义务教育课标苏教版小学数学教材配套

苏教金牌助学·名师原创小学数学

一年级上册

本书编写组 编著



第一、二、三、四单元	1
单元测试(A)	1
单元测试(B)	3
第五单元 认识(一)	5
平时调查(1)	5
平时调查(2)	6
平时调查(3)	7
平时调查(4)	8
平时调查(5)	9
单元测试(A)	10
单元测试(B)	12
第六单元 认识物体	14
单元测试	14
第七单元 分与合	15
平时调查(1)	15
平时调查(2)	16
单元测试(A)	17
单元测试(B)	19
第八单元 加法 and 减法	21
平时调查(1)	21
平时调查(2)	22
平时调查(3)	23
平时调查(4)	24
期中测试(A)	25
期中测试(B)	26

江苏教育出版社

图书在版编目 (C I P) 数据


苏教金牌助学·名师原创·小学数学、一年级,上册:
课标苏教版/《苏教金牌助学·名师原创》编写组编写.
3版,一南京:江苏教育出版社,2006.7
ISBN 7-5343-6492-2

I. 苏… II. 苏… III. 数学课-小学-教学参考资料 IV. G624

中国版本图书馆 CIP 数据核字(2006)第 086775 号

书 名 苏教金牌助学·名师原创小学数学
一年级上册(课标苏教版)
作 者 本书编写组
责任编辑 徐正康
出版发行 凤凰出版传媒集团
江苏教育出版社(南京市马家街 31 号 210009)
网 址 <http://www.1088.com.cn>
集团网址 凤凰出版传媒网 <http://www.ppm.cn>
经 销 江苏省新华发行集团有限公司
照 排 南京展望文化发展有限公司
印 刷 通州市印刷总厂有限公司
厂 址 通州市交通路 55 号(邮编 226300)
电 话 0513-80237871
开 本 787×1092 毫米 1/16
印 张 4.25
版 次 2006 年 7 月第 3 版
2006 年 7 月第 1 次印刷
书 号 ISBN 7-5343-6492-2/G·6187
定 价 4.90 元
批发电话 025-83260760,83260768
邮购电话 025-85400774,8008289797
短信咨询 10602585420909
E-mail jsep@vip.163.com
盗版举报 025-83204538

苏教版图书若有印装错误可向承印厂调换
提供盗版线索者给予重奖




目 录



第一、二、三、四单元	1
单元测试(A)	1
单元测试(B)	3
第五单元 认数(一)	5
平时测查(1)	5
平时测查(2)	6
平时测查(3)	7
平时测查(4)	8
平时测查(5)	9
单元测试(A)	10
单元测试(B)	12
第六单元 认识物体	14
单元测试	14
第七单元 分与合	15
平时测查(1)	15
平时测查(2)	16
单元测试(A)	17
单元测试(B)	19
第八单元 加法和减法	21
平时测查(1)	21
平时测查(2)	22
平时测查(3)	23
平时测查(4)	24
期中测试(A)	25
期中测试(B)	28

平时测查(5)	30
平时测查(6)	31
平时测查(7)	32
单元测试(A)	33
单元测试(B)	35
第九单元 统计	37
单元测试	37
第十单元 认数(二)	39
平时测查(1)	39
平时测查(2)	40
单元测试(A)	41
单元测试(B)	43
第十一单元 认识钟表	45
单元测试	45
第十二单元 加法	47
平时测查(1)	47
平时测查(2)	48
平时测查(3)	49
平时测查(4)	50
平时测查(5)	51
单元测试(A)	52
单元测试(B)	54
期末测试(A)	56
期末测试(B)	59
参考答案	61



第一、二、三、四单元

单元测试(A)

班级 _____ 姓名 _____ 测试日期 _____ 月 _____ 日


lián yi lián

一、连一连。


bǐ yì bǐ

二、比一比。

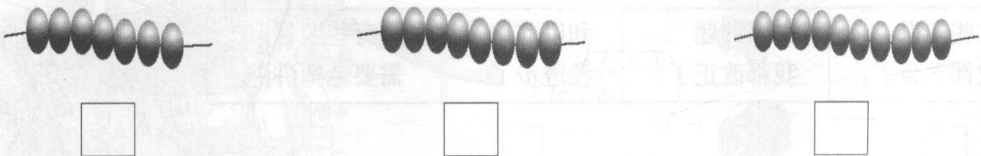
1. 高的画“√”，矮的画“○”。







2. 轻的画“√”，重的画“○”。




3. 最长的画“√”，最短的画“○”。







zhào yàng zi quān yì quān
三、照样子圈一圈。




duì de zài () lǐ huà "√".
四、对的在()里画“√”。







_____ 在  的右面 ()。  在 _____ 的右面 ()。



_____ 在  的左面 ()。  在 _____ 的左面 ()。



shuō yì shuō tián yì tián
五、说一说，填一填。



 在  的 () 面。

 在  的 () 面。

 在  的 () 面。

 在  的 () 面。

选一个或两个□,在里面画“√”。

这些知识我都学会了。	做错的题我都改正了。	和以前比我进步了。	还有些题目需要老师讲讲。
------------	------------	-----------	--------------


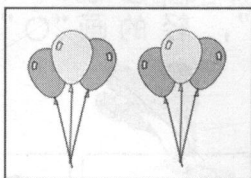

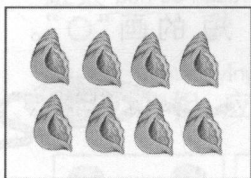
你学得怎样?



单元测试(B)

班级 _____ 姓名 _____ 测试日期 _____ 月 _____ 日

shǔ yì shǔ zài lì huà biǎo shì
一、数一数，在□里画“○”表示。




xiǎng yi xiǎng li yào huà jǐ gè
二、想一想，()里要画几个“○”？



🍎 的左边有几个 🍊 ？ ()

🍎 的右边有几个 🍊 ？ ()

yòng xiàn lián jiē tā men de jiā
三、用线连接它们的家。




我住在最上面一层。

我住在小狗的上面。


我住在最下面一层。

我住在小狗的下面。


gāo de huà ǎi de huà duō de huà shǎo de huà
四、高的画“√”，矮的画“○”。 多的画“√”，少的画“○”。




zhòng de huà qīng de huà cháng de huà duǎn de huà
重的画“√”，轻的画“○”。 长的画“√”，短的画“○”。



kě yǐ zěn yàng fēn qǐng nǐ quān yì quān
五、可以怎样分？请你圈一圈。



hái kě yǐ zěn yàng fēn zài quān yì quān
还可以怎样分？再圈一圈。



选一个或两个□，在里面画“√”。

这些知识 我都学会了。	做错的题 我都改正了。	和以前比 我进步了。	还有些题目 需要老师讲讲。
----------------	----------------	---------------	------------------



你学得怎样？




第五单元 认数(一)

平时测查(1) (学习 1~5 后使用)


班级 _____ 姓名 _____ 测查日期 _____ 月 _____ 日

bǎ tú hé xiāng yīng de shù lián qi lai
一、把图和相应的数连起来。



3 4 5 2

kàn tú xiě shù
二、看图写数。



□ □ □ □

àn shàng mian de shù jì xù huà
三、按上面的数继续画。

1	2	3	4	5

四、

1	2	3	4	5
---	---	---	---	---

选一个□,在里面画“√”。

都做对了, 我很高兴。	只要再细心一点, 我都能做对。	错的比较多, 我会努力的。
----------------	--------------------	------------------

你学得怎样?



平时测查(2) (学习几和第几后使用)

班级_____ 姓名_____ 测查日期____月____日

àn yāo qiú tú sè

一、按要求涂色。

涂4朵



涂左起第4朵



涂右起第4朵



kàn tú huí dá wèn tí

二、看图回答问题。



1. 从右数第2个盘子里有()个桃。
2. 从左数装3个桃的是第()个和第()个盘子。


gēn jù tú yì tián kòng

三、根据图意填空。

1. 是第()名,最后一名是()号。

2. 后面是()号,前面是()号和()号。

3. 的前面有()个运动员,图上一共有()个运动员。



选一个□,在里面画“√”。

都做对了,
我很高兴。

只要再细心一点,
我都能做对。

错的比较多,
我会努力的。




你学得怎样?



平时测查(3) (学习“=”“>”和“<”后使用)

班级 _____ 姓名 _____ 测查日期 _____ 月 _____ 日

bǎ zhí chǐ shàng de shù tián wán zhěng
一、把直尺上的数填完整。






shǔ yì shǔ tián yì tián
二、数一数，填一填。



左起第()只小猫钓的鱼最多,钓了()条。

左起第()只小猫一条鱼也没钓到。

kàn tú zài li tián huò zài li tián shù
三、看图在○里填“>”或“<”,在□里填数。

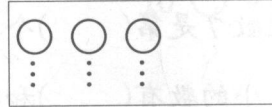
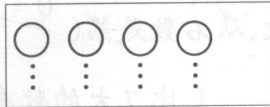



4 ○ 3

□ < □

□ > □

àn yāo qiú huà
四、按要求画“△”。



和○同样多

比○少

比○多

五、

5				4				3				2				0			
---	--	--	--	---	--	--	--	---	--	--	--	---	--	--	--	---	--	--	--

选一个□,在里面画“√”。

都做对了,我很高兴。	只要再细心一点,我都能做对。	错的比较多,我会努力的。
------------	----------------	--------------



你学得怎样?




平时测查(4) (学习6~9后使用)

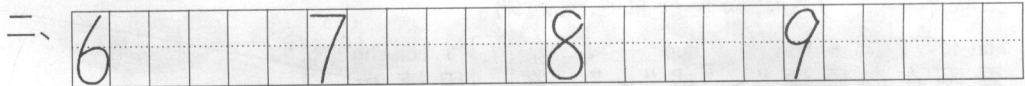
班级_____ 姓名_____ 测查日期____月____日

一、看图圈数。

kàn tú quān shù




(6 ⑦ 8) (6 7 8) (7 8 9) (7 8 9)



三、看图填空。

kàn tú tián kòng



在上面的图中：


1. 从左数7是第()个数,从右数是第()个数。
2. 比5小的数有()和(),比7大的数有()和()。
3. 大于5、小于9的数是()、()和()。
4. 6和9比,离3近一些的数是()。

选一个□,在里面画“√”。

都做对了, 我很高兴。	只要再细心一点, 我都能做对。	错的比较多, 我会努力的。
----------------	--------------------	------------------



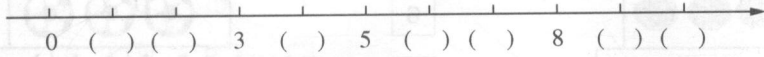
你学得怎样?



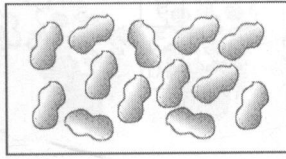
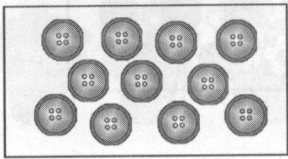
平时测查(5) (学习10后使用)

班级 _____ 姓名 _____ 测查日期 _____ 月 _____ 日

tián yì tián
一、填一填。




shǔ chu shù ge quān yì quān
二、数出10个圈一圈。



tián kòng
三、填空。

1. 9前面的一个数是(), 9后面的一个数是()。

2. 这捆  里有()根小棒。

zài li tián shàng huò
四、在○里填上“>”或“<”。

3 ○ 10

1 ○ 0

7 ○ 10

10 ○ 9

zhǎo guī lǜ tián kòng
五、找规律填空。

1. 2、4、6、()、()。

2. ()、()、8、7、6、()。

选一个□,在里面画“√”。

都做对了, 我很高兴。	只要再细心一点, 我都能做对。	错的比较多, 我会努力的。
----------------	--------------------	------------------

你学得怎样?



单元测试(A)


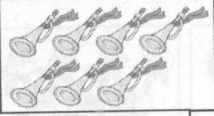

班级_____

姓名_____

测试日期____月____日

lián yi lián

一、连一连。



5


6

7

8

9

10



bǐ yì bǐ

二、比一比。

△ △ △ △

⋮

⋮

⋮

⋮

☆ ☆ ☆ ☆ ☆

⋮

⋮

⋮

⋮

⋮

○ ○ ○ ○ ○ ○ ○

5 > □

5 < □

tián yì tián

三、填一填。

1. 在○里填上“>”“<”或“=”。

6 ○ 2

3 ○ 8

5 ○ 5

10 ○ 0

2. 在□里填上合适的数。

1 > □

7 < □

6 = □

10 > □

3.

() () 2 3 () 5 () () 8 () ()

huà yì huà

四、画一画。

1. 第二行画△,和○同样多。

○ ○ ○ ○ ○ ○

2. 第二行画○,比□多。

□ □ □ □ □

xiān xiǎng yì xiǎng zài zài lǐ huà "√"
五、先想一想，再在□里画“√”。

1. 比3大的数是：


0 7 4 3 10

2. 下面的数中最小的数是：

9 3 0 5 7

kàn tú tián kòng

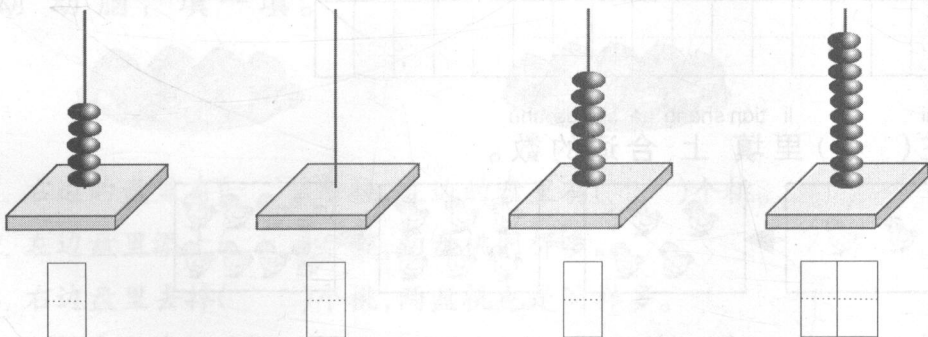
六、看图填空。



1. 一共有()盆花。
2. 从左数,开5朵花的是第()盆。
3. 从右数,开2朵花的是第()盆,开4朵花的是第()盆。
4. 从左数,第7盆开了()朵花,第8盆开了()朵花。

kàn suàn zhū xiě shù

七、看算珠写数。



选一个或两个□,在里面画“√”。

这些知识 我都学会了。	做错的题 我都改正了。	和以前比 我进步了。	还有些题目 需要老师讲讲。
----------------	----------------	---------------	------------------

你学得怎样?



单元测试(B)

班级 _____ 姓名 _____

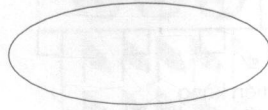
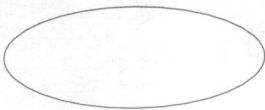
测试日期 _____ 月 _____ 日

kàn shù huà
一、看数画“○”。


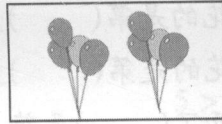
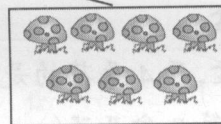





6

8

9







bǎ tóng yàng duō de yòng xiàn lián yì lián
二、把同样多的用线连一连。



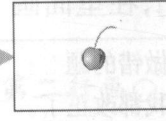
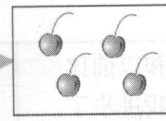
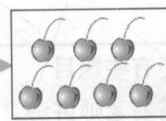

bǎ zhè xiē shù zhōng dà yú 2 de shù xiě zài xià miàn
三、把4、2、7、0、9、10、5、6这些数中大于2的数写在下面。

--	--	--	--	--	--	--	--	--	--	--	--	--	--	--	--	--	--	--	--	--

zài () li tián shàng hé shì de shù
四、在()里填上合适的数。



() () () () 每次多 () 只



() () () () 每次少 () 颗