



教育改变人生

JIAOYU GAIBIAN RENSHENG

江西教育出版社

本书编写组 编

(配中华书局版)

历史练习册

义务教育课程标准

LISHI LIANXICE

七年级·下学期

班级: _____

姓名: _____

(作业本)



江西教育出版社

JIANGXI EDUCATION PUBLISHING HOUSE



教育改变人生

JIAOYU GAIBIAN RENSHENG
江西教育出版社

历史练习册

LISHI LIANXICE

(配中华书局版) **七年级·下学期**

封面设计: 辜刚刚 徐艳萍

语文作业本 (配人教版) 七年级·下学期

数学作业本 (配人教版) 七年级·下学期

语文作业本 (配语文版) 七年级·下学期

数学作业本 (配北师大版) 七年级·下学期

英语作业本 (配人教版) 七年级·下学期

生物练习册 (配人教版) 七年级·下学期

生物练习册 (配北师大版) 七年级·下学期

历史练习册 (配人教版) 七年级·下学期

历史练习册 (配中华书局版) 七年级·下学期

地理练习册 (配人教版) 七年级·下学期

义务教育课程标准

历史练习册 (配中华书局版)

七年级·下学期

本书编写组编

江西教育出版社出版

(南昌市抚河北路61号 330008)

江西省新华书店发行

南昌市顺外印刷有限公司印刷

787毫米×1092毫米 16开本 3.5印张

2005年12月第1版 2005年12月第1次印刷

ISBN 7-5392-4553-0/G·4249 定价:4.50元

ISBN 7-5392-4553-0



9 787539 245539 >

赣教版图书如有印装质量问题, 可向我社产品制作部调换
电话: 0791-6710427 (江西教育出版社产品制作部)

编写说明

国家基础教育课程改革在我省启动已经多年,新的教育理念和新的学习方法正在被广大教师和学生所接受。为了更好地帮助教师指导学生学习,满足不同层次学校、不同水平学生的需要,我们在广泛征求专家、教师、学生和家長意见的基础上集中了全省部分优秀教师编写了这套供中小學生使用的练习册。

编写时,我们坚持按照教育部颁布的《历史课程标准(实验稿)》的要求,紧密结合我省中小学教学的实际,力求做到紧扣教材,精选题目,循序渐进,突出重点,与教学同步。在重视“知识与技能”的巩固与训练的同时,注重在“过程”的体验与“方法”的获得中,培养学生的动手实践和探究创新能力,以及“情感态度与价值观”,促进全体学生都得到应有的发展,努力使其成为一本融知识、趣味、开放和创新为一体的,符合实际需要的练习册。

由于时间和编者水平的限制,本练习册中一定还存在不少不尽人意的地方,敬请广大教师批评指正。

本册统稿:陈勤

本册作者:严永明、王国华、罗玫兰

江西教育厅教学教材研究室

2005年12月

目 录

第一单元 繁荣与开放的社会——隋唐	(1)
第1课 隋朝的统一	(1)
第2课 “贞观之治”	(3)
第3课 盛唐气象	(5)
第4课 唐朝的民族政策与科举制度	(7)
第5课 唐朝的对外关系	(8)
第6课 隋唐的科学技术	(10)
第7课 隋唐的文化艺术	(12)
第二单元 民族政权竞立和南方经济的发展——宋辽夏金元	(14)
第8课 北宋和辽、西夏的并立	(14)
第9课 南宋和金的对峙	(16)
第10课 经济重心的南移	(17)
第11课 两宋时期的社会经济	(18)
期中测试题	(21)
第12课 蒙古族的兴起和元朝统一全国	(24)
第13课 宋元的科学技术	(27)
第14课 宋元时期的文化艺术	(28)
第三单元 多民族大一统国家的巩固与发展——明清	(31)
第15课 明朝加强中央集权制度	(31)
第16课 明朝经营边疆与中外交流	(32)
第17课 清朝的制度与政策	(33)
第18课 清朝对边疆的经营	(35)
第19课 保卫国土 奠定疆域	(36)
第20课 明清的科学技术	(37)
第21课 明清的文化艺术	(38)
期末测试题	(40)
参考答案	(44)



第一单元 繁荣与开放的社会——隋唐



知识
线索

本单元主要是介绍我国封建社会的鼎盛时期——隋唐时期的历史,始于581年隋朝灭陈,止于907年唐朝的灭亡,共320年。

隋唐是我国封建社会空前繁荣时期。政治上出现了隋文帝、唐太宗、武则天、唐玄宗和魏征、房玄龄、姚崇、宋璟等一大批杰出的政治家;出现了“贞观之治”、“开元之治”等封建社会有名的盛世;创立和完善了科举制度等一系列影响深远的政治制度。经济上,农业、手工业、商业极度繁荣,创制了曲辕犁、筒车等新式农具,出现了长安、洛阳、扬州、成都等一批商业大都市。文化上,出现了赵州桥、雕版印刷等举世闻名的成就,诗歌空前繁荣,书法、绘画、石窟艺术异彩纷呈。民族关系上,唐朝加强了对突厥、吐蕃、南诏、回纥等边疆少数民族的管辖和联系,促进了祖国边疆地区的进一步开发。对外关系上,唐政府与新罗、日本、天竺等亚洲国家的友好交往盛况空前。

第1课 隋朝的统一



基础
练习

一、填空题

- _____年,北周外戚杨坚废掉周静帝,自称皇帝,改国号为隋,杨坚就是_____帝。_____年,隋朝统一全国。
- _____年,李渊迫使隋朝小皇帝退位,隋朝灭亡。李渊建立_____朝,定都_____。

二、选择题

- 南北朝时期,南朝和北朝的最后一个王朝分别是: ()
A. 宋、北齐 B. 陈、北周 C. 齐、东魏 D. 梁、西魏
- 隋文帝的经济改革措施,包括: ()
①推行均田制 ②实行轻徭薄赋政策 ③倡导节俭 ④实行郡州县三级制
A. ①②③ B. ①②④ C. ①③④ D. ②③④
- 隋朝社会经济迅速繁荣最重要的客观条件是: ()
A. 国家统一,社会安定 B. 人民负担相对减轻
C. 北方民族出现大融合 D. 隋文帝进行了改革
- 隋朝的统治类似于下列哪个朝代: ()
A. 秦朝 B. 东汉 C. 西晋 D. 东晋
- 隋朝在历史上最大的贡献是: ()
A. 实现了南北统一 B. 在政治、经济上实行改革
C. 发展了生产 D. 开通了大运河



三、材料解析

8. 阅读下列材料

“尽道隋亡为此河，至今千里赖通波。若无水殿龙舟事，共禹论功不算多。”

——胡曾《汴水》

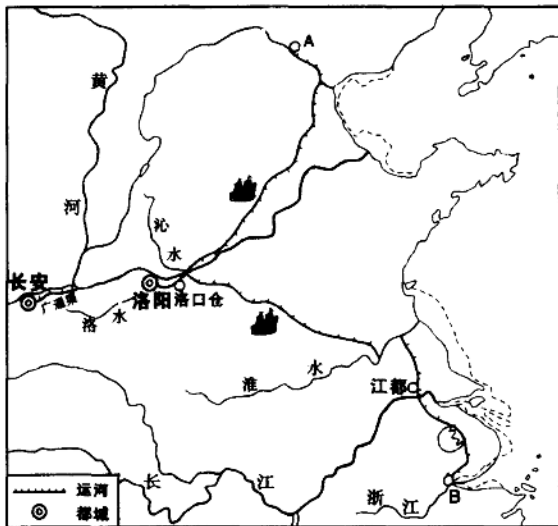
请回答：

- (1) 诗中哪一句说明了大运河开通对我国经济发展有重大意义？
- (2) 你知道诗中“水殿龙舟事”指什么吗？
- (3) “禹”是谁？他的主要功劳是什么？
- (4) 有人说隋朝的灭亡是因为大运河的开凿，你认为这种观点对吗？隋朝灭亡的原因是什么？

四、填图

9. 看《隋朝大运河》图，按要求完成下列问题

- (1) 在图中标出下列内容：永济渠、通济渠、邗沟、江南河。
- (2) 图中 A、B 所代表的古今地名：
A：古 _____，今 _____。
B：古 _____，今 _____。
- (3) 大运河的中心是 _____，大运河从南至北沟通了 _____、_____、淮水、_____、_____ 五大水系。



五、问答题

10. 列举隋文帝在政治方面的改革措施。



11. 隋炀帝为什么要开凿大运河,大运河的开凿有什么伟大意义?



拓展
探究

1. 古人评价大运河说:“天下转漕,仰此一渠。”你能说出这句话是什么意思吗?再想一想,水运粮食在古代为什么重要?

2. 说一说 隋朝为什么能够开凿大运河。

3. 写一写 根据课文中的《隋朝大运河》地图,写一篇介绍隋朝大运河的解说词。

第2课 “贞观之治”



基础
练习

一、选择题

1. 唐朝的开国皇帝是: ()
A. 杨坚 B. 李渊
C. 李世民 D. 李建成
2. “玄武门之变”是一场: ()
A. 农民起义 B. 争夺中央统治权的诸侯混战
C. 民族战争 D. 争夺皇位的宫廷政变
3. 下列人物被尊为“天可汗”的是: ()
A. 隋文帝 B. 隋炀帝 C. 唐太宗 D. 唐高祖
4. 唐太宗时最著名的谏臣是: ()
A. 房玄龄 B. 谢安 C. 霍去病 D. 魏征
5. 藏族人的祖先是: ()
A. 鲜卑人 B. 突厥人 C. 匈奴人 D. 吐蕃人

二、填空题

6. 唐太宗在西域设立_____ ,管理天山以南广大地区。
7. 7世纪初,吐蕃杰出的首领_____ 统一青藏高原,定都逻些。

三、材料解析

8. 阅读下列材料

唐太宗引用古人的话说:“舟所以比人君,水所以比黎庶,水能载舟,亦能覆舟。”
请回答:



(1)唐太宗的这句话主要阐述了什么关系?

(2)唐太宗为什么能有这样的认识?

9. 阅读下列材料

在西藏地区,流传着一首赞美文成公主的诗:

从汉族地区来的文成公主,
带来了各种粮食三千八百种,
给吐蕃的粮库打下了坚实的基础;
从汉族地区来的文成公主,
带来各种手艺的工匠五千五百人,
给吐蕃工艺打开了发展的大门;
从汉族地区来的文成公主,
带来了各种牲畜共有五千五百种,
使西藏的乳酪酥油从此年年丰收。

请回答:

(1)结合教材内容谈谈吐蕃人民为什么热情赞美文成公主?

(2)从诗中你能看出文成公主为吐蕃人民做出了哪些贡献?

四、问答题

10. 唐太宗统治时期,国家统一,政治清明,经济得到恢复和发展,出现了五谷丰登、百姓安居乐业的繁荣景象,历史上称这段时期为“贞观之治”。


请回答:

(1)列举唐太宗在政治、经济、民族关系等方面所推行的措施。

(2)“贞观之治”出现的原因是什么?

(3)你认为应如何评价唐太宗?





拓展
探究

1. 读一读 阅读下列材料

唐太宗与魏征讨论用人时说：“为事择官，不可粗率。用一好人，别的好人都来了；用一坏人，别的坏人都跟着进来。”魏征说：“这是对的。天下未定，主要用人的才干……天下已定，那就必须德才兼备的人，才可任用。”

请回答：

(1)唐太宗和魏征的对话，表明了他们用人的标准是什么？

(2)他们的用人标准在今天有何借鉴意义？

2. 议一议 和亲是汉族与少数民族友好交往的重要形式。

请回答：

(1)汉朝时，汉元帝将昭君嫁给了呼韩邪单于，唐朝时，文成公主入吐蕃，请你说说文成公主入吐蕃和昭君出塞在社会背景和历史作用方面有何异同？

(2)除昭君、文成公主外，你知道历史上还有哪些汉族公主与边疆少数民族首领成亲吗？

第3课 盛唐气象



基础
练习

一、选择题

- 武则天称帝后，将国号改为：()
A. 武 B. 周
C. 汉 D. 李
- 唐朝最鼎盛的时期是：()
A. 唐高祖统治时期 B. 唐太宗统治时期
C. 武则天统治时期 D. 唐玄宗统治前期
- 被誉为开元初年的“救时之相”的是：()
A. 魏征 B. 姚崇 C. 宋璟 D. 狄仁杰
- 唐玄宗时期的著名宰相是：()
①狄仁杰 ②张柬之 ③姚崇 ④宋璟
A. ①② B. ①③ C. ③④ D. ②④
- 安史之乱的发动者是：()



①李斯 ②赵高 ③安禄山 ④史思明

A. ①② B. ①③ C. ③④ D. ②④

6. 安史之乱发生的原因是: ()

①唐朝政治腐败 ②唐朝国力削弱 ③农民起义爆发 ④营建东都洛阳

A. ①② B. ③④ C. ①③ D. ②④

7. 唐末农民起义的领导人是: ()

A. 陈胜 B. 吴广 C. 黄巢 D. 李渊

8. 唐朝的起止时间是: ()

A. 581年至755年 B. 581年至907年

C. 618年至755年 D. 618年至907年

二、填空题

9. _____是中国历史上唯一的女皇帝,开元盛世是指_____统治前期。

10. 安史之乱爆发于_____年,唐末农民战争爆发于_____后期。

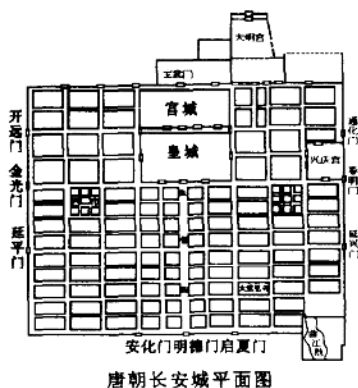
三、识图

11. 看《唐朝长安城平面图》

请回答:

(1)唐朝皇帝居住在_____,中央官员办公区在_____,坊是_____区;东、西两市是_____区。

(2)请你说说,唐朝长安城的重要性表现在哪些方面?



四、问答题

12. 简述唐玄宗统治前期所采取的改革政策。

13. 列举唐朝走向衰败的原因。



拓展
探究

判断与思考

甲:武则天是千古罪人。

乙:武则天是杰出的政治家。

请问:他们谁说的有理?为什么?



唐朝的民族政策与科举制度



基础练习

一、选择题

- 唐朝时期,靺鞨等族生活在: ()
A. 青藏高原 B. 色楞格河流域
C. 西北地区 D. 东北地区
- 下列有关唐玄宗册封边疆少数民族首领的史实,正确的是: ()
①封粟末首领大祚荣为渤海郡王 ②授予东突厥首领颉利可汗为突厥王 ③封回纥的首领为怀仁可汗 ④封吐蕃首领松赞干布为西藏王
A. ①② B. ③④ C. ①③ D. ②④
- 在安史之乱时,出兵帮助唐朝打败叛军的少数民族是: ()
A. 吐蕃 B. 回纥 C. 南诏 D. 靺鞨
- 与唐朝“和同为一家”的少数民族是: ()
A. 白族 B. 彝族 C. 匈奴 D. 吐蕃
- 科举制度诞生于: ()
A. 秦朝 B. 汉朝 C. 隋朝 D. 唐朝
- 开创殿试制度的是: ()
A. 隋文帝 B. 唐太宗 C. 武则天 D. 唐玄宗
- 明经科主要测试: ()
A. 处理社会实际的能力 B. 文史方面的知识
C. 记诵儒家经典的能力 D. 绘画方面的知识

二、填空题

- 靺鞨有_____、_____等部。
- 为了有效地管理西域,唐太宗设立安西都护府,管理_____以南地区;武则天时,在安西都护府北边设置了_____,管辖_____以北、_____以南广大区域。
- 唐朝科举制度考试科目较多,常设的主要科目是_____科和_____。进士科是_____的主要途径,因此更受人看重。

三、连线题

11. 把下列民族和它祖先的名称、生活区域连接起来

- | | | |
|------|----|--------|
| 藏族 | 南诏 | 色楞格河 |
| 维吾尔族 | 吐蕃 | 青藏高原 |
| 彝族 | 回纥 | 云南苍山洱海 |
| 白族 | | |

12. 将下列人物与科举制的发展连接起来

- | | |
|-----|------------------|
| 隋炀帝 | 实行学校教育和科举考试并重的政策 |
| 唐玄宗 | 开创殿试制度,设立武举 |
| 武则天 | 正式设立进士科 |

A. ①②③

B. ②③④

C. ①②④

D. ①③④

二、填空题

- 唐朝所交往的国家和地区遍及_____洲、_____洲和_____洲。
- 在新罗的留学生中,_____名气最大,他撰写的《_____》成为朝鲜现存古代最优秀的文集。
- 唐朝极盛时期的疆域,东北抵达_____,西北到_____,北界包括_____和叶尼塞河一带,南至_____。
- 为了有效管理海外贸易,唐朝在当时的贸易口岸之一广州设立_____。

三、识图

10. 看图,请回答:

(1)右图中的历史人物是谁?

(2)他的主要贡献是什么?



11. 看图



唐朝的开元通宝



日本的和同开珎

请回答:

(1)上图两幅图中的日本钱币与中国的钱币,有什么相同之处?

(2)日本受唐朝文化影响很大,你还能举出日本受唐朝文化影响的一些事例吗?



拓展探究

1. 做一做 阅读下列诗句

“鉴真盲目航东海,一片精诚照太清。
舍己为人传道艺,唐风洋溢奈良城。”

——郭沫若

请回答:

(1)“鉴真盲目航东海”指什么?

(2)“唐风洋溢奈良城”是什么意思?列举具体史实加以说明。

(3)诗中哪句诗称赞了鉴真和尚的高尚品德?

(4)在鉴真的事迹中,你感受最深的是什么?

2. 想一想 各国为什么会把中国人称为唐人?

3. 议一议 文化传播有自身的规律。隋唐时期,中国与日本、新罗之间,中国与天竺之间的文化传播有何不同?

隋唐的科学技术



基础
练习

一、选择题

1. 雕版印刷术出现于: ()
A. 秦朝 B. 汉朝
C. 隋朝 D. 唐朝
2. 国内现存最早的雕版印刷品是晚唐印刷的: ()
A. 《女则》 B. 《金刚经》 C. 白居易的诗 D. 《陀罗尼经》
3. 下列人物,哪些是我国古代著名的医学家: ()
①张仲景 ②华佗 ③张衡 ④孙思邈
A. ①②③ B. ②③④ C. ①③④ D. ①②④

二、填空题

4. _____中叶,雕版印刷渐渐在全国推行,这时期出现了_____,_____、_____
_____等印书业中心。
5. 隋唐时期的著名医学家是_____,他总结前人的医学成就和自己的临床经验,撰写了《_____》和《_____》两部医学名著。

三、识图

6. 看图



请回答：

(1)右图文物名称是什么？现藏于何处？



(2)作为文物,它们的价值是什么？

四、连线

7. 将时间、人物及其称号连线

东汉	张仲景	药圣
东汉	孙思邈	神医
隋唐	华佗	医圣

五、材料解析

8. 看右图,阅读下列材料

赵州桥大拱的两肩上各有两个小拱,主拱圈的拱轴线为圆弧,全桥主拱圈由二十八道石砌拱圈并列拼成。历经千年后,两边桥基下沉水平仅为五厘米。



赵州桥

请回答：

- (1)赵州桥建于何时何地？设计者是谁？
- (2)为什么赵州桥要在大拱两肩各配上两个小拱？
- (3)简述赵州桥的历史地位。

六、问答题

9. 隋唐时期领先世界的科技成就主要有哪些？



拓展
探究

1. 判断与思考

甲：“印章是雕版印刷的先驱。”

乙：“石头书是雕版印刷的先驱。”

想一想,哪一种观点对?你能说说为什么吗?

2. 做一做 用小刀在木板或橡皮上反刻自己的名字,想一想雕版印刷是怎样操作的?看看在一分钟之内,用印章印出来的姓名是用钢笔书写的多少倍?

隋唐的文化艺术



基础
练习

一、选择题

- 唐代文学的主要成就是: ()
A. 小说 B. 诗
C. 赋 D. 词
- 唐朝影响最大、成就最高的诗人是: ()
①屈原 ②李白 ③杜甫 ④白居易
A. ①②③ B. ②③④ C. ①③④ D. ①②④
- 唐代最有成就的书法家是: ()
①王羲之 ②颜真卿 ③柳公权 ④吴道子
A. ①② B. ②③ C. ③④ D. ①④
- 被称为“画圣”的是唐朝画家: ()
A. 展子虔 B. 阎立德 C. 阎立本 D. 吴道子
- 敦煌莫高窟内有众多的泥塑造像与壁画,其主要的内容是: ()
A. 以道教故事为主 B. 以佛教故事为主
C. 以现实生活为主 D. 以神话传说为主

二、填空题

- 展子虔是_____朝著名的画家,他的代表作是《_____》
- 我国最著名的石窟艺术有山西大同的_____,河南洛阳的_____和甘肃的_____。

三、识图

8. 看图

(1)右图名称是什么?是谁的代表作?

(2)他的画有什么特点?



9. 看图





请回答：

(1) 这幅图的名称是什么？是谁的作品？

(2) 图中描绘了哪一历史事件？这一事件的结果如何？

四、填表

10. 按要求填写下表

诗人	诗歌特色	代表作
李白		
杜甫		
白居易		

五、问答题

11. 颜真卿和柳公权的书法被称为“颜筋柳骨”，为什么这样评价？



拓展
探究

1. 议一议 为什么到唐代会出现诗歌的黄金时代？

2. 在唐代诗人中,你最喜欢哪一位? 为什么?