

★九年义务教育课程标准实验教科书★

暑假作业



八年级

_____ 班

姓名 _____

 山东教育出版社

义务教育课程标准实验教科书

暑假作业

(八年级)

山东省教学研究室 编



江苏工业学院图书馆
藏书章

山东教育出版社

责任编辑 \ 李广军
封面设计 \ 杨丽丽
孙晓玲
封面画 \ 杨丽丽



义务教育课程标准实验教科书
暑假作业
(八年级)
山东省教学研究室编


山东教育出版社出版 (济南市纬一路 321 号)
山东教育出版社发行 山东新华印刷厂印刷

787 毫米 × 1092 毫米 16 开本 7.75 印张 174 千字
2006 年 6 月第 1 版第 2 次印刷

ISBN 7-5328-4946-5
定价: 6.00 元

如印装质量有问题, 请与印刷厂联系调换。

ISBN 7-5328-4946-5



9 787532 849468 >



1. 近来,人们“谈鸡色变”,禽流感在全球蔓延的趋势让人始料不及,但是今天离上次“禽流感大屠杀”还不到百年。

20世纪 夺命无数的 七大瘟疫

2. 流行性淋巴腺疫,俗称“黑死病”,是以老鼠和跳蚤为传播媒介,传播速度极快的传染病。



3. 中世纪时,一场肆虐欧洲的黑死病,加上战争和饥谨,使欧洲约半数人口命丧黄泉。



4. 它的症状是剧烈地发烧和冷颤,患者神志恍惚,不停地呻吟,烦躁不安,反复抓扯床单……




5. 20世纪初,旧金山再次暴发“黑死病”:1900年至1905年、1907年至1908年,旧金山有280人感染鼠疫,其中172人死亡。第一个死者是唐人街华人。



6. 美国政府派来布鲁专员。他用水泥建筑取代木结构建筑,还发起捉鼠运动、建立“防鼠联盟”,未使黑死病泛滥下去。



7. 就在第一次世界大战快要结束的时候,一场流感的暴发夺去了近5000万人的性命。



8. 当时西班牙首先公布了流感情形,故称之为“西班牙流感”,也称之为“1918年流感”。

9. 这次流感是1918年2月首发于美国堪萨斯州的芬森军营,很快又传播至底特律等3个城市。



10. 美国远征军乘船带到欧洲前线,不到一年时间席卷全球。



11. 本次是流感流行史上灾难最重、历史上死亡人数最多的一次瘟疫,全世界患者在5亿以上,发病率约20%到40%,20岁到40岁的人也未未能逃脱。



12. 1918年流感也波及中国,3月始自广州直至东北,由上海至四川,北平警察患病过半,哈尔滨40%的人被感染,学校停课,商店歇业。



13. 直到2005年10月5日,科学家研究发现,1918年导致许多人死亡的疾病是一种禽流感,病毒可能源自鸟类。



14. 人类第二次大流感是“亚洲流感”,为甲2(H2N2)亚型流感。1957年2月首发于我国贵州省西部,8个月内席卷全球,发病率在15%到30%,为动物流感病毒。



15. 另一次是香港流感,首发于1968年7月中旬,应称甲3(H3N2)亚型流感。传播速度和发病率不及H2N2亚型流感。



16. 1976年2月美国新泽西州迪克斯堡新兵营中发生的猪(H1N1)亚型毒株引起的流感暴发事件,致200人被感染,1人死亡,是由猪直接传播人。

17. “日本脑炎”是一种通过蚊子传播的中枢神经系统急性传染病,1924年在日本暴发。14岁以下的男孩易感染,在亚洲与南美洲十分流行。



18. 它是自然病毒引起,人、动物与多数家禽都可能感染,而猪最易感染。男性感染的几率大于女性。





19. 日本脑炎的潜伏期为5~15天。症状为发烧、抽筋、深度昏迷。四分之一的存活者在发病5年后，仍有行为或精神方面之异常，尚未有有效治疗方法。



20. 2005年9月南亚地区的尼泊尔、印度也暴发过较大规模的“日本脑炎”，造成1000多人死亡，且多为小孩。



21. 霍乱，被描写为“曾摧毁地球的最可怕的瘟疫之一”，是由霍乱弧菌引起的烈性肠道传染病。属国际检疫传染病。



22. 从1817年以来，共发生8次世界性大流行，其中1961年那次患者达350多万。现在每年有10万人死于该病。



23. 当第五次霍乱到达埃及时，德国细菌学家科勒在当地研究发现了霍乱的致病菌：霍乱弧菌，他因此获得1905年诺贝尔医学奖。



24. 霍乱疫苗只有部分效果，且还有副作用。霍乱菌的基因简单，遇外界刺激如药物等，基因突变的随机性很大，造成细菌的抗药性。



25. 军团病即大叶性肺炎，是细菌性肺炎症状与肺炎基本一样。是呼吸道感染疾病，其病菌存在于水汽中。



26. 1976年，美国退伍军人大会在费城召开时，首次发生该病。此后，全球共发生过50多次，近几年在欧美、澳大利亚等国均有流行。



27. 一般来说，当水温升高到60摄氏度以上，军团菌就不易生存了。



28. 城市中的军团病主要由孳生在空气加湿器、蓄水系统、空调系统等潮湿环境中的军团菌引起。



29. 军团病潜伏期5到10天不等，病死率10%。一般不会人为接触传染，与一般肺炎不易鉴别。可用红霉素等抗生素治疗。



30. 疯牛病最早1986年在英国发现，到目前已出现18万多个病例。每100万人中每年出现一个病例。有几十年的潜伏期，最终发病年龄在50岁到60岁。



31. 一旦发病，病情发展极快。患者出现精神失常、怕光、怕声音等中枢神经系统症状，肌肉抽搐、变硬并出现痉挛，死亡率为100%。



32. 而现有医疗技术在患者生前无法确诊该病，只有死后用显微镜观察其脑组织切片才能找到死因。



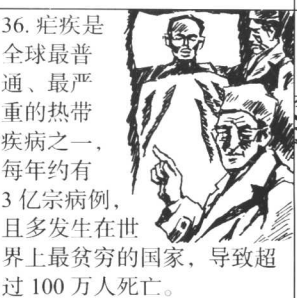
33. 暴发病牛病的原因是，牛饲料中含有患羊瘙痒病的羊内脏。牛食用含羊瘙痒病因子的饲料，经过一段时间后会患疯牛病。



34. 它的病源是朊病毒，可通过血液、食用肉、精液、医院手术刀等途径传染，且生命力旺盛，高温、冷冻、消毒等对它几乎全无用处。



35. 疯牛病也是一种富贵病。我国的畜牧业工业化程度低。我们的牛还吃不起带动物骨粉添加剂的饲料，所以还未发现疯牛病。



36. 疟疾是全球最普遍、最严重的热带疾病之一，每年约有3亿宗病例，且多发生在世界上最贫穷的国家，导致超过100万人死亡。



37. 在非洲，疟疾每30秒就杀死一名儿童。得了疟疾而幸存下来的儿童往往会大脑受损或是瘫痪。



38. 专家指出，目前仍缺少对抗疟疾的疫苗。疫苗可提供一次注射持续10年的预防效果，比击败疟疾的计划还要有影响力。



说 明


原国家教委《关于中小学寒暑假作业编写、出版问题的通知》中指出：“寒暑假期间，在保证中小学学生得到充分休息和参加各项有益活动的前提下，给学生布置适量作业是必要的。所留作业量，一般应掌握在假期的三分之二教内。每天作业量，小学低年级学生不超过半小时，高年级学生不超过一小时，中学生不超过一个半小时。”作业内容“应该因校因班制宜，以复习、巩固所学知识为主，适当增加有利于启发学生不断追求新知识兴趣的内容”。作业的编写、印刷、发行，“如由教研部门统一拟题，其题量不应超过全部作业量的三分之二，其余题目由教师依情补充。这类作业如需统一印制，只许向学生收成本费，不得盈利。如需交地方出版社出版，必须经省、自治区、直辖市教育厅(局)审查批准”。

根据这一通知精神，结合我省中小学教材使用情况，根据2001年教育部颁布的《全日制义务教育课程标准(实验稿)》和最新教材，我们统一组织编写了这套五年制小学、六年制小学、三年制初中、四年制初中各年级寒暑假作业。寒假按20天计算，作业题总量小学低年级5小时，高年级10小时，初中15小时；暑假按一个半月计算，作业题总量小学低年级10小时，高年级20小时，初中30小时。其余题目由教师补充。

这套寒暑假作业经山东省中小学教材审查委员会审定。


山东省教学研究室

2006年4月



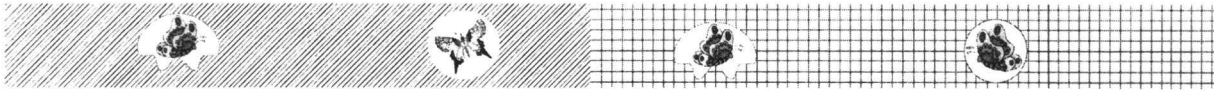
暑假作业

目
录



| | | |
|------|-------|-------|
| 思想品德 | | (1) |
| 语 文 | | (15) |
| 英 语 | | (35) |
| 数 学 | | (55) |
| 物 理 | | (75) |
| 历 史 | | (90) |
| 地 理 | | (100) |
| 生 物 | | (110) |





思想品德

(人教版)



我的假期计划

本学期我在思想品德课中学习了我国公民享有的各项权利,如,人身权利、文化经济权利。同时也明确了公民必须履行的义务,如受教育的义务、依法纳税的义务等。懂得了公民的权利和义务具有一致性的道理。因此,我打算在假期中再阅读几本和法律有关的书:

_____、_____、_____、
_____、_____。

法律与公民生活密切相关,公民的家庭生活、学校生活、社会生活都离不开法律。我想做几次社会调查,具体了解法律在上述领域的作用。我的调查提纲是:

法律学习离不开实践。我想和几位要好的同学搞一次模拟法庭活动。为了搞好这次活动,我打算做好以下准备工作:

1. _____

2. _____

3. _____

4. _____

.....



我的暑假

生活第一周



生活中的法律规范

我观察

★ 1. 2005年六岁的女孩囡囡和小伙伴一起来到某小学上学。她认真地把她的名字介绍给老师和同学。她爱好绘画,她的两幅图画被出版社选中,编入《儿童美术作品集》出版。学期末她被评为“三好学生”。

在这段材料中囡囡依法有了哪些权利?

- (1) 和小伙伴一块上学 _____
- (2) 把名字介绍给老师 _____
- (3) 绘画被出版社出版 _____
- (4) 她被评为“三好学生” _____

她享有上述权利对她的好处是 _____

★ 2. 我国公民在享有宪法和法律赋予权利的





同时,必须履行相应的法律义务。下列事例中,当事人必须相应履行什么义务:

(1) 个体户刘×每月经营赚取 5000 元。他应该履行_____。

(2) 结婚三年李×夫妇喜得贵子。他们必须履行_____。

(3) 小龚大学毕业后到一家公司工作,每月收入 3000 元。父母年事已高,已丧失劳动能力。小龚必须履行_____。

(4) 囡囡今年六岁,依照《义务教育法》的规定,她必须履行_____。

(5) 同学们放学回家,在公路上必须履行_____。

(6) 初二同学大壮下晚自习回家看见两个人正在偷盗路边一小卖部的物品,他应该_____。

我选择

★ 1. 中国公民——神圣的称号。作为一名中国公民享有我国宪法和法律的各种权利。下列属于中国公民的是()

- A. 被父母遗弃的女孩小寒
- B. 被判处无期徒刑的腐败分子田×
- C. 在美国 NBA 打球的姚明
- D. 国际共产主义战士白求恩

★ 2. 下列言行属于正确行使公民权利或体现公民自觉履行法定义务的是()

- A. 吴峰向有关部门打电话举报学校附近的黑网吧
- B. “又该缴税了。”“让我想想该如何少缴点税。”
- C. 初二女生拒绝父母让辍学打工的要求。
- D. “爸,给我钱,我要上学。”“找妈妈要去,我不管。”

★ 3. 我国法律规定,公民有依法服兵役、依法纳税的义务,不履行这些法定义务,国家就要强制其履行,情节严重的还要追究法律责任。这说明公民履行义务时要做到()

- A. 凡是宪法和法律所提倡和鼓励的行为,我们要积极去做
- B. 凡是宪法和法律对公民提出要求的,必须去做
- C. 凡是我国宪法和法律所禁止的行为,就坚决不做
- D. 放弃某些权利,就可以少履行义务

★ 4. 对下列漫画中两位同学的行为,评价正确的是()



- A. 只愿享有权利,不愿履行义务
- B. 不懂得在我国权利和义务具有一致性
- C. 法律意识淡薄
- D. 属于犯罪行为



法律保护我成长

我感悟

★ 一个人呱呱坠地依法成为我国公民起,就与法律结下了不解之缘。作为我国公民一方面受到法律的保护,另一方面又受到法律的约束。既充分享有宪法和法律赋予的权利,又必须履行法律规定的义务。

(1) 请你分别列举出我国公民依法享有的基本权利和基本义务各三项。

基本权利:

基本义务:

(2) 正确行使公民权利,自觉履行公民义



务,是公民法律意识强的表现。你打算怎样提高自己的法律意识?

我理解

★ 2004年11月25日,《上海市未成年人保护条例》颁布施行。条例规定有:一、学校不得张榜公布学生的考试成绩和名次;不得推销或变相推销复习资料;不得组织学生参加与教育无关的商业活动;不得将学生的活动设施、场地移作他用。二、父母或其监护人应当预防和制止未成年人吸烟、饮酒;任何经营场所不得向未成年人出售烟酒;经营烟酒的场所应当在醒目位置设置不向未成年人出售烟酒的标志。三、学校应建立安全保卫制度,非学校人员未经许可不得进入学校。四、公安机关应当加强校园周边的治安管理,发现对未成年人进行拦截、强索财物、侮辱殴打的,应当采取有效措施,及时制止和依法处理。

(1)《条例》的上述规定主要是为了保护未成年人的哪些权利?为了回报学校、家庭和社会的关爱,青少年相应的应该履行哪些义务?

(2)我们青少年应该树立怎样的权利义务观?为什么?



法律指导我 行动

我搜集

为了促进和保护未成年人的健康成长,我国颁布了许多法律法规。这些法律法规既规定了青少年依法享有的权利,也规定了青少年应履行的义务。请你搜集三部与青少年健康成长密切相关的法律,并写下你认为最重要的2条内容。

法律1:

法律2:

法律3:

我行动

父母为我们的成长辛勤操劳着:做早饭;雨天为我们送雨具;我们患病时,不管白天还是黑夜,总是及时把我们送到医院就诊;吃饭时,总是把最可口的饭菜放在我们面前……在

我们成长中,父母履行教育保护子女的义务。

作为子女我们应该履行_____义务。


在日常生活中,我们要努力做到:

- ①
- ②
- ③
- ④



我的暑假

生活第二周



法律在我们身边

我观察

★ 1. 小明和小华去超市购物,在出门时保安要对他们搜身检查。

小明说:我没有偷拿东西,随你检查。

小华说:你没有权利对我搜身,公民人身自由受法律保护。

你赞同_____的做法。因为_____。

你不赞同_____的做法。因为_____。

★ 2. 初二学生刘涛在上路路过一建筑工地时,发现有一名与自己年龄相近的小男孩正吃力地推着水泥车,满脸汗水和泥水。

此时刘涛应该_____。

★ 3. 李壮迟到了,在登记姓名时故意写上另外一个班级同学的名字。他认为这样就不会给班级扣分了。

你对这件事的看法是_____。

我选择

★ 1. 2004年5月1日起施行的《道路交通安全法》没有采用一部分法学专家提出的“撞了白撞”的原则,而是给予行人特殊保护。这是因为()

- A. 行人不需要遵守道路交通规则
- B. 我国法律只保护行人的人身权利
- C. 生命健康权在公民人格中居于首位
- D. 公民应该学会维护自身的合法权益

★ 2. 中国科技大学少年班学生马某窃取了美国明尼苏达大学发给同班同学陈某的邀请信,并假冒陈某之名拒绝了该校留学邀请,同时向该校推荐自己。事情败露后,学校开除了马某的学籍。这件事说明()

- A. 我国必须加强对青少年的法制教育
- B. 马某非常珍惜受教育的权利
- C. 加强对青少年的道德教育刻不容缓
- D. 马某侵犯了陈某的姓名权

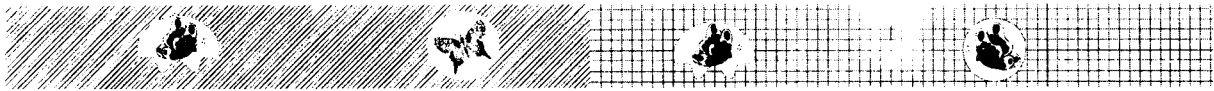
★ 3. 李某和吴某因为买饭发生纠纷。李某为了报复对方,捏造事实说吴某因偷窃被学校处分,并用手机短信发给吴的朋友和亲戚,致使吴某名誉受损。吴某把李某告上法庭,法庭判处李某向吴某赔礼道歉,并赔偿精神损失费。这一事例说明()

- A. 我国公民的人格尊严受法律保护
- B. 损害他人人格尊严一律应受刑罚处罚
- C. 侵犯他人人格尊严,要承担法律责任
- D. 我国公民的法律意识不断增强

★ 4. 某高中女生王某因嫉妒同宿舍的另一女同学,便用有照相功能手机偷拍了她在宿舍内的各种生活照片,并在同学中传播,还用语言诋毁女同学。王某的行为()

- A. 是违法的,要承担法律责任
- B. 纯属恶作剧;但与法律无关
- C. 侵犯同学的人格尊严
- D. 侵犯了同学的隐私权

思想品德
暑假作业



法律保 护我 成长

我感悟

★1. 2005年“五一”黄金周期间,一位中年妇女在某超市盗窃商品时被值勤保安当场抓获,该商场工作人员决定狠狠教训这个“女盗贼”。于是,他们先让这位中年妇女挂上“女盗贼”的牌子当街示众4个小时,然后又将其扭送至当地派出所。

超市工作人员让其示众的做法你赞成吗?为什么?

有的同学说,既然已强迫其示众,就不能再把她押解至派出所了,否则太不公平了。你同意这种观点吗?为什么?

★2. 阅读剧本《拆信风波》,分析问题。

时间:星期天早晨

地点:女儿的房间

人物:妈妈、女儿(某校初二学生)(妈妈气呼呼地将几封信摔在女儿面前)

妈妈:你还有心思搞好学习?

女儿:(惊讶地)你有什么权利私拆我的信!

妈妈:你是我的女儿,再说,我也是为了你好,不了解你的情况,怎么帮助你?

女儿:(砰地关上门)我的事从今以后不用你管!

(1) 运用有关法律知识,对剧中人物的言

行进行评价。

(2) 为了消除母女之间的隔阂,请你向剧中的“女儿”提出建议。

我思考

假如你在生活中遇到了下列问题,你会怎样想,又会怎样去处理?

(1) 在老师办公室里,发现老师正在拆阅学生的信件。

正确的做法:_____

理由:_____

(2) 住在楼上的好朋友小涛因为期中考试成绩太差,其父正在殴打他,并说不让小涛继续上学了。

正确的做法:_____

理由:_____

(3) 小丽和自己在某照相馆拍摄的一张艺术照,被老板挂在当街的橱窗中招揽生意。“老板事前可没有与咱们说起这件事。”

正确的做法:_____

思想品德
案例分析





理由：_____

我辨析

★初三学生王某性格外向，爱给同学起绰号，并常拿同学的绰号取乐。当同学批评他这样做不对时，他却说：“宪法规定，我国公民享有言论自由，我想说什么，就说什么，别人管不着。”

请你结合所学知识评析王某的言行。

我理解

★我国宪法规定：“中华人民共和国公民的人格尊严不受侵犯。”人格尊严在法律上表现为肖像权、名誉权、荣誉权、姓名权和隐私权等。

请你从社会生活或个人生活实际出发，分别列举出侵犯以上5种权利的违法行为受到法律制裁的案例。（各一例）

关于肖像权：

关于名誉权：

关于姓名权：

关于荣誉权：

关于隐私权：



法律指导我行动

★1. 以“尊重未成年人的人格尊严”为题，办一期手抄报。（5个同学一组）

要求：

(1) 确定手抄报栏目，并写出每个栏目的宗旨。

(2) 确定分工。根据栏目要求，确定每位同学的任务。

(3) 写出办报后的感想。

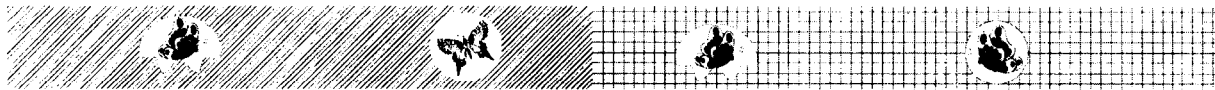
★2. 模拟法庭

要求：

(1) 在老师的帮助下寻找典型案例。或者请法官、律师根据青少年所学法律知识，编写案例。

(2) 根据案例情节，列出必须学习的法律知识。





(3) 确定审判长、审判员、原告、被告、律师。

(4) 根据法庭上每个角色的要求,编写每个角色发言的脚本,认真阅读,领会角色的心理和思想。

(5) 法庭布置:从实际出发搞好法庭布置。可以请教法官或律师,尽量体现法庭严肃庄严的气氛。



我的暑假

生活第三周

我观察

★ 1. 王某在个体户张某的商店里购买两盒香烟,回家后,发现是假烟,扔掉了事。

张某的行为: _____

王某的做法: _____

★ 2. 李某把自己的一处平房出租给刘某居住,每月向刘某收取租金 500 元。

李某依法行使了: _____

★ 3. 房某上学旷课去游戏厅打游戏,期中考试各科都亮起红灯。

我对房某的评价是: _____

★ 4. 同学唐某的爸爸因病住院已经半年了,他家里经济特别困难,他不想再读初三了,而要去外地打工。

我会对唐某说: _____

我选择

★ 1. 教育部决定从 2004 年秋季起,在全国义务教育阶段学校全面推行“一费制”。实行“一费制”后()

- A. 学生的家庭经济负担加重了
- B. 有利于遏制教育乱收费的现象
- C. 学生因此可以免费上学了
- D. 减少了对教育的投入,不利于实施科教兴国战略

★ 2. 由于部分家长只顾眼前利益,让子女辍学务工,致使“小保姆”、“小童工”现象屡见不鲜。这些家长的行为违反了()

- A. 宪法和义务教育法的规定
- B. 未成年人保护法和经济法
- C. 刑法和治安管理处罚法
- D. 行政许可法和劳动法

★ 3. 我国宪法规定:“中华人民共和国公民有受教育的权利和义务。”正在上初中的青少年必须做到()

- A. 遵守有关法律和法规
- B. 完成学校规定的学习任务
- C. 当合法权益受到侵害时学会依法维护
- D. 完成九年义务教育

★ 4. 农民赵某花七千元买了一台农用车,将车租给邻居老李使用,每年租金两千元。不料老李私自将车卖掉,却又谎称车被小偷偷走。为此两人争吵不休,下面对此事的评价正确的是()

- A. 车已被偷,赵某已失去对车的所有权

思想品德
暑假作业





- B. 赵某将车出租,收取租金,因此老李对车拥有处分权
- C. 老李侵犯了赵某合法财产所有权,应负法律责任
- D. 赵某可向人民法院起诉,请求依法保护自己的合法财产

★ 5. 公民郭某有两儿一女,妻子早逝。2005年郭某也因病去世,留下瓦房八间和5万元存款。依照法律规定,郭某的遗产应该()

- A. 由两个儿子继承,女儿无继承权
- B. 由两儿一女共同继承
- C. 捐给国家或送给乡邻
- D. 按法定继承要求进行分割

★ 6. 个体户杜某出售劣质奶粉,致使许多婴幼儿食用后营养不良而成为“大头娃娃”,杜某被工商部门查获后移送司法机关处理。杜某的行为()

- A. 侵犯消费者的生命健康权
- B. 侵犯消费者的知悉真情权
- C. 扰乱了社会主义市场经济秩序
- D. 违反了社会主义道德

★ 7. 上题中杜某被依法处罚表明()

- A. 侵犯消费者的合法权益要受法律制裁
- B. 我国法律保护消费者合法权益不受侵犯
- C. 法律手段是制裁制假售假行为的唯一有效手段
- D. 消费者不懂得依法维权



法律维护我们的权利

我思考

★ 1. 温家宝总理在十届人大四次会议上指出,国家要继续推进“两免一补”。到2007年在全国农村普遍实行这一政策,使贫困家庭的孩子都能上学读书,完成义务教育。

(1) 我国实行“两免一补”的政策体现了我国什么法律的要求?

(2) 国家实行这一政策进一步保障了公民的什么权利?

(3) 保障公民这项权利对国家和社会发展以及公民个人有什么重要意义?

★ 2. 小明在一家商店购买两瓶洗发膏共计35.6元。付款后,他向店主索要发票,店主说,“买这么点东西,还要发票,害得我多交税!不如我送你一件小礼品吧。”

若你遇到这种情况,你将如何选择?请你说明你这样选择的理由。

我理解

★ 1. 某镇中学初二(1)班班长李虎同学,学习认真刻苦,并积极做好承担的班级工作。每天放学回家,他都帮助母亲照料因病卧床的父亲,还经常利用节假日,向村民宣传科学文化知识。去年寒假期间,他发现本村一名无业青年偷盗耕牛,便写信给当地派出所反映这一情况。

(1) 李虎同学的行为值得我们学习,你打算学习李虎同学的哪些好品质?说一说你的理由。



帝”，“赔本大甩卖”。这些告示有些是维护消费者权益的，有些则是欺骗消费者，甚至是侵犯消费者权益的。请你按要求列举几条告示。

(1) 商家告示有利于维护消费者权益的：

(2) 商家告示损害消费者权益的：

(3) 回顾一下，自己在消费活动中合法权益受到侵犯时是怎么做的？

后来，李虎的父亲病情加重，家庭经济更加困难。上学所需要的书本费、杂费等费用难以支付，他面临辍学。为此……使他免于辍学，能够和大家一起完成九年义务教育。

(2) 你认为哪些办法可使他免于辍学？

★ 2. 下面是一名学生在社会实践活动中写的市场调查报告中的一段话：① 在调查的对象中买到过假冒伪劣商品的占 86%，没买到过的占 14%。② 买到伪劣商品后，想到过依法维权的占 95%，没想依法维权，自认倒霉的占 5%。③ 买到伪劣商品，真正采取行动维权的占 25%，有 75% 的被调查者，想到了依法维权，却没有付之于行动。

(1) ① 中的调查结果表明了什么？

(2) 在②③中，为什么人们“想”的多而“做”的少？

我守法

★ 学校附近的小书亭里新进了一套中考复习资料。店主说正版的每套 32 元。非正版的印刷也不错，15 元钱一套。你也很想得到这套复习资料，你会做出怎样的选择？说说你这样做的理由。

演讲台

★ 春节期间，爸爸的老同学来我们家拜年时说起这样一件事。他说，邻居家孩子初中未毕业就去城里打工挣钱了，两个孩子一年净挣 8000 元。而自己女儿和儿子一个上高中，一个读初中，每年的费用不少于 2500 元，这一正一反差了一万多元。因此我也打算不再让两个孩子上学了。面对有些农村存在的这个问题，



法律指导我 行动

我搜集

★ 在日常生活中，我们去商店或饭店时，常常看到商店或饭店的一些告示，如“顾客是上



爸爸说,你根据所学知识写一篇演讲稿吧,暑假回老家时给农民伯伯讲一讲受教育和打工挣钱到底哪个更重要的问题。

300 亿元左右,比去年增长 20% 以上,将达到 1500 亿元以上。

(2) 中央决定自 2006 年起全国全面免除农业税。

(3) 国务院决定实行“两免一补”,即免除国家重点扶贫县正在接受义务教育学生的杂费、课本费,补助住校学生的生活费。

我了解的关注弱势群体的措施还有:

① _____

② _____

.....

★ 3. 观察生活中的正义行为和非正义行为:

① 在公交车上,小偷的手伸向一个乘客的钱包,旁边有人高喊“抓小偷”;

② 一个高大的男生正在对一个瘦小的同学拳打脚踢;

③ 个别同学在考试中作弊;

④ 罪大恶极的犯罪分子被判死刑。

(1) 上述情景中哪些是正义行为哪些是非正义行为?


(2) 你所接触到的社会现象中,还有哪些正义行为和非正义行为?

(3) 为支持正义行为,限制和打击非正义行为,国家应采取什么措施?



我的暑假

生活第四周



生活离不开

公平正义

我观察

★ 1. 下面是某单位招聘大学生的条件:

① 拥护党的领导,热爱社会主义。

② 遵纪守法,品行端正,具有为人民服务的精神。

③ 身体健康,男性身高不低于 1.75 米,谢绝女大学生。

④ 有体育特长和文艺特长者优先。

.....

从以上招聘条件中你认为有失公平的是:

你的理由是: _____

★ 2. 我国政府关注弱势群体。

(1) 2004 年,中央对“三农”的投入增加