



根据最新课程标准和最新教材编写

GENJU ZUIXIN KECHENG BIAOZHUN HE ZUIXIN JIAOCAI BIANXIE

寒假作业

假期课堂

8 年级

地理



JIAOKEFANG HANJIAZUOYE


班级 _____

安徽人民出版社

姓名 _____

寒假 假期课堂

八年级地理



安徽人民出版社

责任编辑：黄刚
黄玲玲

图书在版编目(CIP)数据

八年级假期课堂/《八年级假期课堂》编写组编.

—合肥:安徽人民出版社,2005.12

ISBN 7-212-02752-9

I. 八... II. 八... III. 课程—初中—习题 IV. G634

中国版本图书馆 CIP 数据核字(2005)第 135779 号

假期课堂 八年级地理

《假期课堂》编写组编

出版发行:安徽人民出版社

地 址:合肥市金寨路 381 号九州大厦 邮编:230063

发 行 部:0551-2815410 0551-2833099(传真)

经 销:新华书店

制 版:合肥市中旭制版有限公司

印 刷:合肥杏花印务有限公司

开 本:880×1230 1/32 印张:12.5 字数:290 千

版 次:2005 年 12 月第 1 版 2005 年 12 月第 1 次印刷

标准书号:ISBN 7-212-02752-9

定 价:17.60 元(共 8 册)

本版图书凡印刷、装订错误可及时向承印厂调换



一、单项选择题

1. 关于我国的叙述,正确的是 ()
A. 位于亚洲的东部,太平洋的东岸
B. 我国濒临的海洋从北到南依次是渤海、东海、黄海、南海
C. 与我国陆上相邻的国家有 12 个
D. 陆地总面积约 960 万平方千米,居世界第 3 位
2. 我国大部分地区位于 ()
A. 北寒带 B. 北温带 C. 南温带 D. 热带
3. 下列地点位于我国领土最北端的是 ()
A. 曾母暗沙 B. 黑龙江与乌苏里江主航道汇合处
C. 帕米尔高原 D. 漠河以北黑龙江主航道中心线
4. 我国最大的岛屿是 ()
A. 台湾岛 B. 海南岛 C. 钓鱼岛 D. 曾母暗沙
5. 与我国隔海相望的一组国家是 ()
A. 印度、文莱、菲律宾 B. 马来西亚、朝鲜、韩国
C. 日本、朝鲜、印度尼西亚 D. 文莱、菲律宾、日本

二、双项选择题

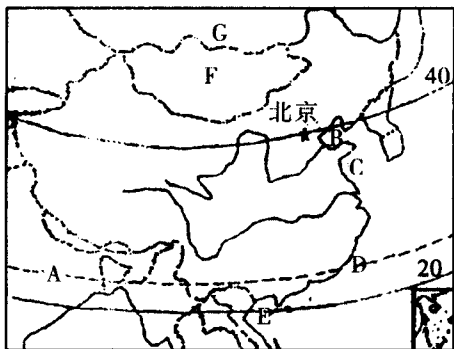
1. 从半球位置来看,我国位于 ()
A. 东半球 B. 西半球 C. 北半球 D. 南半球
2. 与我国陆上毗邻的一组国家是 ()
A. 俄罗斯、哈萨克斯坦
B. 缅甸、孟加拉国
C. 巴基斯坦、日本
D. 越南、印度
3. 以下关于我国疆域的数据正确的有 ()
A. 陆地面积 960 万平方千米
B. 大陆海岸线 20000 多千米长
C. 陆上国界线长 18000 多千米
D. 南北跨纬度近 50 度



三、读图题

读“我国疆域示意图”，回答下列问题。

1. 图中字母 A 所在纬线名称为_____，北京的大致纬度为_____。
2. 我国濒临的海洋中，B 为_____海，C 为_____海。
3. D 为_____海峡，E 为_____岛。
4. 我国陆上邻国 F 为_____，G 为_____。



5. 我国南北跨纬度近_____度，大部分在_____带，小部分在_____带。
6. 在图中用 H 表示我国陆上领土最北端，用 I 表示领土最西端。



能力训练场

边境小学的“留学生”

群山环绕的云南省孟连县富岩中心小学，离中缅边境只有十多千米。13 岁的麻腊和 11 岁的岩交是这所小学五年级一班的学生，他们都长着大大的眼睛，从穿戴上看，他们与这所学校其他孩子没有什么不同，然而，他们却是来自缅甸的小“留学生”。

麻腊和岩交的父母让他们投亲靠友到中国“留学”，是想让他们能在比家乡好的学习环境里，学到更多的知识和本领。麻腊和岩交一学期才能回家一次，学校的老师、同学以及边防站的官兵们，给了他们无微不至的关怀和帮助，他俩的学习成绩在班里都名列前茅。



★ 一、单项选择题

1. 与台湾隔海相望的省是 ()
A. 苏 B. 琼 C. 闽 D. 粤
2. 我国简称为渝的直辖市是 ()
A. 北京 B. 上海 C. 天津 D. 重庆
3. 我国面积最大的省或自治区是 ()
A. 内蒙古自治区 B. 西藏自治区
C. 新疆维吾尔自治区 D. 青海省
4. 我国陆地邻国最多的省(自治区)是 ()
A. 西藏自治区 B. 云南省
C. 内蒙古自治区 D. 新疆维吾尔自治区
5. 既与俄罗斯又与朝鲜接壤的是 ()
A. 黑龙江 B. 辽宁 C. 吉林 D. 内蒙古自治区
6. 我国行政区基本上分为 ()
A. 省、县、乡三级 B. 省、自治区、直辖市三级
C. 省、市、镇三级 D. 县、乡、村三级

二、双项选择题

1. 下列属于省级行政区的是 ()
A. 武汉市 B. 天津市 C. 香港 D. 铜陵市
2. 用本省河流名称作为简称的是 ()
A. 青海 B. 福建 C. 山东 D. 四川
3. 下列各组中相邻的两个行政单位是 ()
A. 黑龙江省和辽宁省 B. 北京市和天津市
C. 云南省和贵州省 D. 甘肃省和西藏自治区
4. 北回归线穿过的我国省(自治区)是 ()
A. 台湾、广东 B. 云南、广西
C. 福建、广东 D. 贵州、云南
5. 下列省区全称、简称及行政中心对应正确的是 ()
A. 吉林省——吉——吉林 B. 河南省——豫——郑州
C. 重庆市——渝——重庆 D. 广西壮族自治区 桂——桂林



三、读图题

根据下图几个省级行政单位的轮廓、位置等地理特征,完成下列各题:



1



2



3



4



5



6

1. 图中六省中临海的是_____ ,陆上同邻国接壤的是_____ ,纬度最高的是_____。
2. 六省中地理位置最东的是_____ ,最偏西的是_____ ,有热带分布的是_____。
3. 填写下列表格内容。

图号	1	2	3	4	5	6
省名称						
省简称						
省会名称						



能力训练场

在元宵节会灯谜上,有这样几道题,你知道吗?

碧波万顷()

夸夸其谈()

银河渡口()

圆规画鸡蛋()

宝地()

久雨初晴()

双喜临门()

四季花开()

(打我国行政区名称)

(打我国城市名)



一、单项选择题

1. 我国人口最多的省级单位是 ()
A. 四川 B. 河南 C. 山东 D. 上海
2. 世界上人口居前三位的国家是 ()
A. 中国、印度、美国 B. 中国、美国、印度
C. 中国、印度尼西亚、美国 D. 中国、印度、巴基斯坦
3. 下列关于中国人口的叙述正确的是 ()
A. 中国是世界上人口最多的国家, 约占世界人口的 1/3
B. 由于实行计划生育, 我国人口已经达到了零增长
C. 只有实行计划生育政策, 才能提高人口素质
D. 为了使人口数量的增长同社会经济发展和资源环境条件相适应, 我国政府把计划生育作为一项基本国策
4. 我国人口密度最大的地区是 ()
A. 东部平原 B. 东部山区 C. 西部高原 D. 西部山区
5. 我国人口分布的基本特点是 ()
A. 东多西少 B. 西多东少 C. 南多北少 D. 北多南少

二、双项选择题

1. 关于我国人口分布的说法, 正确的是 ()
A. 东部地区稠密
B. 人口分布大体以漠河——腾冲一线为界
C. 西部地区单位面积人口数多于东部地区
D. 我国平均人口密度高于世界平均人口密度
2. 我国人口过多, 产生的不利因素是 ()
A. 就业困难, 影响社会稳定 B. 住房拥挤、交通阻塞
C. 商品消费市场小 D. 自然资源得不到开发
3. 我国的人口政策是 ()
A. 实行计划生育, 控制人口数量
B. 实行移民政策
C. 提高人口素质
D. 鼓励人们多生孩子

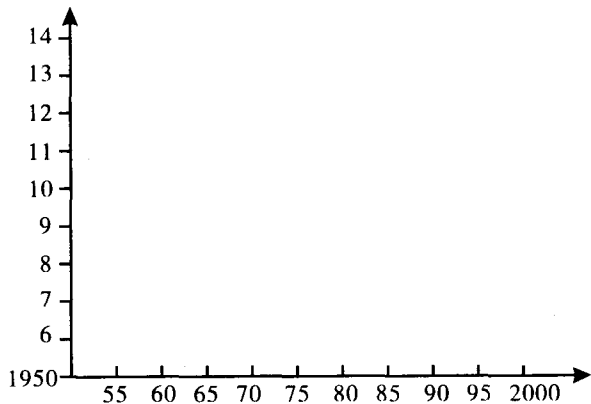


三、读图题

根据下表提供的资料,完成下列各题。

年份	1950	1955	1960	1965	1970	1975	1980	1985	1990	1995	2000
人口数 (亿)	5.5	6.1	6.6	7.2	8.2	9.2	9.8	10.5	11.3	12.1	12.9

1. 画出我国 1950~2000 年的人口增长曲线图。



2. 由图可知,新中国成立后,人口增长特点是_____。

3. 为使人口数量的增长同_____的发展和_____条件相适应,我国政府实行的一项基本国策是_____。



能力训练场

(1) 查一查: 写出下列家庭成员的出生年份: 爷爷(或外公)_____, 爸爸(或妈妈)_____, 自己_____。

(2) 算一算: 你的爷爷(或外公)比(或妈妈)大_____岁, 爸爸(或妈妈)比自己大_____岁。

(3) 想一想: 以上(2)的两个年龄差有什么不同?



★
一、单项选择题

1. 我国少数民族主要分布在 ()
 A. 西北、华北、东北 B. 西南、东南、华南
 C. 西北、西南、东北 D. 华北、华南、西藏
2. 我国少数民族的数量是 ()
 A. 56 个 B. 55 个 C. 57 个 D. 50 个
3. 在我国民族大家庭中,少数民族自治区最多的省在 ()
 A. 云南 B. 台湾 C. 新疆维吾尔自治区 D. 甘肃
4. 蒙古族主要居住在 ()
 A. 四川省 B. 内蒙古 C. 云南省 D. 西藏自治区
5. 藏族群众大多信仰的宗教是 ()
 A. 基督教 B. 天主教 C. 喇嘛教 D. 伊斯兰教
6. 回族、维吾尔族等 10 个少数民族大多信仰的宗教是 ()
 A. 伊斯兰教 B. 佛教 C. 基督教 D. 喇嘛教
7. 苗族主要分布在 ()
 A. 辽宁、吉林、黑龙江 B. 新疆、西藏、青海
 C. 贵州、云南、湖南 D. 福建、江苏、台湾

二、双项选择题

1. 下列关于我国民族的正确叙述是 ()
 A. 除汉族外的其他民族统称为少数民族
 B. 少数民族和汉族的分布,界限十分清楚
 C. 少数民族只占全国人口的 80%,其分布地区占全国的 10%
 D. 少数民族中人口最多的是壮族
2. 人口超过 400 万的少数民族有 ()
 A. 满族、回族、布依族 B. 彝族、傣族、黎族
 C. 苗族、土家族、蒙古族 D. 维吾尔族、藏族、满族
3. 我国各民族分布的特点是 ()
 A. 每个民族都遍及全国
 B. 少数民族都分布在自治区
 C. 大杂居、小聚居
 D. 少数民族主要分布在西南、西北和东北等地区



三、连线题

将下列少数民族的名称和它们喜爱的乐器连起来。

朝鲜族

两面鼓

哈萨克族

长鼓

蒙古族

冬不拉

傣族

合欢箫

壮族

马头琴

四、列举题

1. 请你列举历史上或当代、现代社会我国少数民族杰出的名人。

2. 请你列举反映我国少数民族社会风俗的文学艺术作品。



能力训练场

赛龙舟

赛龙舟是中华民族的传统节日——端午节(农历五月初五)的重要活动内容。相传2000多年前的某年农历五月初五这一天,战国时楚国诗人屈原,眼看祖国即将为秦国所灭,满怀悲愤,在他流放的地方——今湖南汨罗江投水自沉,壮烈殉国。当地民众闻讯纷纷划船到江中抢救,并向江中抛撒粽子,高呼“鱼儿,鱼儿,莫伤亲人”。久而久之,祭祀屈原的活动,便逐渐演变成每年端午节的划船比赛。



★ 一、单项选择题

1. 我国陆地面积在各国中居 ()
A. 第一位 B. 第二位 C. 第三位 D. 第四位
2. 我国大陆和岛屿所濒临的大洋是 ()
A. 太平洋 B. 大西洋 C. 印度洋 D. 北冰洋
3. 以下海域中属我国内海的是 ()
A. 渤海 B. 黄海 C. 台湾海峡 D. 南海
4. 下列国家与我国隔海相望的是 ()
A. 朝鲜 B. 日本 C. 越南 D. 印度
5. 与台湾岛隔台湾海峡相望的省是 ()
A. 广东 B. 浙江 C. 福建 D. 海南
6. 下列沿海省级行政区,符合从北向南顺序排列的是 ()
A. 冀、津、辽 B. 鲁、苏、浙 C. 浙、粤、闽 D. 桂、粤、闽
7. 我国最大的渔场——舟山渔场位于 ()
A. 渤海 B. 黄海 C. 东海 D. 南海
8. 我国人口大约占世界人口总数的 ()
A. $\frac{1}{3}$ B. $\frac{1}{4}$ C. $\frac{1}{5}$ D. $\frac{1}{6}$
9. 我国第五次人口普查数据显示,人口最少的省级行政区是 ()
A. 澳门 B. 香港 C. 宁夏 D. 西藏
10. 我国少数民族在全国人口中所占的百分比大约是 ()
A. 5% B. 8% C. 10% D. 15%

二、双项选择题

1. 从海陆位置看,我国位于 ()
A. 亚欧大陆东部 B. 太平洋西岸
C. 亚欧大陆西部 D. 太平洋东岸
2. 我国最东端的人们早晨刚见到太阳升起的时候,最西端的人们 ()
A. 与最东端人们一样可欣赏日出
B. 已见到太阳升至半空
C. 仍处于满天星斗的深夜



- D. 还要过 4 个多小时才能见到日出
3. 下列关于我国人口的叙述正确的是 ()
- A. 农村人口最多的国家 B. 城市人口最少的国家
- C. 城市人口比重低于世界平均值 D. 城市人口比重高于世界平均值
4. 我国与缅甸相邻的省区有 ()
- A. 西藏 B. 新疆 C. 广西 D. 云南
5. 关于我国民族的叙述正确的是 ()
- A. 我国在少数民族聚居的地区实行民族区域自治
- B. 各民族都有自己的语言和文字
- C. 各民族不论大小,一律平等
- D. 只有少数民族才有宗教信仰的自由

三、连线题

将下列省级行政区的全称、简称和行政中心用线连接起来。

江西	晋	南昌
山西	秦	南宁
陕西	湘	西安
广西	桂	长沙
湖南	赣	太原

四、读图题

1. 读“我国行政区划简图”,回答下列问题。

(1) 图中 A 省(区)的全称是 _____, 简称是 _____, 行政中心城市名称 _____。

(2) 该省区的邻省区名称:

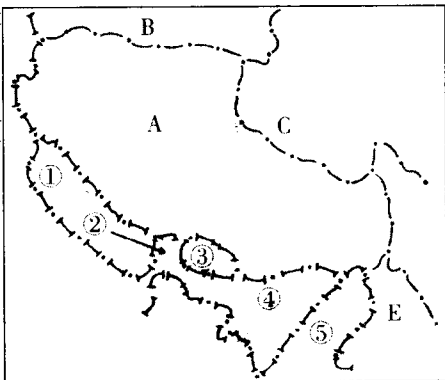
B _____ C _____

D _____ E _____

(3) 该省区的邻国名称:

① _____ ② _____

③ _____ ④ _____ ⑤ _____





2. 读“中国政区图”，完成下列要求：

(1) 写出北回归线自东向西穿过的省级行政区的名称：台湾、

_____、_____。

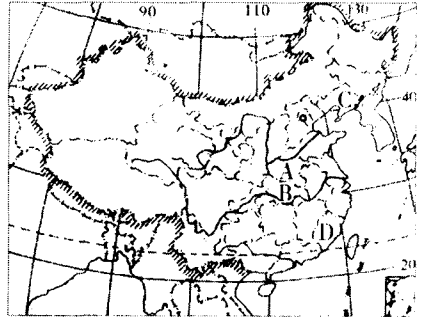
(2) 写出省级行政区的简称：

A _____

B _____

C _____

D _____



(3) 在图中填出我国的陆上邻国哈萨克斯坦和缅甸的名称。

(4) 在图中填写渤海、黄海、东海、南海的名称。

(5) 我国南北跨纬度约 _____ 度，东西跨经度约 _____ 度。



能力训练场

请将下列城市与它们的市花连接起来。

上海

山茶

杭州

白玉兰

昆明

芙蓉

成都

月季

长春

桂花

石家庄

梅花

南京

君子兰

开封

菊花



一、单项选择题

1. 在我国地势第一级阶梯上面积最大的地形是 ()
A. 高原 B. 平原 C. 盆地 D. 丘陵
2. “天苍苍，野茫茫，风吹草低见牛羊”的景观是指 ()
A. 青藏高原 B. 内蒙古高原 C. 黄土高原 D. 云贵高原
3. 水能蕴藏量较大的地带一般是 ()
A. 某一阶梯内部 B. 两级阶梯交界处
C. 南方低山丘陵区 D. 平原河道上
4. 在我国各类地形中，面积最大的是 ()
A. 山地 B. 高原 C. 盆地 D. 平原
5. 我国地势的第二、三级阶梯的分界线是 ()
A. 大兴安岭——阴山——贺兰山——祁连山东端
B. 大兴安岭——太行山——贺兰山——巴颜喀拉山
C. 大兴安岭——太行山——巫山——云贵高原
D. 大兴安岭——太行山——巫山——雪峰山
6. 下列地形区位于我国第二级阶梯的是 ()
A. 青藏高原 B. 内蒙古高原 C. 东北平原 D. 华北平原

二、双项选择题

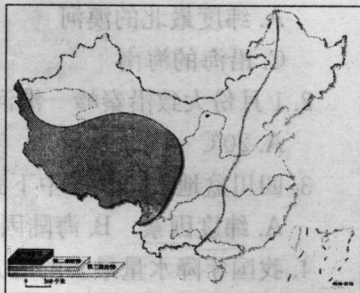
1. 下列地形区分布在地势第一级阶梯上的是 ()
A. 云贵高原 B. 青藏高原 C. 准噶尔盆地 D. 柴达木盆地
2. 下列山脉大至呈东西走向的是 ()
A. 长白山——武夷山 B. 昆仑山——秦岭
C. 天山——阴山 D. 台湾山脉
3. 我国的泥石流多发源于 ()
A. 青藏高原边缘 B. 东部低山丘陵和平原交界处
C. 青藏高原内部 D. 东部平原地区
4. 下列说法正确的是 ()
A. 阴山是内蒙古高原和黄土高原的分界线
B. 天山是塔里木盆地和准噶尔盆地的分界线
C. 长江中下游平原与四川盆地的分界线是巫山
D. 大兴安岭是内蒙古自治区与吉林、黑龙江、辽宁的分界线



★ 三、读图题

读“中国地势三级阶梯示意图”，回答下列问题：

1. 在图中标出第二和第三级阶梯的分界线。
2. 我国地势分布特点是 高 低，大致呈 ，这种分布对我国气候和河流流向有何影响？



3. 河流从高一级阶梯流向低一级阶梯时，落差会有什么变化？有什么利用价值？



能力训练场

我国山区面积广大，有人认为“要想富，先修路”，你认为对吗？请谈谈你的看法。



一、单项选择题

1. 我国夏季最冷的地方是 ()
A. 纬度最北的漠河 B. 青藏高原
C. 沿海的海南 D. 大陆内部的吐鲁番
2. 1月份大致沿秦岭—淮河一线分布的等温线数值为 ()
A. 20℃ B. 8℃ C. -8℃ D. 0℃
3. 四川盆地暖于长江中下游地区的原因是 ()
A. 纬度因素 B. 海陆因素 C. 地形 D. 洋流
4. 我国年降水量最多的地方是 ()
A. 台湾的火烧寮 B. 海南岛的五指山
C. 广东福建沿海 D. 青藏高原东南边缘
5. 我国 400 毫米等降水量线大体是 ()
A. 湿润地区和半湿润地区的界线
B. 半湿润地区和半干旱地区的界线
C. 半干旱地区和干旱地区的界线
D. 半干旱地区和旱地农业区的界线

二、双项选择题

1. 安徽省所处的温度带有 ()
A. 热带 B. 亚热带 C. 暖温带 D. 中温带
2. 我国降水量的时间变化规律是 ()
A. 各地降水的季节分配均匀
B. 大部分地区降水集中在 5~9 月
C. 年际变化北方小, 南方大
D. 年际变化北方大, 南方小
3. 我国夏季避暑, 宜去的地方有 ()
A. 武汉 B. 庐山 C. 黄山 D. 南京
4. 对于我国气候农业的评价正确的是 ()
A. 夏季普遍高温, 雨量充足
B. 夏季风强弱稳定, 易形成旱涝灾害
C. 常有寒潮、飓风等灾害性天气
D. 高温期和多雨期一致, 水热配合好