

经全国中小学教材审定委员会

2002年初审通过

义务教育课程标准实验教科书

数 学

SHUXUE

二年级 下册


课程教材研究所 编著
小学数学课程教材研究开发中心



人民教育出版社

教育部《义务教育课程方案(2022年版)》
《义务教育课程标准和教材》

义务教育课程综合实践活动课程实施指南



SHUXUE

二年级下册

教育部课程教材研究所 编
人民教育出版社 出版



义务教育课程标准实验教科书

数 学

二年级 下册



_____ 年级 _____ 班

姓名 _____

学科编委会

主 任 刘意竹

副 主 任 张卫国 卢 江

教材主编 卢 江 杨 刚

本册编写人员 刘品一 梁秋莲 曹艺冰

李晓梅 王永春 丁国忠

责任编辑 陶雪鹤 周小川

内文制作 杨荟铄工作室

封面设计 林荣桓

封面绘图 郑文娟

义务教育课程标准实验教科书

数 学

二年级下册

课 程 教 材 研 究 所 编 著
小学数学课程教材研究开发中心

人民教育出版社出版

(北京沙滩后街55号 邮编:100009)

网址: <http://www.pep.com.cn>

黑龙江省出版总社重印

黑龙江省新华书店发行

哈尔滨银海印刷有限公司

开本: 890毫米×1240毫米 1/32 印张: 4.375 字数: 80 000

2002年12月第1版 2005年12月黑龙江第4次印刷

印数: 128.785 (2006春)

ISBN 7-107-16205-5

G·9295(课)

定价: 5.32元

著作权所有·请勿擅用本书制作各类出版物·违者必究
如发现印、装质量问题,影响阅读,请与当地新华书店或印厂联系调换。

厂址: 哈尔滨开发区哈平集中区渤海2路1号 电话: 0451-84029357

目 录



1

解决问题

..... 2



2

表内除法 (一)

..... 12



3

图形与变换

..... 37

剪一剪

..... 46



4

表内除法 (二)

..... 48



5

万以内数的认识

..... 67

6

克和千克

..... 85



7

万以内的加法和
减法 (一)

..... 91



有多重

..... 104

8

统计

..... 106



9

找规律

..... 115



10

总复习


..... 119






亲爱的小朋友：


新学期开始了，聪聪和明明在数学王国里等着你们呢！



这些是什么现象？



有什么规律？





加油！



小朋友们，现在就与  一起探索数学的奥秘吧！

编者

2002年5月



跷跷板乐园



我们去玩跷跷板吧!

我们去丢沙包吧!

我要去买面包。




分小组讨论，应该怎样算。

$$22 + 13 = 35 \text{ (人)}$$

$$35 - 6 = 29 \text{ (人)}$$

$$22 - 6 = 16 \text{ (人)}$$

$$16 + 13 = 29 \text{ (人)}$$



面包房

我一共做了 54 个面包。

我们买了 22 个面包。

我们买了 8 个面包。



还剩多少个？

$$54 - 8 = 46 \text{ (个)}$$

$$46 - 22 = 24 \text{ (个)}$$

还可以先算一共买走多少个。

$$8 + 22 = 30 \text{ (个)}$$

$$54 - 30 = 24 \text{ (个)}$$

如果写成一个算式，应该使用小括号。计算时先算小括号里面的。

$$54 - (8 + 22) = 24 \text{ (个)}$$



练

习

一

1. 男生有 22 人，女生有 21 人。



有多少人没参加接力赛？

2.

3 个组一共收集了 94 个。


二组收集了 29 个。

三组收集了 () 个。

一组收集了 34 个。



3. 羊圈(juàn)里原来有 58 只羊。



现在羊圈里面有几只？

4. 2002 年世界杯预选赛亚洲区十强赛
B 组得分统计表

球队	主场得分	客场得分	总分
中国	比客场多 5 分	7	
阿联酋	3	比主场多 5 分	
乌兹别克斯坦	9	比主场少 8 分	
卡塔尔	比客场少 3 分	6	
阿曼	比客场多 4 分	1	

5.*

我今年 8 岁。

爸爸今年 35 岁。
爸爸 50 岁时你多大？



3



跷跷板乐园一共有多少人？



分小组讨论，可以怎样算。

$$4 \times 3 = 12 \text{ (人)}$$


$$12 + 7 = 19 \text{ (人)}$$

$$4 \times 3 + 7 = 19 \text{ (人)}$$

还可以怎样算？



做一做





练

习

二

1.

爸爸、妈妈和我都掰(bāi)了9个玉米。

我们家一共掰了多少个玉米？



我掰了6个。

2.

我们准备送给邻居兔奶奶15个萝卜。

我们种了5行萝卜，每行9个。

还剩多少个萝卜？



3.




小明和爸爸、妈妈一起去动物园玩。用20元钱买票够吗?

4.

2002年世界杯预选赛亚洲区十强赛
B组得分统计表

球队	主场得分	客场得分	总分
中国	是卡塔尔队主场得分的4倍	7	
阿联酋	3	8	
乌兹别克斯坦	是阿联酋队主场得分的3倍	1	
卡塔尔	3	是本队主场得分的2倍	
阿曼	5	与乌兹别克斯坦队客场得分相同	

5.*



一共有多少个方木块?

