

与北京市义务教育课程改革实验教材同步配套

Geography

地理 检测与练习

八年级下册

主编：李通



中国地图出版社

SINOMAPS
PRESS

中国地图出版社

编者：李春旺

责任编辑：李 军

封面设计：佰 益

与北京市义务教育课程改革实验教材同步配套

地理检测与练习

八年级下册

中国地图出版社 出版发行

(北京市白纸坊西街3号 邮政编码：100054)

北京通州区次渠印刷厂印刷

新华书店经销

890×1240 16开 4.25印张 45千字

2006年1月第1版 2006年2月北京第1次印刷

ISBN 7-5031-4131-X/K·2411

定价：6.10元

版权所有 侵权必究

著作权所有·请勿擅自用本书制作各类出版物·违者必究
如发现印、装质量问题，影响阅读，请与出版社联系调换。

ISBN 7-5031-4131-X



9 787503 141317 >

目 录

第十三章 世界地理区域的划分·····2

第十四章 认识亚洲

第一节 地理位置和自然环境·····4

第二节 文化和经济·····8

第十五章 认识几个地区

第一节 东南亚·····12

第二节 中东·····16

第三节 欧洲西部·····20

第四节 撒哈拉以南非洲·····24

第五节 南极地区和北极地区·····30

第十六章 认识几个国家

第一节 日本·····35

第二节 美国·····39

第三节 澳大利亚·····43

第四节 巴西·····46

第五节 俄罗斯·····50

第十七章 人类只有一个地球

第一节 世界的资源问题·····54

第二节 世界的环境问题和人类的可持续发展(选学)·····58

部分参考答案·····61

第十三章 世界地理区域的划分



学习要求

1. 知道世界区域划分的原则。
2. 运用地图说明世界主要区域的名称和位置。



检测练习

1. 地球表面若按水陆分布,可将全球分为 _____ 个大洲和 _____ 个大洋。七大洲为: _____ 洲、_____ 洲、_____ 洲、_____ 洲、_____ 洲、_____ 洲和 _____ 洲,四大洋是: _____ 洋、_____ 洋、_____ 洋和 _____ 洋。
2. 按照地理位置、自然和人文地理要素,将世界分为 _____ 个区域。
3. 读图 13-1 “世界地理区域的划分”,完成下列要求:

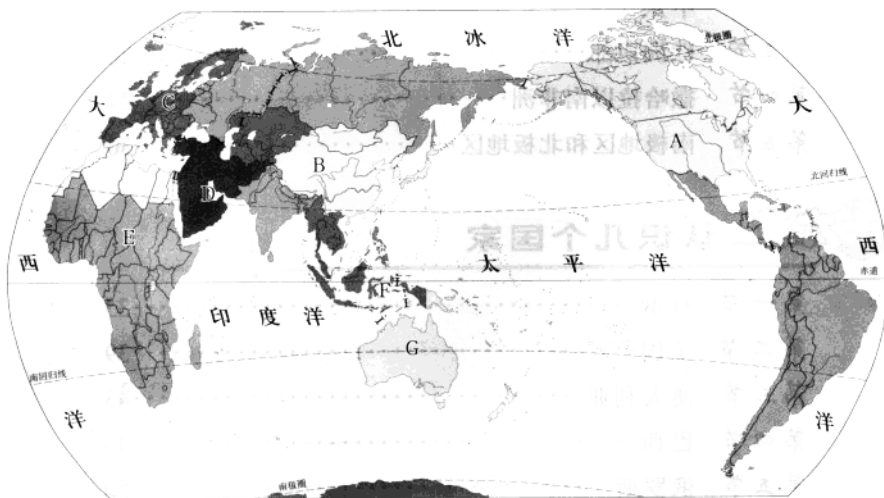


图 13-1 世界地理区域的划分

- (1) 图中显示,区域 A 为 _____、B 为 _____、C 为 _____、D 为 _____、E 为 _____、F 为 _____、G 为 _____。
- (2) 在世界区域划分中,独占一个大洲的区域为 _____。地跨两个大洲的区域有 _____ 和 _____。
- (3) 亚洲分为 _____ 个区域,它们是按 _____ 因素划分的;北美和拉丁美洲的划分,又考虑了 _____ 因素。

4. 读图 13-2 “部分国家轮廓图”，并参照“世界政治地图”，完成下列要求：(选作)

- (1) 图中显示的国家中，A 为 _____、B 为 _____、C 为 _____、D 为 _____、E 为 _____、F 为 _____、G 为 _____。
- (2) B 国家所在的大洲为 _____，所在的区域为 _____。



图 13-2 部分国家轮廓图



学以致用

阅读下面资料，并完成下列要求：

一天，小超的妈妈和阿姨上网浏览 Google Earth 卫星影像地图，小超的妈妈想了解一下墨西哥首都墨西哥城的城市面貌，就和正在操纵鼠标键的小超阿姨说：你拖动影像地图，找到北美洲，再锁定墨西哥的首都，我要看一看墨西哥城的情况。小超阿姨说：可以，但你说错了，墨西哥属于拉丁美洲，应在拉丁美洲地区找。小超妈妈说：墨西哥本来就属于北美洲！……二人争执不下……

请你查阅有关世界政治地图，并找到墨西哥这个国家所在位置，依据所学的知识，来为他们做一个评判。



广闻博知

拉丁美洲

拉丁美洲是美国以南所有美洲各国和地区的通称，包括墨西哥、中美洲、西印度群岛和南美洲。

从 15 世纪开始，这个地区的绝大多数国家先后沦为西班牙和葡萄牙的殖民地，大批移民蜂拥而入。19 世纪以后，这些国家才陆续独立。由于殖民统治长达 300 多年，这些国家深受西班牙和葡萄牙的社会制度、风俗习惯、宗教信仰和文化传统的影响，而且当地的印第安语逐渐被取代。现在该地区除巴西通用葡萄牙语、海地通用法语外，其余国家几乎均采用西班牙语作为国语。

而法语、葡萄牙语均属于印欧语系罗曼语族。罗曼语是古罗马帝国语言，说这种语言的古罗马城郊一带称拉丁姆(Latium)，所以罗曼语族又被称为拉丁语族。因此，采用拉丁语作为国语的这片陆地就被称为“拉丁美洲”。

第十四章 认识亚洲

第一节

地理位置和自然环境



学习要求

1. 以亚洲为例，学会运用地图说明某一大洲的纬度位置和海陆位置。
2. 以亚洲为例，学会运用地图和有关资料归纳某一大洲的地形、气候、河流特点及其相互关系。



检测练习

1. 读图 14-1 “亚洲区域”，完成下列要求：

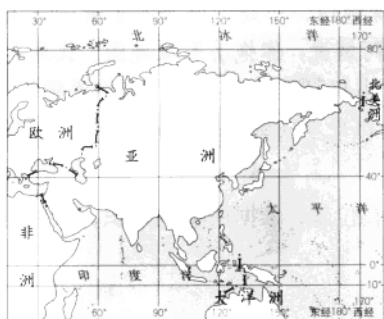


图 14-1 亚洲区域

(1) 从纬度位置来看，亚洲的最北端接近____纬____度，最南端接近____纬____度，所跨纬度大约为____度；最西端接近____经____度，最东端接近____经____度，所跨经度范围大约为____度，是世界上面积（ ）大洲。（选择填空）

- A. 第一 B. 第二

(2) 从海陆位置看，亚洲位于欧亚大陆____部，北临____洋，东濒____洋，南近____洋，西面有____海和____海；同时，西部与____洲、西南与____洲相接壤，多半岛和岛屿。

2. 读图 14-2 “亚洲的地形”，完成下列要求：

(1) 依据图例，找到帕米尔高原、青藏高原，再找到内蒙古高原、黄土高原、云贵高原、伊朗高原和德干高原，最后找到图兰平原、西西伯利亚平原、华北平原、恒河平原和印度河平原。注意观察它们所在亚洲的部位和海拔的大致高度，试总结出亚洲的地势特征为：_____。

(2) 在图中找到亚洲重要河流长江、黄河、勒拿河、叶尼塞河、锡尔河、阿姆河、印度河、恒河和湄公河。通过自己的观察，长江、黄河大致向_____流，叶尼塞河、勒拿河大致向_____流，印度河、湄公河大致向_____流，阿姆河、锡尔河大致向_____流。从总体看，受地势影响，亚洲主要河流分布流向大致呈（ ）。

- A. 平行状东流 B. 汇聚状中心流 C. 放射状四周流

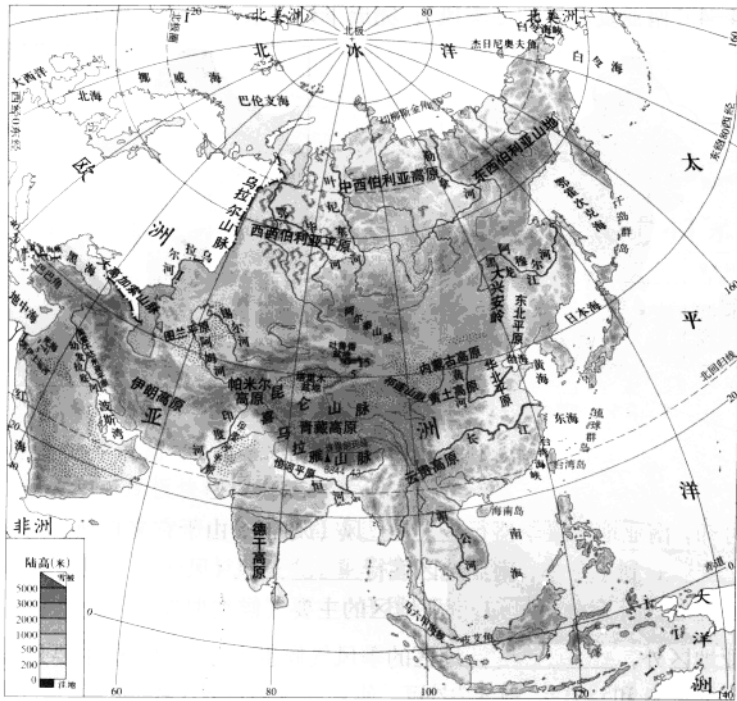


图 14-2 亚洲的地形

(3) 通过观察分析,在前面列举的河流中,属于内流河的有_____ ,它们对当地的农业发展及人口分布产生重要影响。

(4) 在图中的相应位置填注:贝加尔湖、里海、阿拉伯海、孟加拉湾以及阿拉伯半岛、印度半岛、中南半岛、朝鲜半岛、日本群岛、马来群岛的名称。

3. 读图 14-3“亚洲的气候类型”,完成下列要求:

(1) 受纬度高低、海陆位置和地势等因素的影响,在亚洲气候类型中,分布面积最广的气候类型为_____气候,纬度位置最高的气候类型为_____气候,我国青藏地区的气候类型为_____气候,亚洲的气候类型多达_____种。

(2) 从以上观察、分析可知,_____是亚洲气候的显著特征之一。

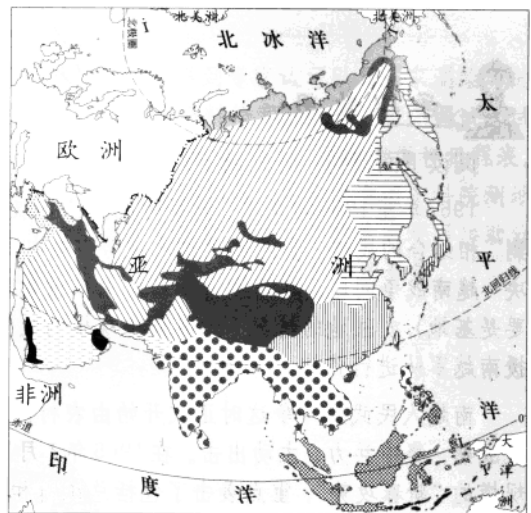


图 14-3 亚洲的气候类型

4. 读图 14-4 “南亚夏季风和冬季风”，完成下列要求：




图 14-4 南亚夏季风和冬季风

(1) 读图可知，南亚地区夏季盛行_____风(风向)，由于它来自热带海洋，会造成南亚地区降水量_____；到了冬季，南亚地区盛行_____风(风向)，由于它来自陆地，这时南亚地区降水_____。综合分析可知，南亚地区的主要气候类型为_____气候。

(2) 除南亚地区外，_____地区的季风气候也十分明显，这主要是因为亚洲地处世界最大的_____和_____之间，使亚洲成为世界上季风气候最显著的地区。

(3) 季风气候对人们的生活与生产会产生很大影响。如在温带季风与亚热带季风区，夏季气温高、农作物生长旺盛，而此时降雨也多。但不同年份_____风的强弱变化，易造成_____、_____等灾害。



学以致用

阅读下面资料，并完成下列要求：

1967年至1968年旱季，美军为巩固已夺取的重要地区和继续扩大战果，采取了“固守与清剿”相结合的战略。企图通过这次攻势，集中更大的机动兵力“摧毁越共主力”，进而“基本解决”越南战争问题。其清剿行动基本采取搜索围剿的战术手段，以小股兵力在不远离阵地(主要是基地)或驻地的情况下，实施小规模攻势作战，而在广大农村，美军则主要是以空军支援南越军队进行作战。

南越人民武装斗争这时正式开始由农村向城市发展，实行游击战与运动战相结合，一旦时机成熟，集中兵力，主动出击。在1968年1月30日至2月7日，人民武装在南越全境发动了大规模的“新春攻势”，重点袭击了包括总统府和美国大使馆在内的美军、政府首脑机关、重要机场、电台、仓库等要害目标，给美军以空前沉重的打击，歼灭美军15万人。粉碎了美军组织的第三个旱季攻势计划。

这是上世纪六十年代有关越南战争的一个资料片断，请你咨询历史教师，对这段历史作简

要了解。依据所学的知识,试分析在这次战争中,美国军队为什么总选择在年底至次年的年初期间发动军事进攻?



广阔博知

国家测绘局公布珠穆朗玛峰新高程为 8844.43 米

新浪科技讯 10月9日上午10点,国务院新闻办公室举行新闻发布会,国家测绘局局长陈邦柱公布了珠穆朗玛峰新高程为8844.43米,原1975年公布的高程数据8848.13米停止使用。

珠穆朗玛峰是世界最高峰,作为世界群山之首,屹立在欧亚板块和印度板块碰撞造就的喜马拉雅山脉群峰之中。地壳板块运动、全球温室效应等因素都会引起珠穆朗玛峰地区环境的变化,喜马拉雅地区一直是国际地学研究的热点地区之一,珠穆朗玛峰高程测量一直为世人瞩目。



2005年中国珠峰高程复测行动于今年3月15日正式开始,5月22日成功登顶并顺利完成相关数据的采集工作。之后,我国测绘专家对取得的数据进行了大量的分析处理工作。

2005年中国珠峰高程复测行动体现了以下几个特点:1.总结了历史经验,将经典大地测量与现代卫星大地测量技术相结合;2.珠穆朗玛峰地区大地水准面精化;3.峰顶采用雷达探测技术确定峰顶冰雪层厚度。

数据处理设计方案经过多次的专家论证,几经修改完善,得到专家认可以及国家测绘局的批复后,数据处理承担单位立即着手进行前期的准备工作,如资料档案的收集、程序调试及试算。为了顺利完成项目,按照不同技术分类成立了计算小组并制定了详尽的实施方案和日程表。在数据处理过程中,项目技术组专家对数据处理工作进行监督和指导,并多次邀请中科院测地所、总参信息总站、中国测绘科学研究院、武汉大学、解放军信息工程大学的专家现场协助分析解决困难、验证计算方法和成果。主要处理内容包括GPS监测网与数据分析解释等。

第二节 文化和经济



学习要求

1. 以亚洲为例, 学会运用有关资料说出某一大洲的人口、环境、发展等问题。
2. 以亚洲为例, 学会说明某一大洲各地区及各国经济发展水平的差异。



检测练习

1. 亚洲不仅自然环境各地区差异很大, 而且人文环境也很复杂, 在某些方面, 亚洲文化对世界有着重要影响。依题意完成下列要求:

(1) 亚洲是世界主要三大宗教的发源地, 试列举出世界主要的三大宗教:

(2) 亚洲是世界古老文明的摇篮, 试列举出分布于亚洲的世界三大古代文明地区:

(3) 除以上所列举的外, 你认为亚洲还有哪些文化在世界上享有很高的声誉? 试列举出来:

2. 读图 14-5 “亚洲人口密度”, 完成下列要求:

(1) 亚洲是世界上人口最多的大洲。读图可知, 其空间分布_____ (不均匀或均匀), 人口稠密区主要有_____, _____、_____, _____和_____, 主要原因是: _____。

(2) 人口稀少的地区主要位于: _____。

(3) 亚洲平均人口的自然增长率高于世界平均水平, 试列举出人口增长过快所带来的一些社会问题。

(4) 你认为控制人口的有效措施有哪些, 你了解的国家中, 哪个国家在这方面做得较好?

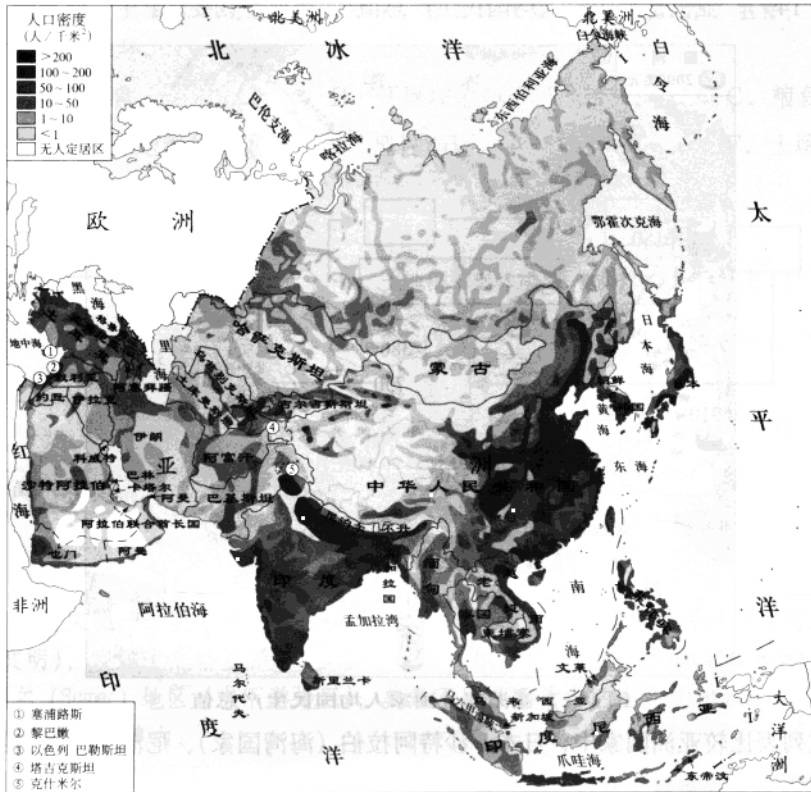


图 14-5 亚洲人口密度

3. 读图 14-6 “世界六大洲人均国内生产总值最多与最少的国家”，完成下列要求：




图 14-6 世界六大洲人均国内生产总值最多与最少的国家(2002年)

(1) 读图可知，国家间贫富差距最大的大洲是 _____，人均国内生产总值最高是最低的 _____ 倍，国家间贫富差距最小的大洲是 _____。

(2) 通过以上分析可知，亚洲在经济发展上各地区是 ()

- A. 比较均衡的 B. 完全均衡发展 C. 不平衡的

4. 读图 14-7 “亚洲部分国家人均国民生产总值”，完成下列要求：

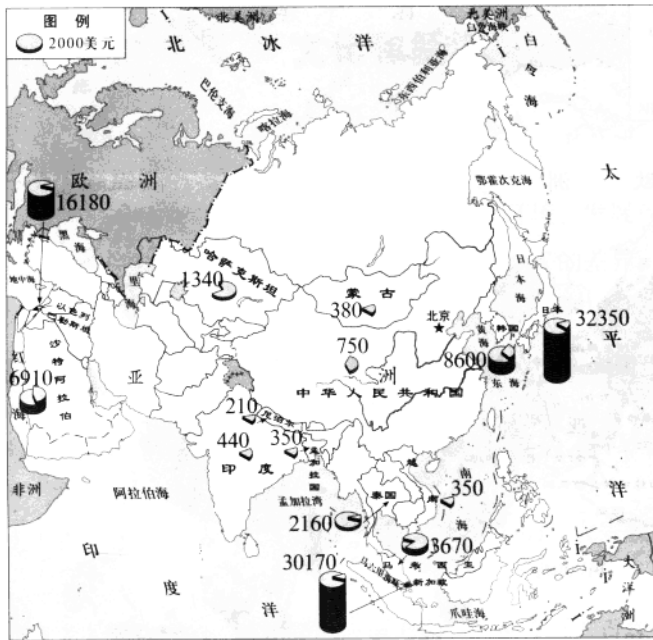


图 14-7 亚洲部分国家人均国民生产总值

(1) 试列表比较亚洲国家中，日本、沙特阿拉伯（海湾国家）、尼泊尔三国的经济水平及特点：

	日本	沙特阿拉伯	尼泊尔
人均国民生产总值			
特点			

(2) 你认为要实现亚洲经济的共同繁荣，亚洲国家应采取哪些措施？（选作）



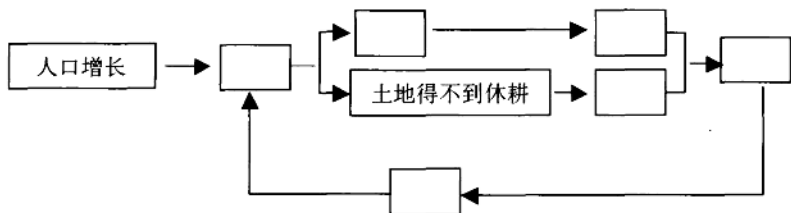
学以致用

亚洲众多的人口，对资源与环境产生了沉重的压力。阅读下面的资料，把 A~F 各项内容，按因果关系填入下面的框图中。

人口增长了，要求生产更多的粮食。为了满足人口最基本的粮食需求，亚洲的一些国家，一方面在山坡和干旱地带垦荒种粮，加重水土流失和土地沙化；另一方面，在土地上连续耕种，

使土地得不到休耕，土壤肥力逐渐下降。结果，粮食的产量下降。然而为了生存，人们又进一步垦殖，形成恶性循环。

- A. 要求增产粮食 B. 开垦坡地和干旱地带 C. 粮食产量下降
D. 水土流失和土地沙化加重 E. 恶性循环 F. 土壤肥力下降



广闻博知

历史上的古巴比伦文明

世界最早的文明——美索不达米亚 (Mesopotamia, 希腊语的意思是两河之间的土地) 文明 (又称两河文明), 发源于底格里斯河 (Tigris River) 和幼发拉底河 (Euphrates River) 之间的流域——苏美尔 (Sumer) 地区 (中下游地区)。美索不达米亚是古巴比伦 (Babylon) 的所在, 在今伊拉克 (Iraq) 共和国境内。

公元前 4000 年到公元前 2250 年是两河文明的鼎盛时期。住在下游的苏美尔人发明了太阳历, 以月亮的阴晴圆缺作为计时标准, 把一年划分为 12 个月, 共 354 天, 并发明闰月, 放置与太阳历相差的 11 天。把一小时分成 60 分, 以 7 天为一星期。还会分数、加减乘除四则运算和解一元二次方程, 发明了 10 进位法和 16 进位法。他们把圆分为 360 度, 并知道 π 近似于 3。甚至会计算不规则多边形的面积及一些锥体的体积。

公元前 4000 年, 苏美尔人最早发明了表意和指意符号的象形文字, 因为这种文字大多刻在砖、石或黑色的玄武岩或泥板上, 起笔重而印痕较深, 成尖劈形, 形似木楔, 所以被称为“楔形文字”。

古巴比伦的空中花园 (Hanging Gardens) 是世界七大奇迹之一。这座花园传说是当时的国王为公主而建的。

大约在公元前 2000 年, 阿摩利人建立了以巴比伦城为首都的巴比伦王国。公元前 1792 年, 汉谟拉比 (Hammurabi) 即位, 征服了苏美尔人和阿卡德人, 统一了美索不达米亚平原, 并颁布了《汉谟拉比法典》, 这是世界上第一部较为完备的成文法典。

公元前 689 年, 巴比伦王国被亚述所灭。公元前 605 年新巴比伦王国灭掉了亚述。后来, 神庙祭师集团当权, 终于在公元前 538 年, 被位于伊朗高原的波斯所灭。古代两河流域的文明作为一个独立的整体便告结束。

第十五章 认识几个地区

第一节 东南亚



学习要求

1. 以东南亚为例，学会在地图上找出某一地区的位置、范围、主要国家和首都，说明该地区地理位置的特点。
2. 以东南亚为例，学会用地形图分析某一地区山河及平原分布特点，以及地形对城市分布的影响。
3. 以东南亚为例，学会运用地图和资料说明某一地区重要自然资源的分布、生产和出口状况。
4. 以东南亚为例，学会说明某一地区最有影响的区域组织对世界的影响。



检测练习

1. 读图 15-1 “东南亚”，完成下列要求：

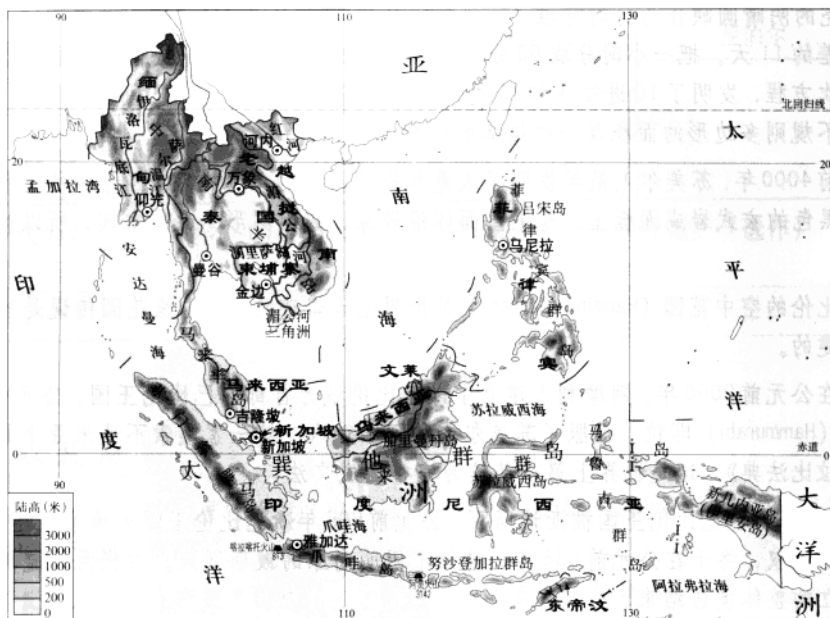


图 15-1 东南亚

(1) 东南亚大致位于_____和_____两条纬线之间, _____和_____两条经线之间;从海陆位置看, 介于亚洲大陆与_____洲之间, _____洋与_____洋之间, 位置十分重要。

(2) 东南亚主要由两部分组成, 一部分是_____半岛, 另一部分是_____群岛; 中南半岛上最东面的国家是_____, 最西面国家的首都是_____。

(3) 在图中填出马六甲海峡的名称。

2. 读图 15-2 “马六甲海峡的重要性”, 试分析马六甲海峡在世界交通中的重要作用:



图 15-2 马六甲海峡的重要性

3. 读图 15-3 “中南半岛河流与城市的分布”, 完成下列要求:

(1) 从河流的流向看, 中南半岛的地势特征为_____高_____低, 河流与河流之间, 大都为山地所隔, 具有山、河_____分布的特点。

(2) 找出河内、金边、万象、曼谷、仰光, 看看它们分别位于哪条河流的沿岸, 分别是哪个国家的首都。将查找的结果填在下表中:

城市名称	附近大河的名称	所在国家的名称
河内		
金边		
万象		
曼谷		
仰光		

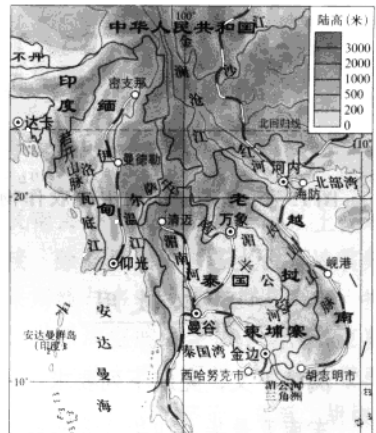


图 15-3 中南半岛河流与城市的分布

(3) 从左表可看出, 中南半岛的大城市主要分布在_____及河口的三角洲地区。

4. 读图 15-4 “热带季风与热带雨林气候气温曲线与降水柱状图”, 完成下列要求:

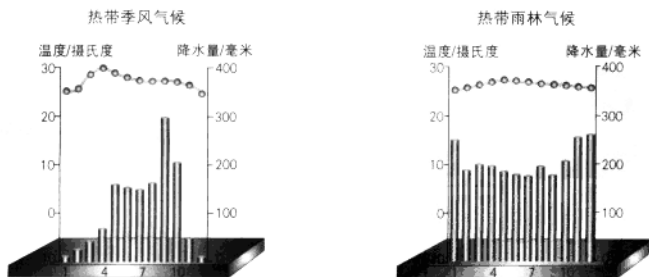


图 15-4 热带季风与热带雨林气候气温曲线与降水柱状图

在东南亚，中南半岛主要以热带季风气候为主，马来群岛主要以热带雨林气候为主。试比较两种气候类型的异同点：

(1) 相同点：_____

(2) 不同点：_____

5. 读图 15-5 “东南亚国家主要农作物的分布”，完成下列要求：

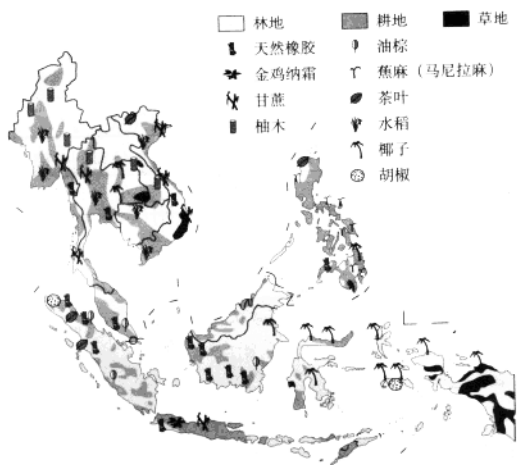


图 15-5 东南亚国家主要农作物的分布

(1) 读图可知，东南亚人比较喜欢吃的主食应为 ()

- A. 拉面
- B. 玉米面的窝窝头
- C. 大米饭
- D. 钱面馒头

(2) 东南亚主要出口的农产品有_____、_____以及_____等。

(3) 东南亚是世界上重要的热带作物生产基地，你认为这主要是与当地的 () 因素密切相关。

- A. 复杂的地形
- B. 气候条件
- C. 众多的河流



学以致用

阅读下文，完成下列要求：

东南亚是华人和华侨分布较为集中的地区。华人和华侨对所在国的经济建设做出了重大贡献，也为我国的经济建设做出了很大贡献。新马泰成为近年来中国人出国旅游的热点地区。东南亚有着丰富的热带自然景观、众多美丽的沙滩和岛屿，以及许多的名胜古迹和独特的风土人情，成为该地区丰富的旅游资源，吸引着世界各地的旅游者。

查找相关资料，给下面东南亚地区重要旅游资源配上文字说明：



越南的下龙湾



柬埔寨的吴哥窟



印度尼西亚的婆罗浮屠



缅甸仰光的大金塔



广闻博知

马来群岛

马来群岛是世界最大的群岛，以其居民主要属马来人而得名。旧称“南洋群岛”，散布在太平洋与印度洋之间的广阔海域。北起吕宋岛以北的巴坦群岛，南迄帝汶岛南头的罗地岛，西起苏门答腊岛，东止于新几内亚岛以西，群岛范围南北长约3 500千米，东西宽约4 500千米，包括大巽他、小巽他、马鲁古和吕宋等群岛，分属于印度尼西亚、马来西亚、文莱和菲律宾等国。共有2万多岛屿，面积242.7万平方千米，占东南亚面积的54%。岛屿之多、散布之广、拥有世界大岛数目之多均居世界首位。海域面积广大，除爪哇海及南海外，水深都在千米以上。地处亚、澳两大陆与太平洋、印度洋之间，板块碰撞，岛弧交接，除婆罗洲外，多火山，地震频繁。群岛为南北大陆生物种的过渡地带，生物地理分界的华莱士线与韦勃线纵贯群岛中部，拥有亚洲与澳大利亚动植物；既有马来人种亦兼有巴布亚人种。世界海空航线穿插于此，多重要海峡，海岸线绵长而曲折，多港湾、港口。赤道横贯，水热条件充足，具有面积广大的热带雨林与热带季雨林，为世界最大的热带经济作物生产基地。盛产橡胶与棕油，椰干、蕉麻、胡椒、金鸡纳霜、木棉与热带木材产量皆居世界首位。开发历史悠久，文化发达。爪哇岛与巴厘岛的人口密度与垦殖指数皆居世界各岛的前列。主要城市多兼为海、河港埠，接近海洋航线。其中雅加达为东南亚最大城市。