

根据普通高中课程标准实验教科书（人教版）编写


地理

“伴你学”
新课程

选修 3

旅游地理

新课程 新思想 新理念
XINKECHENG XINSIXIANG XINLINIAN



山东友谊出版社

●●● “伴你学” 新课程 ●●●

根据普通高中课程标准实验教科书（人教版）编写

地 理

选 修 3

旅 游 地 理



山东友谊出版社

“伴你学”新课程

地 理

选修 3

旅游地理

出 版：山东友谊出版社
地 址：济南市胜利大街 39 号 邮编：250001
电 话：总编室(0531)82098148 82098756
 发行部(0531)82098147(传真)
发 行：山东省新华书店
印 刷：山东农业大学印刷厂
版 次：2005 年 10 月第 1 版
印 次：2005 年 10 月第 1 次印刷
规 格：787mm×1092mm 16 开本
印 张：6.75
字 数：135 千字
书 号：ISBN 7-80642-985-9
定 价：6.75 元

(如印装质量有问题,请与出版社总编室联系调换)

编写说明

为了适应高中课程改革的需要,落实《基础教育课程改革纲要》中关于“注重培养学生的独立性和自主性”、“促进学生在教师的指导下主动地、富有个性地学习”的精神,体现教育教学改革最新成果,指导学生进行自主学习,减轻学生过重的课业负担,提高学习效率和质量,我们组织全省知名的教研员和骨干教师编写了这套《“伴你学”新课程》丛书。

《“伴你学”新课程》丛书包括9个学科,以高中各学科课程标准为依据,以新的课程理念为指导,着眼于培养学生的创新精神和实践能力,侧重于学法指导和思维能力的培养。在栏目设置、习题编排上,紧扣课程标准的要求和高考改革的动向,突出应用性、新颖性和探究性,让学生巩固知识、发展能力、体验过程。

本书每节设有“解析重难点”、“讲评经典题”、“自主打基础”、“合作闯难关”四个模块,具体指导和帮助学生新授知识;最后回到“单元整合”,设有“梳理与整合”、“阅读与思考”、“检测与反馈”三个模块,目的是巩固和拓展知识,提高探究学习能力,检验学习水平。

本册根据《普通高中课程标准实验教科书·地理·选修·旅游地理》(人民教育出版社)编写,参加本书编写的有王守军、修玉华、张莉丽。由姜建春、王守军组织编写并负责最后统稿。

由于时间仓促,书中一定会有一些错误和不妥之处,恳请广大师生提出宝贵意见和建议,以利于修改和完善。

编者

2005年10月

目 录

第一章 现代旅游及其作用	1
第一节 现代旅游	1
第二节 现代旅游对区域发展的意义	5
单元整合	10
第二章 旅游资源	17
第一节 旅游资源的分类与特性	17
第二节 旅游资源开发条件的评价	22
第三节 我国的旅游资源	27
单元整合	32
第三章 旅游景观的欣赏	42
第一节 旅游景观的审美特征	42
第二节 旅游景观欣赏的方法	46
第三节 中外著名旅游景观欣赏	50
单元整合	54
第四章 旅游开发与保护	62
第一节 旅游规划	62
第二节 旅游开发中的环境保护	67
单元整合	72
第五章 做一个合格的现代游客	81
第一节 设计旅游活动	81
第二节 参与旅游环境保护	85
单元整合	88
参考答案	96

第一章 现代旅游及其作用

第一节 现代旅游

解析重难点

1. 旅游活动的概念

旅游活动是一定社会经济条件下的一种社会经济活动,表现为人们以娱乐、享受为主要目的,离开常住地的一种综合性的物质文化生活。因此旅游活动是人类超出生存需要的一种高层次的消费活动。它需要较高的社会经济水平,所以说旅游活动是人类社会发展到一定阶段的产物。

2. 旅游活动的发展

旅游活动是在一定的社会经济条件下进行的,也必然受到一定的社会条件的限制。历史上旅游活动的发展经历了三个阶段:

古代旅游:1841年以前,旅游活动人数少,出行距离短。

近代旅游:1841年以后,专门为旅游服务的旅行社的出现,标志着近代旅游的开始,同时也说明旅游活动由个体行为发展到社会行为。从1841年一直到1950年,旅游业服务逐渐商业化,旅游活动的消费量及普及程度大大提高。

现代旅游:现代旅游与近代旅游在内涵上并没有什么区别,只是发展程度的差异。综合历史、经济、科技以及旅游活动本身的特点,人们以1950年为界划分近代旅游和现代旅游。1950年以后,由于新的技术革命推动世界经济迅速发展,世界局势也日趋稳定,经济的繁荣和社会的安定,再加上交通条件的改善,使得现代旅游以前所未有的速度向前发展。

3. 现代旅游的发展特点

第一,旅游主体的大众化——是现代旅游最突出的表现,旅游活动已成为大众的消费行为,旅游普及程度高,旅游业收入增长快。

第二,旅游形式的多样化——不仅有观光旅游、商务旅游和文化旅游,还出现了一批特种旅游,如农业旅游、红色旅游、寻根旅游等。

第三,旅游空间的扩大化——科技的进步和交通工具的发展,使世界各地的距离日趋“缩小”,加上人们求知、探秘和猎奇欲望的增长,旅游活动空间日趋扩大。

第四,旅游目的的娱乐化——据统计,在全部现代旅游中,以娱乐、消遣为目的的旅游约占75%。旅游目的的娱乐性、消遣性,既是现代旅游的一大特点,又是旅游发展的原动力。

讲评经典题

【例 1】下列有关旅游活动的叙述,正确的是 ()

- A. 旅游是一种个人或家庭的经济活动
- B. 科学技术的发展是旅游活动发展的巨大推动力
- C. 随着世界各地的距离日趋“缩短”,人们旅游的空间也日趋缩小
- D. 旅游是人类最基本的生存需要

讲评: 旅游活动是人类社会经济和文化发展到一定阶段的产物,是人类超出生存需要的较高层次的消费形式。20 世纪 50 年代以来,世界局势日趋稳定,新科技革命使世界经济迅速发展。经济的繁荣和社会的安定,使人们外出旅游的欲望日益强烈,交通条件的改善,尤其是大型超音速客机的出现,使世界各地的距离日益“缩短”,人们外出旅游的空间范围不断扩大。

解答: B

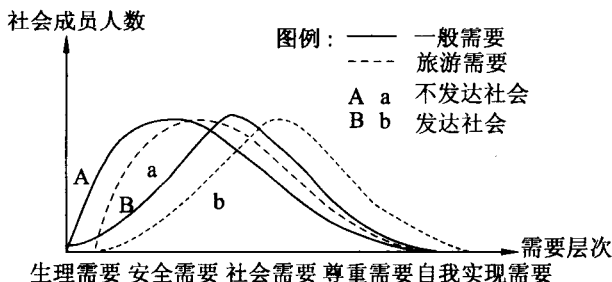
【例 2】下列旅游活动属于近代旅游的是 ()

- A. 苏轼游“石钟山”
- B. “泰坦尼克号”上游客的出游
- C. 马可波罗的东方之行
- D. 2002 年 5 月某旅游公司组团赴新、马、泰十日游

讲评: 苏轼、马可波罗为古代旅游;赴新、马、泰十日游为现代旅游;1912 年 4 月 15 日,载着 1316 名乘客和 891 名船员的豪华巨轮“泰坦尼克号”与冰山相撞而沉没,这场海难被认为是 20 世纪人间十大灾难之一。

解答: B

【例 3】读下图,回答有关问题。



(1) 从图中可以看出旅游活动是_____的产物,是_____的消费形式。

(2) a 对于 A, b 对 B 的相对平移,说明旅游需要的构成_____。

(3) A、a 曲线与 B、b 曲线的形态差异,说明:① _____;② _____。

讲评: 解答本题首先要读懂图,弄清图的意思。在此基础上反馈课本中的有关知识,用简练的语言回答有关问题。通过本题,可以使明确旅游活动是超出人类生

存需要的较高层次消费活动,不同时期生产力水平的不同,同一时期生产力水平的差异,都会给旅游活动的发展带来影响。

解答:(1)人类社会经济和文化发展到一定阶段 超出人类生存需要的较高层次
(2)与日常生活中一般需要的构成是同型的,但又整体地处于提高的层次 (3)① A 曲线说明:在生产力不发达的社会,人类的个体生活主要被饮食、居住、穿用等生活需要和安全需要所困扰,生活需要成了生活中最主要的内容 ② B 曲线说明:社会进入较为富裕的阶段,并能赋予个人一定的自由时间,旅游需要才融入人类的需要系统,旅游已成为现代人的一种重要生活方式

自主打基础

一、选择题

- 世界上首次以盈利为目的、面向大众的专业化旅游服务出现于 ()
A. 中国 B. 英国 C. 希腊 D. 美国
- 在现代旅游中,就目的性来说,占绝对优势的是 ()
A. 调研采风 B. 科学研究 C. 探亲访友 D. 娱乐消遣
- 近代旅游开始的标志是 ()
A. 旅游空间的扩大化 B. 旅游主体的大众化
C. 旅行社的出现 D. 旅游目的的多样性
- 形成完善的旅游产业结构的时间是 ()
A. 18 世纪 40 年代 B. 19 世纪 40 年代
C. 20 世纪 50 年代 D. 20 世纪 90 年代
- 现代旅游的主要特点是 ()
A. 旅游主体的群体化 B. 旅游空间的缩小化
C. 旅游形式的多样化 D. 旅游目的的交流性
- 既是旅游的一大特点,又是旅游发展原动力的是 ()
A. 旅游主体的大众化 B. 旅游空间的扩大化
C. 旅游形式的多样化 D. 旅游目的的娱乐化
- 在现代旅游的基本要素中,旅游活动的基本条件是 ()
A. 食宿 B. 购物 C. 游览 D. 交通
- 下列不属于现代旅游的基本要素的是 ()
A. 乘坐旅游车 B. 旅游欲望
C. 参加民俗活动 D. 品尝旅游地风味小吃

二、综合题

9. 填写下列空格中的内容。

- (1) 现代旅游的主要特点_____、_____、_____、_____、_____。
- (2) 据统计在全部现代旅游中,以_____为目的旅游占 75%,因此

_____性的旅游占绝对优势。

- (3) 促使现代旅游以前所未有的速度向前发展的条件是_____和_____,以及_____。
- (4) 2004年12月26日,印度洋海啸造成东南亚及南亚地区旅游收入_____。
- (5) 现代旅游的基本要素是_____,_____,_____,_____,_____,_____,其中核心要素是_____,并且六要素之间是_____,_____的。

合作闯关

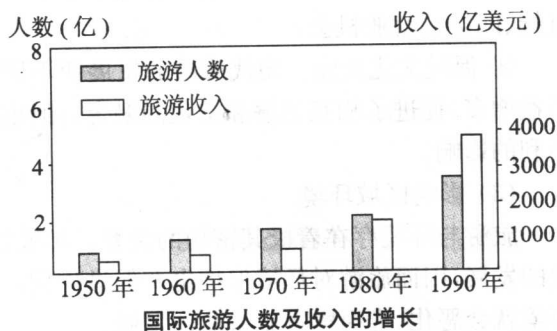
一、选择题

1. 关于旅游活动发展的叙述,正确的是 ()
- A. 1841年旅行社的出现是近、现代旅游的分界点
B. 旅游主体的大众化是旅游活动的特点之一
C. 20世纪中期,旅游活动的消费数量和普及程度大大提高,旅游服务逐渐商业化
D. 经济繁荣和社会安定是现代旅游快速发展的主要原因
2. 现代旅游的特点有 ()
- ① 促进国民经济的发展 ② 增进了解,扩大交流
③ 旅游空间的不断扩大 ④ 旅游主体的大众化
A. ①③ B. ②④ C. ①② D. ③④
3. 人们在旅游时感觉到世界各地的距离日益“缩短”的主要原因有 ()
- ① 通信手段现代化 ② 人们精神素质得到提高
③ 人们旅游的欲望日益增强 ④ 交通条件大大改善,速度愈来愈快
A. ①④ B. ②③ C. ①② D. ③④
4. 近年的“五一”和“十一”黄金周,各旅游点接待的游客很多都是工薪阶层和农民,这说明了 ()
- A. 旅游空间的扩大化 B. 旅游主体的大众化
C. 旅游形式的多样化 D. 旅游内容的丰富性
5. 国际旅游人数的不断增加,其根本原因有 ()
- ① 世界局势日趋稳定 ② 科技进步和社会经济的迅速发展
③ 旅游景点日益增多 ④ 人们的闲暇时间增多
A. ①② B. ①③ C. ②③ D. ②④
6. 旅游主体的大众化是 ()
- A. 旅游活动已成为全体公民生存必需的消费行为
B. 旅游活动已成为普通大众的消费行为
C. 发达国家的出游率达90%以上
D. 发展中国家的出游率达50%以上

二、综合题

7. 读图,完成下列要求。

- (1) 图中的国际旅游人数呈_____的变化特点,原因之一是交通条件大大改善,尤其是_____的出现,使世界各地的距离日益“缩短”。



- (2) 图中的旅游活动属于 ()
A. 古代旅游 B. 近代旅游 C. 现代旅游 D. 无法判断
- (3) 图中反映出旅游主体的_____化,图中的旅游活动同时还具有以下特征:① 旅游空间的_____,② 旅游形式的_____,③ 旅游目的的_____,其中_____是旅游发展的一大原动力。

第二节 现代旅游对区域发展的意义

解析重难点

1. 旅游对区域发展的作用

(1) 拉动经济发展

目前,旅游业已是世界上最大的产业,成为一些国家的重要经济支柱,或许多国家和地区新的经济增长点。

① 发展国际旅游,能够增加国家外汇收入。国际旅游业在世界范围内造成了国民收入的再分配,从而大大增加了旅游接待国的国民收入。

② 发展国内旅游业是回笼货币、稳定市场的一个重要途径。国内旅游可以把居民手中的部分消费资金回笼到国家手中,既能减轻商品市场的压力,弥补商品供应的某些不足,起到抑制物价的作用,又能刺激旅游者新的需要,促进生产的发展。

③ 旅游业可带动相关产业的发展。旅游业是综合性的行业,它既以其他部门的发展为基础,同时又为相关行业提供广阔的市场需求,能直接或间接带动交通运输、商业、建筑、金融、房地产等产业的发展。可以说“旅游一动百业兴”。

④ 促进区域经济的发展。旅游也可增加地方的收入,又可带动相关产业发展,必然会促进区域经济的发展。但过分依赖旅游业会给国民经济带来不稳定因素。例如2004年11月26日印度洋海啸,造成东南亚各国旅游业及相关产业的严重损失。

(2) 促进社会文化繁荣

① 促进国民素质和生活质量的提高。

② 提供大量就业机会。旅游业基本上是劳动密集型产业,其发展可以提供许多直接、间接的就业机会。

③ 促进文化交流。现代旅游的发展使不同国家和地区、不同民族和文化的交流日益增多,促进了相互了解和文化的融合。但也会给旅游接待地的社会文化环境产生不利的影响。

(3) 影响区域环境

旅游与环境存在着极其密切的关系。环境是旅游业的基础,保护环境能促进旅游业的发展,因而旅游对环境保护也有促进作用。但如果旅游与环境的关系处理不好,环境就会恶化,进而影响旅游业的发展。

讲评经典题

【例1】2003年8月5日,中国国家旅游局在“振兴中国旅游业研究会”上指出:受“非典”的影响,2003年中国旅游全年外汇收入预计要减少88亿美元,国内旅游收入将减少2037亿元人民币,旅游业总收入将损失2768亿人民币。据此,完成下列问题。

“非典”期间,导致旅游业收入急剧下降的主要因素是 ()

- A. 环境因素 B. 经济持续衰退 C. 时局不稳定 D. 科技落后

讲评: 旅游与环境存在着极其密切的关系。环境是旅游业的基础,良好的环境资源能促进旅游业的发展。而2003年“非典”期间,环境因素的变化,使人们出行不便,导致旅游业受到很大影响。

解答: A

【例2】旅游活动的经济作用是 ()

- A. 旅游主体的大众化
B. 发展旅游业能够扩大就业
C. 旅游活动能增进彼此的了解,扩大文化的交流与融合
D. 回笼货币,稳定市场

讲评: 此题的关键在于题干中的经济作用,其中旅游主体大众化是现代旅游的特点,扩大就业和文化交流与融合属于旅游的社会、文化作用,不属于经济作用,而旅游的经济作用包括:① 增加外汇收入;② 回笼货币、稳定市场;③ 带动相关产业的发展;④ 促进区域经济的发展。

解答: D

自主打基础

一、选择题

1. 旅游活动的作用主要体现在 ()

- A. 可以缩小地区间的经济差异 B. 可以丰富人们的物质生活
C. 可以增加国家的外汇收入 D. 能够满足人们各种商业活动的需求

2. 属于旅游活动社会作用的是 ()
- A. 扩大就业 B. 增加国家的外汇收入
C. 回笼货币,稳定市场 D. 带动相关产业的发展
- 金秋时节,越来越多的人利用双休日到郊区当两天农民,摘几筐柑橘。据此,完成3~4题。
3. 这种旅游形式,属于 ()
- A. 观光旅游 B. 商务旅游 C. 农业生态旅游 D. 寻根旅游
4. 这种旅游活动能够 ()
- A. 促进区域经济的发展 B. 促进生活质量的提高
C. 提供大量就业机会 D. 促进对环境的保护
5. 旅游活动的经济作用体现在 ()
- A. 旅游业在国民经济发展中发挥着主导地位的作用
B. 有了旅游业的发展才有国民经济其他部门的发展
C. 有利于国家间、地区间的文化交流
D. 旅游业的发展能带动交通、建筑、金融、房地产等产业的发展
6. 旅游活动的作用是 ()
- A. 满足人类更高层次的享受需要
B. 鼓励人们节衣缩食,以满足旅游资金的需要
C. 开阔眼界,满足人们好奇心理的需要
D. 促进经济发展,提高劳动效率,因此使就业需求减少

二、综合题

7. 读“A、B、C、D 四国某年有关旅游业的资料表”,完成下列要求。

国家	国际旅游收入(亿美元)	出口总额(亿美元)	国内生产总值(亿美元)	国际旅游就业人口(万人)	就业总人数(万人)
A	150	300	1500	75	1500
B	120	400	1000	50	1000
C	200	1000	5000	300	15000
D	80	320	1000	95	950

- (1) 从表中可以看出,国际旅游收入与国内生产总值的比值最高的是_____国,达_____%。这反映出发展旅游业可以促进_____的发展。
- (2) 国际旅游收入与出口总额的比值最高的是_____国,这反映出发展进口旅游能够增加国家的_____收入。
- (3) 国际旅游就业人数与总就业人数的比值最高的是_____国,这反映出发展旅游业能够扩大_____。
- (4) 在国际旅游就业人口中,人均旅游收入最高的国家是_____国。
- (5) 现代旅游业是一项综合性的服务行业,它涉及_____,_____,_____,_____,_____等许多方面。
- (6) 由此可知,旅游业的重要作用之一是促进_____,因此,旅游业甚至

成为一些国家和地区的重要经济支柱。

合作闯关

一、选择题

1. 现代旅游业是 ()

① 知识密集型产业 ② 劳动密集型产业

③ 发展该业,资金投入量小,劳动需求量大

④ 发展该业,资金投入量大,劳动需求量小

A. ①③

B. ①④

C. ②③

D. ②④

旅游活动既可以促进经济发展,同时还可以促进社会文化繁荣。据此,完成2~4题。

2. 现代国际旅游人口流动的方向是 ()

A. 从发达国家流向发展中国家

B. 从旅游资源贫乏区流向丰富区

C. 从发达国家流向游览价值较高的地区

D. 从发展中国家流向邻国

3. 西双版纳地区,很多宾馆、旅社、摊点的服务人员讲英语,这说明 ()

A. 英语是国际工作语言

B. 旅游活动可以扩大文化交流

C. 傣族人偏爱英语

D. 西南地区靠近印度,受英语扩散影响

4. 近年来,云南把旅游业作为立省之本,这表明 ()

A. 旅游活动可以扩大文化交流

B. 旅游活动可以改变民族构成

C. 旅游活动可以促进经济发展

D. 旅游活动可以满足人类的需求

5. 旅游对区域环境的影响是 ()

A. 促进区域经济的发展

B. 过分依赖旅游业会给国民经济带来不稳定因素

C. “黄金周”旅游环境混乱

D. 给旅游地居民的工作和生活带来不便

二、综合题

6. 读表,完成下列要求。

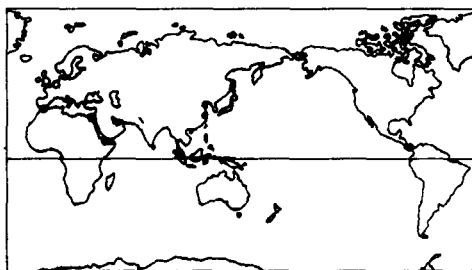
部分国家国际旅游收入及其国内生产总值、出口总额之比(2002年)

国家	国际旅游收入/亿美元	国际旅游收入与国内生产总值之比/%	国际旅游收入与出口总额之比/%
西班牙	336.1	5.1	26.7
法国	323.3	2.3	9.7
意大利	269.2	2.3	10.6
英国	175.9	1.1	6.3

国家	国际旅游收入/亿美元	国际旅游收入与国内生产总值之比/%	国际旅游收入与出口总额之比/%
埃及	37.6	4.2	80.0
澳大利亚	80.9	2.0	12.4
新西兰	29.2	5.0	20.3
泰国	79.0	6.2	11.5

(1) 将代表有关国家的字母填在图中相应的位置上。

- A. 西班牙 B. 意大利
C. 泰国 D. 法国



(2) 表中所列国家国际旅游收入与国内生产总值的比值最高的国家是_____，2005年该国国际旅游收入大幅度减少的原因是_____。

_____；国际旅游收入与出口总额的比值最高的是_____，该国的首都是_____；国际旅游收入最高的是_____，该国南部和东南部为_____气候，该气候类型的成因是_____。

(3) 你能说出表中所列国家各有哪些著名的旅游胜地吗？为什么欧洲西部旅游业较发达？

(4) 通过对表中资料的归纳分析并结合课本知识的学习，你认为旅游业对我国的经济发展有何促进作用。

7. 阅读下列材料，回答问题。

昔日革命摇篮井冈山，如今大力发展旅游业，目前市内已有八大景区，60多处景点，320多处景物景观。1997年上山游客达100万人次，旅游业收入占本市国内生产总值的40%，井冈山已经成为一座新兴的风景旅游名城。

1984年被列为全国第一批风景名胜区的井冈山，1991年又被评为中国旅游胜地四十佳之一。近年来，井冈山加大了对景区景点的开发建设，围绕“旅游兴市”这一主题开展一系列宣传和促销活动，分别在北京、上海、广州、深圳等大城市召开旅游推介会，吸引了大量的游客。

(1) 目前,旅游业已成为我国发展最快的第三产业,有人称旅游业为“无烟工业”。以井冈山为例,说明旅游业被称为“无烟工业”的原因。当前,在我国大力发展旅游业有什么积极意义?

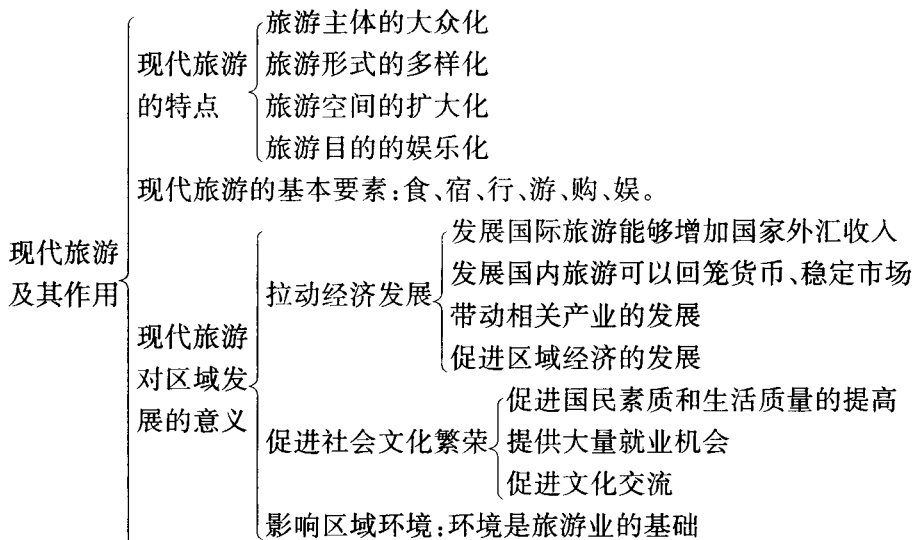
(2) 旅游业的发展,说明第三产业(不定项选择) ()

- A. 已成为我国国民经济的支柱产业
- B. 已成为一个国家经济现代化程度的标志
- C. 已成为我国经济发展的一个新的增长点
- D. 已成为我国国民经济的基础

(3) 旅游业成为井冈山的支柱产业,这对革命老区发展经济有什么启示?

单元整合

梳理与整合



印度洋海啸冲击旅游经济

2004年12月26日发生的印度洋海啸导致了巨大的人员伤亡(约30万人)和经济损失(据全球最大的保险商慕尼黑再保险公司估计,此次海啸的损失将超过136亿美元)。

对许多受灾的国家来说,旅游业在此次海啸中遭受的打击最大,泰国、斯里兰卡和马尔代夫尤为如此,这些国家的经济基础非常薄弱,微薄的外汇收入几乎完全依赖旅游业。12月和1月正是南亚和东南亚国家的旅游旺季,根据世界旅游协会的数据,东南亚地区有1900万人从事与旅游相关的行业,而位于印度洋中心的岛国马尔代夫,有 $\frac{2}{3}$ 的人口依赖旅游业。除了旅游之外,这些国家的捕鱼、农业和其他商业活动也都受到了严重的打击。

这场海啸除了导致斯里兰卡上万人死亡、上百万人流离失所以外,还造成大量公路、桥梁和建筑物坍塌,首都科伦坡通往各个工业城市的交通网络已经陷入瘫痪。这场灾难可能使斯里兰卡的经济倒退一年。

斯里兰卡的旅游业是该国近年来增长幅度最大的产业。2003年到斯里兰卡旅游的人数为50多万人,创下历史新高。斯里兰卡政府对旅游业的发展寄予厚望,期待到2010年将入境旅游人数翻一番,但突然发生的天灾对政府推动旅游业的努力无疑是一个沉重的打击。

在泰国,专家估计海啸带来的经济损失超过100亿泰铢,旅游业受害最深。

旅游业是泰国经济的重要支柱之一。去年SARS爆发之后,加上泰国南部一些穆斯林地区发生骚乱,泰国旅游业一度下跌了7.4%,至今尚未完全恢复元气。泰国南部6省受海啸影响最为严重,这6个省是泰国的旅游胜地,好几个世界闻名的海滩都在这一地区。此次海啸中,该地区的旅游设施、酒店、海滩等遭到了严重损毁。

专家认为,此次海啸对泰国旅游业的冲击只是暂时的,其造成的负面影响不会比SARS严重。在两三个月后,泰国旅游业将恢复正常。

马尔代夫这个由珊瑚礁组成的岛国绝大部分领土海拔不到一米,此次可谓遭受了灭顶之灾,首都马累面积的 $\frac{2}{3}$ 已经被海水淹没,首都的国际机场已经关闭。马尔代夫的约200个岛屿中,很多岛屿已经失去通讯联系。

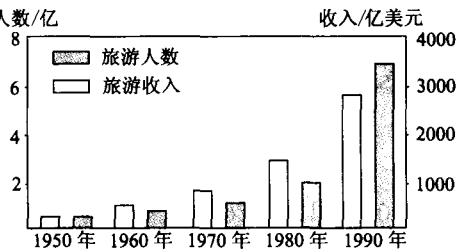
检测与反馈

一、选择题

读“国际旅游人数及收入的增长图”,据此回答1~3题。

1. 图中反映现代旅游的特点是 () 人数/亿

- A. 旅游主体的大众化
- B. 旅游空间的扩大化
- C. 旅游形式的多样化
- D. 旅游目的的娱乐化



2. 现代旅游与近代旅游的区别,表现在 ()

- ① 有旅行社
- ② 产业结构完善
- ③ 是一种消费形式
- ④ 规模、范围、普及程度扩大

- A. ①②③
- B. ②③④
- C. ③④
- D. ②④

3. 图中反映的旅游活动的作用是 ()

- A. 增加国家的外汇收入
- B. 回笼货币, 稳定市场
- C. 带动相关产业的发展
- D. 扩大就业机会

4. “旅游空间的扩大化”主要是由于 ()

- A. 旅游资源的价值不断提高
- B. 人类文化素质的不断提高
- C. 交通运输业的不断发展
- D. 新的风景点不断发现

5. 既是旅游发展的一大原动力, 又是现代旅游的一大特点的是 ()

- A. 旅游形式的多样化
- B. 旅游活动成为普通大众的消费行为
- C. 旅游是为了锻炼身体
- D. 旅游目的的娱乐、消遣性

6. 就连冰天雪地、人迹罕至的南极洲也留下了旅游者的足迹, 这种旅游现象说明 ()

- A. 旅游主体的大众化
- B. 旅游空间的扩大化
- C. 旅游形式的多样化
- D. 旅游目的的娱乐化

7. 有关旅游活动发展的叙述, 正确的是 ()

- A. 在古代社会, 常有许多人出游
- B. 产业革命后, 旅游活动的消费数量和普及程度大大提高, 旅游服务逐渐商业化
- C. 自 20 世纪初开始, 旅游活动以前所未有的速度发展
- D. 旅游主体的大众化, 是近代旅游活动的特点之一

8. 南非富翁蒂托太空游美梦成真, 最能说明 ()

- A. 旅游主体的大众化
- B. 旅游空间的扩大化
- C. 旅游形式的多样化
- D. 旅游目的的娱乐化

9. 下列最适合夏令营旅游活动的是 ()

- A. 观光旅游
- B. 探险旅游
- C. 猎奇旅游
- D. 科技旅游

10. 有关旅游活动发展的叙述, 正确的是 ()