


高中学业水平达标与测试·历史

《高中学业水平达标与测试》编写组编



吉林人民出版社



金钥匙系列

历史

高中学业水平达标与测试

《高中学业水平达标与测试》编写组 编

吉林人民出版社

图书在版编目(CIP)数据

高中学业水平达标与测试. 历史 / 《高中学业水平达标与测试》编写组编.

长春:吉林人民出版社,2014.7

ISBN 978-7-206-10818-1

I. ①高…

II. ①高…

III. ①中学历史课-高中-教学参考资料

IV. ①G634

中国版本图书馆 CIP 数据核字(2014)第 148759 号

高中学业水平达标与测试·历史

编 者:《高中学业水平达标与测试》编写组

责任编辑:杨九屹 张文君 封面设计:许欢

咨询电话:0431-85378017

吉林人民出版社发行(长春市人民大街 7548 号 邮政编码:130022)

印 刷:金华市金东彩印厂

开 本:787mm×1092mm 1/8

印 张:14.25 字 数:135 千字

标准书号:ISBN 978-7-206-10818-1

版 次:2014 年 11 月第 1 版 印 次:2014 年 11 月第 1 次印刷

定 价:35.80 元

如发现印装质量问题,影响阅读,请与出版社联系调换。

目 录

条目解析

(另外装订成册)

模块练习

高中学业水平达标与测试历史模块(一)	1
高中学业水平达标与测试历史模块(二)	9
高中学业水平达标与测试历史模块(三)	17
高中学业水平达标与测试历史模块(四)	25
高中学业水平达标与测试历史模块(五)	33
高中学业水平达标与测试历史模块(六)	41
高中学业水平达标与测试历史模块(七)	49
高中学业水平达标与测试历史模块(八)	57
高中学业水平达标与测试历史模块(九)	65
高中学业水平达标与测试历史模块(十)	73

模拟达标

高中学业水平达标与测试历史模拟卷(一)	81
高中学业水平达标与测试历史模拟卷(二)	89
高中学业水平达标与测试历史模拟卷(三)	97
高中学业水平达标与测试历史模拟卷(四)	105
高中学业水平达标与测试历史模拟卷(五)	113
高中学业水平达标与测试历史模拟卷(六)	121
2014年1月浙江省普通高中历史学业水平考试	129
2014年7月浙江省普通高中历史学业水平考试	137

高中学业水平达标与测试历史模块(一)

第一册专题一 古代中国的政治制度

专题二 近代中国维护国家主权的斗争

班级_____ 姓名_____ 学号_____

一、选择题(本大题有 35 小题,每题 2 分,共 70 分。每题所列的四个选项中只有一个选项是符合题目要求的)

1. 2012 年 4 月 4 日,第 23 届中国洪洞大槐树文化节寻根祭祖大典在山西洪洞隆重举行,这种现象深受中国古代宗法制的影
响。回顾历史,下列对西周宗法制的说法,不正确的是 ()

- A. 分封制是宗法制在政治制度方面的体现
B. 嫡长子的大宗地位是绝对的
C. 用规定宗族内嫡庶系统的办法建立起森严的等级制度
D. 有利于统治集团内部的稳定和团结



2. 浙江省浦江县的“郑氏义门”,自南宋开始同居共食,鼎盛时三千多人同吃一锅饭。其孝义家风多次受到朝廷旌表,明太祖朱元璋亲赐“江南第一家”。出现这一现象的根源是 ()

- A. 郡县制 B. 分封制 C. 君主专制 D. 宗法制

3. 武王追思先圣王,乃褒封神农之后于焦,黄帝之后于祝,帝尧之后于蓟,帝舜之后于陈,大禹之后于杞。于是封功臣谋士,而师尚父为首封,封尚父于营丘,曰齐;封弟周公旦于曲阜,曰鲁;封召公奭于燕;封弟叔鲜于管;弟叔度于蔡。余各以次受封。上述史料反映的是 ()

- A. 分封制 B. 世袭制
C. 禅让制 D. 嫡长子继承制

4. 西周分封制在中国历史上影响深远。下列省、自治区中,其简称源自西周封国国名的是 ()

- A. 河南、河北 B. 湖南、湖北
C. 山东、山西 D. 广东、广西

5. 下列关于右图的理解不正确的是 ()

- A. “立嫡以长不以贤,立子以贵不以长”
B. 是将血缘纽带同政治关系结合的一种措施
C. 有利于统治集团内部的稳定
D. 有利于社会的公平公正,保证了社会性质的平稳转型



6. 据《史记·平津侯主父列传》载:“元元黎民得免于战国,逢明天子,人人自以为更生。”此段文字表明司马迁认为秦统一的意义是 ()

- A. 使人民脱离了诸侯国的统治
B. 为我国长期统一奠定了基础
C. 建立了统一的多民族国家
D. 使人民有了生产的安定环境,符合人民的愿望

7. “六合之内,皇帝之土;乃今皇帝,一家天下。”这则纪功石刻说的是 ()

-
- A. 周天子分封天下
B. 秦始皇统一六国
C. 汉武帝开拓疆土
D. 忽必烈一定乾元
8. “陛下”本是对他人的尊称。“陛”是台阶,称人“陛下”表示谦卑,意思是不敢直接靠近你,只能站在台阶下和你说话。但秦以后“陛下”一词只能专称皇帝。这体现了皇帝制度的哪一特点 ()
- A. 皇位世袭
B. 皇帝独尊
C. 君权神授
D. 家天下
9. 推行郡县制有利于巩固秦的统一,是因为这一制度 ()
- A. 促进了封建经济的发展
B. 提高了政令施行的效率
C. 便于加强中央对地方的直接管辖
D. 消除了地方割据势力的形成
10. “天地之间有杆秤,那秤砣就是老百姓……”清代宫廷戏《宰相刘罗锅》曾和它的这首主题歌一样风靡一时。但该剧的片名却犯了历史学上的一个常识性错误。根据你掌握的历史知识,你认为它所犯的错误应是 ()
- A. “罗锅”一词有辱刘墉人格
B. 片名与剧情名实不符
C. “宰相”称谓违背历史真实
D. 作品中的宰相不止刘墉一人
11. 唐代三省六部制进一步完善了自秦以来的专制主义中央集权制度,其完善的含义是 ()
- A. 中央机构设置的增加
B. 地方权力的进一步分散
C. 皇权的进一步加强
D. 中央各部门权力得以相互制约
12. 汉武帝为加强对地方官的监察、控制而采取的措施是 ()
- A. 实行察举制
B. 设置刺史
C. 取消封国
D. 创设御史大夫
13. 秦汉时期丞相一职由一人担当,到隋唐时期三省的长官都是丞相,到了宋代相当于丞相的官职就更多了。这一现象反映的实质问题是 ()
- A. 专制皇权不断加强
B. 封建中央政府民主政治得到不断发展
C. 丞相权力不断分散
D. 中央对于地方政府控制的日益严密
14. 关于元朝的行省制度的叙述最为恰当的是 ()
- ①有效地加强了对辽阔疆域的管理 ②进一步加强了对边疆地区的管辖 ③促进了中央集权制度的完善 ④有利于巩固多民族国家的统一
- A. ①②③
B. ①③④
C. ②③④
D. ①②③④
15. 据史料记载,从明太祖洪武十七年九月十四日至二十一日的八天内,内外诸司送到皇宫的奏章多达 1460 件。在这样的背景下,为有效处理政务,后来明成祖朱棣采取的措施是 ()
- A. 设立中朝
B. 设立丞相
C. 设立内阁
D. 设立军机处

16. 军机处的设置,标志着我国君主专制主义中央集权达到顶峰。设立军机处的是 ()




- A. 明太祖 B. 明成祖 C. 清雍正帝 D. 清乾隆帝

17. 在封建社会,皇帝与丞相之间容易产生矛盾。从汉至元,历代皇帝曾经采取过的限制相权的措施包括 ()

- ①秦朝时期御史大夫兼理监察事务 ②唐朝的三省长官同为宰相,使之相互牵制
③北宋增设“参知政事”为副相,分割宰相的行政权 ④元朝设置宣政院,分割宰相的军权
- A. ①② B. ②③ C. ③④ D. ①③

18. 右面漫画所提供的信息,主要揭示了《南京条约》的签订 ()



- A. 是英国为打开中国市场而签订的
B. 是英国侵略中国的不平等条约
C. 清政府是一个卖国求荣的政权
D. 使中国社会开始沦为半殖民地社会

19. 《南京条约》被迫开放的通商口岸,主要在 ()

- A. 长江口南北诸省沿海地区 B. 长江两岸地区
C. 长江口以北沿海地区 D. 长江口以南沿海地区

20. 当台湾被日本割占的时候,浙江又有一座城市被迫开放,这座城市是 ()

- A. 杭州 B. 温州 C. 宁波 D. 苏州

21. 英国发动鸦片战争的主要目的是 ()

- A. 保护鸦片贸易 B. 割占中国领土
C. 打开中国商品市场 D. 争取外交礼仪平等

22. 中国近代史以鸦片战争为开端主要是因为 ()

- A. 中国第一次被西方国家战败
B. 长期闭关锁国状况被打破
C. 社会性质开始发生根本变化
D. 民族矛盾取代了阶级矛盾

23. 下表反映了侵华战争的相关史实,表示完全正确的是 ()

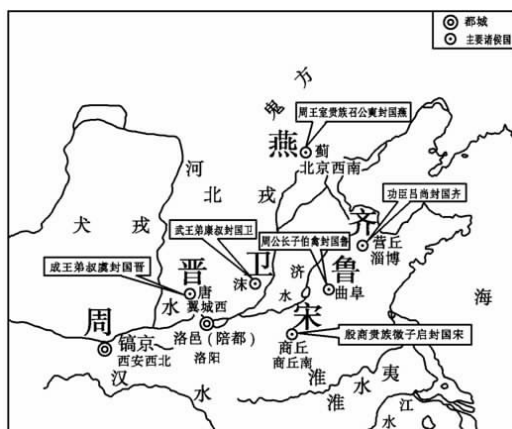
	战争名称	时间	战争影响
A	鸦片战争	1840—1842年	英法两国强迫清政府签订了《南京条约》
B	第二次鸦片战争	1856—1860年	圆明园遭到破坏
C	甲午中日战争	1894—1895年	清政府被迫开发上海、苏州等地商埠
D	八国联军侵华战争	1900—1901年	列强开始在通商口岸开设工厂

24. 《马关条约》中最能体现外国资本主义对中国侵略进入新阶段的是 ()
- A. 增开通商口岸
 - B. 赔款白银二亿两
 - C. 割台湾等地给日本
 - D. 允许日本在通商口岸设立工厂
25. 一位学者在他的著作里说:在 20 世纪的大幕拉开的时候,当时的世界大国们在东方进行了一次很不光彩的集体亮相。这一“集体亮相”带来的严重后果是 ()
- A. 打开了中国闭关锁国的大门
 - B. 设厂开矿、修建铁路
 - C. 中国完全沦为半殖民地半封建社会
 - D. 列强共同宰割中国
26. 《辛丑条约》作为中国半殖民地半封建社会统治秩序完全确立的标志,主要是因为该条约的签订导致 ()
- A. 清政府完全成为列强统治中国的工具
 - B. 清政府在军事上完全受制于帝国主义
 - C. 清政府在财政上完全受制于帝国主义
 - D. 形成帝国主义共同支配中国的局面
27. “我们正处在中国有史以来最大转变关头……第一次全民族一心一意地在血泊和瓦砾场中奋争,以创造一个赫然在望的新时代。”材料反映的事件是 ()
- A. 鸦片战争
 - B. 甲午中日战争
 - C. 抗日战争
 - D. 全面内战
28. 1935 年 12 月,中共中央在陕北召开瓦窑堡会议 ()
- A. 决定组建东北抗日联军
 - B. 号召停止内战,一致抗日
 - C. 确定了建立抗日民族统一战线的方针
 - D. 号召工农红军和人民进行民族革命战争
29. 《大刀进行曲》如此唱道:“大刀向鬼子们的头上砍去! 全国武装的弟兄们! 抗战的一天来到了,抗战的一天来到了!”“促使”全国武装的弟兄们! 抗战的一天来到了”的事件是 ()
- A. 九一八事变
 - B. 七七事变
 - C. 华北事变
 - D. 八一三事变
30. “中国为日本无止境之侵略所逼迫,兹已不得不实行自卫,抵抗暴力。”国民政府的上述宣言发表于哪一事件发生不久 ()
- A. 九一八事变
 - B. 七七事变
 - C. 一·二八事变
 - D. 八一三事变
31. 1938 年 4 月 9 日伦敦路透社电讯:“英军事当局,对于中国津浦(天津—南京浦口)线之战局极为注意。最初中国军队获胜之消息传来,各方面尚不十分相信,但现已证明日军溃败之讯确为事实……英人心理,渐渐转变,都认为最后胜利当属于中国。”上述报导是对下列哪一战役发表的评论 ()
- A. 淞沪会战
 - B. 平型关大捷
 - C. 台儿庄战役
 - D. 百团大战

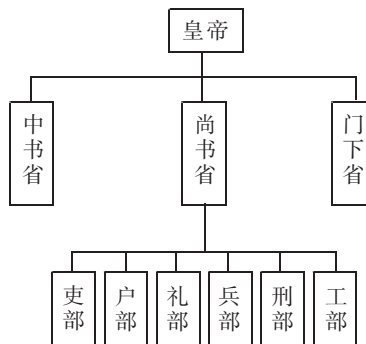
32. 以国共合作为基础的抗日民族统一战线正式建立的标志是 ()
- A. 西安事变的和平解决
B. 国民政府发表自卫宣言
C. 中国工农红军改编为八路军、新四军
D. 国民党公布中共中央提交的国共合作宣言
33. 1936年12月13日,《西北文化日报》报道了一则消息:“争取中华民族生存,张杨昨发动对蒋兵谏。”其反映的事件是 ()
- A. 北伐战争 B. 西安事变 C. 重庆谈判 D. 渡江战役
34. 抗战进入相持阶段,大大提高了共产党和八路军威望,坚定了全国人民抗战胜利信心的战役是 ()
- A. 平型关战役 B. 台儿庄战役 C. 百团大战 D. 枣宜会战
35. 有学者认为“抗日战争是中国确立大国地位的起点”。主要是因为抗日战争 ()
- A. 实现了中华民族的独立
B. 加速了近代民主革命的进程
C. 壮大了社会主义力量
D. 对世界反法西斯战争贡献巨大

二、非选择题(本大题有2小题,第36、37题各15分,共30分)

36. 在几千年的人类文明史上,社会政治制度经历了不断演变的过程。下图反映的是不同历史时期的政治文明成果材料,观察图片,回答问题。



图一



图二

- (1)将两幅图所示政治文明成果填入下表中适当的位置。(4分)

图片	图一	图二
国家(朝代)		
政治文明成果		



(2)图一所示的诸侯有几类？所示政治制度在当时产生了怎样的影响？（5分）

(3)结合所学知识说出图二中的制度有何特点？（2分）

.....

(4)某探究小组欲对中国古代创立的政治制度进行探究,请你为其提供四种获取相关探究资料的方法。(4分)


37. 阅读材料,回答下列问题:

材料一:新华社东京 2001 年 5 月 17 日电:东京文部科学省 16 日公布包括右翼势力“新历史教科书编撰会”炮制的、歪曲历史的初中历史教科书审定合格,引起亚洲各国及世界人民的极大愤怒。日本右翼势力把“战败”改为“终战”,把“侵略”改为“进入”,把太平洋战争说成“自卫”,把侵略亚洲国家说成是“解放”英法殖民地等。

材料二:经历了一百多年的磨难与抗争,中华民族终于走上了复兴之路,“落后就要挨打”“发展是硬道理”是历史留给我们的深刻启示。最后,中国共产党第十六次代表大会报告明确提出:“坚持国防建设与经济建设协调发展的方针,在经济发展的基础上推进国防和军队现代化。”

请回答:

(1)列举近代以来列强主要的侵华战争(举 4 例)以及迫使我国签订的不平等条约(举 3 例)。(7分)



(2)列举日本在侵华过程中制造的主要暴行。(举 2 例)(4 分)

(3)结合所学知识,分析甲午战争和抗日战争中国一败一胜的根本原因。(4 分)

高中学业水平达标与测试历史模块(二)

第一册专题三 近代中国的民主革命

专题四 现代中国的政治建设与祖国的统一

班级_____ 姓名_____ 学号_____

一、选择题(本大题有 35 小题,每题 2 分,共 70 分。每题所列的四个选项中只有一个选项是符合题目要求的)

- 中国同盟会成立的地点是 ()
A. 檀香山 B. 长沙 C. 上海 D. 东京
- 口号和标语往往具有一定的政治背景。1911 年 10 月武昌起义胜利,下列标语、口号最有可能出现在武汉街头的是 ()
A. 热烈祝贺孙中山先生就任军政府都督
B. 中华民国临时政府万岁
C. 热烈庆祝湖北军政府诞生
D. 满清已经灭亡,汉人从此翻身
- 右图是辛亥革命胜利后,国人创作的一幅名为《恭祝中华民国万岁》的宣传漫画。“国”字的传统写法是“國”,但在图中却写为“圆”。作者通过这个创意要表达的思想观念是 ()
A. 三权分立 B. 民族独立
C. 主权在民 D. 民生主义
- “过去专制主义是正统,神圣不可侵犯……现在民主主义成了正统,同样取得了神圣不可侵犯的地位,侵犯了这种神圣……为人民所抛弃是没有疑问的。”引发这种变化的历史事件是 ()
A. 维新变法 B. 辛亥革命 C. 新文化运动 D. 五四运动
- 辛亥革命是近代中国的重大事件之一,下列对辛亥革命的评价,不正确的是 ()
A. 彻底结束了封建专制制度
B. 沉重打击了帝国主义在中国的统治
C. 为民族资本主义发展创造了有利条件
D. 使民主共和的观念深入人心
- 1912 年成立的中华民国南京临时政府被称为亚洲第一个“美国式”的共和国政府,主要是因为它 ()
A. 实行三权分立的政治体制 B. 是在美国支持下建立的
C. 废除了封建君主专制统治 D. 通过资产阶级革命建立的
- “人间处处倡民主,天上谁人奉玉皇。一朵红云旗五色,惊传飞艇上天堂。”这一情景最早可能出现于 ()
A. 戊戌维新时期 B. 辛亥革命时期
C. 新文化运动时期 D. 抗日战争时期
- 最能完整地体现右图所反映的历史事件的性质的口号是 ()



- A. “废除二十一条”
 B. “拒绝在和约上签字”
 C. “还我青岛”
 D. “外争国权,内惩国贼”



9. 五四运动取得了初步的胜利,其成果不包括 ()

- A. 北京政府罢免了三个卖国贼的职务
 B. 中国代表拒绝在和约上签字
 C. 收回了山东的主权
 D. 北洋军阀被迫释放了被捕的学生

10. 在 20 世纪第二个十年间,堪称中国历史转折之里程碑的是 ()

- A. 武昌起义、中华民国成立
 B. 《新青年》创办、武昌起义
 C. 五四运动、《新青年》创办
 D. 中华民国成立、五四运动

11. 右表反映了中国近现代史四个不同时期阶段特征的主题词,其中 1921—1935 年处应该填写 ()

- A. 五四风雷,抗日烽火
 B. 开天辟地,渐趋成熟
 C. 国共对峙,走向抗战
 D. 星星之火,力挽狂澜

1894—1912:推翻帝制,走向共和
1921—1935:
1949—1956:民族独立,获得新生
1978—2001:改革开放,坚定不移

12. 中国共产党为工人和贫农的目前利益……奋斗目标是:(一)消除内乱,打倒军阀,建设国内和平;(二)推翻国际帝国主义的压迫,达到中华民族完全独立;(三)统一中国本部(东三省在内)为真正民主共和国;……此奋斗目标是在哪次会议中制定的 ()

- A. 中共一大
 B. 中共二大
 C. 遵义会议
 D. 瓦窑堡会议

13. 1927 年,蒋介石、汪精卫先后背叛革命,导致革命统一战线破裂,国民大革命失败。它给中国共产党留下的最为深刻的教训是 ()

- A. 没有将马克思主义与工人运动相结合
 B. 没有发动广大农民参加革命
 C. 没有坚持工人阶级对于革命、尤其是革命武装的领导权
 D. 没有制订反帝反封建的民主革命纲领

14. 在 20 世纪上半叶的革命实践中,中国共产党人走出了一条属于自己的独特道路,这条道路是 ()

- A. 采取暴力革命
 B. 领导工人运动
 C. 农村包围城市
 D. 国共两党合作


15. “万里征途路不平,‘左倾’错误总横行。□□□□端航向,确立毛公统率兵。”与诗中空格部分相关的历史事件应是 ()

- A. 南昌起义
 B. 八七会议
 C. 遵义会议
 D. 中共七大

16. 诗言志,史铸诗。诗人毛泽东以其气势磅礴的诗篇反映了中国革命的峥嵘岁月。下列诗句所反映的历史按先后顺序排列正确的是 ()


- ①浴血冬瓜守,驱倭棠吉归
 ②金沙水拍云崖暖,大渡桥横铁索寒
 ③秋收时节暮云愁,霹雳一声暴动
 ④宜将剩勇追穷寇,不可沽名学霸王
- A. ④①②③
 B. ②①④③
 C. ①②③④
 D. ③②①④

17. 1948年秋,山东农民唐和恩率领他的支前小车队,冒风雪,忍饥寒,跋山涉水,日夜奔行。他还用心地在随身携带的竹棍上刻下了他之前经过的每一个地方(见右图)。据其行程路线判断,他支援了 ()



水沟头—平度—临淄—
蒙阴—临沂—徐州—
萧县—宿县—濉溪口

- A. 辽沈战役 B. 平津战役
C. 淮海战役 D. 渡江战役
18. 周恩来曾说过:“新民主主义革命的历程就是从天安门走向天安门。”前一个天安门是指五四运动,那么,后一个是指 ()
- A. 开国大典 B. 1949年政协会议
C. 民族区域自治制度 D. 民主集中制度
19. 1954年《中华人民共和国宪法》所体现的两大原则是 ()
- ①人民民主 ②民主集中 ③社会主义 ④民主协商
- A. ①③ B. ②④ C. ②③ D. ①④
20. 某导演欲筹拍一部电视政论片《建国初期的政治建设》,下列题材可以入选该片的有 ()
- ①中国历史新纪元——开国大典 ②第一届全国人大召开——人民代表大会制度确立
③“长期共存,互相监督”——多党合作和政治协商制度发展的新阶段
④1954年宪法——民族区域自治制度正式确立
- A. ①②③④ B. ①②③ C. ②③④ D. ①③④
21. 20世纪中叶,毛泽东向全世界庄严宣告,中国人民从此站起来了。下列各项中与这一结论相符的是 ()
- A. 抗战胜利洗雪百年耻辱 B. 半殖民地半封建社会结束
C. 抗美援朝取得胜利 D. 社会主义改造基本完成
22. 观察图片,下列按图片顺序对应的信息,不准确的一组是 ()



- A. 颁布于1912年、1949年、1954年
B. 由南京临时政府参议院、新政协、全国人大制定
C. 体现资产阶级民主宪法、新中国临时宪法、社会主义类型宪法性质
D. 从法律上宣告封建制度的灭亡、新民主主义革命胜利、新中国初期的政治建设成就
23. 1954年第一届全国人民代表大会召开,我国人民民主进入全新阶段。据此我国建立了 ()
- A. 政治协商制度 B. 民族区域自治制度
C. 人民代表大会制度 D. 党的民主集中制度

24. 1950年6月,毛泽东在党的七届三中全会上说:“光靠我们党是治不好天下的。”建国后能体现中国共产党上述思想的制度是 ()
- A. 人民代表大会制度 B. 政治协商制度
C. 民族区域自治制度 D. 民主集中制度
25. “8月18日,上百万名来自各地的红卫兵们在天安门广场见到了他们‘日夜思念的毛主席’。第二天,近30万红卫兵冲向北京的各个角落,‘破四旧’行动很快波及全国。”材料所述的情景应当发生于20世纪 ()
- A. 50年代初期 B. 50年代后期 C. 60年代中期 D. 70年代中期
26. 冯骥才在《关于“文化大革命”博物馆》一文中写道:“一代人经受的惨痛教训,是下一代人的精神财富。”这里所说的“教训”主要是指 ()
- A. 要依据生产力水平及时调整生产关系 B. 要遵循客观经济规律
C. 要注重民主与法制建设 D. 要建设社会主义市场经济
27. 新中国的民主建设并不是一帆风顺的,期间经历了很大的挫折,新中国民主政治建设最大的挫折是 ()
- A. “反右派斗争”扩大化 B. “大跃进”运动
C. 人民公社化运动 D. “文化大革命”
28. “……我们讲着春天的故事,改革开放富起来……”说的是新时期取得的伟大成就,“改革开放”的决策出现于 ()
- A. 中共八大 B. 中共十一届三中全会
C. 中共十二大 D. 中共十四大
29. 社会主义初级阶段基本路线的思想是在十一届三中全会上开始形成的,因为这次会议 ()
- A. 确定了解放思想、实事求是的思想路线
B. 停止了“以阶级斗争为纲”的错误方针
C. 作出了全党工作重心转移到经济建设上和实行改革开放的决策
D. 审查和解决了一批重大冤假错案
30. 2013年7月1日是香港回归16周年,为纪念这一伟大日子,学校团委举行了一次大型宣传活动,一共四个专题——“伟大理论”“艰辛历程”“伟大时刻”“辉煌成就”。在“伟大理论”中最有可能出现 ()
- A. 多党合作和政治协商制度 B. 民族区域自治制度
C. 和平共处五项原则 D. “一国两制”的构想
31. 邓小平同志曾经说“我们不再用解放台湾这个提法了,只要台湾回归祖国,我们将尊重那里的现实和现行制度”。这表明中国政府解决台湾问题的基本构想是 ()
- A. 武力统一 B. 一国两制
C. 一中一台 D. 一边一国
32. 1990年全国人大通过了《中华人民共和国香港特别行政区基本法》,为实现香港顺利回归奠定了基础。该法中所蕴含的原则有 ()
- ①一国两制 ②港人治港 ③高度自治 ④社会主义
- A. ①②③④ B. ①②③ C. ②③④ D. ②③

33. 实现祖国的完全统一是海内外中华儿女的共同心愿。下列事件按时间先后顺序排列正确的是 ()

- ①香港回归祖国 ②澳门回归祖国 ③“九二共识”的达成 ④“一国两制”构想的提出
A. ①②③④ B. ③④②① C. ④③①② D. ②③④①

34. 1992年10月,大陆海峡两岸关系协会与台湾海峡交流基金会达成了“九二共识”,这里的“共识”主要是指 ()

- A. 海峡两岸均坚持一个中国原则
B. 海峡两岸实现“三通”
C. 反对国际反华势力和“台独”分子
D. 进一步扩大两岸交流与合作

35. 当前,阻碍台湾与大陆和平统一进程的主要因素有 ()

- ①台湾内部分裂倾向的发展 ②某些外国势力的干涉 ③社会主义与资本主义制度的激烈对抗 ④台湾大多数人的统一意识较差
A. ①② B. ②③ C. ①④ D. ③④

二、非选择题(本大题有2小题,第36题16分,第37题14分,共30分)

36. 南京见证了风云变幻的中国近代史,今天,南京已成为著名的旅游胜地。阅读下列有关南京的材料,根据要求回答问题:


材料一:1997年7月1日,位于南京下关的静海寺内安放起一尊大铜钟。钟的主体高1.842米,……四周铸上许多“回”形图案……现在,每天前来参观的人络绎不绝……每年8月29日,社会各界人士都要组织一次盛大的撞钟仪式,重温历史,警钟长鸣。静海寺因为浓缩着中国近代厚重历史而成为南京这个历史文化名城的重要一景。

——《光明日报》

材料二:



图示:中山陵



图示:大总统誓词

材料三:毛泽东(1949年4月)

钟山风雨起苍黄,百万雄师过大江。
虎踞龙盘今胜昔,天翻地覆慨而慷。
宜将剩勇追穷寇,不可沽名学霸王。
天若有情天亦老,人间正道是沧桑。

