

口算速算 小达人

★二年级第一学期★

丛书主编★吴庆芳 本册主编★涂念



配套教材，课时同步
题型丰富，训练有效
科学设计，合理布局
功能全面，一书多用



MA3



上海交通大学出版社
SHANGHAI JIAO TONG UNIVERSITY PRESS



读交大之星
圆名校之梦



新华传媒
XINHUA MEDIA

口算速算小达人

★二年级第一学期★

丛书主编 吴庆芳

本册主编 涂 念

编 委 李 铭 张祖秀 胡翠芳 刘 姿 张祖杏
顿中英 阎义长 吴 菊 沈 俊 于增光
李华琼 王新发 喻祖亮 吴 琼



上海交通大学出版社
SHANGHAI JIAO TONG UNIVERSITY PRESS

内容提要

本书依据上海市小学数学教材安排各年级内容、设计知识与技能的训练单元和练习内容。全书分为四个部分，口算速算小达人同步课时练习、口算速算小达人单元测试、口算速算小达人竞赛测试卷以及参考答案。以口算速算题为主，兼顾其他题型；以训练为主，兼顾知识与技法的点拨。本书题型丰富，包括纯等式题、列竖式题、解决问题题、图表题等；内容全面，除了口算速算题，还包括心算题、巧算题、简算题、估算题、口算速算类奥数题等；图文并茂，版式活跃，有创意地设计各次栏目和内容的编排形式。

图书在版编目(CIP)数据

口算速算小达人. 二年级. 第一学期 / 涂念主编. — 上海: 上海交通大学出版社, 2015
(交大之星)
ISBN 978-7-313-12852-2

I. ①口… II. ①涂… III. ①速算-小学-习题集 IV. ①G624.565

中国版本图书馆 CIP 数据核字 (2015) 第 073563 号

口算速算小达人

二年级第一学期

主 编: 涂 念

出版发行: 上海交通大学出版社

地 址: 上海市番禺路 951 号

邮政编码: 200030

电 话: 021-64071208

出 版 人: 韩建民

印 制: 常熟市文化印刷有限公司

经 销: 全国新华书店

开 本: 787mm×1092mm 1/16

印 张: 7.5

字 数: 147 千字

版 次: 2015 年 6 月第 1 版

印 次: 2015 年 6 月第 1 次印刷

书 号: ISBN 978-7-313-12852-2/G

定 价: 25.00 元

版权所有 侵权必究

告读者: 如发现本书有印装质量问题请与印刷厂质量科联系

联系电话: 0512-52219025



为了加强同学们的口算与速算能力，我们依据上海市小学数学教材编写了《口算速算小达人》丛书，本书具有如下特点：

1. 内容与教材同步。

《口算速算小达人》每学期一册，与上海市小学数学教材同步配套，按课时编写。本书严格依据教材内容，针对教学重点、难点、易错易混点精心设计口算和速算练习题，能帮助同学们达到巩固、强化和拓展提升的目的。

2. 题型丰富，训练有效。

我们根据最新修订版《上海市中小学数学课程标准》和上海版数学教材中有关口算速算的教学要求，充分分析口算速算与笔算、数学思维和数学应用的关系，针对不同年级的学生特点，精心设计了灵活多变、丰富多彩的训练题。

3. 科学设计，合理布局的板块训练模式。

《口算速算小达人》同步课时练习分为三大板块，左栏是“口算复习导入”和“口算巩固提升”；右栏是不同形式的口算速算练习题；底栏是“温馨提示”或“挑战奥数”。“口算复习导入”是与新授课知识相关联的旧知识的口算练习，起到复习旧知识、导入新知识的作用，为学生的新课口算练习奠定基础。“口算巩固提升”是新授课知识的口算练习，以巩固学生对新知识的掌握，提高学生口算的速度和准确率。右栏为多种口算速算题的训练，包括巧算、估算等纯等式口算速算题，口算速算填表题，竖式口算速算题，含图口算速算题，口算速算性质的解决问题题等。“挑战奥数”部分收录了与本课时或者小节内容吻合的、具有口算速算性质的奥数题，学生能通过对这类题的练习拓展思维空间，

掌握更多更有效的思维方法。“温馨提示”一般为概念、算理、易错点、易混点等简单提示，针对性强，对学生的口算速算起到提示、指导的作用。这样科学设计、合理布局的板块训练模式，能大大提升练习的实用性、高效性，更有效地实现训练目的。

4. 功能全面，一书多用。

本书内容和题型都是严格按照口算速算目标与课程目标设计的，是一套不可多得的口算速算训练书。另外，本书还包含同步练习、单元测试、竞赛测试，既可以当作学生数学学习中的同步练习册，还可以作为家长检测学生学习效果的工具书，亦可以供班级同学竞赛使用。

我们相信，每一位使用本书的同学都会成为“口算速算小达人”！都会成为数学学习的佼佼者！

吴庆芳



第一单元 复习与提高

练习1 两位数加减法的复习(1)·····001	练习9 5的乘法(3)·····022
练习2 两位数加减法的复习(2)·····002	练习10 5的乘法(4)·····023
练习3 两位数加减法的复习(3)·····003	练习11 2的乘法(1)·····024
练习4 两位数加减法的复习(4)·····004	练习12 2的乘法(2)·····025
练习5 加与减(1)·····005	练习13 2的乘法(3)·····026
练习6 加与减(2)·····006	练习14 2的乘法(4)·····027
练习7 巧算(1)·····007	练习15 4的乘法(1)·····028
练习8 巧算(2)·····008	练习16 4的乘法(2)·····029
练习9 巧算(3)·····009	练习17 4的乘法(3)·····030
练习10 方框里填几(1)·····010	练习18 4的乘法(4)·····031
练习11 方框里填几(2)·····011	练习19 8的乘法(1)·····032
练习12 方框里填几(3)·····012	练习20 8的乘法(2)·····033
第一单元 口算速算测试卷·····013	练习21 8的乘法(3)·····034
	练习22 8的乘法(4)·····035
	练习23 2、4、8的乘法之间的关系(1) ·····036

第二单元 乘法、除法(一)

练习1 乘法引入·····014	练习24 2、4、8的乘法之间的关系(2) ·····037
练习2 看图写乘法算式·····015	练习25 分一分与除法(1)·····038
练习3 倍·····016	练习26 分一分与除法(2)·····039
练习4 10的乘法(1)·····017	练习27 用乘法口诀求商(1)·····040
练习5 10的乘法(2)·····018	练习28 用乘法口诀求商(2)·····041
练习6 10的乘法(3)·····019	练习29 用乘法口诀求商(3)·····042
练习7 5的乘法(1)·····020	练习30 用乘法口诀求商(4)·····043
练习8 5的乘法(2)·····021	练习31 几倍(1)·····044

练习32 几倍(2)	045
练习33 被除数为0的除法	046
练习34 小练习(一)	047
第二单元 口算速算测试卷	048

第三单元 统计

练习1 统计表初步	049
练习2 条形统计图(一)	050
第三单元 口算速算测试卷	051

第四单元 乘法、除法(二)

练习1 7的乘、除法(1)	052
练习2 7的乘、除法(2)	053
练习3 7的乘、除法(3)	054
练习4 7的乘、除法(4)	055
练习5 3的乘、除法(1)	056
练习6 3的乘、除法(2)	057
练习7 3的乘、除法(3)	058
练习8 3的乘、除法(4)	059
练习9 6的乘、除法(1)	060
练习10 6的乘、除法(2)	061
练习11 6的乘、除法(3)	062
练习12 6的乘、除法(4)	063
练习13 9的乘、除法(1)	064
练习14 9的乘、除法(2)	065
练习15 9的乘、除法(3)	066
练习16 9的乘、除法(4)	067
练习17 3、6、9的乘法之间的关系	068
练习18 “九九”——乘法口诀表	069
练习19 看图编乘、除法问题	070
练习20 分拆为乘与加	071

练习21 有余数的除法	072
练习22 有余数除法的计算(1)	073
练习23 有余数除法的计算(2)	074
练习24 有余数除法的计算(3)	075
练习25 小练习(二)	076
第四单元 口算速算测试卷	077

第五单元 几何小实践

练习1 角与直角	078
练习2 正方体、长方体的初步认识	079
练习3 长方形、正方形的初步认识	080
第五单元 口算速算测试卷	081

第六单元 整理与提高

练习1 大家来做乘法	082
练习2 乘除大游戏	083
练习3 5个3加3个3等于8个3	084
练习4 5个3减3个3等于2个3	085
练习5 乘与除	086
练习6 数学广场——点图与数	087
练习7 数学广场——幻方	088
练习8 数学广场——从不同方向观察物体	089
第六单元 口算速算测试卷	090
口算速算小达人竞赛测试卷(1)	091
口算速算小达人竞赛测试卷(2)	093
口算速算小达人竞赛测试卷(3)	095
口算速算小达人竞赛测试卷(4)	097
参考答案	099

第一单元 复习与提高

___月___日 星期___
 用时: ___分___秒
 评价: ☆☆☆☆☆

练习1 两位数加减法的复习(1)



口算复习导入

$15+4=$

$26-13=$

$84+2=$

$90-6=$

$7+37=$

$25-9=$

$32+20=$

$80-70=$

口算巩固提升

$35-19=$

$42+34=$

$51-15=$

$80-78=$

$51-47=$

$32+27=$

$65-36=$

$34-15=$

一、直接写出得数。

$15+8=$

$25+8=$

$11-5=$

$21-5=$

$20+30=$

$20+36=$

二、口算填表。

加数	35	42	57	33	26
加数	19	26	13	22	45
和					

三、笔算。

$35+26+14=$

$$\begin{array}{r} 35 \\ + 26 \\ \hline \square\square \end{array}$$

$$\begin{array}{r} \square\square \\ + 14 \\ \hline \square\square \end{array}$$

$78-37-26=$

$$\begin{array}{r} 78 \\ - 37 \\ \hline \square\square \end{array}$$

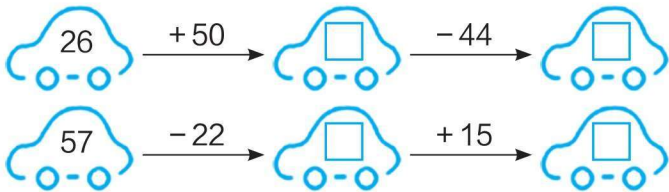
$$\begin{array}{r} \square\square \\ - 26 \\ \hline \square\square \end{array}$$

$92-45+24=$

$$\begin{array}{r} 92 \\ - 45 \\ \hline \square\square \end{array}$$

$$\begin{array}{r} \square\square \\ + 24 \\ \hline \square\square \end{array}$$

四、在□中填上适当的数。



五、算一算。

小猫已经洗了24个盘子，还要再洗22个盘子。小猫一共要洗多少个盘子？

算式: $\square \bigcirc \square = \square$ ()

答: 小猫一共要洗 \square 个盘子。



温馨提示

连加、连减或加减混合的算式，一定要按从左往右的顺序进行计算。

练习2 两位数加减法的复习(2)



口算复习导入

$23 - 11 =$

$87 - 55 =$

$14 + 27 =$

$69 - 44 =$

$19 + 31 =$

$76 - 40 =$

$88 - 44 =$

$65 - 35 =$

口算巩固提升

$52 - 17 =$

$33 - 26 =$

$22 + 18 =$

$72 - 24 =$

$34 + 28 =$

$56 - 19 =$

$72 - 27 =$

$50 - 29 =$

一、直接写出得数。

$87 - 42 =$

$50 - 22 =$

$39 + 34 =$

$31 + 14 =$

$61 - 45 =$

$53 + 26 =$

二、口算填表。

被减数	76	54	61	50	33
减数	22	35	25	18	29
差					

三、笔算。

$80 - 24 - 35 =$

$$\begin{array}{r} 80 \\ - 24 \\ \hline \square\square \\ - 35 \\ \hline \square\square \end{array}$$

$61 - 25 + 33 =$

$$\begin{array}{r} 61 \\ - 25 \\ \hline \square\square \\ + 33 \\ \hline \square\square \end{array}$$

$13 + 24 + 35 =$

$$\begin{array}{r} 13 \\ + 24 \\ \hline \square\square \\ + 35 \\ \hline \square\square \end{array}$$

四、连一连。

☆ $62 + 27$ ☆ $26 + 69$ ☆ $45 - 16$ ☆ $48 + 29$ ☆ $71 - 17$

☾ 29 ☾ 54 ☾ 95 ☾ 77 ☾ 89

五、说说题意，并列式解答。

3 元 89 元

 ?元

算式: _____

答: _____

?元 34 元

 90元

算式: _____

答: _____

温馨提示

笔算两位数加两位数时，个位满十，向十位进1，在计算十位时，一定要注意加上进位的1。

练习3 两位数加减法的复习(3)



口算复习导入

29 + 5 =

44 - 24 =

52 + 32 =

80 - 20 =

16 + 23 =

66 - 36 =

44 + 25 =

86 - 35 =

口算巩固提升

67 - 24 =

35 + 45 =

60 - 33 =

62 - 18 =

24 + 24 =

32 + 27 =

65 - 36 =

71 - 25 =

一、直接写出得数。

72 - 18 =

24 - 15 =

35 + 27 =

60 + 22 =

65 - 33 =

33 + 27 =

二、口算填表。

加数	33	26	45	67	17
加数	18	27	46	25	29
和					

三、笔算。

77 - 26 - 14 =

$$\begin{array}{r} 77 \\ - 26 \\ \hline \square\square \\ - 14 \\ \hline \square\square \end{array}$$

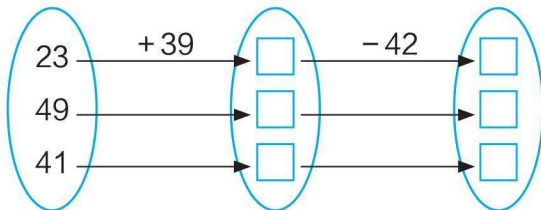
54 - 37 + 29 =

$$\begin{array}{r} 54 \\ - 37 \\ \hline \square\square \\ + 29 \\ \hline \square\square \end{array}$$

28 + 33 + 29 =

$$\begin{array}{r} 28 \\ + 33 \\ \hline \square\square \\ + 29 \\ \hline \square\square \end{array}$$

四、算一算，填一填。




五、算一算。

兔妈妈拔了28个萝卜。兔宝宝拔了16个萝卜。两只小兔一共拔了多少个萝卜?

算式: _____

答: _____



温馨提示

笔算两位数减两位数时，个位不够减，从十位退1当10再去减。

练习4 两位数加减法的复习(4)



口算复习导入

$25 + 14 =$

$36 - 31 =$

$57 + 12 =$

$60 - 6 =$

$8 + 39 =$

$34 - 30 =$

$45 - 30 =$

$96 - 72 =$

口算巩固提升

$30 - 22 =$

$52 + 28 =$

$16 + 16 =$

$76 - 39 =$

$58 - 46 =$

$19 + 23 =$

$71 - 17 =$

$44 + 49 =$

一、直接写出得数。

$64 - 22 =$

$56 - 25 =$

$51 + 15 =$

$44 + 16 =$

$78 - 27 =$

$25 + 24 =$

二、口算填表。

加数	18	23	45	66	27
加数	42	39	46	25	19
和					

三、改错。

$$\begin{array}{r} 74 \\ - 21 \\ \hline 95 \end{array}$$

$$\begin{array}{r} 70 \\ - 12 \\ \hline 68 \\ + 23 \\ \hline 81 \end{array}$$

四、在□中填上适当的数。

$$\begin{array}{c} \text{火车头} \\ \text{车厢} \end{array} \begin{array}{c} 37 \\ + 12 \\ \hline \square \end{array} + 25 \begin{array}{c} \text{车厢} \\ \hline \square \end{array} + 24 \begin{array}{c} \text{车厢} \\ \hline \square \end{array}$$

$$\begin{array}{c} \text{火车头} \\ \text{车厢} \end{array} \begin{array}{c} 83 \\ - 25 \\ \hline \square \end{array} - 24 \begin{array}{c} \text{车厢} \\ \hline \square \end{array} - 12 \begin{array}{c} \text{车厢} \\ \hline \square \end{array}$$

五、算一算。

松鼠妈妈摘了45个松果。松鼠宝宝摘了12个。松鼠妈妈比松鼠宝宝多摘多少个松果?



算式: _____

答: _____

挑战奥数

小象出生时,象妈妈29岁。当小象13岁时,象妈妈多少岁?

练习5 加与减(1)



口算复习导入

$51 + 44 =$

$38 - 27 =$

$75 - 33 =$

$82 - 61 =$

$16 + 32 =$

$55 - 34 =$

$33 + 22 =$

$95 - 25 =$

口算巩固提升

$41 - 17 =$

$33 + 25 =$

$62 - 26 =$

$13 + 23 =$

$81 - 24 =$

$25 + 26 =$

$71 - 16 =$

$51 - 24 =$

一、直接写出得数。

$18 + 48 =$

$49 - 23 =$

$12 + 61 =$

$27 - 14 =$

$86 - 52 =$

$16 + 72 =$

二、口算填表。

加数		19			25
加数	26	19	33	34	28
和	34		92	70	

三、笔算。

$41 + 39 =$

$$\begin{array}{r} 41 \\ + \square\square \\ \hline \square\square \end{array}$$

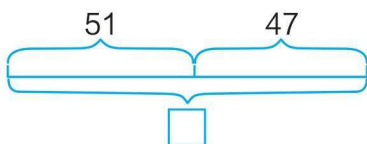
$6 + 44 =$

$$\begin{array}{r} 6 \\ + \square\square \\ \hline \square\square \end{array}$$

$24 + 57 =$

$$\begin{array}{r} 24 \\ + \square\square \\ \hline \square\square \end{array}$$

四、看图填数。



$\square + \square = \square$

$\square - \square = \square$

$\square - \square = \square$

五、说说题意，并列式解答。

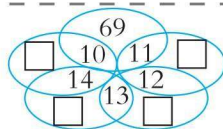


算式: _____

答: _____

挑战奥数

在图中的□处填上适当的数,使每个圆圈中3个数的和是90。



练习6 加与减(2)



口算复习导入

$9 + 23 =$

$87 - 36 =$

$54 + 42 =$

$74 - 24 =$

$51 + 45 =$

$33 - 13 =$

$22 + 36 =$

$85 - 64 =$

口算巩固提升

$40 - 22 =$

$24 + 15 =$

$16 + 27 =$

$54 - 29 =$

$61 - 26 =$

$55 + 36 =$

$54 - 28 =$

$72 - 38 =$

一、直接写出得数。

$41 - 33 =$

$45 + 45 =$

$34 + 45 =$

$62 - 37 =$

$50 - 24 =$

$42 + 39 =$

二、口算填表。

加数		42	33		25
加数	19	18		23	26
和	53		60	72	

三、笔算。

$27 + 26 =$

$$\begin{array}{r} 27 \\ + 26 \\ \hline \square \square \end{array}$$

$33 + 58 =$

$$\begin{array}{r} 33 \\ + 58 \\ \hline \square \square \end{array}$$

$50 - 27 =$

$$\begin{array}{r} 50 \\ - 27 \\ \hline \square \square \end{array}$$

四、连一连。

$57 - 8$

$26 + 36$

$27 + 14$

$75 - 27$

得数大于50

得数小于50

$35 + 20$

$78 - 29$

$100 - 48$

$45 + 15$

五、算一算。



限载38人

有2辆车, 有84人。
有多少人不能上车?



温馨提示

口算两位数加、减法, 可以先用两位数加、减整十数, 再加、减一位数, 也可以在脑中用列竖式的方法进行加、减。

练习7 巧算(1)



口算复习导入

$33 + 33 =$

$65 - 25 =$

$5 + 37 =$

$84 - 23 =$

$7 + 37 =$

$26 + 13 =$

$35 + 24 =$

$94 - 63 =$

口算与图提升

$35 - 19 =$

$54 + 27 =$

$41 - 22 =$

$91 - 19 =$

$43 - 24 =$

$36 + 29 =$

$60 - 24 =$

$60 - 28 =$

一、直接写出得数。

$53 + 26 =$

$81 - 18 =$

$24 + 27 =$

$34 - 29 =$

$53 - 28 =$

$26 + 29 =$

二、口算填表。

被减数	45		63		54
减数	26	35		19	
差		35	28	64	16

三、笔算。

$52 - 23 =$

$$\begin{array}{r} \square \square \\ - \square \square \\ \hline \square \square \end{array}$$

$39 + 49 =$

$$\begin{array}{r} \square \square \\ + \square \square \\ \hline \square \square \end{array}$$

$44 + 38 =$

$$\begin{array}{r} \square \square \\ + \square \square \\ \hline \square \square \end{array}$$

四、在□中填上适当的数。

$58 + 22 = 60 + \square = \square$

$16 + 49 = \square + 50 = \square$

$77 + 23 = \square + \square = \square$

$86 - 21 = \square - 20 = \square$

$85 - 32 = \square - \square = \square$

$63 - 39 = \square - \square = \square$

五、看下图，提问题并列式解答。



洗衣液33元/瓶



洗手液18元/瓶

问题1: _____

问题2: _____

算式: _____

算式: _____

答: _____

答: _____

温馨提示

两位数加两位数，可以将其中的一个加数变成整十数，从而使计算简便。

练习8 巧算(2)



口算复习导入

$44 - 6 =$

$55 - 43 =$

$84 + 7 =$

$53 + 9 =$

$17 + 28 =$

$26 - 18 =$

$46 + 23 =$

$85 - 25 =$

口算巩固提升

$44 - 28 =$

$54 - 26 =$

$33 + 28 =$

$52 - 39 =$

$61 - 33 =$

$44 + 46 =$

$70 - 33 =$

$28 + 37 =$

一、直接写出得数。

$62 + 15 =$

$82 + 7 =$



$57 - 30 =$

$66 - 55 =$



$81 + 18 =$

$44 - 23 =$



二、口算填表。

加数	28	44			35
加数	25	39	28	37	
和			92	86	83

三、笔算。

$46 + 36 =$

$$\begin{array}{r} \square \square \\ + \square \square \\ \hline \square \square \end{array}$$

$72 - 29 =$

$$\begin{array}{r} \square \square \\ - \square \square \\ \hline \square \square \end{array}$$

$80 - 35 =$

$$\begin{array}{r} \square \square \\ - \square \square \\ \hline \square \square \end{array}$$

四、在□中填上适当的数。

$34 + 58 = \square + \square = \square$

$29 + 43 = \square + \square = \square$

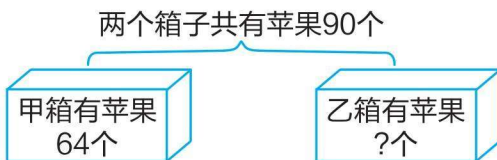
$57 + 26 = \square + \square = \square$

$87 - 79 = \square - \square = \square$

$77 - 52 = \square - \square = \square$

$54 - 38 = \square - \square = \square$

五、说说题意，并列式解答。



算式: _____

答: _____

温馨提示

两位数减两位数，可以将减数变成整十数，从而使计算简便。

练习9 巧算(3)



口算复习导入

$22 + 24 =$

$55 - 41 =$

$37 + 9 =$

$54 - 7 =$

$14 + 33 =$

$23 + 24 =$

$54 - 12 =$

$64 - 32 =$

口算巩固提升

$26 + 26 =$

$74 - 39 =$

$54 - 28 =$

$80 - 78 =$

$71 - 17 =$

$33 + 37 =$

$70 - 29 =$

$42 - 19 =$

一、直接写出得数。

$87 - 75 =$

$51 + 26 =$

$15 + 14 =$

$34 - 32 =$

$72 + 22 =$

$46 - 34 =$

二、口算填表。

被减数	51		74		84
减数	28	57		36	
差		37	28	44	29

三、笔算。

$36 + 36 =$

$$\begin{array}{r} \square \square \\ + \square \square \\ \hline \square \square \end{array}$$

$51 - 48 =$

$$\begin{array}{r} \square \square \\ - \square \square \\ \hline \square \square \end{array}$$

$82 - 39 =$

$$\begin{array}{r} \square \square \\ - \square \square \\ \hline \square \square \end{array}$$

四、在□中填上适当的数。

$45 - 27 = \square - \square = \square$

$54 + 28 = \square + \square = \square$

$64 - 29 = \square - \square = \square$

$35 + 29 = \square + \square = \square$

$16 + 33 = \square + \square = \square$

$81 - 22 = \square - \square = \square$

五、算一算。

商场大减价，每件商品优惠15元。现在买一件上衣和一条裙子，一共要花多少钱？



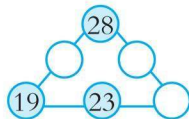
上衣60元/件



裙子45元/条

挑战奥数

在○里填上数，使每边上3个数的和是100。



练习10 方框里填几(1)



口算复习导入

$22 - 8 =$

$5 + 67 =$

$56 - 35 =$

$87 - 47 =$

$43 + 43 =$

$9 + 55 =$

$77 - 9 =$

$52 + 6 =$

口算与图提升

$33 + \square = 51$

$27 + \square = 53$

$33 + \square = 42$

$\square - 23 = 46$

$44 + \square = 67$

$27 + \square = 54$

$\square - 27 = 43$

$34 + \square = 50$

一、直接写出得数。

$13 + 36 =$

$27 + 22 =$

$70 - 45 =$

$53 + 26 =$

$57 - 33 =$

$34 - 24 =$

二、口算填表。

加数	54	44		22	35
加数		39	35	28	
和	72		63		54

三、笔算。

$32 + 39 =$

$$\begin{array}{r} \square \square \\ + \square \square \\ \hline \square \square \end{array}$$

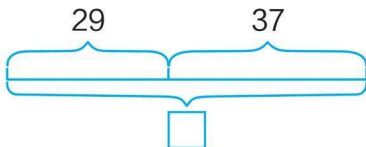
$72 - 49 =$

$$\begin{array}{r} \square \square \\ - \square \square \\ \hline \square \square \end{array}$$

$55 + 38 =$

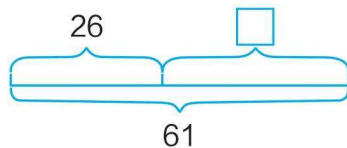
$$\begin{array}{r} \square \square \\ + \square \square \\ \hline \square \square \end{array}$$

四、在□中填上适当的数。



$29 + 37 = \square$

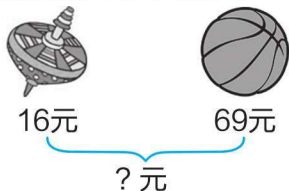
$\square - 29 = 37$



$61 - 26 = \square$

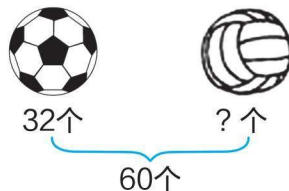
$26 + \square = 61$

五、说说题意，并列式解答。



算式: _____

答: _____



算式: _____

答: _____

温馨提示

一个加数 = 和 - 另一个加数;

被减数 = 减数 + 差;

减数 = 被减数 - 差。