

幼小衔接学前基础训练数学4



幼小衔接学前基础训练 数学 ④



100以内数的认识 (一)



姓名: _____

打分: 真棒

不错

加油

àn shùn xù tián xiě shù zì

一、按顺序填写数字。

22 24 27

29 33 36

39 41 43

45 48

àn guī lǜ tián yì tián

二、按规律填一填。



1. 15 25 35

2. 42 46 50

三、数一数，填一填。

() 个	() 只
() 颗	() 个


shǔ yì shǔ lián yì lián
四、数一数，连一连。



xiě chū xià miàn gè shù de xiāng lín shù
五、写出下面各数的相邻数。



jiāng xià miàn de shù zì àn cóng dà dào xiǎo de shùn xù pái liè qǐ lái xiě zài xià miàn de héng xiàn shàng
六、将下面的数字按从大到小的顺序排列起来，写在下面的横线上。



幼小衔接学前基础训练 数学 ④



100以内数的认识 (二)



姓名: _____

打分: 真棒



不错



加油

àn shùn xù tián xiě shù zì

一、按顺序填写数字。

52 54 57

59 61 64

67 70 73

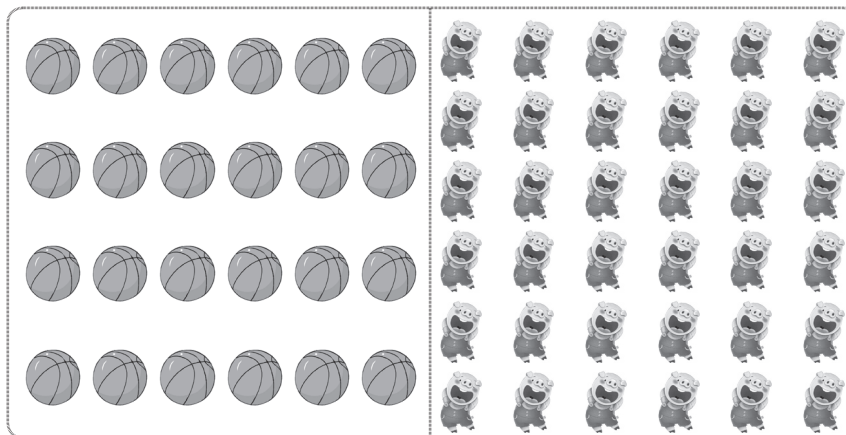
76 79 82

83 85 88

92 94 97

100




二、数一数, 填一填。








() 个

() 头


三、找规律, 填一填。



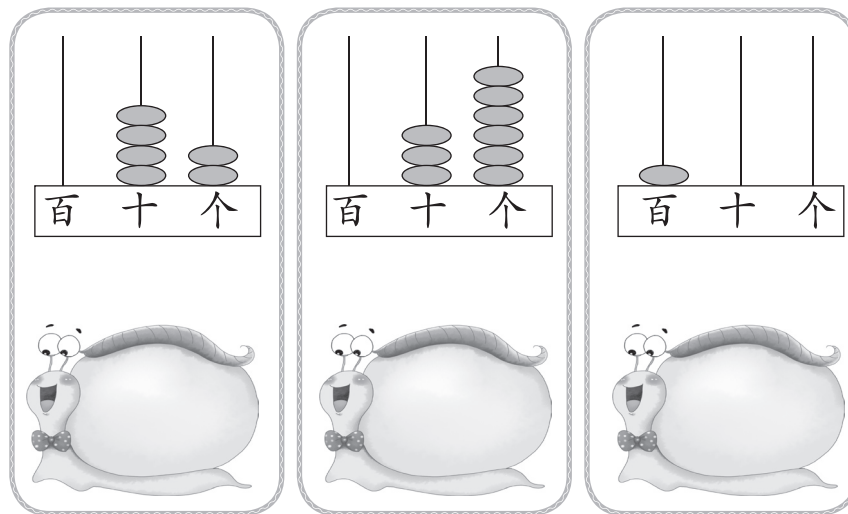
四、dú yì dú lián yì lián 读一读，连一连。



五、xiǎo mǎ zhǐ yǒu jiāng xià miàn de dān shù tú chéng fěn sè shuāng shù tú chéng lǜ sè 小马只有将下面的单数涂成粉色、双数涂成绿色，才能安全过河，你能帮帮它吗？



六、kàn zhū tián shù 看珠填数。



幼小衔接学前基础训练 数学 ④



100以内的不进位加法（一）







姓名：_____

打分： 真棒

不错

加油

zhàoyàng zi tián yì tián
一、照样子，填一填。



zài "□" lǐ tiánshàng ">" "<" huò "=" 。
二、在“□”里填上“>”“<”或“=”。

$43 + 3 \square 47$

$50 + 1 \square 51$

$27 + 2 \square 28$

$90 + 9 \square 100$

kànshéisuàn de yòu duì yòu kuài!
三、看谁算得又对又快！

$83 + 2 = (\quad)$

$51 + 3 = (\quad)$

$30 + 7 = (\quad)$

$22 + 6 = (\quad)$

$48 + 1 = (\quad)$



$11 + 8 = (\quad)$

$20 + 5 = (\quad)$

$34 + 4 = (\quad)$

$56 + 3 = (\quad)$

$72 + 2 = (\quad)$

四、lián yi lián bāng xiǎo mì fēng zhǎo dào jiā 连一连，帮小蜜蜂找到家。



85



29



79



55



五、qǐng zhí jiē bǎ dé shù xiě zài fāng kuàng lǐ 请直接吧得数写在方框里。



有22个



，兔妈妈又给了



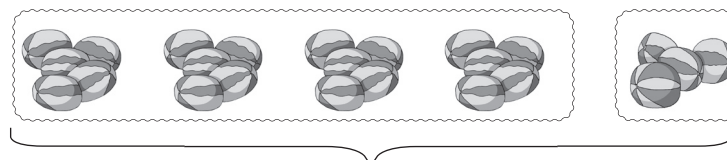
7个，



现在共有多少个

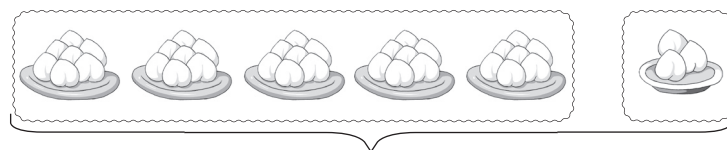


六、kàn tú tián shù 看图填数。



? 个

$$\square + \square = \square$$



? 个

$$\square + \square = \square$$



? 个

$$\square + \square = \square$$

幼小衔接学前基础训练 数学 ④



100以内的不进位加法（二）



姓名：_____

打分： 真棒


不错

加油

zhàoyàng zì liè shù shì suàn yì suàn

一、照样子列竖式算一算。


$52+7=59$



$91+4=$



$82+3=$




$33+6=$



suàn yì suàn tú yì tú
二、算一算，涂一涂。

$35+1$



$20+8$



bǎ cuò wù de dé shù huà diào
三、把错误的得数画掉。

$82+5=$

$74+2=$

$60+7=$

$31+6=$

四、lián yī lián yī bǎ yào shī kāi yī bǎ suǒ 连一连，一把钥匙开一把锁。



$21+7$



$60+9$



$32+4$



$52+7$



$83+3$




$25+3$



$50+9$



$30+6$





$61+8$







$85+1$

五、tiánbiǎo gé 填表格。

文具		
果果文具店	8个	73把
朵朵文具店	40个	6把
一共	()个	()把

六、jiě jué wèn tí 解决问题。

1. 佳佳水果店运来14筐 、5筐 ，运来的  和  一共有多少筐？

$\square + \square = \square$ (筐)

2. 樱桃街服装店共有30条 ，7条 ，

 和  一共有多少条？

$\square + \square = \square$ (条)

幼小衔接学前基础训练 数学 ④



100以内的不退位减法(一)



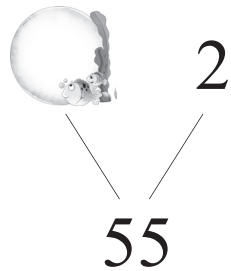
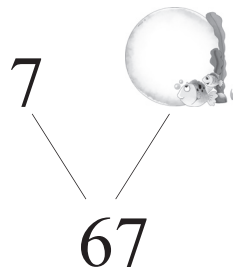
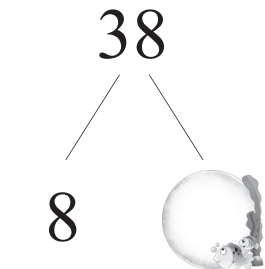
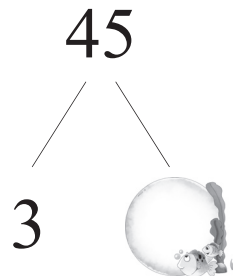
姓名: _____

打分: 真棒

不错

加油

一、在“”里填上正确的数。



二、给正确的得数涂上你喜欢的颜色。

$28-3=$ $65-4=$

$82-2=$ $98-6=$

三、算一算，填一填。




$-4=35$

$39-$ $=8$


$55-3=$

$94-$ $=4$


四、找朋友，将得数相等的算式连起来。



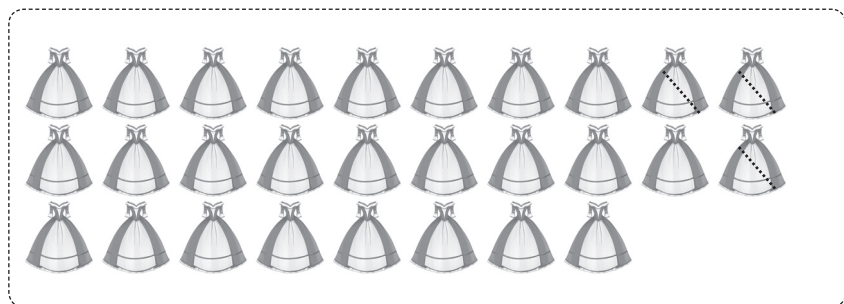
五、看图列算式。



$$\square - \square = \square$$




$$\square - \square = \square$$




$$\square - \square = \square$$

六、列竖式计算。


$$77 - 5 =$$



$$89 - 6 =$$



七、算出正确的答案，小熊就能回家啦！



幼小衔接学前基础训练 数学 ④



100以内的不退位减法(二)



姓名: _____

打分:




真棒



不错



加油

一、在“”里填上“>”“<”或“=”。

$31-1$  30

$25-2$  27

$46-3$  44

$88-8$  81

$29-4$  24



$52-1$  50

$78-6$  70

$16-2$  24

$45-5$  41

$62-1$  60



二、在正确的算式后面画“√”，在错误的算式后面画“×”。

$46-1=44$ () $56-4=52$ ()

$85-1=84$ () $93-3=91$ ()

$38-1=36$ () $77-7=70$ ()


$55-4=51$ () $66-2=63$ ()

三、将下列算式按得数从大到小的顺序排列。





$57-4$

$69-2$

$48-8$



四、在“”里填上正确的数。



五、算一算，填一填。

$$59 - 6 = \bigcirc$$

$$48 - 2 = \bigcirc$$




$$33 - 3 = \bigcirc$$



$$96 - 1 = \bigcirc$$

$$67 - 4 = \bigcirc$$

$$87 - 5 = \bigcirc$$





六、算一算。



 -  = ()

 -  = ()

七、解决问题。

 有35条  ，吃掉了4条， 现在还有多少条  ？

$$\square - \square = \square \text{ (条)}$$

幼小衔接学前基础训练 **数 学** ④



综合练习 (一)



姓名: _____

打分:



真棒



不错



加油

一、只有算出正确的得数，zhǐ yǒusuànchūzhèngquè de dé shù 小白兔才能采到蘑菇，xiǎo bái tù cái néng cǎi dào mó gu 你能
nǐ néng

bāngbang tā ma
帮帮它吗?

$57-6=$

$35+3=$

$97-5=$

$44+4=$

$68-6=$

$19-8=$

$76-5=$

$23+2=$



二、tián yì tián
填一填。

$30+5 \rightarrow \boxed{} -4 \rightarrow \boxed{} +2 \rightarrow \boxed{}$

$52+2 \rightarrow \boxed{} +4 \rightarrow \boxed{} -6 \rightarrow \boxed{}$

$38-3 \rightarrow \boxed{} +4 \rightarrow \boxed{} -5 \rightarrow \boxed{}$

三、liè shù shì jì suàn
列竖式计算。

$31+7=$

$65-3=$

$78-8=$

$55+4=$

四、xiě chū xià miàn gè shù de xiāng lín shù
写出下面各数的相邻数。



bǎ zhèngquè de dé shù tú shàng nǐ xǐ huān de yán sè
五、把正确的得数涂上你喜欢的颜色。


$75+3$ 77 78

$57-6$ 51 52

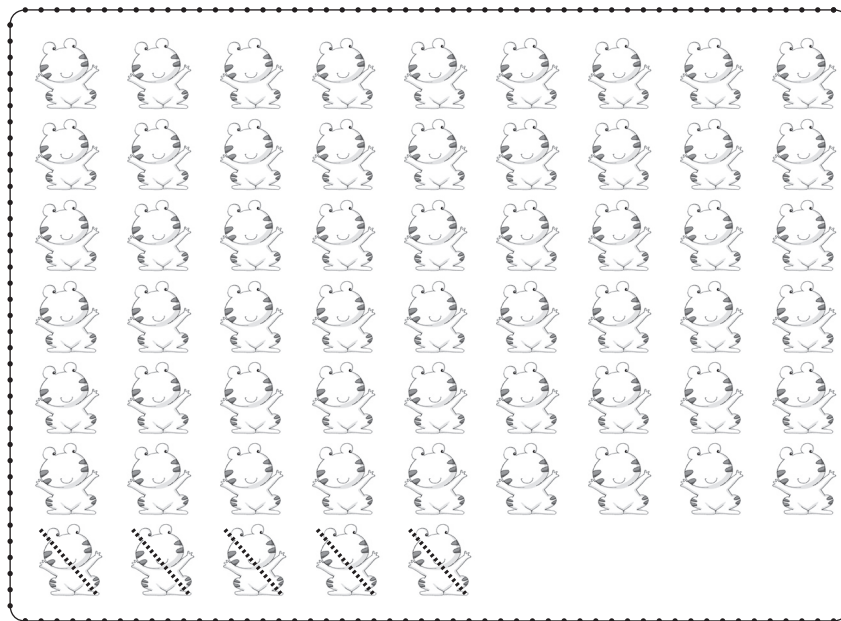
$45-5$ 40 41

$27+2$ 28 29

kàn tú liè shì jì suàn
六、看图列式计算。



$$\square + \square = \square$$



$$\square - \square = \square$$

幼小衔接学前基础训练 数学 ④



综合练习(二)

姓名: _____

打分:



真棒

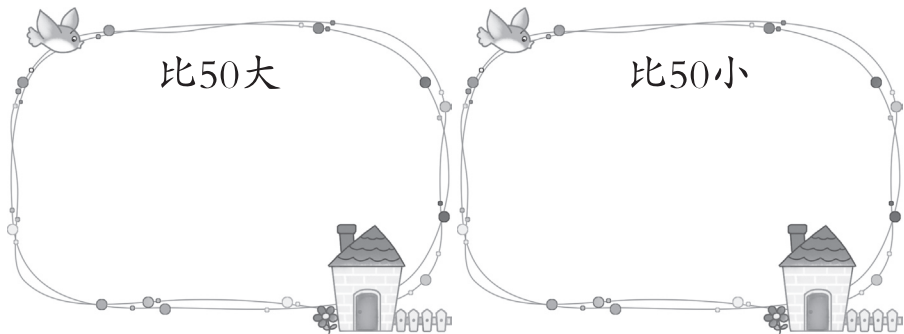



不错

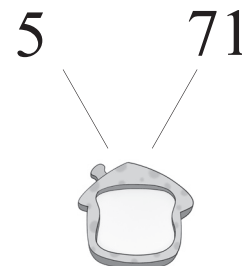
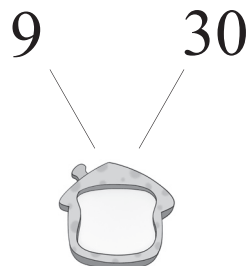
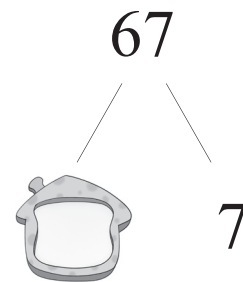
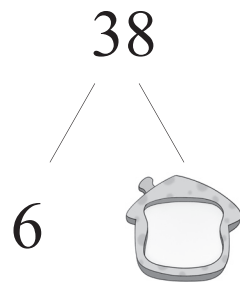


加油

bāngjiànguò sǎn ān quánjiànguò àn yāo qiú tián yì tián
一、帮降落伞安全降落, 按要求填一填。



tián yì tián
二、填一填。



kànshéisuàn de yòu duì yòu kuài
三、看谁算得又对又快。

$55+3=$

$36-2=$

$71+5=$


$49-7=$

$22+6=$


$68-8=$

四、列竖式计算。


$75-3=$




$54+5=$




$80+9=$




$37-6=$



$44-4=$



$23+6=$



五、算一算，连一连。



$79-5$



$66-2$



$39-6$



$51+6$

$60+4$

$55+2$

$72+2$

$36-3$

六、解决问题。

1. 养鸡场有 6只, 42只, 养鸡场 和 一共有多少只?

$\square \bigcirc \square = \square \text{ (只)}$

2. 树上原来有28只 , 飞走了7只后, 还剩多少只 ?

$\square \bigcirc \square = \square \text{ (只)}$