



高考导航系列丛书

丛书主编 / 徐希龙

2013 冲A 精典

Red A Classic

普通高中学业水平测试 随堂检测篇

>■ 历史



专题适应性训练(一) 中西古代的政治制度

一、选择题

- 根据中国古代宗法制,能够继承周王王位的人首先是 ()
 A. 周王最聪明的儿子
 B. 周王最宠爱的儿子
 C. 周王妃子所生的大儿子
 D. 周王正妻所生的大儿子
- 我国古代的皇帝制度创建于 ()
 A. 西周 B. 秦朝 C. 西汉 D. 东汉
- 秦始皇说:“天下共苦战斗不休,以有侯王。赖宗庙,天下初定,又复立国,是树兵也,而求其宁息,岂不难哉!”秦始皇为“求其宁息”而采取的措施是 ()
 A. 焚书坑儒 B. 推行郡县制
 C. 攻打匈奴 D. 修筑长城
- 商王与各附属国的关系是 ()
 A. 绝对控制 B. 支配与被支配
 C. 平等 D. 互不相干
- (2012·辽阳学业水平模拟)关于“礼”和“乐”说法错误的是 ()
 A. “礼”是维护宗法分封制度必不可少的工具
 B. “礼”有尊崇上天和先祖的内容
 C. “乐”以其艺术美使得讲究等级规范、形式森严的“礼”具有了征服人心的感染力
 D. “礼”和“乐”的使用适用于当时的整个社会阶层
- “朝为田舍郎,暮登天子堂”是古代中国许多知识分子的追求,隋唐以后他们实现这一理想的主要途径是 ()
 A. 参加科举考试 B. 等待朝廷察举
 C. 投笔从戎戍边 D. 投作官吏幕僚
- 《十二铜表法》的颁布被看作是平民的胜利,其主要理由是 ()
 A. 立法权从贵族回到平民手中
 B. 法律内容相当广泛,打破了贵族特权
 C. 平民起义推翻了贵族统治,推动了法律的制定
 D. 成文法取代了习惯法,限制了贵族特权
- 马克思说:“希腊的内部极盛时期是伯里克利时代,外部极盛时期是亚历山大时代。”希腊“内部极盛”的主要原因是 ()
 A. 对外交流频繁 B. 法律体系完备
 C. 民主政治发展 D. 人文思想盛行
- (2012·丹东学业水平模拟)公民大会是国家最高权力机关,一切雅典公民皆有权参加,五百人议事会的议员经抽签选举产生,名额根据每个基层行政单位的公民人数按比例分配。材料反映了雅典民主政治的特点有 ()
 ①人民主权 ②轮番而治
 ③比例代表制 ④少数人的民主
 A. ①②③ B. ①③④
 C. ②③④ D. ①②④
- 英国历史学家约翰说:“如今有个趋势,人们怀念她的民主制度,并将其视为所有现代民主制度的源头。”这里的“她”是指 ()
 A. 雅典 B. 斯巴达 C. 罗马 D. 波斯
- 希腊文明的辉煌,主要体现在它的奴隶主民主政治达到相当的高度。开辟雅典民主的“黄金时代”的雅典领袖是 ()
 A. 梭伦 B. 伯里克利 C. 亚历山大 D. 屋大维



A. 梭伦



B. 伯里克利



C. 亚历山大



D. 屋大维

答题栏

1
2
3
4
5
6
7
8
9
10
11
12

12. 下列关于雅典的叙述,不正确的是 ()
- A. 雅典是希腊著名的城邦
 - B. 雅典民主制度是小国寡民的产物
 - C. 雅典民主是男性公民的民主
 - D. 雅典的民主政治仍是今天我们追求的目标

二、非选择题

13. 中国古代封建王朝为维护统治秩序,保证国家机器的正常运转,设立了一套较为完整严密的监察制度,请结合所学知识回答下列问题:

- (1) 中国封建社会监察制度最早起源于何时? 列举史实说明。
- (2) 汉朝时期监察制度有什么变化?
- (3) 明清时期监察制度又有何新的变化? 并分析这一变化的根据。
- (4) 综观历代监察制度的演变,你如何评价它?

14. (2012·福建学业水平模拟) 阅读下列材料,回答问题。

材料一 我们的制度之所以被称为民主政治,因为政权是在全体公民的手中,而不是在少数人手中。解决私人争执的时候,每个人在法律上是平等的;让一个人负担公职优先于他人的时候,所考虑的不是某一个特殊阶级的成员,而是他们所具有的真正才能。任何人,只要他能够对国家有所贡献,绝对不会因为贫穷而在政治上湮没无闻。

——伯里克利《在阵亡将士葬礼上的演说》

材料二 (雅典民主政体的根本缺陷)在于它把权力交给所有的人民,不需要国家管理者具有专长,不要求他们具有真知灼见。一个国家应当由既有专业知识又有道德的人去治理,统治者不是有玉笏的人,不是偶然选中的人,不是攫取财富的人,不是使用强术和骗术的人,而是有统治知识的人。

——苏格拉底

- (1) 请写出为雅典民主政治发展奠定基础的改革家。
- (2) 根据材料一归纳,伯利克里阐述了雅典政治制度的什么特点?
- (3) 根据材料二分析,苏格拉底对民主制度评价的着眼点是什么?
- (4) 根据上述材料并结合所学知识,评价雅典民主制度。





专题适应性训练(二) 中西近代发展的差异

一、选择题

- 与《天朝田亩制度》相比,《资政新篇》最突出的特点是 ()
 - 是太平天国的革命纲领
 - 真正触及了封建地主土地所有制
 - 体现了当时农民阶级的愿望
 - 具有鲜明的资本主义色彩
- (2012·本溪学业水平模拟)“东沟海战天如墨,炮震烟迷船掀侧。致远鼓楫冲重围,万火丛中呼杀贼。”下列与此诗相关联的历史事件是 ()
 - 鸦片战争
 - 第二次鸦片战争
 - 中日甲午战争
 - 八国联军侵华战争
- 近代西方列强在中国获得下列侵略权益的先后顺序是 ()
 - ①外国军舰可以在长江各口岸自由航行
 - ②在北京设立“使馆界”
 - ③开放天津为商埠
 - ④割让台湾及其附属岛屿
 - ①②③④
 - ③④①②
 - ①③④②
 - ③①②④
- 一组同学讨论两次鸦片战争的相似之处,以下是他们列出的四个观点。二者本质上的相似之处应该是 ()
 - 以武力为主要手段
 - 从对我国东南沿海进攻开始
 - 威胁清朝统治的中心地带
 - 强迫中国开放市场
- 下列《辛丑条约》的内容,最能表明清政府成为“洋人的朝廷”的是 ()
 - 支付高额赔款
 - 划定使馆区
 - 外务部列六部之首
 - 承诺禁止中国人民反帝
- 1882年英国著名歌剧《劳兰斯》中的一段唱词流传很广:“我时常感到可爱滑稽,人间万事是这样离奇:降临到人世间的每个活生生的男孩和女孩,要么是一个小自由党人,要么是一名‘小托利’。”这段唱词反映了英国19世纪下半叶政治生活的什么状况? ()
 - 责任内阁制影响巨大
 - 君主立宪制确立
 - 妇女取得了普选权
 - 民主政治的深入和广泛
- 2012年是美国总统大选年,民主党候选人奥巴马将争取连任总统。奥巴马任职期间 ()
 - 拥有立法、行政和司法权
 - 主持国会工作
 - 行使最高司法权
 - 掌握最高行政权
- (2012·丹东学业水平模拟)“皇帝任命帝国首相”;“皇帝任命帝国官吏……可决定其免职”;“海陆军高级军官均由皇帝任命”;“皇帝有权召集、召开联邦议会和帝国国会,以及使议会延期结束……”此规定最有可能出自 ()
 - 《1791年宪法》
 - 《1875年宪法》
 - 《1787年宪法》
 - 《德意志帝国宪法》
- 依据1871年《德意志帝国宪法》,德皇威廉二世拥有的权力包括 ()
 - ①任命政府官员
 - ②召集和解散议会
 - ③签署和公布法律
 - ④统率帝国军队
 - ①②③④
 - ①③④
 - ②③④
 - ①②③

答题栏

1
2
3
4
5
6
7
8
9
10
11
12

10. 某中学一历史研究小组对德意志帝国的“君主立宪制”进行研究,有同学提出“为什么说德意志帝国的君主立宪制是一种不彻底不完善的代议制?”对这一问题,有四位同学产生了争议,你认为最正确的回答是 ()
- A. 甲同学:皇帝和帝国宰相掌握行政大权
 B. 乙同学:联邦议会权力较大,帝国议会权力较小
 C. 丙同学:行政机构权力大,立法机构权力小
 D. 丁同学:行政机构控制了立法机构
11. 大卫是英国下议院议员,关于英国的君主立宪制,他津津乐道。你认为他的哪一说法是错误的 ()
- A. “光荣革命”后,国王“统而不治”
 B. “我国君主立宪制的一个显著特点是责任内阁制”
 C. “它是君主制、贵族制与民主制三者融为一体的混合物”
 D. “它是总统制与联邦制相结合,体现三权分立原则的一种较为完美的政治体制”

学习园地



12. (2012·山西学业水平模拟)《法兰西第三共和国宪法》规定:“总统有权召开两院的特别会议。在会议的闭会时期,如果两院有绝对多数要求开会,总统也必须召集两院。”这说明 ()
- A. 总统控制议会
 B. 总统权力大于议会
 C. 总统的权力受议会限制
 D. 行政权高于立法权

二、非选择题

13. 阅读下列材料:

材料一 各地群众“合到金田,恭祝万寿起义,……次则移蹕到东北……闰八月初一日,入永安州”。

材料二 “癸丑二月,天兵到南京,由仪凤门攻入,不半月而平定……后乃发兵扫北。”

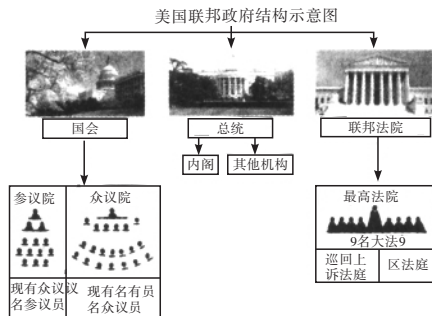
材料三 丙辰年破东门向荣。是年七月,东王升天,北王亦丧。丁巳,翼王远征。”

——引自《洪仁玕自述》

请回答:

- (1) 材料一、二所述之事发生的两年中,太平天国进行了哪些重要活动?
 (2) 材料三所说的“东王升天,北王亦丧”指的是什么事件?

14. 观察下图,结合所学知识回答:



- (1) 各机构的职权是什么? 它们之间的关系如何?
 (2) 图中各机构的关系体现了什么原则?
 (3) 你如何看待这种政权体制?



专题适应性训练(三) 马克思主义的产生、发展及 从新民主主义革命到新中国建立

一、选择题

1. 《共产党宣言》是近年来美国教育部公布的“美国中学生必读书目”之一,通过阅读《共产党宣言》,美国中学生可以了解 ()
 ①资本主义社会的基本矛盾 ②无产阶级革命首先在一个落后国家取得胜利的原因 ③巴黎公社的经验教训 ④世界无产阶级的历史使命
 A. ①③ B. ②③
 C. ②④ D. ①④
2. (2012·抚顺学业水平模拟)十月革命和巴黎公社革命过程中的相似之处是 ()
 ①建立无产阶级专政 ②呼吁实现和平、停止战争 ③没收封建地主土地 ④设立新的国家机构 ⑤丰富了马克思主义的学说
 A. ①⑤ B. ②④⑤
 C. ①④⑤ D. ①②③④
3. 俄国二月革命后形成了特殊局面,主要表现在 ()
 A. 两个政权并存 B. 继续参加一战
 C. 群众运动不断高涨 D. 苏维埃政府成立
4. “因此中央委员会认为,武装起义是不可避免的,并且业已成熟。中央委员会建议各级党组织以此为方针,并从这一观点出发讨论和解决一切实际问题。”[《俄国社会民主工党(布)中央委员会关于武装起义》(1917年10月23日)]材料中“武装起义是不可避免的”结论得出的主要依据是 ()
 A. 临时政府继续参加一战
 B. 临时政府武力镇压革命
 C. 列宁发表《四月提纲》
 D. 武装起义方针的制定
5. “祝捷的炮像雷声响,满街的爆竹,焰火飞扬。满山遍野是人浪!笑口高张,热泪如狂。”诗人罗家伦在《凯歌》中描绘了中国人民欢庆抗日战争胜利的狂欢景象。抗日战争的胜利 ()
 ①使中国走上了独立、民主、富强的道路 ②增强了全国人民的自尊心和自信心 ③是中国第一次取得完全胜利的反帝斗争 ④极大地提高了中国的国际地位
 A. ①②③ B. ②③④
 C. ①③④ D. ①②④
6. 1945年秋,毛泽东在重庆将一首《沁园春·雪》赠给了柳亚子先生,毛泽东此次重庆之行 ()
 A. 签署了“双十协定”
 B. 通过了《和平建国纲领》
 C. 参加了日本投降的签字仪式
 D. 通过了《共同纲领》
7. “本战役第一阶段的重点,是集中兵力歼灭黄百韬兵团……占领新安镇、台儿庄、临沂等地……从北面威胁徐州。”这一战役是 ()
 A. 台儿庄战役 B. 孟良崮战役
 C. 淮海战役 D. 渡江战役
8. (2012·本溪学业水平模拟)下列有关抗战初期,国民党正面抗战的叙述,正确的是 ()
 ①组织了四次大规模的会战,态度是积极的 ②其主战场地位一直维系到抗战结束 ③粉碎了日军速战速决的狂妄计划 ④丧师失地,作用极小
 A. ①② B. ②③ C. ①③ D. ③④
9. 民盟主席张澜在一次发言中讲道:“这是新中国的一个人民大宪章,它确定了新中国的政治理论和政治制度。它有了革命到底的大方针,它有了稳步建设的大原则。”张澜在发言中所讲的“它”是指 ()
 A. 《中国人民政治协商会议共同纲领》
 B. 《中华人民共和国宪法》
 C. “长期共存,互相监督”的方针
 D. 人民代表大会制度
10. 20世纪80年代,意大利记者奥琳艾娜·法拉奇采访中国国家领导人时问:中国以后怎样才能避免“文化大革命”式的悲剧出现?假设你是中央领导人,应该怎样回答记者的提问 ()
 A. 只要坚持共产党的领导就可避免
 B. 坚持人民代表大会制度
 C. 坚持以经济建设为中心就可以避免

答题栏

1
2
3
4
5
6
7
8
9
10
11
12

D. 进一步完善社会主义民主和法制,从制度上解决问题

11. 党和政府为推动两岸关系的发展,提出的基本方针有 ()

- ①和平统一 ②一国两制 ③九二共识
④一个中国

- A. ①②③④ B. ①②
C. ①②③ D. ③④

12. 十多年来,我国 90 多万个村委会都建立起村民自治制度,村民自治的核心包括 ()

- ①民主选举和民主决策 ②民主选举和民主促进
③民主管理和民主监督 ④民主管理和民主促进

- A. ②④ B. ①④ C. ①③ D. ②③

二、非选择题

13. 外国学者大都按照自己的眼光来认识和理解中国历史。如美国著名学者斯塔夫里阿诺斯在所著的《全球通史》中写到:

在中国长达数千年的历史中,曾有过三次从根本上改变了中国政治和社会结构的大革命:第一次发生在公元前 221 年,它结束了封建领主制,创立了中央集权制的帝国;第二次发生在 1911 年,它结束了帝国,建立了民国;第三次则发生在 1949 年,建立了共产党领导的政权。

请回答:

(1) 概括提炼作者关于中国三次“大革命”成果的见解。(不得照抄原文)

(2) 依据所学知识填写下表。

三次革命	主要领导人	“革命”后实施的进步措施	
		政治文明方面	文化发展方面
第一次			
第二次			取消学校读经等
第三次			百家争鸣, 百花齐放政策

(3) 作者所说的三次“大革命”中,你较为看重哪一次,为什么?

14. (2012·河南学业水平模拟)阅读下列材料:

材料一 总而言之,国共合作主导下的国民革命,是一场更富有现代意义上的社会革命性质的大革命。与辛亥革命相比,这场革命与社会生活各个领域的变迁更加密切相关,革命的社会动员程度和民众参与积极性更加高涨,是在对政治共同体作出新的解说(新三民主义)的前提下,由一个新的政治上层来取得政权,建立起更强大的政治体制。它反映的历史主流,是在中国建立起对外自主独立的、对内具备有效权力和权威体系的统一的现代民族国家。

——陈勤、李刚、齐佩芳著《中国现代化史纲·无法告别的革命》

材料二 但无论如何,中国都能与两者(苏联人民战线与英美民主联盟)很好地协调起来。中国是一个合格的反法西斯主义国家,同时,它被英美民主联盟接受为一名,不妨说,光荣的成员。至少在亚洲的环境中,蒋介石领导下的统一的中国表现出战时所能期望的民主。当时尽管很少有人声称中国正在为民主而战,但是十分明显,中国人民正拒绝屈服于犯下像“南京暴行”那样的抢劫和屠杀罪行的法西斯侵略者。整个 1938 年,中国人民的英勇抵抗赢得了美国和英国的敬佩。

——(美)费正清、费维恺编《剑桥中华民国史》
请回答:

(1) 国共第一、二次合作的主要目的分别是什么?各起怎样的作用?

(2) 与第一次国共合作相比,第二次国共合作的特点有什么显著的差异?

(3) 国共前两次合作破裂,带来了什么严重后果?





专题适应性训练(四) 复杂多样的当代世界

一、选择题

1. 右图《眺望柏林墙的那一边》反映了“冷战”导致的 ()



- A. 德国的分裂
B. 朝鲜半岛的分裂
C. 不结盟运动的兴起
D. 古巴导弹危机

2. 读《欧洲共同体》图,其中不属于欧共体首创国的是 ()

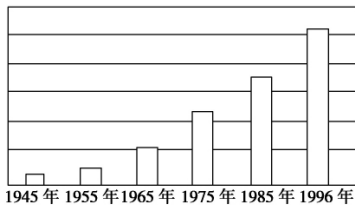


- A. ① B. ② C. ③ D. ④

3. 20世纪80年代,日本开始谋求“政治大国”地位的根本原因是 ()

- A. 经济实力迅速增强 B. 适应美国战略需要
C. 军国主义势力复活 D. 多极化趋势的增强

4. 下图是二战后日本经济发展总量柱状图,导致这一状况的原因有 ()



- ①美国的扶植 ②战后政治民主化改革 ③科技教育的发展 ④朝鲜战争和越南战争的刺激

- A. ①②③④ B. ①③④
C. ②③④ D. ①②③

5. (2012·大连学业水平模拟)某次会议后,一位美国记者说:“周恩来并不打算改变任何一个坚持反共立场领导人的态度,但是他改变了会议的航向。”周恩来能够改变这次会议航向的主要原因是他代表中国政府提出了 ()

- A. 和平共处五项原则

- B. 反帝反霸的不结盟政策

- C. “求同存异”的方针

- D. 维护联合国权威的原则

6. 在国际外交舞台上,新中国第一代领导集体以超凡的气度、过人的智慧,维护了国家主权,赢得了国际社会的尊重。具体体现在 ()

- ①提出和平共处五项原则,成为解决国与国之间问题的基本准则 ②倡导“求同存异”,促进了亚非国家的团结与合作 ③“一国两制”的设想和实施,开创了国际先例 ④“小球推动大球”的外交艺术,在国际社会传为佳话

- A. ①②③ B. ②③④ C. ①③④ D. ①②④

7. (2012·鞍山学业水平模拟)导致第二次世界大战后发展中国家发生局部战争的因素有 ()

- ①历史遗留的领土纠纷 ②民族矛盾 ③宗教矛盾 ④美、苏等国的干涉 ⑤地区霸权主义

- A. ①②③ B. ①③④
C. ②③④⑤ D. ①②③④⑤

8. 2012年3月5日是老一辈无产阶级革命家周恩来同志诞辰114周年纪念日。新中国成立以后,周恩来曾长期担任外交部长的职务,在国际社会中有“红色外交家”的美誉。下列周恩来参加的外交活动,按时间顺序排列正确的是 ()

- ①参加日内瓦会议 ②会见美国总统尼克松
③会晤日本首相田中角荣 ④出席万隆会议

- A. ①④②③ B. ①④③②
C. ④①②③ D. ④①③②

9. 日本首相福田康夫访华期间说:“田中访华,实现了中日邦交正常化,在中日之间架起了一座桥梁……”当时推动这一“桥梁”建立的直接原因是 ()

- A. 中国在联合国合法席位的恢复

- B. 两国人民间的友好交往

- C. 中美关系的改善

- D. 中国综合国力的增强

10. 1984年,邓小平在接见外宾时指出:“中国不打美国牌,也不打苏联牌,中国也不允许别人打中国牌。”这反映了改革开放以来中国外交政策的特点是 ()

答题栏	
1	
2	
3	
4	
5	
6	
7	
8	
9	
10	
11	
12	

- A. 坚持独立自主 B. 实行睦邻友好政策
C. 反对霸权主义 D. 互不干涉内政

11. (2012·河北学业水平模拟)美国前任总统克林顿说:“毕竟我们是世界上唯一的超级大国,我们必须领导革命……建立一个按美国价值标准建立的世界新秩序。”原美国国务卿克里斯托弗说:“‘冷战’的结束正在使美国的领导作用比以往任何时候都重要。”以上材料说明 ()
- A. 世界呈现多极化趋势
B. 苏联的解体使美国步入全盛时期
C. 反对霸权主义、强权政治,仍是当今世界面临的十分艰巨的任务
D. 世界需要建立一个符合各国利益的新秩序
12. 两极格局解体后,世界朝着多极化的方向发展,建立多极世界成为一个普遍的愿望。多极化格局的意义在于有利于 ()
- ①世界政治民主化 ②世界经济多极化
③世界的长久和平 ④减少地区冲突
- A. ①②③ B. ②③④
C. ①③④ D. ①②③④

二、非选择题

13. 握手,是人类文明发展到一定阶段的产物,握手已成为现代社交场合中一种常见的礼节。国际舞台上“巨人”的握手,有时会引起国际社会的“震动”。

材料一 1949年,中共中央主席、中华人民共和国中央人民政府主席毛泽东抵达莫斯科,开始了他对苏联的第一次访问。斯大林在克里姆林宫与毛泽东亲切握手,并举行了正式会谈。

材料二 尼克松在回顾1972年访华时说:“我知道,1954年在日内瓦会议时福斯特·杜勒斯(当时的美国国务卿)拒绝同周(周恩来)握手,使他深受侮辱。因此我走完梯级时决心伸出我的手,一边向他走去。当我们的手相握的时候,一个时代结束了,另一个时代开始了。”

材料三 2000年9月7日,由中国倡议的联合国安理会五个常任理事国首脑会议在纽约举行。这是自联合国成立以来第一次举行安理会常任理事国首脑会议,五国首脑一起握手的场面令人印象深刻。

- (1)材料一反映了新中国怎样的外交方针?它的积极意义是什么?
(2)材料二反映了什么历史信息?促成这次“握手”的主要因素有哪些?

(3)材料三反映出目前世界政治格局的基本特点及发展趋势是什么?

14. 阅读下列材料:

材料一 罗斯福提出在战后建立以美国为核心的世界政治和经济秩序安排的设想。具体措施一是组建一个美国在其中起主导作用的普遍性的国际组织——联合国;二是建立以美国为核心的世界经济体系。1945年,杜鲁门总统在致国会的咨文中郑重宣布:“胜利已使美国人民有经常而迫切的必要来领导世界了。”

材料二 1971年,美国总统尼克松说:“在经济领导的问题上,他们在全世界同我们竞争得非常激烈。……同我们在第二次世界大战结束的时候相比,美国遇到了我们甚至连做梦也没有想到的那种挑战”。

材料三 20世纪八、九十年代,两极格局解体,世界向多极化发展。中国不但经受住严峻的考验,而且始终抓住发展经济、社会进步的根本不动摇,中国已成为在世界事务中具有广泛影响的世界性大国。

——《中华民族:由衰落走向复兴》

请回答:

- (1)根据材料一,指出美国的战略意图。结合所学知识,概括影响其战略意图实现的有利和不利条件。
(2)20世纪70年代,美国遇到的外部挑战主要有哪些?给美国带来了怎样的影响?
(3)简要说明20世纪八、九十年代以来,中国成为“世界事务中具有广泛影响的世界性大国”的有利条件以及中国是如何在世界事务中发挥影响的?





专题适应性训练(五) 中国古代的农耕经济

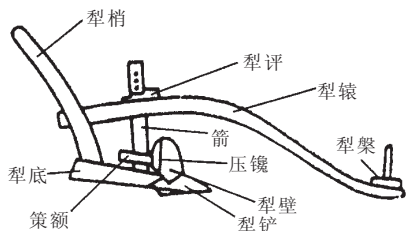
一、选择题

1. 白居易诗：“机梭声札札，牛驴走纭纭。……有财不行商，有丁不入军。家家守村业，头白不出门。”诗中的描述反映了 ()
- ①男耕女织的自然经济 ②重视农业的观念
③家庭手工业的发展促进了商品流通 ④安土重迁的思想
- A. ①②③ B. ①②④
C. ①③④ D. ②③④

2. 下面是某人观察汉画像砖《牛耕图》后的感悟，正确的是 ()



- A. 汉代农用动力发生根本变化
B. 汉代耕犁更有利于调节耕作深度
C. 汉代精耕细作技术有了提高
D. 中国传统步犁形状基本定型
3. (2012·阜新学业水平模拟) 东汉光武帝刘秀的舅父占有田地面积达 300 余顷；东晋宰相谢安占有水陆地 265 顷，含带两山；明朝皇庄土地面积达 37 000 多顷。这种现象的根源是 ()
- A. 土地兼并 B. 豪强地主拥有强权
C. 国家授田 D. 土地私有
4. 下图所介绍的生产工具出现于 ()



- A. 汉朝 B. 唐朝 C. 明朝 D. 清朝
5. 小农经济的长期存在是中国封建社会发展缓慢和长期延续的重要原因。这主要是因为 ()
- A. 小农经济下形成了精耕细作的技术体系

- B. 小农经济阻碍封建社会经济的发展
C. 小农经济是一种自给自足的自然经济且占据主导地位
D. 小农经济关系到封建政权的安危
6. 在我国土地所有制由国有到私有的转变中起决定性的因素是 ()
- A. 铁器和牛耕的出现 B. 公田的大量抛荒
C. 各诸侯国的税制改革 D. 商鞅变法
7. 私营手工业是我国古代手工业的重要组成部分，它 ()
- ①出现于春秋战国时期 ②主要生产供民间消费的产品
③在封建社会的手工业生产中长期占据主导地位 ④代表着古代手工业生产的最高技艺
- A. ①② B. ②③
C. ③④ D. ①④
8. (2012·营口学业水平模拟) 成语“朝秦暮楚”有多种解释，如比喻立场不坚定。假如用在商业上，该成语可以从侧面反映中国古代 ()
- ①商人为获利而往来奔波 ②商业交通比较发达
③长途贩运的商业现象 ④秦楚两地商业最发达
- A. ①②③ B. ①④
C. ①③④ D. ②③④
9. 下列对宋朝以前“市”的叙述有误的是 ()
- A. 县治以上的城市，一般都在特定的位置设“市”
B. “市”四周有围墙，与民居严格分开
C. 官府设“市令”或“市长”，对市场交易进行严格的管理
D. 按时“开市”、“闭市”，“闭市”后只允许进行大额交易
10. 明中后期“奴富至数百万，初缙绅皆丑之，而今则乐与为朋矣”，“缙绅家之女(婚嫁)惟财是计，不问非类”(引自《林居漫录》)，导致这种社会巨变的主要原因是 ()
- A. 受西方文明的影响 B. 封建制度的衰落
C. 商品经济的发展 D. 民主思想的影响

答题栏	
1	
2	
3	
4	
5	
6	
7	
8	
9	
10	
11	
12	

11. 汉初规定商人不得“衣丝乘车”，这反映汉初实行 ()

- A. “海禁”政策 B. “重农抑商”政策
C. “工商官营”政策 D. 奖励农耕

12. 明清时期，中国资本主义萌芽发展缓慢的主要原因是 ()

- A. “重农抑商”的观念 B. 自然经济占主导地位
C. 封建制度的阻碍 D. 外国商品的竞争

二、非选择题

13. (2012·河北学业水平模拟)阅读下列材料：

材料一 (汉元帝时，贡禹表称)方今齐三服官(负责制作天子服用)作工各数千人，一岁费数巨万。蜀广汉主金银器，岁各用五百万。三工官官费五千万，东西织室亦然。

——《汉书·贡禹传》

材料二 “工之子恒为工。”(《国语·齐语》)“工匠之子，莫不继事。”(《荀子·儒效》)“工商皆为家传其业以求利。”

——《唐六典》

请回答：

- (1)据材料一说明古代官营手工业的生产目的，并结合所学知识归纳概括汉代官营手工业的发展状况及经营特点。
- (2)据材料二分析中国古代手工业在技术的传承上具有怎样的特点？造成这一特点的根本原因是什么？

14. 阅读下列材料，回答问题。

材料一 《醒世恒言》叙述：明朝浙江淳安县的一个小地主，依靠仆人贩售油漆等物品，致富数千金，于是购置田产，居为大地主。又有苏州王宪，出生于大地主家庭，经营一个玉器铺，更富裕了。

材料二 《清代全史》叙述：杭州人张瀚的祖先在(明朝)成化末年购置织机一张，从事纺织，所织布精良，“每一下机，人争鬻之”，因此获利甚多，后来织机发展到二十余张。

材料三 朕观四民之业，士之外农为最贵，凡士工商贾，皆赖食于农，故农为天下本务，而工商皆其末也。……逐末之人多，不但有害于农，而并有害于工矣。

——清朝雍正帝语

- (1)材料一、二分别反映了明朝的什么社会经济现象？你怎样评价材料二中的经济现象？
- (2)材料一、二提及的人物从事的经济活动有哪几种？哪一种经济活动是当时社会经济的主体？为什么？
- (3)材料三的思想在明清政府的哪些政策中得到体现？这些政策造成了什么严重后果？



专题适应性训练(六) 工业文明的崛起和对中国的冲击

学习札记



一、选择题

1. 新航路开辟的主观条件是 ()

A. 西欧资本主义萌芽, 商品经济的发展

B. 奥斯曼土耳其人阻断了传统商道

C. 天文地理知识和造船技术的进步

D. 西欧贵族和商人渴望开辟一条抵达东方的途径, 发财致富
2. (2012·铁岭学业水平模拟) 美洲的原始居民被称为“印第安人”, 这一称谓首先出自何人之口 ()

A. 哥伦布 B. 麦哲伦

C. 达·伽马 D. 迪亚士
3. 新航路的开辟之所以被认为是人类历史的一大进步, 最主要是由于 ()

A. 大大开阔了人们的视野

B. 人类开始由各地区分散孤立的发展走向整体世界

C. 证明了地圆学说

D. 近代商品和证券交易所开始出现
4. 大西洋三角贸易的航程是 ()

A. 非洲—亚洲—美洲—欧洲

B. 欧洲—非洲—美洲—欧洲

C. 亚洲—美洲—非洲—欧洲

D. 欧洲—美洲—非洲—欧洲
5. 工厂制在英国工业革命中出现的主要原因是 ()

A. 市场需求急剧扩大

B. 工人数量急剧扩大

C. 机器生产发展的需要

D. 国家管理经济的需要
6. 第一次工业革命最显著的特点是 ()

A. 雇佣关系取代师徒关系

B. 手工工场取代手工作坊

C. 机器大工业取代工场手工业

D. 生产高速增长取代缓慢增长
7. 第二次工业革命把人类带入了一个新的时代。下列最能体现“新的时代”特征的发明是 ()



A



B



C



D
8. (2012·葫芦岛学业水平模拟) 瓦特制成的改良蒸汽机对工业革命的最大影响是 ()

A. 标志着工业革命的完成

B. 促进了英国重工业的发展

C. 标志着英国工厂制度的确立

D. 使机械化生产突破了自然条件的限制
9. 鸦片战争给中国的经济结构带来的变化有 ()

A. 中国逐渐依附于世界资本主义体系

B. 小农经济完全解体

C. 中国的阶级结构出现了买办阶级, 鸦片战争后流入城市的破产农民

D. 自然经济不再占统治地位
10. 洋务运动欲“自强”而不强的结局, 从根本上说是因为 ()

A. 没有坚决反对西方列强侵略

B. 创办的近代企业采用封建生产方式

C. 西方列强的破坏

D. 没有从根本上触动中国的封建生产关系
11. 电视剧《大染坊》叙述了周村人陈寿亭从一无所有的乞丐到资产雄厚的企业家的创业历程。该片的主题歌写道: “总以为彩虹就在眼前, 我却在风雨中越走越远, 这一场荣华富贵好心酸。”造成剧中主人公“荣华富贵好心酸”的主要原因是 ()

A. 出身贫贱低微, 社会地位低下

B. 个人情感历经曲折和磨难

答题栏

1
2
3
4
5
6
7
8
9
10
11
12

- C. 深受中外反动势力的欺凌
D. 商场上勾心斗角、尔虞我诈的刺激
12. 轮船、火车等交通工具传入中国,对中国近代社会产生的影响不包括 ()
- A. 客观上推动了中国的近代化进程
B. 促进了人口流动、信息交流
C. 便利了列强进一步掠夺中国
D. 减缓了中国的半殖民地化进程

二、非选择题

13. 交通工具的演变,记录着人类文明发展的每一步进程。请根据下列交通工具演变图,回答问题。

材料 交通工具演变图



图一 马拉车 图二 史蒂芬孙和他发明的火车 图三 本茨的三轮汽车

- (1)从图一到图二,交通工具在动力方面发生了什么变化?从图二到图三,动力机发生了什么变化?
(2)分别简述导致上述变化的原因。

14. (2012·宁夏学业水平模拟)2012年是世界博览会在上海举办的2周年,也是鸦片战争爆发172周年。鸦片战争使中国面临“千古未有的变局”,上海成为近现代中国与世界联系的桥头堡。请回答下列问题:

- (1)鸦片战争前,中国传统经济结构的基本特点是什么?
(2)上海是鸦片战争后最早被迫对外开放的城市之一,也见证了中国民族资本主义的产生。请写出中国民族资本主义产生的时间,举出当时上海的一个民族资本主义企业。
(3)民国初期,民族工业获得了一次发展的良机,出现了“短暂的春天”。促成此次发展的原因是什么?
(4)概括南京国民政府统治初期我国民族资本主义企业的发展状况。
(5)若世博会在青岛举办,你认为会对山东带来什么积极的影响?





专题适应性训练(七) 各国经济体制的创新、调整与中国特色社会主义建设的道路

一、选择题

- 20世纪30年代美国的经济危机是生产和销售之间的矛盾加剧的结果。加剧这一矛盾的因素有()
 ①国民收入分配不均 ②分期付款和银行信贷
 ③股票投机活动猖獗 ④工商企业大量破产倒闭
 A. ①②③ B. ②③④ C. ①②④ D. ②③
- 右图是20世纪30年代美国兴建的田纳西河流域水利工程,它吸纳了众多失业人口的就业。这一工程是罗斯福新政哪项内容的具体体现()
 A. 整顿银行与金融业
 B. 通过《全国工业复兴法》
 C. 调整农业结构
 D. 兴办(社会)救济与公共工程
- 第二次世界大战后,发达国家的经济被称为“国家垄断资本主义”。这表明()
 A. 垄断资本日益排挤中小企业
 B. 国有企业占主导地位
 C. 国家对经济的控制加强
 D. 私人经济依附于国家
- (2012·大连学业水平模拟)赫鲁晓夫和勃列日涅夫的经济改革失败的原因都是由于()
 A. 把重点放在农业改革上
 B. 把重点放在重工业改革上
 C. 没有改变高度集中的经济体制
 D. 缺乏明确的指导思想
- 1953~1956年我国社会主义改造的实质是()
 A. 继续恢复国民经济
 B. 完成新民主主义革命的任务
 C. 消灭资产阶级
 D. 变革生产关系的社会主义革命
- 某国庆节前夕,一中学高一学生制订了一份有关共和国历史的调查问卷,其中有一项:社会主义制度在我国建立的标志是什么?如果你收到这份问卷并填写至此项时,你应该选择()
 A. 中华人民共和国成立
 B. 社会主义改造的完成
 C. 中共“八大”的召开
 D. “一五”计划的完成
- 中国历史进入社会主义现代化建设新时期的标志是()
 A. 粉碎林彪反革命集团
 B. 粉碎江青反革命集团
 C. 召开党的十一届三中全会
 D. 提出四项基本原则
- “凤阳地多不打粮,碾子一住就逃荒。只见凤阳女出嫁,不见新娘进凤阳。”“1979年凤阳全县粮食产量比1978年增长49%。”出现这种变化的原因是实行了()
 A. 家庭联产承包责任制
 B. 对农业的社会主义改造
 C. “人民公社化”运动
 D. 社会主义新农村建设
- 从1985年到1987年,我国指令性计划的工业产品由120种减少到60种,计划管理的商品由188种减少到23种,计划供应出口商品由70种减少到36种。这种情况说明()
 A. 私营工商业得到恢复和发展
 B. 企业自主权得到扩大
 C. 我国国民经济出现严重困难
 D. 我国建立了社会主义市场经济体制
- (2012·辽阳学业水平模拟)中共“十四大”相对于“十三大”的一个重大突破是()

答题栏

1
2
3
4
5
6
7
8
9
10
11
12

- A. 以经济建设为中心,加快改革开放的步伐
- B. 全面建设小康社会
- C. 把中国建成富强、民主、文明的社会主义国家
- D. 明确建立社会主义市场经济体制的改革目标

11. 我国全方位对外开放格局的层次是 ()

- ①沿海开放城市 ②经济特区 ③沿海经济开放区 ④内地
- A. ①②③④ B. ②①③④
- C. ②①④③ D. ②③①④

12. (2012·吉林学业水平模拟)“时尚中国”的标志有 ()

- ①“时间就是金钱”的观念 ②穿着打扮个性化
- ③“装修热” ④流行语言的变化
- A. ①② B. ①②③
- C. ①③④ D. ①②③④

二、非选择题

13. 阅读下列描述安徽凤阳变化的材料,回答问题。

材料一 说凤阳,道凤阳,凤阳本是好地方,自从出了朱皇帝,十年倒有九年荒。(明代)

材料二 凤阳地多不打粮,碾子一住就逃荒。只见凤阳女出嫁,不见新娘进凤阳。(“文革”时期)

材料三 说凤阳,道凤阳,改革鼓点先敲响,三年跨了三大步,如今飞出金凤凰。(十一届三中全会后)

- (1)材料一、二各反映了怎样的历史背景?
- (2)材料三中凤阳“三年跨了三大步”的原因是什么?
- (3)材料二和材料三各自反映了农村的什么体制?二者的效果为何明显不同?根本原因是什么?

14. 上海浦东的变化体现了国家对浦东的开发和开放的结果。

阅读下列材料:

材料一 上海浦东开发前——“宁要浦西一张床,不要浦东一间房”。

材料二 上海浦东的标志性建筑——东方明珠



材料三 浦东创下了许多“全国第一”:“中华第一楼”金茂大厦、“中国第一塔”东方明珠电视塔、中国第一条磁悬浮铁路、中国第一座现代化的垃圾发电厂、全国第一个保税区——外高桥保税区、全国惟一一个以“金融贸易”命名和定位的开发区——陆家嘴金融贸易区……在体制创新、城市管理等方面,浦东的创举更是不胜枚举。仅在法律服务方面,就创建了全国第一家知识产权法庭、第一个法律援助中心、第一个“110”电话报警系统、第一台“999”市民救助电话等。1990年浦东开发初期的生产总值仅为60亿元人民币,到2009年,浦东新区的生产总值达到3750亿元人民币。

请回答:

- (1)结合所学知识,分析国家开发浦东的战略意义。浦东有何地理优势?
- (2)依据材料二、三和所学知识,分析上海浦东在我国经济发展中的重要地位。
- (3)从上海浦东的变化中,你可以得出什么启示?






专题适应性训练(八) 当今世界经济的全球化趋势

一、选择题

1. (2012·铁岭学业水平模拟)美国在二战后期积极倡导建立国际货币基金组织的根本目的是 ()
- A. 促进国际收支平衡
B. 促进世界贸易的发展
C. 确立在世界经济中的霸权地位
D. 充分利用世界资源

2. 下面是一些国际组织的标志。其中主要宗旨是向成员国提供贷款以促进该国经济恢复与发展的是 ()



3. 1946~1949年,美国对外投资增加近50%。到1970年,美国资本输出总额达1 555亿美元,占资本主义世界的一半左右。世界出口贸易总额年均增长率,1948~1960年为6.8%,1960~1965年为7.9%,1965~1970年为11%。据此可知 ()
- ①布雷顿森林体系的建立,便利了美国对外经济扩张 ②美国成为资本主义世界的经济霸主
③美国在当时的世界贸易中地位突出 ④世界贸易总额年均增长率的不同反映了世界经济的动荡
- A. ①②③ B. ①②④ C. ①③④ D. ②③④

4. 按成立先后顺序排列以下区域性经济集团,正确的是 ()
- ①欧洲联盟 ②北美自由贸易区 ③亚太经合组织
- A. ①②③ B. ②①③ C. ③①② D. ③②①
5. 当我们看到某同学把1986年、1995年11月、2001年12月等时间进行整理时,我们根据这些时间发生的重大事件,可以判断出这位同学在学习 ()
- A. 关税与贸易总协定的成立过程

- B. 世界贸易组织的成立过程
C. 中国加入世界贸易组织的过程
D. 世界经济区域集团化的演变过程
6. 关贸总协定的性质是 ()
- A. 国际政治组织 B. 国际贸易组织
C. 国际金融组织 D. 国际政治经济组织
7. 欧共体在推进经济一体化进程而采取的重大措施包括 ()
- ①签署《罗马条约》 ②建立关税同盟 ③统一大市场 ④实行共同农业政策
- A. ①② B. ②④ C. ②③ D. ①④

8. (2012·抚顺学业水平模拟)北美自由贸易区和亚太经合组织的相似点在于 ()
- A. 各成员国之间的合作已深入到政治领域
B. 都已建成了统一市场
C. 都是由发达国家组成的区域性经济集团
D. 都是发达国家和发展中国家组成的区域性经济集团

9. 经济全球化迅速发展的原因 ()
- ①科技发展推动生产力的迅速提高 ②交通和通讯的技术创新 ③两极格局结束后障碍的消除
④全球范围内对市场经济的普遍认可
⑤区域一体化和区域集团化的催化作用
- A. ①② B. ①②③
C. ①②③④ D. ①②③④⑤

10. 在20世纪经济全球化迅速发展的诸多因素中,其根本的推动力是 ()
- A. 两极格局的结束 B. 新型交通和通讯方式
C. 科学技术的发展 D. 世界市场的扩大
11. 全球闻名的“耐克”公司年产球鞋9 000万双,每年推出100多种新产品、新款式,公司的8 000名员工只负责设计销售,生产则由分散在世界各地的

答题栏	
1	
2	
3	
4	
5	
6	
7	
8	
9	
10	
11	
12	

40 多家工厂来完成。它突出反映了当今世界经济发展的趋势是 ()

- A. 经济区域化 B. 经济全球化
C. 贸易自由化 D. 经济多极化

12. 有学者认为：“西方是经济全球化最大的赢家，第三世界却可悲地扮演着输家的角色。”对此认识正确的是 ()

- ①经济全球化加剧了全球竞争中的利益失衡
②经济区域化阻碍了全球化的实现 ③经济全球化加强了西方国家的经济优势 ④发展中国家必须全面实现西方化
A. ①②③ B. ②③④ C. ②④ D. ①③

二、非选择题

13. 阅读下列材料：

1943 年,《星期六晚邮报》发表《罗斯福的世界蓝图》一文,透露了罗斯福在战后建立一个由美国领导的、符合美国利益的世界政治与经济秩序世界安排的设想。具体措施有二:一是组建一个美国在其中起主导作用的普遍性的国际组织——联合国;二是建立以美国为核心的世界经济体系。1945 年,杜鲁门总统在致国会的咨文中郑重宣布:“胜利已使美国人民有经常而迫切的必要来领导世界了。”

据所学请回答:

- (1) 美国得以按照自己的设想构筑战后世界经济体系的历史条件是什么?
(2) 二战后,“罗斯福的世界蓝图”中“以美国为核心的世界经济体系”是如何形成的?

14. 经济全球化已成为不以人的意志为转移的历史趋势。20 世纪 90 年代以来,亚太地区、欧洲和北美地区均出现了一些大的区域性经济集团。

- (1) 请你各举一例:区域性经济集团组织和世界性贸易组织。
(2) 谈谈你对世界经济区域集团化和全球一体化之间关系的认识。
(3) 面对经济全球化,你认为中国应采取什么措施?

