



全方位呈现全国各地示范教研成果

金榜之星[®]

导练大课堂[®] DAO LIAN DA KE TANG



第一步

随堂梯度练测+期中期末

总主编：王永乾



八年级地理 (上)

人教版



黄河出版传媒集团
宁夏人民教育出版社

图书在版编目(CIP)数据

金榜之星·导练大课堂·八年级地理·上册/王永乾主编. —银川:
宁夏人民教育出版社, 2011. 5

ISBN 978-7-80764-434-7

I. ①金… II. ①王… III. ①中学地理课—初中—教学参考资料
IV. G634

中国版本图书馆 CIP 数据核字(2011)第 075544 号

初中导练大课堂

人教版八年级地理(上)

总主编 王永乾
责任编辑 吴阳 姜楠
封面设计 永乾图书
排版制作 杨素灵
责任印制 刘丽

黄河出版传媒集团
宁夏人民教育出版社 出版发行

地 址 银川市北京东路 139 号出版大厦(750001)
网 址 www.yrpubm.com
网上书店 www.hh-book.com
电子信箱 jiao_yu_she@yrpubm.com
邮购电话 0951-5014284
经 销 全国新华书店
印刷装订 山东永乾图书有限公司

开 本 880×1230(mm) 1/16
印 张 80
字 数 1180 千字
版 次 2011 年 5 月第 1 版 第 1 次印刷
印 数 10000 册
书 号 ISBN 978-7-80764-434-7/G·1357

总定价:164 元

(版权所有 翻印必究)



第一章 从世界看中国

第一节 辽阔的疆域

第一课时



课前自主练

- 从东、西半球看,中国位于_____半球;从南、北半球看,中国位于_____半球。
- 从世界大洲和大洋的位置关系看,中国位于_____洲东部、_____洋西岸。
- 从纬度位置看,中国跨_____带、_____带两个温度带,没有_____带。
- 从海陆位置看,我国是一个_____兼备的国家。
- 我国陆地面积_____万平方千米,仅次于_____和_____,居世界第_____位。
- 我国陆上疆界长达_____多千米,相邻的国家_____个。
- 我国领土的最北端位于黑龙江省漠河以北的_____江主航道中心线上;最南端是_____;最西端在_____高原上;最东端在_____江与乌苏里江主航道中心线的相交处。
- 我国濒临的海洋,自北向南依次是_____海、_____海、_____海。
- 中国面积最大的岛屿是_____岛。



课堂巩固练

- 从世界大洲和大洋的位置看,我国位于 ()
A. 亚洲西部、大西洋东岸
B. 欧洲西部、大西洋东岸
C. 亚洲南部、印度洋北岸
D. 亚洲东部、太平洋西岸
- 在地球的“五带”中,我国领土大部分位于 ()
A. 热带
B. 北温带
C. 北寒带
D. 南温带
- 我国陆地领土面积在世界各国中,仅次于 ()
A. 美国、加拿大
B. 美国、巴西
C. 俄罗斯、巴西
D. 俄罗斯、加拿大

- 台湾海峡属于 ()
A. 东海 B. 黄海 C. 渤海 D. 南海
- 下列重要的经、纬线中,穿过我国的是 ()
A. 赤道
B. 本初子午线
C. 北回归线
D. 北极圈
- 上海合作组织成员国(中国、俄罗斯、哈萨克斯坦、吉尔吉斯斯坦、塔吉克斯坦、乌兹别克斯坦)第七次总理会议举行时,温家宝出席开幕式并致辞。上海合作组织成员国中我国的邻国有 ()
A. 2个 B. 3个 C. 4个 D. 5个
- 与我国隔海相望的一组国家是 ()
A. 印度、文莱、菲律宾
B. 马来西亚、朝鲜、韩国
C. 日本、朝鲜、印尼
D. 文莱、菲律宾、日本
- 我国最早迎来新的一天的地方是 ()
A. 帕米尔高原
B. 曾母暗沙
C. 漠河以北
D. 黑龙江与乌苏里江主航道中心线的相交处
- 读“中国疆域示意图 1-1-1”,完成下列问题:

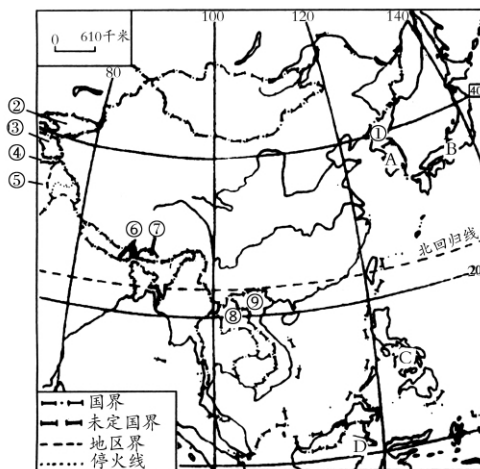


图 1-1-1

(1) 写出图中数字代表的陆上邻国名称:

- ① _____ ② _____ ③ _____ ④ _____



⑤ _____ ⑥ _____ ⑦ _____ ⑧ _____

⑨ _____

(2) 写出图中字母代表的与我国隔海相望的国家:

A _____ B _____ C _____ D _____

(3) 从图中可以看出, 与我国有着不连续疆界的陆上邻国是: _____。

_____个省, _____个自治区 _____直辖市和 _____个特别行政区。

3. 各民族自治地方, 都是中华人民共和国不可 _____ 的地方。

4. _____ 是我们伟大祖国的首都。

5. 写出自己家乡所在的三级行政区的名称: _____、_____、_____。

6. 下列各省级行政区中有两个简称的一组是 ()

- A. 四川、甘肃、陕西、山西、贵州
- B. 云南、甘肃、四川、贵州、湖南
- C. 四川、甘肃、云南、贵州、陕西
- D. 云南、陕西、四川、贵州、福建

7. 如图 1-1-3 所示四省中, 汶川大地震灾情最严重的省份是 ()

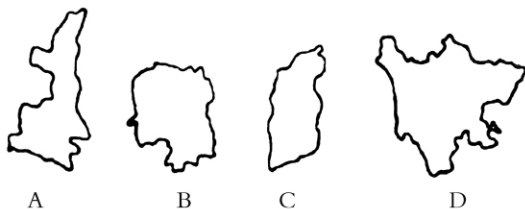


图 1-1-3

8. 我国的两个特别行政区是 ()

- A. 北京市、上海市
- B. 台湾省、海南省
- C. 香港、澳门
- D. 天津市、重庆市

9. 下列几个省区的名称, 排序和图序相符的是 ()



- A. ①湖北省 ②广东省 ③云南省
- B. ①广东省 ②云南省 ③湖北省
- C. ①广东省 ②湖北省 ③云南省
- D. ①云南省 ②湖北省 ③广东省

课堂巩固练

10. 下列省级行政区与其行政中心的组合, 正确的是 ()

- A. 浙江省——南京
- B. 湖北省——武汉
- C. 广东省——南宁
- D. 山西省——兰州

11. 跨经度最多、纬度最广的我国省级行政区分别是 ()

课后提高练

19. 读图, 回答下列问题:

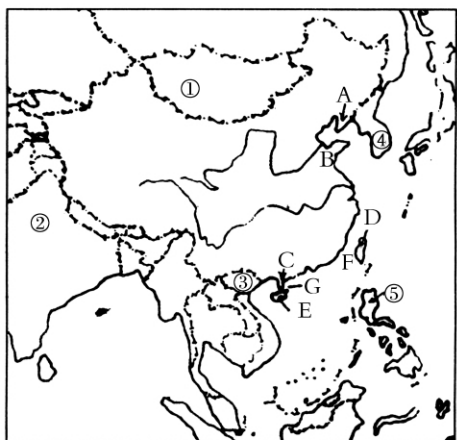


图 1-1-2

(1) 半岛: A _____ B _____ C _____

(2) 岛屿: D _____ E _____

(3) 海峡: F _____ G _____

(4) 陆上邻国: ① _____ ② _____ ③ _____
其中与我国有不连续疆界的是 _____。

(5) 隔海相望的国有: ④ _____ ⑤ _____

(6) 我国东、西、南、北、四端点, 分别用 E、W、S、N 符号在图上表示出来。

(7) 简述我国地理位置的优越性。

纬度位置: _____

海陆位置: _____

第二课时

课前自主练

1. 我国的行政区划分为 _____、_____、_____ 三级。

2. 目前, 我国共有 _____ 个省级行政单位, 包括 _____



- A. 新疆维吾尔自治区、甘肃
- B. 云南、新疆维吾尔自治区
- C. 内蒙古自治区、海南
- D. 西藏自治区、新疆维吾尔自治区

12. 下列省区全称、简称、行政中心组合正确的是

- A. 广东省——桂——广州
- B. 海南省——琼——三亚
- C. 河北省——冀——石家庄
- D. 湖北省——湘——武汉

13. 读图，回答下列问题。

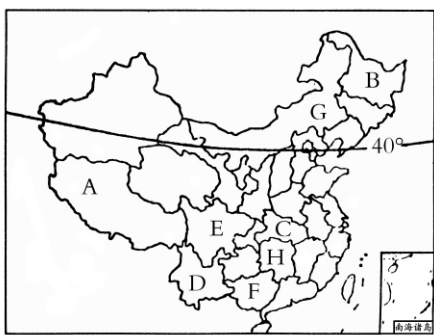


图 1-1-4

(1) 写出图中字母代表的省区名称：

A _____ B _____ C _____ D _____

(2) 写出图中字母所在省区的行政中心名称：

E _____ F _____ G _____ H _____

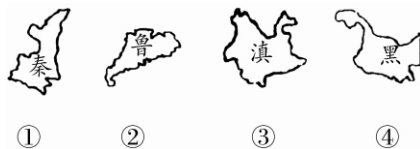
(3) 在图中相应位置填注下列各省(自治区、直辖市)的简称：

广东 江西 湖北 安徽 河北 陕西 山东
甘肃 重庆 贵州 上海

(4) 沿北纬 40°，从东向西依次写出该线通过的省市区的名称。

- A. ①云 ②桂 ③皖 ④黑
- B. ①滇 ②粤 ③鄂 ④黑
- C. ①青 ②粤 ③渝 ④新
- D. ①新 ②滇 ③豫 ④鲁

15. 下列省区轮廓与简称不对应的是 ()



- A. ① B. ④ C. ② D. ③

16. 下列各省区都有两个简称的是 ()

- A. 四川、广西
- B. 陕西、宁夏
- C. 贵州、云南
- D. 甘肃、青海

17. 暑假你如果从大连坐船到海南三亚，依次经过我国哪些领域？ ()

- A. 黄海、南海、东海
- B. 东海、南海、黄海
- C. 黄海、渤海、东海
- D. 黄海、东海、南海

18. 中国西部大开发的范围包括西部地区的陕西、甘肃、青海、宁夏、新疆、四川、重庆、云南、贵州、西藏等 10 个省、市、自治区，另外，内蒙古自治区和广西壮族自治区也属西部开发的地区范围。其土地面积约占全国陆地面积的 70%，地域辽阔，资源丰富。读图 1-1-5，回答下列问题：

(1) 请写出字母表示的西部开发的 12 个省级行政区的简称。

- A. _____ B. _____ C. _____
- D. _____ E. _____ F. _____
- G. _____ H. _____ I. _____
- J. _____ K. _____ L. _____

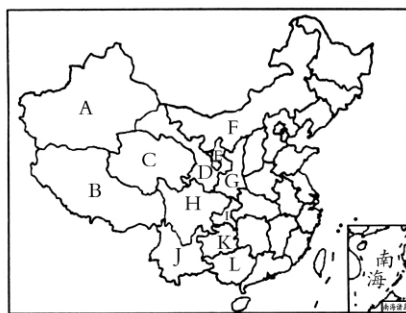
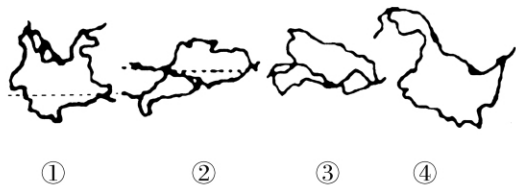


图 1-1-5

课后提高练

14. 下面四省区汽车牌照的第一个字依次为 ()





(2)“神舟六号”载着费俊龙、聂海胜两位航天英雄历时 115 小时 32 分在我国北部边疆的一个自治区成功着陆,这个省级自治区是 _____,简称是 _____,行政中心是 _____。

(3)“中部崛起”将成为继“西部大开发”和“振兴东北老工业基地”之后中央又一项统筹区域发展、进行宏观调控的重大战略。中部地区是指地处我国中部的 _____、_____、_____、_____、_____、_____ 6 个省区。

(4)我国既有海上疆界又有陆上疆界的省级行政单位是 _____ 和 _____,它们的简称分别是 _____ 和 _____。

第三课时

课前自主练

- 中国最大的盐场是 _____ 盐场,中国最大的渔场是 _____ 渔场。
- 我国台湾岛西侧的 _____ 海峡,属于 _____ 海,是我国南北海上航行,祖国大陆与台湾交往的必经通道。
- 当我国乌苏里江旭日东升时,帕米尔高原却是繁星满天。产生这种差异的主要原因是 ()
 - 我国东西跨经度很广
 - 我国南北跨纬度很广
 - 我国东西地形差异显著
 - 我国南北气温差别很大
- 从半球位置看,我国位于 ()
 - 西半球、南半球
 - 东半球、北半球
 - 西半球、北半球
 - 东半球、南半球
- 从海陆位置看,以下国家同我国相似,都具有海陆兼备特征的是 ()
 - 蒙古
 - 日本
 - 英国
 - 印度
- 我国所濒临的海洋,从南向北依次为 ()

- 南海、东海、黄海、渤海
- 黄海、渤海、东海、南海
- 渤海、黄海、东海、南海
- 东海、南海、黄海、渤海

7. 下列关于我国地理位置及其优越性的表述,不正确的是 ()
- 我国位于亚洲的东部,太平洋的西岸
 - 我国东临太平洋,东部广大地区雨量充沛,利于农业发展
 - 我国主要位于热带
 - 我国南北跨纬度广,南北气候差异大,为我国发展多种农业经济提供了有利条件

课堂巩固练

- 车牌号为“渝 A01236”的汽车属于哪个省级行政区 ()
 - 海南省
 - 重庆市
 - 河南省
 - 湖南省
- 北回归线自西向东穿过的我国省级行政区是 ()
 - 台、桂、粤、云
 - 台、粤、桂、滇
 - 云、桂、粤、台
 - 滇、桂、闽、台
- 我国纬度最高和最低的省的简称分别是 ()
 - 黑、粤
 - 内蒙古、桂
 - 黑、琼
 - 新、台
- 今年寒假的时候,小明去哈尔滨滑雪,小刚则去海南岛领略海岛风情,下面是他们拍摄的两幅照片,你认为造成两地气候差异的最主要因素是 ()



图 1-1-6

- 地形的影响
- 海陆位置
- 纬度位置
- 地势的影响



12. 读图,回答问题:

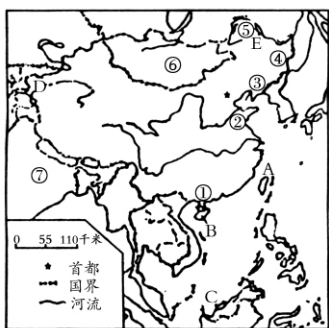


图 1-1-7

(1)写出图中字母和数码所代表的地理事物的名称:

岛屿:A. _____, B. _____, C. _____ (最南端),
D. _____ (最西端), ① _____ (内海), ② _____
(省), ③ _____ (海); 河流: ④ _____, ⑤ _____; 邻
国: ⑥ _____, ⑦ _____。

(2)2月份E处和C处景观有何不同? 形成原因是什么?

(3)当④处日出时,D处是白天还是黑夜,为什么?

课后提高练

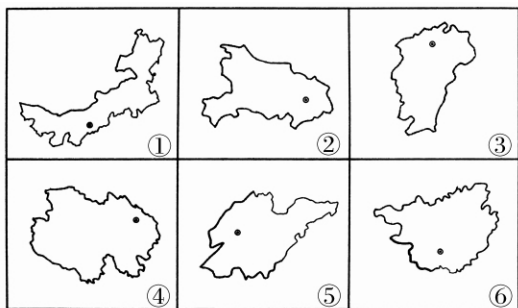
13. 在我国的陆上邻国中,与我国有不连续疆界的是 ()

- A. 俄罗斯、蒙古
- B. 哈萨克斯坦、日本
- C. 俄罗斯、印度
- D. 印度、缅甸

14. 下列海域属于我国内海的是 ()

- A. 渤海、黄海
- B. 黄海、东海
- C. 南海、东海
- D. 渤海、琼州海峡

15. 读下图,完成下列问题。



(1)图中六省,临海的有 _____, 陆上同邻国接壤的是 _____, 纬度最高的是 _____, 北回归线穿过的是 _____, 位置最西的是 _____。(填序号)

(2)分别写出下列数字代表的省级行政区的全称和简称:

- ① _____, _____; ② _____, _____;
- ③ _____, _____; ④ _____, _____;
- ⑤ _____, _____; ⑥ _____, _____。

16. 连连看。用直线把我国领土的四个端点与所对应的地区连接起来。

- | | |
|--------|----------------------|
| A. 最西端 | ① 漠河以北黑龙江主航道中心线 |
| B. 最东端 | ② 曾母暗沙 |
| C. 最北端 | ③ 帕米尔高原 |
| D. 最南端 | ④ 黑龙江与乌苏里江主航道中心线的相交处 |

17. 读下图,完成下列问题。

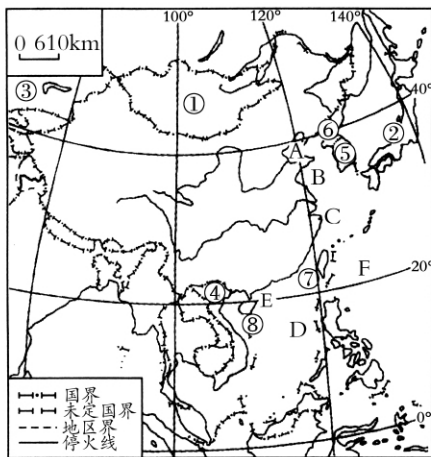


图 1-1-8

(1)填出字母代表的海洋名称。

A _____ 海, B _____ 海, C _____ 海,
D _____ 海, E _____ 海峡, F _____ 洋。

(2)填出数字代表的邻国或隔海相望的国家名称。

① _____, ② _____, ③ _____,
④ _____, ⑤ _____, ⑥ _____。

(3)填出数字代表的岛屿名称。

⑦ _____ 岛, ⑧ _____ 岛。

(4)我国陆地面积约 _____ 万平方千米, 仅次于 _____、_____ 两国。

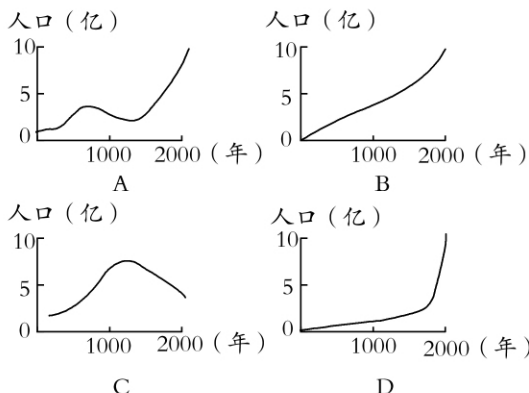


第二节 众多的人口

第一课时

课前自主练

- 根据 2000 年第五次人口普查,我国总人口为 _____ 亿,占世界人口 _____ 以上,人口数量居世界第 _____ 位。
- 我国人口的突出特点是 _____,人口增长快。
- 人口的增长要与 _____ 和 _____ 条件相适应,为此,我国把实行 _____ 作为一项基本国策。
- 关于我国人口的叙述,错误的是 ()
 - 我国是世界上人口总数最多的国家
 - 晚婚晚育可以降低我国人口出生率
 - 我国是世界上人口密度最大的国家
 - 我国东部人口稠密,西部人口稀疏
- 下列有关我国人口政策的说法,正确的是 ()
 - 实行计划生育,使我国人口总数呈下降趋势
 - 使我国人口不再增长
 - 我国人口少,不需要实行计划生育
 - 计划生育是我国的基本国策
- 我国人口增长的状况是 ()
 - 一直很快
 - 一直很慢
 - 旧中国人口增长缓慢
 - 新中国成立以来,一直是直线上升
- 下列四幅“人口增长图”,与我国实际相符的是 ()



课堂巩固练

- 2000 年第五次人口普查,我国人口数量及占世界人口的比例分别是 ()
 - 11.95 亿 1/5
 - 12.95 亿 1/4
 - 11.95 亿 1/4
 - 12.95 亿 1/5
- 实行计划生育以来,我国每年新增人口数量仍在 1000 万左右,其最主要的原因是 ()
 - 人口死亡率低
 - 人口出生率高
 - 人口基数大
 - 人口自然增长率高
- 自 20 世纪 70 年代以来,我国实行计划生育基本国策,使世界 _____ 亿人口日的到来推迟了 4 年 ()
 - 40
 - 50
 - 60
 - 70
- 建国后我国人口增长迅速,主要原因是 ()
 - 经济文化迅速发展,医疗条件改善,生活水平提高
 - 人口居住地的自然条件发生了明显的变化
 - 坚持实行计划生育的基本国策
 - 劳动就业人口大量增加
- 进入新世纪,解决我国人口问题的主要对策是 ()
 - 继续稳定人口低生育水平
 - 遏制人口老龄化加速的趋势
 - 提高西部人口自然增长率
 - 保持目前的城市人口比重
- 我国人口增长的状况是 ()
 - 人口基数大,人口增长快
 - 人口基数大,人口增长慢
 - 人口基数小,人口增长快
 - 人口基数小,人口增长慢
- 下列有关我国人口的叙述,正确的是 ()
 - 20 世纪 70 年代以来,由于实行了计划生育,人



口增长缓慢

- B. 我国人口自然增长率很高
- C. 可用人口迁移的方法,让全国的人口平均分布
- D. 随着我国经济的不断发展,城镇人口将继续增加

15. 阅读下图,完成下列问题。




图 1-2-1

- (1) 如果 20 岁结婚生孩子,100 年有 _____ 代人;如果 25 岁结婚生孩子,100 年就有 _____ 代人。由此可知,晚婚晚育 5 年,100 年可少生 _____ 代人。
- (2) 我国人口方面的基本国策是 _____。该国策的具体要求是 _____,少生优生。

课后提高练

16. 我国人口在 2005 年 1 月 6 日突破 13 亿,13 亿人口日的到来比预计时间推迟了 4 年,其主要原因是 ()
- A. 坚持了人才强国战略
 - B. 人口基数大、人口增长快
 - C. 坚持实行计划生育的基本国策
 - D. 人口增长超过了经济和环境的承受能力
17. 以下有关我国人口增长的正确叙述是 ()
- A. 人口增长速度回升快
 - B. 人口增长速度下降,增长数量减少
 - C. 人口基数大,每年净增人口在减少
 - D. 人口基数大,每年净增人口数量仍然很大
18. 世界上人口数量位居前三位的是 ()
- A. 中国、印度、美国

- B. 中国、美国、俄罗斯
- C. 中国、印尼、美国
- D. 中国、巴基斯坦、日本

19. 读“中国人口的增长示意图”,完成下列要求:

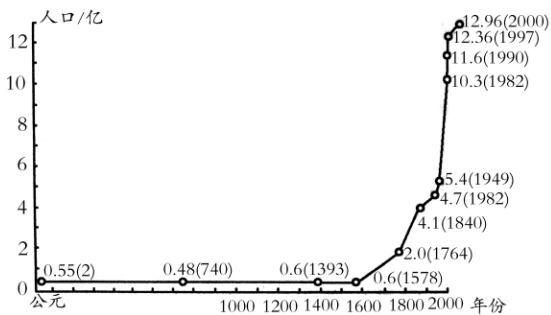


图 1-2-2

- (1) 旧中国人口增长的特点是 _____,原因是旧中国 _____ 落后,战争、灾荒频繁,疫病多,死亡率 _____。
- (2) 新中国成立以来,人口增长的特点是 _____;原因是新中国成立以来, _____ 迅速发展, _____ 条件逐步改善,生活水平不断提高,人口 _____ 率大幅降低,人口 _____ 率较高。
- (3) 20 世纪 70 年代以来,我国实行计划生育的人口政策后 ()

- A. 人口自然增长率有所下降
- B. 人口略有下降
- C. 每年净增的人口已不多
- D. 人口自然增长率没变化

- (4) 人口增长过快可能产生的后果是 ()
- A. 劳动力短缺
 - B. 资源短缺
 - C. 国防兵源不足
 - D. 人口老龄化严重

20. 材料 关于中国人口的最大容量,经各方专家预测,结论均为 16 亿。如果超过了 18 亿人,将对我国可持续发展战略的实施产生破坏性影响。

计划生育有效地抑制了我国人口过快增长的势头,取得了显著的效益,并且受到世界各国的赞誉。按 1973 年生育水平计算,到 1994 年 20 年间我国人口可达 15 亿,因实行了计划生育,实际人口则为 12 亿,少生 3 亿。我国“九五”计划及 2010 年远景规划目标规定:人口控制在 13~15 亿之内,人



口自然增长率控制在年均 10.83‰,这表明我国将进入“低、低、低”现代人口再生产类型的行列。

阅读材料,回答下列问题。

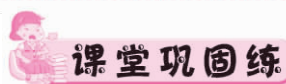
- (1)材料中最后一句话的“三低”指的是人口_____、_____、_____。
- (2)阅读材料,简答我国实行计划生育的成效。
- _____
- _____

第二课时



课前自主练

- 我国平均人口密度是世界平均人口密度的_____倍。
- 我国人口分布_____。_____部地区人口密度大,特别是_____部沿海一些省区的人口密度更大;_____部人口密度小。
- 我国人口密度最大的省是_____。
- 我国的人口密度,大致可沿黑龙江省的_____市到云南省的_____县划一条直线,这条线东南人口密度大,西北人口密度小。
- 有关我国人口分布的叙述,正确的是 ()
 - 西南多,东北少
 - 东北多,西南少
 - 东南多,西北少
 - 西北多,东南少
- 我国人口密度最小的省级行政区是 ()
 - 新疆维吾尔自治区
 - 西藏自治区
 - 甘肃省
 - 青海省
- 计划生育是我国的一项基本国策。实行计划生育后,我国每年新增人口数量仍很大,其主要原因是 ()
 - 人口基数大
 - 外来移民
 - 出生率高
 - 死亡率低
- 下列关于计划生育政策内容的说法,不正确的是 ()
 - 一对夫妇只生一个孩子
 - 少生,优生
 - 晚婚,晚育
 - 要想富,先修路



课堂巩固练

- 我国的人口地理界线是 ()
 - 漠河—腾冲
 - 漠河—拉萨
 - 黑河—腾冲
 - 黑河—昆明
- 我国平均人口密度与世界平均人口密度相比 ()
 - 已接近世界平均人口密度
 - 略大于世界平均人口密度
 - 是世界平均人口密度的 3 倍多
 - 是世界平均人口密度的 2 倍多
- 我国人口最少的省级行政区是 ()
 - 新疆维吾尔自治区
 - 西藏自治区
 - 澳门特别行政区
 - 青海省
- 下列省级行政单位中,人口全部在 5000 万以上的是 ()
 - 冀、鄂、滇
 - 晋、桂、蜀
 - 皖、湘、粤
 - 鲁、豫、陇
- 黑河—腾冲一线东部人口约占全国的 ()
 - 8%
 - 50%
 - 57%
 - 94%
- 针对我国目前人口现状,下列所要采取的措施中,正确的是 ()
 - 我国经济发展迅速,对劳动力需求大,应放松人口控制
 - 着眼于西部大开发规划,应大力推动人口由东部向西部移民
 - 继续实行计划生育国策,控制人口数量,提高人口素质
 - 少数民族人口少,不用实行计划生育
- 俄罗斯前总统普京多次发表讲话,并制定优惠政策鼓励人们生育。对我国控制人口而俄罗斯鼓励生育的不同做法,解释错误的是 ()
 - 都是为了与经济发展相适应
 - 我国人口增长过快,影响经济发展
 - 俄罗斯人口出现负增长,劳动力短缺
 - 都是为了能够让本国人口迅速增长



16. 读下图,完成下列问题。

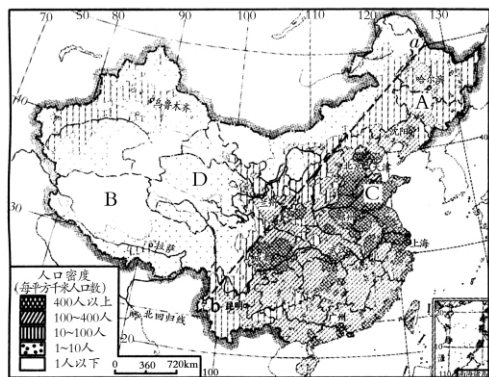


图 1-2-3

(1)判断图中 A、B、C、D 四点的人口密度。

A _____, B _____, C _____, D _____。

(2)从图中可以看出,我国人口分布不均, _____ 地区人口密度大,尤其是 _____ 地区人口密度更大; _____ 地区人口密度较小。

(3)人口稠密区与稀疏区的分界线大致沿黑龙江省的 a _____ 到云南省的 b _____ 一线。

(4)(多选)我国人口密度大于 400 人/平方千米的地区是 ()

- ①河南省 ②青海省 ③吉林省 ④云南省
- ⑤上海市 ⑥辽宁省 ⑦江苏省 ⑧山东省

(5)根据 2000 年第五次人口普查结果统计,我国平均人口密度为每平方千米 _____,东部沿海一些省区的人口密度每平方千米可达 _____,西部多数地区人口密度在每平方千米 _____ 以下。

年份(年)	出生率(%)	死亡率(%)	人口自然增长率(%)	人口总数(亿)	人口密度(人/平方千米)
1950	3.70	1.70	①	5.4	③
2000	1.50	0.55	②	12.95	④

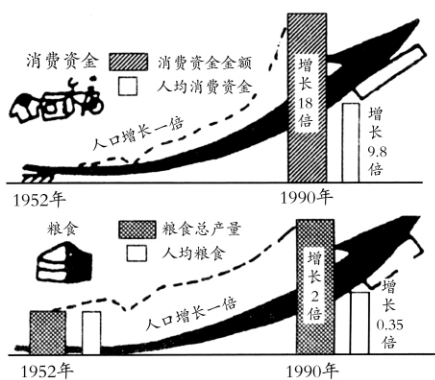
材料二 20 世纪 70 年代以来,我国计划生育的成效显著,人口出生率由 1970 年的 3.3% 下降到 2000 年的 1.5%。据推算,30 年间全国共少生 3 亿多人。按照 20 世纪 80 年代初期的价格水平和消费水平计算,仅抚养费一项就为社会节约开支约 5 万多亿元,而举世瞩目的三峡工程总的动态投资仅约为 2000 亿元。

(1)请计算人口的自然增长率和人口密度,并填入上面的表格中。

(2)计算:少生 3 亿人节约的抚养费可以修建 _____ 个三峡工程。

(3)材料二说明了什么问题?

20. 读“我国国民经济发展和人均收入增长情况图”,回答下列问题:



(1)1952 年至 1990 年,我国居民消费总额增长了 _____ 倍,人均消费水平只增长了 _____ 倍;我国粮食产量增长了 _____ 倍多,人均粮食却只增长了 _____ 倍,综上所述,造成这一社会现象的主要原因是 _____。

(2)由此可见,由于人口增长过快,不仅加重了国家、社会、家庭的负担,也影响了 _____ 水平的提高,为了使人口的增长同 _____ 相适应,我国政府把实行 _____ 作为一项基本国策。

课后提高练

17. 下列关于我国人口的说法,正确的是 ()

- A. 南方地区的人口密度比北方地区小
- B. 平原地区人口稠密,山区人口稀少
- C. 大江、大河中上游人口密度大
- D. 昆明—哈尔滨一线为我国人口地理界线

18. 我国东部人口稠密的自然原因是 ()

- A. 地形多种多样
- B. 气温高,适合人们生存
- C. 城镇多,交通便利
- D. 耕地多,气候适宜

19. 阅读材料,回答问题:

材料一



第三节 多民族的大家庭

第一课时



课前自主练

- 中国共有_____个民族,组成了多民族统一和睦的大家庭。
- 在我国各民族中,_____族人口最多,约占全国人口总数的_____。
- 少数民族占人口总数的_____。
- 人口数最多的少数民族_____族。
- 人口在 500 万人以上的少数民族有满族、_____族、苗族、_____族、彝族、土家族、_____族,藏族等。
- 各民族不论大小,一律_____。
- 大多数民族有自己的语言,很多民族还有自己的_____。
- 各民族文化的瑰宝,是祖国灿烂文化的重要组成部分,也是各民族地区得天独厚的_____资源。
- 我国宪法规定:各民族都有保持或者改革自己风俗习惯的_____;中华人民共和国公民有宗教信仰_____;国家保护_____的宗教活动。
- 泼水节是_____族的传统活动。
- 摔跤是_____族的传统体育项目。
- 冬不拉是_____族喜欢弹奏的乐器。
- _____族喜欢演奏马头琴,举行传统的那达慕大会。



课堂巩固练

- 我国各民族中,人口最多的是 ()
A. 壮族 B. 汉族 C. 回族 D. 满族
- 在祖国民族大家庭中,民族最多的一个省区是 ()
A. 云南 B. 海南 C. 新疆 D. 黑龙江
- 我国人口超过 500 万的民族有 ()
A. 56 个 B. 55 个 C. 9 个 D. 10 个
- 回族、维吾尔族等民族的群众大多信仰 ()
A. 伊斯兰教 B. 基督教
C. 天主教 D. 喇嘛教
- 关于我国民族政策的叙述,不正确的是 ()
A. 各民族不论大小,一律平等
B. 在少数民族聚居地区,实行民族区域自治
C. 尊重各民族自己的风俗习惯
D. 国家强制各少数民族信仰宗教

- 关于我国民族的正确叙述是 ()
A. 除汉族外的其他民族,统称为少数民族
B. 我国人口在 400 万以上的民族共有 19 个
C. 少数民族和汉族的分布界线十分清楚
D. 少数民族人口只占全国总人口的 8%,其分布约占全国面积的 10%左右

- 下面图中所展示的这一少数民族的聚居区在我国的 ()



- 新疆维吾尔自治区
- 内蒙古自治区
- 西藏自治区
- 宁夏回族自治区

- 下列四幅图片,依次展示的民族是 ()



图 1-3-1

- ①满族 ②维吾尔族 ③藏族 ④苗族
 - ①维吾尔族 ②藏族 ③苗族 ④满族
 - ①藏族 ②苗族 ③满族 ④维吾尔族
 - ①苗族 ②满族 ③维吾尔族 ④藏族
- 把各民族的文化活动图片与相应的民族用直线连起来。



(1) 傣族



(2) 维吾尔族



(3) 蒙古族



(4) 朝鲜族

D



课后提高练

23. 阅读材料,回答问题:

材料一 当今世界,民族关系错综复杂,民族问题对国家政治、经济、文化的影响越来越大。由此引发了一系列民族冲突和纠纷,如印巴冲突等。反观我国,社会安定、民族团结,主要原因就是新中国成立以来我们一直贯彻执行着正确的民族政策。

材料二 我国宪法规定:各民族都有保持或者改革自己的风俗习惯的自由;中华人民共和国公民有宗教信仰自由;国家保护正常的宗教活动。

(1)我国是一个多民族的和睦的大家庭。在这个大家庭里,各民族不论_____ ,一律_____。

(2)泼水节是我国哪个少数民族的传统盛大节日 ()

- A. 傣族 B. 苗族 C. 土家族 D. 藏族

24. 读图 1-3-2“我国某地区的景观图”,回答下列问题:



图 1-3-2

(1)该景观图可能位于我国下列哪个地区 ()

- A. 青藏高原地区 B. 内蒙古高原地区
C. 黄土高原地区 D. 云南的西双版纳地区

(2)根据图中民居的建筑风格及民族服饰分析,居住在该地区的少数民族是 ()

- A. 维吾尔族 B. 傣族
C. 鄂伦春族 D. 藏族

第二课时



课前自主练

- 汉族的分布遍及全国各地,以_____部和_____部最为集中。
- 各少数民族主要分布在_____、_____和_____地区。

- 各民族分布具有“_____ , _____”的特点。
- 各少数民族在自治区内行使_____权。
- 蒙古族主要分布在_____、辽宁、吉林、黑龙江等省。
- 人数较少的民族有门巴族、_____族等。
- 黎族主要分布在_____省。
- 高山族主要聚居的省级行政单位是下列图中的 ()

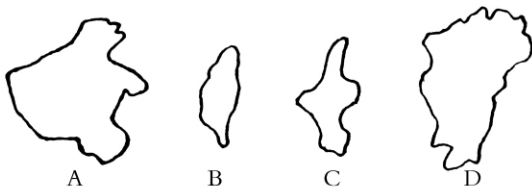


图 1-3-3

- “高空低瞰山成浪,个个峰蒙白玉中,大地苍茫如锦绣,宝藏开采待新民。”是指 ()
A. 蒙古族为主的内蒙古高原
B. 彝族为主的云贵高原
C. 回族为主的黄土高原
D. 藏族为主的青藏高原
- 下列少数民族与其所在省区搭配不正确的是 ()

- A. 朝鲜族——吉林 B. 回族——辽宁
C. 高山族——海南 D. 傣族——云南

- 关于民族地区分布,正确的是 ()
A. 各民族地区分布具有小杂居、大聚居的特点
B. 汉族分布遍及全国
C. 少数民族主要分布在东北、东南和西北
D. 民族区域自治区是单一少数民族集中分布地区



课堂巩固练

- 北回归线自西向东穿过的省区,与下列民族排序相同的是 ()
A. 高山族、汉族、壮族、傣族
B. 汉族、傣族、壮族、高山族
C. 壮族、傣族、高山族、汉族
D. 傣族、壮族、汉族、高山族
- 关于我国少数民族的叙述,正确的是 ()
A. 我国是多民族国家,全国有 56 个少数民族
B. 西藏自治区为单一的藏族分布区
C. 我国人口在 500 万以上的少数民族共有 19 个
D. 我国少数民族大多同汉族交错分布



14. 下列一组少数民族主要生活在我国西南地区的是 ()

- A. 朝鲜族、布依族、苗族
- B. 维吾尔族、回族、藏族
- C. 苗族、彝族、壮族
- D. 壮族、满族、傣族

15. 我国少数民族中分布最广泛的民族是 ()

- A. 汉族 B. 回族 C. 蒙古族 D. 苗族

16. 下列关于我国民族叙述正确的是 ()

- A. 我国少数民族都有语言, 没有自己的文字
- B. 各民族不能改变自己的风俗习惯, 要继承传统
- C. 我国各民族不论大小, 一律平等
- D. 回族、维吾尔族、蒙古族都信奉伊斯兰教

17. 关于我国人口和民族分布的叙述, 正确的是 ()

- A. 我国人口东部最多, 占总人口的 92%
- B. 我国少数民族集中分布在西北地区
- C. 我国城市人口比重大, 农村人口比重小
- D. 我国少数民族最多的地区在西南地区

18. 下列有关我国民族的叙述, 错误的一项是 ()

- A. 各民族不论大小, 一律平等
- B. 各民族有保留或改革风俗习惯的自由
- C. 各民族中, 壮族人口最多
- D. 各民族有宗教信仰自由

19. 以“摔跤”为传统体育项目的少数民族是 ()

- A. 土家族 B. 朝鲜族
- C. 哈尼族 D. 蒙古族

20. 下图为我国人口在 400 万以上的少数民族分布图, 读图, 回答问题: (20 分)

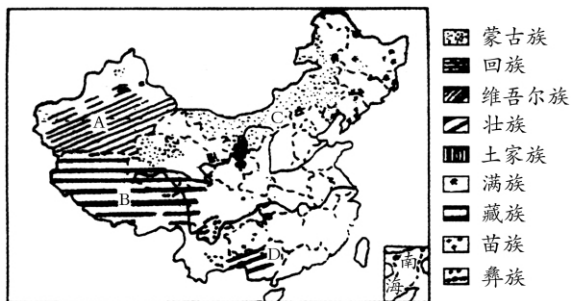


图 1-3-4

(1) 满族主要分布在东北的 _____ 省、_____ 省、_____ 省。分布在云南、贵州的少数民族有 _____ 族、_____ 族。湘西北是 _____ 族、_____ 族集中分布区。

(2) 图中字母代表的省级少数民族自治区的名称及主要民族分别是:

A 是 _____ 自治区; B 是 _____ 自治区; C 自治区主要民族是 _____ 族; D 自治区主要民族是 _____ 族。

课后提高练

21. 我国少数民族主要分布在 ()

- A. 西北、华北、东北 B. 西北、西南、东北
- C. 西南、东南、中南 D. 华北、华南、西藏

22. 如果你要了解维吾尔族、塔吉克族的民俗风情, 最好选择去 ()

- A. 云南 B. 新疆 C. 内蒙古 D. 四川

23. 根据我国少数民族的分布, 下列说法最可信的是 ()

- A. 黎族同胞说: “我们栽种的苹果个大香甜。”
- B. 朝鲜族同胞说: “我们种植的甘蔗又获大丰收。”
- C. 藏族同胞说: “我们用青稞酒招待远方的来客。”
- D. 壮族同胞说: “泼水节是我们的传统节日。”

24. 右图描绘的场面, 是我国哪个少数民族的传统节日 ()

- A. 蒙古族 B. 傣族
- C. 苗族 D. 朝鲜族



25. 读“我国部分地区图”, 完成下列问题。

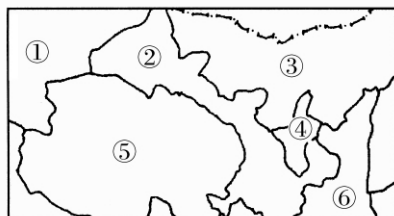


图 1-3-5

(1) 写出图中数字所代表的省区名称。

- ① _____ ② _____ ③ _____
- ④ _____ ⑤ _____ ⑥ _____

(2) 分布在图中④⑤两地的少数民族分别是 _____ 族和 _____ 族。

(3) 喜爱弹奏冬不拉的少数民族主要分布在图中 _____ (省区); 喜爱拉马头琴的少数民族主要分布在图中的 _____ (省区); 每年七八月, 举行那达慕大会的少数民族主要分布在图中的 _____ (省区) (填序号)

(4) 图中②处主要的民族是 _____, ⑥处主要的民族是 _____。



真题感悟练

1. (葫芦岛中考)下图中两幅图是我国辽宁、新疆两个省级行政区的轮廓图(图幅大小相同)及其各自的人口、面积数据。据此回答(1)~(2)题。

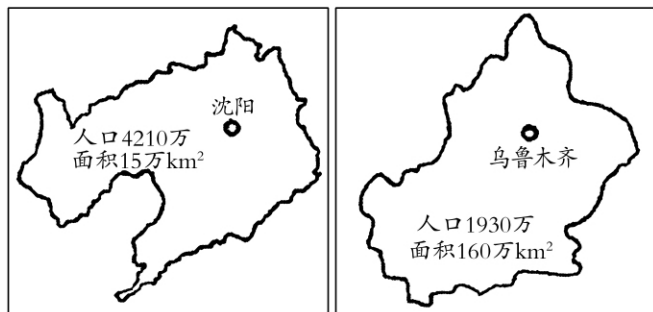


图 1-G-1

- (1)关于两幅图的叙述,正确的是 ()
- 左图比较详细
 - 右图比例尺较大
 - 不能比较
 - 比例尺一样大
- (2)有关两省区叙述中,正确的是 ()
- 辽宁人口分布比较稀疏
 - 新疆是我国少数民族较多的一个省区
 - 新疆人口稠密
 - 辽宁濒临东海
2. (威海中考)关于右图中阴影地区的叙述,不正确的是 ()
- 雨林景观多种多样,属于典型的热带雨林气候
 - 可以看到孔雀舞和泼水节等民族风情
 - 旅游业是该地区经济的主要支柱产业
 - 原始森林中生有亚洲象、长尾猴等国家重点保护动物
-
3. (岳阳模拟)(少数民族的民族特征)我国“西部歌王”王洛宾在新疆生活了近30年,流传下了许多脍炙人口的民歌,如《马车夫之歌》:“达坂城的姑娘辫子长哟,两个眼睛真漂亮……”如下图所示:
- (1)达坂城的姑娘属于哪一个民族?



图 1-G-2

- (2)请你从地理学和生物学两方面来分析一下新疆的姑娘为什么漂亮?

4. (株洲市中考)人民币号称中国的名片。人民币上的景观素描浓缩了我国风景名胜的精华,人民币上的许多人物肖像是我国民族团结现状的写照。请根据下列两张人民币上的图案(图 1-G-3),回答(1)~(2)题



图 1-G-3

- (1)50元人民币上的景观描绘的是 ()
- 位于西藏的布达拉宫
 - 位于四川的九寨沟风光
 - 位于河南的少林寺
 - 位于山东的泰山极顶
- (2)5元人民币上的人物肖像刻画的是藏族同胞和回族同胞,这两个民族最主要的聚居区分别是在 ()
- 青海和广西
 - 西藏和宁夏
 - 新疆和甘肃
 - 内蒙古和新疆



第一章综合练

一、单选题(每小题3分,共54分)

1. 借助示意图记忆省区轮廓时,下图有助于记忆我国哪个省区的轮廓 ()



图 1-Z-1

- A. 闽 B. 豫 C. 粤 D. 皖
2. 当黑龙江还是冰天雪地时,海南岛却是农忙时节,造成这种差异的原因是 ()
- A. 我国所处纬度高 B. 我国南北跨纬度广
 - C. 离海远近不同 D. 地形起伏大
3. “神舟七号”曾于甘肃省酒泉卫星发射中心成功发射,下图表示甘肃省的是 ()

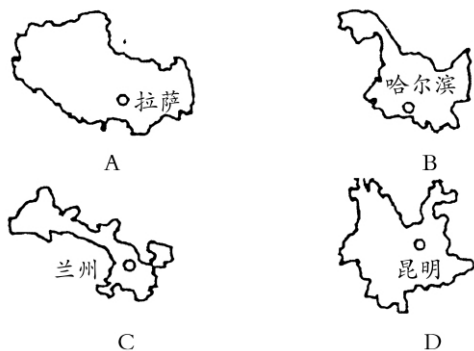


图 1-Z-2

4. 人口增长过快带来的问题是 ()
- A. 耕地开垦加快,粮食供应改善
 - B. 耕地减少,森林破坏,环境恶化
 - C. 劳动力增加,促进世界经济发展
 - D. 人口大量流入城市,生活水平迅速提高
5. 有关我国地理位置的叙述,正确的是 ()
- A. 位于亚洲东部,太平洋西岸
 - B. 领土小部分位于温带,大部分位于热带
 - C. 南北跨纬度广,大部分位于低纬度
 - D. 最北端是黑龙江省漠河以北的黑龙江
6. 下列关于中国领土四至点的叙述,正确的是 ()
- A. 最东端是乌苏里江与黑龙江交汇处
 - B. 最西端在帕米尔高原上
 - C. 最南端是南纬 4°的曾母暗沙
 - D. 最北端是黑龙江省漠河以北的黑龙江
7. 贝贝看到一辆牌照为“鲁-A6520”的大货车从他家门前经过,可以推断该车属于 ()
- A. 山东省 B. 河北省

- C. 山西省 D. 河南省
8. 图中①②是我国两个省区,它们的简称分别是 ()

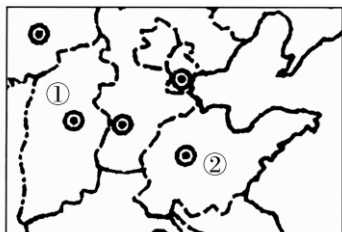


图 1-Z-3

- A. 冀、皖 B. 豫、皖
 - C. 晋、鲁 D. 陕、鲁
9. 与山东省相邻的省区有 ()
- ①冀 ②豫 ③津 ④晋 ⑤皖 ⑥苏
 - A. ①②④⑥ B. ①③④⑤
 - C. ②④⑤⑥ D. ①②⑤⑥
10. (我国省区轮廓)如图所示四省中,“天府之国”所在的省份是 ()

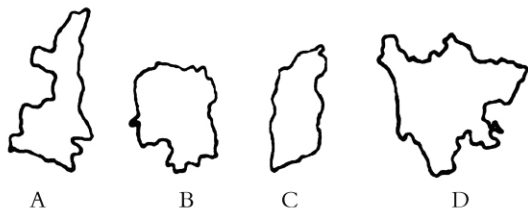


图 1-Z-4

11. 据《第一财经日报》报道:中国可能出台一系列政策,使近 2 亿农民工真正成为城市人。农村人口迁移到城市的积极意义是 ()
- ①交通拥挤 ②环境污染 ③扩大城市规模,占用耕地资源
 - ④增加城市的劳动力资源 ⑤转移农村剩余劳动力
 - A. ①④⑤ B. ②③④
 - C. ④⑤ D. ③④⑤
12. 下图是我国东南沿海经济发达地区某地新兴城市人口增长示意图。读图完成(1)~(2)题。

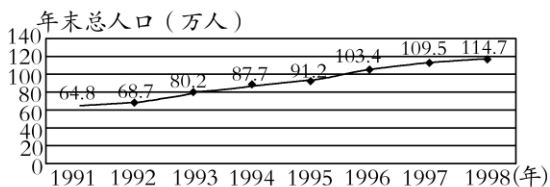


图 1-Z-5

- (1) (人口的增长) 1991—1998 年,该市人口增长最多的年份是 ()
- A. 1993 年 B. 1995 年



C. 1996 年 D. 1998 年
 (2)(人口增长带来的问题)随着人口的快速增长,该城市可能出现的主要问题是 ()

- A. 人口老龄化突出 B. 城市经济发展变慢
 C. 社会劳动力不足 D. 城市用地压力增大

13. 2008 年 5 月 12 日,四川汶川地区发生 8.0 级地震,损失巨大,陕西、甘肃、重庆等省市也遭受重大损失,上述四省市的简称是 ()
 A. 蜀、陕、甘、渝 B. 川、陕、甘、蜀
 C. 川、秦、甘、蜀 D. 川、陕、陇、蜀
14. 根据有关我国人口方面的统计表并结合所学知识完成下列问题。

2007 年中国人口数量及其构成单位(万)

指标	年末数	比重(%)
全国总人口	132 129	100.0
其中:城镇	59 379	44.9
农村	72 750	55.1
其中:男性	68 048	51.5
女性	64 081	48.5
其中:0~14 岁	25660	19.4
15~59 岁	91129	49.0
60 岁及以上	15 340	11.6

- (1)表中显示出,我国人口 ()
 A. 城镇多,乡村少 B. 男性多,女性少
 C. 老年多,儿童少 D. 西部多,东部少
- (2)2007 年我国的人口密度约为每平方千米 ()

- A. 118 人 B. 128 人
 C. 138 人 D. 148 人

15. 奥运圣火传递经过新疆、西藏、内蒙古、宁夏和广西五个少数民族自治区,若深色区域代表这些自治区的分布,则正确的分布图是 ()

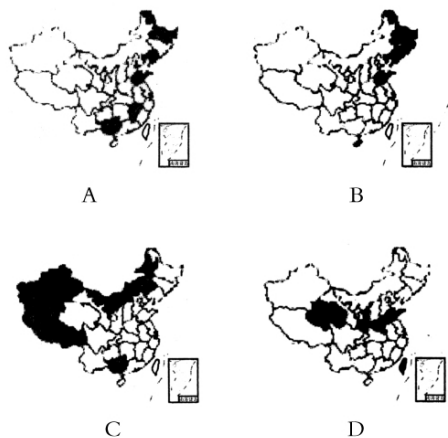


图 1-Z-6

“人民币上学地理”,根据下图人民币上所显示的景观,完成 16~17 题。



图 1-Z-7

16. 20 元和 50 元人民币上所显示的景观分别是 ()
 A. 杭州西湖、八达岭长城
 B. 日月潭、承德避暑山庄
 C. 桂林山水、布达拉宫
 D. 长江三峡、敦煌莫高窟
17. 图示景观所在地区的主要少数民族分别是 ()
 A. 壮族、藏族 B. 高山族、满族
 C. 苗族、回族 D. 傣族、蒙古族
18. 2008 年夏季奥运会在北京圆满落下帷幕,如果参加奥运会的外国朋友想尽可能多地参观了解我国少数民族风情,建议他们最好去 ()
 A. 广东省 B. 云南省
 C. 四川省 D. 山东省

二、综合题(46 分)

19. 读“中国人口密度分布图”和表中数据,完成下列各题:(11 分)

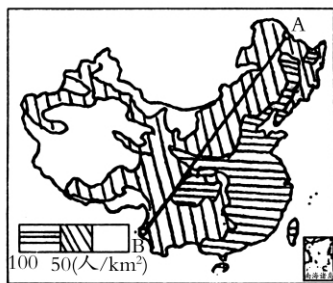


图 1-Z-8

项目	第四次 (1990 年)		第五次 (2000 年)		面积 (万/km ²)
	位次	数量 (万)	位次	数量 (万)	
四川	1	10813	4	8329	47.83
河南	2	8564	1	9256	16.71
山东	3	8424	2	9079	15.67
江苏	4	6672	5	7438	10.26
广东	5	6246	3	8642	17.85

(1)图中 A 为 _____ 省 _____ 市, B 为 _____ 省 _____ 县; AB 线东南部人口 _____, 西北部人口 _____。